

丰台区 2022-2023 学年第一学期期末练习

九年级历史

2022. 12

考生须知

1. 本试卷共 8 页，满分 70 分。考试时间 70 分钟。
2. 在试卷和答题卡上认真填写学校名称、姓名和考试号。
3. 试题答案一律填涂或书写在答题卡上，在试卷上作答无效。
4. 在答题卡上，选择题用 2B 铅笔作答，其它试题用黑色字迹签字笔作答。
5. 考试结束，将本试卷和答题卡一并交回。

第一部分 选择题（共 30 分）

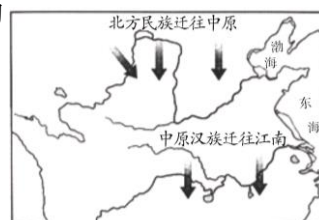
本部分共 20 小题，每小题 1.5 分，共 30 分。在每小题列出的四个选项中，选出最符合题目要求的一项。

1. 西亚是小麦、大麦的原产地，东亚的黄河流域是粟的发源地、长江中下游则是世界上最早种植水稻的地区，中美洲是玉米、甘薯等作物的原产地。这说明
 - A. 亚洲是世界唯一农业起源地
 - B. 中国原始农耕使用磨制工具
 - C. 世界农业起源具有多元特点
 - D. 中国是早期人类发源地之一
2. 战国末期，智慧的中国人民充分利用地势，在成都附近的岷江上修筑了一座综合性水利枢纽。该水利枢纽是
 - A. 都江堰
 - B. 灵渠
 - C. 大运河
 - D. 长城
3. 有学者指出，华夏民族大一统的伟业到汉武帝时代，完成了从地理空间到精神空间的整合与凝聚，使“大一统”深入人心。以下史实能说明这一观点的是
 - ①罢黜百家，尊崇儒术
 - ②实施“推恩令”
 - ③北击匈奴，开疆拓土
 - ④迁都洛阳，移风易俗
 - A. ①②③
 - B. ①②④
 - C. ②③④
 - D. ①③④

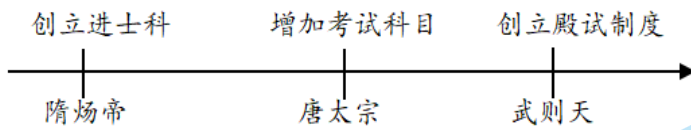
4. 右图是《魏晋南北朝时期人口迁徙示意图》。图中的现象带来的影响是

- ①形成三国鼎立局面
- ②推动江南地区的开发
- ③促进民族交融
- ④实行重文轻武的政策

- A. ①②
- B. ①④
- C. ②③
- D. ③④



5. 以下示意图反映的主题是



- A. 唐朝社会气象 B. 科举制不断发展 C. 民族关系和睦 D. 商帮活动的频繁
6. 宋朝时的泉州、广州等地都设有“蕃坊”，专供外国商人居住。蕃坊的管理者由外商中有德望的人充任，由朝廷任命。此外还为外商子弟设立学校“蕃学”。材料表明

- A. 纸币的出现方便了货币流通 B. 宋朝重视海外贸易发展
C. 两宋时期民族政权的并立 D. 闭关锁国政策逐步推行

7. 右图是宋杂剧《眼药酸》的表演场景。在宋代，杂剧以及其他演艺活动在城市里大为盛行，供其集中表演的固定场所是



- A. 瓦子 B. 驿站 C. 厂卫 D. 军机处

8. 以下表格反映的是北京的历史沿革。与这三个时期相对应的制度是

西周	秦	元
属于燕国	分属于广阳郡、渔阳郡等	隶属于中书省

- A. 分封制、郡县制、行省制 B. 郡县制、分封制、行省制
C. 行省制、分封制、郡县制 D. 分封制、行省制、郡县制

9. 以下一组书籍共同见证了中国古代史上



- A. 书法艺术的繁荣 B. 人口的增加 C. 建筑的成就 D. 科技的发展

10. 下表反映了清朝中国农业发展的状况。促成这一状况出现的因素有

年份	耕地面积（百万公顷）	粮食总产量（千吨）
1650	40.0	35055
1750	60.0	74100
1820	73.7	108585

- ①兼并战争不断 ②推行垦荒政策 ③重视兴修水利 ④推广玉米、甘薯等高产作物
- A. ①②③ B. ①②④ C. ②③④ D. ①③④

11. 右图是位于新疆的《平定准噶尔勒铭碑》，记录了当时乾隆平定准噶尔部叛乱和历代对这一地区的管辖情况。历史上对该地区的管辖还有



- A. 设置西域都护 B. 签订《尼布楚条约》 C. 设置宣政院 D. 册封达赖、班禅

12. 某位同学按类别梳理中外历史上的重要人物。其中①处可填

第一类：张骞	郑和	麦哲伦
第二类：商鞅	华盛顿	克伦威尔
第三类：祖冲之	①	史蒂芬森

- A. 司马迁 B. 王羲之 C. 屋大维 D. 瓦特

13. 以下是世界古代史中三个地跨亚非欧的大帝国的相关内容。对其理解正确的是

时间	国家	相关史实
公元前 27—395 年	罗马帝国	东汉时，班超派甘英出使大秦；2 世纪，罗马商人到达洛阳
395—1453 年	拜占庭帝国	保存了大量希腊、罗马古籍，后传入意大利；将中国的养蚕技术传到欧洲
632—1258 年	阿拉伯帝国	把中国的指南针、火药等发明和印度的食糖等传入欧洲

- ①丝绸之路是古代中外交往的大动脉 ②东方从属于西方的局面出现
 ③三大帝国促进了古代东西方的交流 ④罗马帝国存在的时间最长
 A. ①② B. ①③ C. ②③ D. ③④

14. 12 世纪上半叶，欧洲一些城市用罗马法作为向封建领主争取自治权的法学根据，同时由于市政和市场经济管理需要，新型大学的法学课程得到极大发展。这反映出中世纪大学

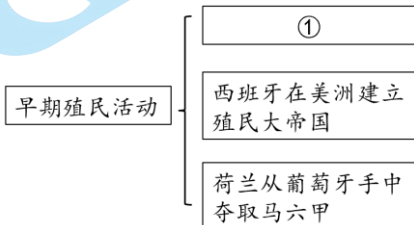
- A. 摆脱了教会的控制 B. 是由教师和学生行会发展而来
 C. 开始筹建租地农场 D. 顺应了经济和社会发展的要求

15. 14 世纪意大利的毛纺织行业中，商人投资开办作坊，控制原料采购和产品销售两个环节，雇用手工业者和零散工人工作，生产过程分成多道工序。这种生产方式是

- A. 西欧庄园 B. 手工工场 C. 垦殖运动 D. 精耕细作

16. 右侧是一位同学的学习笔记（部分）。其中①处应填

- A. 亚历山大帝国的东征
 B. 西欧实行封君封臣制
 C. 日本实行大化改新
 D. 葡萄牙攫取澳门居住权



17. 右图是一幅反映英美关系的漫画，画中一群英国殖民者正在宰杀一只只会下金蛋的北美鹅。这幅漫画有助于理解

- A. 英国资产阶级革命过程 B. 文艺复兴的影响
 C. 美国独立战争的背景 D. 巴黎公社的建立



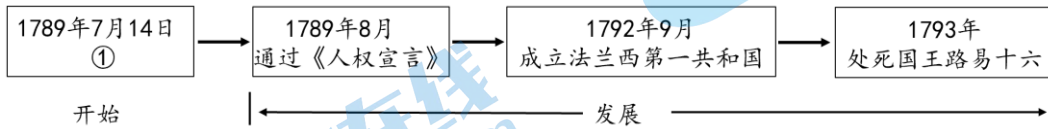
18. 右图是美国独立厅，18 世纪在这里签署的两个文件不仅在美国历史上发挥重要作用，同时也对世界各国法律的制定产生了深远影响。这两个文件是



- ①《汉谟拉比法典》 ②《查士丁尼法典》
③《独立宣言》 ④《1787 年宪法》


- A. ①② B. ①③ C. ②③ D. ③④

19. 示意图能勾勒出史实之间的关系。以下示意图中①处应为



- A. 启蒙运动 B. 攻占巴士底狱 C. 来克星顿枪声 D. 雅各宾派上台

20. 右侧是莫奈的画作《圣·拉扎尔火车站》。画中钢筋和玻璃搭建的车站代表了当时最新的建筑风格，喷着滚滚蒸汽的火车正在进站。这幅画作应创作于






- A. 15 世纪上半叶 B. 17 世纪 40 年代
C. 19 世纪中后期 D. 20 世纪 80 年代

第二部分 材料分析题（共 40 分）

21.（10 分）建筑与城市承载历史记忆。

材料一

	①河南安阳殷墟，是商朝晚期的都城遗址。这里有大型宫殿和宗庙建筑，还出土了大量的青铜器，以及刻有文字的甲骨
	②河北承德避暑山庄，是清朝皇帝避暑和处理政务的场所。维吾尔、藏、苗等少数民族首领都曾到此觐见皇帝。这里见证了中央与边疆少数民族关系的发展
	③陕西西安大雁塔，是为保存玄奘由天竺带回的经卷佛像而修建的，是现存最早、规模最大的唐代四方楼阁式砖塔，是古印度佛教建筑形式融合华夏文化的典型物证

(1) 依据材料一并结合所学，将以上建筑或遗址按照其反映的时代先后排序。（1 分）任选两处建筑或遗址，分别说明其反映的时代特征。（2 分）

材料二 东京州桥遗址位于河南开封。2022年，国家文物局“考古中国”平台发布州桥遗址重大考古成果。以下是依据考古成果整理的资料：

州桥和汴河河道遗址	大型石刻壁画	瓷器标本
州桥是北宋东京中轴线御街与大运河汴河段交叉点上的标志性建筑。正如《东京梦华录》记载：“州桥正对大内御街……御街一直南去，过州桥，两边皆居民。街东车家炭、张家酒店，次则李家香铺……”	河道两岸发现的宋代大型石刻壁画，刻有海马、瑞兽、仙鹤、祥云等，与《东京梦华录》记载的“近桥两岸皆石壁，雕镌海马、水兽、飞云之状”相吻合	出土了5.6万多件瓷器标本，涵盖了宋代以后众多窑口。瓷器上有文字、纹饰，涉及绘画、建筑、科举、市井生活等方面

(2) 依据材料二，概括宋代的发展状况。(3分) 说出州桥遗址发现的史料价值。(1分)

材料三 英国近代的城市化与工业化是同步进行的。从1750年到1850年间，英国的城市化水平从10%提高到了50%。1861年，全英国就已经有16个城市人口超过了10万。到19世纪晚期，成为世界上第一个初步实现城市化的国家。英国还出现了工矿、港口、海滨、休闲、交通枢纽和商业型城市等具有专门功能的城市。

——摘编自齐爽《英国城市化发展研究》等

(3) 依据材料三，概括英国近代城市化发展的特点。(3分)

22. (11分) 思想进步推动人类社会的发展。

材料一

	① (公元前551—前479)	苏格拉底 (公元前469—前399)
思想主张	他的思想核心是“仁”，主张统治者“为政以德”，爱惜民力、体察民意	他致力于探讨人生哲理和社会伦理，强调知识的作用，还主张人应该“认识你自己”
影响	②	开创希腊哲学新方向，使哲学成为一门研究“人”的学问。他的理性精神对后世西方哲学产生深远影响

(1) 依据材料一并结合所学，将①、②处补充完整。(3分)

材料二

 <p>①《神曲》最初印刷版</p>	 <p>②《蒙娜丽莎》VR 体验项目海报</p>	 <p>③现存最早《哈姆雷特》印刷版</p>
<p>但丁 14 世纪初创作的长篇诗作，抨击教会的贪婪腐化，表达市民阶层的情感与理想</p>	<p>达·芬奇 16 世纪初创作了现实人物肖像画《蒙娜丽莎》。卢浮宫推出了该画的 VR 体验项目</p>	<p>莎士比亚 1602 年完成的悲剧作品，热情歌颂人的伟大和高贵</p>

(2) 材料二中，能用于研究文艺复兴运动的可靠材料是_____。(2 分，填序号，

多选、错选不得分) 依据材料二，概括文艺复兴运动的特点。(1 分)

材料三 结合社会发展，基于理论研究和实践活动，马克思和恩格斯共同起草了《共产党宣言》，回答了时代之问。以下是宣言的节选：

①资产阶级的灭亡和无产阶级的胜利是同样不可避免的……代替那存在着阶级和阶级对立的资产阶级旧社会的，将是这样一个联合体，在那里，每个人的自由发展是一切人的自由发展的条件。

②现代的工人却相反，他们并不是随着工业的进步而上升，而是越来越降到本阶级的生存条件以下。工人变成赤贫者……资产阶级生存和统治的根本条件，是财富在私人手里的积累，是资本的形成和增殖；资本的条件是雇佣劳动。

③（共产党人）公开宣布：他们的目的只有用暴力推翻全部现存的社会制度才能达到。让统治阶级在共产主义革命面前发抖吧。

(3) 依据材料三，用宣言节选中①、②、③回答时代之问，填写在表格 A、B、C 处，(3 分，填序号，多选、错选不得分) 并结合所学，谈谈对马克思主义的认识。(2 分)

时代之问	回答
社会不公平的原因是什么？	A: _____
如何改变不公平的现状？	B: _____
人类社会应向何处去？	C: _____

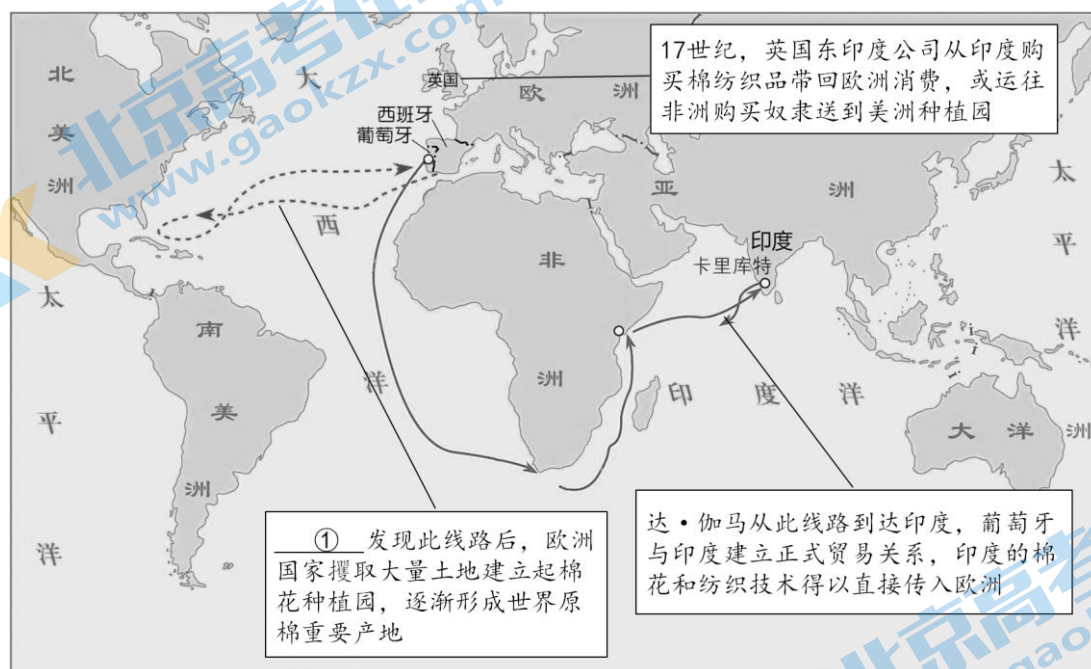
23. (9分) 棉花的生产与发展

材料一 中国元朝关于棉花的记载(部分)

(木棉) 诸种艺制作之法, 暨(渐渐)北来……至南北混一之后, 商贩于此(北), 服被渐广 ——《农书·木棉序》	(设置) 浙东、江东、江西、湖广、福建木棉提举司, 责民岁(每年)输(交纳)棉布十万匹 ——《元史本纪》	(黄道婆) 自崖州(海南)来(到上海), 乃教以做造擀弹纺织之具, 至于错纱、配色、综线、拏花, 各有其法 ——《南村辍耕录》
---	---	--

(1) 依据材料一并结合所学, 概括促进元朝棉花生产发展的相关因素。(2分)

材料二 14世纪, 亚洲是棉花的主要出口地。15世纪末, 世界棉花贸易范围逐步扩大。



(2) 将①处历史人物补充完整。(1分) 依据材料二, 分析世界棉花贸易范围扩大的原因。(2分)


材料三 近代英国的棉纺织业



①珍妮机(1765)



②水力驱动纺纱机(1769)



③伦敦世博会复制的纺织厂车间(1851)

棉纺织业的新生产模式很快扩散到毛、麻纺织, 使机械工程和金属制造业得以兴起和发展。之后炼铁业也发生革命。铁路、轮船和各种机械装备需要巨额投资……棉纺织工业的利润为工业化支付了第一批账单。珍妮机在发明后很快就传播到国外, 不久在欧洲大陆出现了珍妮机为主导的纺纱厂。棉纺织技术和机器设备在 18 世纪末也传播到美国。

——摘编自杨松《近代英国棉纺织业发展研究》

(3) 依据材料三，指出近代英国棉纺织业的发展变化，(2分) 并分析英国棉纺织业发展带来的影响。(2分)

24. (10分) 英法美早期资产阶级革命

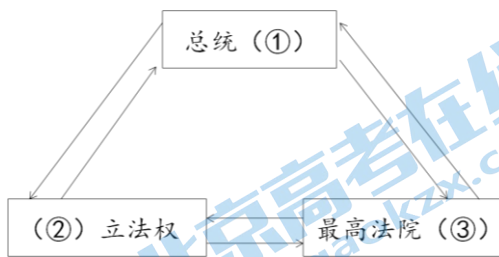
材料一

时间	英国大事件(部分)
17世纪初	资本主义有了较大发展
1640年	资产阶级革命爆发
1688年	光荣革命
1689年	①
1701年	《王位继承法》把王位继承用议会立法的形式固定下来

第一编 资本主义制度的产生
 第一章 英国资产阶级革命
 第二章 十七、十八世纪欧洲大陆主要国家
 第三章 美国独立战争和拉丁美洲各国独立战争
 第四章 法国大革命
 第五章 法兰西第一帝国 维也纳会议
 第二编 进入工业资本主义时代
 第三编 资本主义制度的确立
 ……
 ——摘自刘宗绪《世界近代史》(2011年版)

(1) 写出表格中①处文件的名称。(1分) 依据材料一并结合所学，分析英国资产阶级革命的影响。(2分)

材料二 政府应由选举产生的执政官，也就是总统执政，由总统掌管行政部门以及各行政机构，总统完全独立于国会这一立法部门，不必对国会负责，这两大部门还要加上以最高法院为首的司法部门……每一部门都有各自的权力范围，并制约着另外两大部门的权力。这三大部门各自保持相当程度的独立。



示意图

——摘编自麦克斯·J·斯基德摩《美国政府简介》

(2) 依据材料二，将示意图补充完整，(3分) 并说明示意图中三大部门之间的关系。(1分)

材料三 拿破仑统治时期的政治虽然是专制的，但法国却有了超越于欧洲所有社会的民事立法，而那时欧洲的社会还处于极权统治下，大部分还保持着中世纪的法律体制……随着法国对外战争的胜利和占领，这一切给欧洲大陆以不可思议的推动力。

——米涅《法国革命史》

(3) 依据材料三并结合所学，说出文中“超越欧洲所有社会的民事立法”的文献名称。(1分) 谈谈你对文中“这一切给欧洲大陆以不可思议的推动力”的理解。(2分)

关于我们

北京高考在线创办于 2014 年，隶属于北京太星网络科技有限公司，是北京地区极具影响力的中学升学服务平台。主营业务涵盖：北京新高考、高中生涯规划、志愿填报、强基计划、综合评价招生和学科竞赛等。

北京高考在线旗下拥有网站门户、微信公众平台等全媒体矩阵生态平台。平台活跃用户 40W+，网站年度流量数千万量级。用户群体立足于北京，辐射全国 31 省市。

北京高考在线平台一直秉承 “精益求精、专业严谨” 的建设理念，不断探索 “K12 教育+互联网+大数据” 的运营模式，尝试基于大数据理论为广大中学和家长提供新鲜的高考资讯、专业的高考政策解读、科学的升学规划等，为广大高校、中学和教科研单位提供 “衔接和桥梁纽带” 作用。

平台自创办以来，为众多重点大学发现和推荐优秀生源，和北京近百所中学达成合作关系，累计举办线上线下升学公益讲座数百场，帮助数十万考生顺利通过考入理想大学，在家长、考生、中学和社会各界具有广泛的口碑影响力

未来，北京高考在线平台将立足于北京新高考改革，基于对北京高考政策研究及北京高校资源优势，更好的服务全国高中家长和学生。



微信搜一搜

北京高考资讯