

2022 北京朝阳高一（上）期末

历史

一、选择题

1. 如图是中国新石器时代文化遗存分布图。从图中可以获得的历史信息是



- A. 区域文化在交融中发展
B. 形成南粟北稻农业格局
C. 文明起源具有多元特征
D. 远古北方文化长期领先

2. 《韩非子》记载：“上古之世，人民少而禽兽众，人民不胜禽兽虫蛇，有圣人作，构木为巢，以避群害，而民说之，使王天下，号曰有巢氏。”对材料认识正确的是

- ①反映了石器时代人类生活方式 改变
②为研究中国远古历史提供了一手资料
③实证了中国从部落到国家的转变过程
④应以科学态度辩证认识古史传说材料

- A. ①②
B. ③④
C. ②③
D. ①④

3. 《诗经》《尚书》、青铜铭文中屡见“宗周”一词，指周王室或镐京。《诗经》有言“君之宗之”“大邦维屏，大宗维翰。怀德维宁，宗子维城”。这反映了西周时期的

- A. 内服制度
B. 宗法制度
C. 礼乐制度
D. 禅让制度

4. 西周时期，戎狄主要居于周朝西北部边境地带。春秋时期，戎狄中有不少分支已逐步分散地进入中原，与各诸侯国杂居，填充了各诸侯国之间的很多空地。这一变化

- A. 加剧了边疆地区的民族矛盾
B. 推动了小农经济的逐步确立
C. 导致了中央集权制度的衰落
D. 促进了华夏认同观念的形成

5. 春秋战国时期，各学派探索治国之道和理想的人生道路，形成百家争鸣，推动了我国思想文化的大发展。以下说法正确的是

- A. 孟子认为人性本恶
B. 老子提出相生相胜
C. 荀子主张隆礼重法
D. 邹衍提出道法自然

6. 《阿房宫赋》写到：“戍卒叫，函谷举，楚人一炬，可怜焦土！”文中提到秦朝的历史事件是

- A. 政治改革、平定六国
B. 农民起义、秦朝灭亡
C. 焚书坑儒、统一货币
D. 平定南方、开凿灵渠

关注北京高考在线官方微信：[北京高考资讯\(微信号:bjgkzx\)](https://www.bjgkzx.com)，获取更多试题资料及排名分析信息。

7.“《春秋》大一统者，天地之常经，古今之通谊也。今师异道，人异论，百家殊方，指意不同，是以上亡以持一统，法制数变，下不知所守。臣愚以为诸不在六艺之科孔子之术者，皆绝其道，勿使并进。”以上言论出自于

- A. 《史记·李斯列传》
- B. 《荀子·强国篇》
- C. 《汉书·董仲舒传》
- D. 《汉书·景帝纪》

8. 北魏孝文帝下诏：“北人谓土为拓、后为跋，魏之先出于黄帝，以土德王，故为拓跋氏……宜改姓元氏。诸功臣旧族自代来者，姓或重复，皆改之。”这一措施

- A. 促进了北方民族交融
- B. 恢复了北方农业生产
- C. 加速了北方人民南迁
- D. 实现了北方再次统一

9. 《齐民要术·序》中有“故商贾之事，阙而不录”的话，但在全书中却详细描述了栽种蔬菜瓜果、植树营林、养鱼、酿造等多样经营、市场售卖的相关内容。这说明该书作者

- A. 主张兼顾经济效益
- B. 忽视粮食作物种植
- C. 关注农业精耕细作
- D. 提出工商皆本思想

10. 如图为唐朝怀集庸调银饼，是岭南道广州怀集百姓所纳庸调在上缴朝廷时由地方官府折纳的银饼，出土于陕西西安何家村。与此银饼相对应的制度是



唐朝怀集庸调银饼

- A. 滋生人丁，永不加赋
- B. 惟以资产为宗，不以丁身为本
- C. 有田则有租，有身则有庸，有户则有调
- D. 为田开阡陌封疆，而赋税平

11. 南宋人吴自牧在《梦粱录》里描写当时都城临安“自大街及诸坊巷，大小铺席，连门俱是，无虚空之屋”，百市买卖“昼夜不绝，夜交三四鼓，游人始稀，五鼓钟鸣，卖早市者又开店矣”。这反映了当时

- A. 朝廷已经放弃抑商政策
- B. 海外贸易规模受到压制
- C. 商业活动打破时空限制
- D. 临安城以经济职能为主

12. 元朝不仅版图辽阔，而且对边疆地区实施了长时间和比较稳定的统治。其中管辖西藏和台湾地区的机构分别是

- A. 行都指挥使司台湾省
- B. 行中书省台湾府
- C. 驻藏大臣台湾办事大臣
- D. 宣政院澎湖巡检司

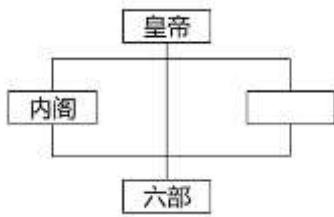
13. 下面是高一某同学整理的笔记，横线上应填入的内容是

目的：扩大政治影响，彰显大国强盛
概况：访问亚非诸国，远及红海沿岸
影响：_____

- A. 促进中外交流，加重财政负担
- B. 积极开拓市场，积累巨额财富

- C. 密切各地联系，世界成为整体
- D. 对外殖民扩张，加剧各地矛盾

14. 下图为清代雍正年间中央制度架构示意图。图中空缺处应为




- A. 尚书台
- B. 中书省
- C. 枢密院
- D. 军机处

15. 某学习小组在进行研究性学习时，搜集到如下材料：《尼布楚条约》“册封五世班禅”“平定噶尔丹叛乱”，从中可以推断他们的研究主题是

- A. 清初君主专制的加强
- B. 清政府对西域的管辖
- C. 康熙维护统一的措施
- D. 清朝统治危机的出现

16. 下面是清朝某位皇帝给参与谈判大臣所下达谕旨的部分内容，该谕旨



- A. 隐含着天朝上国的思想观念
- B. 颁发于第二次鸦片战争期间
- C. 反映清廷沦为列强侵华工具
- D. 承认中英鸦片贸易的合法化

17. 太平天国运动作为中国近代一次大规模的农民起义，从金田起义开始，一路高歌。起义最高潮时，占据中国南方的半壁江山，但这辉煌无法持久，最后还是以失败告终。太平天国运动失败的根本原因是

- A. 领导集团在军事上的失误
- B. 天京变乱元气大伤
- C. 中外反动势力的联合绞杀
- D. 农民阶级的局限性

18. 鲁迅曾深有感触地说：“见过辛亥革命，见过二次革命，见过袁世凯称帝、张勋复辟，看来看去，就看得怀疑起来，于是失望、颓唐得很了。”令鲁迅失望的这段历史是

- A. 清政府统治时期
- B. 北洋军阀统治时期
- C. 国民大革命时期
- D. 南京国民政府时期

19. 对下表信息解释正确的是

一战前后农商部注册工业公司表

注册时间	企业数量	资本总额（万元）
1914年8月前	146	41148205
1914年8月—1920年	272	117434500

①辛亥革命为民族工业发展扫除了政治上的一些障碍

- ②群众性反帝爱国运动此起彼伏，推动民族工业发展
 ③南京国民政府成立后，官僚资本凭借国家权力敛财
 ④一战期间列强忙于战争，中国民族资本主义得以发展

A. ①②③④ B. ②③④ C. ①③④ D. ①②④

20. 1916年胡适撰文指出“今日所需，乃是一种可读、可听、可讲、可记的言语。要读书不须口译，演说无须笔译；要施诸讲坛舞台而皆可，谓之村妇孺而皆懂。”胡适意在

A. 批判封建伦理 B. 否定传统文化 C. 推动文学革命 D. 提升平民地位

21. 下表是中华苏维埃共和国临时中央政府自成立到更名的重大史实。这一过程

时间	1931年11月	1934年10月	1935年10月	1937年9月
主要史实	成立于江西瑞金	撤离江西苏区	转移至陕甘苏区	更名为“中华民国陕甘宁边区政府”

- A. 伴随着阶级矛盾和民族矛盾的演变而发展
 B. 见证了国共从合作到对峙到再合作的历程
 C. 体现了抗日民族统一战线建立发展历程
 D. 反映了工农红军革命根据地的发展与壮大

22. 在平型关战斗胜利后，蒋介石致电某军祝贺：“一战攻克平型关，毙敌遍野，俘虏甚多。忠勇之气，益寒敌胆。特电驰贺，续候捷音。”此军是

A. 工农红军 B. 八路军 C. 新四军 D. 解放军

23. 毛泽东的诗词创作，好似一幅幅长篇画卷，记录了中国革命征程中的标志性事件，堪称诗史。下列诗词与地图形势相对应的是



- A. 军叫工农革命，旗号镰刀斧头。匡庐一带不停留，要向潇湘直进
 B. 敌军围困万千重，我自岿然不动。早已森严壁垒，更加众志成城
 C. 天高云淡，望断南飞雁。不到长城非好汉，屈指行程二万
 D. 钟山风雨起苍黄，百万雄师过大江。虎踞龙盘今胜昔，天翻地覆慨而慷

24. 老照片以独特的方式记忆和见证历史。下面老照片能印证的史实是



- A. 甲午战后在京举人联名上书要求变法
- B. 北京青年学生游行反对北洋政府卖国
- C. 北平学生游行示威反对“华北自治运动”
- D. 解放战争时期国统区的爱国民主运动

25. 以下战役按时间顺序排列正确的是

- ①百团大战 ②孟良崮战役 ③淞沪会战 ④淮海战役

- A. ①②③④
- B. ③②①④
- C. ③①②④
- D. ②③④①

26. 毛泽东在 1961 年中共中央召开工作会议期间讲道：“这十二年，恐怕还是做对了 是主要的，占第一位，错误占第二位。”以下叙述属于十二年中“做对了的”有

- ①1956 年，中共八大宣布要把我国从农业国变为先进的工业国
- ②1957 年，毛泽东提出关于正确处理人民内部矛盾的重要思想
- ③1958 年，中共中央提出“多快好省地建设社会主义”的总路线
- ④1960 年，中共中央开始实行“调整、巩固、充实、提高”的方针

- A. ①②③
- B. ①②④
- C. ①③④
- D. ②③④

27. 下表中关于新中国外交的史实与历史解释对应准确的一组是

	史实	历史解释
A	“另起炉灶”外交方针的制定	断绝与西方国家一切经济文化联系
B	和平共处五项原则的提出	成为处理国与国之间关系的基本准则
C	周恩来提出“求同存异”的方针	消除了万隆会议与会国的矛盾和分歧
D	中美关系正常化	推动中华人民共和国恢复联合国合法席位

- A. A
- B. B
- C. C
- D. D

28. “三线建设”从 1964 年开始，进行了十多年。在贵州、陕西及鄂西、湘西等地区建立起许多军事工业基地，在西部地区建成攀枝花大型钢铁联合企业等一大批工业基地，还开工兴建成昆、贵昆、川黔、湘黔等铁路。可见，“三线建设”

- ①推动沿海地区城市化进程 ②增强了国家 国防力量
- ③实现了产业结构平衡发展 ④改善了我国的工业布局

- A. ①②
- B. ②③
- C. ①④
- D. ②④

29. 以下是某同学的学习大纲，他学习的主题最有可能是

- 一、邓小平理论
- 二、“三个代表”重要思想
- 三、科学发展观
- 四、习近平新时代中国特色社会主义思想

- A. 马克思主义思想的广泛传播
- B. 中国特色社会主义理论体系
- C. 社会主义革命理论建设理程
- D. 世界和平与发展的中国方案

30. 十八大以来中国实施了共建“一带一路”的倡议，发起创办了亚洲基础设施投资银行，举办了二十国集团领导人杭州峰会、金砖国家领导人厦门会晤，倡导构建人类命运共同体，促进全球治理体系变革。这表明当今中国

- A. 致力于加强与周边邻国合作
- B. 主导了亚太地区的经济合作
- C. 极力加强与发展中国家的全面合作
- D. 努力构建合作共赢的新型国际关系

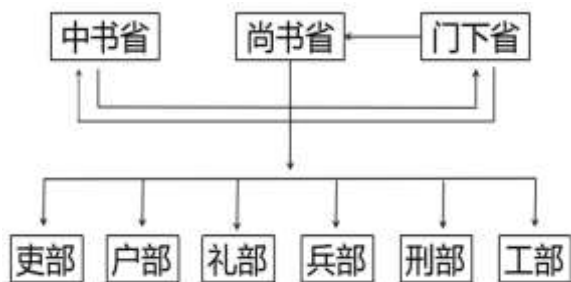
二、非选择题

31. 制度创新

（中国政制）达臻“文明”一途，实应归功于西周的创制。……西周政治里显然有深厚的贵族色彩，而“共主”名义下的地方分权体制……与秦以后一统的君主“独制”格局泾渭分明。因此古贤多称周秦之间为“天下一大变局”。

——王家范《中国历史通论》

（1）依据材料和所学，说明周秦之间政治制度“大变局”的具体表现。



即如唐制，中书舍人拟稿……然后再送至皇帝画一“敕”字……然后行达门下省……待门下省主管长官侍中及副长官侍郎接获此项诏书后，即加予复核……诏敕自中书定旨，门下复审手续完成后，即送尚书省执行。

——钱穆《中国历代政治得失》

（2）依据材料，结合所学，分别指出唐初中书、门下、尚书三省的职能，分析三省六部制对当时政治的影响。

窃闻东西各国之强，皆以立宪法开国会之故。国会者，君与民共议一国之政法也。……人主尊为圣，不受责任，而政府代之，东西各国皆行此政体，故人君与千百万之国民，合为一体，国安得不强？吾国行专制政体，一君与大臣数人共治其国，国安得不弱？

——康有为《请定立宪开国会折》

今者由平民革命以建国民政府，凡为国民皆平等以有参政权。大总统由国民公举。议会以国民公举之议员构成之，制定中华民国宪法，人人共守。敢有帝制自为者，天下共击之！”

——《孙中山全集》第一卷

（3）依据材料，说明康有为和孙中山为改造政治制度各提出了什么主张，两人的主张有何相同点？

32. 民族交融

关注北京高考在线官方微信：[北京高考资讯\(微信号:bjgkzx\)](https://www.bjgkzx.com)，获取更多试题资料及排名分析信息。

辽	契丹官分南北，以国制治契丹，以汉制待汉人……北面治宫帐、部族、属国之政，南面治汉人州县、租赋、军马之事。因俗而治，得其宜矣。 重熙五年（1036年），辽兴宗亲临礼部贡院试进士。
西夏	其官分文武班，曰中书，曰枢密，曰三司，曰御史台保留了原蕃官体系，如宁令（大正）等官职。 大庆四年（7年），复设童子科，于是取士日甚。
金	女真初起，其部长曰孛堇，行兵则称曰猛安、谋克，从其多寡以为号。 金太祖定燕（今北京），学习辽南北面官制度。 金承辽后，进士科目兼采唐宋之法而增损之。

(1) 概括辽、西夏、金制度的共同点，并分析其影响。

中华人民共和国境内各民族一律平等，实行团结互助，反对帝国主义和各民族内部的人民公敌，使中华人民共和国成为各民族友爱合作的大家庭。反对大民族主义和狭隘民族主义，禁止民族间的歧视、压迫和分裂民族团结的行为。

——1949年《中国人民政治协商会议共同纲领》

(2) 依据材料和所学，说明《共同纲领》中民族政策的背景和意义。

33. 百年伟业

1920年6月，《国民》杂志发表的《社会主义在中国应该怎么样运动》指出，俄国社会主义运动的起因、革命力量、革命手段与中国国情完全相同。并强调中国应该走社会主义道路，由“经济改造”到唤起“觉悟”是建立新社会的路径。

1921年2月，蔡和森在《马克思学说与中国无产阶级》指出马克思的学理由三点出发：在历史上发明他的唯物史观；在经济上发明他的资本论；在政治上发明他的阶级战争说。三者一以贯之，遂成为革命的马克思主义。社会革命完全为无产阶级的革命。

(1) 依据材料和所学，说明20世纪20年代中国先进知识分子选择信仰马克思主义的原因。

中国共产党部分重要会议

序号	时间	内容
①	1935年1月	集中全力解决军事和组织问题，结束了“左”倾错误在中共中央的统治。
②	1949年3月	毛泽东提出了促进革命取得全国胜利的基本方针，提出了革命胜利后党在各方面的基本政策。

(2) 说出表中两次会议的名称，并简述其所蕴含的转折性意义。

一个有希望的民族不能没有英雄，一个有前途的国家不能没有先锋。

 <p>杨靖宇</p>	 <p>杨根思</p>	 <p>王进喜</p>	 <p>邓稼先</p>
<p>抗日英雄，1932年，受命在东北组织抗日联军，率领东北军民与日寇血战于白山黑水之间。1940年2月，在冰天雪地、弹尽粮绝的情况下，孤身一人与大量日寇周旋，战斗几昼夜后，壮烈牺牲。</p>	<p>中国人民志愿军连长，1950年11月29日，在坚守长津湖畔某高地的战斗中，率领三排打退了号称“王牌”美军的八次进攻。最后只剩他一人时，毅然抱起炸药包冲向敌群，与敌同归于尽，用生命实现了“人在阵地在”的铮铮誓言。</p>	<p>新中国石油工人，1960年打出了大庆第一口油井，并创造了年进尺10万米的世界钻井纪录，成为中国工业战线一面火红的旗帜。因用自己身体制伏井喷而家喻户晓，人称“铁人”。</p>	<p>著名核物理学家，1958年毛泽东提出“没有原子弹在国际社会上就没有话语权”，邓稼先等科学家挑起重任，克服了资料少、设备差、环境恶劣等难以想象的困难，1964年中国成功爆炸原子弹。邓稼先被誉为“两弹元勋”。</p>

(3) 从表中选择两个英雄人物，结合时代背景，简述其英雄事迹彰显的时代精神。

序号	年份	史实
①	1978年	家庭联产承包责任制在全国各地逐步推广开来
②	1979年	全国人大常委会发表《告台湾同胞书》
③	1980年	中央决定在深圳、珠海、汕头、厦门设立经济特区
④	1981年	开始进行城市经济体制改革综合试点
⑤	1992年	中共十四大明确提出建立社会主义市场经济体制的目标
⑥	1997年	中国恢复对香港行使主权
⑦	2000年	开始实施“走出去”战略，后发展为“引进来”和“走出去”相结合
⑧	2001年	中国加入世界贸易组织
⑨	2005年	十届人大三次会议通过《反分裂国家法》

(4) 阅读上表，围绕“社会主义现代化建设新时期”的某个侧面，选出三条资料，提炼出一个主题，运用这三条资料对该主题进行简要阐释。

2022 北京朝阳高一（上）期末历史

参考答案

一、选择题

1. 如图是中国新石器时代文化遗存分布图。从图中可以获得的历史信息是



- A. 区域文化在交融中发展
B. 形成南粟北稻农业格局
C. 文明起源具有多元特征
D. 远古北方文化长期领先

【答案】C

【详解】据地图信息可知，中国新石器时代文化遗存分布主要分布在黄河流域和长江流域，但是辽河流域、珠江流域也有少量的分布，这体现了中华文明起源具有多元性，故 C 项正确；材料反映的是新石器时代文化遗存分布，未涉及文化交融，排除 A 项；材料未涉及农作物的种植分布，排除 B 项；材料反映的是新石器时期的文化遗存分布，未涉及南北方的比较，排除 D 项；故选 C 项。

2. 《韩非子》记载：“上古之世，人民少而禽兽众，人民不胜禽兽虫蛇，有圣人作，构木为巢，以避群害，而民说之，使王天下，号曰有巢氏。”对材料认识正确的是

- ①反映了石器时代人类生活方式的改变
②为研究中国远古历史提供了一手资料
③实证了中国从部落到国家的转变过程
④应以科学态度辩证认识古史传说材料

- A. ①②
B. ③④
C. ②③
D. ①④

【答案】D

【详解】根据材料“有圣人作，构木为巢，以避群害”可知，材料反映远古居民制作木巢居住，①符合题意；远古时期的生活没有史书等记载，有些是传说，我们应以科学态度辩证认识古史传说材料，④符合题意；材料为研究中国远古历史提供了第二手资料，②不符合题意；材料没有体现实证了中国从部落到国家的转变过程，③不符合题意。所以 D 项正确，排除 ABC 项。故选 D 项。

3. 《诗经》《尚书》、青铜铭文中屡见“宗周”一词，指周王室或镐京。《诗经》有言“君之宗之”“大邦维屏，大宗维翰。怀德维宁，宗子维城”。这反映了西周时期的

- A. 内服制度
B. 宗法制度
C. 礼乐制度
D. 禅让制度

【答案】B

关注北京高考在线官方微信：[北京高考资讯\(微信号:bjgkzx\)](https://www.gkzxx.com)，获取更多试题资料及排名分析信息。

【详解】根据“宗周”“君之宗之”“大邦维屏，大宗维翰。怀德维宁，宗子维城”可得出是以血缘关系为纽带的宗法制，B项正确；内服指商王直接控制的王畿地区，外服指商王间接控制的方国和部落。商朝的政治势力与文化影响东到大海，西及陇山，南跨江汉，北至燕山。，排除A项；CD项与材料中的关键词不符合，排除CD项。故选B项。

4. 西周时期，戎狄主要居于周朝西北部边境地带。春秋时期，戎狄中有不少分支已逐步分散地进入中原，与各诸侯国杂居，填充了各诸侯国之间的很多空地。这一变化

- A. 加剧了边疆地区的民族矛盾
B. 推动了小农经济的逐步确立
C. 导致了中央集权制度的衰落
D. 促进了华夏认同观念的形成

【答案】D

【详解】材料中春秋时期“戎狄中有不少分支已逐步分散地进入中原，与各诸侯国杂居”，戎狄逐渐融入中原地区的华夏族，促进了华夏认同观念的形成，故D项正确；材料反映的是民族交融，无法体现民族矛盾加剧，排除A项；铁犁牛耕促进小农经济的逐步确立，排除B项；秦朝建立中央集权制度，排除C项。故选D项。

5. 春秋战国时期，各学派探索治国之道和理想的人生道路，形成百家争鸣，推动了我国思想文化的大发展。以下说法正确的是

- A. 孟子认为人性本恶
B. 老子提出相生相胜
C. 荀子主张隆礼重法
D. 邹衍提出道法自然

【答案】C

【详解】据所学可知，春秋战国时期荀子主张隆礼重法，C项正确；荀子主张人性恶，排除A项；邹衍提出了相生相胜，排除B项；老子提出道法自然，排除D项；故选C项。

6. 《阿房宫赋》写到：“戍卒叫，函谷举，楚人一炬，可怜焦土！”文中提到秦朝的历史事件是

- A. 政治改革、平定六国
B. 农民起义、秦朝灭亡
C. 焚书坑儒、统一货币
D. 平定南方、开凿灵渠

【答案】B

【详解】“楚人一炬”指陈胜吴广起义，“可怜焦土”指秦朝灭亡，故B项正确；ACD项不符合“楚人一炬，可怜焦土”，排除。故选B项。

7. “《春秋》大一统者，天地之常经，古今之通谊也。今师异道，人异论，百家殊方，指意不同，是以上亡以持一统，法制数变，下不知所守。臣愚以为诸不在六艺之科孔子之术者，皆绝其道，勿使并进。”以上言论出自于

- A. 《史记·李斯列传》
B. 《荀子·强国篇》
C. 《汉书·董仲舒传》
D. 《汉书·景帝纪》

【答案】C

【详解】据材料“《春秋》大一统者，……臣愚以为诸不在六艺之科孔子之术者，皆绝其道，勿使并进。”可知，材料反映的是董仲舒的“罢黜百家独尊儒术”C项正确；据所学可知，李斯是法家学派的代表人物，与材料“臣愚以为诸不在六艺之科孔子之术者，皆绝其道，勿使并进”不符，排除A项；荀子主张礼法并举，与材料不符，排除B项；据所学可知，汉景帝时期实行休养生息政策，与材料无关，排除D项；故选C项。

8. 北魏孝文帝下诏：“北人谓土 拓、后为跋，魏之先出于黄帝，以土德王，故为拓跋氏……宜改姓元氏。诸功臣旧族自代来者，姓或重复，皆改之。”这一措施

- A. 促进了北方民族交融
B. 恢复了北方农业生产

关注北京高考在线官方微信：北京高考资讯(微信号:bjgkzx)，获取更多试题资料及排名分析信息。

C. 加速了北方人民南迁

D. 实现了北方再次统一

【答案】A

【详解】据材料“北人谓土为拓、后为跋，魏之先出于黄帝，以土德王，故为拓跋氏……宜改姓元氏。诸功臣旧族自代来者，姓或重复，皆改之。”可知，材料反映是孝文帝改革改汉姓，促进了鲜卑族的汉化，促进了民族交融，A项正确；孝文帝改革有利于北方农业生产的发展，但与材料无关，B项正确；材料强调的是孝文帝改革中的改汉姓，没有涉及北民南迁，排除C项；材料未涉及北方的统一，排除D项；故选A项。

9. 《齐民要术·序》中有“故商贾之事，阙而不录”的话，但在全书中却详细描述了栽种蔬菜瓜果、植树营林、养鱼、酿造等多样经营、市场售卖的相关内容。这说明该书作者

A. 主张兼顾经济效益

B. 忽视粮食作物种植

C. 关注农业精耕细作

D. 提出工商皆本思想

【答案】A

【详解】据材料“故商贾之事，阙而不录”但在全书中却详细描述了栽种蔬菜瓜果、植树营林、养鱼、酿造等多样经营、市场售卖的相关内容可知，《齐民要术·序》中虽然提倡重农抑商，但在全书重视农业发展，强调养鱼、酿造、市场售卖等多样经营，故A符合题意；据材料中“详细描述了栽种蔬菜瓜果、植树营林”可知，其重视粮食作物种植，排除B项；材料未涉及精耕细作（施肥、除草、灌溉等），排除C项；据所学可知，《齐民要术》中强调重农抑商，而非工商皆本，排除D项；故选A项。

10. 如图为唐朝怀集庸调银饼，是岭南道广州怀集百姓所纳庸调在上缴朝廷时由地方官府折纳的银饼，出土于陕西西安何家村。与此银饼相对应的制度是



唐朝怀集庸调银饼

A. 滋生人丁，永不加赋

B. 惟以资产为宗，不以丁身为本

C. 有田则有租，有身则有庸，有户则有调

D. 为田开阡陌封疆，而赋税平

【答案】C

【详解】据材料“如图为唐朝怀集庸调银饼，是岭南道广州怀集百姓所纳庸调在上缴朝廷时由地方官府折纳的银饼，出土于陕西西安何家村”并结合所学可知，唐朝怀集“庸”“调”是租庸调赋税制度，故C项正确；康熙帝在位时期以康熙五十年的人丁数作为征税的标准，以后滋生人丁，永不加赋，排除A项；两税法规定“唯以资产为宗，不以丁身为本”，排除B项；D是商鞅变法的内容，排除D项。故选C项。

11. 南宋人吴自牧在《梦粱录》里描写当时都城临安“自大街及诸坊巷，大小铺席，连门俱是，无虚空之屋”，百市买卖“昼夜不绝，夜交三四鼓，游人始稀，五鼓钟鸣，卖早市者又开店矣”。这反映了当时

A. 朝廷已经放弃抑商政策

B. 海外贸易规模受到压制

C. 商业活动打破时空限制

D. 临安城以经济职能为主

【答案】C

关注北京高考在线官方微信：[北京高考资讯\(微信号:bjgkzx\)](https://www.gkzx.com)，获取更多试题资料及排名分析信息。

【详解】据材料“自大街及诸坊巷，大小铺席，连门俱是，无虚空之屋”，百市买卖“昼夜不绝，夜交三四鼓，游人始稀，五鼓钟鸣，卖早市者又开店矣”可知，商业发展突破了时间和空间限制，出现了夜市和早市，C项正确；材料未涉及朝廷的政策，排除A项；材料未涉及海外贸易，而是强调国内市场贸易的发展，排除B项；据所学可知，南宋都城是临安，是政治中心，排除D项；故选C项。

12. 元朝不仅版图辽阔，而且对边疆地区实施了长时间和比较稳定的统治。其中管辖西藏和台湾地区的机构分别是

- A. 行都指挥使司台湾省
- B. 行中书省台湾府
- C. 驻藏大臣台湾办事大臣
- D. 宣政院澎湖巡检司

【答案】D

【详解】据所学可知，元朝时期管辖西藏和台湾地区的机构分别是宣政院、澎湖巡检司，D项正确；清朝光绪帝时期在台湾设省，而不是元朝，排除A项；清朝康熙年间将台湾岛纳入版图后设立了台湾府，隶属于当时的福建省，排除B项；清朝雍正帝时期设驻藏大臣，排除C项；故选D项。

13. 下面是高一某同学整理的笔记，横线上应填入的内容是

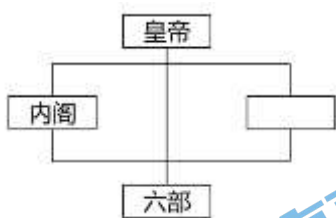
目的：扩大政治影响，彰显大国强盛
概况：访问亚非诸国，远及红海沿岸
影响：_____

- A. 促进中外交流，加重财政负担
- B. 积极开拓市场，积累巨额财富
- C. 密切各地联系，世界成为整体
- D. 对外殖民扩张，加剧各地矛盾

【答案】A

【详解】根据材料“目的：扩大政治影响，彰显大国强盛。概况：访问亚非诸国，远及红海沿岸。”可知，材料描述的是郑和下西洋。郑和下西洋是朝贡外交的典范，以炫耀国威为目的，“厚往薄来”，这促进中外交流，但也加重了财政负担，所以横线上应填入的内容是“促进中外交流，加重财政负担”，故A项正确；“积极开拓市场，积累巨额财富”是西方新航路开辟、殖民扩张的影响，故B项错误；新航路开辟密切了世界各地的联系，使世界日益成为一个整体，故C项错误；“对外殖民扩张，加剧各地矛盾”是工业革命等的影响，故D项错误。

14. 下图为清代雍正年间中央制度架构示意图。图中空缺处应为



- A. 尚书台
- B. 中书省
- C. 枢密院
- D. 军机处

【答案】D

【详解】清代雍正皇帝设立军机处，从中央行政结构全局看，军机处和内阁共同构成了朝廷中枢组织，六部则是施政机关，故D项正确；尚书台、中书省、枢密院都不符合清代雍正年间中央制度架构的中枢组织，排除ABC项。故选D项。

15. 某学习小组在进行研究性学习时，搜集到如下材料：《尼布楚条约》“册封五世班禅”“平定噶尔丹叛乱”，从中可以推断他们的研究主题是

- A. 清初君主专制的加强
- B. 清政府对西域的管辖
- C. 康熙维护统一的措施
- D. 清朝统治危机的出现

【答案】C

【详解】据材料《尼布楚条约》“册封五世班禅”“平定噶尔丹叛乱”等信息并结合所学可知，这些事件都是康熙皇帝在位时期发生的历史事件，故C项正确；清初君主制加强的表现是设立南书房，排除A项；材料“册封五世班禅”是对西藏地区的管理，《尼布楚条约》属于对东北地区疆域的界定，排除B项；材料体现的是康熙帝在位时期反击沙俄侵略、平定地方叛乱以维护国家统一，未涉及统治危机，排除D项。故选C项。

16. 下面是清朝某位皇帝给参与谈判大臣所下达谕旨的部分内容，该谕旨



- A. 隐含着天朝上国 思想观念
- B. 颁发于第二次鸦片战争期间
- C. 反映清廷沦为列强侵华工具
- D. 承认中英鸦片贸易的合法化

【答案】A

【详解】据图“香港仍坚持”“赏借”可知，这些内容体现了道光帝仍坚持天朝上国的观念，故选A项；图片中的“厦门、宁波、上海”是第一次鸦片战争后《南京条约》中开放的通商口岸，排除B项；《辛丑条约》的签订反映了清廷沦为列强的侵华工具，排除C项；鸦片贸易合法化是第二次鸦片战争后，排除D项；故选A项。

17. 太平天国运动作为中国近代一次大规模的农民起义，从金田起义开始，一路高歌。起义最高潮时，占据中国南方的半壁江山，但这辉煌无法持久，最后还是以失败告终。太平天国运动失败的根本原因是

- A. 领导集团在军事上的失误
- B. 天京变乱元气大伤
- C. 中外反动势力的联合绞杀
- D. 农民阶级的局限性

【答案】D

【详解】根据所学可知，太平天国运动失败的根本原因是农民阶级的局限性，故D项正确；军事上的失误、天京变乱是太平天国运动失败的原因，但不是根本原因，排除AB项；中外反动势力的联合绞杀是太平天国运动失败的客观原因，排除C项。故选D项。

18. 鲁迅曾深有感触地说：“见过辛亥革命，见过二次革命，见过袁世凯称帝、张勋复辟，看来看去，就看得怀疑起来，于是失望、颓唐得很了。”令鲁迅失望的这段历史是

- A. 清政府统治时期
- B. 北洋军阀统治时期
- C. 国民大革命时期
- D. 南京国民政府时期

【答案】B

【详解】根据“见过辛亥革命，见过二次革命，见过袁世凯称帝、张勋复辟，看来看去，就看得怀疑起来，于是失望、颓唐得很了。”可得出，材料中的这些事件都是在北洋军阀的统治时期，B项正确；当时清政府已经灭亡，排除C项；南京国民政府时期，排除D项。故选B项。

关注北京高考在线官方微信：[北京高考资讯\(微信号:bjgkzx\)](#)，获取更多试题资料及排名分析信息。

除 A 项；国民革命是 1924-1927 年，南京国民政府是 1927 年建立的，与材料中的时间不符合，排除 CD 项。故选 B 项。

19. 对下表信息解释正确的是

一战前后农商部注册工业公司表

注册时间	企业数量	资本总额（万元）
1914 年 8 月前	146	41148205
1914 年 8 月—1920 年	272	117434500

- ①辛亥革命为民族工业发展扫除了政治上的一些障碍
- ②群众性反帝爱国运动此起彼伏，推动民族工业发展
- ③南京国民政府成立后，官僚资本凭借国家权力敛财
- ④一战期间列强忙于战争，中国民族资本主义得以发展

A. ①②③④ B. ②③④ C. ①③④ D. ①②④

【答案】D

【详解】据材料“一战前后农商部注册工业公司表”可知，1914 年 8 月前农商部注册的企业数量、资本额由 146 个、四千多万，到 1920 年上升到 272 个，资本额增加到一亿多，究其原因有：辛亥革命推翻君主专制政体，为民族工业发展扫除了政治上的一些障碍，①正确；1915 年人民群众掀起了抵制洋货，提倡国货运动，推动民族工业发展，②正确；1927 年 4 月南京国民政府成立，与材料不符，③错误；战期间西方列强忙于战争，暂时放松了对中国的经济侵略，中国民族资本主义得以发展，④正确；故选 D 项；排除 A、B、C 项。

20. 1916 年胡适撰文指出“今日所需，乃是一种可读、可听、可讲、可记的言语。要读书不须口译，演说不须笔译；要施诸讲坛舞台而皆可，谓之村妇孺而皆懂。”胡适意在

A. 批判封建伦理 B. 否定传统文化 C. 推动文学革命 D. 提升平民地位

【答案】C

【详解】材料“1916 年胡适”“今日所需，乃是一种可读、可听、可讲、可记的言语”“谓之村妇孺而皆懂”体现的是新文化运动期间，胡适倡导白话文运动，助推文学革命的发展，C 项正确；材料与批判封建伦理、否定传统文化及提升平民地位的说法无关，排除 ABD 项。故选 C 项。

21. 下表是中华苏维埃共和国临时中央政府自成立到更名的重大史实。这一过程

时间	1931 年 11 月	1934 年 10 月	1935 年 10 月	1937 年 9 月
主要史实	成立于江西瑞金	撤离江西苏区	转移至陕甘苏区	更名为“中华民国陕甘宁边区政府”

- A. 伴随着阶级矛盾和民族矛盾的演变而发展
- B. 见证了国共从合作到对峙到再合作的历程
- C. 体现了抗日民族统一战线建立发展的历程
- D. 反映了工农红军革命根据地的发展与壮大

【答案】A

关注北京高考在线官方微信：[北京高考资讯\(微信号:bjgkzx\)](#)，获取更多试题资料及排名分析信息。

【详解】从材料可以看出，不同时期，中华苏维埃共和国临时中央政府的名称不同，这主要是根据当时的社会矛盾而调变化的，如在国共第二次合作抗战时，更名为“中华民国陕甘宁边区政府”，因此反映出阶级矛盾和民族矛盾的演变，影响其名称的变化，A项正确；国共第一次合作是1924-1927，排除A项；材料不能体现抗日民族统一战线建立发展的整个历程，排除C项；D项与主旨无关，排除D项。故选A项。

22. 在平型关战斗胜利后，蒋介石致电某军祝贺：“一战攻克平型关，毙敌遍野，俘虏甚多。忠勇之气，益寒敌胆。特电驰贺，续候捷音。”此军是

- A. 工农红军 B. 八路军 C. 新四军 D. 解放军

【答案】B

【详解】根据“一战攻克平型关”和所学，1937年9月，八路军第115师在师长林彪率领下，于山西平型关一带隐蔽设伏。当日军1000多人进入伏击圈时，八路军从不同方向全线开火。日军乱作一团，死伤惨重。八路军冲杀下去，同日军展开肉搏战。经过近一天的激战，八路军将日军全部歼灭。这是华北战场上中国军队主动歼敌的第一场胜仗，打破了日军不可战胜的神话。B项正确；当时已经没有红军，排除A项；新四军在南方，排除C项；D项是解放战争时期，排除D项。故选B项。

23. 毛泽东的诗词创作，好似一幅幅长篇画卷，记录了中国革命征程中的标志性事件，堪称诗史。下列诗词与地图形势相对应的是



- A. 军叫工农革命，旗号镰刀斧头。匡庐一带不停留，要向潇湘直进
B. 敌军围困万千重，我自岿然不动。早已森严壁垒，更加众志成城
C. 天高云淡，望断南飞雁。不到长城非好汉，屈指行程二万
D. 钟山风雨起苍黄，百万雄师过大江。虎踞龙盘今胜昔，天翻地覆慨而慷

【答案】D

【详解】根据所学，材料反映的是渡江战役，而“钟山风雨起苍黄，百万雄师过大江。虎踞龙盘今胜昔，天翻地覆慨而慷”是毛泽东写的《七律，人民解放军占领南京》D项正确；A项是秋收起义，B项是井冈山斗争，C项是长征，排除ABC项。故选D项。

24. 老照片以独特的方式记忆和见证历史。下面老照片能印证的史实是



- A. 甲午战后在京举人联名上书要求变法
- B. 北京青年学生游行反对北洋政府卖国
- C. 北平学生游行示威反对“华北自治运动”
- D. 解放战争时期国统区的爱国民主运动

【答案】D

【详解】解放战争时期，北平学生掀起“反饥饿反内战大游行”，解放战争时期国统区的爱国民主运动，成为反对国民党统治的第二条战线，故D项正确；A项是1895年的公车上书，排除A项；1928年北洋政府的统治结束，排除B项；1935年日本策划“华北自治运动”，排除C项。故选D项。

25. 以下战役按时间顺序排列正确的是

- ①百团大战 ②孟良崮战役 ③淞沪会战 ④淮海战役

- A. ①②③④ B. ③②①④ C. ③①②④ D. ②③④①

【答案】C

【详解】据所学可知，①百团大战爆发于1940年秋；②孟良崮战役发生于1947年5月；③淞沪会战发生于1937年8--11月；④淮海战役发生于1948年11月--1949年1月；故C项正确；排除A、B、D项。

26. 毛泽东在1961年中共中央召开工作会议期间讲道：“这十二年，恐怕还是做对了的是主要的，占第一位，错误占第二位。”以下叙述属于十二年中“做对了的”有

- ①1956年，中共八大宣布要把我国从农业国变为先进的工业国
- ②1957年，毛泽东提出关于正确处理人民内部矛盾的重要思想
- ③1958年，中共中央提出“多快好省地建设社会主义”的总路线
- ④1960年，中共中央开始实行“调整、巩固、充实、提高”的方针

- A. ①②③ B. ①②④ C. ①③④ D. ②③④

【答案】B

【详解】据材料“这十二年，恐怕还是做对了的是主要的，占第一位，错误占第二位。”并结合所学可知，1956年三大改造完成后，我国进入社会主义建设时期，开始探索符合中国国情的社会主义建设道路。1956年，中共八大召开，宣布要把我国从农业国变为先进的工业国，①正确；1957年，毛泽东提出关于正确处理人民内部矛盾的重要思想，以利于社会主义建设，②正确；1958年，中共中央提出“多快好省地建设社会主义”的总路线，这是左倾冒进的体现，突出了“快”，违背了经济建设的规律，③错误；1960年，中共中央开始实行“调整、巩固、充实、提高”的方针，调整国民经济的比例关系，④正确；故B项正确；排除A、C、D项。故选B项。

27. 下表中关于新中国外交的史实与历史解释对应准确的一组是

	史实	历史解释
A	“另起炉灶”外交方针的制定	断绝与西方国家一切经济文化联系
B	和平共处五项原则的提出	成为处理国与国之间关系的基本准则
C	周恩来提出“求同存异”的方针	消除了万隆会议与会国的矛盾和分歧
D	中美关系正常化	推动中华人民共和国恢复联合国合法席位

A. A B. B C. C D. D

【答案】B

【详解】据材料并结合所学可知，20世纪50年代周总理提出的“和平共处五项原则”，成为处理国与国之间关系的基本原则，标志着新中国外交政策的成熟，**B**项正确；据所学可知，“另起炉灶”是不承认国民政府建立的旧的外交关系，而要在独立自主的基础上建立新的新的外交关系，排除A项；据所学可知，周总理的“求同存异”，推动了会议的圆满成功，但未消除与会国简单意识形态的分歧，排除C项；1972年尼克松访华标志着中美关系正常化，而早在1971年中华人民共和国的合法席位恢复，排除D项。故选B项。

28. “三线建设”从1964年开始，进行了十多年。在贵州、陕西及鄂西、湘西等地区建立起许多军事工业基地，在西部地区建成攀枝花大型钢铁联合企业等一大批工业基地，还开工兴建成昆、贵昆、川黔、湘黔等铁路。可见，“三线建设”

- ①推动沿海地区城市化进程 ②增强了国家的国防力量
③实现了产业结构平衡发展 ④改善了我国的工业布局

A. ①② B. ②③ C. ①④ D. ②④

【答案】D

【详解】据材料“在贵州、陕西及鄂西、湘西等地区建立起许多军事工业基地，在西部地区建成攀枝花大型钢铁联合企业等一大批工业基地，还开工兴建成昆、贵昆、川黔、湘黔等铁路”可知，三线建设主要在西部地区，故与沿海地区发展无关，①错误；据材料“在贵州、陕西及鄂西、湘西等地区建立起许多军事工业基地”可知，三线建设增强了国家的国防力量，②正确；据材料“在贵州、陕西及鄂西、湘西等地区建立起许多军事工业基地，在西部地区建成攀枝花大型钢铁联合企业等一大批工业基地，还开工兴建成昆、贵昆、川黔、湘黔等铁路”可知，三线建设主要在西部地区建设军事基地和工业基地，与产业结构平衡无关，③错误；三线建设主要在西部地区建设军事基地和工业基地，利于改善我国的工业布局，④正确。结合上述分析可知D项正确，排除ABC项。故选D项。

29. 以下是某同学的学习大纲，他学习的主题最有可能是

一、邓小平理论
二、“三个代表”重要思想
三、科学发展观
四、习近平新时代中国特色社会主义思想

- A. 马克思主义思想的广泛传播 B. 中国特色社会主义理论体系
C. 社会主义革命理论建设理程 D. 世界和平与发展的中国方案

关注北京高考在线官方微信：[北京高考资讯\(微信号:bjgkzx\)](#)，获取更多试题资料及排名分析信息。

【答案】B

【详解】据材料“邓小平理论、三个代表的重要思想、科学发展观、习近平新时代中国特色社会主义和会注意思想”都属于中国特色社会主义的理论体系的组成部分，故B项正确；材料未涉及马克思主义思想的传播，排除A项；社会主义革命理论是“工农武装割据”，而1956年三大改造完成，我国进入社会主义建设时期，排除C项；十一届三中全会后，邓小平提出了“和平与发展”是时代的主题，与材料不符，排除D项；故选B项。

30. 十八大以来中国实施了共建“一带一路”的倡议，发起创办了亚洲基础设施投资银行，举办了二十国集团领导人杭州峰会、金砖国家领导人厦门会晤，倡导构建人类命运共同体，促进全球治理体系变革。这表明当今中国

- A. 致力于加强与周边邻国合作
B. 主导了亚太地区的经济合作
C. 极力加强与发展中国家的全面合作
D. 努力构建合作共赢的新型国际关系

【答案】D

【详解】结合所学知识可知，近年来，实施共建“一带一路”倡议、举办二十国集团峰会、倡导构建人类命运共同体，促进全球治理体系变革等，表明当今中国努力构建合作共赢的新型国际关系，D项正确；致力于加强与周边邻国合作与“举办了二十国集团领导人杭州峰会、金砖国家领导人厦门会晤”等不符，A项错误；中国并未主导亚太地区的经济合作，B项错误；极力加强与“发展中国家的全面合作”与材料主旨不符，C项错误。

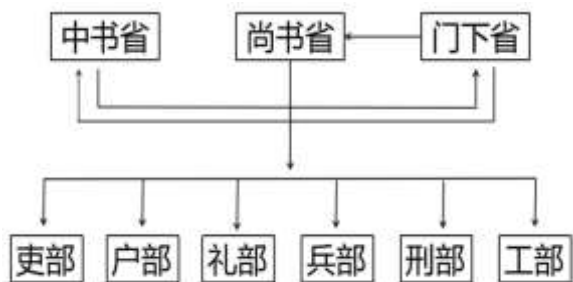
二、非选择题

31. 制度创新

（中国政制）达臻“文明”一途，实应归功于西周的创制。……西周政治里显然有深厚的贵族色彩，而“共主”名义下的地方分权体制……与秦以后一统的君主“独制”格局泾渭分明。因此古贤多称周秦之间为“天下一大变局”。

——王家范《中国历史通论》

（1）依据材料和所学，说明周秦之间政治制度“大变局”的具体表现。



即如唐制，中书舍人拟稿……然后再送至皇帝画一“敕”字……然后行达门下省……待门下省主管长官侍中及副长官侍郎接获此项诏书后，即加予复核……诏敕自中书定旨，门下复审手续完成后，即送尚书省执行。

——钱穆《中国历代政治得失》

（2）依据材料，结合所学，分别指出唐初中书、门下、尚书三省的职能，分析三省六部制对当时政治的影响。

窃闻东西各国之强，皆以立宪法开国会之故。国会者，君与民共议一国之政法也。……人主尊为圣，不受责任，而政府代之，东西各国皆行此政体，故人君与千百万之国民，合为一体，国安得不强？吾国行专制政体，一君与大臣数人共治其国，国安得不弱？

——康有为《请定立宪开国会折》

今者由平民革命以建国民政府，凡为国民皆平等以有参政权。大总统由国民公举。议会以国民公举之议员构成之，制定中华民国宪法，人人共守。敢有帝制自为者，天下共击之！”

关注北京高考在线官方微信：[北京高考资讯\(微信号:bjgkzx\)](#)，获取更多试题资料及排名分析信息。

(3) 依据材料, 说明康有为和孙中山为改造政治制度各提出了什么主张, 两人的主张有何相同点?

【答案】(1) 从宗法分封制到郡县制; 从地方分权体制到中央集权制; 从天下共主到君主专制; 从贵族政治(世卿世禄)到官僚政治。

(2) 职能: 中书省负责草拟皇帝的诏令; 门下省负责审核诏令, 有不妥者驳回; 尚书省负责执行。

影响: 三省分工合作, 提高行政效率, 减少决策失误; 完整的相权被分割, 君权得到加强; 中央决策和行政体系日臻完备。

(3) 康有为主张实行变法, 建立君主立宪制; 孙中山主张推翻清王朝的专制统治, 建立民主共和制。

共同点: 反对君主专制; 实行资本主义民主政治。

【小问1详解】

根据“西周政治里显然有深厚的贵族色彩”“独制”可得出周到秦是从宗法分封制到郡县制; 从地方分权体制到中央集权制; 根据“共主”“独制”得出从天下共主到君主专制; 根据所学可得出从贵族政治(世卿世禄)到官僚政治。

【小问2详解】

职能: 根据“然后行达门下省……待门下省主管长官侍中及副长官侍郎接获此项诏书后, 即加予复核……诏敕自中书定旨, 门下复审手续完成后, 即送尚书省执行。”并结合课本的内容可得出中书省负责草拟皇帝的诏令; 门下省负责审核诏令, 有不妥者驳回; 尚书省负责执行。影响: 根据所学可得出三省分工合作, 提高行政效率, 减少决策失误; 完整的相权被分割, 君权得到加强; 中央决策和行政体系日臻完备。

【小问3详解】

根据“窃闻东西各国之强, 皆以立宪法开国会之故。国会者, 君与民共议一国之政法也。……人主尊为圣, 不受责任, 而政府代之, 东西各国皆行此政体, 故人君与千百万之国民, 合为一体, 国安得不强”得出康有为主张实行变法, 建立君主立宪制; 根据“今者由平民革命以建国民政府, 凡为国民皆平等以有参政权。大总统由国民公举。”得出孙中山主张推翻清王朝的专制统治, 建立民主共和制。共同点: 综合所学可得出反对君主专制, 实行资本主义民主政治。

32. 民族交融

辽	契丹官分南北, 以国制治契丹, 以汉制待汉人……北面治宫帐、部族、属国之政, 南面治汉人州县、租赋、军马之事。因俗而治, 得其宜矣。 重熙五年(1036年), 辽兴宗亲临礼部贡院试进士。
西夏	其官分文武班, 曰中书, 曰枢密, 曰三司, 曰御史台保留了原蕃官体系, 如宁令(大王)等官职。 大庆四年(7年), 复设童子科, 于是取士日甚。
金	女真初起, 其部长曰孛堇, 行兵则称曰猛安、谋克, 从其多寡以为号。 金太祖定燕(今北京), 学习辽南北面官制度。 金承辽后, 进士科目兼采唐宋之法而增损之。

(1) 概括辽、西夏、金制度的共同点, 并分析其影响。

中华人民共和国境内各民族一律平等，实行团结互助，反对帝国主义和各民族内部的人民公敌，使中华人民共和国成为各民族友爱合作的大家庭。反对大民族主义和狭隘民族主义，禁止民族间的歧视、压迫和分裂各民族团的行为。

——1949年《中国人民政治协商会议共同纲领》

(2) 依据材料和所学，说明《共同纲领》中民族政策的背景和意义。

【答案】 (1) 共同点：吸收中原王朝先进的政治制度（官制和科举制），同时保留本民族特色；意义：促进民族交融；有利于缓和民族矛盾，巩固统治；促进了少数民族地区的发展。

(2) 背景：新民主主义革命取得胜利，中华人民共和国即将建立。

意义：有助于实现各族人民当家做主，团结各族人民巩固新生的人民政权；有利于各民族团结，维护祖国统一，共同建设新中国；促进各民族共同发展，共同繁荣。

【小问1详解】

共同点：根据“契丹官分南北，以国制治契丹，以汉制待汉人……北面治宫帐、部族、属国之政，南面治汉人州县、租赋、军马之事。因俗而治，得其宜矣。”“大庆四年（7年），复设童子科，于是取士日甚。”得出吸收中原王朝先进的政治制度（官制和科举制），同时保留本民族特色；意义：结合所学，可从民族融合、缓和矛盾、促进发展等角度概括。

【小问2详解】

背景：根据“中华人民共和国境内各民族一律平等”得出新民主主义革命取得胜利，中华人民共和国即将建立。意义：根据“使中华人民共和国成为各民族友爱合作的大家庭。反对大民族主义和狭隘民族主义，禁止民族间的歧视、压迫和分裂各民族团的行为。”可得出有助于实现各族人民当家做主，团结各族人民巩固新生的人民政权；有利于各民族团结，维护祖国统一，共同建设新中国；促进各民族共同发展，共同繁荣。

33. 百年伟业

1920年6月，《国民》杂志发表的《社会主义在中国应该怎么样运动》指出，俄国社会主义运动的起因、革命力量、革命手段与中国国情完全相同。并强调中国应该走社会主义道路，由“经济改造”到唤起“觉悟”是建立新社会的路径。

1921年2月，蔡和森在《马克思学说与中国无产阶级》指出马克思的学理由三点出发：在历史上发明他的唯物史观；在经济上发明他的资本论；在政治上发明他的阶级战争说。三者一以贯之，遂成为革命的马克思主义。社会革命完全为无产阶级的革命。

(1) 依据材料和所学，说明20世纪20年代中国先进知识分子选择信仰马克思主义的原因。

中国共产党部分重要会议

序号	时间	内容
①	1935年1月	集中全力解决军事和组织问题，结束了“左”倾错误在中共中央的统治。
②	1949年3月	毛泽东提出了促进革命取得全国胜利的基本方针，提出了革命胜利后党在各方面的基本政策。

(2) 说出表中两次会议的名称，并简述其所蕴含的转折性意义。

一个有希望的民族不能没有英雄，一个有前途的国家不能没有先锋。

 <p>杨靖宇</p>	 <p>杨根思</p>	 <p>王进喜</p>	 <p>邓稼先</p>
<p>抗日英雄，1932年，受命在东北组织抗日联军，率领东北军民与日寇血战于白山黑水之间。1940年2月，在冰天雪地、弹尽粮绝的情况下，孤身一人与大量日寇周旋，战斗几昼夜后，壮烈牺牲。</p>	<p>中国人民志愿军连长，1950年11月29日，在坚守长津湖畔某高地的战斗中，率领三排打退了号称“王牌”美军的八次进攻。最后只剩他一人时，毅然抱起炸药包冲向敌群，与敌同归于尽，用生命实现了“人在阵地在”的铮铮誓言。</p>	<p>新中国石油工人，1960年打出了大庆第一口油井，并创造了年进尺10万米的世界钻井纪录，成为中国工业战线一面火红的旗帜。因用自己身体制伏井喷而家喻户晓，人称“铁人”。</p>	<p>著名核物理学家，1958年毛泽东提出“没有原子弹在国际社会上就没有话语权”，邓稼先等科学家挑起重任，克服了资料少、设备差、环境恶劣等难以想象的困难，1964年中国成功爆炸原子弹。邓稼先被誉为“两弹元勋”。</p>

(3) 从表中选择两个英雄人物，结合时代背景，简述其英雄事迹彰显的时代精神。

序号	年份	史实
①	1978年	家庭联产承包责任制在全国各地逐步推广开来
②	1979年	全国人大常委会发表《告台湾同胞书》
③	1980年	中央决定在深圳、珠海、汕头、厦门设立经济特区
④	1981年	开始进行城市经济体制改革综合试点
⑤	1992年	中共十四大明确提出建立社会主义市场经济体制的目标
⑥	1997年	中国恢复对香港行使主权
⑦	2000年	开始实施“走出去”战略，后发展为“引进来”和“走出去”相结合
⑧	2001年	中国加入世界贸易组织
⑨	2005年	十届人大三次会议通过《反分裂国家法》

(4) 阅读上表，围绕“社会主义现代化建设新时期”的某个侧面，选出三条资料，提炼出一个主题，运用这三条资料对该主题进行简要阐释。

关注北京高考在线官方微信：**北京高考资讯(微信号:bjgkzx)**，获取更多试题资料及排名分析信息。

【答案】（1）新文化运动高举民主与科学的旗帜，推动思想文化革新；俄国十月革命的胜利给先进知识分子指明了新路；五四运动促进先进知识分子把马克思主义同中国工人运动相结合；民族资本主义经济进一步发展，无产阶级力量壮大。先进知识分子认为中国国情与俄国十月革命前的国情相似，可以学习借鉴；先进知识分子认识到马克思主义学说的科学性和先进性。

（2）①遵义会议，开始确立以毛泽东为主要代表的马克思主义正确路线在党中央的领导地位，在极其危急的情况下，挽救了党、挽救了红军、挽救了中国革命。②七届二中全会，为党的工作重心由乡村转移到城市、夺取全国革命胜利和建设新中国奠定基础。

（3）杨靖宇：1931年日本发动九一八事变，侵占东北三省，中国局部抗战开始。在深重民族危机面前，杨靖宇领导的东北抗日联军在极端困苦的环境下坚持抗战，展现了矢志不渝、忠贞报国的爱国主义精神，坚贞不屈、视死如归的英雄气概。

杨根思：新中国成立初期，美国武装干涉朝鲜内战，1950年中国人民志愿军入朝作战，抗美援朝，保家卫国。以杨根思等人为代表的志愿军英雄群体，锻造了伟大的抗美援朝精神，极大地鼓舞着全国人民为保卫和建设祖国而团结奋斗。

王进喜：在全面建设社会主义时期，涌现出以王进喜为代表的一大批先进典型，他带领大庆工人克服重重困难，自力更生、艰苦奋斗，为石油工业的发展和社会主义建设立下了不朽功勋，形成的崇尚劳动、敬业守信的劳模精神激励着人们。

邓稼先：20世纪50年代末、60年代初期，面对日趋紧张的国际形势和美、苏日益严峻的战争威胁，邓稼先等一批科学家以忘我牺牲的精神投身于核武器的研制，战胜各种困难，艰苦奋斗、奋发图强、敢于创新是那个年代的时代精神。

（时代精神言之成理即可得分）

（4）参考示例序号：①④⑤

主题：我国经济体制改革不断深化促进了经济发展

1978年十一届三中全会作出把党和国家工作中心转移到经济建设上来，实行改革开放的战略决策。改革首先在农村取得突破。1978年家庭联产承包责任制在全国各地逐步推广开来，大大提高农民收入。1981年城市经济体制改革按照逐步扩大国有企业经营自主权、实行政企分开原则，进行城市经济体制改革综合试点。1992年，中共十四大明确提出我国经济体制改革的目标是建立社会主义市场经济体制。我国按照建立现代企业制度的总体思路推进国有企业改革，社会主义现代化建设取得历史性成就。

【小问1详解】

根据所学，可从新文化运动的影响、十月革命的影响、民族工业的发展、无产阶级力量的壮大等角度概括。

【小问2详解】

根据时间可得出是长征途中的遵义会议，根据所学可得出开始确立以毛泽东为主要代表的马克思主义正确路线在党中央的领导地位，在极其危急的情况下，挽救了党、挽救了红军、挽救了中国革命。根据“1949年3月”可得出是七届二中全会，为党的工作重心由乡村转移到城市、夺取全国革命胜利和建设新中国奠定基础。

【小问3详解】

根据所学可得出选择杨靖宇：说明时可得出1931年日本发动九一八事变，侵占东北三省，中国局部抗战开始。在深重民族危机面前，杨靖宇领导的东北抗日联军在极端困苦的环境下坚持抗战，展现了矢志不渝、忠贞报国的爱国主义精神，坚贞不屈、视死如归的英雄气概。根据所学可选择杨根思：论述时可概括得出新中国成立初期，美国武

关注北京高考在线官方微信：[北京高考资讯\(微信号:bjgkzx\)](https://www.bjgkzx.com)，获取更多试题资料及排名分析信息。

装干涉朝鲜内战，1950年中国人民志愿军入朝作战，抗美援朝，保家卫国。以杨根思等人为代表的志愿军英雄群体，锻造了伟大的抗美援朝精神，极大地鼓舞着全国人民为保卫和建设祖国而团结奋斗。其他言之有理即可。

【小问4详解】

根据“社会主义现代化建设新时期”可选择①④⑤，得出主题为我国经济体制改革不断深化促进了经济发展。论述时，主要从十一届三中全会、经济体制改革、市场经济体制的建立等角度概括。



北京高一高二高三期末试题下载

北京高考资讯整理了【2022年1月北京各区各年级期末试题&答案汇总】专题，及时更新最新试题及答案。

通过【北京高考资讯】公众号，对话框回复【期末】或者底部栏目<试题下载→期末试题>，进入汇总专题，查看并下载电子版试题及答案！

