

2022 北京昌平高一（上）期末

政 治

2022.1

本试卷共 12 页，共 100 分。考试时长 90 分钟。考生务必将答案答在答题卡上，在试卷上作答无效。考试结束后，将答题卡交回。

第一部分（选择题 共 60 分）

本部分共 30 小题，每小题 2 分，共 60 分。在每小题列出的四个选项中，选出最符合题目要求的一项。

1. 马克思主义犹如壮丽的日出，照亮了人类探索历史规律和寻求自身解放的道路。马克思主义是科学的理论，揭示了人类社会发展的一般规律。支配人类社会发展的规律是

- ①生产关系一定要适合生产力状况
 - ②生产力一定要适合生产关系状况
 - ③上层建筑一定要适合经济基础状况
 - ④经济基础一定要适合上层建筑状况
- A. ①③ B. ①④ C. ②③ D. ②④

2. 历史和现实都告诉我们，只有社会主义才能救中国，这是历史的结论、人民的选择。某班同学开展“只有社会主义才能救中国”的主题班会，下列观点可以纳入该班会的是

- ①十月革命建立了世界上第一个社会主义国家
 - ②《共产党宣言》的发表，标志着科学社会主义的诞生
 - ③社会主义制度确立后，我国成为在世界上有重要影响的大国
 - ④新中国的成立，为实现国家富强、民族复兴展示了美好前景和现实道路
- A. ①② B. ①③ C. ②④ D. ③④

小小红船已经成为领航中国行稳致远的巍巍巨轮，越过千万重山水，穿过惊涛骇浪，继续向着伟大梦想扬帆远航，追梦不息，进军不止。回答 3、4 题。

3. 小华同学在学习“胜利的征程—新民主主义革命”内容时，阅读到下面两幅图片。下列选项与图中反映出的信息对应正确的是



上海中共一大会址



浙江嘉兴南湖红船

- ①五四运动彻底结束了旧中国半殖民地半封建社会的历史
 - ②中国革命从此有了坚强的领导核心，中国人民的斗争有了主心骨
 - ③中国产生了共产党，这是开天辟地的大事变，中国革命的面貌从此焕然一新
 - ④中国共产党的成立，标志我国实现了从新民主主义到社会主义的转变
- A. ①③ B. ①④ C. ②③ D. ②④

4.红船是开启党的初心和使命的起点。中国共产党人的初心和使命是

- ①为中国人民谋幸福②发挥先锋模范作用
③为中华民族谋复兴④全面加强党的自身建设
A.①② B.①③ C.②④ D.③④

5.从中华人民共和国成立到社会主义改造基本完成是一个过渡时期。党在这个过渡时期的总路线和总任务，是逐步实现国家的社会主义工业化，并逐步实现国家对农业、手工业和资本主义工商业的社会主义改造，简称“一化三改”。下列属于“一化三改”的是



①农民踊跃报名加入农业生产合作社



②上海信大祥绸布商店挂上公私合营的招牌



③新中国第一部宪法诞生



④中国人民政治协商会议第一届全体会议召开

- A.①② B.①④ C.②③ D.③④

6.小波同学准备用手机拍摄一段反映我国农村改革开放初期的微视频。在他构思的镜头中，合理的是

- A.外景：村委会门口悬挂着“决胜全面建成小康社会”的红色横幅
B.内景：村民挤在村委会观看“中国加入世界贸易组织签字仪式”的电视新闻
C.近景：坐在炕头上的村民老刘听说“建设美丽乡村”后笑得合不拢嘴
D.特写：安徽省凤阳县小岗村 18 位农民按下“大包干”红手印的图片

7.习近平主席在 2021 年新年贺词中说道：“改革开放创造了发展奇迹，今后还要以更大气魄深化改革、扩大开放，续写更多‘春天的故事’。”这些话语激励我们高举新时代改革开放旗帜，以一往无前的奋斗姿态，把改革开放不断推向深入。这表明

- ①改革开放只有进行时，没有完成时②改革开放有力推动我国经济社会发展
③改革开放在城市率先取得突破进展④改革开放是马克思主义活的灵魂
A.①② B.①③ C.②④ D.③④

8.在全面建成小康社会、开启全面建设社会主义现代化国家新征程之时，《中共中央关于制定国民经济和社会发展第十四个五年规划和二〇三五年远景目标的建议》对中国特色社会主义事业“四个全面”战略布局的表述作出调整（见下图）。



这一调整体现了

- ①中国共产党系统谋划、统筹推进战略布局 ②中国共产党具有与时俱进的理论品格
③“两个一百年”奋斗目标的有机衔接④当前我国社会主要矛盾已完全解决

A.①②③ B.①②④ C.①③④ D.②③④

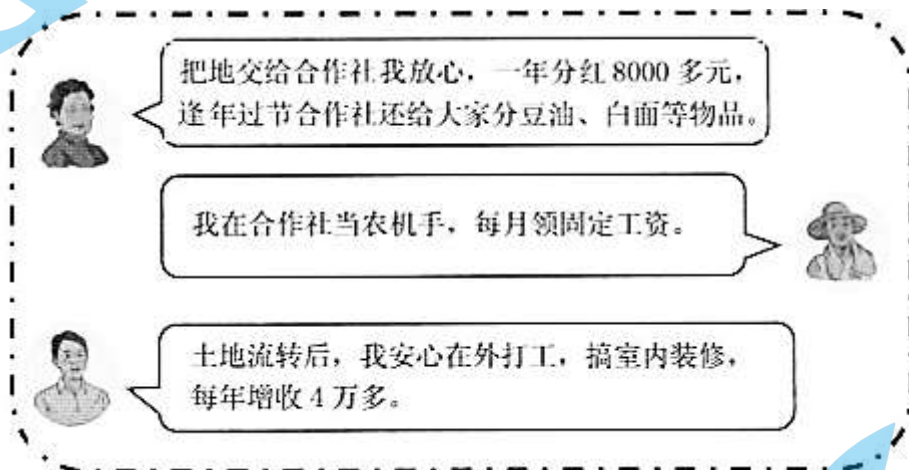
9.党的十八大以来,以习近平同志为主要代表的中国共产党人,顺应时代发展,从理论和实践结合上系统回答了
这个重大时代课题,创立了习近平新时代中国特色社会主义思想。

- A.建设什么样的党、怎样建设党
B.什么是社会主义、怎样建设社会主义
C.新形势下实现什么样的发展、怎样发展
D.新时代坚持和发展什么样的中国特色社会主义、怎样坚持和发展中国特色社会主义

10._____是社会主义初级阶段经济制度的根本特征。

- A.以公有制为主体
B.公有资产在各行各业中占优势
C.公有制经济控制国民经济命脉 D.混合所有制经济中,公有制经济成分占优势

11.某村农民专业合作社从2011年成立至今,通过土地流转,实现了规模化、机械化经营,农业生产效率大幅提高,农民收益大幅增加。社员们你一言我一语,纷纷列举入社后的实惠。



农民专业合作社的成立

- A.丰富了我国多种所有制形式 B.发展壮大农村集体经济
C.改变了农村基本经营制度 D.变更了土地所有权的性质

12.一对夫妇开了家小饭馆,取名“小南瓜”,夫妻俩既当老板又当服务员。他们把农民卖不出去的小南瓜加工成美味食品,远近闻名。随着生意越来越红火,他们租了更大面积的店铺,聘用了数十名服务员。随着经营规模的不断扩大,“小南瓜”成为全国性的连锁店。“小南瓜”的所有制经济形式依次为

- A.个体经济 私营经济 B.私营经济 外商投资经济
C.私营经济 个体经济 D.个体经济 混合所有制经济

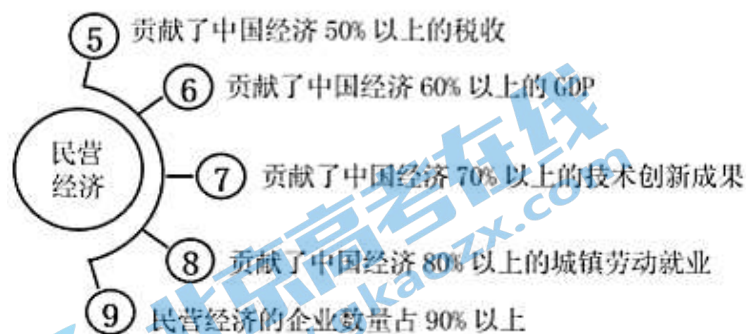
13.近年来,为更好发挥电子商务企业的集聚和辐射效应,商务部推动开展国家电子商务示范基地创建工作,通过实现园区业务“最多跑一次”办结,为入驻企业减免租金、提供运补贴费用等手段,助力基地的中小微电子商务及相关企业健康发展。这些举措

- ①有利于增强小微企业的控制力、影响力

- ②旨在鼓励、支持、引导非公有制经济发展
- ③为入驻企业降低经营成本、营造良好营商环境
- ④有利于政府市场监管，促进市场秩序的规范

A.①③ B.①④ C.②③ D.②④

14.习近平总书记在主持召开民营企业座谈会上指出：“民营经济是我国经济制度的内在要素，民营企业和民营企业是我们自己人。”我国经济发展能够创造中国奇迹，民营经济功不可没！“56789”足以佐证民营经济的作用（如下图）。这说明民营经济



- ①是决定当代中国命运的关键一招②是推动我国高质量发展的重要主体
- ③已经转化成为中国特色社会主义经济制度的基础
- ④在促进创新、增加税收和就业等方面发挥重要作用

A.①③ B.①④ C.②③ D.②④

15.某特色餐饮小店老板掰着指头算起了减税账：“疫情期间，国家出台了一系列税收优惠政策，特别是针对餐饮行业免征增值税这一利好，我享受了近 10 万元的税收减免。政府又将小规模纳税人增值税起征点调高到 15 万元……”国家助力特色餐饮小店“向阳而生”

- ①是通过实施积极的财政政策实现的
- ②是通过实施稳健的货币政策实现的
- ③目的是引导正确的消费观，激发市场活力
- ④有利于缓解小店困难，帮其重焕生机

A.①③ B.①④ C.②③ D.②④

16.企业作为最重要的市场主体，是推动经济发展、创造财富、科技创新、吸纳就业、增加多样性供给、满足多样化需求的最重要、最基本的载体。截至 2021 年 7 月底，我国市场主体总量从 2012 年 5500 万户增长到 1.46 亿户。企业从 1300 多万户增长到 4600 万户，个体工商户从 4000 万户增加到 9800 万户。我国市场主体持续快速增长，得益于

- ①党和国家制定了推动经济发展的方针政策②我国拥有巨大潜力的超大规模市场
- ③勤劳智慧的劳动者和锐意进取的企业家群体④发挥政府在资源配置中的决定性作用

A.①②③ B.①②④ C.①③④ D.②③④

17.在瞬息万变的经济生活中，能够直接反映供求状况及其变化的是

- A.市场规则与秩序 B.技术进步与创新
- C.市场价格及其波动 D.科学管理与激励机制

18.古诗中蕴含着智慧。“天育物有时，地生财有限，而人之欲无极。”这句话给我们的经济学启示是

- A.供求关系影响商品的价格 B.要实现资源的合理配置
C.必须用计划手段分配资源 D.要实行统一的市场准入制度

19.实行什么样的经济制度，决定着一个国家的性质和发展方向，同人民的命运密切相关。社会主义基本经济制度既体现了社会主义制度优越性，又同我国社会主义初级阶段社会生产力发展水平相适应，是党和人民的伟大创造。我国的社会主义基本经济制度包括

- ①民族区域自治制度②社会主义市场经济体制③按劳分配为主体、多种分配方式并存 ④公有制为主体、多种所有制经济共同发展
A.①②③ B.①②④ C.①③④ D.②③④

20.市场经济越发展，公平竞争就越重要。2021年11月18日，国家反垄断局正式挂牌成立，这是我国反垄断执法体制机制迈上新台阶的重要标志。反垄断工作关系到国民经济的创新发展、有序发展和健康发展。国家反垄断局的成立有利于

- ①建设高标准市场体系，推动经济高质量发展
②加强和优化公共服务，保障社会和谐稳定
③杜绝国有资产流失，有利于维护国家的整体利益
④为各类市场主体营造公平、透明、可预期的良好竞争环境
A.①② B.①④ C.②③ D.③④

21.北京2022年冬奥会、冬残奥会成功申办以来，北京市政府通过制定专门政策，积极引导社会资本参与体育产业发展，着力扩大体育服务和产品供给，不断优化体育产业结构和空间布局。北京市政府的做法旨在

- A.促进冰雪体育产业发展 B.普及发展校园冰雪运动
C.消除城乡体育发展差距 D.生产提供优质体育产品

2021年11月5至10日，秉承“新时代、共享未来”主题的第四届中国国际进口博览会在上海国家会展中心举行。回答22、23题。

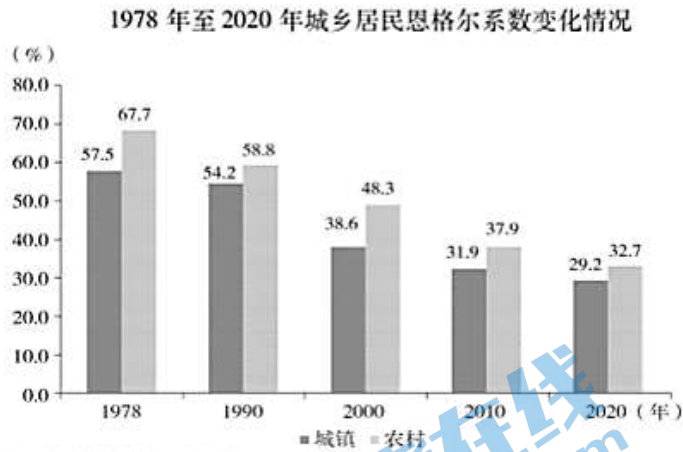
22.本次进博会，127个国家和地区的2900多家企业参展，400多项新产品、新技术、新服务亮相，达成意向成交金额707.2亿美元……“越办越好”的进博会交出最新成绩单。中国国际进口博览会的举办有利于

- ①促进世界各国协调均衡发展②推动科技同经济的深度融合
③在发展中共建世界大同社会④发展更高层次的开放型经济
A.①② B.①③ C.②④ D.③④

23.“云逛进博”新模式，让无法到场的参展商和采购商可以通过线上方式参与进来，在一场四个多小时直播活动中，总计有超过1.1亿人次围观，成交件数近150万件。这说明

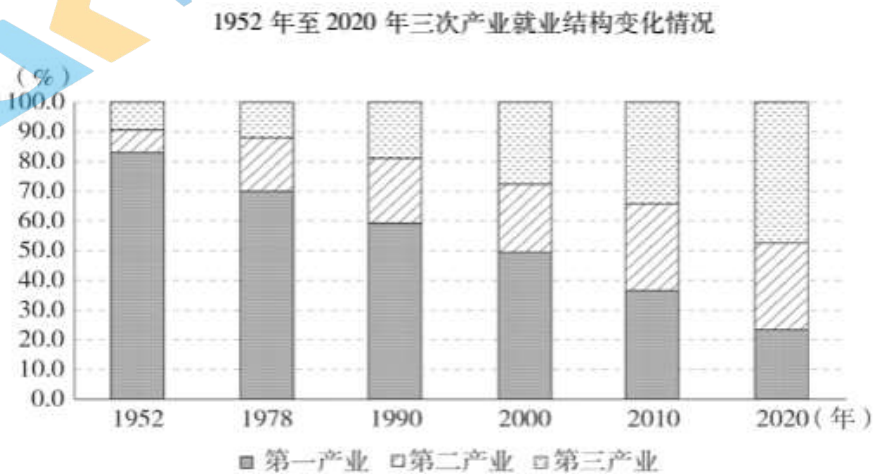
- A.线上销售将逐步取代线下实体销售
B.数字营销增加了商品的附加值
C.互联网技术增加了参展商和采购商的交易成本
D.数字技术有助于打通供需信息渠道，激发消费潜能

24. 进入新时代越来越多的中国人有“钱”有“闲”，“诗和远方”触手可及。下图是我国城乡居民恩格尔系数的变化情况，由此可以推断



- ①城乡居民消费结构得到改善 ②城乡居民生活水平不断提高
③城乡居民生活水平之间还存在差距 ④城乡居民食品消费支出总额不断减少
- A. ①②③ B. ①②④ C. ①③④ D. ②③④

25. 就业是民生之本。我国就业形势长期稳定，就业质量显著提升。结合下图，选项中推导正确的是



- A. 农业就业人数增加→就业规模扩大→就业结构不断优化
B. 科学技术的进步→产业结构优化升级→就业结构协调发展
C. 就业观念的变革→第三产业就业人数减少→产业结构的调整
D. 第三产业就业人数增加→劳动最光荣成为风尚→产业结构优化

26. 2021年是我国加入世界贸易组织20周年。加入世界贸易组织以来，我国不断扩大开放，激活了我国发展的澎湃春潮，也激活了世界经济的一池春水。对外开放深刻改变了中国，也深刻影响了世界。下列选项能表明我国坚持对外开放的是

- ①关税总水平由15.3%降至7.4%，低于9.8%的入世承诺
②企业不断提高自主创新能力，建立健全良好的激励机制
③清理阻碍市场发展的法律法规，制定利于外商投资的法律
④缩减外资准入负面清单，扩大电信、医疗等服务业领域开放
- A. ①②③ B. ①②④ C. ①③④ D. ②③④

27.宏观调控是指国家综合运用各种手段对国民经济进行调节和控制。下列选项中，不属于我国宏观调控目标的是
A.增加就业 B.促进经济增长 C.发展对外友好关系 D.稳定物价

28.据国家邮政局统计，2020年全国快递年业务量已经突破800亿件，海量快递的背后，是大量的包装纸箱、塑料包装袋、泡沫填充物，特别是不可降解的包装材料，给环境治理带来巨大压力。下列措施中能有效改善上述问题的是

- ①快递企业积极承担社会责任，减少使用可降解的包装材料
- ②科研工作者研发可降解的包装材料，制定相关行业规范
- ③消费者树立环保意识，循环利用包装材料，做好垃圾分类
- ④国家推进快递包装生产、使用、回收、处置全链条的治理机制

A.①② B.①④ C.②③ D.③④

29.2020年底，我国建成世界上规模最大的社会保障体系，正向全覆盖、保基本、多层次、可持续的目标迈进。下表中的内容对应正确的是

①社会保险	85岁的王奶奶领取国家发放的高龄老年人津贴
②社会福利	小韩单位每个月给他缴纳的养老保险
③社会优抚	军人、军人未成年子女享受免费医疗
④社会救助	生活困难的小丁领取的最低生活保障金

A.①② B.①③ C.②④ D.③④

30.收入分配是民生之源。实现发展成果由人民共享，必须深化收入分配制度改革。第三次分配是以募集、捐赠和资助等慈善公益方式对社会资源和社会财富进行分配，是对初次分配和再分配的有益补充。未来，初次分配、再分配、第三次分配协调配套将成为我国新的分配基础性制度。第三次分配

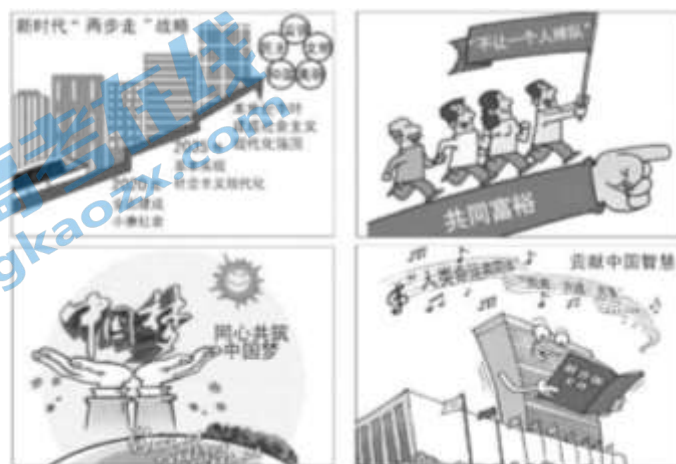
- A.是构筑我国现代化经济体系的坚实基础
- B.体现了政府的调节职能，是社会发展的文明方向
- C.是对分配制度的根本变革，能够有效弥补市场缺陷
- D.有利于促进社会公平正义，使全体人民朝着共同富裕迈进

第二部分（非选择题 共40分）

本部分共6小题，共40分。

31.(6分)

经过长期努力，中国特色社会主义进入了新时代，这是我国发展新的历史方位。



结合以上图片，运用所学，谈谈你对中国特色社会主义新时代的理解。

32.(6分)

青年兴则国家兴，青年强则国家强。中华民族伟大复兴的中国梦，将在一代代青年的接力奋斗中变为现实。

青年要为“世界进文明，为人类造幸福。以青春之我，创建青春之家庭，青春之国家，青春之民族，青春之人类，青春之地球，青春之宇宙。”

——李大钊

“世界是你们的，也是我们的，但是归根结底是你们的。你们青年人朝气蓬勃，正在兴旺时期，好像早晨八九点钟的太阳。希望寄托在你们身上。”

——毛泽东

“历史和现实都告诉我们，青年一代有理想、有担当，国家就有前途，民族就有希望，实现中华民族伟大复兴就有源源不断的强大力量。”

——习近平

阅读材料，结合自己的个人理想，以“请党放心 强国有我”为题，写一篇演讲稿。要求：150字左右，紧扣主题，逻辑清晰。

33.(6分)

2017年，在石油天然气开采行业，国有控股企业资产占该行业全部资产比重达94.7%；在煤炭开采行业，国有控股企业资产比重达76%；在石油加工炼焦和核燃料加工行业，国有控股企业资产比重达50.5%；在电力热力生产和供应行业，国有控股企业资产比重达87.3%；在水的生产和供应行业，国有控股企业资产比重达81.9%。你还知道我国哪些行业或领域主要由国有经济控制？结合材料，谈谈你对国有经济作用的认识。

34.(6分)

人民对美好生活的向往就是党的奋斗目标。在脱贫攻坚中，广大党员充分发挥先锋模范作用。

被喻为“农民院士”的共产党员朱有勇结合云南澜沧县的自然条件，把符合市场需求的冬季马铃薯种植作为脱贫致富的重点产业。当地农民在朱有勇院士技术指导下，利用冬闲用地，种出个儿大且能在一年中最先上市的土豆。朱院士说，“开春儿北京吃到的土豆丝，5盘里有4盘是澜沧县冬季马铃薯做的”。冬季马铃薯在当地开出了“脱贫致富花”。



朱院士展示冬季马铃薯

结合材料，从经济角度分析该地发展冬季马铃薯产业的市场优势。

35.(7分)

绿水青山既是自然财富、生态财富，又是社会财富、经济财富。

材料一 20世纪90年代，某村凭借山里优质的石灰岩资源，成为当地规模最大的石灰石开采区，是远近闻名的富裕村。石矿被村民称作“钱袋子”。然而，“钱袋子”鼓起来的代价，是灰蒙蒙的天、浑浊的水、尘土飞扬的山。

材料二 村里重新调整发展规划，封山护水，把全村划分为生态旅游区、美丽宜居区、田园观光区，陆续完成污水处理、垃圾清理、山塘水库修复、厂区拆迁、河道整治等工程。如今，该村青山环绕，漫山翠竹，小溪潺潺，鸟语花香。村民们办起了农家乐，村里形成了旅游观光、河道漂流、户外拓展、果蔬采摘、农事体验的休闲旅游产业链，走出了一条产业兴、生态美、百姓富的可持续发展路子，实现了从“卖资源”到“卖风景”的转变。

(1)该村的可喜变化，受益于什么样的发展理念？(1分)

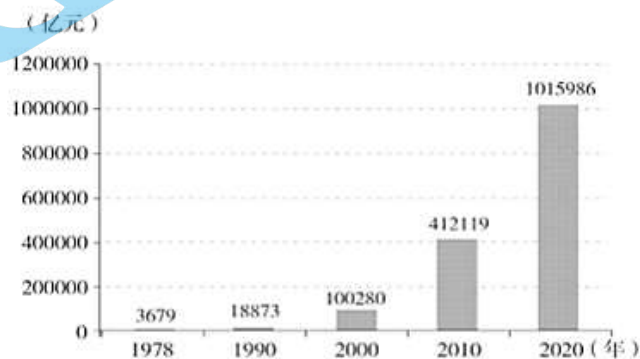
(2)结合材料，说明如何处理好经济发展与生态环境保护的关系。(6分)

36.(9分)

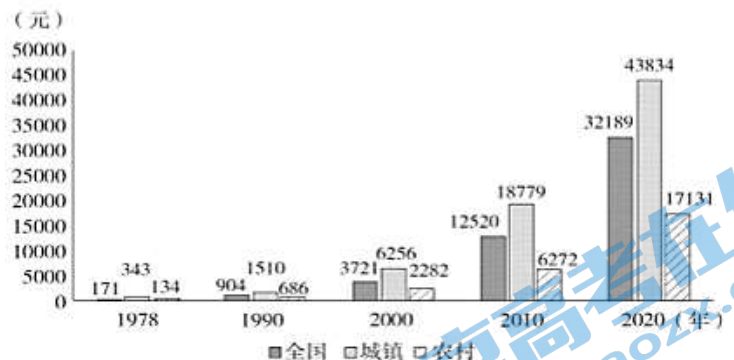
在中国共产党的领导下，中国经济巨轮正在高质量发展的航道上劈波斩浪，向着民族复兴的胜利彼岸勇往直前。某校高二(1)班的同学们开展了以“创造发展奇迹 共享奋斗成果”为主题的研究性学习活动。下面是他们收集到的资料。

材料一

1978年至2020年我国国内生产总值增长情况



1978年至2020年我国城乡居民人均可支配收入增长情况



(1)说明材料一反映的经济信息。(3分)

材料二

改革开放40多年，见证了一段东方文明在全球化浪潮中觉醒、奋起、蜕变的时空跃迁。中国创造了人类发展史上的奇迹，一跃成为世界第二大经济体、第一大工业国。

打破市场壁垒，新产业、新业态成长迅猛；“放水养鱼”助力市场主体“青山常在”；从大规模“引进来”，到大踏步“走出去”，再到共建“一带一路”；从外商投资法落地实施，到自贸试验区多次“扩围”……从来没有哪个国家像中国这样，在如此短的时间内迎来从站起来、富起来到强起来的伟大飞跃。

一粒粒粮食，关乎家与国

仓廪实，天下安。得益于深化农村改革，我国农业经济快速发展，粮食产量从1978年的30477万吨增加到2020年的66949万吨。

一件件货物，联通中国与世界

从加入世界贸易组织到坚定维护经济全球化，从“世界工厂”到“世界市场”……中国跃居世界第一大货物贸易国，货物进出口总额从1978年的355亿元增加到2020年的32.16万亿元。

(2)奇迹背后是一条被实践证明越走越宽广的中国道路。结合材料，请你谈谈社会主义市场经济体制如何成就“中国奇迹”。(6分)

第一部分 (选择题 共 60 分)

本部分共 30 小题, 每小题 2 分, 共 60 分。

1. A 2. D 3. C 4. B 5. A 6. D 7. A 8. A 9. D 10. A
 11. B 12. A 13. C 14. D 15. B 16. A 17. C 18. B 19. D 20. B
 21. A 22. C 23. D 24. A 25. B 26. C 27. C 28. D 29. D 30. D

第二部分 (非选择题 共 40 分)

本部分共 6 小题, 共 40 分。

31. (6 分)

新时代, 是承前启后、继往开来, 在新的历史条件下继续夺取中国特色社会主义伟大胜利的时代, 是决胜全面建成小康社会, 进而全面建设社会主义现代化强国的时代, 是全国各族人民团结奋斗, 不断创造美好生活、逐步实现全体人民共同富裕的时代, 是全体中华儿女勠力同心、奋力实现中华民族伟大复兴中国梦的时代, 是我国日益走近世界舞台中央、不断为人类作出更大贡献的时代。

32. (6 分)

评分观察视角: 能够从增长知识学识、努力提高个人素养、练就本领、坚定理想信念、做有担当的新时代青年等角度回答。

水平等级	水平描述
水平 4	知识运用准确, 紧扣问题展开分析, 条理清晰
水平 3	知识运用比较准确, 能扣住问题展开分析, 有条理
水平 2	知识运用不够准确, 或单纯罗列知识, 条理性较差
水平 1	答非所问, 观点错误, 或没有应答

示例:

一代人有一代人的使命, 每个时代都需要青年人为之奋斗。作为新时代中国青年要孜孜不倦学习, 努力掌握科学文化知识和专业技能, 努力提高个人素养。在学习中增长知识, 在工作中增长才干, 有理想、有本领、有担当。自觉树立和践行社会主义核心价值观, 坚定理想信念, 把人生理想融入国家和民族的伟大梦想之中, 把小我融入大我, 在实现中国梦的生动实践中放飞青春梦想, 在为人民利益的不懈奋斗中书写人生华章!

33. (6 分)

国有经济需要控制的行业或领域主要包括: 涉及国家安全的行业, 如军事工业、特种印刷企业等; 自然垄断的行业, 如基础电信、铁路等; 提供公共服务的行业, 如

环保设施、城市公共交通等；支柱产业和高新技术产业中的重要骨干企业，如汽车制造集团等。

国有经济控制国民经济命脉，对经济发展起主导作用。发展壮大国有经济，对于发挥社会主义制度的优越性，增强我国的经济实力、保障国家安全、保护生态环境、支持科技进步、发展战略性新兴产业、提供公共服务、增强国防实力和民族凝聚力以及提高我国的国际地位，具有关键作用。国有经济最主要的实现形式是国有企业，国有企业是民生保障的主力军。

34. (6分)

发展冬季马铃薯产业有国家精准扶贫政策的支持，有当地自然条件的资源优势，专家的技术优势，马铃薯品质优良，具有竞争优势，能够错峰上市，抢占先机，满足市场需求。

35. (7分)

(1) 该村在发展过程中贯彻了绿色发展理念，关注人与自然和谐共生，重视生态环境的保护。

(2) 经济发展和生态环境保护是辩证统一的，不能把两者割裂开来。生态环境的状况归根到底取决于经济结构和经济发展方式是否合理。要处理好经济发展同生态环境保护的关系，就要牢固树立保护生态环境就是保护生产力、改善生态环境就是发展生产力的理念。环境污染的代价让该村认识到人与自然和谐共生的重要性。在发展过程中实现从“卖资源”到“卖风景”的转变，把经济发展和生态环境保护统一起来，走上了可持续发展的道路。

36. (9分)

(1) 从1978年到2020年我国国内生产总值不断增长，从1978年到2020年我国城乡居民人均可支配收入不断提高，城镇居民收入高于农村。说明我国综合国力、人民生活水平不断提高。

(2) 社会主义市场经济体制是中国特色社会主义的重大理论和实践创新，是社会主义基本经济制度的重要组成部分。改革开放以来，我国一跃成为世界第二大经济体、世界第一大货物贸易国离不开党总揽全局，协调各方的领导核心作用。我国把社会主义制度和市场经济有机结合起来。构建有效的市场机制，充分发挥市场在资源配置中的决定性作用；打破市场壁垒，更好发挥政府作用，推动有效市场和有为政府更好结合。

北京高一高二高三期末试题下载

北京高考资讯整理了【2022年1月北京各区各年级期末试题&答案汇总】专题，及时更新最新试题及答案。

通过【北京高考资讯】公众号，对话框回复【期末】或者底部栏目<试题下载→期末试题>，进入汇总专题，查看并下载电子版试题及答案！

