

## 2024 年吉林省普通高等学校招生考试（适应性演练）

## 思想政治

本试卷共 8 页。考试结束后，将本试卷和答题卡一并交回。

- 注意事项：1.答题前，考生先将自己的姓名、准考证号码填写清楚，将条形码准确粘贴在考生信息条形码粘贴区。
- 2.选择题必须使用 2B 铅笔填涂；非选择题必须使用 0.5 毫米黑色字迹的签字笔书写，字体工整、笔迹清楚。
- 3.请按照题号顺序在答题卡各题目的答题区域内作答，超出答题区域书写的答案无效；在草稿纸、试卷上答题无效。
- 4.作图可先使用铅笔画出，确定后必须用黑色字迹的签字笔描黑。
- 5.保持卡面清洁，不要折叠，不要弄破、弄皱，不准使用涂改液、修正带、刮纸刀。

一、选择题：本题共 16 小题，每小题 3 分，共 48 分。在每小题给出的四个选项中，只有一个符合题目要求的。

1. 习近平寄语青年：“奋斗是青春最亮丽的底色，行动是青年最有效的磨砺。”青年的命运始终同时代紧密相连，青年始终是推动中华民族勇毅前行、屹立于世界民族之林的磅礴力量。党的十八大以来，中国青年坚定信念、紧跟党走，把青春熔铸在
- ①人类反贫困历史的辉煌篇章中  
②全面建设社会主义现代化强国的新征程上  
③党和国家工作中心战略转移的光辉史册里  
④中华民族有史以来最为广泛而深刻的社会变革中
- A. ①②                      B. ①④                      C. ②③                      D. ③④
2. 1939 年，毛泽东在延安对一位马列学院的学员说：“《共产党宣言》，我看了不下一百遍，遇到问题，我就翻阅马克思的《共产党宣言》，有时只阅读一两段，有时全篇都读，每读一次，我都有新的启发。”毛泽东强调多读《共产党宣言》，因为它
- ①是一部科学洞见人类社会发展规律和发展趋势的经典著作  
②是马克思主义基本原理同中国具体实际相结合的理论成果  
③为党领导人民争取民族独立、人民解放提供了强大的思想武器  
④以法律条文的形式提出了生产资料公有制等未来社会的基本原则
- A. ①②                      B. ①③                      C. ②④                      D. ③④

3. 2023 年前三季度，民营经济发展稳中向好，三大产业新设民营企业的数量分别为 28.4 万户、111.6 万户、566.5 万户。近年来，民营经济贡献了全国 50% 以上的税收，60% 以上的国内生产总值，70% 以上的技术创新成果，80% 以上的城镇就业，90% 以上的企业数量。上述数据表明，民营经济的发展

- ①增加了充满活力的市场主体
- ②强化了民营企业的主导能力
- ③实现了核心技术的自主可控
- ④助推了经济增长和社会稳定

A. ①②                      B. ①④                      C. ②③                      D. ③④

4. 理解国内大循环，实现经济高质量发展，就要了解宏观经济各部门循环过程。图 1 是封闭环境下家庭、企业和政府间的货币循环流程图，箭头指向表示货币流向。下列选项中，商品和服务市场、劳动力市场、金融市场与图 1 的①②③对应正确的是

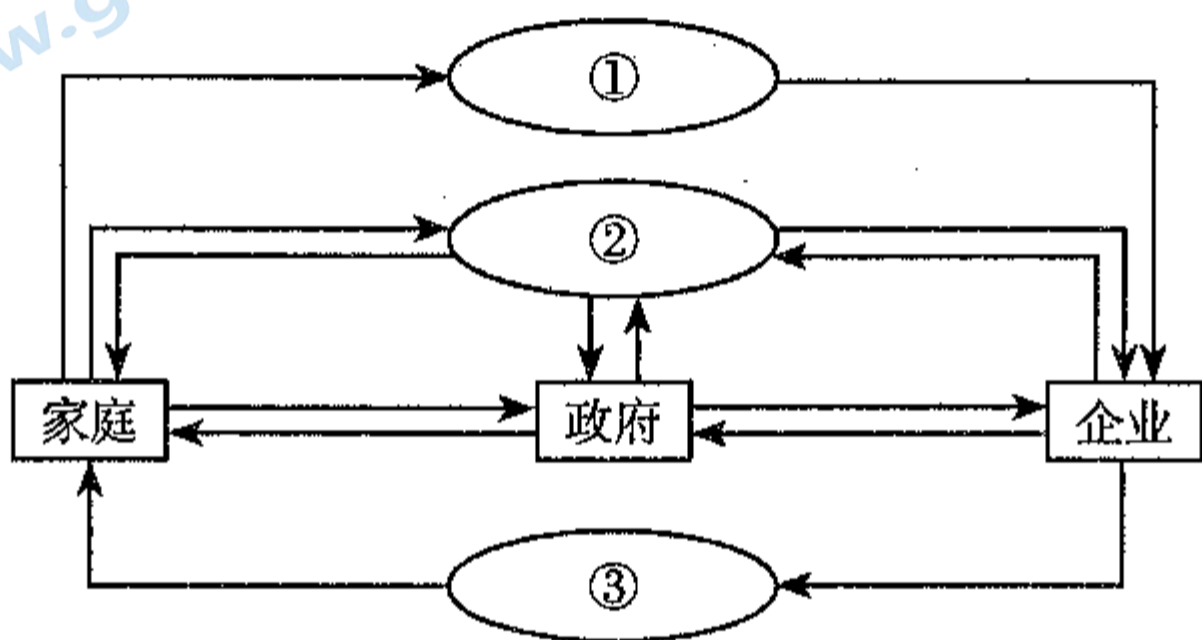


图 1 封闭环境下家庭、企业和政府间的货币循环流程图

- |             |          |          |
|-------------|----------|----------|
| A. ①商品和服务市场 | ②金融市场    | ③劳动力市场   |
| B. ①劳动力市场   | ②金融市场    | ③商品和服务市场 |
| C. ①商品和服务市场 | ②劳动力市场   | ③金融市场    |
| D. ①劳动力市场   | ②商品和服务市场 | ③金融市场    |

5. 为贯彻党的二十大关于深化机构改革的重要部署，2023 年 3 月，中共中央、国务院印发《党和国家机构改革方案》提出，统筹中央和地方，深化重点领域机构改革，推动党对社会主义现代化建设的领导在机构设置上更加科学、在职能配置上更加优化、在体制机制上更加完善、在运行管理上更加高效。党和国家机构改革旨在

- ①实现资源在各领域间的均衡配置
- ②推进国家治理体系和治理能力现代化
- ③加强党的长期执政能力和国家政权建设
- ④调整地方机构职能使之与中央层面完全对应

A. ①②                      B. ①④                      C. ②③                      D. ③④

6. 2023年11月,全国人大常委会法工委珲春立法联系点授牌仪式在吉林省珲春市举行。该基层立法联系点设立30个立法联络点、20个信息采集站、40个意见征询站和15个意见咨询单位,直接将基层群众的立法意见、民生需求、治理建议等及时有效传递到立法机关。可见,基层立法联系点是

- ①全过程人民民主在立法领域的实践平台
- ②直接解决群众急难愁盼民生问题的载体
- ③基层群众性自治组织创新自我管理的形式
- ④社情民意“原汁原味”上达立法机关的渠道

A. ①②                      B. ①④                      C. ②③                      D. ③④

7. 农业农村部按照党中央、国务院决策部署,联合公安部、市场监督管理总局等部门开展农业综合行政执法专项整治行动,2023年全国查办各类违法案件10.13万件,挽回经济损失3.28亿元,移送司法机关案件2389件。农业综合行政执法是为了

- ①整合行政执法力量,为农业生产保驾护航
- ②避免农业领域执法不公,提升执法机关公信力
- ③打击侵农害农违法行为,切实维护农民合法权益
- ④明确各部门权责分工,规范涉农领域执法自由裁量权

A. ①②                      B. ①③                      C. ②④                      D. ③④

8. “问题是事物矛盾的表现形式。”2023年9月,习近平在新时代推动东北全面振兴座谈会上指出,新时代全面振兴东北需要坚持问题导向,冷静分析制约东北发展的主要问题及其原因,科学把握形势,发挥比较优势,探索符合自身实际的高质量发展道路。坚持问题导向的哲学依据是

- ①矛盾贯穿于事物发展过程的始终,要以矛盾的普遍性为依据辨别事物
- ②主次矛盾在一定条件下相互转化,要同等对待事物发展中的主次矛盾
- ③事物发展不同阶段存在不同矛盾,要紧密切合实际具体分析事物矛盾
- ④主要矛盾对事物发展起决定作用,要着重解决事物发展中的主要矛盾

A. ①②                      B. ①④                      C. ②③                      D. ③④

9. 新疆产海鲜，真的够“新鲜”！地处中国西北内陆的新疆，怎么能养殖出海鲜？经多年探索，新疆利用当地盐碱地、盐碱水的特性调配出人工“海水”，建设海鲜养殖场，创新海鲜养殖技术，把新疆海鲜送上百姓餐桌。从哲学角度看，对新疆产海鲜的合理解释是
- ①人为事物比自在事物更能满足人的需要
  - ②尊重客观规律是实践取得成功的前提条件
  - ③通过实践能够把观念的存在变成现实的存在
  - ④充分发挥主观能动性能够超越客观条件的限制
- A. ①②                      B. ①④                      C. ②③                      D. ③④
10. 习近平文化思想深刻阐释了中华文明突出的和平性。这一特性倡导交通成和，反对隔绝闭塞；倡导共生并进，反对强人从己；倡导保合太和，反对丛林法则。下列表述能体现中华文明和平性的是
- ①海内存知己，天涯若比邻
  - ②谁言寸草心，报得三春晖
  - ③白日依山尽，黄河入海流
  - ④日月不同光，昼夜各有宜
- A. ①②                      B. ①④                      C. ②③                      D. ③④
11. 2023年9月9日，二十国集团（G20）成员在印度新德里举行的峰会上达成一致，邀请非洲联盟（非盟）成为正式成员。中国是第一个明确表态支持非盟加入G20的国家。这次G20扩容表明
- ①二十国集团成为新的全球经济治理平台
  - ②二十国集团的影响力和号召力日益增强
  - ③非盟得到非洲国家和国际社会一致认可
  - ④中国在国际事务中发挥积极建设性作用
- A. ①②                      B. ①③                      C. ②④                      D. ③④

12. 在“一带一路”倡议的十年实践中，中国以“共商共建共享”为原则，积极参与发展中国家基础设施建设，从雅万铁路到中老铁路，从汉班托塔港到莱基深水港……以中国技术、中国标准与沿线国家深入合作，铺就共同繁荣之路。由此可见，“一带一路”为发展中国家经济发展

①制定了新规则

②开拓了新空间

③创造了新机遇

④确立了新模式

A. ①②

B. ①④

C. ②③

D. ③④

13. 某日，奶奶送小明上幼儿园，在乘坐公交车途中，因为一辆车违章抢行，公交车司机紧急刹车，导致小明从座椅上摔出，撞伤头部，被送医治疗。就该事件涉及的民事法律关系，下列观点正确的是

①小明购车票才与公交公司成立合同关系

②小明免车票也与公交公司成立合同关系

③小明在该事件中身体权受到侵害

④小明在该事件中健康权受到侵害

A. ①③

B. ①④

C. ②③

D. ②④

14. 老爸气冲冲地从外面回来，说：“今天别提多倒霉了，我在后山上锻炼，被野猴子挠了；到了山下又被耍猴人的猴子挠了；走进动物园，还被动物园的猴子挠了。我都不知道找谁赔！”女儿、儿子说：“我们知道。”下列说法正确的是

①女儿：野猴子是无主的，被挠只能自认倒霉

②儿子：后山归景区管理，景区有过错就要赔

③儿子：被耍猴人的猴子挠了，耍猴人不能证明自己没有过错就要赔

④女儿：被动物园的猴子挠了，动物园不能证明自己没有过错就要赔

A. ①②


B. ①③

C. ②④

D. ③④

15. 漫画中小朋友所犯的逻辑错误是

- A. 偷换概念
- B. 定义过窄
- C. 轻率概括
- D. 自相矛盾



节选自邹勤的漫画（有改编）

16. “如果不改变贫困地区长期贫困的面貌，就不能体现我国社会主义制度的优越性。”

基于上述判断，可以必然推出的结论是

- ①只有体现我国社会主义制度的优越性，才能改变贫困地区长期贫困的面貌
- ②只有改变贫困地区长期贫困的面貌，才能体现我国社会主义制度的优越性
- ③如果改变了贫困地区长期贫困的面貌，就能体现我国社会主义制度的优越性
- ④如果要体现我国社会主义制度的优越性，就要改变贫困地区长期贫困的面貌

- A. ①③                      B. ①④                      C. ②③                      D. ②④

二、非选择题：本题共 5 小题，共 52 分。

17. 阅读材料，完成下列要求。（10 分）

实行依法治国基本方略，首先要全面贯彻实施宪法。2018 年，在我国宪法第五次修订中增加规定：“国家工作人员就职时应当依照法律规定公开进行宪法宣誓。”

2023 年 3 月 10 日，新当选的中华人民共和国国家主席、中华人民共和国中央军事委员会主席习近平进行宪法宣誓：“我宣誓：忠于中华人民共和国宪法，维护宪法权威，履行法定职责，忠于祖国、忠于人民，恪尽职守、廉洁奉公，接受人民监督，为建设富强民主文明和谐美丽的社会主义现代化强国努力奋斗！”同年 12 月 8 日，国务院任命的 52 个部门和单位的 73 名负责人依法进行宪法宣誓；12 月 29 日，十四届全国人大常委会在人民大会堂举行宪法宣誓仪式。

结合材料，运用《政治与法治》相关知识，说明国家工作人员进行宪法宣誓对建设法治中国的意义。

18. 阅读材料，完成下列要求。（10分）

当今世界经济复苏艰难，打造一个稳定、安全、畅通的全球产业链供应链体系，是推动世界经济复苏增长的重要途径，也是国际社会的共同责任。

中国勇于担当大国责任。2023年11月，中国以“链接世界 共创未来”为主题，以上中下游衔接、大中小企业融通、产学研用协同、中外企业互动为预期目标，在北京举办了首届中国国际供应链促进博览会（简称链博会）。来自55个国家和地区的515家中外企业和机构参加展会，其中境外参展商占比26%，签署合作协议、意向协议200多项，涉及金额1500多亿元人民币。未来5年，作为全球第二大消费市场的中国，货物贸易、服务贸易进出口额有望累计超过32万亿美元、5万亿美元，必将为世界供应链合作提供超大规模的市场机遇，大大提振跨国企业在华发展的信心。

结合材料，运用《经济与社会》《当代国际政治与经济》相关知识，分析中国举办链博会对世界经济复苏将起到的作用。

19. 阅读材料，完成下列要求。（14分）

2023年12月2日，中央广播电视总台正式发布了《2024年春节联欢晚会》的主题——“龙行龘龘（dǎ），欣欣家国”，龙年的文化气息扑面而来。

材料一 龙是中国古代神话中的祥瑞神物。人们从自然界现实存在的动物身上“取材”，经过人脑的“综合再造”，形成了“角似鹿、头似驼、眼似兔、项似蛇、腹似蜃、鳞似鱼、爪似鹰、掌似虎、耳似牛”的龙的外在形象。在中华五千年的历史长河中，龙逐渐演变为中华民族的精神象征和文化符号，代表着吉祥、力量、腾飞和智慧。

材料二 中国“龙文化”博大精深。从“龙井茶”“龙须面”等饮食文化到“九龙壁”“盘龙柱”等建筑艺术，再到“舞龙灯”“赛龙舟”等民俗文化……这些都是“龙文化”在人们日常生活中的具体形式，展现了中华儿女热爱生活、奋发昂扬的精神风貌。

（1）结合材料一，运用意识本质的知识，分析龙的形象是怎样形成的。（8分）

（2）结合上述材料，从饮食、建筑、民俗中任选一个角度，写一份演讲稿，宣传中国“龙文化”。（6分）

要求：题目自拟，主题鲜明，观点正确，逻辑清晰，表达准确，不得透露个人信息，字数150字左右。

20. 阅读材料，完成下列要求。（9分）

废弃电子产品的回收和处理有利于减少环境污染、节约资源、保护生态环境。某手机回收企业为牟取不当利益，在生产翻新手机过程中将其他企业旧手机的零部件维修后重新组装，充作全新原装正品手机进行销售，同时还存在泄露旧手机中留存的个人信息的行为。该企业上述行为，给其他企业、消费者和个人信息所有者造成了损害，须依法承担相应的法律责任。（注：正品手机是指商标权利人生产或委托生产的手机。）

结合材料，运用《法律与生活》相关知识，分析该企业应承担民事侵权责任的理由。

21. 阅读材料，完成下列要求。（9分）

为了维护北方生态安全和粮食生产安全，曾经拥有多年天然林商业采伐历史的“林都”伊春，自2013年起全面停止采伐。如何走下以伐木为生的“独木桥”，踏上生态优先、绿色发展的“致富路”？伊春林业部门转变思路，从自身实际出发，依托森林资源优势，制定林业发展的规划，跳出“以伐木为主”的单一发展模式，践行大食物观，多途径开发食物来源，构建多元化食物供给体系，重点打造了七大相关产业链（如图2）。经过10年的实践探索，伊春林业部门构建了特色森林食品药品产业集群，林区人的日子越过越好，实现了绿富共赢，书写了林区发展的新篇章。

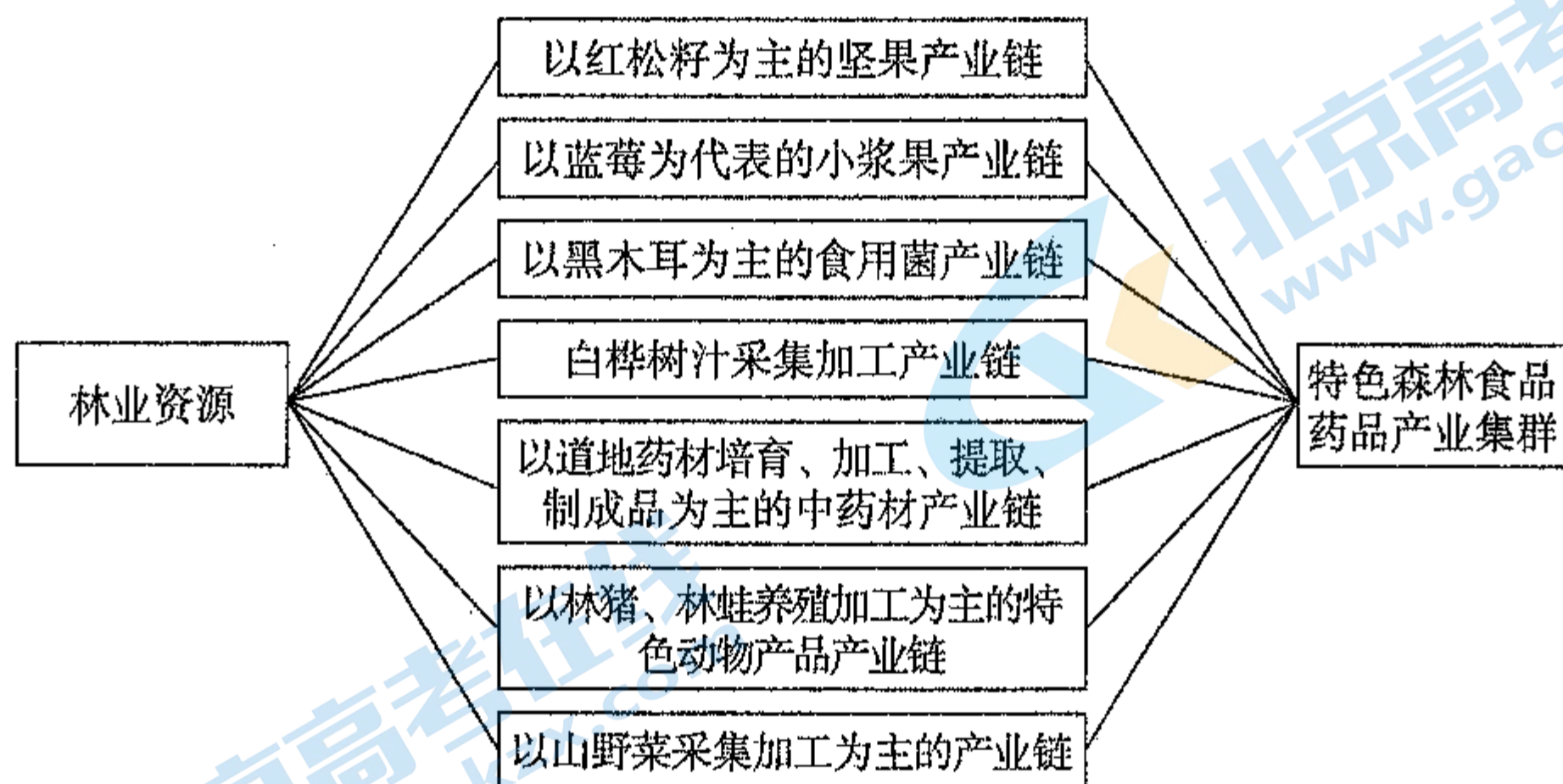


图2

结合材料，运用创新思维的知识，说明伊春林业部门是如何探索多样化特色化发展道路的。