

海淀区高三年级第二学期适应性练习

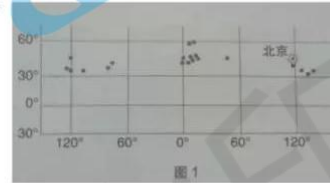
文科综合能力测试

第一部分（选择题共 140 分）

2019.3

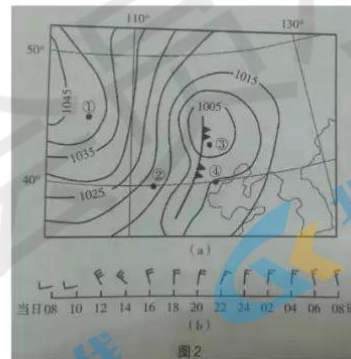
本部分共 35 小题，每小题 4 分，共 140 分。在每小题列出的四个选项中，选出最符合题目要求的一项。

2022 年 2 月 4~20 日，第 24 届冬季奥林匹克运动会将在北京市和张家口市联合举行。图 1 为历届冬奥会举办城市位置示意图。读图，回答第 1、2 题。



1. 历届冬奥会举办地多分布于
A. 东半球 B. 太平洋沿岸
C. 北美洲 D. 高纬度地区
2. 第 24 届冬奥会举办期间，北京
A. 日落时间越来越晚 B. 日出方向为东北方
C. 正午太阳高度减小 D. 昼夜长短差异增大

图 2 (a) 为某日 08 时海平面气压分布图（单位：百帕），图 2 (b) 显示④地 24 小时内风的变化。读图，回答第 3、4 题。



3. 图 2 (a) 中
A. ①比②风速大 B. ①比③云量少 C. ②比③气压低 D. ②比④气温高
4. 锋通过④地的时间可能为
A. 上午 B. 下午 C. 傍晚 D. 夜间

N 国是世界重要的番茄生产和出口国。依靠智能化、自动化的玻璃温室技术全年均可进行生产，其番茄的单位面积产量远高于世界平均水平，产品主要销往欧美发达国家。近年来我国新疆的蔬菜生产企业积极引进 N 国的温室生产技术，提升生产水平。图 3 示意 N 国的位置。读图，回答第 5-8 题

5. 如考虑运输成本，在下列国家中 N 国的产品首先应销往



A. 巴西 B. 日本 C. 澳大利亚 D. 德国

6. 玻璃温室内番茄植株之间的地面均覆盖着不透光的白色地膜, 主要是为了
①提高地面温度 ②增加土壤水分蒸发 ③提高光照利用率④减少杂草生长

A. ①② B. ②③ C. ③④D. ①④

7. N 国番茄在国际市场长期畅销, 主要依赖于

A. 生产成本低 B. 种植面积广 C. 产品品质高 D. 运输条件好

8. 与 N 国相比, 新疆的温室生产应

A. 安装室内照明, 增加冬季光照 B. 安装遮阳装置, 减少夏季暴晒
C. 简化灌溉设施, 增加灌溉水量 D. 改进通风条件, 降低冬季气温

2018 年 12 月 25 日杭黄高铁正式通车。它始于浙江省杭州市, 途经富春江、千岛湖, 最终到达安徽省黄山市, 全长 265 千米, 设计时速 250 千米/小时。因其串起了沿线名城、名江、名湖、名山等 10 多处国家森林公园和 5A 级风景保护区, 被誉为“最美高铁路线”。据此, 回答第 9-11 题。

9. 杭黄高铁的开通及运营将

A. 提升沿线旅游资源的规模和等级 B. 缩短沿线旅游景点之间的空间距离
C. 增大沿线旅游景区的环境承载力 D. 提高沿线旅游服务设施的利用效率

10. 清明假期乘坐杭黄高铁出游, 可欣赏到沿途

A. 茶园中茶农采茶正忙 B. 漫山红叶层林尽染
C. 田里春小麦正在播种 D. 松涛阵阵绵延不绝

11. 推测高铁开通后, 黄山旅游景区各类客源增长幅度最大的是

A. 春节假期, 东南亚的观光游客 B. 国庆长假, 黄山市内的休闲游客
C. 暑假期间, 东北地区观光游客 D. 平日周末, 长三角地区休闲游客

12. 从商周时起, 越人就有以原始瓷器随葬的传统。战国时期百越贵族墓中出土了大量仿青铜礼器的原始瓷器, 少有青铜礼器出土。这一现象说明

A. 宗法分封制在南方得到完整保存 B. 战争频仍促进了青铜冶炼业发展
C. 手工业官营不利于生产技术改进 D. 中原文化向周边地区的传播交融

13. 东汉班固在其著作《汉书》中记载了当时所见西汉时期各学术流派的著作, 以下是各派著作数量变化的简单统计:

学术流派	汉初著作数	汉武帝之后著作数
阴阳家	2种21篇	无
法家	1种31篇	无
纵横家	3种40篇	3种5篇
杂家	2种54篇	28篇

对上表信息解读正确的是

①汉初学术思想较为繁荣 ②社会动乱导致文化衰落
③朝廷禁止诸子思想传播 ④儒家思想逐渐成为主流

A. ①② B. ①③ C. ①④ D. ②③

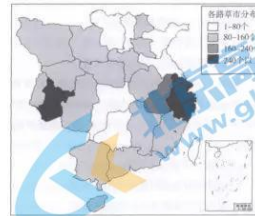
14. 唐代中叶, 中国古代社会的阶层结构出现转型, 新兴的“富民”阶层崛起, “富民”没有特殊的身份等级, 不能将农民变为自己的依附人口, 只能依靠财富的力量, 以契约形式剥削农民。这一转变说明

A. 世家大族的衰落
B. 门阀政治的加强

- C. 君主专制的弱化
D. 官僚制度的破坏

15. 图4是北宋中期草市分布示意图,由此图可以推断北宋

- A. 新兴经济中心草市分布密集
B. 各地商业发展水平相对平衡
C. 长途贩运贸易促进草市繁荣
D. 宋室南迁推动南方经济发展



16. 顾炎武批评王阳明心学是“清谈之流祸”,读书人“不综当代之务,举夫子论学、论政之大端一切不问”,“以明心见性之空言,代修己治人之实学”,终于导致明朝的灭亡。对上述顾炎武观点理解正确的是

- A. 心学导致人们道德沦丧 B. 心学使儒家丧失正统地位
C. 心学的流弊是空谈误国 D. 心学背离理学的思想原则

17. 清政府设置工商业管理机构及颁行经济法规概况

时间	设置机构/颁行法规
1897年	设立中国通商银行总行
1898年	设立农工商总局;颁布《振兴工艺给奖章程》《矿务铁路公共章程》等
1904年	设立商部;颁布《商人通例》《公司律》《重订铁路简明章程》《矿务暂行章程》等
1906年	商部改名为农工商部,设立邮传部;颁布《破产律》《商船公会章程》等

以上措施

- A. 确立政府对近代经济发展的主导地位 B. 迎来了民族工业的“短暂春天”
C. 建构了有利于工商业发展的制度保障 D. 建立了完整的近代经济法律体系

18. 图5为江西永新县四区北田村农民贺贡朵的入党誓词。他一直为红军运送物资,1931年1月25日秘密加入中国共产党。红军长征后,他将誓词藏在屋檐下,解放后交给了人民政府。这份誓词可以用来直接研究

- A. 农民推动国民革命的发展
B. 革命根据地的党组织建设
C. 抗日民族统一战线的建立
D. 解放区农民积极支援前线



19. 中国共产党驻共产国际代表团于1935年12月9日创刊《救国时报》,先后在法国巴黎和美国纽约出版发行,1939年10月正式停刊。以下内容可能登载在这报纸上的有

- A. 《论联合政府》 B. 《日寇攻守大肆残暴》
C. 《国内和平协定》 D. 《和平建国纲领》

20. 1990年,“中共中央、国务院决定,要加快上海浦东地区的开发,在浦东实行经济技术开发区和某些经济特区的政策”。这标志着

- A. 经济技术开发区的出现 B. 90年代国家经济重大战略步骤出台
C. 对外开放格局初步形成 D. 社会主义市场经济体系的基本建立

21. 有学者认为,柏拉图《理想国》中追求的理想城邦的政体与梭伦改革旨在实现公平和正义的理想城邦秩序类似,“诗人立法者”梭伦堪称柏拉图“哲人王”之鼻祖。下列改革措施能够佐证此观点的是

- A. 确立财产等级制度 B. 设立公民陪审法庭
C. 设立十个地域部落 D. 鼓励发展农工商业

22. 电影《流浪地球》讲述了太阳急速老化,人类在逃离太阳系,去往新家园过程中遭遇木星引力吸引,险些与木星相撞的故事。这一情节涉及到的近代自然科学原理是

- A. 哥白尼的“日心说” B. 法拉第电磁感应理论
C. 达尔文的生物进化论 D. 牛顿的经典力学体系

23. 新经济政策实施后，许多优秀的布尔什维克对此不理解，甚至为此痛哭。列宁指出，新经济政策是一种为了继续前进的“有限的退却”。列宁所指的“退却”是

- A. 实行余粮收集制缓解饥荒 B. 中小企业全部实行国有化
C. 恢复货币流通和商品交换 D. 大力推行农业集体化运动

24. 日前，香港邮政推出了以新中国成立70周年为主题的纪念邮票。这套邮票共四枚，以象征团结、吉祥、和谐的中国结作为设计亮点，构图精巧细致，寓意70年来我国在经济、社会、科技及环境各方面取得的卓越成就。这套邮票



- ①在设计中引入中国结元素，体现了传统与现代的贯通
②新颖的设计说明设计者的灵感是文化创新的源泉
③说明传统文化在世代相传中保留着其基本特征
④体现了团结、吉祥、和谐是时代精神的核心

A. ①② B. ①③ C. ②④ D. ③④

25. “崇教育人耕读传家远，立身敦品礼义济世长。”传承优秀家风，关系着个人成长、家庭和睦，更关系着社会进步、国家治理。聆听优秀家风故事，感受优秀家风文化，主要目的在于

- ①抵御外来文化的冲击，加快儒家传统文化复兴
②推动传统文化创新，为传统文化注入时代内涵
③发挥家风的积极作用，共同建设文明和谐家园
④引导群众向上向善，践行社会主义核心价值观

A. ①② B. ①③ C. ②④ D. ③④

26. 研学旅行可以拓宽学生视野，激发学习兴趣。教育部《关于推进中小学生研学旅行的意见》要求各中小学要结合当地实际，把研学旅行纳入学校教育教学计划，逐步建立适合各阶段学生的研学旅行活动课程体系。构建这一课程体系的哲学依据有

- ①兴趣对认识活动起决定作用，激发兴趣有助于发挥学生的能动性
②获取知识有多种途径，跳出书本有助于学生获取更多知识
③学习是直接现实性的活动，离开直观感受学生就无法获得正确认识
④实践是沟通主客观的桥梁，研学旅行有助于学生在亲身实践中验证知识、

A. ①② B. ①③ C. ②④ D. ③④

27. 南京大学推出的“宿舍匹配系统”基于对学生个人习惯的调查结果，将作息时间、卫生习惯、学习特点、社交偏好等方面相似度高的学生安排在同一间宿舍，获得学生广泛好评。这一人性化管理模式所依据的哲学道理有

- ①个性是矛盾斗争的根源，共性是推动事物发展的动力
②具体分析事物的个性是把握事物间共性的前提和基础
③挖掘共性是正确认识事物的基础，是正确解决矛盾的关键
④把握个性和共性的联结，有利于正确认识事物及事物间的联系

A. ①② B. ①③ C. ②④ D. ③④

28. 大数据技术给经济社会带来了巨大变化。面对大数据技术革命，哲学及时作出了回应和批判，国内外哲学界已展开了大数据的哲学问题研究，而大数据哲学体系也正在形成之中。下列说法不正确的是

- A. 大数据运用中产生的伦理问题需要哲学加以解答，表明价值判断是事实判断的基础

- B. 大数据的价值在于通过发现数据之间的具体联系,进而把握事物的本质和规律
- C. 大数据的应用提高了主体认识活动的针对性和实践活动的有效性
- D. 大数据的形成是认识过程中量的积累,发现数据中的“秘密”是认识水平质的提升

29. 新一轮公车改革中,杭州市政府运用互联网思维,充分利用网约车平台解决公务出行需求。市政府与滴滴公司签订了出行服务协议,滴滴为3个区县的公务人员提供公务出行服务。该公车改革模式

- ①充分运用市场机制,有利于提高公务出行效率
- ②加大了宏观调控力度,有利于带动相关产业发展
- ③创新公务出行方式,有利于降低公务出行成本
- ④增加了公共服务供给,有利于提高公务人员福利

A. ①② B. ①③ C. ②④ D. ③④

30. “店小二”原指茶馆、旅店负责接待顾客的伙计。“店小二”热情的态度、周到的服务,是店家带给顾客美好体验的重要因素。上海、浙江等地提倡政府在经济发展中,要当好“店小二”。发扬“店小二”精神

- ①是建设现代化经济体系的战略支撑
- ②意味着政府要明确自身定位,为企业提供服务
- ③有助于加强政府在资源配置中的决定性作用
- ④有助于厘清市场和政府的关系,形成改革合力

A. ①② B. ①③ C. ②④ D. ③④



2019年1月1日,欧元迎来了20岁生日。回答第31、32题。

31. 1999年元旦,欧元正式诞生。如今,欧元区扩展至19个欧盟成员国,覆盖3.4亿人口,在国际支付中所占份额约36%,占有央行外汇储备总额的20%,成为全球第二大流通货币和第二大储备货币。欧洲中央银行是世界上第一个管理超国家货币的银行,也是唯一有资格在欧盟内部发行欧元的机构。以下认识正确的有

- ①欧元的创立减少了欧元区内部贸易成本,有利于欧元区国家间的国际贸易
- ②统一货币和货币政策,有利于防范和降低欧元区内部的金融风险
- ③欧元区部分国家过度发行欧元,导致本国物价上涨,引发了欧洲债务危机
- ④在国际石油贸易中使用欧元结算,将大幅降低石油价格,促进欧洲经济发展

A. ①② B. ①③ C. ②④ D. ③④

32. 欧盟委员会主席容克表示,20年来,欧元已经成为欧盟团结、主权和稳定的象征。欧元的诞生,是欧盟历史上的重要节点。欧盟是当今世界

- A. 最大的多边贸易组织
- B. 最具代表性的世界性政府间国际组织
- C. 最大的区域性经济合作组织
- D. 一体化程度最高的区域性政府间国际组织

33. 2014年以来,各级审计部门共审计65万多个单位,促进增收和挽回损失2.5万亿元,推动健全完善制度2.38万项,移送违纪违法问题线索2.35万件。关于政府审计,下列说法正确的是

- A. 地位——民主监督的重要手段,是国家监察体系的组成部分
- B. 对象——各级各类国家机关、事业单位和各类企业
- C. 目的——提高财政资金使用效益,促进廉政建设
- D. 特点——独立作出审计结论,不受任何机关的监督和领导

34. 2018年是宁夏回族自治区成立60周年。2017年,全区生产总值分别是1978年和1958年的266倍和1053倍,人均生产总值分别是1978年和1958年的136倍和290倍;政治、

文化事业蓬勃发展。新时代、新征程，宁夏各族儿女同奋进、共逐梦，不断续写新的壮丽篇章。民族区域自治制度

- ①保证了民族自治地方充分享有自治权，调动了各族人民的积极性
- ②促进了少数民族地区经济发展、民族团结和共同繁荣
- ③彻底消除了历史上遗留下来的民族隔阂和差异
- ④有利于发展平等团结互助和谐的社会主义民族关系

A. ①②③ B. ①②④ C. ①③④ D. ②③④

35. 日益走近世界舞台中央，中国要为世界做些什么？要推动全球治理理念创新发展，积极发掘中华文化中积极的处世之道和治理理念同当今时代的共鸣点，继续丰富打造人类命运共同体等主张，弘扬共商共建共享的全球治理理念。对此认识正确的有

- ①共建人类命运共同体可以解决人类面临的问题，消除各国利益分歧
- ②共商共建共享原则是中华民族的精神基因，是中华民族精神的核心
- ③中国智慧和方案深深植根于中华优秀传统文化的沃土之中
- ④中国发挥负责任大国作用，积极参与全球治理体系改革和建设

A. ①② B. ①③ C. ②④ D. ③④

第二部分（非选择题共 160 分）

36. (36 分) “一带一路”联系起众多的国家。阅读图文资料，回答下列问题。

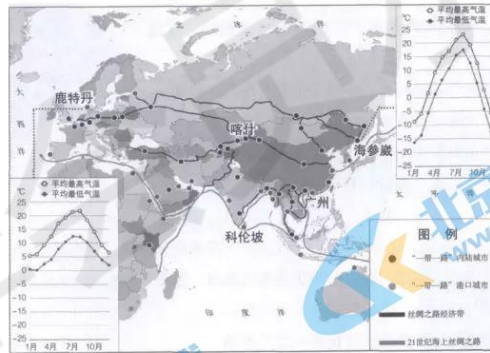


图 8

区域自然地理特征是区域发展的基础。

(1) 与海参崴相比，简述鹿特丹的气温特点、成因及其对港口航运条件的影响。(10 分)

斯里兰卡生产的高地红茶与中国的祁门红茶、印度大吉岭红茶并称为世界三大高香红茶。其产地多位于 1200 米以上的山区，独特的气候条件和酸性土壤造就了斯里兰卡红茶的优良品质。一个多世纪以来，红茶经由该国的科伦坡港销往世界各地，已成为斯里兰卡重要的文化名片。

(2) 简述斯里兰卡生产红茶的有利区位条件。(10 分)

当前我国对外贸易量持续增长。进出口货物中原油、铁矿石、煤炭等大宗货物占比很大，

其中百分之八十以上的货物进出口依靠海运实现。

(3) 简述我国货物进出口主要依靠海运实现的原因。(8分)

广州和喀什均是“一带一路”沿线重要的口岸城市。

(4) 在广州和喀什两座城市中任选其一，说明其区域发展的优势地理条件。(8分)

37. (36分) 建筑是历史的纪念碑与界标。

材料一 传统的西方建筑是以石头为主，而传统的中国建筑则一直以木头作为主要材料，被誉为“木头的史书”。中国人相信，自然与人乃息息相通的整体，将木材选为基本建材，正是重视了它与生命之亲和关系。从建筑的空间布局来看，中国建筑是封闭的群体的空间格局，在地面平面铺开，是一种“集体”的关，如北京明清宫殿、明十三陵、曲阜孔庙都是规模巨大的建筑群，各种建筑前后左右、有主有宾、合乎规律地排列着，体现了中国古代社会结构形态的内向性特征、宗法思想和礼教制度。除了改造自然，中国传统建筑还强调与自然的结合，把建筑组织到自然环境中去，提高整个环境的美学质量。

——摘编自孙大章《中国古代建筑小史》

(1) 依据材料一概括中国古代建筑的特点。(8分)

材料二 17、18世纪，欧洲的考古研究空前繁荣起来，大量古罗马与古希腊遗址被发现，对古希腊和古罗马艺术品的模仿成为一种文化时尚，古典主义思潮复兴。在法国，建筑形式和风格追求平民化和大众化，少了贵族的气势和派头。

19世纪出现了受过系统教育，有文化知识，眼界广的专业建筑师，他们同工程实践、经济问题逐渐脱节，主要负责建筑的形式和风格。同时，他们摆脱了对宫廷、贵族和教会的依附关系，开始自由地为掌握财富的资产阶级服务。

19世纪中后期，欧洲出现了“建筑热”，建筑类型大大增多，多种工业厂房、铁路建筑物、银行、百货商场、住宅、车站码头、大型旅馆等建筑被修建。这些建筑需要容纳大量的人群，与历史上著名的教堂和神庙相比，建筑的实用性、功能性愈加重要。同时，豪华的中心区同破败的贫民区之间的差别越来越大。在新科技的发展下，钢铁、玻璃等新材料被逐渐应用于建筑之中，为建筑的进一步发展提供了坚实的基础。

——摘编自邱枫《外国建筑史导读》

(2) 阅读材料二，结合所学，说明近代欧洲建筑的发展及其原因。(12分)

材料三 1901年，《辛丑条约》签订后，北京修建了英法德俄等10国的使馆和兵营，以及银行、洋行、医院、饭店等10多种外国建筑物。宫廷中也兴起了建筑洋风，安装了玻璃吊灯，摆放了法国式沙发，王公贵族群起效尤。新建的外务部、陆军部等官方建筑也体现了西化风格。北京的市井百业中各类店堂的建造以追求洋化为时髦。这些近代建筑得到了社会的支持与喜好，新闻报刊纷纷加以宣传报道。

但有人认为，近代洋式建筑破坏了中国原有的建筑风貌，伤害了国人的自尊与文化情感，强调建筑设计必须充分考虑本民族的社会习惯。20年代以后，中国传统建筑风格也重新为中外建筑师青睐，并结合当时的新技术、新工艺，逐渐发展成为一种具有时代意义的“传统复兴”建筑风格，中国民族形式的建筑不断出现并进入高潮，如燕京大学建筑、辅仁大学主楼等。

——摘编自王世仁《中国近代建筑总览》(北京篇)

(3) ①概述20世纪初北京建筑变化的新特点。(6分)

②概括材料三中对北京近代建筑的两种不同态度。你如何看待这两种态度？（10分）
要求：观点明确，史实充分，史论结合，逻辑清晰。

38. (36分) “自行车王国”的自行车记忆。

材料一上海凤凰是我国历史悠久的自行车品牌。上世纪70年代，凤凰牌自行车随处可见。

90年代初，我国出口的自行车有三分之一都是凤凰生产的。90年代以后，自行车生产进入饱和期，外来品牌挤压着国产自行车的生存空间；人们的出行方式越来越依赖汽车，这极大地冲击着自行车行业的发展。

在这一背景下，上海凤凰不断深化改革。1992年，上海凤凰自行车公司成立，一年后整体改制成为股份有限公司，在上海证券交易所上市。自2003年以来，凤凰不断完善技术创新体系，以自主开发为主，同时与科研院所合作研究开发新技术、新材料及新产品，获得专利18项。2006年，凤凰被认定为“中华老字号”和“最具市场竞争力品牌”。同时，凤凰不断开拓海外市场，业务遍及四十多个国家和地区，国际市场带来的效益，正成为凤凰展翅的另一翼。上海凤凰，已经涅槃重生。

(1)结合材料一，运用所学经济知识，说明上海凤凰为什么能够涅槃重生。（8分）

材料二随着社会的发展，自行车这一低碳环保的出行方式再次被人们喜爱。不过现实生活中，自行车无路可走、夹缝求生的严峻现实成为制约绿色出行的拦路虎，随处停放、占用公共资源的共享单车也对我们的城市治理提出了新的考验。

	现实情况	建议	理论依据
示例	每逢放学，各类机动车、非机动车把学校门口的车道堵得水泄不通，骑行者绕不开，过不去。	道路交通部门针对拥堵时段和路段加派人力进行疏导。	政府坚持为人民服务，积极履行社会建设职能。
①	部分建筑工地的围栏修建在自行车道上，让原本完好的自行车道变为“断头路”；个别商家占用自行车道进行销售活动，使自行车只好骑上机动车道。		
②	共享单车的押金到底有没有被挪用？消费者遇到押金难退问题该如何解决？相关政策因没有具体实施措施而沦为“空头支票”，法律界对押金性质等问题仍存在争议。		
③	回收价格过低，导致报废的共享单车面临无人回收的窘境。一方面，堆积如山的共享单车占用了公共空间；另一方面车身上有用的部件无法回收，造成了资源浪费。		

(2)运用《政治生活》相关知识，为解决上述问题各提一条建议并写出相应理论依据，要求三条建议有不同的理论依据。（12分）

材料三 自行车曾是国人最重要的代步工具，上下班时壮观的自行车洪流也给我们带来了“自行车王国”的称号。曾几何时，北京的自行车以平均每年50多万辆的速度增长。近年来，自行车的功能发生了变化，从交通工具到生活方式，从代步、载物到旅游、休闲、健身，自行车又一次成为大众生活时尚，自行车文化的内涵也在不断丰富。

骑行文化：骑行出游已不再只是少数自行车发烧友的选择，骑行活动数量迅猛增长，使更多人感受到骑行的魅力，带动了旅游等产业的发展。同时，越来越多的人将自行车视作日常锻炼的重要形式，竞技自行车、花式单车也成为许多年轻人的业余爱好。

创新文化：共享单车作为一种中国原创的互联网创新产品，被外国朋友称为“新四大发明”之一。共享单车模式在海内外被广泛借鉴和模仿，不少国家向中国共享单车企业发出邀请函，彰显着现代中国的创新活力。

联合国将每年6月3日定为“世界自行车日”，希望以此推动自行车文化在全球各地的发展。

(3)在“骑行文化”与“创新文化”中选择一个主题，运用《文化生活》相关知识，为2019年“世界自行车日”设计一个主题活动。(10分)

(4)有人说，今天的中国正在向曾经的“自行车王国”回归。运用一个最恰当的哲学道理评析上述观点。(6分)

39. (10分)



廖明，北京地铁13号线司机。地铁司机的工作看似平凡枯燥，却关系着众多乘客的安全。13号线的列车往返行驶一圈，他需要进行64次开门、关门作业，近100次的主手柄操纵，一天时间要往返三圈。30多年来，廖明凭借丰富的经验和认真细致的工作风格，避免了数不清的大小事故，创下了手动驾驶安全行车100万公里无事故的世界纪录。



吴杰，中国首批参与航天训练的航天员。他从军30多年，入选航天员队伍20余年，始终坚守航天使命，追逐飞天梦想。神舟五号、神舟六号……神舟十号，他一次次接受高难度训练与选拔，却又一次次与飞天梦失之交臂。坎坷并没有让他忘记职责使命，即便有落选后的下次期待，有再次落选后的忍不住哭泣，吴杰还是用自己的“备份”与坚守，见证、参与了中国航天事业的壮大。



王妮，一名普通的天津退休女工。生活并不宽裕的她，持续捐资助学近30年。去年3月，她被确诊为胰腺癌晚期，可她却做出了一个令常人难以理解的决定：放弃治疗，捐出自己唯一的房产用来继续助学。王妮孑然一身，她说自己最大的心愿就是帮助贫困学生改变命运。今年2月16日，她的生命永远定格在66岁，按照她的生前意愿，亲友们为她办理了遗体捐献手续。

阅读上述材料，围绕“人生”这一主题，自选角度，自拟题目，写一篇200-300字短文。要求：运用思想政治学科任一模块知识，知识运用准确、贴切；论述合乎逻辑，条理清晰。

40. (16分) 海洋和人类的生产生活息息相关。

时间	事实
1609年	荷兰东印度公司律师格劳秀斯在《论海洋自由》中，强调荷兰人有权利航行到东印度进行贸易，认为每个国家都可以在海上自由航行。此后，荷兰打着海洋自由的旗号，几乎垄断了北海的渔业，将捕捞范围扩展至英国海岸。
1612年	西班牙政府将《论海洋自由》列为禁书。
1613年	英国威尔伍德受命于国王，发表《海洋法概览》，反驳格劳秀斯，承认各国均享有海洋自由，但沿岸国对靠近本国海岸水域享有主权。

1625年	弗莱塔受西班牙政府委托，出版了《论西班牙政府对亚洲的正义统治权》，回应格劳秀斯的攻击，主张国家像对陆地一样取得海洋的所有权。
1635年	英国塞尔登出版了《闭海论》，强调英国君主有权领有围绕英国四周的海洋。

——摘编自白佳玉《论海洋自由理论的来源与挑战》

- (1) 依据材料概括 17 世纪各国关于海洋权利争论的主要观点。(8 分)
- (2) 读图 9 某年 2 月赤道太平洋海域海水月平均温度(单位: °C) 随经度和深度分布图, 描述图示海域水温的分布特点。(8 分)

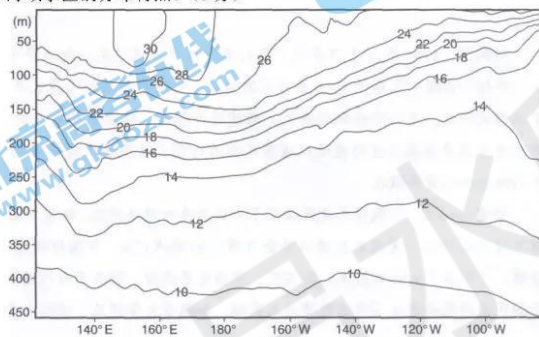


图 9

41. (26 分) 美好生活既需要物质上的丰富, 又需要精神上的满足。

材料全面彻底的土地改革, 不仅完全实现了耕者有其田, 而且通过没收地主的生产和生活资料分配给贫苦农民的办法, 改善了农村贫苦农民的生产和生活条件, 缩小了农村的贫富差距。与此同时, 国家还通过兴修水利、增加农贷、城乡交流和缩小工农产品剪刀差等办法促进农村经济迅速恢复, 增加农民收入。经过三年的经济恢复, 农民生活有了较明显的改善。全国按农村人口平均的人均乡村社会商品零售额, 1950 年为 21.7 元, 到 1952 年则提高到 30.7 元, 平均每年递增 18.9%。1952 年, 全国农村居民人均消费粮食 192 公斤、食用植物油 1.7 公斤、食糖 0.6 公斤、猪肉 5.5 公斤、棉布 4.6 米。

——武力主编《中华人民共和国经济简史》

- (1) 依据材料和所学知识, 说明贫苦农民生活状况的变化及其原因。(8 分)

修文县地处贵州省中部, 因其独特的气候条件被誉为: “世界上最适合猕猴桃种植的地区”。作为我国猕猴桃单一品种最大种植区, 猕猴桃种植面积达 15 万亩, 年产量 3.6 万吨。其特色品种——“贵长”猕猴桃以果肉细嫩、清爽甜口著称, 是贵州重点发展的十大精品水果之一, 获得了国家地理标志证明等称号。近年来, 该县大力引进说过价格、销售企业, 推进猕猴桃全产业链发展。图 10 示意修文县在贵州省的位置和范围。



(2) 说明修文县猕猴桃产业的发展经验对我国一些贫困县脱贫致富的启示。(6分)

(3) 为以猕猴桃种植为基础的修文县经济进一步发展提出建议。(6分)

一位80后设计师结合各地独特元素，为多个省份和城市设计出富有特色的“福”字，向传统文化致敬的同时，也运用现代设计理念留下了有中国温度的中国印记。



(4) 北京的“福”字该是什么样？提出你的设计方案，并结合思想政治学科知识简要说明设计意图。(6分)

海淀区高三年级第二学期适应性练习

文科综合能力测试历史参考答案

2019.03

第一部分 (选择题, 共 48 分)

题号	12	13	14	15	16	17	18	19	20
答案	D	C	A	A	C	C	B	B	B
题号	21	22	23						
答案	A	D	C						

第二部分 (非选择题, 共 52 分)

37. (36 分)

(1)中国古代的建筑以木材为主要建材, 体现对生命的关注; (2 分) 建筑的空间格局相对封闭, 注重建筑的群体性; (2 分) 体现出对家国宗族的关怀和重视礼教; (2 分) 建筑与环境和自然融为一体。(2 分)

(2)发展: 近代前中期, 借鉴古代希腊罗马的古典主义建筑风格兴起; 建筑体现了平民化和大众化特点。(3 分)

19 世纪(近代后期), ①出现专业建筑师; 建筑的风格超越了传统的统治阶级(宫廷、贵族、教会)的风格, 形成了近代资产阶级的风格; ②适应近代社会发展变化的各类公共建筑大量涌现, 功能性和实用性增强; ③建筑的贫富差距越来越大; ④大量新材料被运用于建筑。(5 分)

原因: 近代资本主义的发展和旧制度的没落; 文艺复兴的影响; 近代工业化进程(工业革命)的影响。(4 分)

(3)①新特点: 出现许多外国风格的建筑物; (2 分) 宫廷和官府建筑也受到一些西方风格的影响; (2 分) 市民建筑风格也追求洋化。(2 分)

②态度一: 对近代建筑持支持与喜爱的态度。(1 分)

态度二: 认为近代建筑伤害了国人自尊与文化情感。(1 分)

对态度的评价属于开放题, 采用思维等级水平给分:

水平四: 准确理解题意, 观点明确, 能够从多角度或多层次, 运用多个史实进行论述; 史论结合, 逻辑紧密; 没有史实错误; 语言表达准确。(7-8)

水平三: 准确理解题意, 观点明确, 能够从多角度或多层次, 运用多个史实进行论述; 史论结合较紧密, 逻辑较清晰; 语言表达较准确。(5-6)

水平二: 观点不够明确, 论述角度、层次单一, 史实不充分或不准确; 史论结合不紧密; 逻辑不清晰; 语言表达不准确。(3-4)

水平一: 没有观点, 没有逻辑, 只罗列史实, 语言表达不准确。(0-2)

40.(8 分)

(1)荷兰: 力主海洋自由论, 认为各个国家都有海上航行的自由。(2 分)

西班牙: 反对荷兰人海洋自由论, 主张各国应该占有海上主权。(2 分)

英国: 承认各国都有海洋自由的权利, (2 分) 同时也强调各国都有自己的领海主权。(2 分)

41. (8 分)

(1)变化: 生产和生活条件得到改善; (2 分) 贫富差距缩小。(2 分)

原因: 实行土地改革使农民拥有生产资料; (2 分) 国家经济政策的调整和农田水利建设使得农村经济恢复, 农民收入增加。(2 分)

地 理

第 I 卷 （选择题 共 44 分）

本卷共 22 小题，在每小题给出的四个选项中，只有一项是符合题目要求的。请将所选答案前的代表字母填写在答题纸上（每小题 4 分，多选、错选、漏选，该小题均不得分）。

题号	1	2	3	4	5	6	7	8	9	10
答案	A	A	B	A	D	C	C	B	D	A
题号	11									
答案	D									

第 II 卷 （综合题 共 56 分）

36. (36 分)

(1) (10 分)

特点：与海参崴相比，鹿特丹的年平均气温高；气温年较差小；冬季气温在 0℃ 以上。
(答出 2 点得 4 分)

成因：终年受温暖的西风影响；沿岸暖流流经，增温显著。(4 分)

影响：港口无结冰期，通航时间长。(2 分)

(2) (10 分)

地处低纬地区，全年气温高，热量充足，可供茶叶生长的季节长；受热带季风影响，降水多，空气湿度大，云雾多；山地丘陵地形，排水条件好；酸性红壤，适宜茶树生长；海运发达，交通条件便利；种植历史悠久，生产经验丰富；茶叶品质好，知名度高，市场广阔。

(答出 5 点得 10 分)

(3) (8 分)

中国海陆兼备，海岸线长，港口众多；原油、铁矿石、煤炭等货物运输时限要求不高；海运运量大；海运运价低。

(4) (8 分)

喀什：位于我国西北地区，与中亚各国联系密切；地处陆路交通要道，交通便利；农牧业生产历史悠久，农业基础好；区域中的重要城市，基础设施较完善；国家政策支持。

广州：位于我国东南沿海地区，与东亚、东南亚各国联系密切；有优良港口，海运交通便利；区域经济发展水平高，资金充足；区域中的重要城市，基础设施完善；国家政策支持。

(答出 4 点得 8 分)

40.

(2) (8 分)

水温随深度增加而降低；大部分区域水温在 10~30℃ 之间；表层水温西高东低；深层海水温度变化小。

41. 题

(2) (6 分)

因地制宜，发挥特色农产品优势；提高农产品品质；扩大生产规模；实行专业化生产；推进农产品的加工业，延长产业链，增加附加值。(答出 3 点得 6 分)

(3) (6 分)

加大科研投入，确保猕猴桃的品质优势；加大宣传力度，提升知名度，拓展销售市场；提升猕猴桃加工水平，积极开发新产品；拓展旅游文化市场，实现经营多元化。

(答出 3 点得 6 分)

海淀区高三年级第二学期适应性练习文科综合能力测试政治参考答案

2019.03

24-35, BDCCA BCADC BD

38. (36分)

(1) (8分) 上海凤凰改制上市, 扩大了融资渠道, 也有助于提高管理的科学性和效率; 完善技术创新体系, 依靠科技进步, 形成竞争优势; 着力打造品牌, 提升品牌价值; 开拓海外市场, 利用国际市场和国际资源。(其他答案言之有理, 可酌情给分)

(2) (12分) 作答示例:

①**建议:**商家遵守法律规定, 在经营过程中避免非法占用公共资源。

理论依据:公民应遵守宪法和法律, 坚持权利与义务统一的原则。

②**建议:**人大修改完善相关法律法规, 对相应问题做出明确规定。

理论依据:人民代表大会是我国的国家权力机关, 依法行使立法权。

③**建议:**政府督促共享单车企业履行社会责任, 加强对车辆的管理。

理论依据:政府积极履行社会主义经济建设职能, 加强市场监管。

(3) (10分) 评分标准:

主题任选;

宣传标语, 要求紧扣主题, 语言简练; (2分)

活动形式, 要求紧扣主题, 具有可操作性; (2分)

活动意义, 可从文化的社会作用、文化对人的影响、文化创新等角度作答, 能够紧扣主题, 言之有理即可。(6分)

(4) (6分) 评分标准:

等级	等级描述
水平 4 (6分)	能够运用辩证思维分析问题; 知识运用准确、贴切; 逻辑严密, 条理清晰
水平 3 (4-5分)	能够表现出一定的辩证思维; 知识运用比较准确、贴切; 逻辑性较强, 有条理
水平 2 (2-3分)	能够从某一角度展开论述; 论述不能集中指向问题, 罗列知识; 知识运用不正确; 论述缺乏逻辑, 条理性差
水平 1 (0-1分)	应答与试题无关; 或重复试题内容; 或没有应答

39. (10分)

知识角度: 根据论述角度不同, 所用学科知识可以来自《文化生活》《生活与哲学》等模块。

评分标准:

等级	等级描述
水平 4 (9-10 分)	观点鲜明,能明确表达自己的见解;紧扣问题,全面展开论述,或就某点深入分析;知识运用准确、贴切;逻辑严密,条理清晰
水平 3 (6-8 分)	观点比较明确,能表达自己的见解;能扣住问题展开论述,或能就某点分析;知识运用比较准确、贴切;逻辑性较强,有条理
水平 2 (3-5 分)	观点不明确;论述不能集中指向问题,罗列知识;知识运用不正确;论述缺乏逻辑,条理性差
水平 1 (0-2 分)	应答与试题无关;或重复试题内容;或没有应答

41.

(4) (6分) 评分标准:

设计方案与北京实际相符; (3分)

能结合思想政治学科知识说明设计意图。(3分)