

宜宾市普通高中 2019 级第二次诊断性测试

文科综合能力测试

注意事项:

1. 答卷前, 考生务必将自己的班级、姓名、考号填写在答题卡上。
2. 回答选择题时, 选出每小题答案后, 用铅笔把答题卡上对应题目的答案标号涂黑, 如需改动, 用橡皮擦干净后, 再选涂其它答案标号。回答非选择题时, 将答案写在答题卡上, 写在本试卷上无效。
3. 考试结束后, 将本试卷和答题卡一并交回。

一、选择题: 本题共 35 小题, 每小题 4 分, 共 140 分。在每小题给出的四个选项中, 只有一项是符合题目要求的。

杭州萧山国际机场位于杭州市西南, 距市中心 27 公里, 是中国十二大干线机场之一。为保证飞机起降安全, 机场附近规划了一定的空间区域限制地物高度。2022 年 1 月, 杭州萧山机场铁路枢纽及接线工程(将杭绍台城际铁路、杭黄铁路、沪乍杭铁路等高铁线路引入萧山国际机场站)正式开工。据此完成 1-3 题。

1. 受萧山国际机场的影响, 杭州市主城区用地发展受限的方向是
A. 东南 B. 西南 C. 东北 D. 西北
2. 建设铁路枢纽及接线工程有利于萧山国际机场
①提高旅客集散效率 ②提高大宗物资运量
③实现高峰期旅客分流 ④完善交通枢纽功能
A. ①② B. ②③ C. ③④ D. ①④
3. 威胁萧山国际机场运营安全的主要自然灾害是
A. 台风 B. 寒潮 C. 地震 D. 沙尘暴

乌克兰大部分地区位于东欧平原, 商品谷物农业和养蜂业发达, 年产蜂蜜 7 万吨, 仅次于中国、阿根廷和美国。乌克兰拥有洋槐树、椴树、向日葵、油菜、荞麦等多种大蜜源植物, 盛产多种花类的蜂蜜。图 1 为乌克兰位置示意图。据此完成 4-6 题。

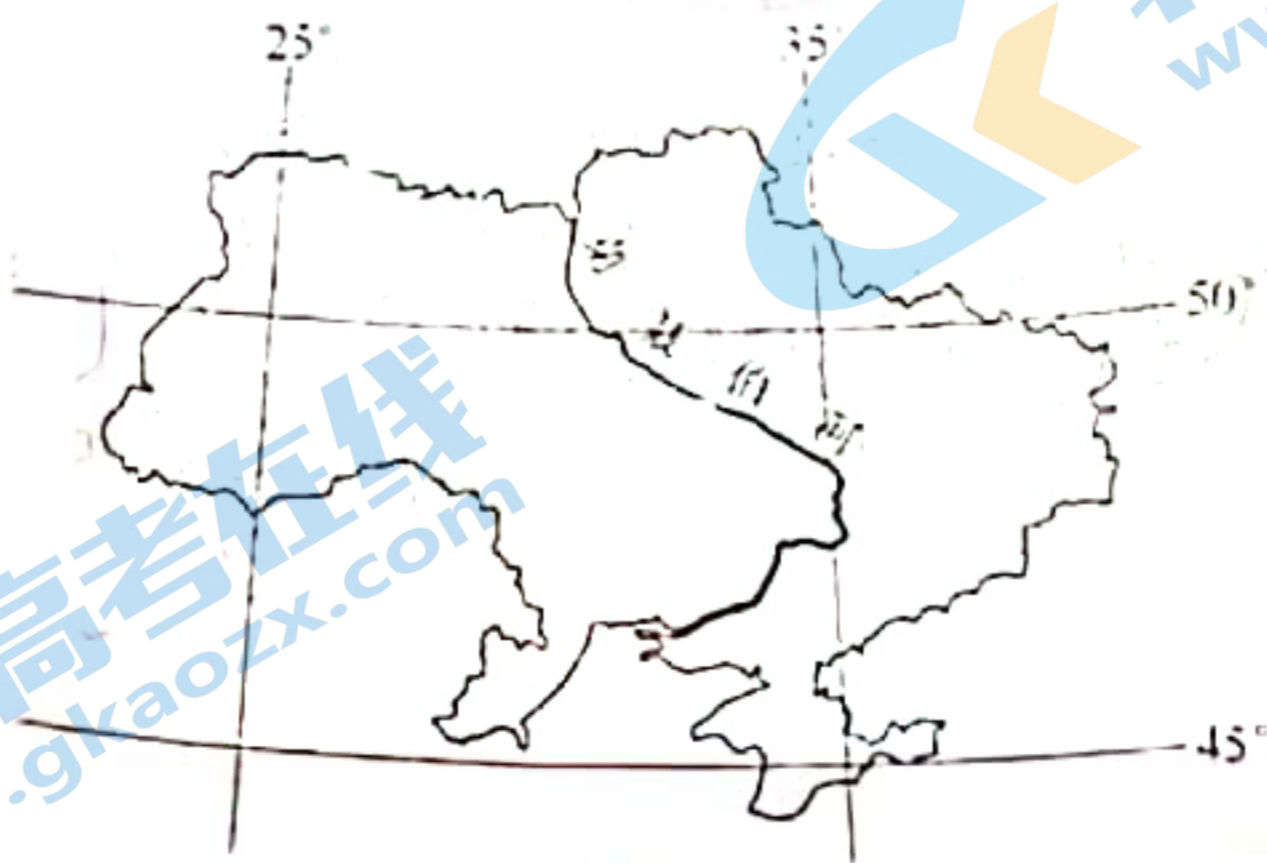


图 1

4. 乌克兰发展养蜂业的有利自然条件是
A. 水资源丰富 B. 土地资源充足
C. 气候类型复杂多样 D. 自然带垂直差异显著

5. 乌克兰蜂蜜类型多样, 得益于大蜜源植物

A. 同时开花, 集中分布

C. 错时开花, 集中分布

B. 同时开花, 分散分布

D. 错时开花, 分散分布

6. 与阿根廷潘帕斯地区相比, 乌克兰养蜂场更需配套

A. 越冬室

B. 加工厂

C. 运蜂车辆

D. 研发中心

土壤湿度是指土壤含水量与土壤饱和水量的百分比, 不同深度的土壤湿度受降水、地下水、气温、光照等因素的影响程度不同。研究表明, 吉林省吉林市不同深度的土壤湿度均有季节变化特征。图2为1997年—2016年吉林市浅层(0cm—30cm深度)土壤湿度月平均变化示意图。据此完成7-9题。

土壤湿度 (%)

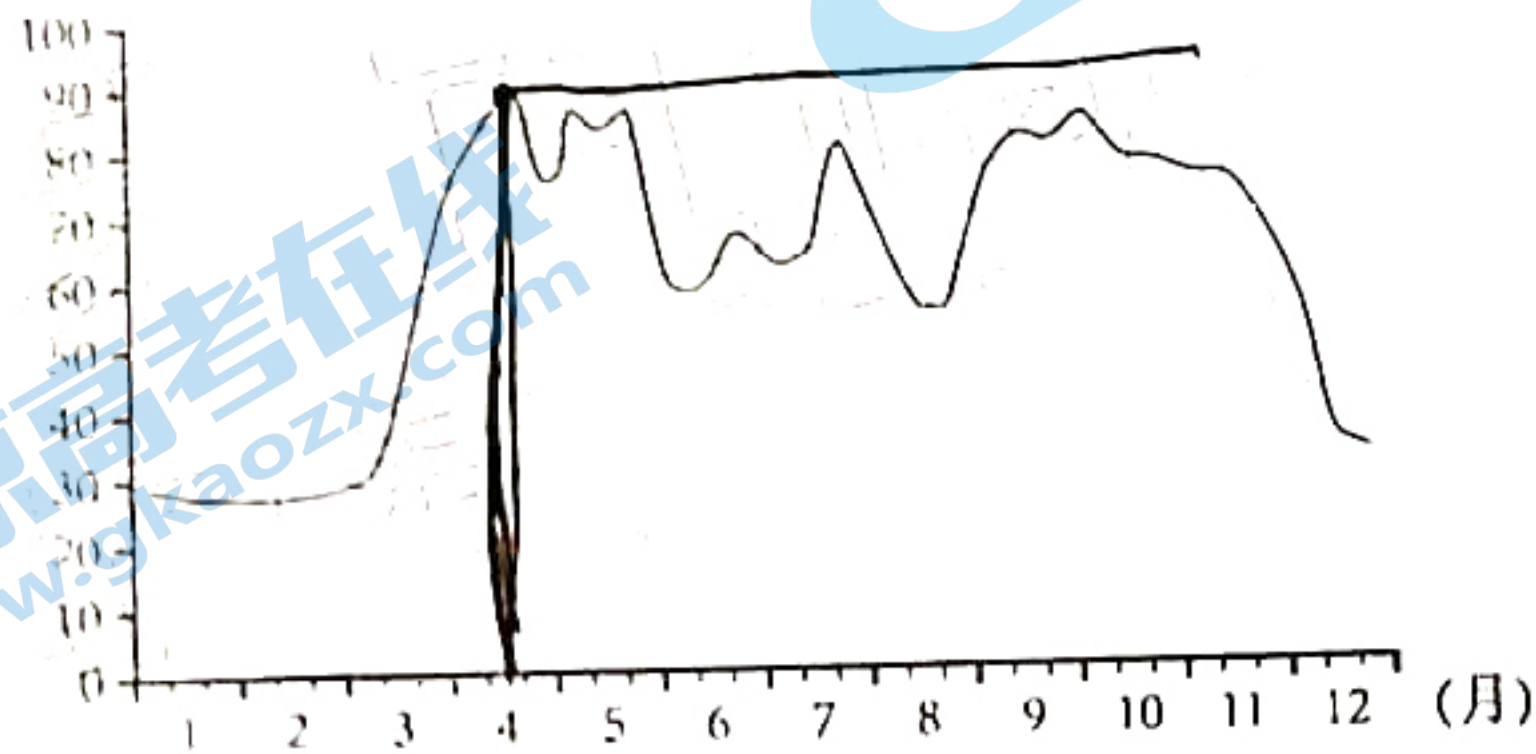


图2

7. 据图2判断吉林市融雪量最大的时段是

A. 2月

B. 3月

C. 4月

D. 5月

8. 导致吉林市土壤湿度夏季小于秋季的主要因素有

A. 降水 and 气温

B. 降水和光照

C. 气温和风速

D. 气温和光照

9. 与浅层土壤相比, 推测吉林市深层(50cm—80cm深度)土壤

A. 湿度较大, 季节变化较小

B. 湿度较大, 季节变化较大

C. 湿度较小, 季节变化较小

D. 湿度较小, 季节变化较大

受构造活动, 溯源侵蚀以及冰川、滑坡、崩塌、泥石流堵河事件等因素的影响, 河流的部分河段会在原河床的基础上形成新的河床, 新形成的较陡峻河床和早期形成的平缓河床之间的交点即称为裂点。图3为裂点及其上下游附近新老河床纵坡面示意图。据此完成10-11题

高程 (米)

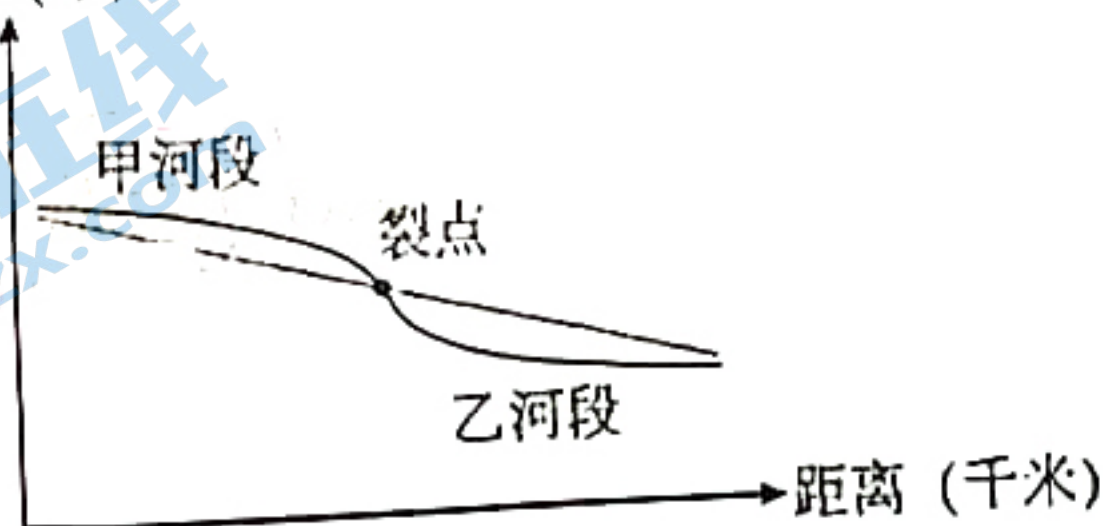


图3

10. 裂点处常发育的地貌最可能是

A. 河漫滩

B. U形谷

C. 冲积扇

D. 瀑布险滩

11. 裂点形成后若干年内

A. 甲河段下蚀作用加剧

B. 甲河段侧蚀作用加剧

C. 乙河段下蚀作用加剧

D. 乙河段侧蚀作用加剧

关注北京高考在线官方微信: 北京高考资讯(微信号:bjgkzx), 获取更多高考资料及排名分析信息。

12. 2021年中央一号文件指出，要全力抓好粮食生产，坚持中国人的饭碗任何时候都要牢牢端在自己手中。支持家庭农场、农民合作社、农业产业化龙头企业多种粮、种好粮。聚焦关键薄弱环节和小农户，加快发展农业社会化服务，开展订单农业、加工物流、产品营销等，提高种粮综合效益。这体现出全力抓好粮食生产的要求是

- ①创新农业发展模式，优化农村产业结构
- ②强化市场意识，培育新型农业经营主体
- ③加强耕地保护，落实粮食安全主体责任
- ④加大土地所有权流转，发展适度规模经营

A. ①② B. ①③ C. ②④ D. ③④

13. 共同富裕是社会主义的本质要求，是中国式现代化的重要特征。要坚持以人民为中心的发展思想，在高质量发展中促进共同富裕。在高质量发展中促进共同富裕，下列传导正确的是

- ①发展慈善等社会公益事业→调节过高收入→推动共建共富
- ②降低个人所得税起征点→增加中低收入者收入→推动渐进共富
- ③改善薄弱地区办学条件→促进义务教育优质均衡发展→推动全面共富
- ④加大对乡村的专项财政投入→推进基本公共服务均等化→推动全民共富

A. ①② B. ①④ C. ②③ D. ③④

14. 2021年11月15日，北京证券交易所揭牌暨开市仪式在北京举行。这是全国性的非上市股份有限公司股权交易平台，定位打造服务于技术创新型中小企业的主阵地，与沪、深交易所共同形成区域性股权市场错位发展和互联互通的格局。北京证券交易所的设立

- ①是我国完善多层次资本市场体系的重要内容
- ②有利于促进科技与资本融合，激发创新活力
- ③开创了新的融资平台，拓宽了间接融资渠道
- ④增加了社会投资选择，拓展了企业利润空间

A. ①② B. ①③ C. ②④ D. ③④

15. 读 2016-2021 年我国能源消费比重对比表，从表中信息可以看出

表 1

项目	2016年	2017年	2018年	2019年	2020年	2021年
煤炭消费量占总量比重(%)	62	60.4	59	57.7	56.5	56
清洁能源消费量占总量比重(%)	19.5	20.8	22.1	23.4	24.4	25.5

- A. 我国生态环境明显好转
- B. 传统能源消费量逐年下降
- C. 碳中和的目标逐步实现
- D. 可持续发展能力逐渐增强

16. “每一个小群体都不该被放弃。”“你们确认尽最大努力了？”2021年12月，国家医保局谈判的代表用最温柔的声音表达最真诚的态度和最坚定的立场，把用于治疗罕见病脊髓性肌萎缩症的进口药诺西那生钠注射液，企业报价每支5万多元（上市之初市场价70万元），经过8轮“灵魂砍价”，最终以3.3万元价格纳入医保。材料中的“灵魂砍价”

- ①是国家公职人员为民尽责的生动诠释
- ②是加大监管力度，打击药价虚高的表现
- ③表明我国人民民主具有物质和制度保障
- ④体现了“人民至上、生命至上”的高度与温度

A. ①③ B. ①④ C. ②③ D. ②④

7. 2021年7月15日正式施行的新《中华人民共和国行政处罚法》第24条规定：省、自治区、直辖市可以根据当地实际情况，将基层管理迫切需要的县级人民政府部门的行政处罚权，交由能够有效惩戒的乡镇人民政府、街道办事处行使，并定期组织评估。为保障承接行政处罚权的乡镇人民政府、街道办事处有效实施行政处罚，相关政府部门应当

- ①建立健全行政处罚的协调配合机制
- ②实现由管理角色向服务角色的转变
- ③完善对基层自治组织的评议和考核制度
- ④督促其按照规定范围、依照法定程序实施

A. ①③ B. ①④ C. ②③ D. ②④

18. 新中国成立70多年来，我国发展创造了世所罕见的奇迹，不仅令国人振奋，也让世界瞩目。坚持走适合自己国情的发展道路，正是我们取得辉煌成就的一个重要原因。中国特色社会主义道路之所以管用，是因为它

- ①立足于发展实际，坚守了马克思主义的思想原则
- ②经过了实践验证，是实现国家现代化的必由之路
- ③蕴含着科学精神，遵循了人类社会发展一般规律
- ④跨越时空局限性，具有了现代化路径的世界意义

A. ①③ B. ①④ C. ②③ D. ②④

2022年北京冬奥会于2月4日~2月20日隆重举行。据此回答19~20题

19. 冰墩墩是北京2022年冬季奥运会吉祥物。吉祥物冰墩墩名字中的“冰”，象征纯洁、坚强，是冬奥会的特点。墩墩，意喻敦厚、健康、活泼、可爱，契合熊猫这一中国国宝的整体形象，象征着冬奥会运动员强壮的身体、坚韧的意志和鼓舞人心的奥林匹克精神。吉祥物冰墩墩的设计

- ①表明精神产品凝结在一定的物质载体中
- ②说明传统艺术对彰显文化价值有借鉴作用
- ③启示文化创新要广泛引进和吸收奥林匹克精神
- ④体现了文化的民族性与文化的世界性是统一的

A. ①② B. ①④ C. ②③ D. ③④

20. 在北京冬奥会场馆设计中，主办方秉承“绿色办奥”的理念，采用世界上最先进、最环保、最节能的制冷技术，充分利用可再生资源；在场馆建设过程中，采用多种措施，实现了与自然环境原貌的和谐相融。冬奥会场馆设计和建设过程体现了

- ①符合实际的科学理念是场馆建设成功的基础
- ②根据固有联系建立新的联系达到预期目标
- ③意识具有自觉选择性、主动创造性和直接现实性
- ④尊重客观规律与发挥主观能动性是统一的

A. ①② B. ①③ C. ②④ D. ③④

21. 扫尘、贴春联、放鞭炮、守岁……传统年俗逐渐淡化出人们视野，“云团聚”“短视频拜年”等成为新时尚。物质条件的改善、生活方式的加快、各地疫情防控和禁燃烟花爆竹等因素的共同作用，是导致这一变化的重要原因。由此可见

- ①继承传统习俗是延续文化命脉的根基
- ②一定的文化由一定的经济等因素决定

关注北京高考在线官方微信：北京高考资讯(微信号:bjgkzx)，获取更多试题资料及排名分析信息。

- ③文化传承要处理好继承与发展的关系
④移风易俗需要弘扬新时代文化主旋律

A. ①②

B. ①④

C. ②③

D. ③④

22. 中科院天津工业生物所在淀粉人工合成方面取得重大突破性进展, 相关成果于9月24日发表于国际学术期刊《科学》。国内外领域专家认为该工作成果是“典型的0到1原创性突破”, 将在下一代生物制造和农业生产中带来变革性影响。这表明

- ①实践是认识发展的动力
③创新推动生产力的变革

- ②正确认识推动实践发展
④真理在发展中不断推翻自身

A. ①②

B. ①④

C. ②③

D. ③④

23. 中国考古学者认为, 成都在城市的黄金地段建设考古遗址公园——金沙遗址博物馆, 把考古与旅游开发很好地结合起来, 解决了考古发掘与城市开发的矛盾, 促进了考古的保护利用, 是一个非常好的举措。这一举措

- ①坚持辩证否定, 为文物的开发利用提供了共性方案
②遵循客观规律, 把开发利用作为保护文化遗址的必由之路
③坚持对立统一, 推动了考古事业在保护和利用中发展
④立足当地实际, 探索了文化遗产保护开发的有效途径

A. ①②

B. ①③

C. ②④

D. ③④

24. 表2是考古发掘的中国早期玉器生产的三个中心, 可用于佐证早期中华文明

表2

中心	距今时间	分布地点	玉器特征
红山文化遗址	约5000年左右	辽河流域	有关自然崇拜和神权的礼器
良渚文化遗址	约5000年左右	长江中下游	象征神权和王权的礼器
二里头文化遗址	约4000年左右	黄河中下游	代表王权的礼器

- A. 以玉器开发使用为主要特征
C. 具有高度的同源同向性特征

- B. 具有多源特征和统一性的基础
D. 神权与王权从紧密结合到对立

25. 《后汉书》记述, 刘秀“王莽天风中, 乃之长安, 受《尚书》”, 后“数引公卿郎将, 讲论经理, 夜分乃寐”; 汉明帝“学道九载”“通明经义, 观览古今”。这类记述可以说明

- A. 儒家思想正统地位开始确立
C. 西汉历代帝王对儒学的重视

- B. 统治者利用政权干预思想演变
D. 儒家思想适应当时的政治需求

26. 北魏孝文帝迁都洛阳, 建“四夷馆”接待各国归附之人; 西魏宇文泰定都长安, 建“六官”, 仿儒家经籍书写公牍; 北齐官修前朝历史《魏书》。这反映了北朝

- A. 华夏民族文化认同的增强
C. 民族交融消除了文化隔阂

- B. 充分利用中原古都的地理优势
D. 少数民族政权完成封建化进程

27. 明中期, 江南地主谭晓购买了大片沼泽地, 雇佣贫苦乡民改造为良田。余地凿池养鱼、筑舍养猪、种植果蔬, 并将这些副产品运往市场, 销售所得“视田之入复三倍”, 类似现象不断增多。这反映了当时

- A. 资本主义萌芽产生
C. 农耕经济继续发展

- B. 小农户个体经济破产
D. 副业生产居主导地位

28. 图4是1885~1890年中国主要通商口岸及周边城市贸易往来示意图, 图示信息表明

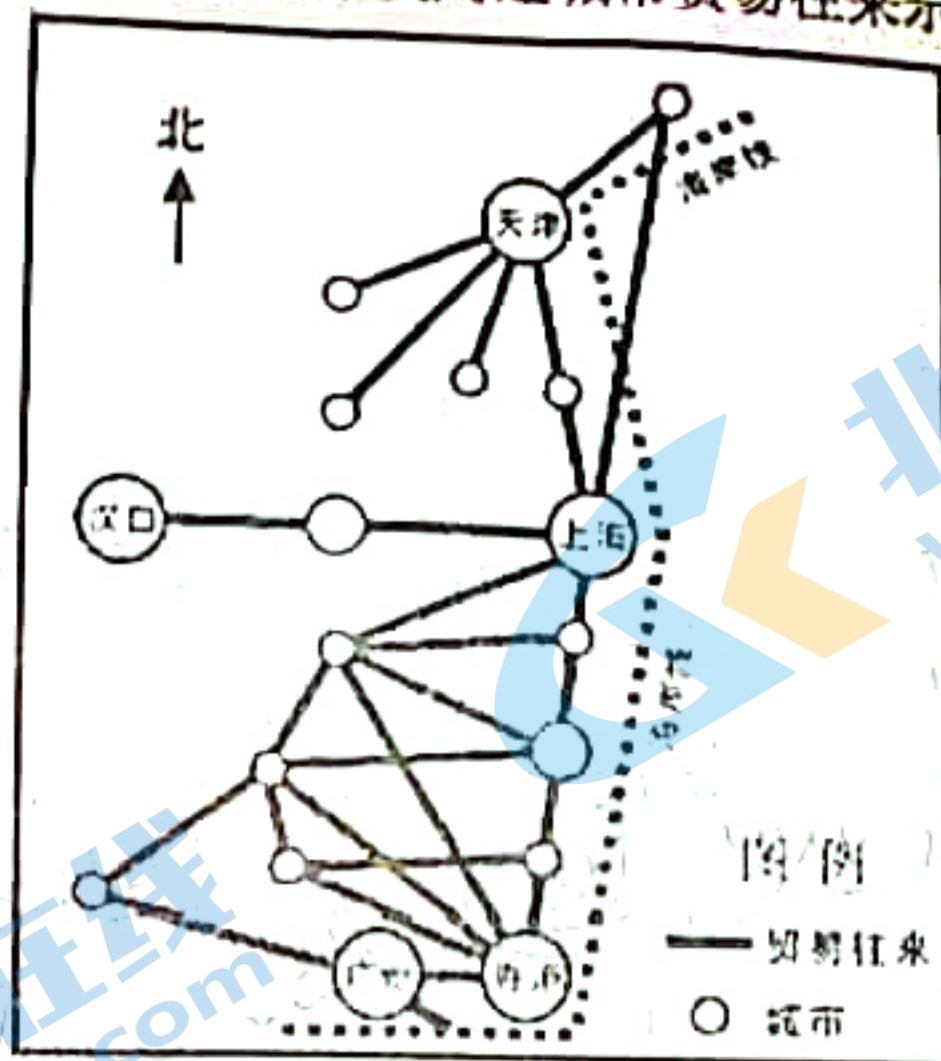


图4

- A. 香港成为最早的贸易中心
- B. 区域经济不均衡性加剧
- C. 传统的贸易格局开始转变
- D. 列强扩大对华资本输出

29. 中共二大提出在当时历史条件下的民主革命纲领, 即: 消除内乱, 打倒军阀, 建设国内和平; 推翻国际帝国主义的压迫, 达到中华民族完全独立; 统一中国为真正的民主共和国。这一纲领

- A. 成为新三民主义思想的理论指南
- B. 标志着中国共产党从幼稚走向成熟
- C. 指明了中国人民革命斗争的方向
- D. 凸显了党的工作重心转移的必要性

30. 1946年冬, 东北爆发鼠疫, 党领导当地各级政府实施科学的防疫措施, 有效地遏制了疫情, 改善了卫生状况, 使东北区得以继续为战争提供大量人力、物力支援。这说明中国共产党

- A. 具有组织人民应对公共危机的能力
- B. 为即将开始的大规模经济建设做准备
- C. 强化了解放区卫生防疫的监督管理
- D. 将救灾与争取民族战争的胜利相结合

31. 表3是1978~2018年社会流行语的演变概况, 这一演变历程反映了

表3

时间	媒介	社会流行语
1978—1993	官方媒体占据主导地位	万元户、一国两制、女排精神、包产到户
1994—1998	媒体市场化发展	炒股、抗洪精神、下岗再就业、一国两制
1999—2018	QQ、微信、抖音等自媒体涌现	网红、反腐、电商、工匠精神、女排精神

- A. 社会主义市场经济体制的建立
- B. 改革开放进程中的坚守与创新
- C. 大众传媒主导社会经济的发展
- D. 城市经济体制改革的全面展开

32. 雅典法律规定: 凡父母双方均是雅典公民者才能获公民权, 公民年满十八岁在他们村社的名簿登记。当他们登记时, 村社成员对他们宣誓投票, 做出决定。投票通过后, 公民要参与村社巡逻两年, 合格者才可以参与村社重大决策。这表明雅典的基层治理

- A. 采取村社民主自治
- B. 程序繁琐且欠缺变通
- C. 对治理者管理苛刻
- D. 动摇了公民大会权威

33. 19世纪三四十年代, 先后出现法国里昂丝织工人两次起义、英国宪章运动及德意志西里西亚纺织工人起义, 提出了独立的经济要求和工人参政的政治纲领。这

- A. 表明工人运动开始走向国际同盟化
- B. 宣告了无产阶级专政尝试的初步实现
- C. 为科学社会主义的诞生创造了条件
- D. 体现了马克思主义对阶级斗争的指导

关注北京高考在线官方微信: 北京高考资讯(微信号:bjgkzx), 获取更多试题资料及排名分析信息。

34. 图 5 呈现了 1923~1927 年苏联工业发展增长速度的变化。促成这一变化的客观原因是苏联

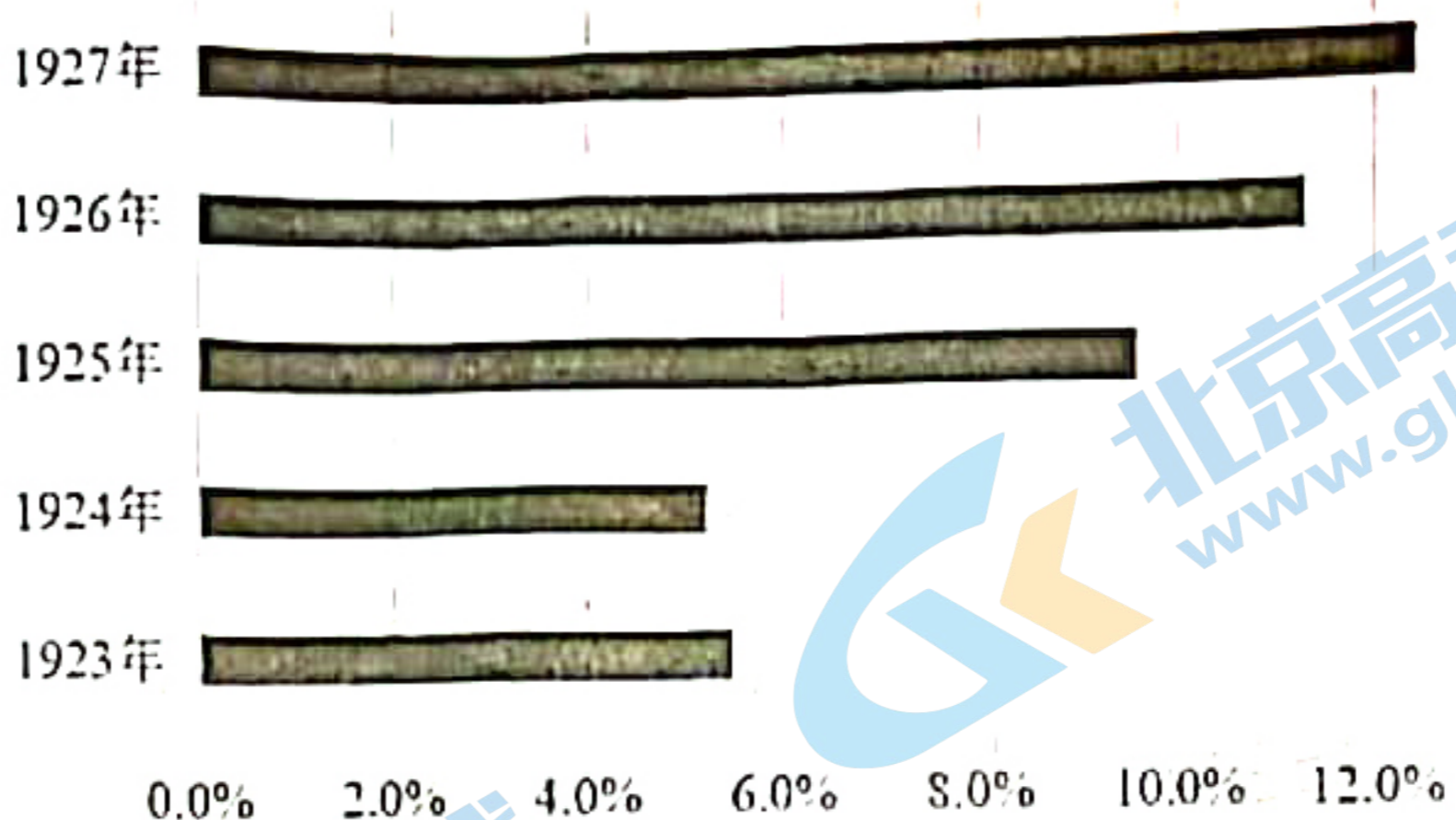


图 5

- A. 形成了比较齐全的工业体系
 B. 依托第一个五年计划优先发展重工业
 C. 在实践中完善了新经济政策
 D. 受资本主义世界经济迅速发展的影响
35. 1982 年，美苏开始进行削减进攻性战略武器的谈判，但因美国在西欧部署中程导弹而中止；1985 年，双方重开谈判，并于 1991 年 7 月签订了《削减进攻性战略武器条约》。这表明
- A. 美苏基本达成其战略目的
 B. 苏联经济压力得以消除
 C. 美国蓄意破坏谈判的进程
 D. 战后紧张局势得以稳定

二、非选择题：共 160 分。第 36~42 题为必考题，每个试题考生都必须作答。第 43~46 题为选考题，考生根据要求作答。

(一) 必考题：共 135 分。

36. (22 分) 阅读图文材料，完成下列要求。

文化创意产业作为创意、文化以及知识的复合体，已成为“后工业化”时代的新型产业，它可以衍生出相关产业链，为其他行业提供创意服务，在区域产业结构优化、经济发展等方面起到重要作用。北京市是我国重要的文化创意产业发源地和集聚地之一，在北京市朝阳区的废弃老仓库、老厂房形成了以文化艺术设计为主的文化创意产业集聚地(图 6)



● 文化创意产业集聚地

—— 朝阳区边界

- (1) 分析北京市发展文化创意产业的区位优势。(8分)
- (2) 指出发展文化创意产业对优化北京市产业结构的积极作用。(6分)
- (3) 说明废弃老仓库、老厂房成为北京市文化创意产业集聚地的原因。(8分)

37. (24分) 阅读图文材料, 完成下列要求。

微水体是指表面积小于 100000 m^2 的湖泊类水体。受全球气候变化影响, 滇西北高山地区随着冰川消融, 出现了数量众多的微水体, 其所处的地理位置大多靠近山脉的山脊部位。滇西北高黎贡山某地分布着两大微水体群, 水深多在1米以下, 水体内物种数量较少。图7为滇西北高山微水体面积和海拔分布示意图, 图8为高黎贡山某地微水体分布示意图。

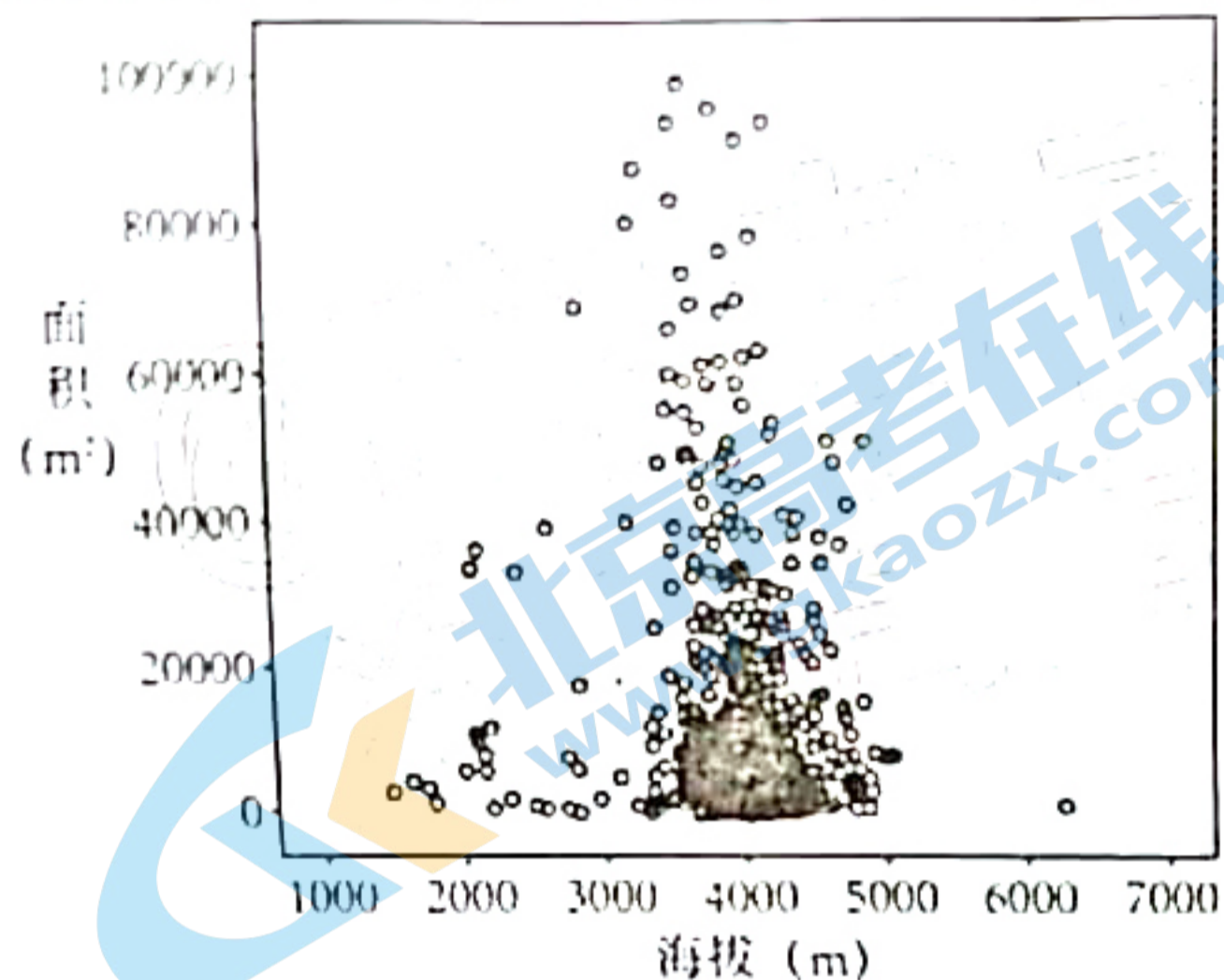


图7

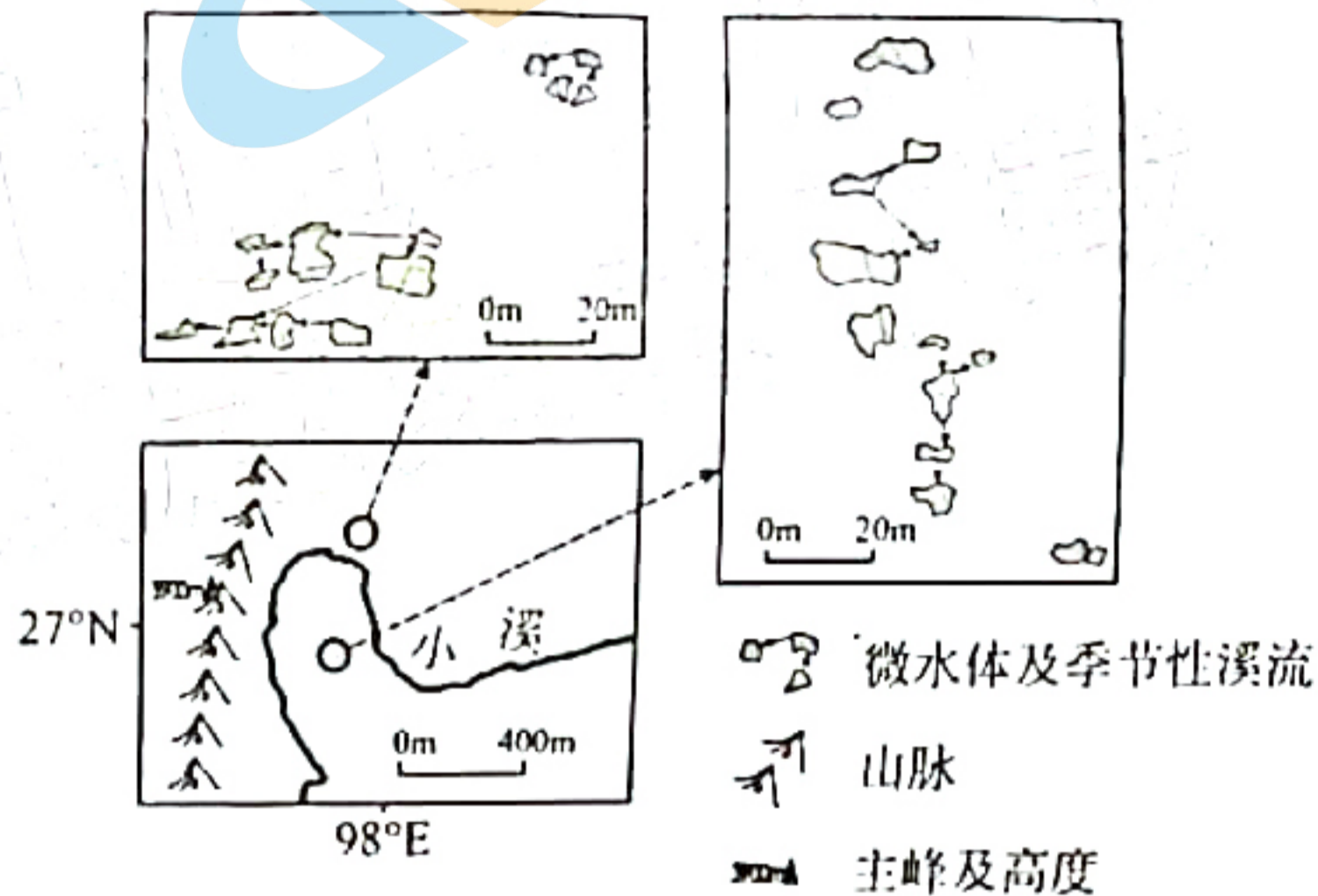


图8

- (1) 据图7描述滇西北微水体的分布特征。(4分)
- (2) 试对“滇西北高山微水体大多靠近山脉的山脊部位”这一现象作出合理解释。(6分)
- (3) 与夏季相比, 指出图8中微水体冬季水文特征的差异并说明原因。(8分)
- (4) 分析图8中微水体物种数量较少的主要原因。(6分)

38. (14分) 阅读材料, 完成下列要求。

数字开启未来, 服务促进发展。

材料一

2011~2020年全球数字服务贸易规模和占比

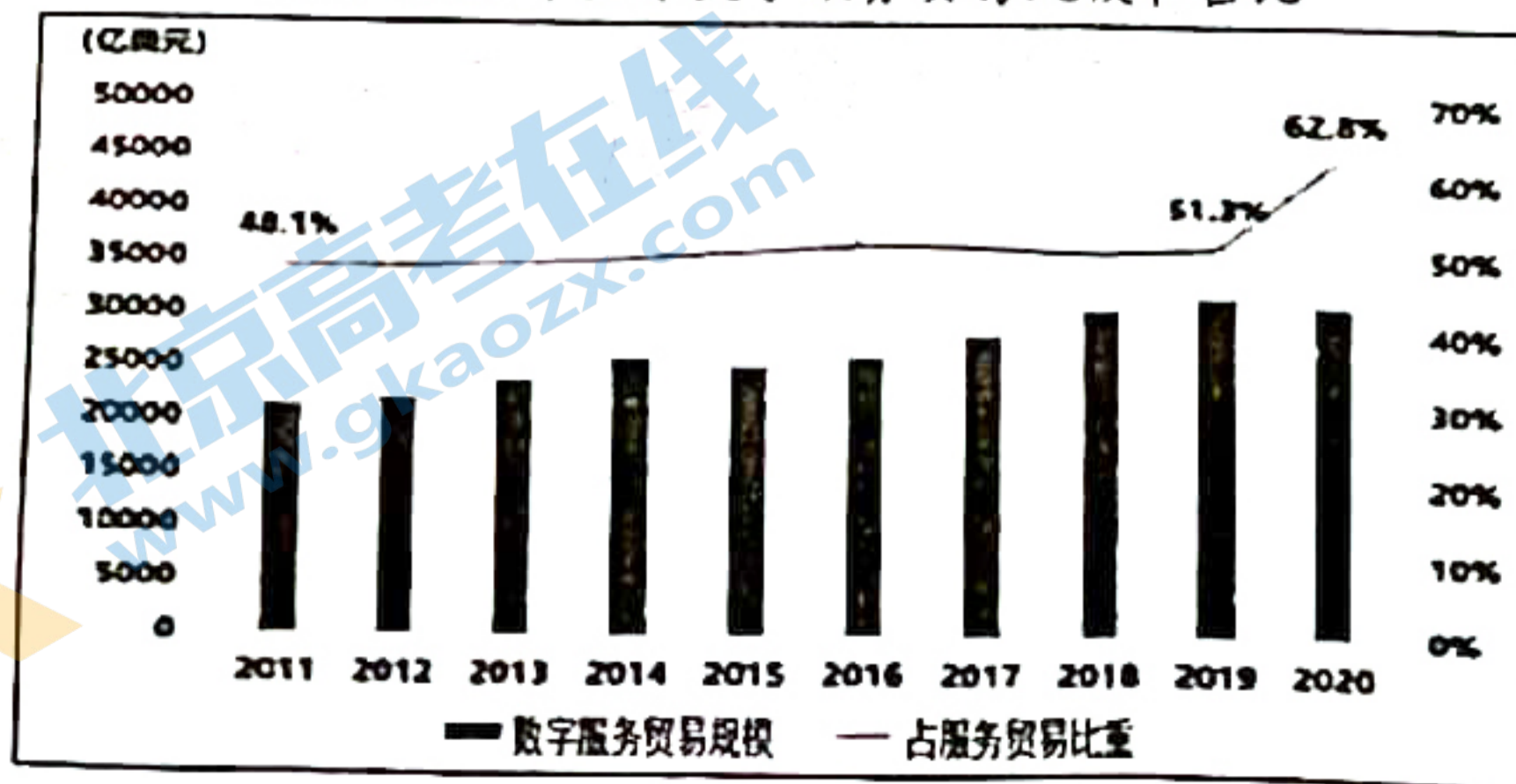


图9

在新冠疫情冲击下, 数字贸易展现出了强大的韧性与活力, 成为推动全球贸易复苏和我国服

关注北京高考在线官方微信: [北京高考资讯\(微信号:bjgkzx\)](#), 获取更多试题资料及排名分析信息。

务贸易高质量发展的重要引擎。据联合国贸易和发展会议(UNCTAD)测算,2020年我国可数字化交付的服务贸易规模达到了2947.6亿美元,疫情期间逆势增长8.4%,占服务贸易总额的44.5%,比“十三五”初期提升了13.9个百分点。

(1)描述材料一中我国数字服务贸易的发展状况。(4分)

材料二

在数字经济时代,大数据、云计算、物联网等新技术在服务业领域的广泛应用,数字技术与零售、娱乐、出版、休闲、金融、卫生等行业的融合将日益加深,跨越服务生产与消费不可分离的障碍,使得教育、健康、医疗、文化等以往无法进行离岸贸易逐渐演变为可贸易化。未来新一代云计算、区块链和人工智能技术的问世,还将持续改变信息通信服务的提供方式,推动经济中大多数商品与服务的生产和支付方式产生变革,如信息技术引入到对潜在目标市场客户需求进行科学分析的领域上来等。

当前我国互联网、物联网、无线宽带、移动终端、超级计算等技术和设施水平已位居世界前列,5G等重要技术领域和互联网商业模式更是处于世界领先。这意味着我国完全有可能在“十四五”时期实现服务贸易的跨越式发展。

(2)结合材料,运用经济知识,说明数字化如何赋能我国服务贸易发展。(10分)

39.(12分)阅读材料,完成下列要求。

2014年党的十八届四中全会要求,建立基层立法联系点制度。2015年7月,全国人大常委会法工委确定上海虹桥街道为基层立法联系点。自此,上海虹桥街道形成的意见建议,可以直达全国人大常委会,并不断为立法联系点建设贡献基层智慧。

虹桥街道构建了以基层群众信息员为主体、顾问单位和专业人才库为“两翼”的工作架构,探索形成了“一二三四”工作法:坚持提前一周给信息员联络员送上法律草案和情况说明,召开居民群众和业务相关人员两类座谈会,以书面、走访调研及座谈会三种形式征集意见,每部法律草案至少召开四场座谈会听取意见。立法联系点还不断拓展制度化实践,将联系点与党群服务站、人大代表“家站点”、人民建议征集点等合并建站,为丰富全过程人民民主的时代内涵不断贡献虹桥智慧。

2021年以来,上海市人大常委会基层立法联系点全面“扩点提质”,共计25个点位覆盖上海16个区,全过程民主实践更充满活力,对推进全过程民主具有深刻的示范意义。

结合材料,运用政治生活有关知识,说明基层立法联系点在上海的生动实践对推进全过程人民民主具有的深刻示范意义。(12分)

40.(26分)胸怀千秋伟业,恰是百年风华。阅读材料,完成要求:

在一百年的非凡奋斗历程中,一代又一代中国共产党人顽强拼搏、不懈奋斗,涌现了一大批视死如归的革命烈士、一大批顽强奋斗的英雄人物、一大批忘我奉献的先进模范,形成了井冈山精神、长征精神、抗疫精神等系列伟大精神,构筑起了中国共产党人的精神谱系。

2022年“最美巾帼奋斗者”甘公荣的事迹生动诠释了“把百年精神谱系的人民至上理念发扬光大”的道理。甘公荣是“将军农民”甘祖昌和全国道德模范龚全珍的女儿。作为名门之后,甘公荣继承家门红色基因,秉持着父辈家训,在红色精神传承的道路上从未停歇。1978年,在父亲要求下,16岁的甘公荣回乡做了农民。随后几十年,她做过电影放映员,随放映队跋山涉水

关注北京高考在线官方微信:北京高考资讯(微信号:bjgkzx),获取更多试题资料及排名分析信息。

村入户，放过电影上千场；做过银行储蓄员，经手的钱多达几亿元，没有出过丝毫差错；退休后，她主动帮扶贫困学子，自愿担任志愿者服务队队长，发起“爱心救助基金会”，经常到全市各地进行调查摸底，收集贫困学生和困难群众资料，积极多方募集资金，为众多困难家庭和群众解忧，在平凡的岗位上做出了不平凡的事业。

(1) 结合材料，运用文化生活有关知识，说明中国共产党精神谱系是如何彰显文化自信力量的。(10分)

(2) 甘公荣的事迹生动诠释了“把百年精神谱系的人民至上理念发扬光大”的道理，运用社会历史主体的有关知识加以说明。(12分)

(3) 赓续百年精神谱系，强化青年责任担当。请从百年精神谱系中选取一种具体精神，从中汲取奋进力量，来引领个人成长发展。(4分)

41. (25分) 阅读材料 回答问题

材料一

考古发现，旧石器时代晚期，新疆阿勒泰先民以滑雪为谋生手段，而关于滑雪的文献记录迟滞一些。如，《隋书》载大兴安岭“地多积雪”，室韦人“惧陷坑阱，骑木而行”，即他们掌握了一些雪橇滑雪技巧；宋代始见滑冰记载，《宋史》称“冰嬉”，但当时冰雪滑行主要用于交通运输；明代，“冰嬉”逐渐发展为体育活动，1625年（明末），女真首领努尔哈赤举行冰上运动会，先是冰球，后又进行滑冰表演，冠军获赏银二十两；清初，鉴于北京一入冬便风雪交加、十里冰封，王室每年十月便在北海冰面检阅八旗冰鞋营的滑冰技术，作为部队训练的内容之一。随着北方民族入主中原，一些冰雪运动也带入了内地。

——摘编自任海《中国古代体育》等

材料二

表4 现代冬奥会诞生大事年表

时间	事件
1887年	挪威成立了世界上第一个滑雪俱乐部
1890年	加拿大成立了世界上第一个冰球协会
1892年	国际滑冰联盟在荷兰成立，随后举办了首届国际男子速度滑冰锦标赛
1895年	现代第一届夏季奥运会举办后，顾拜旦建议举办冬季奥运会
1908年	夏季奥运会上增加了花样滑冰项目，但天气原因使冬奥会独立的呼声增强
1924年	法国沙莫尼市承办“冬季运动周”运动会，现代冬奥会形成

从1928年起，冬奥会与夏奥会在不同国家同一年举行。1940年和1944年冬奥会因战争而取消，被取消主办权的正是轴心国——日本和意大利。……从1968年格勒诺布尔冬奥会起，通过奥运促进城市发展，向海外宣传民族国家成为申办主旨，当时法国总统戴高乐为此甚至不惜和英、美交恶。……1986年国际奥委会决定，冬奥会与夏奥会“分离”，以两年为间隔交叉举行。1993年以后，每届冬奥会除了展现“更高、更快、更强”的精神外，“奥林匹克休战”提案也生效，让全世界人民在和平的气氛中欢度盛会。

——摘编自季成《冬奥简史：冬季奥林匹克运动的人文解读》

(1) 根据材料一，概括中国古代冰雪运动发展的特点，并结合所学知识简析影响其发展的因素。(10分)

(2) 根据材料二并结合所学知识，说明现代冬季奥运会产生的背景及举办的影响。(15分)

42. (12分) 阅读材料, 回答问题。

材料

图 10 摘自 1890 年《点石斋画报》第十四册《气球破敌图》。

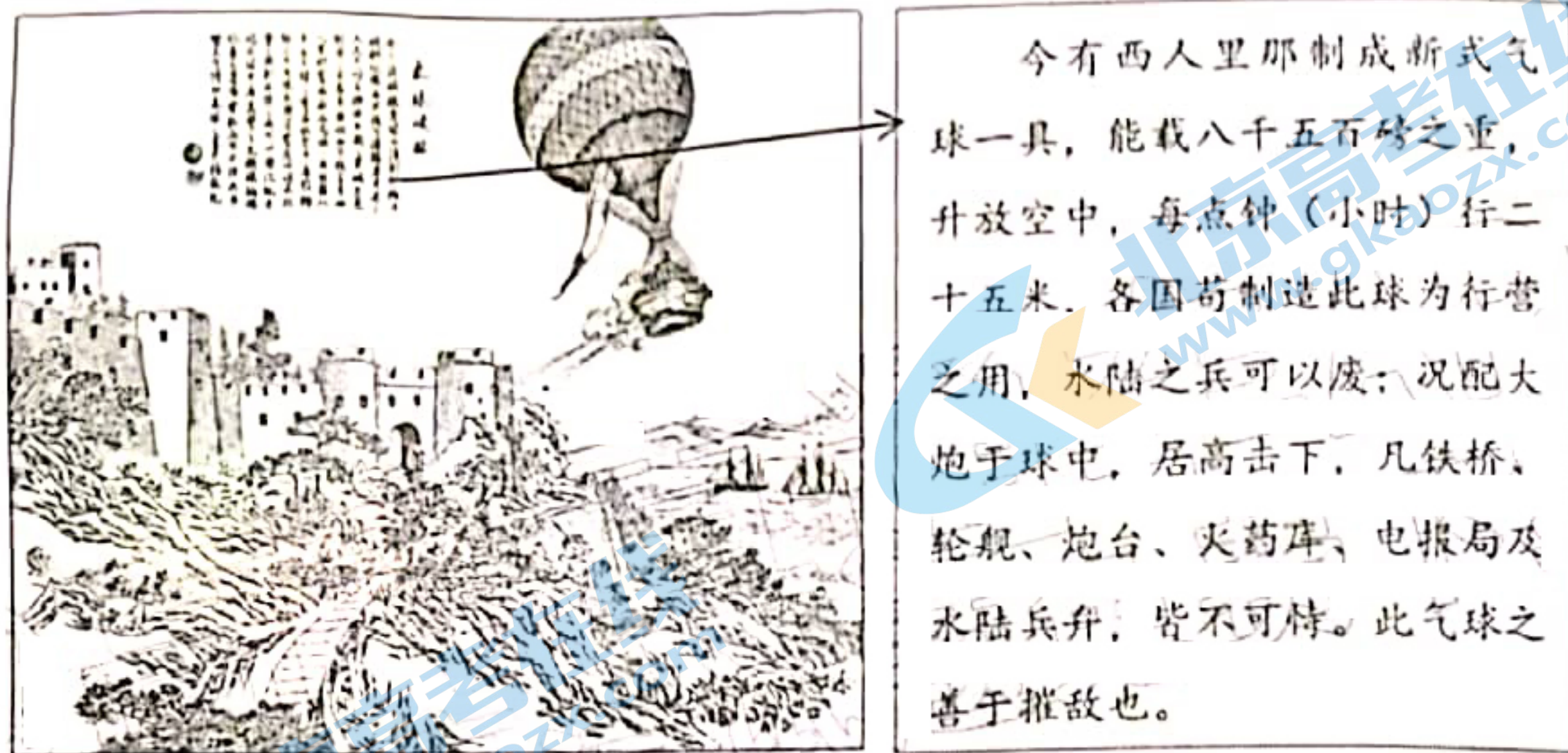


图 10

提取材料信息并结合所学知识, 对画报中的《气球破敌图》加以阐释。(12分)

(二) 选考题: 共25分。请考生从2道地理题、2道历史题中各任选一题作答。如果多做, 则按所做的第一题计分。

43. [地理—选修3: 旅游地理] (10分)

歙县位于安徽南部, 先后有 148 个村庄入选中国传统村落名录, 建筑风格独树一帜, 地域特色鲜明。部分传统村落由于经济收入、生活环境等因素导致人口外流, 村庄空心化问题严重。近年来, 歙县霞坑镇提出“修缮传统古建筑, 盘活历史文化资源, 助力乡村振兴”的传统村落保护与旅游开发新模式, 并通过分红、安排就业等多种形式大力吸引外流的原住村民回到原有村落居住和生活。

分析吸引原住村民回流对促进霞坑镇旅游业健康发展的作用。

44. [地理—选修6: 环境保护] (10分)

平力县是越南北部的生猪专业化养殖中心, 集聚了数十家大中型养猪场, 畜禽养殖规模不断扩大。初期, 由于畜禽废弃物处理成本太高, 猪粪尿未经处理就随意排放, 致使周围环境严重污染。后经相关部门督促、治理, 环境质量得以恢复。

指出生猪养殖业产生的环境污染类型, 并从循环经济角度说明平力县初期环境污染严重的原因。

关注北京高考在线官方微信: 北京高考资讯(微信号:bjgkzx), 获取更多试题资料及排名分析信息。

45. [历史—选修1：历史上重大改革回眸]（15分）

材料

建国初期，各种传染疾病肆虐，卫生防疫条件落后。面对恶劣的卫生状况和经济形势，1949年，中央宣布成立卫生部；次年，卫生部召开了第一次全国卫生会议，会上专门论述了“团结和改造中西医”的问题，但一直以来轻视排斥中医的现象仍未得到解决。1954年10月，《人民日报》发表了题为《贯彻对待中医的正确政策的社论》，为中医的发展指明了方向；同年，卫生部设立中医司。随后，各省（自治区）、地（市）级卫生部门先后设立了中医处、中医科，承担中医医疗预防、中西医结合诊疗等职责；到1958年，中央发布了《中医师暂行条例》和《中医诊所管理暂行条例》等一系列法令法规；1960年间，中医医院数量增加到330所，中医学徒达8万多人；中央在各地组织大批中医工作者整理、总结、研究古典医籍和老中医的经验；并成立了中国药材公司，统一经营中药材。

——摘编自中央文献编辑室《新中国成立初期中国共产党发展中医事业述论》

- (1) 根据材料并结合所学知识，概括新中国成立初期中医事业发展的特点。（8分）
- (2) 根据材料并结合所学知识，简析新中国成立初期中医事业发展的意义。（7分）

46. [历史—选修4：中外历史人物评说]（15分）

材料

切·格瓦拉（1928~1967年），生于阿根廷一个富裕家庭，从小喜欢富有激情的冒险活动。大学期间，他毅然放弃优越的生活，历尽艰辛游历拉美各国，对拉美现实有较为透彻的了解，切身感受到民众的贫穷和苦难。学生时期的他，对马列主义产生了浓厚兴趣，阅读了不少相关著作，决心献身拉美人民的革命和解放事业。当时，拉美地区的社会矛盾十分尖锐，反对帝国主义的民族民主运动此起彼伏，格瓦拉投身于危地马拉民主革命，但在美国的干预下失败；他在流亡中结识菲德尔·卡斯特罗等古巴革命志士，1956年，格瓦拉秘返古巴参与领导游击战争。革命胜利后，他在古巴出任多项要职，推动古巴社会主义建设。1965年，他辞去职务，先后赴刚果、玻利维亚组建国际主义游击队，开展民族解放战争，直至1967年遭遇伏击，被俘后英勇就义。

——摘编自宋晓平《格瓦拉的伦理价值观及其现实意义》

- (1) 根据材料，概括格瓦拉精神的内涵。（7分）
- (2) 根据材料并结合所学知识，简析格瓦拉精神内涵形成的原因。（8分）

关于我们

北京高考在线创办于 2014 年，隶属于北京太星网络科技有限公司，是北京地区极具影响力的中学升学服务平台。主营业务涵盖：北京新高考、高中生涯规划、志愿填报、强基计划、综合评价招生和学科竞赛等。

北京高考在线旗下拥有网站门户、微信公众平台等全媒体矩阵生态平台。平台活跃用户 40W+，网站年度流量数千万量级。用户群体立足于北京，辐射全国 31 省市。

北京高考在线平台一直秉承 “精益求精、专业严谨” 的建设理念，不断探索 “K12 教育+互联网+大数据” 的运营模式，尝试基于大数据理论为广大中学和家长提供新鲜的高考资讯、专业的高考政策解读、科学的升学规划等，为广大高校、中学和教科研单位提供 “衔接和桥梁纽带” 作用。

平台自创办以来，为众多重点大学发现和推荐优秀生源，和北京近百所中学达成合作关系，累计举办线上线下升学公益讲座数百场，帮助数十万考生顺利通过考入理想大学，在家长、考生、中学和社会各界具有广泛的口碑影响力

未来，北京高考在线平台将立足于北京新高考改革，基于对北京高考政策研究及北京高校资源优势，更好的服务全国高中家长和学生。



微信搜一搜

北京高考资讯

官方微信公众号: bjgkzx

官方网站: www.gaokzx.com

咨询热线: 010-5751 5980

微信客服: gaokzx2018