

丰台区 2019-2020 学年度第一学期期中考试联考

高一历史（A 卷）考试时间：90 分钟

第 I 卷 选择题（共 60 分）

一、单项选择题（共 40 题，每小题 1.5 分，共 60 分）

1. 关于中国早期农业文明的起源，著名史学家苏秉琦先生的论断是“满天星斗”。以下选项中，最能说明这一观点的是：
  - A. 中国是世界上最早的农业起源地之一
  - B. 在我国境内的湖南、江西、浙江等地都发现了人工栽培水稻的遗存
  - C. 除了黍、粟、水稻外，起源于我国的粮食作物还有稷、大豆等
  - D. 在浙江余姚河姆渡的考古发掘中，发现存在高达 120 吨的稻谷遗存
2. 2019 年 7 月 6 日，联合国教科文组织将位于浙江杭州的“良渚古城遗址”列入《世界遗产名录》。通过良渚考古发掘，学者们普遍认为当时私有制已经产生，阶级分化日益明显，出现了权贵阶层。以下能作为直接证据的考古发现是
  - A. 城中发现 20 多万公斤的炭化稻堆积
  - B. 少数墓葬有精美的玉器和陶器随葬
  - C. 古城遗址布局与山形水势充分契合
  - D. 碳 14 测定年代为公元前 3000 年左右
3. 《史记正义》记载：“周封以五等之爵，蓟燕二国俱武王立，因燕山、蓟丘为名，其地足自立国。”与此记载相关的政治制度是
  - A. 禅让制
  - B. 宗法制
  - C. 分封制
  - D. 郡县制
4. 战国时期，各国纷纷变法。下列对各国变法目的表述正确的是
  - A. 巩固卿大夫掌握的实权
  - B. 希望在兼并战争中取得优势
  - C. 促进工商业的繁荣发展
  - D. 试图恢复西周初年的分封制
5. 战国时期，诸子百家和百家争鸣局面形成的原因有
  - ①“学在官府”局面被打破
  - ②社会处于大变革时期
  - ③民间的学术活动逐渐兴起
  - ④士受到统治者的重用
  - A. ①②③
  - B. ①③④
  - C. ②③④
  - D. ①②③④
6. 铁犁牛耕是农业耕作技术的革命性突破，在中国最早出现于

- A. 商朝时期    B. 春秋战国时期    C. 秦汉时期    D. 隋唐时期
7. 在阿房宫遗址出土的一块秦砖上，用小篆写了“海内皆臣，岁登成熟，道毋饥人”十二个字。其中“海内皆臣”这四个字最能表明秦朝
- A. 经济繁荣    B. 国家统一    C. 文化统一    D. 百姓安居

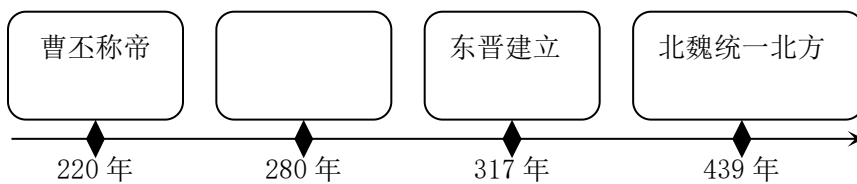
8. 下图能够直观地反映历史现象。对下图所示历史事件的作用解释准确的是

- A. 加速了国家分裂
- B. 加强了中央集权
- C. 增强了诸侯势力
- D. 扩大了王国疆域



9. 汉武帝时期，设立中央官学，培养五经博士。中央官学的建立
- A. 推动了儒家思想正统地位的确立
- B. 打破了依靠血缘垄断官职的局面
- C. 有利于学生思想创新和个性发展
- D. 促进了百家争鸣局面进一步发展
10. 东汉后期，皇权逐渐失去了对全国政局的有效控制。这种现象出现的主要原因是
- A. 礼乐制度破坏                      B. 外戚宦官相互勾结
- C. 以“柔道”治天下                  D. 地方豪强势力膨胀

11. 制作年代尺是学习历史的重要方法。下面年代尺的空白处应填写



- A. 三国鼎立    B. 西晋统一    C. 前秦统一北方    D. 隋朝建立
12. 北魏孝文帝不仅娶汉族士族地主的女儿为妻，还把自己的两个女儿嫁给了汉族大地主范阳卢氏家族。他这样做的基本出发点在于
- A. 缓和民族矛盾                      B. 密切鲜卑贵族和汉族地主的联系
- C. 平息阶级矛盾                      D. 加快鲜卑等北方少数民族汉化步伐

13. 汉承秦制，唐袭隋规，都出现了盛世。然而，秦朝与隋朝却二世而亡，其主要原因是
- A. 周边少数民族入侵                      B. 统治集团内讧变乱
- C. 宦官擅权外戚临朝                      D. 横征暴敛、苛政黷武

14. 据陈茂同《中国历代选官制度》等记述，唐代科举考试主要科目及内容如下：

科目	初试	二试	三试
明经	选《礼记》或《左传》之一及《孝经》《论语》《尔雅》，每经帖十条	口答诸经大义十条	答时务策三道
进士	选《礼记》或《左传》之一及《尔雅》，每经帖十条	作诗、赋、文各一篇	作时务策五道

以上材料说明唐代科举制

- ① 实行分科考试选拔官员                      ② 测试考生记诵儒家经典的能力
- ③ 检测考生解决实际问题的能力              ④ 明经科考试难度大于进士科
- A. ①②③                      B. ②③④                      C. ①②④                      D. ①③④
15. 中国古代赋税制度的一大转变是改变以人丁为主的赋税制度，而“唯以资产为宗，不以丁身为本”。这一转变发生在
- A. 西周时期                      B. 北魏时期                      C. 唐朝初期                      D. 唐朝中期

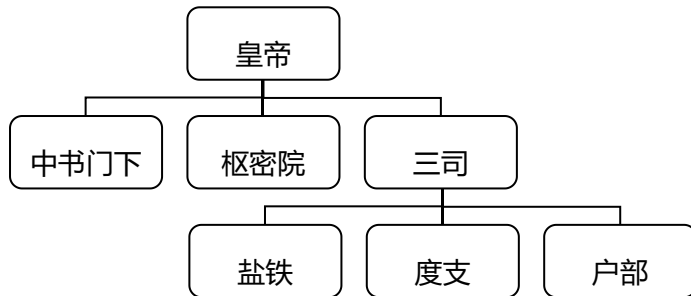
16. 下表呈现的变化反映了

时期	全国所辖郡数	秦岭淮河以北郡数	秦岭淮河以南郡数
西汉	103	74	29
西晋	162	86	76

- A. 南北经济水平差距缩小                      B. 政治中心实现了南移
- C. 西汉时期的疆域比西晋小                      D. 经济重心实现了南移
17. 中国科学技术重视解决实际问题，具有实用性的特点。下列有助于解决农业生产问题的著作是
- ① 《黄帝内经》    ② 《九章算术》    ③ 《齐民要术》    ④ 《千金方》
- A. ①②                      B. ②③                      C. ①③                      D. ③④

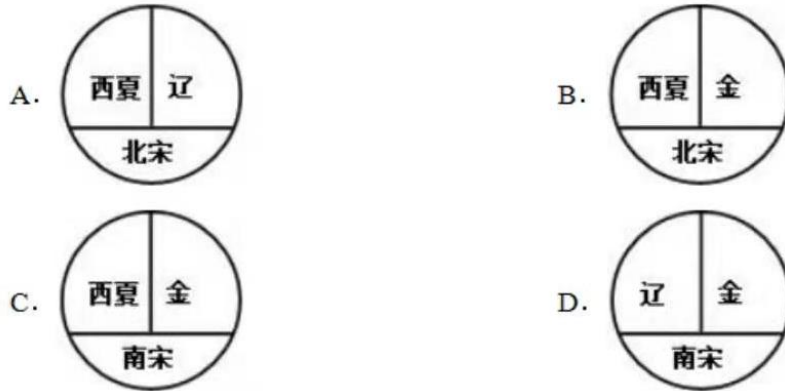
18. 唐朝政府改变了历代“贵中华，贱夷狄”的做法，采取“抚九族以仁”的政策，这说明

- A. 唐朝国力十分强大                      B. 唐朝支持少数民族建立政权  
C. 唐朝实行开明的民族政策              D. 唐政府的目的在于保卫边疆
19. 隋唐时期的思想文化上承魏晋，出现了新的趋向，对后世影响深远。唐代思想“新的趋向”主要是指
- A. 儒、佛、道始终受统治者的推崇      B. 道教取得了独尊的地位  
C. 儒学不断吸收佛、道的合理成份      D. 佛教的地位超过了儒、道
20. 唐朝时，蔬菜品种日益丰富，开始出现原产于地中海的莴苣、印度的刀豆、波棱国（今尼泊尔）的菠菜。这一情况透露出唐朝
- A. 农业生产的发达                          B. 对外交流的繁荣  
C. 西域都护的设置                          D. 泉州口岸的开放
21. 下图所示的中央机构存在于



- A. 秦朝                      B. 汉朝                      C. 宋朝                      D. 明朝
22. 《宋史》记载：“国家根本，仰给东南”和民间谚语“苏湖熟，天下足”。这两段材料所反映的现象主要说明了
- A. 东南沿海地区农民赋税负担重      B. 苏州和湖州成为人才汇集之处  
C. 江南广泛种植原产美洲的作物      D. 江南地区已成为全国经济重心
23. “一代天骄”成吉思汗，是中国历史上的杰出人物。与他相关的史实是
- A. 建立元朝      B. 设置行省      C. 统一蒙古      D. 开凿运河
24. 在北宋与辽和西夏的关系中，北宋每年送给辽一笔钱物，称为“岁币”，每年送给西夏钱物，称为“岁赐”。这带来的影响有
- ①北宋获得了北部边防的安定                      ②财政状况日益恶化  
③增加了汉族和少数民族之间的隔阂              ④造成官僚队伍的膨胀
- A. ①③                      B. ②③                      C. ①②                      D. ③④
25. 1069年，宋神宗任用王安石主持变法，取得一些成果，但并未挽救北宋衰亡的命运。下列有关王安石变法的评价正确的是

- A. 增加了政府财政收入                      B. 实现了富国强兵  
C. 减轻了人民的负担                        D. 引发党争直接导致北宋衰亡
26. 在下列四幅两宋与辽、西夏、金并立示意图中，其错误的一项是



27. 阅读以下的“宋朝赋税结构变化表”。表格能够说明

年代	农业税 (万贯)	非农业税 (万贯)	农业税 : 非 农业税
至道末年 (997 年)	2408.1	1567.3	60 : 40
天禧末年 (1021 年)	2641.2	3874.0	40 : 60
熙宁十年 (1077 年)	2021.3	5117.2	28 : 72

- A. 商税收入已经成为政府的重要财源  
B. 北宋时期纸币成为市场流通的货币  
C. 宋代加强农村契约租佃关系的管理  
D. 边境榷场贸易促进了北方农业生产的发展
28. 日本所藏中国宋代提举两浙路市舶司“公凭”(官方文书)记载,泉州客商李充“自己船一只”“往日本国”,随船货物有大量丝织品及大量瓷器。该史料反映了宋代
- A. 商贸活动不再受到官府的监管  
B. 中日之间官民互惠贸易的繁荣  
C. “朝贡”贸易体制尚未发展起来  
D. “海上丝绸之路”商品外销情况
29. 理学强调通过道德自觉达到理想人格的建树,从而强化了中华民族注重气节和德操、注重社会责

- 任与历史使命的文化性格。下列主张最能够体现这一理念的是
- A. 为天地立心, 为生民立命                      B. 兼相爱, 交相利
- C. 屈民而伸君, 屈君而伸天                      D. 己所不欲, 勿施于人
30. 科技进步是一个民族发展的不竭动力。下列中国古代科技成果出现的先后顺序排列正确的是
- ①贾思勰写成《齐民要术》                      ②蔡伦改进造纸术
- ③孙思邈著作《千金方》                      ④毕昇发明活字印刷术
- A. ②①③④      B. ③①②④      C. ①②④③      D. ②③④①
31. 在中国古代, “中央政府的组织, 皇权相权是划分的, 期间比重纵有不同, 但总不能说一切由皇帝专制”。这一状况被彻底改变始于
- A. 汉朝              B. 宋朝              C. 明朝              D. 清朝
32. 以下关于明朝对西藏地区管辖的说法, 正确的是
- ①明政府设置奴儿干都司                      ②设行都指挥使司管理军民
- ③任用藏族上层人士管理                      ④设置达赖和班禅册封制度
- A. ①④              B. ②③              C. ①②              D. ①③
33. 下图是某同学在学习中国古代史时整理的部分笔记。其学习的内容是

① 元末明初, 日本海盜、武士勾结不法商人, 在我国东南沿海一带走私、劫掠。

② 台州九战九捷, 基本扫除了浙江沿海的倭患。

- A. 郑和下西洋    B. 戚继光抗倭    C. 郑成功收复台湾    D. 雅克萨之战
34. 1553年, 一队商船借口在海上遇到风浪, 请求到濠镜澳(澳门)晾晒“水湿贡物”, 广东官员接受贿赂500两, 允其上岸。1557年, 该国商人擅自营建房屋居住, 设置官吏管理。侵入中国澳门地区的是
- A. 荷兰              B. 葡萄牙              C. 西班牙              D. 沙皇俄国

35. 右图中的四个数字分别代表中国古代的重要都城, 其中发生在③处的历史事件是
- A. 嬴政创立皇帝制度
- B. 汉武帝设置州刺史
- C. 明太祖废除丞相制
- D. 雍正帝设立军机处



36. 某班同学撰写关于“中国古代的中央集权制度”的研究性小论文，其中论文标题没有出现史实错误的是
- A. 《专制皇权的创立者——周武王》  
B. 《隋唐时期中枢权力体系的发展》  
C. 《元朝三省六部制度的影响》  
D. 《丞相与军机大臣的权力制衡》
37. 1684年，清政府设立一地方行政机构，隶属福建省，巩固了祖国的东南海防。该机构是
- A. 辽东郡      B. 伊犁将军      C. 军机处      D. 台湾府
38. 明清时期，在江南、华南的一些地区，经济作物的种植面积扩大，传统的粮食生产比重降低。这一现象表明，明清时期上述地区
- A. 农业生产出现衰退      B. 人口变动导致粮食需求减少  
C. 普通农户收益锐减      D. 农产品商品化程度逐渐提高
39. “敲剥天下之骨髓，离散天下之子女，以奉我一人之淫乐，……为天下之大害者，君而已矣……”这段话体现出黄宗羲的思想是
- A. 抨击君主专制      B. 反对礼教  
C. 提出“致良知”      D. 注重实学
40. 2010年，京剧被列入“人类非物质文化遗产代表作名录”。它经徽戏、秦腔、汉调的合流，并借鉴吸收昆曲、京腔之长，形成于
- A. 宋朝      B. 元朝      C. 明朝      D. 清朝

## 第二部分 非选择题（共40分）

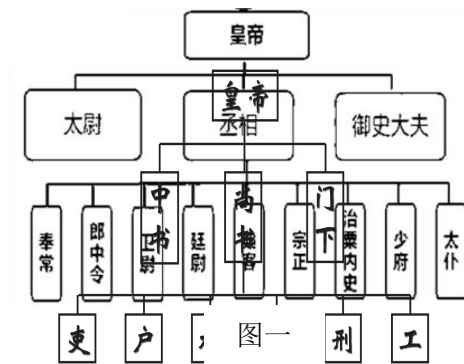
### 一、 民族意识和国家治理。（共20分）

**材料一** 华夏国家、民族从春秋战国起就逐渐加快了它的一体化进程。这种一体化进程打破“邦国”“宗族”壁垒，使国家、人民不论在政治制度、个人身份、族类从属上都发生极大变化。秦统一中国以后，统一的国家机制更加规范及完善。在民族融合与同化中，华夏民族成为一个人口众多的民族。自秦汉以来，华夏民族往往将国家的强大、统一和民族的安全、和睦作为评判国家、民族强弱兴衰的基本标准，并形成民族与国家的一种深沉的、绵延的文化心理与社会理想。

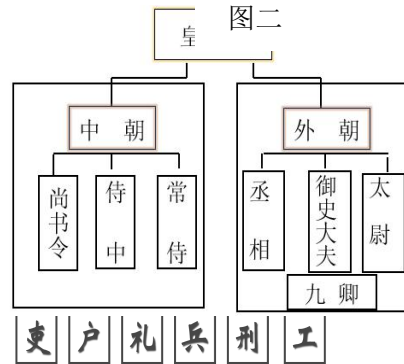
——摘编自李禹阶《华夏民族与国家认同意识的演变》

1. 依据上述材料并结合所学，说明从春秋战国到秦汉时期国家形态和民族意识发生的变化。（6分）

材料二



图三



图四

2. 依据材料二，概括中国古代中央权力机构发展演变的趋势，并任选一图简述其运作机制。（6分）

**材料三** 建隆二年(961)，(宋)太祖召赵普问曰：“天下自唐季以来，数十年间，帝王凡易八姓，战斗不息，生民涂地，其故何也？吾欲息天下之兵，为国家长久计，其道何如？”

普曰：“……此非他故，方镇太重，君弱臣强而已。今所以治之，亦无他奇巧，惟稍夺其权，制其钱谷，收其精兵，则天下自安矣。”

——《续资治通鉴长编》卷二

3. 依据材料并结合所学，评述宋初加强中央集权的措施。（8分）

二、经济发展是中国古代社会进步的重要体现。（20分）

**材料一**（江南）地广野丰，民勤本业，一岁或稔(rěn，庄稼成熟)，则数郡忘饥。……丝绵布帛之饶，覆衣天下。

——（南朝）《宋书》

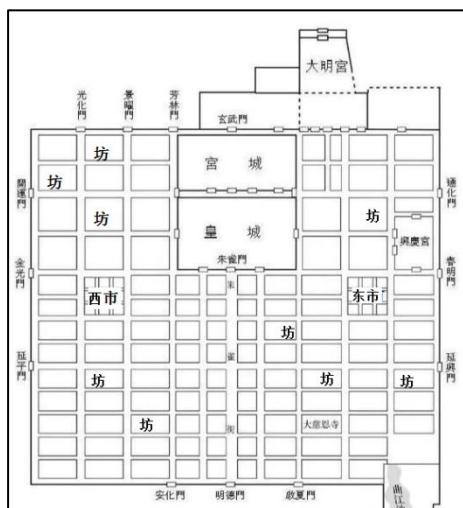




材料二

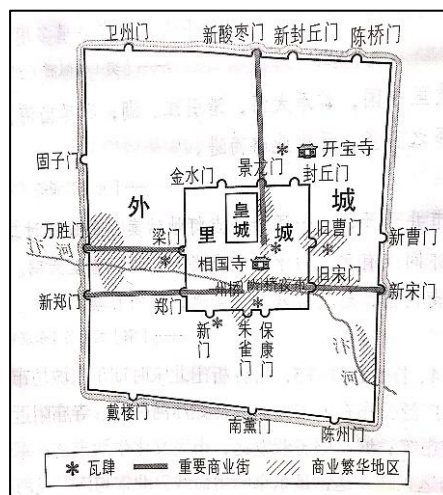
1. 根据材料一和材料二，概括江南经济发展的成就。结合所学分析发展原因。（7分）

材料三



坊：即居民区 市：商业区

唐朝长安城示意图



瓦肆：娱乐场所

北宋东京城示意图

2. 依据上图，从布局、功能的角度比较唐宋都城的异同，并从城市发展的角度谈谈你的认识。（8分）

**材料四** 康熙二十三年平定台湾后，即开放海禁，翌年设立江(上海)、浙(宁波)、闽(漳州)、粤(广州)四海关。乾隆二十二年清廷实行“独口通商”政策，将国内与西洋各国的贸易集中于粤海关一口。

——《中国经济通史·清代经济卷》

3. 材料三反映了清朝前期对外经济政策出现了怎样的变化？这对中国历史发展有何影响？（5分）

## 丰台区 2019—2020 学年度第一学期期中联考

### 高一历史 A 卷 参考答案

#### 第一部分 选择题（每小题 1.5 分，共 60 分）

题号	1	2	3	4	5	6	7	8	9	10
答案	B	B	C	B	D	B	B	B	A	D
题号	11	12	13	14	15	16	17	18	19	20
答案	B	B	D	A	D	A	B	C	C	B
题号	21	22	23	24	25	26	27	28	29	30
答案	C	D	C	C	A	D	A	D	A	A
题号	31	32	33	34	35	36	37	38	39	40
答案	C	B	B	B	D	B	D	D	A	D

#### 第二部分 非选择题（共 40 分）

##### 一、（共 20 分）

- 变化：**打破邦国体制（或分封制瓦解），形成统一的、多民族的中央集权国家；打破宗族壁垒（或宗法制破坏），华夏民族不断壮大；国家强大、统一与民族和睦成为华夏民族的不懈追求。（6 分）

- 规律：**相权日益削弱并最终被废除；皇权日益加强。（2 分）

**说明：**（4 分）

**秦朝：**三公九卿制度。丞相协助皇帝处理全国政务，位高权重。御史大夫掌管律令、图籍，并负责监察百官。太尉协助皇帝管理军务。三方互不相属，互相牵制。三公之下，设九卿，分管国家和皇家事务。

**西汉：**内外朝制度。内朝由皇帝的亲信近臣构成，位卑权重，参与决策；外朝由三公九卿组成的官僚机构组成，决策权被剥夺，变成执行机构。

**隋唐：**三省六部制。中书省负责起草诏令，门下省负责封驳审核，尚书省负责执行，尚书省下设六部。三省相互牵制。

**明朝：**明太祖废除丞相，皇帝直接掌管六部。明成祖设内阁。内阁有“票拟权”，最终裁定取决于皇帝“批红”。

- 述：**宋初从政治、经济、军事三个方面削弱地方权力，加强中央集权。

政治上派文臣做知州，设通判监督；经济上设诸路转运司统管地方财政，大部分上缴中央；军事上将地方精兵编入中央禁军，定期换防。（4 分）

**评：**利：削弱地方权力，巩固国家统一和安定，强化了中央集权。

弊：官僚队伍日益庞大，地方军事力量削弱，逐渐产生边防压力和财政危机。（4 分）

##### 二、（共 20 分）

- 成就：**土地大量开垦，水稻种植面积扩大，产量提高；纺织、造纸、陶瓷、冶铸、造船等手工业发展；商业城市发展。（3 分）

**原因：**江南自然条件优越，具备良好的开发基础；南方相对和平；北方人口南迁，带来劳动力和先进生产技术；水利工程的修建。（4分）

2. **同：**都依水而建；布局体现皇权政治在城市中居于核心地位。（2分）

**异：**唐长安城整齐划一，体现人力规划，坊市分离；北宋东京城突破坊市界限，市场沿河而兴，商业区不规则，出现娱乐场所。（4分）

**认识：**唐宋都城功能与布局的变化，反映了宋代商业的发展，城市经济功能的增强。（2分）

3. **变化：**清政府从实行海禁政策到开放四处口岸，再到允许开放广州一口通商。（3分）

**影响：**妨碍了中国与世界的经济交流，使中国逐渐落后于世界潮流。（2分）