



- A. 伦理道德和品行  
B. 思想主张和成就  
C. 爱国情怀和壮举  
D. 聪明才智和影响

4. 根据下面知识卡片提供的信息，判断与之属于同一时代的科技成果是

- 理念：“人命至重，有贵千金，一方济之，德逾于此”  
➤ 成就：记录了八百多个药方，全面总结历代和当时的医药学成果  
➤ 地位：中国历史上最早的临床医学百科全书

- A. 《九章算术》  
B. 《齐民要术》  
C. 《唐本草》  
D. 《授时历》

5. 明朝徐光启与利玛窦合作翻译了古希腊数学家欧几里得《几何原本》的部分内容，使用了几何、点、线、面、平行线、直锐钝角等汉语数学概念，并评价此书“窃意百年之后必人人习之，即又以为习之晚也！”对此认识错误的是

- A. 徐光启对《几何原本》表示了高度的推崇  
B. 中国古代抽象的几何学相对来说十分薄弱  
C. 徐光启等人的译著当时并未产生巨大影响  
D. 徐光启初步提出向西方学习以自强的主张

6. 清末爱国人士黄遵宪评价某条约“敲骨吸髓，输此巨款，设机造货，夺我生产”。此条约是指

- A. 《南京条约》  
B. 《北京条约》  
C. 《马关条约》  
D. 《辛丑条约》

7. 小说《子夜》描写 20 世纪 30 年代吴老太爷从乡下来到上海，坐进汽车里，像一具刚从棺材里爬出来的僵尸。南京路上，到处是光怪陆离的灯光和高耸的摩天大楼。最让吴老太爷大受刺激的，是一位身穿高开叉旗袍的时髦少妇……这情形，不禁让吴老太爷全身发抖。终于，吴老太爷大叫一声，昏死过去。吴老太爷的反应说明了

- A. 近代上海社会风俗全盘西化  
B. 近代中国对女性束缚已解除  
C. 国人大多坚持中西合璧观念  
D. 思想解放是一个渐进的过程

8. 2021 年是中国共产党成立一百周年。一百年来，中国共产党在长期奋斗中构建起中国共产党人的精神谱系。下列伟大精神的形成时间按先后顺序排列正确的是


- ①铁人精神                      ②延安精神                      ③苏区精神  
④抗美援朝精神                ⑤西柏坡精神

- A. ②③⑤④①                      B. ③②⑤④①  
C. ③⑤②①④                      D. ③②⑤①④

9. 从 1952 年和 1956 年我国国民经济公、私成分的比较表中，可以看出当时中国社会经济结构发生了很大变化。导致这一变化的主要原因是

所有制性质	经济成分	1952 年	1956 年
公有制经济	国营经济	19.1%	32.2%
	合作社经济	1.5%	53.4%
	公私合营经济	0.7%	7.3%
私有经济	资本主义经济	6.9%	0%
	个体经济	71.8%	7.1%

- A. 第一个五年计划的提出                      B. 农村土地改革运动的开展  
C. 国民经济得到全面恢复                      D. 社会主义三大改造的完成
10. 下图是新中国成立以来与各国建立外交关系情况简表（累计）。20 世纪 70 年代迎来了与世界各国建交的又一次高潮，其原因有



- ①新中国恢复在联合国一切合法权利                      ②中美结束敌对状态开始关系正常化  
③中国改革开放使综合国力大大提高                      ④中国加入世贸组织被国际社会认可
- A. ①②                      B. ②④  
C. ①③                      D. ③④

11. 下列图片中的内容与世界某一古老文明有关。该文明是

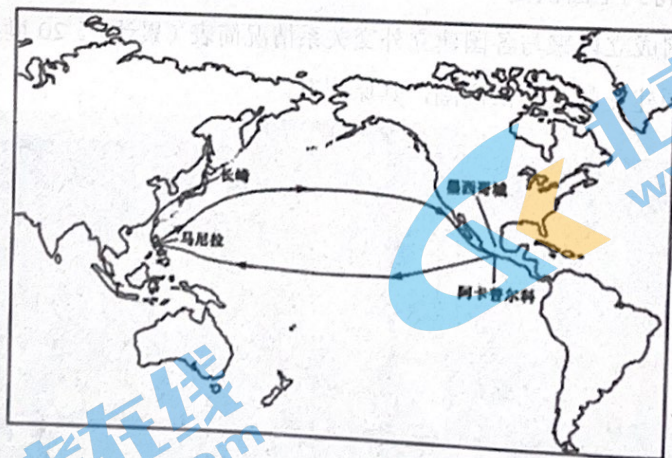


- A. 两河流域文明      B. 古埃及文明  
 C. 古罗马文明      D. 古希腊文明

12. 在世界历史上，5—15世纪一般被称为“中古时期”。这一时期西欧封建社会的基本特征包括

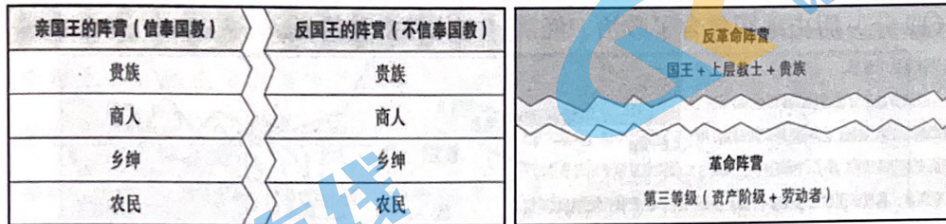
- ①封君封臣制      ②庄园与农奴制      ③教会地位显赫      ④王权至高无上  
 A. ①②③      B. ②③④  
 C. ①③④      D. ①②③④

13. 16世纪中后期，西班牙开通了在菲律宾马尼拉和墨西哥阿卡普尔科之间的大帆船贸易（见下图）。由于该贸易的货物主要以中国的生丝和丝绸为主，因此墨西哥人直接把马尼拉大帆船叫做“中国船”。马尼拉大帆船贸易



- A. 推动中国与美洲之间的自由贸易往来  
 B. 是早期全球贸易体系的重要组成部分  
 C. 致使西班牙完全垄断了对中国的贸易  
 D. 促使世界贸易中心从欧洲转移到亚洲

14. 下图为英国革命和法国革命中的阶级关系示意图（摘自钱乘旦《西方那一块土》）。  
据此示意图可以推论出



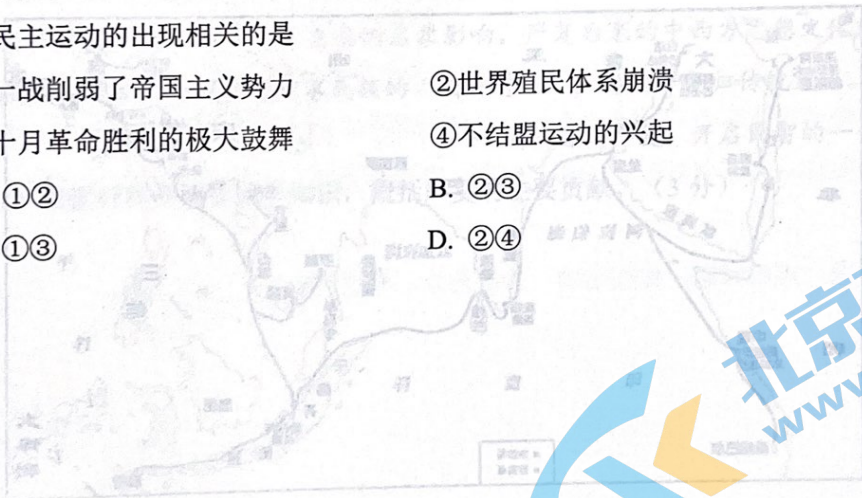
英国革命中的阶级关系

法国革命中的阶级关系

- ①英国革命深受宗教因素影响
  - ②英国革命的双方阵营利益一致
  - ③法国革命的阶级对抗很激烈
  - ④法国革命比英国革命更有意义
- A. ①②                      B. ②④  
C. ①③                      D. ③④

15. 与印度非暴力不合作运动、埃及的华夫脱运动、墨西哥的卡德纳斯改革等亚非拉民族民主运动的出现相关的是

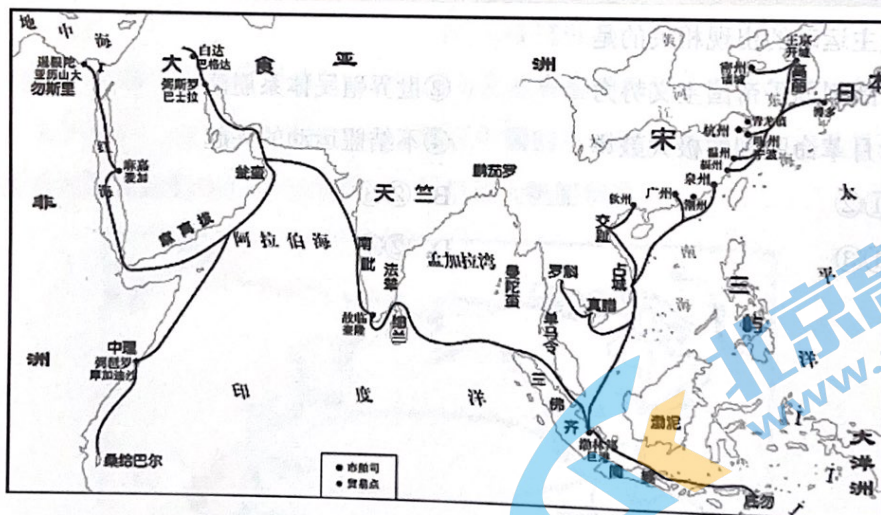
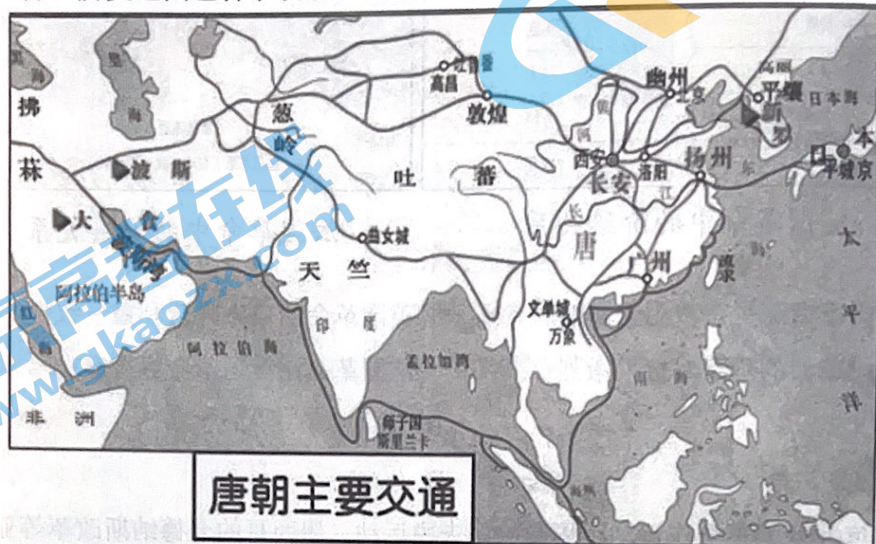
- ①一战削弱了帝国主义势力
  - ②世界殖民体系崩溃
  - ③十月革命胜利的极大鼓舞
  - ④不结盟运动的兴起
- A. ①②                      B. ②③  
C. ①③                      D. ②④



第二部分

本部分共 5 题，共 55 分。

16. (12 分) 历史地图包含了政治、经济、文化等多种信息。



(1) 比较上面两幅示意图，指出唐朝和宋朝两个时期贸易路线图的主要区别。(4 分)

(2) 结合所学知识，分析造成这种区别的原因。(8 分)

17. (9分) 严复

材料 严复(1854~1921),福建侯官人。严复先后毕业于福州船政学堂和英国皇家海军学院,1879年回国后任福州船政学堂教习。从1880年到1900年,严复一直在李鸿章创办的北洋水师学堂任教,培养了中国近代第一批海军人才,并给北洋水师学堂带来了西方现代海洋思想、现代海军管理方式和教学理论。他逐渐形成自己的海权思想,认为海权具有“国振取远之良策,民收航海之利资”的政治与经济的双重目的,关系到国家的贫富强弱和国际地位高下。离开北洋水师学堂后,严复先后出任安徽高等学堂监督、复旦公学和北京大学等校校长,以教育救国为任。

严复系统地将西方的社会学、政治学、政治经济学、哲学和自然科学介绍到中国,他的译著是中国20世纪最重要启蒙译著。严复的翻译考究、严谨,他提出的“信达雅”的翻译标准对后世的翻译工作产生深远影响。

《天演论》是严复最有名的译作之一,以“物竞天择”“适者生存”的生物进化理论阐发其救亡图存的观点,提倡鼓民力、开民智、新民德、自强自立。他的译作在当时的中国社会产生了重要的启蒙影响。严复后来的中西方思想文化比较观走向成熟,开始担忧中国丧失本民族的“国种特性”,趋向于复归传统文化。

——摘编自《严复:开启民智的一代宗师》

(1) 根据材料并结合所学知识,概括严复的主要贡献。(3分)

(2) 结合材料和所学,概述严复的海权思想,并分析其产生背景。(6分)

18. (9分) 歌词见证历史

材料

歌名	歌词节选
《国民革命歌》	打倒列强！打倒列强！除军阀！除军阀！努力国民革命！努力国民革命！齐奋斗！齐奋斗！打倒列强！打倒列强！除军阀！除军阀！国民革命成功！国民革命成功！齐欢唱！齐欢唱！
《大刀进行曲》	大刀向鬼子们的头上砍去，全国武装的弟兄们，抗战的一天来到了，抗战的一天来到了！前面有东北的义勇军，后面有全国的老百姓，咱们中国军队勇敢前进！看准那敌人，把他消灭！把他消灭！冲啊！大刀向鬼子们的头上砍去！杀！
《春天的故事》	1979年，那是一个春天，有一位老人在中国的南海边画了一个圈……1992年，又是一个春天，有一位老人在中国的南海边写下诗篇。……啊中国 啊中国！你展开了一幅百年的新画卷，你展开了一幅百年的新画卷，捧出万紫千红的春天。

上表是中国在革命和建设的不同时期传唱歌曲的歌词节选。请根据歌词内容并结合所学知识，判断每首歌曲创作的时期，并概括说明中国共产党在这一时期的主要贡献。

(要求：点明时期，史实准确，论证充分，表述清晰。)

19. (16分) 法律是国家治理的重要工具

材料一 唐初先后颁布实施了《武德律》《贞观律》《永徽律》。由于律文言简意赅，再加上某些地方官刻意错误解读律文，导致法律在实施过程中存在误解、不统一现象。唐高宗永徽元年命长孙无忌对《永徽律》律文进行阐释、说明，于653年编成《唐律疏议》。这部法律成为唐以后宋元明清各朝立法的基本参照，并对东亚各国立法也产生了重要影响。

——摘编自《中国法制史》

高三历史试卷 第8页(共10页)



材料二 在查士丁尼法典之前，罗马帝国编纂过三部法典。公元 528 年查士丁尼任命著名法学家特里波尼安等人，根据这些法典以及后来一些皇帝的谕令，删繁就简，剔除已经过时或矛盾的地方，于次年编辑成《查士丁尼法典》，它主要包括从哈德良皇帝至查士丁尼统治时期历代皇帝的谕令集。《查士丁尼法典》与另外几部法律文献合称为《罗马民法大全》，成为近代西方法律制度的渊源。

——摘编自陈勇《查士丁尼法典评析》

材料三 英国是近代宪政的策源地，其宪法被西方学者誉为“近代宪法之母”，不过英国至今并无一部系统、完整的宪法，是不成文宪法的典型，其宪法的渊源包括三部分：成文的宪法性法律、不成文的宪法性惯例以及涉及宪法制度的判例。英国宪法是历史长期发展的产物，无论其成文的宪法性法律，还是不成文的惯例和判决，都是经过相当长时期的积累，逐渐定型、完善的。新的宪法原则和精神的发展并不意味着彻底否定旧的宪法渊源，而是对旧的渊源的继承和充实，使其能够顺应社会经济发展的需求。

——摘编自《外国法制史》

(1) 根据材料一、二，概括《唐律疏议》和《查士丁尼法典》编撰的异同，并结合所学知识分别说明其历史价值。(8分)

(2) 根据材料三，概括英国宪法的特点，并结合所学史实对文中画线部分的观点进行举例说明。(8分)

20. (9分) 朝鲜战争

材料一 1945年在日本战败投降的前夕，美国提出以北纬38度线为界，即三八线，美国和苏联分别占领朝鲜半岛南部和北部的提议，并得到了苏联的认可，由此演变为后来朝鲜半岛分裂南北阵营的导火线。

——摘编自宋晓芹《苏联与朝鲜战争》

材料二 1950年6月25日，朝鲜战争正式爆发。27日，美国总统杜鲁门宣布美军直接参战，并派遣第七舰队封锁台湾海峡。7月7日，联合国安理会在苏联代表缺席情况下通过决议，决定成立在美国统帅下的统一司令部，指挥以美军为主、由各会员国派遣军队参加的“联合国军”，扩大对朝鲜的武装干涉。……美军先头部队逼进鸭绿江边，并对我国东北地区狂轰滥炸。中国人民面临美帝国主义的战争威胁，掀起抗美援朝保家卫国运动。

——摘编自中国社会科学出版社《国际政治大辞典》

材料三 (朝鲜战争)一方面，它加深了这个国家的分裂，另一方面，它对战后亚洲的国际局势产生了决定性的影响。

——《剑桥中华人民共和国史(1949~1965)》

(1) 根据材料一、二并结合所学知识，简述朝鲜战争爆发并扩大为一场国际性的局部战争的原因。(4分)

(2) 结合材料三和所学知识，简要分析朝鲜战争给朝鲜半岛和亚洲局势带来的影响。(5分)

石景山区 2021—2022 学年第一学期高三期末  
历史试卷答题卡

学校名称	姓名	准考证号
<p><b>考生须知</b></p> <p>1.答题前,考生务必将自己的准考证号、学校名称、姓名填写清楚,请认真核准条形码上的准考证号、姓名,确认无误后粘贴在条形码框内。</p> <p>2.本答题卡中的选择题用 2B 铅笔作答,其他试题用黑色字迹签字笔作答。</p> <p>3.修改选择题答案时,请用橡皮擦干净后重新填涂。</p> <p>4.请按照题号顺序在各题目的答题区域内作答,未在对应的答题区域作答或超出答题区域的作答均不给分。</p>		
<p><b>正确填涂示例</b> <input checked="" type="checkbox"/></p>		
<p><b>缺考标记:</b> <input type="checkbox"/> 监考老师代涂缺考标记</p>		

条形码粘贴区域

第一部分 (选择题, 共 45 分)

- |                   |                    |                    |
|-------------------|--------------------|--------------------|
| 1 [A] [B] [C] [D] | 6 [A] [B] [C] [D]  | 11 [A] [B] [C] [D] |
| 2 [A] [B] [C] [D] | 7 [A] [B] [C] [D]  | 12 [A] [B] [C] [D] |
| 3 [A] [B] [C] [D] | 8 [A] [B] [C] [D]  | 13 [A] [B] [C] [D] |
| 4 [A] [B] [C] [D] | 9 [A] [B] [C] [D]  | 14 [A] [B] [C] [D] |
| 5 [A] [B] [C] [D] | 10 [A] [B] [C] [D] | 15 [A] [B] [C] [D] |

第二部分 (非选择题, 共 55 分)

16. (12 分)

(1) (4 分) \_\_\_\_\_

(2) (8 分) \_\_\_\_\_

17. (9 分)

(1) (3 分) \_\_\_\_\_

请在各题目的答题区域内作答, 超出黑色矩形边框限定区域的答案无效



请在各题目的答题区域内作答，超出黑色矩形边框限定区域的答案无效

(2) (8分)

20. (9分)

(1) (4分)

(2) (5分)

请在各题目的答题区域内作答，超出黑色矩形边框限定区域的答案无效

历史第

## 北京高一高二高三期末试题下载

北京高考资讯整理了【2022年1月北京各区各年级期末试题&答案汇总】专题，及时更新最新试题及答案。

通过【北京高考资讯】公众号，对话框回复【期末】或者底部栏目<试题下载→期末试题>，进入汇总专题，查看并下载电子版试题及答案！

