



南充市教育科学研究所学生成绩查询APP下载网址
查分网址：<http://www.sxw.cn/download>

秘密★启封并使用完毕前【考试时间：2022年12月14日上午9:00-11:30】

南充市高2023届高考适应性考试（一诊）

文科综合能力测试

注意事项：

1. 本试卷分第I卷（选择题）和第II卷（非选择题）两部分。答题前，考生务必将自己的姓名、考生号填写在答题卡上。
2. 回答第I卷时，选出每小题答案后，用铅笔把答题卡上对应题目的答案标号涂黑，如需改动，用橡皮擦干净后，再选涂其它答案标号。写在试卷上无效。
3. 回答第II卷时，将答案写在答题卡上，写在试卷上无效。
4. 考试结束，将答题卡交回。

第I卷

本卷共35小题，每小题4分，共140分。在每个小题给出的四个选项中，只有一项是符合题目要求的。

20世纪80年代，“洋垃圾”开始进入中国，成为当时中国工业发展一种难得的“资源捷径”（如：将回收来的废旧塑料再生作为工业原料加以利用，其成本远远低于从石油中提取合成）。2022年10月21日，我国已全面禁止“洋垃圾”入境，实现固体废物零进口目标。据此完成1-2题。

1. 我国当时进口洋垃圾的主要目的是

- A. 废弃物回收利用
B. 节约生产成本
C. 降低石油消耗
D. 提高垃圾处理水平

2. 目前我国禁止洋垃圾进口是因为

- A. 难以分类
B. 利润下降
C. 来源减少
D. 环境污染

重庆市涪陵区有着中国“榨菜之乡”的美誉。涪陵榨菜的销售网络覆盖全国主要省市，2011年在广东率先市场下沉至县乡级，2014年开始，其他区域销售渠道逐步往三四线城市下沉，但在各区域市场仍具有不同层次的下沉空间。（注：下沉市场指的是三线以下城市、县镇与农村地区的市场）。据此完成下列3-5题。

2018年涪陵榨菜在中国大陆各地区下沉进度及销售金额

| 区域 | 覆盖省份 | 下沉进度 | 2018销售金额 (百万元) |
|------|-------------|----------|-------------------|
| 华南区 | 粤、闽、琼 | 县级、广东乡镇级 | 564.38 |
| 华东区 | 沪、浙、苏 | 县级 | 241.81 |
| 华北区 | 京、津、冀、鲁 | 市级 | 252.18 |
| 华中区 | 湘、鄂、赣、贵 | 市级 | 228.33 |
| 其它地区 | 西北、东北、中原、西南 | 市级 | 611.24 ✓ |

3. 涪陵榨菜销售网络的下沉主要体现了地理事物空间扩张的

- A. 均衡性
B. 集中性
C. 等级性
D. 临近性

4. 涪陵榨菜在广东率先市场下沉至县乡级的主要原因是

- A. 市场成熟
B. 消费水平低
C. 劳动力丰富
D. 政策支持

据表推测沿陵榨菜市场潜力最大的地区是
 A. 华南、华东
 B. 华东、华北
 C. 华南、华中
 D. 华中、其它地区

图1为“美国五大湖区年平均降雪量(1971-2000年)的空间分布示意图”，据此完成6-8题。

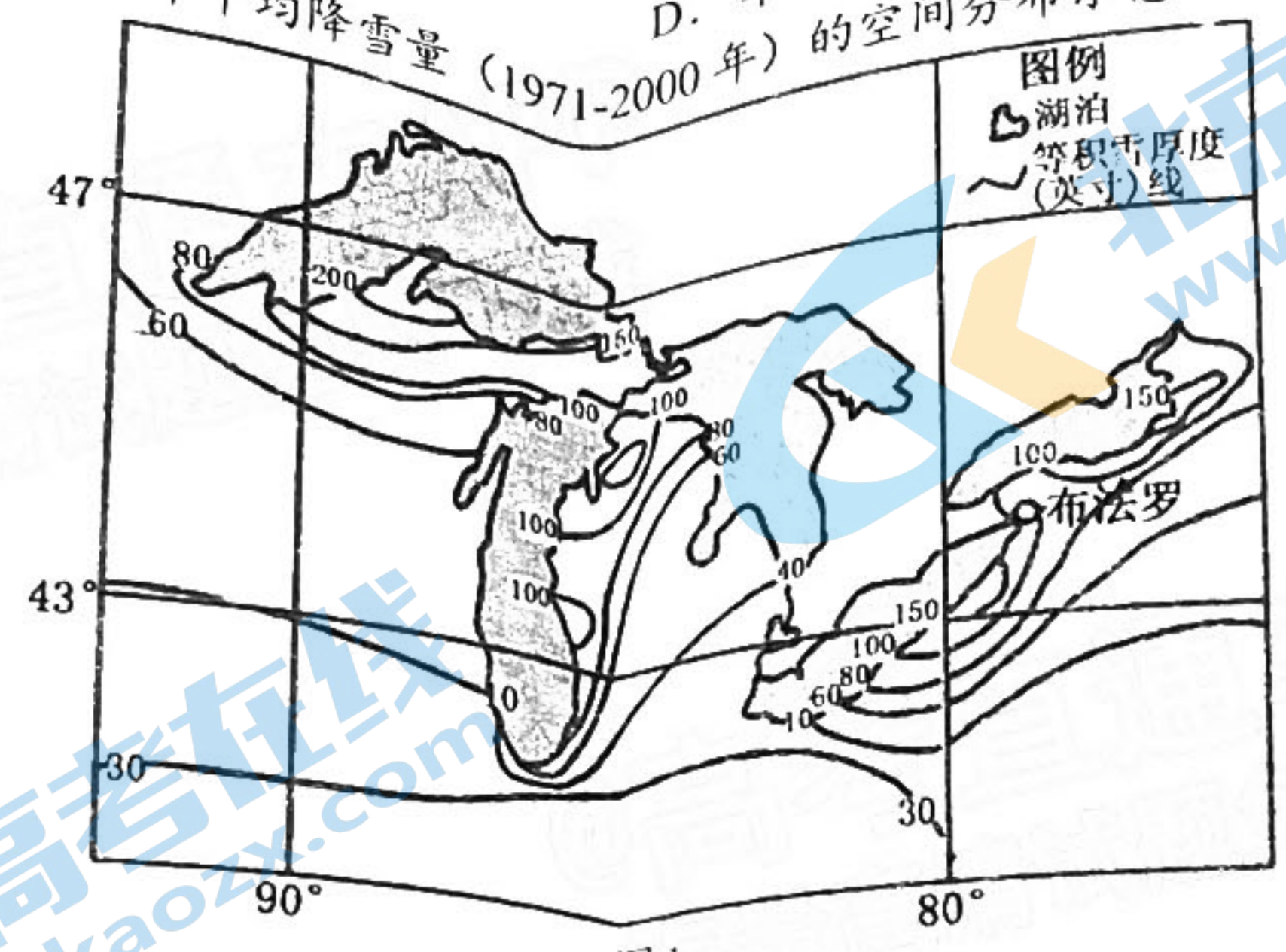


图1

- 图示区域年平均降雪量的空间分布是
 A. 东南部
 B. 东北部
 C. 西北部
 D. 西南部
7. 布法罗降雪的水汽主要来自
 A. 北冰洋
 B. 大西洋
 C. 五大湖
 D. 墨西哥湾
8. 最符合该区域降雪过程的是
 A. 冷空气主动向暖空气移动，抬升形成降雪
 B. 暖空气主动向冷空气移动，抬升形成降雪
 C. 暖空气移动过程中受地形抬升形成降雪
 D. 冷空气被湖泊增温增湿后，抬升形成降雪

2022年10月9日，中国某科考队对察隅县(图2)的一棵冷杉进行了人工攀树测量与无人机辅助测量相结合，最终确定这棵树的准确高度为83.4米，成为“中国第一高树”。该树伫立于察隅河支流岗日嘎布曲边的河漫滩森林之中。科考队在树身上共发现有高等植物50余种，包括攀缘植物、附生植物、寄生植物等多种类型。据此完成9-11题。

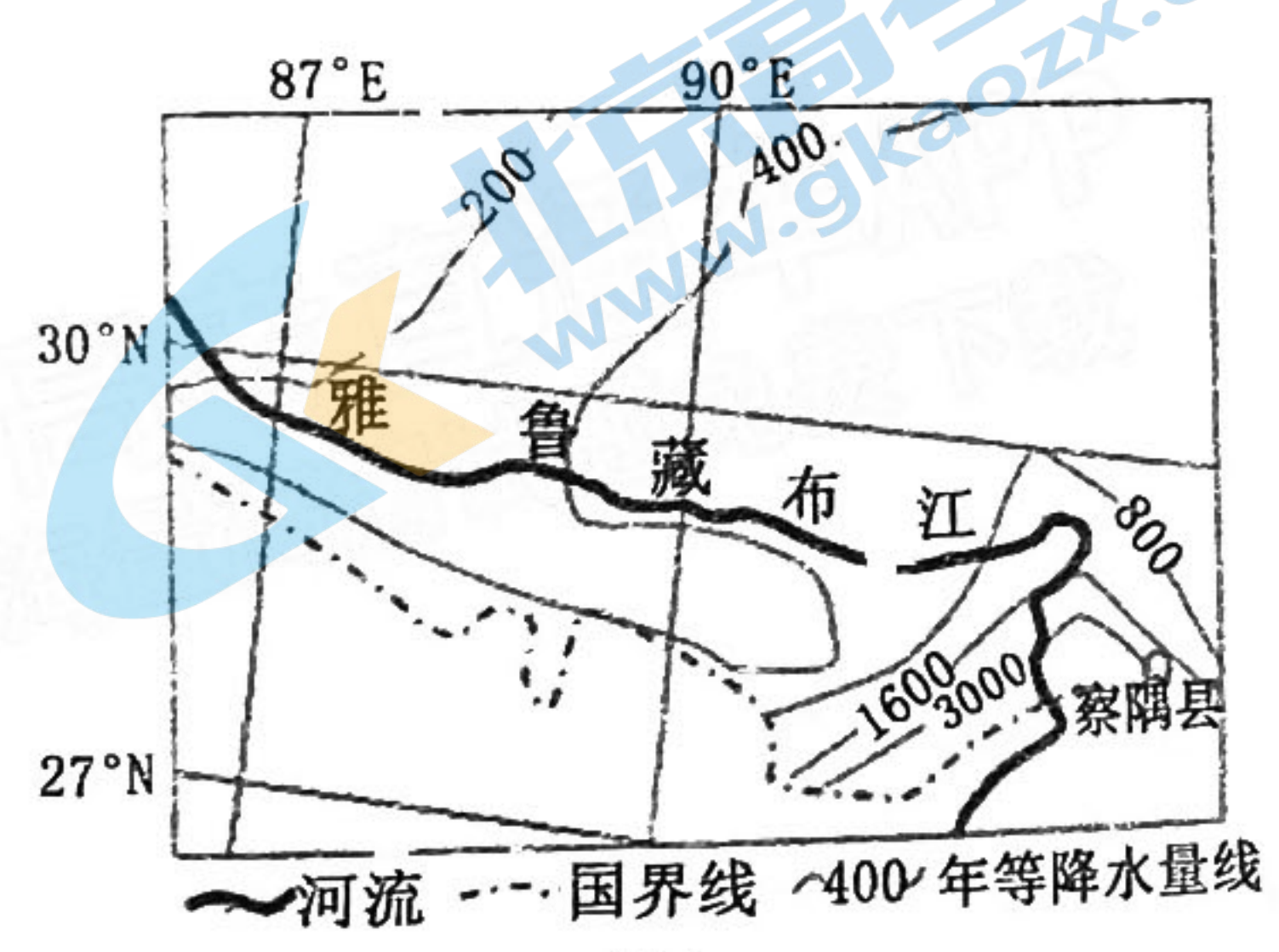


图2

9. 对“中国第一高树”的生长影响最小的是
 A. 水热丰富
 B. 风力较弱
 C. 土壤肥沃
 D. 地势平坦
10. 与采用人工攀树测量的原因不符的是
 A. 需要采集生物标本
 B. 需要诊断病虫害
 C. 比无人机测量更准确
 D. 比无人机测量更方便
11. 对该树全面考察的主要作用是
 ①研究生物多样性
 ②计算木材蓄积量
 ③开发旅游资源
 ④调查森林群落结构
 A. ①②
 B. ③④
 C. ①④
 D. ②③

2022年卡塔尔世界杯期间，中国制造、中国建造、中国品牌在世界杯赛场上频频亮相。中国制造的纯电动大巴“大金龙”的卢塞尔体育场，由中国铁建联合总包承建；中国制造的纯电动大巴，成为球队、球迷和工作人员往返场馆的班车；足球、吉祥物、口哨、抱枕、马球衫……约70%的世界杯周边商品产自义乌，中国制造成为闪耀世界杯的“明星”。中国智造闪耀世界杯

- ①彰显我国实体经济基础坚实、制造业实力雄厚
- ②显示我国实施“走出去”战略取得的重大成果
- ③表明我国为干世界经济发展注入强劲动能
- ④是我国实现国际国内双循环新格局的根本动力

A. ①② B. ①③ C. ②④ D. ③④

2022年8月29日，国务院召开第十次全国深化“放管服”改革电视电话会议。会议强调，建设法治政府，政府的权力边界就是法律法规，维护市场主体和群众合法权益，保护合法产权。法治政府是

- ①全能科学的政府，要管理市场和人民一切需求的事项
- ②依法行政的政府，依照法定程序和方式从事执法活动
- ③权责相同的政府，法定职责必须为、法无禁止即可为
- ④公平公正的政府，审慎用权，自觉接受人民群众监督

A. ①② B. ①③ C. ②④ D. ③④

党的二一大通过的《中国共产党章程(修正案)》决议指出，国有企业党委(党组)发挥领导作用，把方向、管大局、保落实，依照规定讨论和决定企业重大事项。国有企业和集体企业中党的基层组织，围绕企业生产经营开展工作。据此，国企党组织应

- ①发挥党管人才的优势，为国企提质增效凝心聚力
- ②成为国企的最高权力机构，更好地发挥领导作用
- ③加强自身建设，为国企改革和发展提供方向保证
- ④落实生产经营，在国企经营中发挥先锋模范作用

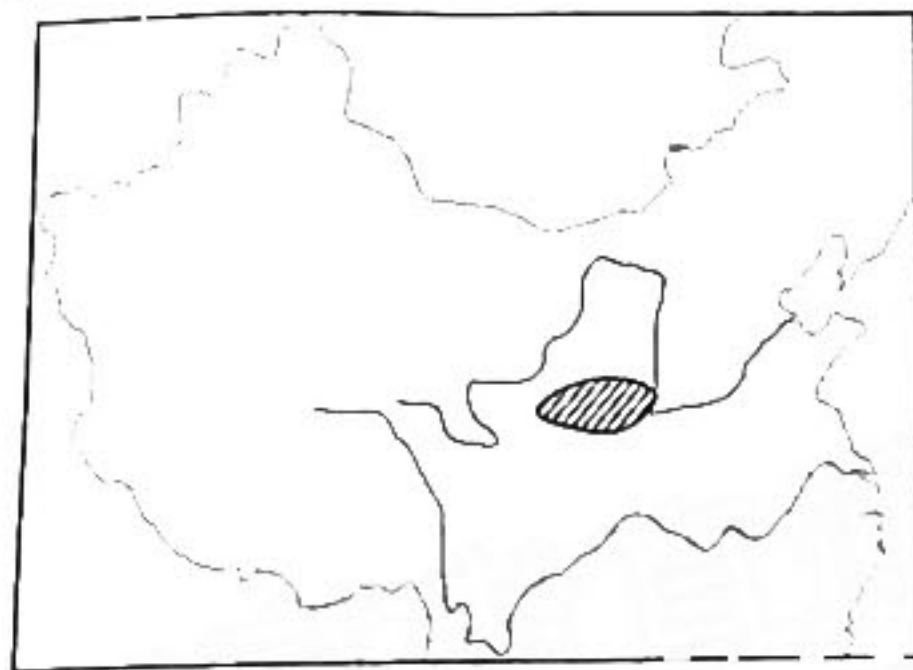
A. ①③ B. ①④ C. ②③ D. ②④

2022年9月23日，为深入贯彻落实习近平总书记关于“三农”工作的重要论述，全国政协围绕“充分发挥职业教育在乡村振兴中的作用”召开双周协商座谈会，11位委员和专家学者在会上发言，126位委员在全国政协委员履职平台上发表意见，积极建言献策。

- ①委员履职尽责，充分行使了监督权、审议权和表决权
- ②发挥民主党派政治联盟的作用，推进科学精准施策
- ③委员积极建言献策，促进了国家决策的民主化科学化
- ④政协履行参政议政职能，发挥凝聚人心、汇聚力量的优势

B. ①③ C. ②④ D. ③④

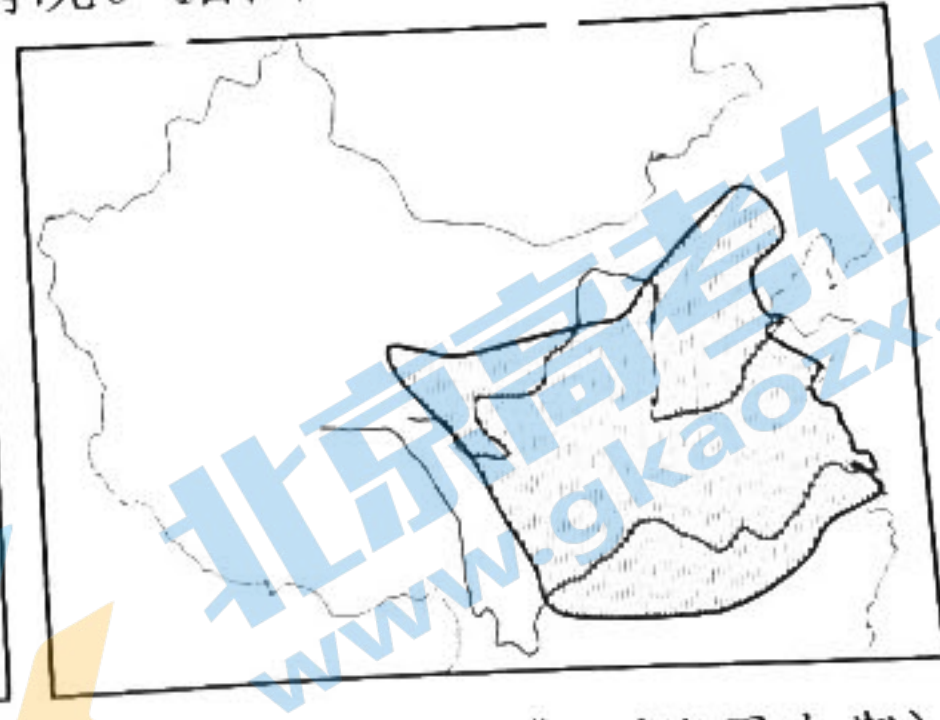
24. 下图是先秦不同时期文献记载的大禹治水区域范围变化情况。据图可知，先秦时期



《诗经·大雅》（西周）



《墨子·兼爱》（战国初期）



《孟子·滕文公》（战国中期）

- A. 大禹治水的传说不断丰富
- C. 国家统一的趋势已经出现

- B. 华夏文明的影响不断扩大
- D. 儒墨两家的思想趋于融合

西汉时期对开发边疆的移民，大司农会组织农耕并提供补给。政府还实行假民公田和赋民公田等制度。到东汉，大司农将发展农业的主动权交给了地方政府，豪族在开发农业中扮演了重要角色，大批流民和欲求保护的自耕农纷纷投靠豪强地主。这一变化

- A. 改变了传统“重本轻末”思想
- C. 加速农民人身依附关系的发展

- B. 推动土地兼并现象的出现
- D. 弱化了对地方政府的控制

《南史》载：梁武帝喜集文士策经史事，在会策锦被（华丽被子）典故中，众人均说帝已举完。帝试问正在编《类苑》的刘峻，他列举出十余个，“帝不觉失色，自是恶之，不复引见。及峻《类苑》成，帝即命诸学士撰《华林编略》以高之。”这可用于说明，当时

- A. 政治因素影响文化发展
- C. 南梁政权推行文化立国

- B. 专制统治钳制文化发展
- D. 知识分子崇尚功利主义

27. 唐初，府兵服役时免租调，要自备武装、衣粮，因此大多选家境殷实之人，军队中始终保持一定数量的品官子弟。安史之乱后，主要募兵来源为失地农民和无业游民，军镇节度使实际掌管了征兵权，他们往往多征镇兵，士兵只知将帅而不知朝廷。这一变化

- A. 提高了政府军队的战斗力
- C. 扩大了唐王朝的统治基础

- B. 减轻了国家财政的负担
- D. 加剧了政治局势的动荡

28. 北宋时期，“海外东南诸番国无一国不贪（宋钱）。”沈括感叹“泄中国之钱于北者岁不知其几何”。北宋政府虽明令禁止“铜钱出外界”，但“法禁虽严，奸巧愈密”，铜钱外流难以遏制。北宋铜钱外流的主要原因是

- A. 战争失败的巨额赔款
- C. 对外贸易的高度繁荣

- B. 榷场互市及走私猖獗
- D. 朝贡贸易及笼络诸蕃

明朝中后期，内阁“大事皆首辅主持，次辅以下不敢与较”。清朝内阁设置了由满州旗人垄断的领班大学士，但领班大学士的地位与其他阁臣差别不大。阁臣的权势高低主要由其能否“参预机务”决定。这一变化表明，清朝

- A. 君主治政风格更加独断
- C. 中枢官僚体制趋于成熟

- B. 注意调节统治集团内部矛盾
- D. 重视吸取明王朝衰亡的教训

“三个务必”与“两个务必”一脉相承，又与时俱进，丰富拓展了“两个务必”的思想内涵和时代意蕴，是我们党解决百年大党独有难题的必然要求，是我们党走好新时代赶考之路的必然要求。

结合材料并运用政治生活知识，说明全党牢记“三个务必”对走好新时代赶考路的意义。（12分）

40. 阅读材料，完成下列要求。（28分）

党的二十大擘画了以中国式现代化全面推进中华民族伟大复兴的宏伟蓝图。

党的二十大报告中指出，在新中国成立特别是改革开放以来长期探索和实践的基础上，经过十八大以来在理论和实践上的创新突破，我们党成功推进和拓展了中国式现代化。中国式现代化，是中国共产党领导的社会主义现代化，既有各国现代化的共同特征，更有基于自己国情的中国特色。我们要坚定不移推进中国式现代化，以中国式现代化全面推进中华民族伟大复兴。

党的二十大报告将促进民营经济发展壮大提到了新的高度。对民营企业的态度由“支持”转变为“发展壮大”。报告强调，优化民营企业发展环境，依法保护民营企业产权和企业家权益，促进民营经济发展壮大。体现了党中央对民营经济的高度重视和大力支持。但当前一些民营企业在经营发展中遇到不少困难和问题，有的民营企业家形容为遇到了“三座大山”：市场的冰山、融资的高山、转型的火山。应该承认，当前一些民营经济遇到的困难是现实的，甚至相当严峻，必须高度重视。只有正确认识民营经济的发展困难，才能有针对性地解决困难，推动民营经济实现更大发展。

(1) 结合材料并从事物矛盾问题的精髓角度，阐述你对中国式现代化的理解。（12分）

(2) 结合材料并运用经济知识，谈谈我国应如何促进民营经济发展壮大。（12分）

(3) 学校团委发起“请党放心，强国有我”主题志愿活动，请你设计两个具体志愿服务项目助力乡村振兴。（4分）

41. 阅读材料，完成下列要求。（25分）

材料一 长城是古代中原王朝在当时历史条件下，处理古代世界一直无法彻底解决的欧亚内陆族群军事威胁的一种方案。……在世界近代史开启之初，明朝在具备强大实力的情况下，由于政权性格呈现“内向”特征，……对于海疆开拓甚为漠视，反而在北部陆疆、东部沿海大规模构建长城防御体系。明代中国这一做法，虽用较为经济的方式，在一段时间内维持了内政与边防、财政和军事之间的平衡，但从长期来看，并没有解决海陆边疆问题。在“南倭北虏”威胁之下，政府长期陷入财政危机与政权困境。

——摘编自赵现海《十字路口的长城》

材料二 在中国古代，修筑长城是历代王朝各项劳役中最为残酷、最具代表性的一项劳役，以致“孟姜女哭长城”的故事家喻户晓。近代以来，人们对长城的看法则经历了戏剧性转变。20年代末国外著名报刊《良友》写道“在现代物质竞争中，西方每占优胜。……虽然中国建造长城时，美洲还没被发现，可惜今日长城老而无用了。”30年代初长城抗战爆发后，在各大新闻媒体的报道下长城被赋予了新的“身体”，出现了人的长城，铁血的长城等观念。1935年田汉在《义勇军进行曲》写到：“把我们的血肉，筑成我们新的长城”，意在重新唤起民众对于长城抗战的记忆。长城由此升华为一座更具精神意味的、新的长城。

- (1) 根据材料一指出明代修筑长城的原因，结合所学知识简析其影响。(10分)
- (2) 根据材料二概括民众对长城态度的变化，结合所学知识分析变化的原因。(10分)
- (3) 根据材料并结合所学知识，简析影响人们对长城形象认知的因素。(5分)

42. 阅读材料，完成下列要求。(12分)

材料 1935年，胡焕庸先生提出了“瑛琿（今黑河）—腾冲线”（即“胡焕庸线”）概念。他通过调查统计数据揭示出当时中国人口分布的巨大差异，即东侧半壁约40%的国土上集中了90%以上人口，西侧半壁约60%的国土上居住的人口却不足10%。有学者认为“胡焕庸线”还是一条文明分界线：“它的东部，是农耕的、宗法的、科举的、儒教的……是大多数人理解的传统中国；而它的西部，则是或游牧或狩猎，是部族的、血缘的、有着多元信仰和生活方式的非儒教中国。”两千多年来，“胡焕庸线”是活动的，时进时退，南北、东西有很大的“摆动”。甚至可以说，“胡焕庸线”的进退及其两侧古来不断发生的冲突与交往，是中国、中华民族形成发展的一个重要因素及表现。

——摘编自中国新闻社《中国式现代化如何破解“胡焕庸线”难题？》
根据材料，从文明的视角围绕“胡焕庸线”提炼一个观点，结合中国古代史予以说明。（要求：观点明确，史实正确，史论结合，逻辑清晰。）

(二) 选考题（请考生从给出的2道地理题、2道历史题中每科各选一题作答，如果多做，则按所做的第一题计分）

43. (10分) 【地理——选修3：旅游地理】

办好文旅会，献礼二十大。2022年11月7日至10日，音“闯”而来，“音”你更精彩，巴蜀音乐季在阆中古城火爆上演。这次的音乐节，给阆中人民带来很多的娱乐项目，结合阆中本地文化倾心打造多种特色演出。首场开演就线下吸引近千人观看。活动伴着音乐吹响美食集结号烧烤、特色小吃，联合街区海鲜、火锅、酒吧等多类型餐饮业态打造多品类特色摊位。近几年阆中的变化非常大，阆中市也希望借助文旅大会，使经济发展越来越好。

简述阆中举办巴蜀音乐季活动的意义。

关于我们

北京高考在线创办于 2014 年，隶属于北京太星网络科技有限公司，是北京地区极具影响力的中学升学服务平台。主营业务涵盖：北京新高考、高中生涯规划、志愿填报、强基计划、综合评价招生和学科竞赛等。

北京高考在线旗下拥有网站门户、微信公众平台等全媒体矩阵生态平台。平台活跃用户 40W+，网站年度流量数千万量级。用户群体立足于北京，辐射全国 31 省市。

北京高考在线平台一直秉承 “精益求精、专业严谨” 的建设理念，不断探索 “K12 教育+互联网+大数据” 的运营模式，尝试基于大数据理论为广大中学和家长提供新鲜的高考资讯、专业的高考政策解读、科学的升学规划等，为广大高校、中学和教科研单位提供 “衔接和桥梁纽带” 作用。

平台自创办以来，为众多重点大学发现和推荐优秀生源，和北京近百所中学达成合作关系，累计举办线上线下升学公益讲座数百场，帮助数十万考生顺利通过考入理想大学，在家长、考生、中学和社会各界具有广泛的口碑影响力

未来，北京高考在线平台将立足于北京新高考改革，基于对北京高考政策研究及北京高校资源优势，更好的服务全国高中家长和学生。



微信搜一搜

北京高考资讯

官方微信公众号: bjgkzx

官方网站: www.gaokzx.com

咨询热线: 010-5751 5980

微信客服: gaokzx2018

关注北京高考在线官方微信: [北京高考资讯\(微信号:bjgkzx\)](https://www.gkzxx.com), 获取更多试题资料及排名分析信息。