

2022 北京东城初三（上）期末

历史

学校_____ 班级_____ 姓名_____ 教育 ID 号_____

考生须知：

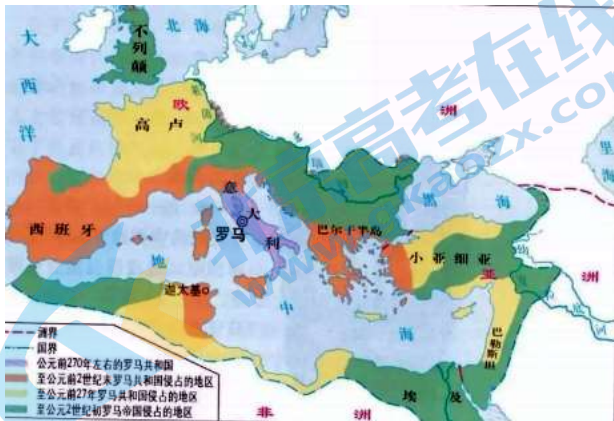
- 1.本试卷共 10 页，共 24 道小题，满分 70 分，考试时间 70 分钟。
- 2.在试卷和答题卡上准确填写学校、班级、姓名和教育 ID 号。
- 3.试题答案一律填涂或书写在答题卡上，在试卷上作答无效。
- 4.在答题卡上，选择题用 2B 铅笔作答，其他试题用黑色字迹签字笔作答。
- 5.考试结束后，请将答题卡交回。

一、选择题（共 20 小题，每小题 1.5 分，共 30 分。在每小题所列的四个选项中，只有一项符合题目要求）

1. 清朝的斌椿曾在其游记《乘槎笔记》中描述了一个国家的“古王陵”，其“相连三座，北一陵极大，志载基阔五里，顶高五十丈”，皆由巨石垒成，外表为“方下锐上”。该古迹折射出（ ）
A. 古埃及国王的无限权力
B. 古巴比伦王国的强盛
C. 古印度森严的种姓制度
D. 佛教创立与向外传播
2. 刻写在下图石柱上的是迄今已知世界上第一部较为完整的成文法典，这一人类宝贵文化遗产诞生于（ ）



- A. 黄河流域
B. 两河流域
C. 尼罗河流域
D. 印度河流域
3. 以下是一位同学准备的课堂讨论发言稿，①处的内容应该是（ ）
①_____给东方人民带来了巨大的灾难，掠夺了东方世界无数的财富。但是它在客观上使希腊文明与埃及、巴比伦和印度的文明得以接触、交流，促进了东西方文化的大交汇，加强了东西方之间的经济联系和贸易往来。
A. 雅利安人入侵
B. 雅典民主政治
C. 亚历山大东征
D. 基督教 传播
4. 下图有助于我们了解（ ）



- A. 古代罗马的扩张
B. 法兰克王国的发展
C. 西欧城市的自治
D. 欧洲早期大学出现

5. 1970年，陕西西安何家村出土的唐代文物中有5枚日本银币，币面有“和同开你（bǎo）”四字。据考证，这批银币铸造于日本奈良王朝元明天皇和同年间（708—714年）。此银币形制和中国始铸于唐高祖武德四年（621年）的开元通宝完全相同。这批银币有助于我们了解（ ）

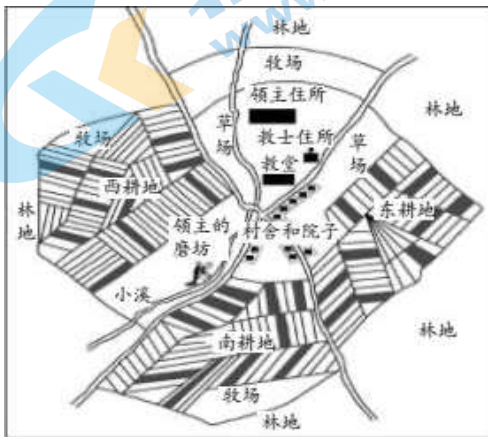


- A. 大和政权基本实现统一
B. 日本积极筹划大化改新
C. 日本受到中国文化直接影响
D. 日本开始进入幕府统治时期

6. 中国的造纸术、指南针、火药等重大发明和印度的棉花、食糖等都是由阿拉伯人传入欧洲的。这表明（ ）

- A. 阿拉伯帝国是当时世界上疆域最大的帝国
B. 穆罕默德创立了伊斯兰教并对外广泛传播
C. 阿拉伯人担当起了沟通东西方文化的角色
D. 阿拉伯人创造了有自己特色的阿拉伯文化

7. 下图是对于中世纪西欧庄园的图解，下列选项中描述正确的是（ ）



- A. 庄园以农业为主
B. 庄园以城市为基础
C. 庄园拥有自治的权力
D. 手工工匠和商人是主要居民

8. 欧洲中世纪晚期，一些商人向雇佣劳动者提供原料和统一的生产工具，使他们在同一地点集中劳动。上述现象反映出（ ）

- A. 自治城市的出现
B. 商业行会的形成
C. 手工工场的发展
D. 租地农场的产生

9. 有学者指出，14世纪中叶，意大利人尤其是佛罗伦萨新生的资产阶级觉得自己处在一个正在告别中世纪的“新时代”，这个时代所涌现的文化标志着古代的“再生”。这些新生的资产阶级（ ）

- A. 宣扬禁欲主义
B. 倡导人文主义
C. 主张神权至上
D. 否定古典文化

10. 下表①和②处应填写（ ）

作者	作品
①_____	《神曲》
达·芬奇	《蒙娜丽莎》《最后的晚餐》
②_____	《哈姆雷特》《罗密欧与朱丽叶》

- A. ①彼特拉克 ②拉斐尔
C. ①但丁 ②米开朗琪罗

- B. ①薄伽丘 ②莎士比亚
D. ①但丁 ②莎士比亚

11. 下图中白色区域为不同时期西方人对世界 认知范围，出现变化的主要原因是（ ）



公元 1 年



公元 1600 年

- A. 丝绸之路开通 B. 郑和七下西洋 C. 新航路 开辟 D. 蒸汽机的应用

12. 明朝中后期，葡萄牙人攫取了在我国澳门的居住权，西班牙和荷兰分别占据了我国台湾岛的北部和南部。这反映出（ ）

- A. 封建庄园经济的盛行 B. 早期殖民掠夺的发展 C. 文艺复兴运动的传播 D. 第一次工业革命的扩展

13. 据统计，1783—1793 年，英国利物浦的奴隶贩子净赚了约 1200 万英镑。到 18 世纪末，利物浦控制了欧洲 41%，英国 80% 的奴隶贸易。当时利物浦的一位作家写道：“人类的血和肉是我们白手起家的代价。”由此可见（ ）

- ①黑奴贸易是欧洲资本原始积累的重要来源 ②利物浦最早开始贩运黑人奴隶
③利物浦的兴起以牺牲非洲人民利益为代价 ④英国是三角贸易的主要受惠国

- A. ①②③ B. ①③④ C. ②③④ D. ①②④

14. 下图是一幅描绘 1215 年英王约翰与贵族签订《大宪章》的漫画。画中贵族们用《大宪章》紧紧地裹挟着国王，国王的手脚被牢牢束缚。这幅漫画表现出（ ）



- A. 贵族推翻了国王的统治 B. 英国宣布为共和国 C. 英国确立了君主立宪制 D. 国王权力受到限制

15. 以下示意图中①处应填写（ ）

议会召开	处死查理一世	查理二世复辟	①
1640 年	1649 年	1660 年	1688 年

- A. 詹姆士一世推崇“君权神授” B. 议会向国王呈递《权利请愿书》
C. 克伦威尔被议会尊为“护国主” D. 议会迎请玛丽、威廉入主英国

16. 以下反映美国独立的油画，按照历史事件发生的时间顺序排列应为（ ）



①大陆军取得萨拉托加大捷后，英将伯格因投降 ②大陆会议通过由杰斐逊起草的《独立宣言》



③美法联军在约克镇与英军激战，英将康华利率部下投降 ④英国承认美国独立后，华盛顿辞去了大陆军总司令的职务

A. ②④③① B. ②①③④ C. ③②④① D. ③①②④

17. 下列内容是一位同学整理的关于启蒙运动的部分课堂笔记，该部分笔记的主题应是（ ）

18 世纪开始，法国封建制度日益腐朽没落。

国王路易十五实施的加重税收等措施阻碍了资本主义的发展。

法国资产阶级要求摆脱专制统治。

A. 启蒙运动的背景 B. 启蒙运动的内容 C. 启蒙运动的发展 D. 启蒙运动的影响

18. 历史学家米涅在《法国革命史》中指出：“拿破仑统治时期的政治虽然是专制的，但法国却有了超越于欧洲所有社会的民事立法。”材料反映的史实是（ ）

A. 三级会议的召开、攻占巴士底狱 B. 制定 1791 年宪法、建立法兰西第一共和国
C. 处死国王路易十六、打退反法联军 D. 制定《法国民法典》、建立法兰西第一帝国

19. 对下表内容解读正确的是（ ）

发明	发明者	影响
飞梭	凯伊（钟表匠）	提高了织布的速度
珍妮机	哈格里夫斯（织工）	提高了纺纱的效率
水力纺纱机	阿克莱特（理发师）	提高了棉纱的质量

①发明者大多出身于工匠 ②发明均出现在交通领域 ③发明都使用蒸汽为动力 ④发明促进纺织业的发展

A. ①② B. ②③ C. ③④ D. ①④

20. 以下内容是一位历史人物 部分经历，他是（ ）

时间	1818 年	1843 年	1849 年	1883 年


事件	出生于德国特里尔市	在《莱茵报》多次发表文章抨击普鲁士政府，该报被查封后，被迫转赴法国巴黎	移居伦敦，撰写了《资本论》等重要著作	在伦敦去世，葬于海格特公墓
----	-----------	-------------------------------------	--------------------	---------------

A. 马克思 B. 恩格斯 C. 罗伯斯庇尔 D. 亚当·斯密

二、材料分析题（共4小题，21题11分，22题9分，23题11分，24题9分，共40分）

21. 17、18世纪，资产阶级革命的时代来临。

材料一 乔治·华盛顿（1732—1799），美国第一任总统。

		<p>“按华盛顿，异人也。起事勇于胜广，割据雄于曹刘，既已提三尺剑，开疆万里，乃不僭位号，不传子孙，而创为推举之法，几于天下为公，赳赳乎三代之遗意。其治国崇让善俗，不尚武功，亦迥与诸国异。余尝见其画像，气魄雄毅绝伦，呜呼，可不谓人杰矣哉。米利坚合众国以为国，幅员万里，不设王侯之号，不循世及之规，公器付之公论，创古今未有之局，一何奇也？泰西古今人物，能以华盛顿为称首哉！”</p>
<p>①美国 1787 年宪法原件 现藏于美国国家档案馆</p>	<p>②华盛顿纪念碑 1885 年落成在美国国家广场</p>	<p>③华盛顿纪念碑中的汉字碑文出自清代徐继畲所著《瀛寰志略》（1848 年成书）</p>

（1）从材料一中选出研究华盛顿事迹最可信的一则材料。（写序号）依据材料，并结合所学，概述华盛顿的贡献。

材料二 以下是与英、法、美资产阶级革命相关的三部文献（节选）。

文献 1	文献 2	文献 3
·凡未经议会同意，以国王权威停止法律或停止法律实施之僭越权力，为非法权力。	人人生而平等，他们都从他们的“造物主”那边被赋予了某些不可转让的权	法律是公共意志的表现。全国公民都有权亲身或经由其代表去参与法律的制定。法律对于所有的人，无论是施行保

<p>·凡未经议会准许，借口国王特权，为国王而征收，或供国王使用而征收金钱，超出议会准许之时限或方式者，皆为非法。</p> <p>·除经议会同意外，平时在本国内征募或维持常备军，皆属违法。</p>	<p>利，其中包括生命权、自由权和追求幸福的权利。</p> <p>为了保障这些权利，所以才在人们中间成立政府。</p> <p>而政府的正当权力，系得自被统治者的同意。</p>	<p>护或处罚都是一样的。在法律面前，所有的公民都是平等的，故他们都能平等地按其能力担任一切官职、公共职位和职务，除德行和才能上的差别外，不得有其他差别。</p>
--	---	---

(2) 从材料二中任选一则文献，说出相关文献名称及其意义。

材料三 启蒙运动者向东方寻求借鉴，吸收合乎理性法则的思想材料。而在远处东方、具有悠久历史和璀璨文明的中国传统文化，注重现实，①顺应自然“天道”，反对脱离实际，重视伦理道德，②强调“忠孝”“礼仪”“德治”“仁政”；主张以道德原则协调人际关系，维护社会和国家的安宁稳定，显然与欧亚大陆另一端的西欧启蒙思想家的理想有很多吻合的地方。

——摘编自余建华《西欧启蒙思想家的中国文化观探略》

(3) 结合所学，指出材料三中①、②处分别是中国“诸子百家”中哪一学派的主张。依据材料三，说出启蒙思想家对待中国传统文化的态度。

材料四 尽管大西洋把英、法、美三国永远地分隔开了，但三国的革命作为资产阶级革命不仅有一定联系，而且也是相互影响、相互促进的。……尽管这三场革命的经历如此错综复杂、文献内容千差万别，但有一件东西是不可或缺的，这个东西就是附于三国宪法中的《权利法案》，从这个意义上我们可以把这三场革命称为“权利革命”。

——摘编自何顺果《世界史：以文明演进为线索》

(4) 结合所学，概括“这三场革命”的共同作用。

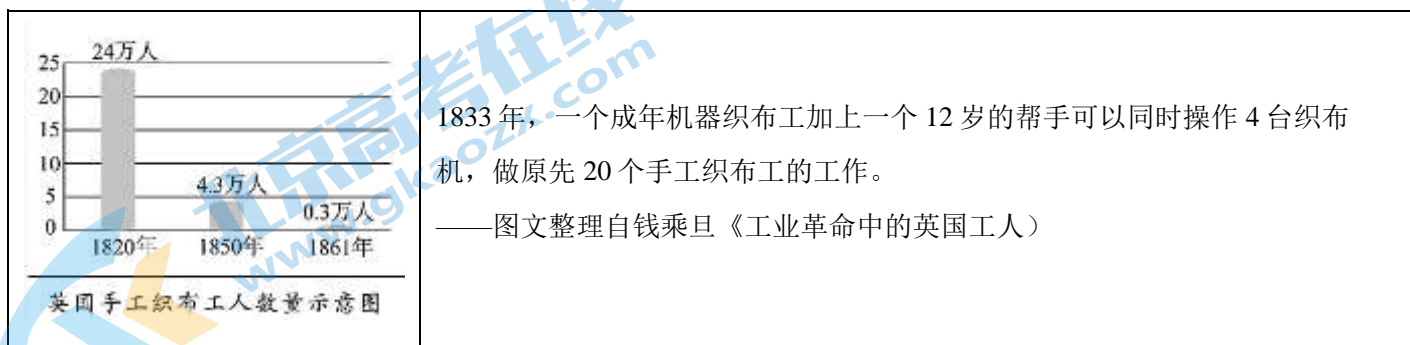
22. 工业革命对人类社会产生了深远影响。

材料一 英国最先具备了进行工业革命的前提条件。经过资产阶级革命，英国建立了君主立宪制度，国内政治长期稳定，政府以行政手段推动经济发展。英国的农业资本主义发展迅速，在农业变革的深度和广度方面，超出了欧洲其他国家。……农业革命为工业提供了大量自由劳动力和充裕的农产品，而且也扩大了国内市场。英国积极进行殖民扩张，确立了海上霸权，殖民掠夺促进了原始积累，也使英国拥有广阔的海外市场。国内外市场的迅速扩大要求手工业生产提供更多的产品，由此推动了技术革新。

——摘编自徐蓝《世界近现代史 1500—2007》

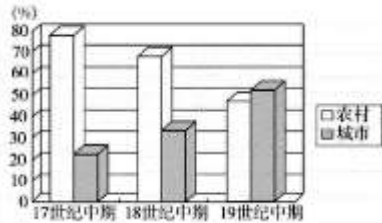
(1) 依据材料一并结合所学，概括英国最先具备进行工业革命的前提条件。

材料二



(2) 依据材料二，指出英国手工织布工人数量的发展趋势。并结合所学，说出这一趋势出现的原因。

材料三



英国农村人口和城市人口占总人口比例示意图

铁路首次造就了全国一体化的经济。火车站和铁路编组站会占用城镇的空间，从而改变了城镇中心的面貌。铁路提供了便宜的交通工具，使得境况较好的人可远离市中心、居住到郊区；铁路也会让一切蒙上一层烟尘。肮脏和喧闹是维多利亚时代城市的特征：火车、工厂和房屋的烟囱以及马匹带来污物；行进在圆石路上的手拉车、马车和马匹制造各种噪声。

——《牛津英国史》

(3) 依据材料三，谈谈工业革命对人们带来的影响

23. 马克思主义是不断发展的开放的理论，始终站在时代前沿。

材料一 科学社会主义的创立者是马克思和恩格斯，他们的卓越才智和特有经历对这一伟大思想体系的形成起了重要作用。欧洲资本主义的发展和工人运动的兴起，为科学社会主义的产生提供了现实的依据。当时欧洲的三大思潮，即德国古典哲学、英国古典政治经济学、英法两国的空想社会主义，则为科学社会主义的产生提供了直接的理论来源。马克思、恩格斯还从包括古希腊古罗马哲学、文艺复兴运动的思想成果、法国复辟时期的历史学家的进步思想，以及自然科学发展的最新成果中，广泛汲取知识、智慧和思想精华。

——摘编自《社会主义发展简史》

(1) 依据材料一并结合所学，概括科学社会主义诞生的历史条件。

材料二 “共产党人不屑于隐瞒自己的观点和意图。他们公开宣布：他们的目的只有用暴力推翻全部现存的社会制度才能达到。让统治阶级在共产主义革命面前发抖吧。无产者在这个革命中失去的只是锁链。他们获得的将是整个世界。”

“全世界无产者们，联合起来！”

(2) 结合所学，指出材料二出自哪部著作。这部著作的发表有什么历史意义？

材料三 为了反对卖国政府，1871年3月18日，巴黎人民举行武装起义，推翻了资产阶级反动统治，建立了新生政权。马克思曾评价道“（这一新生政权）将永远作为新社会的光辉先驱而为人所称颂”。

(3) 写出材料三中的“新生政权”的名称。结合所学，谈谈你对“新社会的光辉先驱”的理解。

(4) 习近平在纪念马克思诞辰200周年大会上的讲话中指出：“在人类思想史上，没有一种思想理论像马克思主义那样对人类产生了如此广泛而深刻的影响。”结合所学，谈谈你对此句话的认识。

24. 人类共同创造出丰富多彩的冰雪文化。

材料一 清代民间主要冰雪活动

名称	区域	活动形式	用途
法喇	东北各族	似车但无轮无足，因其底平似犁，故又名爬犁	交通工具
滑擦	东北各族、京津地区	冰上滑擦者，所著之履皆有铁齿，滑行冰上，如星驰电掣，又名溜冰	出行、娱乐
拖冰床	京津地区	在什刹海、积水潭等处，人们将数张拖床并在一起，驰于冰上，赏景、欢饮、高歌以为乐	观光、休闲

冰上蹴鞠	京津地区	使用铁球，不设球门，人们在冰上争抢，以得球为胜	竞赛、娱乐
------	------	-------------------------	-------

(1) 依据材料一，概括清代民间主要冰雪活动的特点。

材料二 工业革命造就了早期的富裕中产阶级，他们追求物质和精神上的享受，愿意投入体育与运动，冰雪运动在这个时期得到迅猛发展。工业革命使欧美的经济 and 城市化进一步发展，大大开拓了人们参与冰雪运动的时间和空间。工业革命的技术革新，推动了冰雪运动的装备与设施不断完善和更新，新技术在冰雪运动中得到运用，新兴的冰雪项目也纷纷产生，近代冰雪文化逐渐形成。

(2) 依据材料二，概括工业革命对欧美冰雪运动发展的影响。

材料三 被誉为“冰丝带”的国家速滑馆是 2022 年北京冬奥会唯一新建的冰上竞赛场馆。它最大的亮点就在于场馆制冰使用了目前世界上最先进环保的技术——二氧化碳跨临界直冷制冰技术。这不仅能够使碳排放值趋近于零，制冰能效也能够得到大幅提升。此外，“冰丝带”还采用了独特的创新设计，冰面可进行分区制冷，对每块冰单独控温，能够实现冬奥会结束后场馆的“同时运行、不同使用”。



“冰丝带”

(3) 依据材料三，说出“冰丝带”的建设体现了怎样的理念，并谈谈你的认识。

2022 北京东城初三（上）期末历史

参考答案

一、选择题（共 20 小题，每小题 1.5 分，共 30 分。在每小题所列的四个选项中，只有一项符合题目要求）

1. 【答案】A

【解析】

【分析】

【详解】根据题干信息“‘古王陵’，其‘相连三座，北一陵极大，志载基阔五里，顶高五十丈’，皆由巨石垒成”，可知与“金字塔”相关，结合所学知识可知，金字塔是古埃及国王的陵墓，呈锥体状，下底为正方形，每个侧面都形似汉字的“金”字，故被中国人称为“金字塔”。金字塔的修建，反映了古埃及国王的无限权力。因此该古迹折射出古埃及国王的无限权力。A 项符合题意；古巴比伦王国汉谟拉比时期，为加强中央集权，制定了一部较为系统和完整的法典《汉谟拉比法典》，这是迄今已知世界上第一部较为完整的成文法典，排除 B 项；公元前 1600 年左右，雅利安人进入印度后，逐渐建立了严格的社会等级制度，史称“种姓制度”，在这一制度中，有四个等级，婆罗门、刹帝利、吠舍、首陀罗，排除 C 项；佛教创立与向外传播，与题干内容不符，排除 D 项。故选 A 项。

【点睛】

2. 【答案】B

【解析】

【分析】

【详解】结合所学知识可知，迄今已知世界上第一部较为完整的成文法典是古巴比伦国王汉谟拉比时期的《汉谟拉比法典》，诞生地是两河流域，B 项正确，排除 ACD 项。故选 B 项。

【点睛】

3. 【答案】C

【解析】

【分析】

【详解】据所学知识，亚历山大东征具有侵略性质，给东方人民带来了巨大的灾难，掠夺了东方世界无数的财富。但东征和帝国的建立也促进了东西方文化的大交汇，加强了东西方之间的经济联系和贸易往来，C 项正确；雅利安人入侵摧毁古巴比伦、古印度、古埃及文明，排除 A 项；雅典的民主政治与题干信息给东方人民带来了巨大的灾难，掠夺了东方世界无数的财富不符，排除 B 项；基督教的传播与题干信息给东方人民带来了巨大的灾难，掠夺了东方世界无数的财富不符，排除 D 项。故选 C 项。

【点睛】

4 【答案】A

【解析】

【分析】

【详解】根据图片可知地中海成为这个国家的“内湖”，国家版图横跨欧亚非三洲，体现古代罗马的扩张，A 项正确；法兰克王国的发展在此材料中未体现，排除 B 项；西欧城市的自治在此材料中未体现，排除 C 项；欧洲早期大学出现在此材料中未体现，排除 D 项。故选 A 项。

【点睛】

5. 【答案】C

【解析】

【分析】

【详解】根据题干可知，唐“开元通宝”始铸于 621 年，日本“和同开珎”始铸于 708 年，可见日本的铸币是仿制唐朝的，日本受到中国文化直接影响，C 项正确；材料题干没有体现大和政权基本实现统一，排除 A 项；图片银币铸造于日本奈良王朝元明天皇和同年间，大化改新是年孝德天皇进行改革，B 项排除；幕府统治是 12 世纪完全，镰仓幕府拥有独立于朝廷的征兆、军事、权力，日本由此进入进 700 年的幕府统治，D 项排除。故选 C 项。

【点睛】

6. 【答案】C

【解析】

【分析】

【详解】根据材料“中国的造纸术、指南针、火药等重大发明和印度的棉花、食糖等都是由阿拉伯人传入欧洲的。”可得出，阿拉伯人担当起了沟通东西方文化的角色，C 项正确；阿拉伯帝国是当时世界上疆域最大的帝国，与材料无关，排除 A 项；穆罕默德创立了伊斯兰教并向外广泛传播，与材料无关，排除 B 项；阿拉伯人创造了有自己特色的阿拉伯文化，在材料中未体现，排除 D 项。故选 C 项。

【点睛】

7. 【答案】A

【解析】

【详解】依据“欧洲中世纪庄园示意图”中的文字“耕地”“林地”“草场”“牧场”等可知庄园以农业为主，结合所学知识，欧洲中世纪庄园实际上是一种农业经济组织形式，A 项正确；庄园分布在中世纪西欧的农村，并非以城市为基础，排除 B 项；题干并没有体现庄园拥有自治的权力，排除 C 项；庄园的居民均为领主的佃户，包括自由的农民和缺少自由的农奴，而非手工工匠和商人，排除 D 项。故选 A 项。

8. 【答案】C

【解析】

【分析】

【详解】结合所学知识可知，欧洲中世纪晚期，一些商人不仅向雇佣工人提供原料，而且还提供统一的生产工具，工人成为完全出卖劳动力的雇佣劳动者，与雇主形成彻底的雇佣关系；由于生产工具统一配备，因而常常需要在共同的地点集中劳动，于是就形成了集中的手工工场。C 项符合题意；到 13 世纪，许多城市取得了某种程度的自由与特权，成为自由城市。在这样的城市里，市民是自由人，享有财产权，领主不得非法剥夺市民的财产，不得向市民任意征税，排除 A 项；商业行会的产生与当时自治城市的兴起几乎同步而行。正是在城市中共同的经济利益、政治地位和宗教信仰将商人们聚集在一起，组成行会，排除 B 项；14 世纪中叶以后，出租领主直营地达到一个高潮，领主也因此依靠土地租金生活，不再参与生产管理。一些富裕农民通过承租、购买领主的土地，或者转租、购买其他佃农的地产等方式将土地集中起来，建立租地农场，排除 D 项。故选 C 项。

【点睛】

9. 【答案】B

【解析】

【分析】

【详解】结合所学知识可知，14世纪中叶，在意大利等地最先出现资本主义萌芽推动下，出现文艺复兴，倡导的核心思想是人文主义，B项正确；宣扬禁欲主义与文艺复兴不符，排除A项；主张神权至上与文艺复兴不符，排除C项；文艺复兴采取复兴古希腊罗马文化的方式，对古典文化既有继承，也有创新，排除D项。故选B项。

【点睛】

10. 【答案】D

【解析】

【分析】

【详解】①《神曲》是文艺复兴时期但丁的作品，②《哈姆雷特》《罗密欧与朱丽叶》是英国作家莎士比亚的作品，故D项正确；《神曲》是文艺复兴时期但丁的作品，排除AB项；《哈姆雷特》《罗密欧与朱丽叶》是英国作家莎士比亚的作品，排除C项。故选D项。

【点睛】

11. 【答案】C

【解析】

【分析】

【详解】根据地图信息，可知西方人对世界的认知范围，由公元1年的欧亚大陆到公元1600年欧亚大陆、非洲、美洲、太平洋、大西洋、印度洋，区域明显扩大，结合所学知识可知，新航路开辟以后，欧洲和亚洲、非洲、美洲之间建立起了直接的商业联系，往来日益密切，世界开始连为一个整体，世界的观念也从此逐步确立起来。C项符合题意；丝绸之路开通于公元前138年、公元前119年，排除A项；1405--1433年郑和七下西洋，最远到达非洲，排除B项；蒸汽机的应用与第一次工业革命相关，排除D项。故选C项。

【点睛】

12. 【答案】B

【解析】

【分析】

【详解】根据材料明朝中后期，葡萄牙人攫取了在我国澳门的居住权，西班牙和荷兰分别占据了我国台湾岛的北部和南部。“”可得出，葡萄牙在明朝时已经进行早期殖民掠夺，B项正确；封建庄园经济的盛行与材料无关，排除A项；文艺复兴运动的传播与材料无关，排除C项；第一次工业革命的扩展与材料无关，排除D项。故选B项。

【点睛】

13. 【答案】B

【解析】

【分析】

【详解】根据材料“1783—1793年，英国利物浦的奴隶贩子净赚了约1200万英镑。到18世纪末，利物浦控制了欧洲41%，英国80%的奴隶贸易。当时利物浦的一位作家写道：‘人类的血和肉是我们白手起家的代价。’”可得出，黑奴贸易是欧洲资本原始积累的重要来源，利物浦的兴起以牺牲非洲人民利益为代价，英国是三角贸易的主要受惠国，①③④符合题意，B项正确；利物浦最早开始贩运黑人奴隶在材料中未体现，②不符合题意，排除ACD项。故选B项。

【点睛】

14. 【答案】D

【解析】

【分析】

【详解】结合所学知识可知，1215年英王约翰与贵族签订《大宪章》，维护教俗贵族的特权，国王权力受到限制，逐渐确立了“王权有限”“王在法下”的基本原则，D项正确；贵族推翻了国王的统治不符合英国史实，排除A项；1649年英国宣布为共和国，与材料无关，排除B项；以1689年《权利法案》为基础，英国确立了君主立宪制，排除C项。故选D项。

【点睛】

15. 【答案】D

【解析】

【分析】

【详解】依据所学知识可知，1688年，英国发生政变，议会做出决定，废除詹姆士二世，迎请他的女儿玛丽和女婿威廉入住英国，这次政变史称“光荣革命”，D项正确；詹姆士一世在英国资产阶级革命爆发前已经去世，排除A项；议会向国王呈递《权利请愿书》是1628年，排除B项；克伦威尔被议会尊为“护国主”在处死查理一世后查理二世复辟前，排除C项。故选D项。

【点睛】

16. 【答案】B

【解析】

【分析】

【详解】结合所学知识可知，①1777年，大陆军取得萨拉托加大捷后，英将伯格因投降；②1776年7月4日，大陆会议通过由杰斐逊起草的《独立宣言》；③1781年，美法联军在约克镇与英军激战，英将康华利率部下投降；④1783年，英国承认美国独立后，华盛顿辞去了大陆军总司令的职务。因此按照历史事件发生的时间顺序排列应为②①③④。B项正确；排除ACD项。故选B项。

【点睛】

17. 【答案】A

【解析】

【分析】

【详解】根据材料“18世纪开始，法国封建制度日益腐朽没落。国王路易十五实施的加重税收等措施阻碍了资本主义的发展。法国资产阶级要求摆脱专制统治。”可得出，一位同学整理的关于启蒙运动的部分课堂笔记主题应是启蒙运动的背景，A项正确；启蒙运动的内容是宣传自由、平等和民主，反对专制等思想，与材料无关，排除B项；启蒙运动发生在十八世纪的欧洲，最初产生在英国，而后发展到法国、德国与俄国，此外，荷兰、比利时等国也有波及，启蒙运动的发展与材料无关，排除C项；启蒙运动有力批判了封建专制主义，宗教愚昧及特权主义，宣传了自由，民主和平等的思想，为欧洲资产阶级革命做了思想准备和舆论宣传，材料无关，排除D项。故选A项。

【点睛】

18. 【答案】D

【解析】

【分析】

【详解】结合所学知识可知，1804年拿破仑建立法兰西第一帝国，对内主持制定《法国民法典》，体现了自由平等和私有财产神圣不可侵犯等原则，这部法典是资本主义国家最早一部民法法典，成为欧美各国资产阶级的立法规范，D项正确；三级会议的召开是法国大革命的导火线，攻占巴士底狱是法国大革命开始的标志，与材料无关，排除A项；制定1791年宪法，废除了封建专制制度，确立了新制度的基本框架，1792年废除君主制，建立法兰西第一共和国，与材料无关，排除B项；1793年处死国王路易十六，罗伯斯庇尔为首的雅各宾派采取一系列措施，打退反法联军，把大革命推向高潮，与材料无关，排除C项。故选D项。

【点睛】

19. 【答案】D

【解析】

【分析】

【详解】根据材料可得出，飞梭发明者凯伊是钟表匠，珍妮机发明者哈格里夫斯是织工，水力纺纱机发明者阿克莱特是理发师，可知发明者大多出身于工匠，①可体现。飞梭提高了织布的速度，珍妮机提高了纺纱的效率，水力纺纱机提高了棉纱的质量，这些发明促进纺织业的发展，④可体现，①④符合题意，D项正确；根据材料可得出，飞梭、珍妮机提与水力纺纱机都出现在纺织领域，②说法有误，排除A项；飞梭、珍妮机提与水力纺纱机都出现在纺织领域且使用人力或水力作为动力，②③说法有误，排除B项；根据材料可得出，飞梭、珍妮机提与水力纺纱机使用人力或水力，并非使用蒸汽为动力，③④说法有误，排除C项。故选D项。

【点睛】

20. 【答案】A

【解析】

【分析】

【详解】马克思1818年出生于德国特里尔市，撰写了《资本论》等重要著作，去世后葬于海格特公墓，故A项正确；恩格斯生于1820年，1895年去世，排除B项；罗伯斯庇尔是法国大革命的领袖，亚当·斯密是英国经济学家，排除CD项。故选A项。

【点睛】

二、材料分析题（共4小题，21题11分，22题9分，23题11分，24题9分，共40分）

21. 【答案】（1）最可信材料：①。

贡献：担任大陆军总司令，领导北美殖民地人民取得独立战争的胜利；主持制定1787年美国宪法，建立联邦制共和国并当选美国第一任总统，为资本主义在美国的发展创造了有利条件等。

（2）文献任选一则：

文献1：名称：《权利法案》

意义：英国议会的权力日益超过国王，君主立宪制逐渐形成。

文献2：名称：《独立宣言》

意义：第一个以国家名义明确表述资产阶级政治要求的纲领性文献，被称为“第一个人权宣言”。

文献3：名称：《人权宣言》

意义：宣告了人权、法治、自由、分权、平等和保护私有财产等基本原则，否定了封建等级制度。

（3）学派：①道家；②儒家。

态度：启蒙思想家借鉴、吸收了中国传统文化的元素。

(4) 共同作用：通过资产阶级革命，初步确立了资本主义制度，推动了本国资本主义的发展。

【解析】

【分析】

【小问 1 详解】

根据材料一，结合所学知识可知，第一手史料是原始史料，是当事人、亲历者直接记录或留下的资料和遗物、遗迹等原始资料，属于最可信的史料。①美国 1787 年宪法原件现藏于美国国家档案馆，属于第一手史料；②华盛顿纪念碑 1885 年落成在美国国家广场，属于第二手资料，因此研究华盛顿事迹最可信的一则材料是①。华盛顿担任大陆军总司令，领导北美殖民地人民取得独立战争的胜利；主持制定 1787 年美国宪法，建立联邦制共和国并当选美国第一任总统，为资本主义在美国的发展创造了有利条件等。

【小问 2 详解】

根据材料二，结合所学知识可知，文献 1 出自《权利法案》；文献 2 出自《独立宣言》；文献 3 出自《人权宣言》。如文献 1 出自《权利法案》；英国资产阶级革命后，1689 年，英国议会以《权利法案》为基础，确立了议会在国家政治生活中的最高地位，逐渐形成了君主立宪制。

【小问 3 详解】

根据材料三中①、②处，结合所学知识可知，春秋时期道家学派的创始人老子，主张“无为而治”，顺应自然；孔子是春秋后期鲁国人，是儒家学派的创始人，他的核心思想是“仁”，主张“为政以德”。由“①顺应自然‘天道’”，可知与道家相关；由“②强调‘忠孝’‘礼仪’‘德治’‘仁政’”，可知与儒家相关。由“启蒙运动者向东方寻求借鉴，吸收合乎理性法则的思想材料。而在远处东方、具有悠久历史和璀璨文明的中国传统文化，注重现实”，可知启蒙思想家对待中国传统文化的态度是借鉴、吸收了中国传统文化的元素。

【小问 4 详解】

结合所学知识可知，英国资产阶级革命，推翻了封建君主专制，为英国资本主义发展开辟了道路，并对世界近代历史的发展产生了重要的影响；美国独立战争结束了英国的殖民统治，实现了国家的独立，确立了比较民主的资产阶级政治体制，有利于美国资本主义的发展；法国大革命摧毁了法国的君主统治，传播了资产阶级自由民主思想，具有世界性影响，因此“这三场革命”的共同作用都是通过资产阶级革命，初步确立了资本主义制度，推动了本国资本主义的发展。

【点睛】

22. 【答案】(1) 前提条件：英国君主立宪制建立后，政局稳定，推动了资本主义经济的迅速发展；英国农业革命为工业革命的开展提供了大量自由劳动力和农产品，扩大了国内市场；殖民扩张推动了英国资本原始积累，扩大了海外市场；国内外市场的不断扩大，刺激了手工业的技术革新等。

(2) 趋势：1820—1861 年英国手工织布工人数量大幅减少。

原因：工业革命的开展，机器的发明与制造。

(3) 影响：农村人口减少，城市人口增加，人口从农村向城市集中；为人们提供了更为快捷、廉价的交通等，便利了人们的生活；同时，生活环境也遭到污染等。

【解析】

【分析】

【小问 1 详解】

根据材料一“经过资产阶级革命，英国建立了君主立宪制度，国内政治长期稳定，政府以行政手段推动经济发展。英国的农业资本主义发展迅速，在农业变革的深度和广度方面，超出了欧洲其他国家。……农业革命为工业提供了大量自由劳动力和充裕的农产品，而且也扩大了国内市场。英国积极进行殖民扩张，确立了海上霸权，殖民掠夺促进了原始积累，也使英国拥有广阔的海外市场。国内外市场的迅速扩大要求手工业生产提供更多的产品，由此推动了技术革新。”可得出，英国最先具备进行工业革命的前提条件有英国君主立宪制建立后，政局稳定，推动了资本主义经济的迅速发展；英国农业革命为工业革命的开展提供了大量自由劳动力和农产品，扩大了国内市场；殖民扩张推动了英国资本原始积累，扩大了海外市场；国内外市场的不断扩大，刺激了手工业的技术革新等。

【小问 2 详解】

根据材料二“英国手工织布工人数量示意图”可得出，1820—1861 年英国手工织布工人数量大幅减少。根据材料二“钱乘旦《工业革命中的英国工人》”可得出，这一趋势出现的原因有工业革命的开展，机器的发明与制造。

【小问 3 详解】

根据材料三“英国农村人口和城市人口占总人口比例示意图”可得出，工业革命推动下农村人口减少，城市人口增加，人口从农村向城市集中。根据材料三“铁路首次造就了全国一体化经济。火车站和铁路编组站会占用城镇的空间，从而改变了城镇中心的面貌。铁路提供了便宜的交通工具，使得境况较好的人可远离市中心、居住到郊区；铁路也会让一切蒙上一层烟尘。肮脏和喧闹是维多利亚时代城市的特征：火车、工厂和房屋的烟囱以及马匹带来污物；行进在圆石路上的手拉车、马车和马匹制造各种噪声。”可得出，工业革命为人们提供了更为快捷、廉价的交通等，便利了人们的生活；同时，生活环境也遭到污染等。

【点睛】

23. 【答案】（1）历史条件：马克思和恩格斯经过长期的理论探索和革命实践；工业革命后，资本主义的发展和工人运动的兴起；欧洲三大思潮的理论成果；对人类优秀文明成果的吸收与继承等。

（2）名称：《共产党宣言》。

意义：《共产党宣言》的发表，标志着马克思主义的诞生。从此，无产阶级斗争有了科学理论的指导，国际共产主义运动兴起并蓬勃发展。

（3）名称：巴黎公社。

理解：虽然巴黎公社在资产阶级反动政府勾结普军联合反扑下，最终失败了，但是它建立了世界上第一个无产阶级政权，为国际工人运动的发展提供了宝贵的经验和教训。

（4）认识：马克思主义是科学社会主义，它是最直接又全面指导无产阶级和全人类解放斗争的行动科学，我们要坚持马克思主义，学习马克思主义，运用马克思主义（言之有理即可）。

【解析】

【分析】

【小问 1 详解】

根据材料一“科学社会主义的创立者是马克思和恩格斯，他们的卓越才智和特有经历对这一伟大思想体系的形成起了重要作用。”可得出，科学社会主义诞生的历史条件有马克思和恩格斯经过长期的理论探索和革命实践；据材料一“欧洲资本主义的发展和工人运动的兴起，为科学社会主义的产生提供了现实的依据。”可得出，科学社会主义诞生的历史条件有工业革命后，资本主义的发展和工人运动的兴起；据材料一“当时欧洲的三大思潮，即德国古典哲学、英国古典政治经济学、英法两国的空想社会主义，则为科学社会主义的产生提供了直接的理论来源。”可得出，科学社会主义诞生的历史条件有欧洲三大思潮的理论成果成为理论来源；据材料一“马克思、恩格斯还从包括

古希腊古罗马哲学、文艺复兴运动的思想成果、法国复辟时期的历史学家的进步思想，以及自然科学发展的最新成果中，广泛汲取知识、智慧和思想精华。”可得出，科学社会主义诞生的历史条件有对人类优秀文明成果的吸收与继承等。

【小问 2 详解】

根据材料二“全世界无产者们，联合起来！”可得出，材料二出自《共产党宣言》。结合所学知识可知，《共产党宣言》发表，标志着马克思主义的诞生。从此，无产阶级斗争有了科学理论的指导，国际共产主义运动兴起并蓬勃发展。

【小问 3 详解】

结合所学知识可知，1871年3月18日，巴黎人民举行武装起义，推翻了资产阶级反动统治，建立了新生政权，即巴黎公社。虽然巴黎公社在资产阶级反动政府勾结普军联合反扑下，最终失败了，但是它建立了世界上第一个无产阶级政权，为国际工人运动的发展提供了宝贵的经验和教训。

【小问 4 详解】

在人类思想史上，没有一种思想理论像马克思主义那样对人类产生了如此广泛而深刻的影响。马克思主义是科学社会主义，它是最直接又全面指导无产阶级和全人类解放斗争的行动科学，我们要坚持马克思主义，学习马克思主义，运用马克思主义。

【点睛】

24. 【答案】（1）特点：活动形式多样；主要分布在东北、京津等北方地区；与人们日常的生产生活有关；丰富人们的休闲娱乐与竞赛活动；是北方寒冷地区各民族共同智慧的结晶等。

（2）影响：工业革命造就的早期富裕中产阶级逐渐成为冰雪运动的参与者和主要推动力量；工业革命为冰雪运动发展提供了更加丰富的物质条件和技术条件；工业革命推动了城市化的发展，从而拓展了人们参与冰雪运动的时间和空间等。

（3）理念：绿色节能，智慧场馆，可持续性利用等。

认识：“冰丝带”的建设体现我国强大的综合国力；体现可持续发展理念（言之成理即可）。

【解析】

【分析】

【小问 1 详解】

根据材料一“清代民间主要冰雪活动”可得出，清代民间主要冰雪活动形式多样，主要分布在东北、京津等北方地区，与人们日常的生产生活有关，丰富人们的休闲娱乐与竞赛活动，是北方寒冷地区各民族共同智慧的结晶等。

【小问 2 详解】

根据材料二“工业革命造就了早期的富裕中产阶级，他们追求物质和精神上的享受，愿意投入体育与运动，冰雪运动在这个时期得到迅猛发展。工业革命使欧美的经济和城市化进一步发展，大大开拓了人们参与冰雪运动的时间和空间。工业革命的技术革新，推动了冰雪运动的装备与设施不断完善和更新，新技术在冰雪运动中得到运用，新兴的冰雪项目也纷纷产生，近代冰雪文化逐渐形成。清代民间主要冰雪活动”可得出，工业革命造就的早期富裕中产阶级逐渐成为冰雪运动的参与者和主要推动力量；工业革命为冰雪运动发展提供了更加丰富的物质条件和技术条件；工业革命推动了城市化的发展，从而拓展了人们参与冰雪运动的时间和空间等。

【小问 3 详解】

根据材料三“它最大的亮点就在于场馆制冰使用了目前世界上最先进环保的技术——二氧化碳跨临界直冷制冰技术。这不仅能够使碳排放值趋近于零，制冰能效也能够得到大幅提升。此外，‘冰丝带’还采用了独特的创新设计，冰面可进行分区制冷，对每块冰单独控温，能够实现冬奥会结束后场馆的‘同时运行、不同使用’。”可得出，“冰丝带”的建设体现了绿色节能，智慧场馆，可持续性利用等。“冰丝带”的建设体现我国强大的综合国力，体现可持续发展理念。



关于我们

北京高考在线创办于 2014 年，隶属于北京太星网络科技有限公司，是北京地区极具影响力的中学升学服务平台。主营业务涵盖：北京新高考、高中生涯规划、志愿填报、强基计划、综合评价招生和学科竞赛等。

北京高考在线旗下拥有网站门户、微信公众平台等全媒体矩阵生态平台。平台活跃用户 40W+，网站年度流量数千万量级。用户群体立足于北京，辐射全国 31 省市。

北京高考在线平台一直秉承 “精益求精、专业严谨” 的建设理念，不断探索 “K12 教育+互联网+大数据” 的运营模式，尝试基于大数据理论为广大中学和家长提供新鲜的高考资讯、专业的高考政策解读、科学的升学规划等，为广大高校、中学和教科研单位提供 “衔接和桥梁纽带” 作用。

平台自创办以来，为众多重点大学发现和推荐优秀生源，和北京近百所中学达成合作关系，累计举办线上线下升学公益讲座数百场，帮助数十万考生顺利通过考入理想大学，在家长、考生、中学和社会各界具有广泛的口碑影响力

未来，北京高考在线平台将立足于北京新高考改革，基于对北京高考政策研究及北京高校资源优势，更好的服务全国高中家长和学生。



微信搜一搜

北京高考资讯

官方微信公众号: bjkzx

官方网站: www.gaokzx.com

咨询热线: 010-5751 5980

微信客服: gaokzx2018

关注北京高考在线官方微信: [北京高考资讯\(微信号:bjkzx\)](https://www.gkaozx.com), 获取更多试题资料及排名分析信息。