

地理试题

2018年8月18日~9月2日，第18届夏季亚运会在印度尼西亚首都雅加达举行。读图1，回答第1~3题。

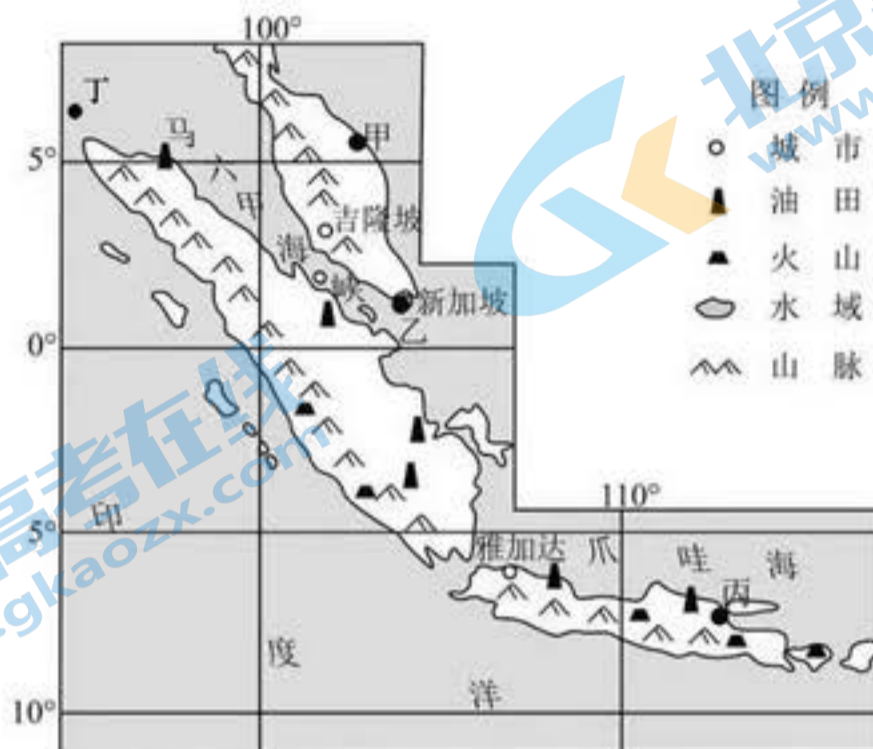


图1

1. 本届亚运会期间

- A. 甲6点前日出东北方向
- B. 乙比丙的正午太阳高度角小
- C. 适逢中国农历白露节气
- D. 南极大陆极夜范围不断扩大

2. 图中

- A. 马六甲海峡地处板块生长边界
- B. 火山喷发的岩浆来自地幔底部
- C. 新加坡的石化工业和航运发达
- D. 雅加达气候湿热，人口密度小

3. 途经丁处的洋流

- A. 流向和寒暖流性质随季节变化
- B. 属风海流，夏季受西南季风影响大
- C. 进入到马六甲海峡，使当地能见度变好
- D. 冬季能使印度至中国的海轮航行速度加快

据美国有线电视新闻网2019年3月3日报道：韩国最大的垃圾场（36°N附近）从去年12月就开始燃烧，截止到目前已经连续烧了3个月，并且看不到任何熄灭的迹象……该垃圾场存放的垃圾包括生活垃圾、建筑材料和废弃聚合物。回答第4题。

4. 该垃圾场存放的垃圾

- A. 受陆地内循环的影响，污染水源
- B. 燃烧情况可用GIS技术进行实时监测
- C. 燃烧会增强大气逆辐射，使昼夜温差变小
- D. 可进行回收利用，符合可持续发展共同性原则

2019年2月21日，法国巴黎举行了国际地球科学和地质公园计划会议，全球14个地质公园获得2019年度世界地质公园候选资格，位于甘肃省河西走廊中段的张掖地质公园成功入选。读图2，回答第5题。

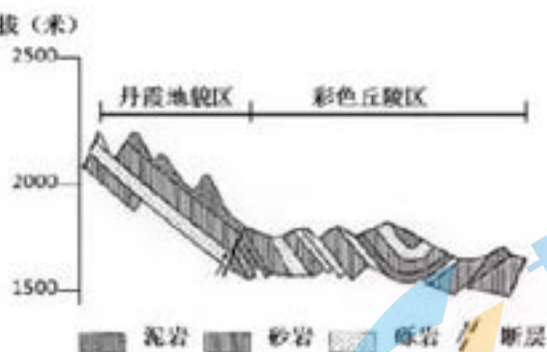


图2 张掖地质公园剖面图

5. 图中

- A. 断层的位移以水平方向为主
- B. 彩色丘陵区的地质构造为背斜
- C. 因对流雨引发的滑坡、泥石流灾害多
- D. 岩石类型为沉积岩，其形成以外力为主

读图3，回答第6题。

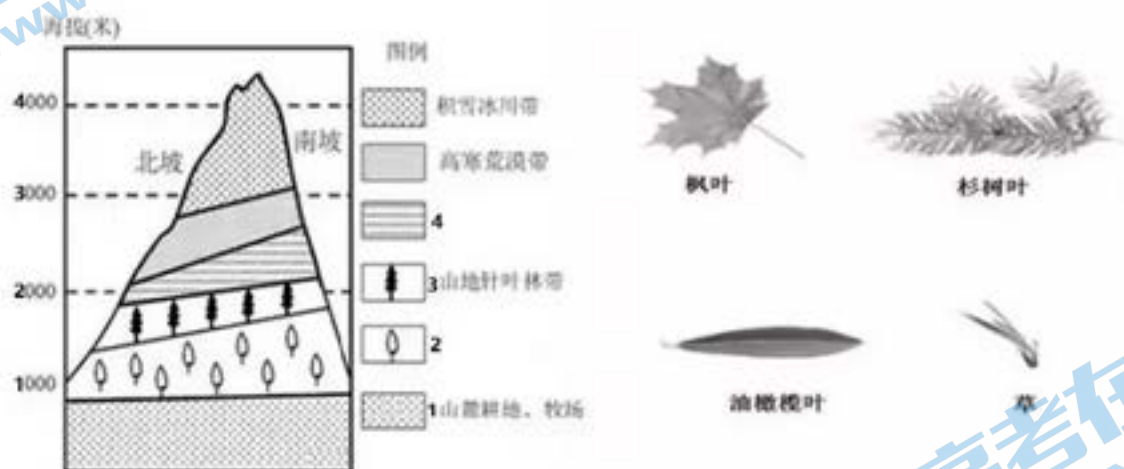


图3 阿尔卑斯山局部南北坡景观带垂直变化及植物叶片图

6. 图中

- A. 水平比例尺大于垂直比例尺
- B. 1、3自然带的宽度相对稳定
- C. 油橄榄叶存在于2带、枫叶存在于4带
- D. 南坡为迎风坡，降水多、自然带界线高

2018统计年鉴显示：山东户籍人口10009万，常住人口10006万。由此正式确认山东已转为人口净流出省份。读图4“2019年春节山东外出人口就业源地返乡图”，回答第7题。

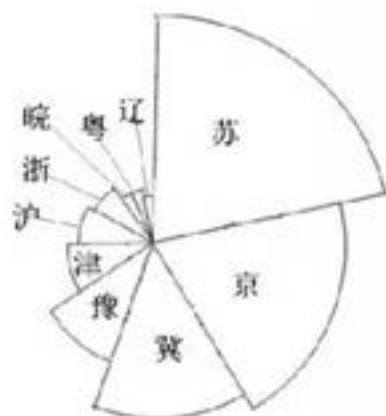


图4

7. 图中，山东省外出就业人口
- A. 北方地区比南方地区多
 - B. 最少的省份位于中温带
 - C. 最多的省份位于湿润区
 - D. 集中在地势第一级阶梯

读图5，回答第8题。

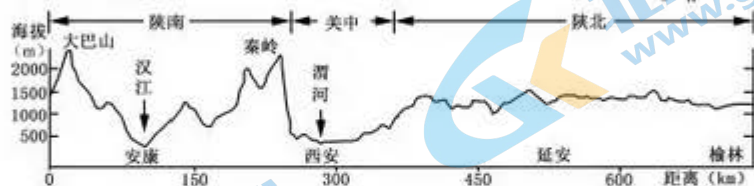


图5 陕西省沿109° E经线地形剖面示意图

8. 据图可以推断

- A. 陕南地区主要栽种水稻、盛产桔子
 - B. 渭河流速比汉江慢，含沙量小
 - C. 陕北的主要生态环境问题是荒漠化
 - D. 图示区域和北京均位于东八区
- 读图6“我国四个地区本地能源消费比例及经度范围图”，回答第9题。

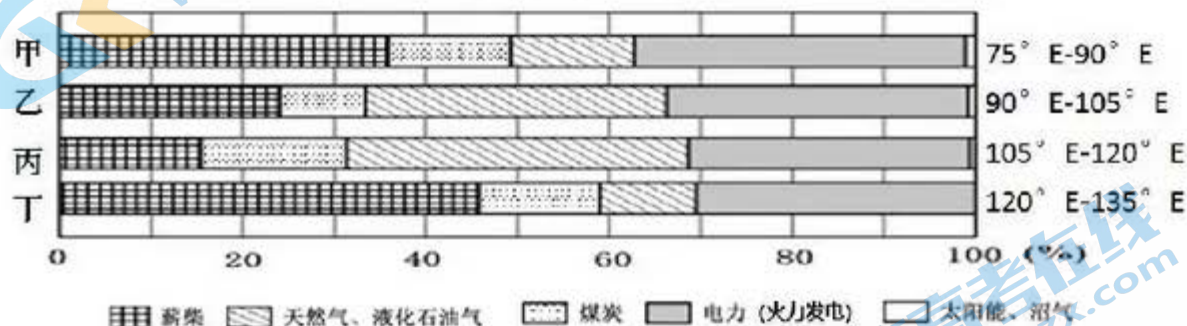


图6

9. 图中

- A. 甲地位于西南地区，水能和煤炭资源丰富，电力使用比例最高
 - B. 乙地位于华北地区，煤炭资源缺乏，常规能源使用比例最低
 - C. 丙地位于青藏高原，石油、天然气丰富，薪柴使用比例最低
 - D. 丁地位于东北地区，森林资源丰富，可再生能源使用比例最高
- 读图7，回答第10题。



图 7 牧区四季牧场转场路线图

10. 图示区域

- A. 气温年较差小，植被覆盖率低
 - B. 9 月从甲类牧场转到乙类牧场
 - C. 丙类牧场为夏牧场，牲畜停留的时间最长
 - D. 影响主要牧区分布的主导自然因素是地形
- 读图 8，回答第 11 题。

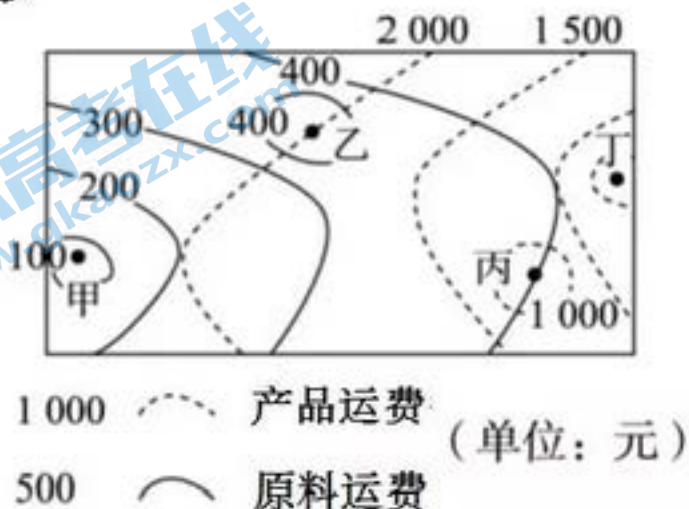


图 8 某工业部门运费等值线图

11. 图中

- A. 甲到乙原料运费增幅渐大
- B. 丙到丁产品运费逐渐减少
- C. 工业部门可能为制糖工业
- D. 四地比较，丁处选址最佳

第二部分 (非选择题 共 160 分)

36. (36 分) 阅读图文资料，回答下列问题。

2019 年政府工作报告 5 次提及“一带一路”。3 月 1 日，阿塞拜疆经济部长在接受《环球时报》专访时说，阿中两国关系已达到“非常高的水平”，“阿塞拜疆是共建‘一带一路’倡议最积极的参与者之一”。今年四月，第二届“一带一路”国际合作高峰论坛将在北京举行。此前俄罗斯等国已先后表态出席，并期待“一带一路”倡议为全球经济持续注入新活力。

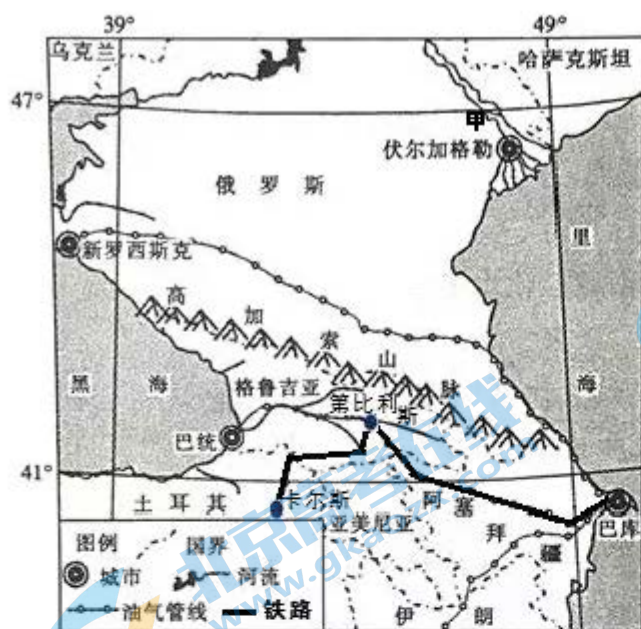


图15

降水 (mm)	城市	第比利斯	北京
一月		22	4
二月		25	5
三月		34	9
四月		46	21
五月		80	32
六月		70	75
七月		46	195
八月		42	192
九月		40	51
十月		44	16
十一月		38	7
十二月		23	3

表1 第比利斯和北京降水数据表

(1) 描述阿塞拜疆的地理位置。(6分)

“巴库-第比利斯-卡尔斯”铁路是“丝绸之路经济带”的运输通道，是亚欧之间最便捷、最安全的陆上通道，是亚欧大陆交通网的重要组成部分。

(2) 概述该铁路对阿塞拜疆区域发展的意义。(8分)

(3) 与北京相比，说明第比利斯的降水特征，并分析原因。(12分)

甲河流是俄罗斯重要农业区，甲河的干支流上修建了大、中、小水库800多座。

(4) 简析甲河干支流上修建水库对该流域农业生产的影响。(10分)

40.

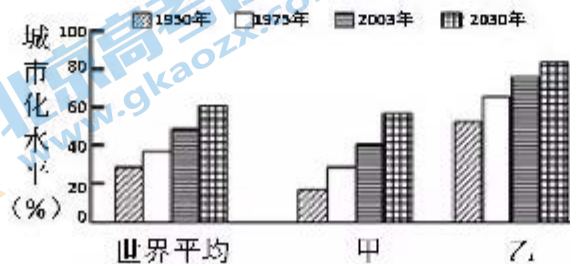


图 18 世界及大洲不同年代的城市化水平对比图

(2) 在甲、乙两大洲中任选一个，指出该大洲的城市化发展特点。(4分)

2019 年政府工作报告指出，我国城镇化处在快速发展中后期，提高城镇化质量是首位。

(3) 请你为我国提高城镇化质量献计献策。(6分)

41.

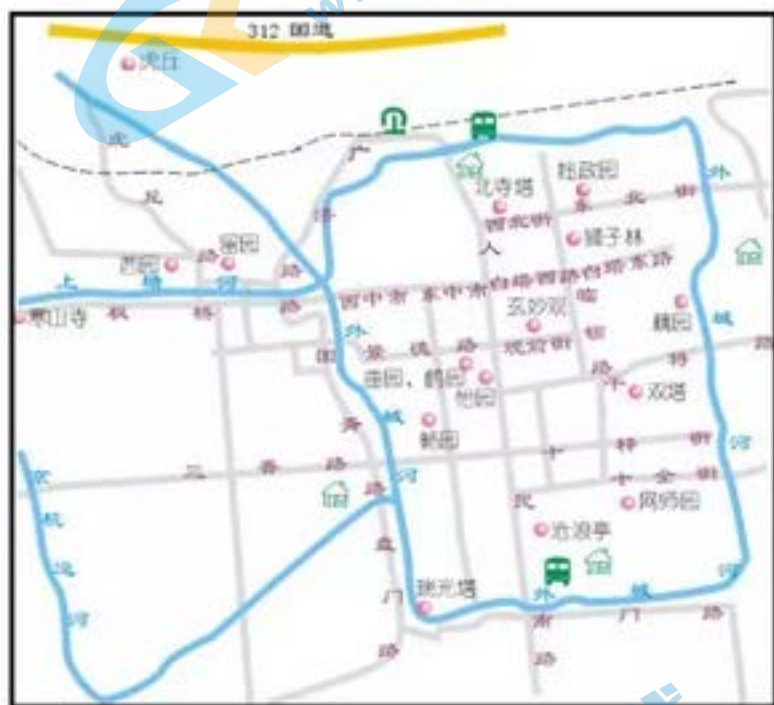


图 20 苏州旅游资源分布图



图 21 拙政园

(2) 试对苏州的旅游资源进行简要评价。(6分)

(3) 说出欣赏图 21 中拙政园景观的方法。(4分)

每小题 4 分。

1.A 2.C 3.B 4.C 5.D 6.B 7.A

8.A 9.D 10.B 11.D

36. (36 分)

(1) (6 分)

地处东经 44° 至 52° ，北纬 38° 至 42° ，位于北半球、东半球的中纬度（北温带）地区；（2 分）位于亚洲西部，地处内陆；（2 分）

地处大高加索山脉东南部，东临里海，北邻俄罗斯、西邻格鲁吉亚和亚美尼亚、南邻伊朗。（2 分）

(2) (8 分。每点 2 分，最多 8 分)

带动基础设施建设，完善交通网；（2 分）加强了区域内外联系，拉动相互投资，促进文化交流；（2 分）带动旅游业、商业等相关产业发展，增加经济收入；（2 分）推动工业化、城市化进程利于产业结构调整；（2 分）促进国家安全与稳定，提升国家的地缘政治地位。（2 分）

(3) (12 分)

特征（6 分）：年降水量较少（510 mm，北京 610mm）；（2 分）降水的季节变化较小；（2 分）五、六月份降水较多（北京七、八月多）。（2 分）

原因（6 分）：地处内陆，水汽缺乏，因而降水较少；（2 分）冬季，西南风带来的水汽受北部地形抬升作用，降水较多，夏季受副高影响降水较少，因此降水的季节变化较小；（2 分）距离里海和黑海较近，五、六月份随着气温回升，蒸发旺盛，第比利斯上空的水汽较多。（2 分）

(4) (10 分)

有利影响（6 分，每点 2 分，最多 6 分）①提供较稳定的灌溉水源；②调节径流量，缓解旱涝灾害；③为农业生产提供廉价水电；④改善河流通航条件，利于农产品运输；⑤库区适宜发展水产业，扩大了生产范围。

不利影响（4分，每点2分，最多4分）：①淹没耕地，使耕地面积减小；②水库以上河段地下水位升高，容易导致土地盐碱化；③修建水库可能诱发地质灾害，影响农业生产等。

40.

(1)（4分，每点2分，最多4分）（两个都答，以第一个为准给分）

甲：城市化水平较低（2分），起步较晚（2分），发展速度较快（2分）。

乙：城市化水平较高（2分），起步较早（2分），发展速较慢（2分）。

(2)（6分，每点2分，最多6分）更好解决群众住房问题，改善居住条件；提高城镇公共服务水平和覆盖面；推动城镇基础设施建设，加快城镇综合交通网建设，优先发展公共交通；发展高端产业和创新产业；美化城市环境，治理环境污染；改革完善相关机制和政策。

41.

(1)（6分）旅游资源集群状况较好（2分）；人文旅游资源为主，地域组合状况欠佳；（2分）古典园林建筑举世闻名，具有较高的历史文化价值和经济价值。（2分）

(2)（4分）①选择合适的观赏位置：适当距离俯视。（2分）②领悟自然与人文的和谐：拙政园规模较小，布局精巧，与水乡风光、湿润的气候特点融为一体。（2分）

历史试题

12. 沈长云在《上古史探究》中说：周人的各封国造成了前所未有的不同族人混居在一起的现象，如异姓封国有商的遗民、夏的后代、尧的后代等。这一现象

- A. 有利于华夏族的形成
- B. 导致了不同族群的混战
- C. 造成了军阀割据现象
- D. 使周控制的地域减少了

13. 公元前 627 年，秦军准备偷袭郑国，正好碰到郑国的大商人弦高外出卖牛，弦高一面派人回国报信，一面赶了十二头牛去犒赏秦军，并说是奉了郑国国君的命令前来。秦军以为郑国已经做好了准备，就放弃了攻打郑国的计划。这就是“弦高救郑”的故事。这一故事反映出

- ①郑国是个强大富庶的诸侯国
 - ②弦高是代表郑国的官商
 - ③弦高具有崇高的社会责任感
 - ④弦高是很有实力的私商
- A. ①② B. ③④ C. ②③ D. ①④

14. 对于魏、蜀、吴三国政权的正统问题，北宋学者多以禅让得国且控制中原的曹魏政权为正统，而南宋学者则多以刘备建立的蜀汉政权为正统。这一变化反映了

- A. 经济重心从北方转移到南方
- B. 两宋政权的官方哲学不同
- C. 对三国历史的认识渐趋客观
- D. 政局变化对学者产生影响

15. 饮茶是中国人日常生活的重要习俗，早在唐朝饮茶之风已经形成。中国人饮茶讲究“酸甜苦辣调太和”的中庸之道、“朴实故雅去虚华”的行俭之德、“奉茶为礼尊长者”的明伦之礼、“饮罢佳茗方知深”的谦和之行。这体现了

- A. 佛家静修觉悟的心性
- B. 儒家思想渗入日常生活
- C. 道家养生理念的盛行
- D. 士人阶层追求享乐之风

16. 图 9 是近代以来中国出现过的国旗，其出现的先后顺序是



- A. ①②③④ B. ①②④③ C. ②①③④ D. ②③①④

17. 1919 年 9 月 5 日，傅斯年赴英国留学之前，在《新潮》上发表《“新潮”之回顾与前瞻》，

文中写道：“我觉得我一生最有趣味的际会是在北大的几年，最可爱的是新潮社，最有希望的是北大的文化运动。傅斯年所说的“文化运动”

- ①使学习西方成为中国近代的思想主流 ②是一场思想启蒙和文化革新运动
③是辛亥革命在思想文化领域上的发展 ④唤醒了广大人民群众的爱国的热情
- A. ①② B. ②③ C. ①④ D. ②④

18. 费正清在《剑桥中华民国史》一书中提到：“当美、英和其他工业国家失去一切秩序感和平衡感，忙于采取各种补救办法和应急措施以应付危机时，中国在 1929 年后仍然能一如既往地坚持下去。”促使中国经济坚持下来的原因有

- ①清政府放宽对民间设厂的限制 ②各资本主义国家加大对中国的投资
③南京国民政府的经济改革措施 ④民族企业家的敬业精神和创新经营
- A. ①② B. ②③ C. ①④ D. ③④

19. 以下歌曲均出自新民主主义革命时期，其中出自抗日战争时期的是

- A. 《赤潮曲》《国民革命歌》《工农兵联合起来》
B. 《秋收暴动之歌》《当兵就要当红军》《苏维埃农民耕田曲》
C. 《义勇军进行曲》《游击队歌》《保卫黄河》
D. 《解放军大反攻》《人民战士英雄汉》《两个部队不相同》

20. 雅典在克里斯提尼改革后确立了民主制，但著名历史学家钱乘旦先生认为，实际上雅典仍是由少数富人掌权的国家，支撑他这一观点的史实是

- A. 公民大会由成年男性公民组成
- B. 议事会成员由抽签产生
- C. 公职人员义务工作没有薪酬
- D. 法庭陪审员有年龄限制

21. 图 10 描绘了十四世纪中叶黑死病在意大利蔓延的情景，它促使人们对现实生活进行反思，从而引发了



图 10 上帝救不了黑死病人

- A. 文艺复兴 B. 宗教改革 C. 启蒙运动 D. 自然科学革命

22. 美国宪法第五条规定，可由三分之二的两院议员提出宪法修正案或由三分之二州议会请求召开制宪会议提出修正案。1917年国会在第18条修正案时规定：宪法修正案如果在规定的七年内未能得到四分之三州的批准，该修正案便自动消失。第18条修正案的规定体现了

- A. 议会至上原则 B. 三权分立原则
C. 地方对中央的制衡原则 D. 民主共和原则

23. 20世纪七八十年代，西方资本主义国家和中、苏等社会主义国家，为了发展经济而采取的共同做法是


- A. 加入世界贸易组织 B. 不断调整经济体制
C. 放弃了凯恩斯主义 D. 实行市场经济体制

第二部分（非选择题 共160分）

37. (36分) 博物馆是历史学习的重要场所。阅读材料，回答问题：

2018.12-2019.3，国家博物馆以“汉世雄风——纪念满城汉墓考古发掘50周年”为主题，展出了河北省满城汉墓的149套722件精品文物（出土文物共6000余件、套）。文物摘录如下：

材料一

文物	名称及用途	铭文
	金缕玉衣 保持尸骨不朽；高贵的礼器和身份的象征	无
	五铢钱 用于商品买卖	五铢
	铜镬(huò) 用于烹煮食物	中山内府铜镬，容十斗，重卅(xi)一斤，卅九年九月己酉，工丙造。
	错金银镶嵌铜骰(tóu) 喝酒时用来行酒令，俗称“色(shái)子”	酒来、骄

注：卅九年九月己酉即中山王39年9月己酉日。

材料二 据史料记载，战国、西汉、东汉都有中山国。战国时期的中山国有8位公(王)。西汉时期中山国有籍可考的10位王当中，刘胜的在位时间是42年，其余的均不到30年。东汉时期有7位中山王，在位时间最长的是34年。

刘胜是汉景帝刘启之子，汉武帝的庶兄。景帝前元三年(公元前154)立为中山王(时年11岁)，死于武帝元鼎四年(公元前113)，是西汉中山国第一代王。他的一生享受过无尽的荣华富贵，也亲历了“七国之乱”等血雨腥风。有人说他“乐酒好内(内，指妻妾)不堪任藩臣”，也有人说他“为汉之英藩”。

(1) 找出材料一中说明墓主人是刘胜的主要依据并加以解释。(4分)你同意材料二中的哪一观点?请说明理由。(6分)

2018年5月5日,马克思诞辰200周年之际,在德国特里尔举行了马克思故居博物馆重开仪式。博物馆推出了名为“从特里尔走到世界:卡尔·马克思及其思想的影响持续至今”永久主题展。

材料三 重新开放的展览用更多空间展示了马克思及其思想对后世的影响,特别是增加了2008年国际金融危机后马克思更加受到关注的内容。新展出的展品包括马克思的扶手椅,1883年3月14日,马克思就是坐在这把扶手椅上睡去,从此再没醒来。《共产党宣言》(第一版)、马克思亲笔信件和一些私人藏书也首次在此展出。

(2) 结合所学,谈谈马克思主义是怎样“从特里尔走到世界”,并影响至今的?(12分)

2018年是中国改革开放四十周年,国家博物馆开设了“伟大的变革——庆祝改革开放四十周年大型展览”。以下是摘自展览馆的材料:

材料四 中国利用外资和对外投资情况(单位:亿美元)

	1983年/ 1982年	1992年	2001年	2012年	2017年
中国利用外资	9	110	468	1211	1363
中国对外投资	0	40	71	878	1583

材料五 中国进出口货物占世界比重(%)

	1978年	1992年	2001年	2012年	2017年
中国出口货物占世界比重	0.8	2.2	4.3	11.1	12.8
中国进口货物占世界比重	0.8	2.1	3.8	9.7	10.2

(3) 利用材料四、五并结合所学,解读中国对外开放的主要历程。(14分)

40. (18分) 城市化是现代社会的标志之一。阅读材料,回答问题。

材料一 从18世纪到19世纪初,英国城市人口从约占人口总数的20%增加到33%。1851年,英国城市人口首次超过了农村人口,基本实现了城市化。1770年时,英国农业占国民经济的比例是45%,工业的比例只有23.6%;1821年,农业的比例急剧下降到26.1%,工业上升至31.9%;1861年时,农业比例只剩下17.8%,工业则占到将近40%,超过了各种产业在国民经济中的比例。截止到1848年时,英国的棉布产量占世界总产量的一半以上,煤产量占全世界的2/3,生铁产量甚至高于世界其他国家的总和。

——摘编自王明南《英国工业革命与城市化关系探究》

(1) 英国是在怎样的背景下实现城市化的?(2分)工业的发展对城市化有何作用?(6分)

41. (26分) 园林建筑与园林艺术是中国传统文化的重要组成部分如今有焕发新的生机和活力。阅读材料，回答问题。

材料一 历经千年的苏州园林在明代进入了一个具有划时代意义的时期，在造园数量、造园水平以及造园理论上，都是当时乃至今日中国古典园林的典范。文人集团在苏州园林的发展过程中起到了至关重要的作用，而文人造园并不是孤立的行为，这与当时苏州乃至江南地区的政治经济、社会文化、民风民俗有着密不可分的关系。

——摘自《社会文化背景下的明代苏州文人园林研究》



图19 苏州地理位置示意图

(1) 结合所学分析苏州园林在明代进入具有划时代意义时期的主要原因。(8分)

历史答案

一、选择题(48分)

题号	12	13	14	15	16	17	18	19	20	21	22	23
答案	A	B	D	B	C	B	D	C	C	A	C	B

二、非选择题(共52分)

37. (36分)

(1) (10分)

依据：五铢钱，西汉时开始制造使用的钱币，战国时期没有这种钱币；铜镜，其上铭文明确指出是“卅九年九月”制造的，在两汉诸王中，只有刘胜的在位时间超过了39年。(2个依据并加以说明，共4分)

A. 同意刘胜“乐酒好内，不堪任藩臣”。刘胜墓中出土了行酒令“错金银镶嵌铜骰”，说明其好酒；金缕玉衣非常贵重，说明其生活奢侈，聚敛了大量财富。据此可以认为他是一个好酒不堪任之藩臣。(观点、结论各1分，论述4分)

B. 同意刘胜是“汉之英藩”。刘胜亲历了“七国之乱”的血雨腥风，经历了汉武帝的“推恩令”，诸侯国的一举一动都在中央的监视之下。刘胜墓中的“错金银镶嵌铜骰”、金缕玉衣说明其以享受生活的方式，避免皇帝的猜忌，以保留中山国的势力，说明其是个英藩。(观点、结论各1分，论述4分)

(2) (12分)

1918年5月，马克思出生于德国特里尔，在波恩和柏林完成了大学学业，他深入工人中间，关心社会问题，并开始理论创作。1848年2月，《共产党宣言》发表，标志马克思主义诞生，马克思主义成为世界各国工人运动的指导思想。1867年《资本论》发表，阐述了剩余价值学说。1871年，法国巴黎公社革命，马克思多次写信，动员各国工人阶级支援巴黎公社革命；1917年，俄国十月革命成功，建立了世界上第一个社会主义国家，马克思主义由理论变为现实；1918年，马克思主义传入中国，1921年中国建立马克思主义政党——中国共产党。经过多年实践，毛泽东把马克思主义与中国实践相结合，创立了井冈山革命道路，并于1949年建立了新中国；二战以后，东欧出现了一系列社会主义国家。在马克思主义指导下，苏联、中国和东欧各国都进行了社会主义经济建设；在当今社会，马克思主义对解决金融危机、实现社会公正等都具有指导意义。所以说，马克思主义从特里尔走到世界，并影响至今。

(答案不唯一，史实正确。空间上体现出马克思主义从德国到世界，时间上体现出从十九世纪中叶到当今。6点即可，12分)

(3) 历程：(14分)

1978-1992 对外开放的起步阶段。中国利用外资比较少，对外投资实现零的突破；中国进出口货物占世界比重有了缓慢增长。这是由于十一届三中全会确立了对外开放的基本国策，1980年以后逐渐形成了从东部到中西部全方位、多层次的开放格局。(4分)

1992-2001 对外开放进一步发展阶段。中国在利用外资和对外投资、进出口货物占世界比重都有了较大发展；中国出口货物超过进口货物量。90年代以来中国对外开放的形式更加灵活多样，1992年上海浦东的开发是中国进一步对外开放的标志；经济体制改革不断深化，中共十四大确立建立社会主义市场经济体制和现代企业制度目标；十五大提出非公有制经济是社会主义市场经济的重要组成部分，国有企业改革进一步深化，这进一步增强了中国对外投资和商品输出的能力。(4分)

2001-2017 对外开放进入新阶段。中国在利用外资和对外投资、进出口货物占世界比重，都有了突飞猛进的发展，中国的出口货物大幅度高于进口货物，对外投资额超过了利用外资额，表明中国在世界经济中已占有非常重要的地位。这是因为中国于2001年加入世界贸易组织，实现了中国与世界的全面接轨；习近平新时代中国特色社会主义思想在社会稳定、深化改革方面日见成效；世界经济全球化为中国的对外开放提供了有利的国际环境。(4分)

中国对外开放的历程是中国主动积极顺应经济全球化的历程，这是中国与世界双赢的壮举。(2分)

40. (18分)

(1) (8分)

背景：19世纪中期，英国完成工业革命。(2分) 工业的发展推动了城市化进程。(观点2分) 工业的发展需要大批工人在同一工厂工作，工厂集中的地方逐渐发展为新兴城市；工业的发展吸引大批农村人口进入工厂，成为城市居民；工业的发展为城市发展提供了更多的商品、财富；……(论述2点即可，4分)

41. (26分)

(1) (8分)

苏州地处太湖流域，地理位置优越，水路交通便利；明代以来该地区的农业、手工业和商业都有了迅速发展；明后期政治黑暗，宦官专权，文人中出现了避世之风；江南商品经济的发展也促成了消费、奢靡、享乐的社会风气。(8分)

通州区 2019 年高三年级模拟考试

政治试卷

24.永定河，是跨越京津冀晋蒙五省、自治区、直辖市的“文化风景线”，被称作北京的“母亲河”。永定河不仅是一条联络东西的水上通道，也是一条贯通古今的文脉。由北京市方志馆与永定河文化博物馆合办的“永定河文化展”，以丰富的历史资料与 70 多件珍贵的永定河文物，展示了永定河流域生生不息的文明印记。永定河文化展

- ①有利于贯彻和落实中华优秀传统文化“走出去”战略
- ②有利于保护、传承、利用好永定河历史文化资源
- ③有利于各民族优秀文化与经济的相互借鉴和融合
- ④有利于打造永定河文化带建设的标志性文化品牌

A.①② B.①③ C.②④ D.③④

25.以科幻为主题的电影《流浪地球》上映以来，在观众中引起巨大反响。电影用虚幻的未来世界，展示了中国独特的思想和价值观念，引发人们对人类未来的畅想与探讨，拓展了人类憧憬美好未来的视野。这说明

- ①科幻作品也是对客观存在的如实反映
- ②科幻作品更能生动表达人的真实情感
- ③科幻作品的虚构应源于生活、高于生活
- ④成功的科幻作品应坚持虚构与真实的统一

A.①② B.①④ C.②③ D.③④

26.己亥猪年(2019 年)生肖贺年邮票“五福齐聚”(图 11)，以家为核心概念，赋予生肖形象合家欢的生动设定，完美地表达了中国人历史悠久的“全家福”观念，寄托着新春佳节合家团圆、五福临门的家国情怀和美好祝福。这说明

- ①邮票是中华民族文化的集中展示
- ②邮票可以表达爱国爱家的美好情感
- ③中华优秀传统文化博大精深、亘古不变
- ④家国情怀凝聚着中华民族的共同追求



A.①② B.①③ C.②④ D.③④

27.鸡蛋是市民餐桌上的一道不可或缺的美食。近年来，绿壳鸡蛋成为消费者的新宠，价格明显高于普通鸡蛋。很多消费者认为绿壳鸡蛋营养价值高，有保健功效，贵点无所谓。但营养学专家指出，蛋壳颜色与鸡的种类有关，与饲养环境和营养价值无关。下列评述合理的是

- ①绿壳鸡蛋的颜色根源于鸡的内在遗传因素，不由外部环境决定
- ②鸡蛋营养价值与蛋壳颜色无本质联系，人们不能臆造客观联系
- ③消费者对绿壳鸡蛋营养价值的真理性认识决定了其价值
- ④消费者关于绿壳鸡蛋的观念佐证了经验层面的认识是不可靠的

A.①② B.①③ C.②④ D.③④

28.当我们在手机上下载一个个 APP 时，经常会被询问“是否同意服务条款”，如果我们留意一下，就会发现有些条款属于个人隐私，但很多时候，不接受隐私条款就无法使用。那么，这样的隐私条款是否合理？在大数据时代，公民个人信息的合法权益该如何保护？

政协委员针对这些问题可以

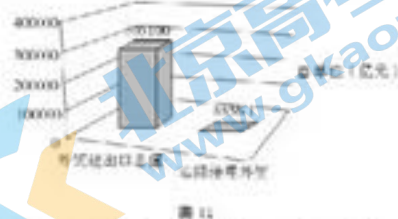
- ①就个人信息保护问题约谈相关方面的运营商
- ②对政府在公民信息保护方面的工作进行质询
- ③积极进行社会调研，写成相关报告或提案
- ④就信息安全问题提出建议，进行民主监督

A.①②B.②③C.①④D.③④

29.在世界经济动能趋缓、外部环境复杂多变的背景下,2018年我国外贸进出口总值和实际使用外资仍交出了两个“历史新高”的成绩单,如图12所示。据此可以推断出我国

- ①对外贸易的增长速度不断提高
- ②“走出去”步伐加快、出口竞争优势增强
- ③抵御外部经济环境波动的能力增强
- ④贸易和投资自由化、便利化政策不断落地

A.①②B.①③ C.②④D.③④



30.果蔬宅配是客户通过电子商务平台,订购水果、蔬菜类农产品,并在指定时间、指定地点获得相关物品服务的消费模式(图13)。图中甲、乙、丙、丁依次为客户、商务订购平台、果蔬宅配中心、果蔬种植基地。这种配送模式对果蔬生产和营销的影响是



图13

- ①减少流通环节,使相关企业具有低成本优势
- ②加大市场自由放任,推动消费社会化发展
- ③促进社会分工,提高果蔬宅配的配送效率
- ④增加就业岗位,提升居民消费质量与水平

A.①②B.①③C.②④D.③④

31.契约精神是中国古老而悠久的商业品格。从最原始的签字画押,到现代社会的电子印签,契约精神是商业秩序最基本的“压舱石”,其精髓是诚信。新时代中国特色社会主义的良性运转仍然需要弘扬契约精神,因此

- ①经济活动参与者应信守合同,自觉遵守市场规则
- ②消费者应该增强法律意识,树立理性消费的观念
- ③行业协会须规范市场秩序,净化消费市场环境
- ④国家要建立失信惩戒机制,完善违约制约机制

A.①②B.②③C.①④D.③④

32. PM2.5(细颗粒物)是导致空气严重污染的雾霾天气出现的重要因素。图14为某市PM2.5主要污染物来源的构成图。为治理空气污染,该市政府可采取的经济措施是




图14

- A.提高燃煤企业排污标准
- B.增加财政投入扶持清洁能源技术研发与推广
- C.加强环境保护执法力度
- D.限制企业和居民对机动车的购买和使用

33.民主生活会是指党员、领导干部召开的旨在开展批评与自我批评的组织活动制度,遵循“团结—批评—团结”的方针,坚持实事求是,讲党性不讲私情、讲真理不讲面子,达到统一思想、增进团结、互相监督、共同提高的目的。目前党内民主生活会已经成为组织活动的常态。开展党内民主生活会有利于

- ①提升党的执政能力,巩固党的执政地位
- ②健全对行政权力进行制约和监督的机制
- ③通过党内民主引导带动人民民主的发展
- ④改进党的工作,完善党的国家管理职能

A.①②B.①③C.①④D.③④

34.从“一带一路大道之行”到“小账本连着大情怀”，从“石氏砺奋进的五年”到“厉害了，我的国”……新中国成立70年的伟大成就，见证了人民群众满满的“获得感”。让人民拥有更多的获得感

- ①是社会主义本质的必然要求②是衡量党和政府改革成效的重要标准
③是解决新时期社会主要矛盾的根本之策④是政府依法执政的第一要务
A.①②B.①③C.②④D.③④

35.2018年，中国举办了四大外交活动：以改革开放为主题的博鳌亚洲论坛年会、以弘扬上海精神为主题的上海合作组织峰会、以一带一路为主题的中非合作论坛峰会、以市场开放为主题的中国国际进口博览会，这是践行共同构建人类命运共同体的重要举措。这说明我国

- ①发展全方位外交，在建设国际新秩序中发挥积极作用
②遵循联合国宪章精神，主导世界的和平与发展
③主动担当大国责任，为全球治理体系改革贡献中国智慧
④积极发展与国际组织的同盟关系，坚定维护国家利益
A.①③B.①④C.②③D.②④

38.(34分)农业、农村、农民问题是关系国计民生的根本性问题。

如今，一碗大米与人们幸福安康有着密切的关系，这促使黑龙江省水稻种植户从春耕就开始了“供给侧之变”。

绿色种植	前些年，当地的水稻种植户靠多施化肥来提高产量，但是米的口感不好，销路就不好；现在，七河源水稻种植专业合作社推行绿色种植，减肥控药，用的是生态有机肥，满足了人们对绿色健康生活的追求。
产品特色	水稻田里养鸭子，鸭子不仅吃虫吃草还将鸭粪直接排在水稻田里，基本代替了农药化肥的使用。鸭子长大后还能起到中耕活水作用，有利于疏松土壤，增加氧气，可以促进水稻生长。与此同时，鸭子以田间天然生物为食，生活在纯天然绿色环境之中，从而保证了水稻和鸭的天然无公害品质。
科技营销	多少年来，卖粮，成为稻农完成一年辛苦劳作的最后一环，水稻原粮一般被卖到粮库或收购人手中。如今，种植合作社面向市场利用互联网搞营销，让“好大米”成“网红”；举办“水稻文化节”，加强品牌建设，组织企业奔赴全国各地参加展会；充分挖掘绿色农业的文化功能和环境价值，休闲农业风生水起，成为当地农民增收新的增长点。

(1)结合上述材料，运用《经济生活》的相关知识，说明“一碗大米”的“供给侧之变”带来了什么。(12分)

一碗米有多大价值？第一种情况，往这碗米里加点水蒸一蒸，半个钟头后，米饭出来了，可能就是一块钱的价值；第二种情况，把米好好泡一泡，包成粽子，也许是四、五块钱的价值。第三种情况是把米适当地发酵、加温，就可以酿成一桶酒，有可能是一、二百块钱的价值。

其实，我们每一个人最初的价值都可以比作未经加工的那一碗米。随着时间的推移，人和人的价值就拉开了差距。发展的不同结果，在很大程度上取决于每个人对自己的加工程度。因此，要提升个人的价值，就要善于“加工”自己，拓展发展空间。

(2)一碗米通过不同的加工方式，提高了其商品价值。每个人要提升自己的人生价值就要善于“加工”自己。联系材料，运用《生活与哲学》的相关知识，说明个人在人生道路上应如

何“加工”自己。(10分)

新时代，农民对美好生活有更高的期待，这是乡村振兴的目标所在。全国两会前夕记者深入农村，采访农民，将迫切的问题记录了下来。

- 有的地方村务公开走过场，民主管理还需加强，村务决策机制落实不到位；
- 大多数农村是旱厕，气味难闻，大多有卫生隐患；
- 村民法治意识有待进一步增强，乡村依法治理尚未形成合力；
- 优秀传统文化弘扬不够，德治保障机制尚需加强；

(3)联系材料，运用《政治生活》的相关知识，说明如何解决上述问题。(12分)

39. (10分)“黄沙洼呵黄沙洼，吞了山丘吞人马。”1949年，山西省右玉县全境近300万亩土地几乎全部沙化，林木覆盖率不到0.3%。

一棵接着一棵栽，一任连着一任干。1949年，首任县委书记张荣怀和当地干部群众经过深入调研后决定，“要想风沙住，就得多种树”。此后近70年里，右玉县展开绿色接力，干部群众坚持不懈植树造林，如今林木覆盖率已达54%，不仅创造了荒漠变绿洲的生态奇迹，更铸就了迎难而上、艰苦奋斗、久久为功、利在长远的“右玉精神”。

为民初心不改，奋斗未有穷期。治住黄沙始到金。如今在“绿水青山就是金山银山”这一生态理念指引下，右玉开启了变生态资本为经济资本，化生态优势为经济优势，全力发展生态文化旅游的新征程。新一轮的“绿水青山”正在接续……



图 16 治理前的老城北墙一带的景象



图 17 治理后的老城北墙一带的景象

联系材料，运用《生活与哲学》的相关知识，请自拟题目为山西省右玉县70年的生态变化写一篇短评。

要求：观点鲜明，能明确表达自己的见解；紧扣问题全面展开论述，或就某点深入分析，知识运用准确、贴切；逻辑严密，条理清晰，字数在200字左右。

40. (18分)城市化是现代社会的标志之一。阅读材料，回答问题。

材料三近270岁的高冷皇家园林—颐和园“潮”了起来。

2018年纽约时装周上，颐和园的“凡事和为贵”卫衣系列(见图22)，将颐和园的古典建筑和龙腾祥云巧妙结合，以奇幻插画的手法，搭配精致的刺绣工艺，潮范儿十足；“百鸟朝凤”手账的图案来源于颐和园乐寿堂刺绣屏风《百鸟朝凤》，运用现代绘画技巧的国画风格重新诠释；瑞兽和纸胶带以中国红为主色调，麒麟、仙鹤、凤凰等形象，搭配上中国传统色，寓意吉祥。



图 22

(4)联系材料，运用《文化生活》的相关知识，谈谈颐和园“潮”起来的意义。(8分)

通州区 2019 年高三年级模拟考试

政治答案

第 I 卷(选择题共 140 分)

24-25 CD 26-30 CADDB 31-35 CBBAA

第 II 卷(非选择题共 160 分)

38. (34 分)

(1)(12 分)

- ①通过减肥控药、使用生态有机肥,开展绿色种植,贯彻绿色发展理念,满足了消费者对绿色健康美好生活的需求。
- ②通过生态养殖,提高了大米的质量,增加了大米的附加值。
- ③通过成立有机水稻种植专业合作社,创新了水稻的经营和发展模式,增强了稻农的抗风险能力。
- ④通过面向市场、网络营销、创立品牌,创新了营销方式、减少中间环节和流通成本,增加了农民收入,提升农民的获得感。
- ⑤通过发展绿色农业,使地更绿、水更清,开展休闲农业旅游,促进农村产业结构调整,促进农业高质量发展。

(每点 2 分,观点与材料结合的好,综合表述 2 分)

(2)(10 分)

- ①一切从实际出发,客观地认识自己;
- ②发挥主观能动性,勇于拼搏、不怕困难,石氏砺自我,不断提升自身素质和能力;
- ③积极参加社会实践,在实践中丰富自己的认识;
- ④用联系的观点看问题,正确处理个人与他人、与社会的关系,利用有利条件,发展自己;
- ⑤注重积累,脚踏实地、埋头苦干,抓住机遇,发展自己;
- ⑥具体分析自己的特点,善于扬长避短;
- ⑦坚持与时俱进,树立创新意识,勇于开拓创新;
- ⑧树立正确的价值观,在奉献中实现自身价值。

(答出以上 4 点,言之成理即可得 8 分,综合表述 2 分)

(3)(12 分)

- ①坚持基层群众自治制度,充分发挥村委会自我管理、自我教育、自我服务的作用,创新村务公开、村务决策的方式,调动村民参与农村基层群众自治的积极性。
- ②政府要坚持对人民负责的原则,深入群众,调查研究,发扬求真务实的工作作风。
- ③切实履行好管理和服务的职能,履行加强社会建设职能,提升农民生活品质,加快美丽乡村建设的步伐。
- ④完善农村的文化设施,加大宣传力度,提高村民的道德意识和法治意识;依法行政,提升依法治村、依法治乡的意识 and 能力。
- ⑤村民要发挥主人翁意识,主动参与到美丽乡村建设中来。

(答出以上 5 点,言之成理即可得分 10 分,综合表述 2 分)

39.(10 分)

自拟题目 1 分

可运用观点:物质与意识辩证关系及方法论、尊重规律与发挥人的主观能动性、实践

和认识的辩证关系、联系观点、发展观点、量变与质变的关系及方法论、人民群众主体地位、价值观的导向作用、正确价值判断价值选择等。

(此题答案不唯一，从其他角度分析，言之成理，亦可得分)

等级水平	等级描述
水平4 (7-9分)	观点鲜明，能明确表达自己的见解；紧扣问题全面展开论述，或就某点深入分析，知识运用准确、贴切；逻辑严密，条理清晰
水平3 (4-6分)	观点比较明确，能表达自己的见解；能扣住问题展开论述，或能就某点分析，知识运用比较准确、贴切；逻辑性较强，有条理
水平2 (1-3分)	观点不明确；不能集中指向问题，罗列知识；知识运用不正确；论述缺乏逻辑，条理性差
水平1 (0分)	应答与试题无关；或重复试题内容；或没有应答

41.(26分)

(4)(8分)

①颐和园通过利用传统文化的元素、工艺，结合人们的需求，设计了卫衣、纸胶带、手账等文化创意产品，推动了传统文化创造性转化和创新性发展，有利于推动传统文化的继承、发展与创新；

②文化与经济相互交融，颐和园元素的“潮”起来的文化创意产品走向市场，带动了相关文化产业的发展，促进了消费，满足了人们更美好的需求；

③颐和园元素的文化创意产品走向了纽约时装周，推动了中华文化走向世界，促进了文化交流，提升了中华文化的影响力，增强文化自信。

(从其他角度分析，言之成理，亦可得分，综合表述2分)