

# 九年级数学答案及评分参考

2022.1

一、选择题（共 16 分，每题 2 分）

题号	1	2	3	4	5	6	7	8
答案	C	D	C	A	D	C	B	B

二、填空题（共 16 分，每题 2 分）

9.  $(-4, 7)$ .      10.  $-5$ .      11. 900.

12. 答案不唯一，如： $y = -(x+1)^2$ .      13.  $(2, 1)$ .

14. 答案不唯一，如：将抛物线  $y = \frac{1}{2}x^2 + 2$  绕点  $(2, 2)$  旋转  $180^\circ$  得到抛物线  $y = -\frac{1}{2}(x-4)^2 + 2$ .

15.  $90^\circ - \frac{1}{2}a$ .      16. 2.

三、解答题（共 68 分，第 17-18 题，每题 5 分，第 19 题 6 分，第 20 题 5 分，第 21 题 6 分，第 22-24 题，每题 5 分，第 25-26 题，每题 6 分，第 27-28 题，每题 7 分）

17. 解： $a=1, b=-2, c=-2$ . ..... 1 分

$\Delta = b^2 - 4ac = (-2)^2 - 4 \times 1 \times (-2) = 12 > 0$ . ..... 2 分

方程有两个不相等的实数根

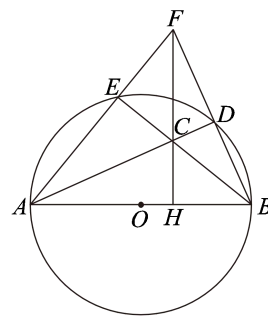
$x = \frac{-b \pm \sqrt{b^2 - 4ac}}{2a} = \frac{2 \pm \sqrt{12}}{2 \times 1}$  ..... 4 分

$= 1 \pm \sqrt{3}$ .

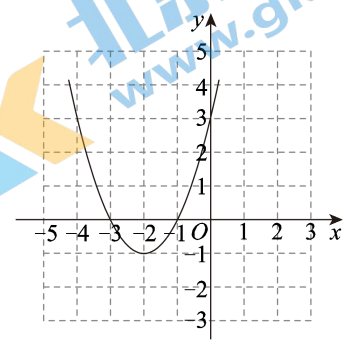
原方程的根为  $x_1 = 1 + \sqrt{3}, x_2 = 1 - \sqrt{3}$ . ..... 5 分

18. 解：（1）补全图形如图所示； ..... 2 分

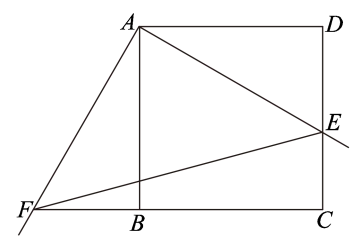
（2） $90^\circ$ ，直径所对的圆周角为直角， $BD$ . ..... 5 分



19. 解: (1)  $x=-2, (-2, -1)$ ; ..... 2分  
 (2) 图象如图所示; ..... 4分  
 (3)  $m < -4$  或  $m > 0$ . ..... 6分



20. (1) 证明:  $\because$  四边形  $ABCD$  是正方形,  
 $\therefore AB=AD, \angle ABC=\angle D=90^\circ$ . ..... 1分  
 $\therefore \angle ABF=180^\circ-\angle ABC=90^\circ$ .  
 $\therefore \angle ABF=\angle D$ . ..... 2分  
 $\therefore BF=DE$ ,  
 $\therefore \triangle ABF \cong \triangle ADE$ . ..... 3分  
 $\therefore AF=AE$ . ..... 4分



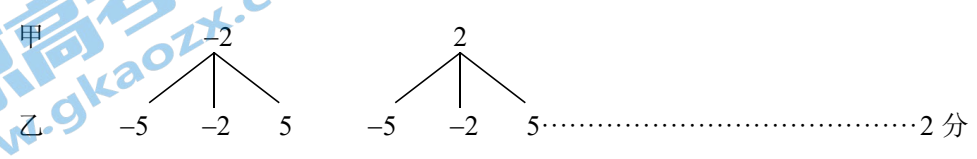
- (2) 8. .... 5分

21. (1) 证明:  $\Delta = [-(k+5)]^2 - 4 \times 1 \times (6+2k)$  ..... 1分  
 $= k^2 + 2k + 1$  ..... 2分  
 $= (k+1)^2$ .

$\therefore (k+1)^2 \geq 0$ , 即  $\Delta \geq 0$ ,  
 $\therefore$  此方程总有两个实数根. .... 3分

- (2) 解:  $\therefore x = \frac{k+5 \pm \sqrt{(k+1)^2}}{2}$ ,  
 $\therefore x_1 = k+3, x_2 = 2$ . ..... 5分  
 $\therefore$  此方程恰有一个根小于  $-1$ ,  
 $\therefore k+3 < -1$ .  
 $\therefore k < -4$ . ..... 6分

22. 解: (1) 树状图如下:



可以看出,所有可能出现的结果共有 6 种,这些结果出现的可能性相等.其中小明获胜的结果有 2 种,小刚获胜的结果有 3 种,因此  $P(\text{小明获胜}) = \frac{2}{6} = \frac{1}{3}$ ,  
 $P(\text{小刚获胜}) = \frac{3}{6} = \frac{1}{2}$ . ..... 4 分

(2) 答案不唯一,如: 1. .... 5 分

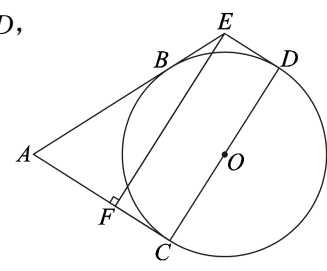
23. (1) 证明:  $\because AC$  与  $\odot O$  相切于点  $C$ ,  $ED$  与  $\odot O$  相切于点  $D$ ,

$\therefore OC \perp AC, OD \perp ED$ . ..... 2 分

$\because EF \perp AC$  于点  $F$ ,

$\therefore \angle FCD = \angle EDC = \angle EFC = 90^\circ$ .

$\therefore$  四边形  $CDEF$  是矩形. .... 3 分



(2) 解:  $\because AB, AC$  分别与  $\odot O$  相切于点  $B, C$ ,  $EB, ED$  分别与  $\odot O$  相切于点  $B, D$ ,

$\therefore AB = AC, EB = ED = 2$ . ..... 4 分

设  $AC = x$ , 则  $AE = AB + BE = x + 2$ .

$\because$  四边形  $CDEF$  是矩形,

$\therefore EF = CD = 2\sqrt{10}, FC = ED = 2$ .

$\therefore AF = AC - FC = x - 2$ .

$\because$  在  $\text{Rt}\triangle AEF$  中,  $AE^2 = AF^2 + EF^2$ ,

$\therefore (x + 2)^2 = (x - 2)^2 + (2\sqrt{10})^2$ .

$\therefore x = 5$ .

$\therefore AC = 5$ . .... 5 分

24. 解: (1)  $(4.5, 3.05), (3, 3.3)$ ; ..... 2 分

(2) 根据题意, 设此抛物线的表达式为  $y = a(x - 3)^2 + 3.3$ . .... 3 分

将点  $B(4.5, 3.05)$  代入, 得  $3.05 = a(4.5 - 3)^2 + 3.3$ , 解得  $a = -\frac{1}{9}$ . .... 4 分

$\therefore y = -\frac{1}{9}(x - 3)^2 + 3.3$ .

当  $x = 0$  时,  $y = 2.3$ .

答: 篮球出手时距地面的高度为 2.3 m. .... 5 分

25. (1) 证明: 连接  $OD$ , 如图 1.

$\because D$  是  $\widehat{AC}$  的中点,

$\therefore \widehat{AD} = \widehat{CD}$ .

$\therefore \angle ABD = \angle CBD$ . ..... 1 分

$\because OD = OB$ ,

$\therefore \angle ODB = \angle OBD$ . ..... 2 分

$\therefore \angle ODB = \angle CBD$ .

$\therefore OD \parallel BC$ .

$\because DE \perp BE$ ,

$\therefore \angle E = 90^\circ$ .

$\therefore \angle ODE = 180^\circ - \angle E = 90^\circ$ .

$\therefore OD \perp DE$ .

$\therefore DE$  是  $\odot O$  的切线. .... 3 分

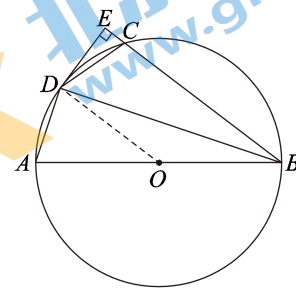


图 1

(2) 解: 过点  $O$  作  $OF \perp BC$  于点  $F$ , 如图 2,

则  $CF = BF = \frac{1}{2} BC = 4$ , ..... 4 分

$\angle OFE = \angle ODE = \angle E = 90^\circ$ .

$\therefore$  四边形  $ODEF$  是矩形.

$\therefore OD = EF, OF = DE$ .

$\because AB$  是  $\odot O$  的直径,  $AB = 10$ ,

$\therefore OB = OD = EF = \frac{1}{2} AB = 5$ .

$\therefore BE = BF + EF = 9$ . ..... 5 分

在  $\text{Rt}\triangle OBF$  中,  $OF^2 = OB^2 - FB^2 = 5^2 - 4^2$ ,

$\therefore OF = 3$ .

$\therefore DE = 3$ .

在  $\text{Rt}\triangle BDE$  中,  $BD^2 = BE^2 + DE^2 = 9^2 + 3^2$ ,

$\therefore BD = 3\sqrt{10}$ . ..... 6 分

26. 解: (1) ① 8; ..... 1 分

② 令  $y = 0, (x - h)^2 - 8 = 0$ . ..... 2 分

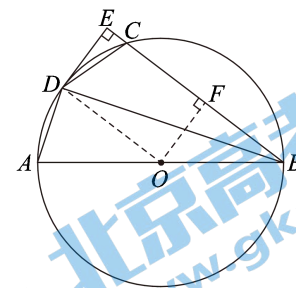


图 2

解得  $x_1 = h + 2\sqrt{2}$ ,  $x_2 = h - 2\sqrt{2}$ .

$\therefore$  抛物线与  $x$  轴的两个交点之间的距离为  $x_1 - x_2 = 4\sqrt{2}$ . ..... 3 分

(2)  $\because$  点  $A$  到  $x$  轴的距离为 4,

$\therefore |-8a| = 4$ .

$\therefore a = \frac{1}{2}$  或  $-\frac{1}{2}$ .

① 当  $a = \frac{1}{2}$  时,  $y = \frac{1}{2}(x-h)^2 - 4$ .

$\because$  当  $x_1 < x_D < x_2$  时,  $y_D$  总满足  $y_2 < y_D < y_1$ ,

$\therefore h \geq x_2$ .

如图 1, 当点  $A(h, -4)$  在直线  $y = -2x + 1$  上时,

$-4 = -2h + 1$ , 解得  $h = \frac{5}{2}$ .

$\therefore h \geq \frac{5}{2}$ . ..... 5 分

$\because 0 < h < \frac{7}{2}$ ,

$\therefore \frac{5}{2} \leq h < \frac{7}{2}$ .

② 当  $a = -\frac{1}{2}$  时,  $y = -\frac{1}{2}(x-h)^2 + 4$ .

如图 2 所示, 不符合题意,

$\therefore a = -\frac{1}{2}$  舍去.

综上,  $a = \frac{1}{2}$ ,  $\frac{5}{2} \leq h < \frac{7}{2}$ . ..... 6 分

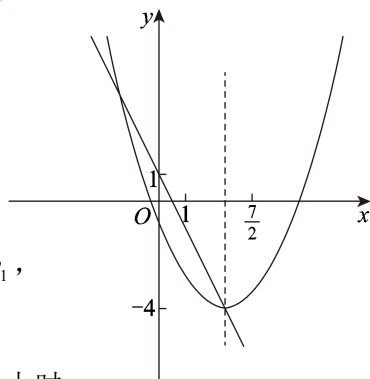


图 1

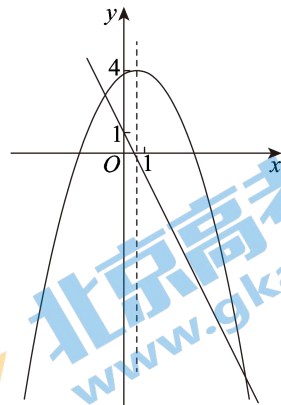


图 2

27. 解: (1) ①  $\angle CAE = \angle CBD$ . ..... 1 分

证明:  $\because CA = CB$ ,  $\angle ACE = \angle BCD$ ,  $CE = CD$ ,

$\therefore \triangle CAE \cong \triangle CBD$ .

$\therefore \angle CAE = \angle CBD$ . ..... 2 分

②证明：∵  $CF \perp AE$ ，  
 ∴  $\angle AHC = 90^\circ$ .  
 ∴  $\angle CAH + \angle ACH = 90^\circ$ .  
 ∵  $\angle ACB = 90^\circ$ ，  
 ∴  $\angle BCF + \angle ACH = 90^\circ$ .  
 ∴  $\angle CAH = \angle BCF$ .  
 ∴  $\angle CAE = \angle CBD$ ，  
 ∴  $\angle CBD = \angle BCF$ .

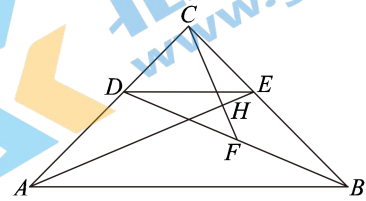


图 1

∴  $CF = BF$ . ..... 3 分

∵  $\angle CDB + \angle CBD = 90^\circ$ ， $\angle DCF + \angle BCF = 90^\circ$ ，

∴  $\angle CDB = \angle DCF$ .

∴  $CF = DF$ .

∴  $BD = 2CF$ .

∵  $\triangle CAE \cong \triangle CBD$ ，

∴  $AE = BD$ .

∴  $AE = 2CF$ . ..... 4 分

(2)  $AE = 2CF$  仍然成立.

证明：延长  $DC$  至  $M$ ，使  $CM = CD$ ，连接  $BM$ ，如图 2.

∵  $F$  是  $BD$  的中点， $C$  是  $DM$  的中点，

∴  $MB = 2CF$ .

∵  $CD = CE$ ， $\angle DCE = 90^\circ$ ，

∴  $CM = CE$ ， $\angle MCE = 180^\circ - \angle DCE = 90^\circ$ .

∵  $\angle ACB = 90^\circ$ ，

∴  $\angle ACB + \angle BCE = \angle MCE + \angle BCE$ ，

即  $\angle ACE = \angle BCM$ .

∵  $CA = CB$ ，

∴  $\triangle ACE \cong \triangle BCM$ .

∴  $AE = BM$ .

∴  $AE = 2CF$ . ..... 7 分

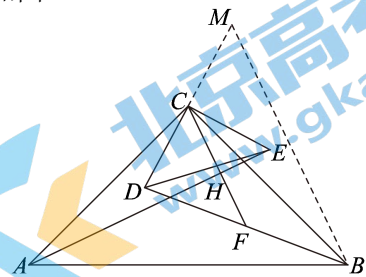


图 2

28. 解: (1) ①  $\frac{3}{4}$ ; ..... 1分

②  $C_3$ ; ..... 2分

③如图, 当点  $D$  在  $y$  轴正半轴时, 设直线  $l$  与  $\odot O$  的另一个交点为  $F$ ,

过点  $O$  作  $OE \perp AF$  于点  $E$ , 则  $AE = \frac{1}{2} AF$ .

$\therefore$  点  $E$  是点  $A$  关于  $\odot O$  的  $\frac{1}{2}$  倍特征点.

过点  $E$  作  $EG \perp OA$  于点  $G$ ,

则  $\angle OEA = \angle EGO = 90^\circ$ .

在  $Rt\triangle OEA$  中,  $\angle EAO = 60^\circ$ ,

$\therefore \angle EOA = 30^\circ$ .

$\because OA = 1$ ,

$\therefore EA = \frac{1}{2} OA = \frac{1}{2}$ ,  $OE = \sqrt{OA^2 - EA^2} = \frac{\sqrt{3}}{2}$ .

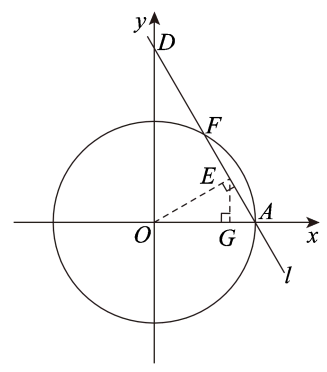
在  $Rt\triangle OEG$  中,  $EG = \frac{1}{2} OE = \frac{\sqrt{3}}{4}$ ,  $OG = \sqrt{OE^2 - EG^2} = \frac{3}{4}$ .

$\therefore$  点  $E$  的坐标为  $(\frac{3}{4}, \frac{\sqrt{3}}{4})$ .

同理可求当点  $D$  在  $y$  轴负半轴时, 点  $E$  的坐标为  $(\frac{3}{4}, -\frac{\sqrt{3}}{4})$ .

$\therefore$  点  $E$  的坐标为  $(\frac{3}{4}, \frac{\sqrt{3}}{4})$  或  $(\frac{3}{4}, -\frac{\sqrt{3}}{4})$ . ..... 5分

(2)  $k$  的最大值是  $\frac{2+\sqrt{2}}{4}$ , 最小值是  $\frac{2-\sqrt{2}}{4}$ . ..... 7分



## 北京高一高二高三期末试题下载

北京高考资讯整理了【2022年1月北京各区各年级期末试题&答案汇总】专题，及时更新最新试题及答案。

通过【北京高考资讯】公众号，对话框回复【期末】或者底部栏目<试题下载→期末试题>，进入汇总专题，查看并下载电子版试题及答案！

