

## 文科综合能力测试

一、选择题：本题共 35 小题，每小题 4 分，共 140 分。在每小题给出的四个选项中，只有一项是符合题目要求的。

2008 年，宜春市提出发展锂电新能源产业，打造“亚洲锂都”的目标。2020 年后，该市锂电产业出现爆发式增长，随着总投资 500 亿元的宁德时代项目签约落户，吸引国内众多锂电生产公司集聚，形成了“锂矿—锂盐—锂材料—锂电池—锂应用等”全产业链发展模式。据此完成 1~3 题。

1. 促进宜春锂电产业发展的关键因素是  
A. 市场  
B. 交通  
C. 技术  
D. 政策
2. 锂电生产公司向宜春集聚的目的是  
A. 降低公司用工成本  
B. 强化产业上下游联系  
C. 促进当地产业升级  
D. 提升新能源产业竞争力
3. 采用全产业链发展模式有利于国家新能源产业  
A. 提高抗风险力  
B. 实现清洁生产  
C. 增加就业岗位  
D. 减少营销成本

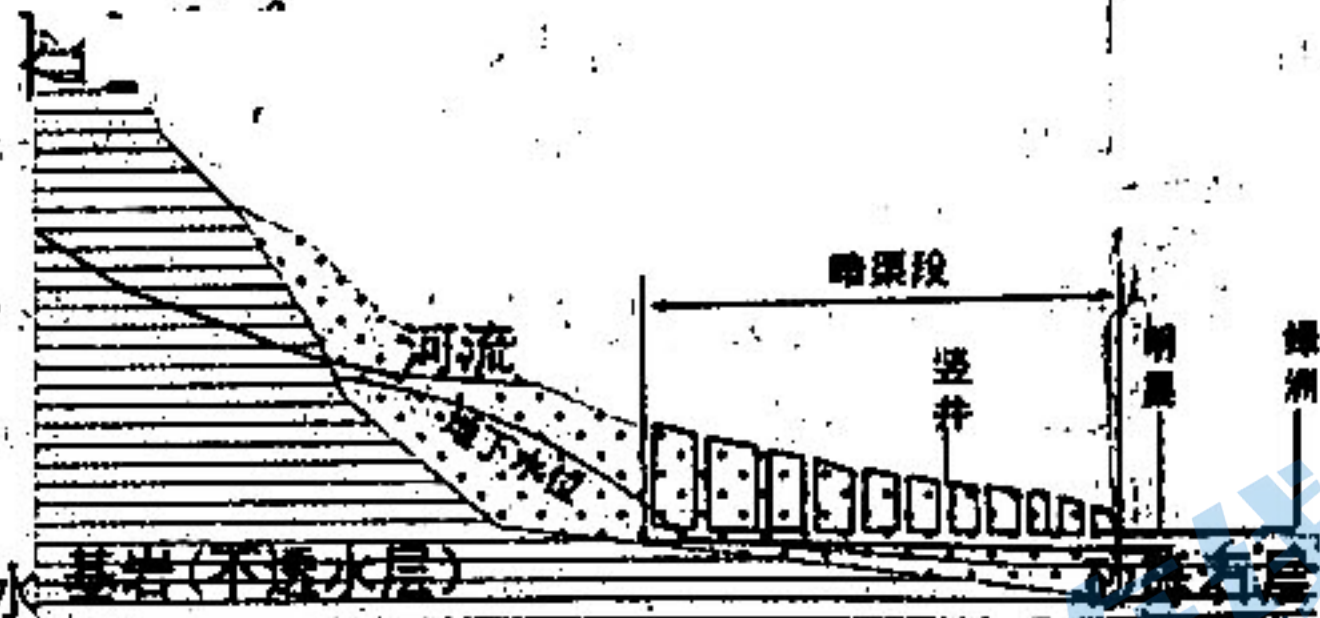
坎儿井是干旱地区的一种地下水利工程，一般由竖井、暗渠、明渠组成。暗渠可以汇集地下水，最终通过明渠向绿洲供水。下图是某地坎儿井剖面略图。据此完成 4~5 题。

4. 图示区域内的河流地貌包括

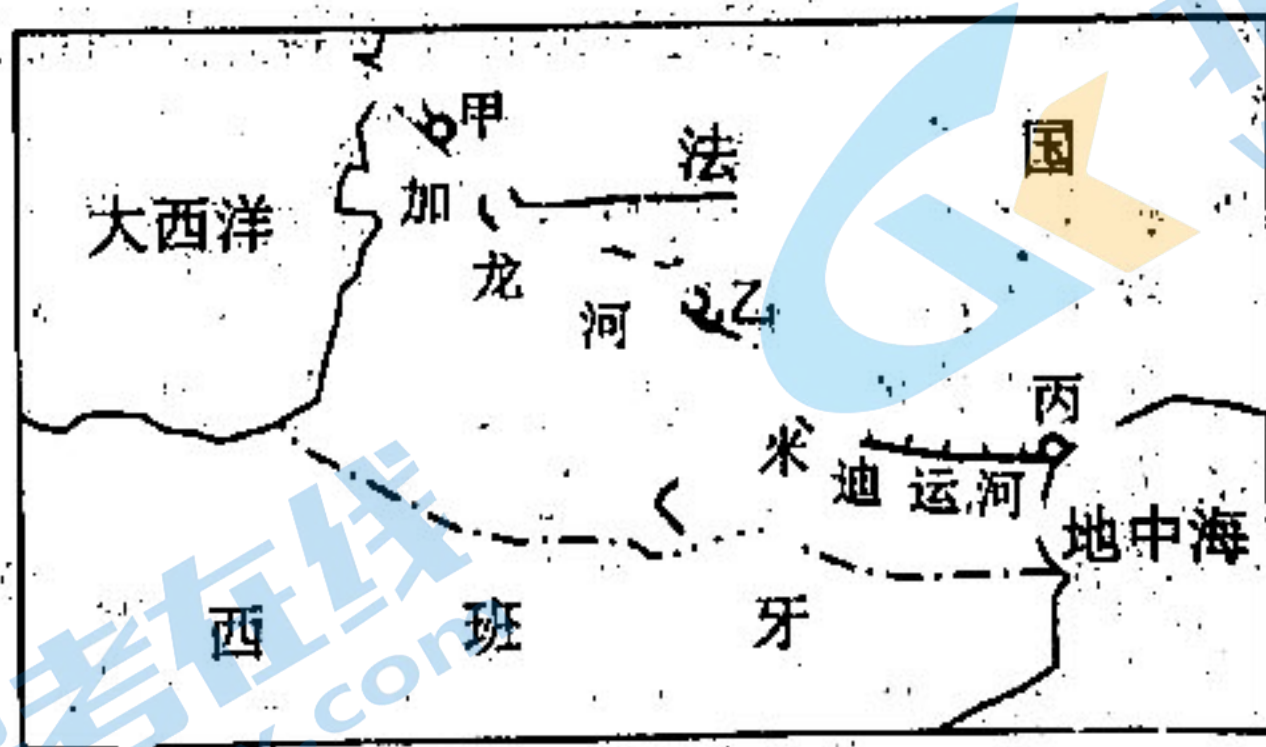
- A. 槽型谷，冲积扇
- B. 槽型谷，河漫滩
- C. V 型谷，冲积扇
- D. V 型谷，河漫滩

5. 坎儿井对地下水的影响表现为

- ①平均水位上升 ②平均水位下降 ③水  
A. ①③  
B. ①④  
C. ②③  
D. ②④



法国米迪运河，1681 年竣工通航，连接地中海和大西洋，是欧洲当时最繁忙的水上通道之一。随着海洋运输的发展，目前该运河基本失去了通航价值。下图是米迪运河区位略图。据此完成 6~8 题。



6. 米迪运河竣工之前，甲、丙两海港之间  
A. 陆运联系受到制约  
B. 陆运联系无法实现  
C. 水运联系距离较长  
D. 水运联系无法实现
7. 米迪运河竣工后，甲、乙之间通航条件下降的原因是加龙河  
A. 水量减少  
B. 泥沙增多  
C. 航运需求减少  
D. 洪涝现象增多
8. 目前米迪运河失去通航价值主要原因是海洋运输方式的  
A. 高速化  
B. 大型化  
C. 专业化  
D. 智能化

2018年1月，云南鲁甸县小男孩发现路边树枝上挂满了冰霜。一路上小男孩头上也因为水汽凝结而形成一头“白发”，被学校老师称作“冰花男孩”。下图是冰花男孩及其沿路看到的冰霜景观，资料显示，冰花与冰霜形成的水汽来源不同。据此完成9~11题。

9. 小男孩一路行走时最有可能正处于  
 A. 晴朗的清晨      B. 晴朗的午后  
 C. 阴天的清晨      D. 阴天的午后


10. 冰霜形成的必要温度条件是

- ① 树枝温度低于  $0^{\circ}\text{C}$   
 ② 空气温度低于  $0^{\circ}\text{C}$   
 ③ 树枝温度高于空气温度  
 ④ 树枝温度低于空气温度

- A. ①②      B. ②③  
 C. ③④      D. ①④

11. 形成小男孩头发上冰花的水汽来源于

- A. 周边的空气      B. 树上的冰霜  
 C. 脚下的土壤      D. 头顶的汗液

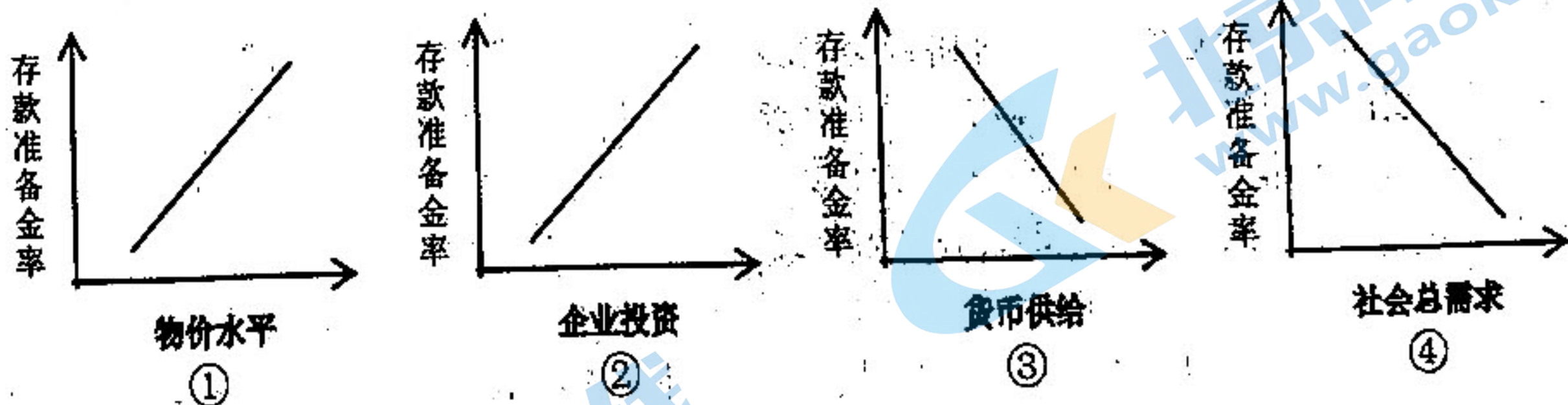


12. 2022年，预制菜这个号称“可让厨房小白10分钟实现做饭自由”的赛道爆火，很多传统小吃、家常菜肴、地方名菜等都被做成了预制菜。预制菜符合当下快节奏的生活需求，着眼于人们从吃饱到吃好、吃健康、吃营养的需要。巨大的市场需求加上政府的支持，使得预制菜吸引了众多的资金和企业入局。预制菜这一火爆新赛道的出现

- ① 有利于刺激消费和推动消费变革      ② 有利于营造安全放心的消费环境  
 ③ 能够带动冷链和物流行业的发展      ④ 会吸引投资和助长资本的扩张性

- A. ①②      B. ③④      C. ①③      D. ②④

13. 为保持流动性合理充裕，促进综合融资成本稳中有降，落实稳经济一揽子政策措施，中国人民银行决定于2022年12月5日降低金融机构存款准备金率0.25个百分点。这一调控措施的影响用下列图形描述正确的是



- A. ①②      B. ①④      C. ②③      D. ③④

14. 近年来，实施减税降费政策向制造业倾斜，加大研发费用加计扣除、增值税留抵退税等政策力度，支持企业科技创新和传统产业改造升级。下列说法正确的是

- ① 资本流出制造业加快，制造业的效益提高  
 ② 机器设备更新加快，制造业转型升级提速  
 ③ 助力企业降成本，消费者可分享减税收益  
 ④ 高科技制造业供给弹性大，减税获益较少

- A. ①③      B. ①④      C. ②③      D. ②④

15. 商务部数据显示, 2022年1至11月, 全国实际使用外资金额 11560.9 亿元人民币, 同比增长 9.9%, 具体增长情况如下表所示。

我国不同行业 (实际使用外资)		来源地 (部分国家对华投资)				我国区域分布 (不同地区实际使用外资)		
服务业 0.9%	高技术产业 31.1%	韩国 122.1%	德国 52.6%	英国 33.1%	日本 26.6%	东部 7.7%	中部 28.6%	西部 24.6%

据此, 以下推断正确的是

- ①我国持续优化引资结构, 利用外资的质量不断提高
- ②我国贯彻绿色发展理念, 区域发展的差距不断缩小
- ③我国构建双循环新发展格局, 助力企业“走出去”
- ④我国推动高水平开放, 以更大力度吸引和利用外资

A. ①②                      B. ②④                      C. ①③                      D. ①④

16. 近年来, 某镇积极探索“精网微格”治理新模式, 借助“智慧村居”管理平台, 在各村居推行“微格治理”工作方法, 搭建金字塔式“户—楼—格—网—村”五级自治组织架构, 代替原来的“村—组—民”管理体系, 像绣花一样精细地治理“人、事、物、组织”。这一基层治理新模式

- ①提高了基层社会治理的效能
- ②改变了基层民主自治的组织形式
- ③以科技赋能基层治理现代化
- ④保障了村民管理国家事务的权利

A. ①③                      B. ①②                      C. ②④                      D. ③④

17. 各地纪委监委充分发挥监督保障执行作用, 紧盯涉企职能部门权力运行、企业堵点难点, 开展“清风护企”专项行动, 为企业纾困解难, 助推稳经济、促发展一揽子政策措施落地落实。“清风护企”专项行动

- ①规范职能部门权力运行, 护航经济社会发展
- ②推进行政体制机制改革, 提高市场监管效能
- ③强化党委引领作用, 有效降低公共管理成本
- ④助力构建新型政商关系, 不断优化营商环境

A. ①③                      B. ①④                      C. ②③                      D. ②④

18. 万物互联、人机交互的时代, 网络信息数据安全面临新的挑战, 亟须以法律推动更有力的监管。数据安全法正式实施一年多以来, 地方人大也纷纷制定数据信息领域相关的地方性法规, 在进一步保护个人信息、数据安全的同时, 助力我国的数据要素市场化改革, 保障和促进数字经济的繁荣发展。这说明

- ①要坚持开门立法, 寻求全社会意愿的最大公约数
- ②要坚持依法立法, 各级人大都要依法行使立法权
- ③要不断提高立法质量, 用良法促进发展、保障善治
- ④立法要从实际出发, 使法律符合经济社会发展要求

A. ①②                      B. ②③                      C. ①④                      D. ③④

19. 某市一老电厂内闲置数年的建筑工地，乱停乱放的车辆、摇摇欲坠的工棚……在整治社区环境、巩固提升文明城市创建成果的过程中，几十亩闲置地被盘活用于发展夜经济。丰富的产品业态、精细化设计的景观绿化、规范的门店管理，让市民在工作之余有了一个休闲去处，使城市烟火气与文明同行。文明创建点亮夜经济

- ①能促进城市的物质文明和精神文明协调发展
  - ②是坚持创建为民，取得创建实效的生动实践
  - ③充分说明文化发展与经济社会发展是同步的
  - ④旨在发展文化产业，满足人民基本文化需求
- A. ①②      B. ③④      C. ①③      D. ②④

20. 2022年10月12日，在国际空间站执行任务的意大利航天员萨曼莎·克里斯托弗雷蒂发布了一组太空摄影作品，并配上了中国书法家王羲之《兰亭集序》中的名句——“仰观宇宙之大，俯察品类之盛，所以游目骋怀，足以极视听之娱，信可乐也”。这表明

- ①中华文化的优越性得到世界的广泛尊重与认可
  - ②文化既是民族的又是世界的，是人类共同财富
  - ③中华优秀传统文化日益走向世界，扩大影响力
  - ④中华文化能够为解决全球性挑战提供有益借鉴
- A. ①②      B. ②③      C. ①④      D. ③④

21. 2022年9月17日，神舟十四号航天员陈冬、刘洋、蔡旭哲密切协同，实施了第二次出舱活动。在约5小时的出舱活动中，航天员们不仅完成了设备与工具的安装，还进行了首次舱外救援验证。这说明

- ①实践活动的成功需要人们去突破客观条件的制约
  - ②实践具有社会性，出舱能成功离不开团队的协作
  - ③科学实验是实践基本形式之一，具有直接现实性
  - ④发挥主观能动性，能有效改变规律起作用的形式
- A. ①③      B. ①④      C. ②③      D. ②④

22. 近年来，随着锂离子电池在电动汽车和储能领域的广泛使用，完善废旧锂电池回收再利用已成为迫在眉睫的问题。针对目前回收方法所存在的弊端，中国科学院成会明院士提出了直接回收法和回收流程闭环化，通过直接修复电池的正负材料，从而使得材料的性能得以恢复，提高电池材料回收的价值。这说明

- ①人们可以通过实践调整和优化事物之间的联系
  - ②直接联系比间接联系更有利于推动事物的发展
  - ③把握联系的多样性有利于事物价值的创造性实现
  - ④价值的转变和创造是在人们的创新观念中实现的
- A. ①②      B. ①③      C. ③④      D. ②④

23. 历史只会眷顾坚定者、奋进者、搏击者，“奋斗”二字，饱含智慧勇毅、彰显使命担当。“林县人民多壮志，誓把河山重安排……”上世纪60年代，河南林县人民在县委领导下，毅然于悬崖峭壁间，依靠双手“掘”出一道长1500公里的“人工天河”，冲破靠天等雨的千年困境，创造了举世瞩目的人间奇迹。这启示青年

- ①尊重自然是正确处理人与自然关系的前提
  - ②团结奋斗是人民创造历史伟业的必由之路
  - ③争做时代新人，把奋斗融入党和人民事业
  - ④实现人生价值离不开社会提供的客观条件
- A. ①②      B. ①④      C. ②③      D. ③④

24. 《论语》记载，孔子针对“其父攘羊，而子证之”行为，主张“父为子隐，子为父隐”；孟子答弟子桃应“舜为天子，瞽瞍（舜父）杀人，舜如之何”时说：“窃负而逃，遵海滨而处，终身欣然，乐而忘天下。”这表明先秦儒者（ ）

- A. 注重血缘伦理
- B. 蔑视法律权威
- C. 主张礼法并用
- D. 维护宗法制度

25. 图1是初唐时期的莫高窟壁画（局部），其榜题书作“前汉中宗既获金人（匈奴佛像）莫知名号乃使博望侯张骞往西域大夏国问佛名号时”，但据史书记载，中宗是汉宣帝的庙号，宣帝时张骞已然离世。由此推断，这一壁画（ ）



图1 《张骞出使西域图》（局部）

- A. 反映了汉代边疆治理的成效
- B. 印证了东汉时佛学交流频繁
- C. 说明时代因素影响史料价值
- D. 体现初唐风俗画的宗教取向

26. 宋代科举制“彻底取消了门第限制，无论士、农、工、商，只要被认为是稍具文墨的优秀子弟，皆可应举入仕，从而扩大了取仕范围”。出现这一变化的主要原因是（ ）

- A. 政治统治基础的扩大
- B. 社会经济结构的变动
- C. 传统门第观念的淡化
- D. 人身依附关系的松弛

27. 明清时期，文人创作了许多英雄传奇小说。明代熊大木的《杨家将传》、清代钱彩编次的《说岳全传》，以宋代史事为题材，虚实结合，大胆虚构和夸张，塑造了一批栩栩如生的有血有肉的爱国英雄形象。此类小说（ ）

- A. 反映了科举制度的导向作用
- B. 开启了文学创作的全新潮流
- C. 体现了民族意识的逐渐觉醒
- D. 强化了社会主流的价值观念

28. 1873年7月，李鸿章委托唐廷枢为轮船招商局重订“局规”。“局规”规定：股票及息手折均需编号，填写持股者姓名籍贯，“以杜洋人借名”；股东出让股票，必须到局注册，不准让与洋人”。项规定（ ）

- A. 有利于招商局的自办性
- B. 体现了实业救国的特点
- C. 解决了军事企业的困难
- D. 阻止了列强的经济侵略

29. 有学者指出，“人们难于想象，如果20世纪的中国知识分子仍然匍匐在孔孟脚下，溺于汉宋之学，我们的国家会是什么局面！”这种观点认为（ ）

- A. 辛亥革命涤荡了儒家思想的残余
- B. 马克思主义与中国革命紧密结合
- C. 传统文化是近代中国落后的根源
- D. 新文化运动为社会发展提供助力

30. 学者金冲及将解放战争定性为“人心向背的较量”，解放军在各方面都得到民众的极大支持，而国民党军队一闯入解放区，就消息不灵，情况不明，时时遭受袭击，进退失据。这反映出（ ）
- A. 国共军事力量对比发生根本变化  
B. 土地改革凝聚革命力量  
C. 国民政府滥发纸币造成恶性通胀  
D. 解放战争进入反攻阶段
31. 1985年英国《金融时报》评论说：在全中国，即使是很小的工厂也在寻找外国合资者，以帮助他们实现企业现代化。中国人现在比5年前要有组织得多，消息也灵通得多。这一现象的出现得益于（ ）
- A. 社会主义市场经济体制逐步确立  
B. 现代企业制度的建立  
C. 经济体制改革与对外开放的互动  
D. 对外开放格局的形成
32. 公元前8—前6世纪，古希腊人向地中海和黑海周边殖民，建立了数量众多的城邦国家。对于希腊人来说，殖民等同于一次地理发现，极大地拓展了希腊世界的范围。这说明古希腊的殖民活动（ ）
- A. 建立了版图广阔的殖民帝国  
B. 加速了大河文明的区域性扩张  
C. 开启波澜壮阔的大航海时代  
D. 客观上促进了地域文化的拓展
33. 文艺复兴时期人文主义者的一个重要关切是纠正基督教和阿拉伯注疏者对古典文献的错误注释。为了要纠正这些错误，人文主义者需要在同一论著的不同版本之间做出甄别，而甄别的理性根据常常是通过对自然的细致观察来获得的。由此可知文艺复兴（ ）
- A. 强调个性发展反对人性禁锢  
B. 倡导人与自然的和谐相处  
C. 促进近代科学的兴起和发展  
D. 动摇了基督神学统治地位
34. 据表1可知，这一时期英格兰（ ）

表1 英格兰1600—1801年城市人口估计（千人）

年	1600	1670	1700	1750	1801
伦敦人口	200	475	575	675	960
其他城市人口	135	205	275	540	1420
城市人口总数	335	680	850	1215	2380

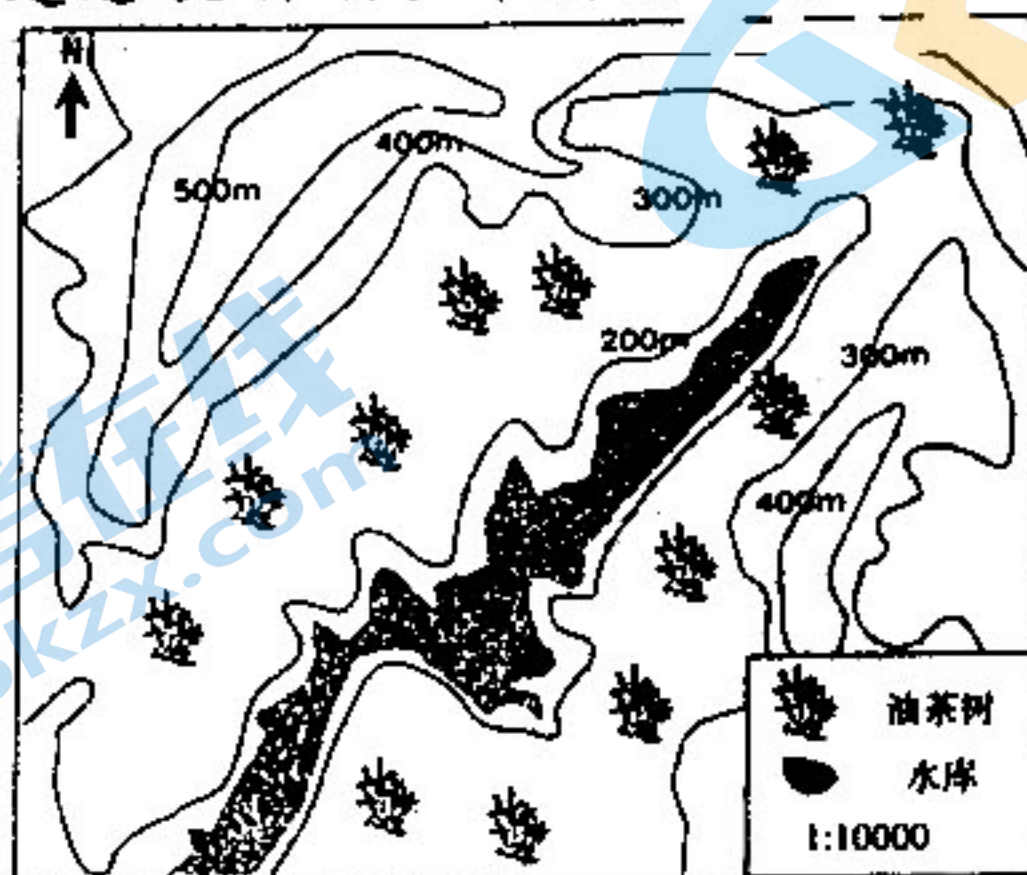
- A. 工业化冲击了原有的城市化进程  
B. 完成农业社会向工业社会的转型  
C. 伦敦逐渐丧失城市化水平的优势  
D. 资产阶级代议制得以确立并完善
35. 20世纪六十年代，罗马尼亚同西方贸易从占其全部贸易的20%上升到33%，民主德国与西欧国家的贸易占比超过75%；与此相对应的是文化领域中的缓和与放宽，比如缔结文化协定、出版报刊书籍等。这表明冷战格局下（ ）
- A. 社会主义阵营已彻底瓦解  
B. 东西方交流与对抗并存  
C. “马歇尔计划”成效显著  
D. 美苏关系得以全面缓和

二、非选择题：共 160 分。第 36-42 题为必考题，每个试题考生都必须作答。第 43-47 题为选考题，考生根据要求作答。

(一) 必考题：135 分。

36. 阅读图文材料，完成下列要求。(24 分)

油茶是一种木本植物，果实可以榨油。油茶喜暖怕寒，喜湿怕涝，适宜种植在红壤地区。油茶秋冬季节开花，低温条件不利于昆虫授粉，严重制约产量。江西兴国县丘陵广布，油茶种植面积超过 30 万亩。下图是兴国县某油茶高产地区地形略图。




(1) 兴国县油茶多分布在丘陵坡地且南坡分布更加集中，简述其自然原因。(8 分)

(2) 说明图示水库对提高油茶产量的积极意义。(8 分)

(3) 分析兴国县丘陵坡地种植油茶的经济效益和生态效益(8 分)

37. 阅读图文材料，完成下列要求。(22 分)

位于地中海沿岸的甲、乙两湖，是沿断层形成的构造湖，被石灰岩山地阻隔。甲湖无河流注入，有河流外泄，以地下水补给为主；乙湖有河流注入，无流河外泄，注入水量大于湖面蒸发量。两湖水位有一定的季节变化，但多年平均水位基本稳定。受东西两侧水温差异的影响，甲湖湖面风向冬夏不同，风力昼夜不同。下图是沿  $41^{\circ} \text{N}$  纬线所作地形剖面图，图中箭头表示不同季节的风向



(1) 分析甲湖地下水补给丰富的原因。(4 分)

(2) 与甲湖相比, 说明乙湖湖水能见度较小的原因。(4分)

(3) 与乙湖相比, 简述甲湖水位季节变化的相同和不同之处。(6分)

(4) 分别指出(1)、(2)两种风向出现的季节及风力的昼夜变化特点。(8分)

38. 阅读材料, 完成下列要求。(14分)

党的二十大报告指出: “中国式现代化是人口规模巨大的现代化。”

据第七次全国人口普查数据, 中国人口达到 14.1178 亿人, 约占全球总人口的 18%。其中劳动年龄人口 9 亿以上, 具有大学文化程度的人口为 2.1836 亿人, 2022 年我国应届大学毕业生人数为 1076 万人, 约 480 万是理工科大学生。

一个国家的人口规模, 也决定了工业体系的上限。我国是全世界唯一拥有联合国产业分类中所列全部工业门类的国家: 中国 2021 年的制造业增加值约相当于美国再加上欧盟 27 国的总和, 新能源、高铁、5G 通讯等产业处于世界前沿。

中国有 4 亿以上中等收入群体, 未来 15 年中等收入群体将超过 8 亿人。

中国已是 140 多个国家和地区的主要贸易伙伴, 每年进口商品和服务约 2.5 万亿美元, 不断为各国创造广阔发展机遇。一个人口规模巨大的现代化中国, 承载着世界对新时代新机遇的期待。

结合材料运用经济知识, 分析人口规模巨大优势是如何增强我国发展潜力和发展韧性的。

39. 阅读材料, 完成下列要求。(12分)

全球产业链供应链跨越国境、网络交错、环环相扣, 资金、技术、人才、知识、信息等生产要素高速流动、高效配置。经过几十年的发展, 世界已形成“你中有我、我中有你”的产业分工格局, 各国通过产业链供应链紧密相连、共同进步, 在实现自身发展的同时, 也促进了世界经济的繁荣。

当前, 少数国家的贸易保护主义、“断链”、“脱钩”等逆全球化行为, 已成为各国面临的共同挑战。世界经济不确定性加大, 维护全球产业链供应链稳定的要求更加迫切, 国家之间的相互合作与协作至关重要。中国坚持经济全球化正确方向, 推动贸易和投资自由化便利化, 推进双边、区域和多边合作, 共同营造有利于发展的国际环境, 共同培育全球发展新动能, 反对保护主义, 反对“筑墙设垒”、“脱钩断链”, 推动世界经济复苏进程走稳走实, 让发展成果更好惠及各国人民。

结合材料, 运用国际社会的知识, 分析为什么要坚持经济全球化正确方向, 反对“筑墙设垒”、“脱钩断链”?



40. 阅读材料, 回答问题。(26分)

党的二十大闭幕不到一周, 习近平总书记带领新一届中央政治局常委专程从北京前往陕西延安, 瞻仰延安革命纪念地, 宣示新一届中央领导集体赓续红色血脉、传承奋斗精神, 在新的赶考之路上向历史和人民交出新的优异答卷的坚定信念。习近平强调, 要弘扬伟大建党精神, 弘扬延安精神, 坚定历史自信, 增强历史主动性, 发扬斗争精神。

1949年3月, 毛泽东在党的七届二中全会上提出: “务必使同志们继续地保持谦虚、谨慎、不骄、不躁的作风, 务必使同志们继续地保持艰苦奋斗的作风。时间跨越73年, 习近平在党的二十大报告中指出: “全党同志务必不忘初心、牢记使命, 务必谦虚谨慎、艰苦奋斗, 务必敢于斗争、善于斗争。”“三个务必”的提出, 是在我们党开辟马克思主义中国化时代化新境界, 迈上全面建设社会主义现代化国家新征程、向第二个百年奋斗目标进军的关键时刻发出的响亮号召。

(1) 结合材料, 运用文化作用的知识, 说明以中国式现代化全面推进中华民族伟大复兴为什么要弘扬伟大建党精神, 弘扬延安精神。(10分)

(2) 结合材料, 运用唯物辩证法矛盾的观点, 分析如何做到“敢于斗争、善于斗争”, 走好新的赶考之路(12分)

(3) 当代中国青年生逢其时, 施展才干的舞台无比广阔, 实现梦想的前景无比光明。广大青年要响应党的号召, 立志做有理想、敢担当、能吃苦、肯奋斗的新时代好青年。请就此写一份青春誓词:

要求: ①围绕主题, 观点明确; ②逻辑清晰, 语言使用规范; ③总字数在150字左右。(4分)

41. 阅读材料, 完成下列要求。(25分)

材料一

1933年1月10日, 苏区中央局《关于巩固党的组织与领导的决议》指出: “一切工作要推动支部去进行, 建立起中心和模范支部, 务使支部成为工厂作坊乡村街道群众中和其周围一切群众政权武装组织中强有力的领导者。”同年3月, 苏区中央局组织部召开闽、赣两省组织工作会议, 重点介绍和推广了模范党支部——兴国县高圩区黄岑乡党支部的经验。党支部在土地革命斗争和苏区各项工作中, 充分发挥了战斗堡垒作用。党支部领导乡苏维埃, 乡工会和乡贫农团的工作, 积极开展宣传教育和文化运动。

——摘编自张明楚《中国共产党基层组织建设史》

材料二

1939年1月, 晋察冀边区发出《晋察冀边区行政委员会关于村选的指示信》, 根据这一指示, 县、区两级成立村选促进会, 村成立村选筹备会。通过村选, 大批农民当选公职。据统计, 在1940年的选举中, 冀中地区的村代表中地主富农代表占8.1%。到了1941年和1942年, 按“三三制”

改造过的村政权中，各阶层所占比例的情况有了很大的不同。如太行五分区 281 名村代表中，地主富农占了 21.1%。1942 年 9 月，中共中央颁布了《关于统一抗日根据地党的领导及调整各组织关系的决定》。根据这个决定，党委具有领导该地区党政军民所有工作的职权，一切乡村政治力量和社会组织都必须在党委的领导下进行活动。

——摘编自许福海《试论抗战时期根据地乡村治理模式的建构(1937-1945)》

(1) 根据材料一并结合所学知识，简析中央苏区基层治理的特点及影响。(12 分)

(2) 根据材料二并结合所学知识，指出与中央苏区相比，抗日根据地基层治理的新变化。(8 分)

(3) 根据材料并结合所学知识，分析指出党在根据地基层治理的启示?(5 分)

42. 中国古代史学史上，史书编撰的体裁与体例类型多样，为中华文化的传承作出了重大贡献。阅读材料，回答问题。

表 2 中国古代各具特色的史书编撰体裁与体例(节选)

史书	体裁与体例	内容
《春秋》	编年体：按照年、月、日顺序逐条记载史事	以鲁国史为主，但不限于鲁国史的范围，记载鲁隐公元年至鲁哀公十四年(前 722-前 481)的春秋时期史事
《国语》	国别体：按周、鲁、齐、晋、郑、楚、吴、越顺序分国别叙述	内容基本上是春秋时期史事。编撰体裁虽是国别体，但以编年记事的方式叙述对各诸侯国的史事
《史记》	纪传体通史：分本纪、表、书、世家、列传五个部分	记载了上起传说中的黄帝，下迄汉武帝时期的史事
《通典》	典制史：分食货、选举、职官、礼、乐、兵、刑、州郡、边防九门，以制度分门立目	记事上起黄帝，下迄唐玄宗天宝末年的历代制度史

——摘编自白寿彝《中国史学史》

注：体裁是史书的外在表现形式，主要分为编年体、纪传体、典制体、纪事本末体、学案、评论等，体例则是史书的内部结构。

请你以一名史官的身份，就中国古代历史的整体或某一阶段编撰一部史书，说明你的史书撰写体裁与体例，并概述史书的内容。(要求：书名明确，准确说明体例与体裁，内容表述逻辑严密、条理清晰)(12 分)

(二) 选考题：共 25 分。请考生从两道地理题、3 道历史题中每科任选一题作答。如果多做，则每科按所做的第一题计分。

43.【地理—选修 3：旅游地理】(10 分)

距江西省上饶市区 50 千米的望仙谷被称“山谷里的桃花源”。该地是有峡谷漂流、栈道探险、岩铺民俗、天心禅寺、南山桃源、三叠水、胡氏宗祠等众多景点的山中古镇，已成为网红打卡地。当地政府担心此地旅游热将昙花一现，难以长久。

指出望仙谷能够成为网红打卡地的游览价值，并为其变身为“长红打卡地”提出建议。

44.【地理—选修 6：环境保护】(10 分)

2022 年 12 月 30 日，引江济淮主体工程宣告正式实现试通水、试通航。江淮运河北接沙颍河航道，南连芜申运河，将形成平行于京杭大运河的我国第二条南北水运大动脉。

说明江淮运河通航后可能带来的环境问题。

45.【历史——选修 1：历史上重大改革回眸】(15 分)

材料

19 世纪 70 年代，明治政府在建立统一中央集权国家后，随即废除封建领主土地所有制，初步确立日本近代土地私有制度。随着政府财政支出的扩大以及“殖产兴业”政策的推行，封建贡租制已无法满足形势需要，加之不断爆发的农民起义，促使政府决心改革地税。1873 年 7 月，政府颁布地税改革法，其要点是：废除封建实物地租，核定地价，按地价统一缴纳现金；纳税者由过去土地的实际耕种者改为土地所有者，根据“一地一主”原则缴税，无法完纳者，村集体不再负“连带责任”。1881 年，全国范围内的地税改革基本结束，日本建立起稳定统一的近代税收体制。但改革维护寄生地主利益，未承认佃农权利，佃农在农村只靠农业无法生活，有的便进入城市，成为雇佣劳动者。

——摘编自吴廷璩《日本史》等

(1) 根据材料并结合所学知识，简析日本地税改革的背景。(6 分)

(2) 根据材料并结合所学知识，概括日本地税改革的主要内容并说明改革的影响。(9 分)

46.【历史——选修3：20世纪的战争与和平】(15分)

材料

“一战”爆发前夕，德国总理特奥巴尔德预想的是“短暂的风暴”；英国外交大臣爱得华·格雷向下院保证：“如果我们参战，我们所遭受的伤亡会很少，甚至比我们不参战也多不了多少。”20世纪初，大国间的外交冲突和危机严重且频繁，而可供应对的策略并不多，似乎只有战争这一种解决模式，缺乏妥协缓冲机制和中止终战的可能——没有国联的外交控诉平台，没有联合国五种解决模式，也没有国际危机管控的成功经验和范例可供参照，国际治理机制还是一个空白。大国协调的机制，也没有国际危机管控的成功经验和范例可供参照，国际治理机制还是一个空白。而战争一旦引爆，则“天然”地具有世界性，爆烈度前所未有的。只有在经历了一次又一次大战，以及延续20世纪后五十年的冷战之后，痛定思痛，乱而后治，国际社会才会深刻认识到国际治理和危机管控的必要，必须抛弃狭隘的民族主义、国家利己主义、强权外交至上，才能走向和谐共生、互利共赢的人类命运共同体新时代。

——摘编自李杰主编《历史课标解析与史料研习 世界现代史》

(1) 根据材料并结合所学知识，简要分析“一战”爆发的背景。(6分)

(2) 根据材料并结合所学知识，谈谈你对“一战”“具有世界性”和“爆烈度前所未有”的理解。(9分)

47.【历史——选修4：中外历史人物评说】(15分)

材料

国学教育在20世纪上半叶，特别是新文化运动时期贯穿于中国近代大学，其与胡适所倡导的“整理国故”思潮密不可分。作为新文化运动的思想领袖，胡适高举科学和民主两面旗帜，积极尝试用科学的精神与方法进行国学教育变革，分析和整理中国传统学术，汲汲谋求中国近代大学学科的建构。他别出心裁地提出“国学”新概念，热心为留美学生开具国学书目，并率先垂范，通过对《中国哲学史大纲》的创编和《红楼梦》的考证来传播自己“大胆的假设，小心的求证”的科学方法，开启了中国近代学术研究新范式。胡适这些国学研究、国学教育思想和实践成为“再造文明”的思想武器，为以北京大学研究所国学门为代表的近代大学国学教育提供了新的价值引领，影响波及香港大学、中山大学等高校经学教育走向。

——摘编自黄明喜，周郅壹《胡适与近代大学国学教育的变革》

(1) 根据材料并结合所学知识，说明胡适国学教育变革的原因。(6分)

(2) 根据材料并结合所学知识，概括胡适国学教育变革的特点，并指出胡适在这一变革中体现出的学术精神。(9分)

## 20230607 项目第一次模拟测试卷

### 文科综合能力测试 参考答案及评分意见

一、选择题：本题共 35 小题，每小题 4 分，共 140 分。在每小题给出的四个选项中，只有一项是符合题目要求的。

序号	1	2	3	4	5	6	7	8	9	10	11	
答案	D	B	A	C	C	C	A	B	A	D	D	
序号	12	13	14	15	16	17	18	19	20	21	22	23
答案	C	D	C	D	A	B	D	A	B	C	B	C
序号	24	25	26	27	28	29	30	31	32	33	34	35
答案	A	C	B	D	A	D	B	C	D	C	A	B

二、非选择题：共 160 分。第 36-42 题为必考题，每个试题考生都必须作答。第 43-47 题为选考题，考生根据要求作答。

(一) 必考题：135 分。

36. (24 分)

(1) 丘陵坡地排水条件好 (2 分)，土壤为红壤 (2 分)；南坡多地形雨，受冬季风影响小。(2 分)。

(2) 增加湿度 (2 分)，调节冬季气温 (2 分)，减轻低温对油茶的威胁 (2 分)，提高昆虫授粉效率 (2 分)。

(3) 经济效益：丘陵坡地耕作条件差，不利于农业发展 (2 分)；种植油茶，能够增加收入来源 (2 分)。

生态效益：兴国县降水丰富，容易造成 (丘陵坡地) 水土流失 (2 分)；种植油茶，能够保持水土 (2 分)。

37. (22 分)

(1) 乙湖水位高，湖水下渗 (2 分)；石灰岩山地 (断层) 透水性好 (2 分)。

(2) 有河流注入，河水携带大量泥沙入湖 (无流河外泄，泥沙不易排出) (2 分)，湖水含沙量大 (2 分)。

(3) 相同：水位夏季低，冬季高 (2 分)。

不同：甲湖水位变化幅度小 (2 分)，变化特征滞后 (2 分)。

(4) ①出现在冬季 (2 分)，风力白昼小于黑夜 (2 分)；②出现在夏季 (2 分)，风力白昼大于黑夜 (2 分)。

38.

人口规模巨大赋予我国丰富的劳动力资源优势，提升中国经济竞争力；(2 分) 大规模高素质人力资源助力科技创新和产业转型升级，推动我国产业迈向全球价值链中高端；

(2 分) 巨大的人口规模和不断扩大的中等收入群体，有利于形成超大规模市场需求，内需潜力巨大；(3 分) 巨大的产业规模和市场容量有助于中国深化产业分工和提高专业化生乎，进一步提高竞争优势；(2 分) 以超大规模消费市场和完备的产业链供应链为支撑，

才能构建以国内大循环为主，国内国际双循环相互促进的新发展格局；（3分）中国经济巨大规模，实行高质量对外开放，推动世界各国共享中国大市场机遇，吸引外商投资，增强我国与世界的紧密联系，提高产业链供应链稳定性安全性。（2分）

39.

经济全球化、世界多极化深入发展，国家之间交往日益频繁，深化经济合作符合世界各国的共同利益；（3分）经济全球化发展加深了各国相互依赖程度，有利于共同维护和促进世界的和平与发展；（3分）当前全球产业链供应链安全稳定面临更大风险和挑战，严重威胁全球经济复苏与可持续增长。支持经济全球化助力世界经济发展、增进各国人民福祉；（3分）完善全球经济治理体系，推动构建人类命运共同体。（3分）

40.

（1）①文化是一种精神力量，能够在人的实践中转化为物质力量，对社会发展产生深刻影响，先进的文化促进社会发展，落后的文化阻碍社会的发展。弘扬伟大建党精神，弘扬延安精神，为中国式现代化全面推进中华民族伟大复兴提供精神指引。（4分）

②文化对人具有深远持久的影响，优秀文化能够丰富人的精神世界，增强人的精神力量，促进人的全面发展。弘扬伟大建党精神，弘扬延安精神能够锤炼出鲜明的政治品格，帮助人们提高思想道德素质、科学文化素质和身心健康素质，促进人的全面发展。（4分）

③弘扬伟大建党精神，弘扬延安精神能构建起中国共产党人的精神谱系，为人民提供丰富的精神食粮。能够汇聚以中国式现代化全面推进中华民族伟大复兴的磅礴力量，实现党的二十大提出的目标任务。（2分）

（2）①矛盾具有普遍性和客观性，敢于承认和揭露矛盾。中国共产党团结带领中国人民进行革命、建设与改革的伟大成就，是在攻坚克难中取得了的。在全面建设社会主义现代化国家的新征程上，来自国际国内的矛盾风险持续叠加并且集中显露，必须继续发扬斗争精神。（3分）

②矛盾具有斗争性和同一性，同一性以斗争性为前提，斗争性寓于同一性之中。增强斗争本领，团结一切积极力量，在斗争中谋求合作、争取共赢。（3分）

③善于斗争要求我们掌握斗争的策略，讲求斗争的艺术。坚持矛盾普遍性与特殊性相结合，在普遍性指导下具体分析矛盾的特殊性。掌握和运用好马克思主义的立场观点方法，对面临的国内外挑战具体问题具体分析。（3分）

④抓住主要矛盾和矛盾的主要方面，又能统筹兼顾次要矛盾和矛盾的次要方面，坚持两点论和重点论相统一。合理选择斗争方式，核心利益、坚持原则问题上寸步不让、策略问题上灵活机动。（3分）

（3）示例：青年强，则国家强，强国有我，请党放心。要坚定不移听党话、跟党走，要自觉用科学理论武装自己，怀抱梦想又脚踏实地，敢想敢为又善作善成，让青春在全面建设社会主义现代化国家的火热实践中绽放绚丽之花。

等级水平	等级描述
水平 3 (4分)	观点鲜明，能明确表达自己的见解；紧扣主题综合论述；逻辑严密，条理清晰
水平 2 (2~3分)	观点比较明确，能表达自己的见解；能扣住主题展开论述，逻辑性较强，有条理
水平 1 (0~1分)	应答与主题无关；或重复试题内容；或没有应答

41. (25分)

(1) 特点：加强党的领导；突出支部作用；密切联系人民群众；注重经验推广；涉及工作层面广。

影响：有利于推动土地革命、武装斗争和根据地建设；有利于巩固和扩大革命根据地；有利于加强党的建设；为以后的基层治理提供重要借鉴。(12分)

(2) 不同：推行“村选”；以“三三制”原则构建乡村政权；调动地主富农的参政热情；加强党的集中领导；服务于抗战的需要。(8分)

(3) 启示：明确党在基层建设中的领导作用；坚持以民为本，构建良好的党群关系；创新和健全基层建设体系和机制；加强基层民主政治建设；国家治理体系必须以马克思主义为指导且根植于国情。(5分)

42. (12分)

示例 1

史书：典制类史书《周朝制度史》

说明：此书主要记载从西周建立到周朝灭亡，即从公元前 1046 年至公元前 256 年周代的制度演进史，全书政治制度、经济制度、礼乐制度、军事组织五章，其中政治制度中央官制与地方管理两节，地方管理主要论述分封制的形成、发展及瓦解的历程；经济制度主要分析井田制到封建土地制度发展历程。

示例 2

史书：纪传体断代史《明史》

说明：分本纪、表、书、世家、列传五个部分记载明代自明太祖朱元璋洪武元年(公元 1368 年)至明思宗朱由检崇祯十七年(公元 1644 年)276 年的历史。以本纪的形式对明代的皇帝记事，以列传形式对明代文臣武将的事迹进行叙述，对明初藩王世系列表，以志的形式对明代天文立法、职官、选举、赋役等进行叙述，全方位展示了明代史的全貌。

结语：读史明智，《明史》可资治世也。

示例 3

史书：国别体史书《魏晋南北朝史》

说明：魏晋南北朝时期中国古代民族政权并立的时期，此书分曹魏、孙吴、蜀汉、两晋、前秦、北魏、北周、宋、齐、梁、陈各章节，主要按介绍公元 220 年至 589 年间各政权的时序发展脉络及重大历史事件。

其他《隋唐史》、《秦汉史》、《科举制度史话》、《匈奴史话》等等

43. (10分)

价值：景观独特(多样)，美学价值、地域组合及集群状况好等。

建议：增加游客体验和参与的项目，提高服务意识，完善基础设施。(每点 2 分，任答 5 点，得 10 分)

44. (10分)

油污泄漏产生河水污染，引起地下水污染，船上人员产生的固体废弃物污染，航运噪声污染，尾气产生的大气污染，对生物造成干扰。(每点 2 分，任答 5 点，得 10 分)

45. (15分)

(1) 背景：封建贡租制无法满足形势需要；社会矛盾尖锐；政府财政支出扩大；明治维新的进行；统一中央集权国家的建立；近代土地私有制的确立；“殖产兴业”政策的推行；资本主义经济的发展；西方税收制度的传入。(6分。)

(2) 主要内容：核定地价，按地价征收货币税；向土地所有者征税，取消旧式连带缴税责任。影响：促进农业和商品经济发展；建立近代税收体制；增加政府财政收入，为工业化提供资金和自由劳动力，促进日本资本主义发展；维护地主阶级利益，佃农群体利益未得到保障，加剧农村地区阶级分化；助长了对外扩张。(9分)

46. (15分)

(1) 背景：第二次工业革命后，主要资本主义国家向帝国主义过渡，矛盾日益激化；狭隘民族主义、国家利己主义的盛行；西方大国推行强权外交；大国领导人对形势的误判；缺乏制度性协调机制。(6分)

(2) “具有世界性”：为重新瓜分世界，抢占殖民地；参与的国家分布广泛；改变世界格局，建立国际性组织国际联盟。“爆烈度前所未有”：工业化战争，武器杀伤性大，死伤人数多，规模空前。(9分)

47. (15分)

(1) 原因：新文化运动的开展；西方思想文化的熏陶；传统儒家思想的影响；近代大学教育的发展；尊孔复古的社会思潮；中华民国的成立；民族资本主义经济的发展。(6分)

(2) 特点：教育变革与思想变革联动；贯通中西的文化理念；凸显科学的精神和方法；强调新的价值引领；个人率先垂范进行国学研究；借助国学教育专门机构开展活动；主要阵地是中国近代大学。

学术精神：科学、创新、批判、包容、严谨、求真。(9分)



## 关于我们

北京高考在线创办于 2014 年，隶属于北京太星网络科技有限公司，是北京地区极具影响力的中学升学服务平台。主营业务涵盖：北京新高考、高中生涯规划、志愿填报、强基计划、综合评价招生和学科竞赛等。

北京高考在线旗下拥有网站门户、微信公众平台等全媒体矩阵生态平台。平台活跃用户 40W+，网站年度流量数千万量级。用户群体立足于北京，辐射全国 31 省市。

北京高考在线平台一直秉承 “精益求精、专业严谨” 的建设理念，不断探索 “K12 教育+互联网+大数据” 的运营模式，尝试基于大数据理论为广大中学和家长提供新鲜的高考资讯、专业的高考政策解读、科学的升学规划等，为广大高校、中学和教科研单位提供 “衔接和桥梁纽带” 作用。

平台自创办以来，为众多重点大学发现和推荐优秀生源，和北京近百所中学达成合作关系，累计举办线上线下升学公益讲座数百场，帮助数十万考生顺利通过考入理想大学，在家长、考生、中学和社会各界具有广泛的口碑影响力

未来，北京高考在线平台将立足于北京新高考改革，基于对北京高考政策研究及北京高校资源优势，更好的服务全国高中家长和学生。



微信搜一搜

北京高考资讯