

文科综合能力测试

第一部分（选择题，满分 140 分）

本部分共 35 小题，每小题 4 分，共 140 分。在每小题列出的四个选项中，选出最符合题目要求的一项。

习近平主席于当地时间 2019 年 3 月 21 日 18:30 许抵达罗马，对意大利进行国事访问。

读图 1，完成第 1~3 题。



1. 习主席抵达罗马时，北京时间约为

- A. 21 日 11: 30
- B. 21 日 13: 30
- C. 22 日 1: 30
- D. 22 日 2: 30

2. 意大利

- A. 是地中海北部的岛国
- B. 地处板块消亡边界，火山众多
- C. 盛产芒果、香蕉等水果
- D. 南部海运便利，经济比北部发达

3. 与那不勒斯相比，巴里

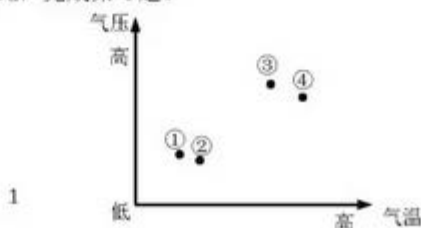
- A. 日出早，白昼长
- B. 自转线速度快
- C. 纬度高，多低温冻害
- D. 冬季降水量少

图 1

图 2 中①②③④四点间存在热力环流。据此，完成第 4 题。

4. ①②③④四点中

- A. ②比③气温低，气压高



- B. ③位于近地面，④位于高空
- C. ①处气体受热膨胀，气压低
- D. 气流运动方向为③→④→①→②→③

图3为全球陆地和海洋年降水量与蒸发量差值的纬度分布示意图。读图3,完成第5题。

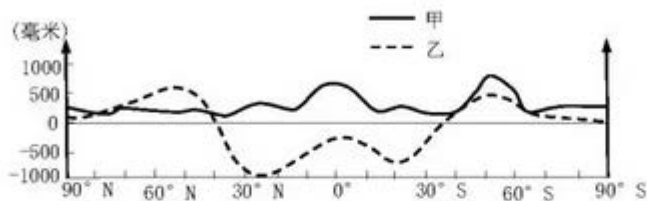


图3

5. 图中

- A. 甲为陆地，乙为海洋
- B. 50° S 附近年降水量最多
- C. 低纬地区年降水量大于蒸发量
- D. 北半球比南半球蒸发量大

的的喀喀湖是南美洲地势最高、面积最大的淡水内陆湖。湖面海拔约 3821 米，终年不冻。湖泊周围是南美洲印第安人文化的发源地之一，乌鲁族人至今还生活在由芦苇捆扎而成的漂浮岛上。读图 4，完成第 6、7 题。

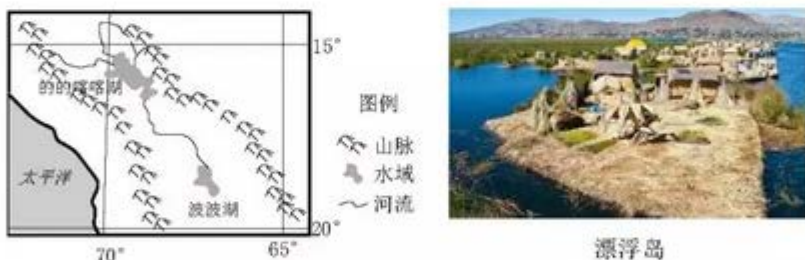


图4

6. 的的喀喀湖

- A. 水体参与海陆间循环
- B. 湖水不冻是受沿岸洋流影响
- C. 湖面水位 7 月比 1 月高
- D. 湖水经地表径流注入波波湖

7. 乌鲁族人选择生活在漂浮岛上的原因有

- ①沿岸居住条件差
- ②便于捕鱼
- ③建岛原料充足
- ④对外联系方便

- A. ①②③                      B. ①②④  
C. ①③④                      D. ②③④

常住人口连续3年以上持续流失且缺乏回流的城市，被称为收缩型城市。图5为2000~2010年中国收缩型城市分布示意图。读图5，完成第8、9题。

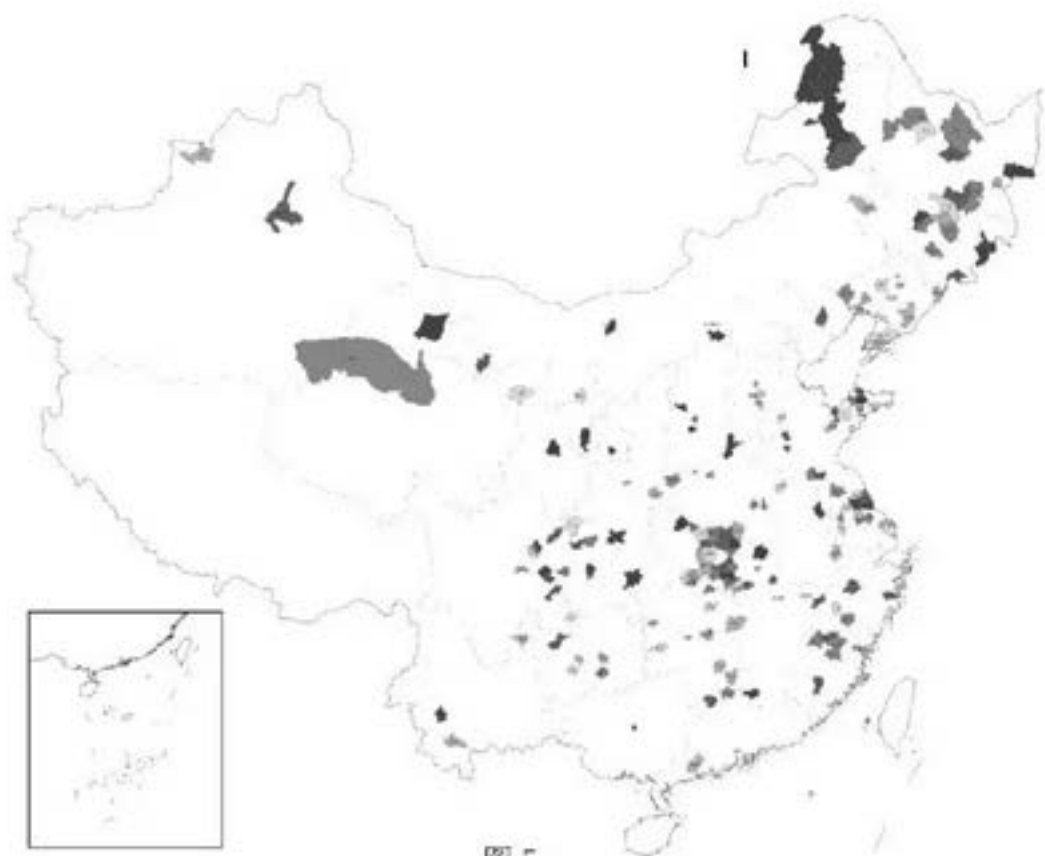


图5

8. 图中收缩型城市

- A. 集中分布在东部沿海地区                      B. 鄂比皖数量多  
C. 主要分布在地势第一、二级阶梯                      D. 非季风区多于季风区

9. 收缩型城市

- A. 正经历城市化的后期阶段  
B. 劳动力就业发生空间转移  
C. 辖区面积不断减少，城市呈收缩趋势  
D. 人口死亡率大于出生率导致人口减少

无人驾驶飞机可安装摄像头或摄影机等设备进行工作，具有灵活机动、时效性高的特点。深圳市被称为“无人机之都”，2013年制定了《深圳市航空航天发展规划(2013~2020年)》。据此，完成第10、11题。

10. 无人机可应用的领域及优势为

- A. 海上搜救 搜索范围广、效率高      B. 快递配送 长途运输成本低  
C. 人口普查 数据处理简单、便捷      D. 城市规划 技术可操作性强

11. 近年来，大量无人机企业在深圳集聚，其主要原因有

- ①政策支持      ②技术协作条件好      ③廉价劳动力充足  
④靠近原料产地      ⑤创新文化氛围好

- A. ①②③      B. ①②⑤  
C. ②③④      D. ③④⑤

12. 根据《春秋战国时期的货币图》得出的正确认识是



晋国布币 魏国布币 赵国布币 楚国蚁鼻钱 齐国刀币 秦国半两钱

- A. 青铜器物铸造以货币为主      B. 货币的发行流通趋向相对统一  
C. 货币经济占据了主要地位      D. 钱文上铸刻的书法以隶书为主

13. 顾炎武说：“秦用商君之法，富民有子则分居，贫民有子则出赘，由是其流及上，虽王公大人亦莫知敬宗之道。”与此对应的变法措施是

- A. 废除井田制度，允许土地自由买卖      B. 建立县制，由国君直接派官吏治理  
C. 实行强制分户，改变旧有社会习俗      D. 改革户籍，加强对乡里人口的管理

14. 朱熹的著述中，童蒙读物占很大比重，如《论语训蒙口义》《易学启蒙》《小学》《四书集注》等；特别是《小学》《四书集注》，一直被元明清统治者作为正统教材。这反映出

- A. 宋代重视道德教化的通俗化普及化      B. 朱熹认为只有儿童才能接受天理  
C. 道德教化应以书院教育为主要方式      D. 宋代官方开始重视儿童启蒙教育

15. 明代吴敬所著《九章算法比类大全》，按方田、粟米等九项分作九卷，每卷由若干应用题组成，题量比《九章算术》增加了4.4倍。其中一部分是从古算书中抄录来的，新增题目中如“就物抽分”“合伙经营”等，多属于商业内容。该书

- ①表明了古代筹算计算数学体系的形成 ②体现了古代数学重视应用的思想  
③反映了数学研究适应商品经济的需要 ④全面总结了中国古代的算学知识

A. ①②                      B. ②③                      C. ①③                      D. ②④

16. 光绪初年，唐廷枢受命创办开平煤矿，不料建成投产后，礼部侍郎祁世长出来参奏，扬言煤矿邻近遵化“陵寝重地”，在此采煤，有碍皇陵风水，奏请封矿。后经矿务局派人绘图说明陵寝位置和山川形势，保证无碍皇陵风水，方使煤矿得以继续开办。这反映出

- A. 官办企业受到普遍支持                      B. 民营企业创业环境恶劣  
C. 实业救国促进矿业开采                      D. 以富求强遭遇迷信阻挠

17.    部分省区农会会员统计表

省份	1926年6月		1927年6月	
	会员数(人)	占全国百分比(%)	会员数(人)	占全国百分比(%)
广东	647766	66.0	700000	7.6
湖南	38150	3.9	4517140	49.4
湖北	4120	0.4	2502600	27.3
江西	1153	0.1	382617	4.2
河南	270000	27.5	245500	2.7
全国	981442	——	9153093	——

据上表可以得出的正确认识是

- ①农民运动的地域格局发生变化                      ②农民运动因国共关系破裂而受挫  
③农民运动受当时政治军事影响                      ④中共的工作重心由城市转向乡村

A. ①②                      B. ①③                      C. ②④                      D. ③④

18. 1938年7月，毛泽东发表《论持久战》，“准确预见抗日战争爆发后国际局势的发展变化和抗日战争战略防御、战略相持和战略反攻三个阶段，并指出了每个阶段的战争形式，为抗战胜利找到了行动的策略。”这部著作发表的背景是

- ①北平、天津、上海、南京陷落                      ②中共确立了新民主主义革命的总路线  
③平型关战役、台儿庄战役胜利                      ④人民解放军挺进大别山建立了根据地

- A. ①②                  B. ②③                  C. ①③                  D. ③④

19. 《中国人民政治协商会议共同纲领》第 35 条规定：“应以有计划有步骤地恢复和发展重工业为重点，例如矿业、钢铁业、机器制造业等，以创立国家工业化的基础。同时，应恢复和增加纺织业及其他有利于国计民生的轻工业的生产，以供应人民日常消费的需要。”这反映出当时

- A. 确立了优先发展重工业兼顾民生的方针  
B. 集中力量建设苏联援助的基础工业项目  
C. 中国以大规模工业化建设促进城市发展  
D. 国民经济形势好转使人民生活得到改善

20. 芬利·胡珀在《希腊的现实》中说：“在民主制度发展得最为顺利的雅典，政府也始终受到想要颠覆它的寡头群体的阴谋威胁。颇具讽刺意味的是，导致雅典民主政治失败的，实际上是那些从民主制度中获益最多的人。”这段描述可以用来说明

- A. 对雅典民主政治存在理想化的赞颂    B. 雅典直接民主制度存在严重弊端  
C. 雅典民主存在地域和财产的不平等    D. 雅典民主政治对后世的影响有限

21. 纵贯北京城的中轴线可以说是“中”字的“丨”，而方方正正的紫禁城就是“中”字的“口”，中轴线穿过紫禁城就组成了中国的“中”字。美国首都华盛顿的正中也有一条中心线，连接林肯纪念堂、华盛顿纪念碑、国会山，而与其相交的是一小横，即杰弗逊纪念堂到白宫，组成的是“十”字架。这两种建筑

- A. 隐含了以统一为中心的意识                  B. 反映了专制至上的设计理念  
C. 体现了各自的历史文化信仰                  D. 说明了东西文化的相互融合

22. 罗斯福在“炉边谈话”中说：“我们将采取经过慎重考虑的、保守性的措施，以使我国的产业工人获得更加公平的工资收入，防止恶性竞争和超常的劳动时间，同时鼓励所有企业防止生产过剩。”为此颁布的法律是

- A. 《紧急银行法》                                  B. 《全国工业复兴法》  
C. 《农业调整法》                                  D. 《联邦紧急救济法》

23. 马歇尔计划试图通过经济手段达到控制欧洲的目的①。该计划实施后，欧洲经济很快得到恢复②，西欧各国也被纳入美国争霸世界的战略轨道③，但是经济获得发展的西欧对美国的离心倾向也在增强④。据此可知

- A. ①表明马歇尔计划是杜鲁门主义的大规模应用



- B. ②反映马歇尔计划是欧洲经济恢复的唯一因素  
C. ③说明马歇尔计划注重维护世界的安全和利益  
D. ④证明马歇尔计划增强了美国遏制苏联的力量

24. 融媒体是一种新型媒体，它把广播、电视、报纸等既有共同点又存在互补性的不同媒体，在人力、内容、宣传等方面进行全面整合，以实现“资源通融、内容兼融、宣传互融、利益共融”。在新闻舆论工作领域，传统媒体与新兴媒体融合发展

- ①需要整合媒体资源，以实现成本最低、经济效益最大化  
②开启了媒体发展新时代，显示出文化共享的强大功能  
③利于掌握舆论主导权，提高新闻舆论引导力和公信力  
④应该坚持以数据技术为中心，以提升关注度为出发点

- A. ①③      B. ①④      C. ②③      D. ②④

25. 汉代彩绘茧形壶、汉代陶马和陶俑、唐代陶骆驼（下图）……流失到意大利的 796 件考古发掘文物被归还给中国，这是近 20 年来最大规模的中国流失文物回归，开创了中意文化遗产合作的新里程。此次海外流失文物的回归



- ①与我国综合国力的提升有一定关系  
②体现了中意交往过程中的良好互动  
③表明中意两国坚守共同的文化根脉  
④体现了中华民族文化特有的包容性

- A. ①②      B. ①④      C. ②③      D. ③④

古时，先民常从经验出发“看云识天气”，流传下来许多气象谚语如“朝霞不出门，晚霞行千里”“天有城堡云，地上雷雨临”等。

传统天气预报，是通过观测收集资料，然后由人工或电脑绘制天气图，来预测未来一段时间的天气状况，但是准确率和便捷程度都不够高。

近年来，我国的数值预报系统逐渐成熟，由超级计算机根据一定的公式对资料转化的数据进行运算，让“天气走在时间前面”。

26. 上述材料表明

①“看云识天气”对人们的实践活动有指导作用

②意识的主动创造性使得人能认识和发展规律

③实践产生新的认识工具能推动认识向前发展

④创新意识推动了人类思维方式的根本性变革

A. ①②      B. ①③      C. ②④      D. ③④

27. 白帝城竹叶碑（右图），粗看是三根亭亭玉立的竹子，细看则发现是由竹叶组成的汉字诗句：“不谢东篁意，丹青独自名，莫嫌孤叶淡，终久不凋零”。它寓诗于画中，展示了高风亮节、坚贞不渝的气节。这种把诗、书、画融于一体的艺术创作方法



A. 展示了传统文化诗书画之间的必然联系

B. 表明了中国文化中诗书画具有相同本质

C. 体现了人为事物的联系具有主观随意性

D. 说明了人能根据事物属性建立新的联系



28. 征信源于《左传》“君子之言，信而有征”，形容办事有凭有据，真实可信。中国人民银行征信中心开发的新版个人征信报告，采集信息将更全面、更细化、更精准。“一处失信、处处受限”的信用惩戒机制会让失信者寸步难行。建立健全社会征信体系

- ①能使银行避免信贷违约的风险
- ②需要强化信用意识，完善信用评价机制
- ③需要在全社会弘扬诚实守信的中华传统美德
- ④要求征信机构必须向信息查询人提供个人信用记录



- A. ①②      B. ①④      C. ②③      D. ③④

29. 日前，按照共青团北京市委员会的要求，北京的共青团员注册成为志愿者，并回社区报到参与志愿服务工作：为游客义务指路、为社区打扫卫生、宣传垃圾分类知识……参加志愿活动的团员们，充满激情、认真负责，为社会贡献着青春力量。共青团员回社区参

与服务活动

- ①有助于团员弘扬志愿奉献精神
  - ②体现了政府为人民服务的宗旨
  - ③说明团员切实享有广泛的权利和自由
  - ④有助于培育团员公共参与素养
- A. ①③      B. ①④      C. ②③      D. ②④

30. 一个现代化的国家，必定是依法治国的国家；一个先进的政党，必然是依法执政的政党。当前，我国正处于实现“两个一百年”奋斗目标的历史交汇期，面对世界百年未有之大变局，面对国内艰巨繁重的改革发展稳定任务，党和国家更加重视依法治国在工作全局中的地位 and 作用。这表明

- ①法治是党实现治理能力现代化的重要支撑
  - ②中国共产党领导立法、严格执法、公正司法
  - ③依法治国首先是依宪治国，依法执政首先是依宪执政
  - ④中国共产党顺应时代要求，具有与时俱进的执政能力
- A. ①③      B. ①④      C. ②③      D. ②④

31. 170 多年前，马克思、恩格斯在《共产党宣言》中描绘的“幽灵”，共产主义的幽灵，在 170 多年后的中国大地，茁壮成长为一个巨人。“踏遍青山人未老，风景这边独好”，中国特色社会主义的中国，巍然屹立在世界的东方，日益走近世界舞台的中央，这表明

- ①我们善于借鉴西方政治制度模式
  - ②中国共产党保持政治定力和道路自信
  - ③理论自信决定国家发展道路的选择
  - ④中国将不断为人类作出更大的贡献
- A. ①③      B. ①④      C. ②③      D. ②④

关于“杠杆”的对话

甲：好穷啊，我只有 1 块钱……

乙：我可以借给你钱，赚了我们一起分，亏了都算你的。

甲：好耶！只要行情上升，我就赚了。

乙：但是如果行情下跌，你的本金就没了。

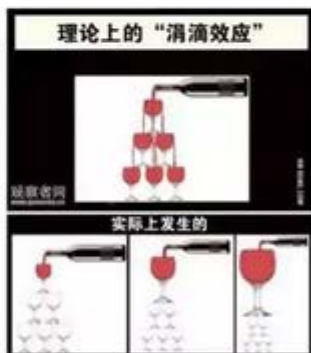
32. 经济学意义上的“杠杆”，可以通俗理解为“四两拨千金”，就是通过借债，以较小规模的自有资金，撬动大量资金，扩大经营规模，放大投资效果。下列关于“杠杆”的观点



正确的是

- A. “杠杆”能够利用闲置资金，从而增加企业的利润
- B. “杠杆”伴随着高风险，个人生活中应该避免使用
- C. 保持适度合理的“杠杆”水平有利于防范控制风险
- D. 经济过热时，应通过增加“杠杆”来稳定物价水平
33. 加强生态文明建设，加快绿色发展，建设人与自然和谐共生的现代化，这既是艰巨的挑战，也是巨大的机遇。我们要像保护眼睛一样保护生态环境，像对待生命一样对待生态环境。我国现阶段的生态文明建设，可谓抓铁有痕，力道空前。下列关于生态文明建设对策不合理的是
- A. 观念，显著转变：“发展生产力就是为了改善生态环境”
- B. 行动，硬招频出：中央环保督察，全面禁止洋垃圾入境
- C. 法治，日益严密：环境保护法、环境保护税法相继出台
- D. 开放，国际合作：建立“一带一路”绿色发展国际联盟

34. “涓滴效应”指在经济发展过程中并不给予贫困阶层、弱势群体或贫困地区特别的优待，而是由优先发展起来的群体或地区通过消费、就业等方面惠及贫困阶层或地区。但是现实生活中这一效应出现的结果并不理想（右图），解决图中所反映的问题需要



- ①鼓励一部分人和一部分地区先富起来
- ②加大财政转移支付力度以实施精准扶贫
- ③大力发展生产力从根本上增加国民收入
- ④完善分配制度形成合理的收入分配格局
- A. ①③      B. ①④      C. ②③      D. ②④

35. 建立社会主义市场经济体制是一个前无古人的伟大创造，是我国取得举世瞩目发展成就的经济体制基础。在新时代需要继续坚持社会主义市场经济改革方向、加快完善社会主

义市场经济体制。这需要

- ①坚持和完善我国的基本经济制度
- ②着力清除市场壁垒和市场准入门槛
- ③建立以直接手段为主的宏观调控体系
- ④完善市场体系，实现要素市场化配置

- A. ①③      B. ①④      C. ②③      D. ②④

### 第二部分 (非选择题共 160 分)

36. (36 分) 阅读图文资料，回答下列问题。

爱沙尼亚面积约 4.5 万平方千米，人口约 131.3 万人 (2015 年)。该国于 2004 年加入欧盟，近年来与俄罗斯经贸联系密切，经济进入高速增长阶段。爱沙尼亚主要工业部门有机械制造、电子、纺织和海产品与肉类加工业，农业以畜牧业为主，区域产业促进城市发展。塔林港封冻期短，且多深水码头。图 1 为爱沙尼亚位置示意图，表 1 为塔林气候资料统计表。

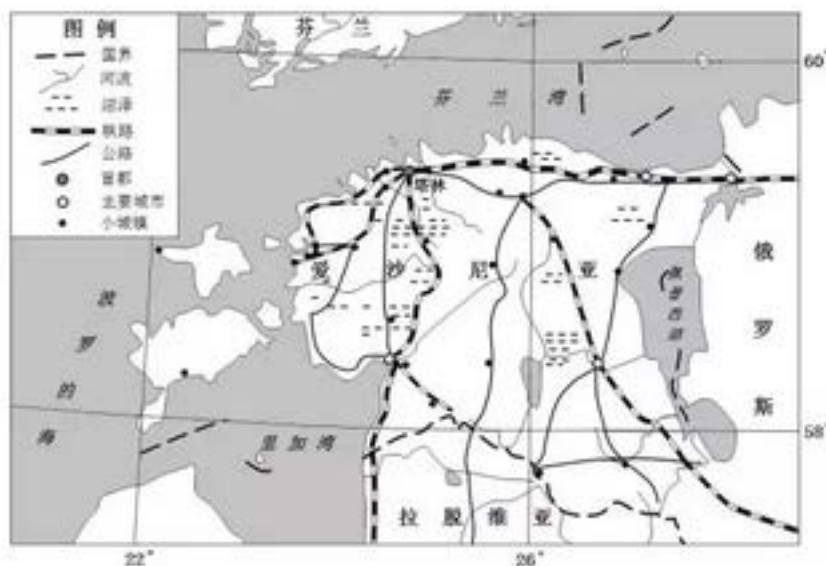


图 1

表 1

月份	1	2	3	4	5	6	7	8	9	10	11	12
平均气温 (°C)	-5.5	-5.7	-2.2	3.4	9.7	14.5	16.3	15.3	10.8	6.3	1.2	-2.9



降水量(毫米)	45	29	29	36	37	53	79	84	82	70	68	55
降水日数(天)	11	8	8	8	7	8	11	11	12	11	14	14

- (1) 说出爱沙尼亚城市分布的主要特点并简析其原因。(12分)
- (2) 爱沙尼亚的自然条件不利于发展种植业,简析其原因。(10分)
- (3) 分析爱沙尼亚空气质量优的原因。(6分)
- (4) 塔林港被视为爱沙尼亚最具发展潜力的港口,阐述其主要理由。(8分)

37.(34分) 法律是社会治理的重要工具。

**材料一** 春秋时期,贵族认为刑律越秘密越好,利于贵族随意处置百姓,增加专制的恐怖和神秘。郑国子产根据已有刑法重新编订了三种刑法,在公元前536年“铸刑鼎”,把惩治犯罪的刑律铸在金属鼎上,向社会公布;让百姓明白法与非法的界限,知道犯法会得到怎样的处罚。结果,社会治理透明度增加,犯罪案件减少了。

公元前452~前450年,在平民保民官的强烈要求下,古罗马先后编订出十二个法表,镌刻在青铜牌上,公布于罗马广场,即《十二铜表法》。该法包括民法、刑法和诉讼程序,基本上是过去未成文的习惯法的汇编。在后世的岁月中,它虽经多次修订,但始终是古罗马的基本法。

- (1) 根据材料一并结合所学知识,说明郑国子产“铸刑鼎”与古代罗马编订《十二铜表法》相似的社会背景与共同的历史价值。(8分)

**材料二** 近代以来,西方各国在继承传统法律思想的基础上,融合启蒙思想制定了各自的法律制度。在国家权力结构层面上,国家权力分为立法权、行政权和司法权,法律由代表人民行使权力的议会制定,行政机构在法律规定的框架内行使行政权,法院根据法律独立掌握司法权。在法律内容上,都不同程度地体现了“天赋人权”和人人平等思想,注意保护个人的各种权利,包括生命权、自由权和财产权等。在司法实践中,为了保证从立案到审理再到判决的每个程序的公开公正,建立了律师制度和陪审团制度。独立、专业的律师为被审判者提供辩护,可以减少法官对法律的误读;从普通民众中产生陪审团,参与案件审理和判决,使民众能够直接参与法律事务。西方法律制度强调保护私有

财产，为资产阶级利益服务。

(2) 阅读材料二，概括近代西方法律制度的基本特征；结合所学分析其时代背景。(14分)

材料三 新民主主义革命时期，中国共产党领导的根据地的法制建设揭开了中国法制史的新篇章。在宪政方面，制定了《中华苏维埃共和国宪法大纲》《陕甘宁边区施政纲领》《华北人民政府施政方针》等各个时期的人民大宪章。在民事方面，创建了劳动法，制定了减租减息条例和实现“耕者有其田”的土地改革法，制定了世界最先进的婚姻法，以及实行男女平等的财产继承法。在刑事立法方面，制定了《惩治土豪劣绅条例》《惩治汉奸与战争罪犯条例》《惩治贪污条例》。在经济方面，制定了大量有关财政金融及经济管理的法规。人民民主法制是中国无产阶级和广大人民意志的体现，是巩固革命根据地、维护人民基本权益、向国内外敌对势力进行斗争的锐利武器，为我国社会主义法律体系的形成提供了历史经验和理论根据。

(3) 阅读材料三，概括中国共产党在新民主主义革命时期政治建设的成就；结合所学指出其历史意义。(12分)

38. (34分) 近年来，世界经济复苏乏力，国际市场需求不振，贸易保护主义盛行，迫切要求我们促进形成强大的国内市场。阅读材料，回答问题。

材料一

<p style="text-align: center;"><b>资料卡 1：三驾马车</b></p> <p>居民消费、企业投资与政府开支、净出口是拉动一国经济增长的“三驾马车”。</p> <p>其中，消费贡献率与居民消费水平密切相关；企业投资为经济长期发展奠定基础；政府开支规模代表着政府干预</p>	<p style="text-align: center;"><b>资料卡 2：需求外溢</b></p> <p>国内市场供给不能很好地满足居民日益多元化、个性化、品质化的需求，导致国内消费增长放缓，需求大量转向进口产品，居民消费能力外流的现象称为需求外溢。</p> <p>研究发现，国内消费不振一般受制于</p>
--	--

注：十八大以来我国 GDP 年均增长 7.2%；总量占世界经济比重提高到约六分之一；连续多年对世界经济增长的贡献率超过 30%；2018 年，最终消费支出对 GDP 增长贡献率达到 76.2%。

(1) 根据上述材料，运用所学《经济生活》知识，分析为什么说“我国形成强大的国内市场有必要也有可能”。(12 分)

**材料二** 《领航新时代：向内发力 打造强大国内市场》在人民网上一经发布即很快获得上万人次阅读量，网友们纷纷点赞留言和提出建议。以下是部分网友的建议：

**木桶小胖**：大力发展养老业，特别是城镇养老服务业，补足城镇消费供给短板，更好满足城镇化和老龄化需求。

**一蓑烟雨**：顺应农村消费需求的新变化，优化农村电商的营商环境，促进农村消费提质升级，拉动城乡消费联动发展。

**月光一族**：政府相关部门完善政策体系，进一步优化消费市场环境和提升消费者信心。

(2) 结合材料二，运用《生活与哲学》相关知识，分析上述网友们建议的合理性。(12 分)。

**材料三** 促进形成强大的国内市场，国家多措并举，释放消费和投资潜力。

**※进口博览会**：2018 年 11 月，首届中国国际进口博览会在上海举办。举办中国国际进口博览会是中国坚定支持贸易自由化和经济全球化、主动向世界开放市场的重大举措，有利于世界各国实现互惠互利。

**※外商投资法**：2019 年 3 月通过的《中华人民共和国外商投资法》规定：国家坚持对外开放的基本国策，鼓励外国投资者依法在中国境内投资。建立和完善外商投资促进机制，加强对外商投资合法权益的保护，营造稳定、透明、可预期的投资环境。

(3) 结合材料三，运用《政治生活》相关知识，分析政府如何通过解决内外联动问题，促进形成强大的国内市场。(10 分)

39. (10 分) 坚持以人民为中心的发展思想，是习近平新时代中国特色社会主义思想的核心

与灵魂。创造美好生活必须始终坚持以人民为中心的发展理念。

**【北京效率】**政务服务 12345 热线“一号响应”保证一拨就通，打通政策落地“最后一公里”。北京整合民政、环保、消费者投诉举报等十几条热线进 12345，全面提升电话受理效率和对群众诉求的全流程跟踪督办，健全以响应率、解决率、满意率为指标的考核体系。

**【天津作为】**优化营商环境，做好政府职能转变的“加减法”，提升政府服务效能，激发市场活力。天津在全市实施了“多证合一”登记改革，实现“二十四证合一”，为企业提供最贴心、最实在的服务。

**【河北攻坚】**聚焦底线任务，着力解决“两不愁三保障”突出问题，确保 2020 年实现 33 万贫困人口脱贫。河北全面推进“先诊疗后付费”政策，实行贫困户患病先看病后付费，进一步提升贫困人口的获得感、幸福感。

结合材料，运用《经济生活》或《生活与哲学》有关知识，谈谈你对“以人民为中心的发展理念”的理解。(10 分)

40. (18 分)

有学者认为，19 世纪以来随着全球化潮流不断推进，中国有两次与世界接轨的经历，一次给我们带来了屈辱与苦难，一次给我们带来了机遇与挑战。

(1) 依据材料并结合所学知识，分别指出两次“接轨”时的世界大势；这两次接轨给你哪些启示？(10 分)

中欧班列是往来于中国、欧洲及沿线各国的集装箱国际铁路联运班列。截止 2018 年 6 月底，中欧班列累计开行量已突破 9000 列，运送货物近 80 万标箱，国内开行城市 48 个，到达欧洲 14 个国家、42 个城市，运输网络覆盖亚欧大陆的主要城市。

(2) 简述中欧班列的开通对沿线区域发展的意义。(10 分)

41. (24 分)

下列漫画从作者的视角再现了普通百姓消费的变迁，反映了新中国社会经济的巨大变化。





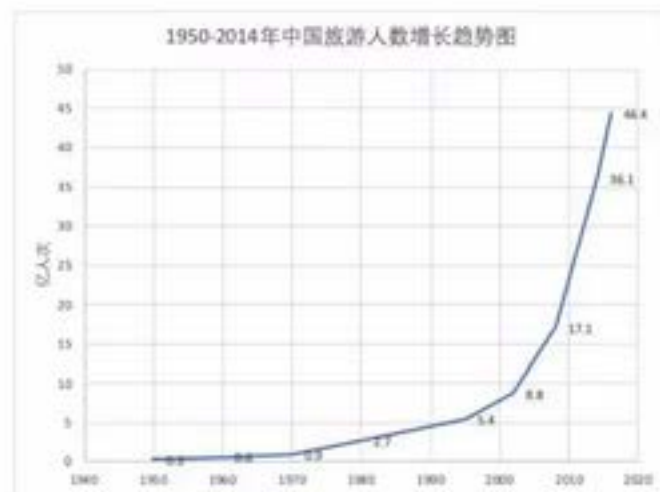
第1组



第2组

(1) 任选一组图片，结合其时代背景，分析百姓消费的状况。(8分)

建国70年来，我国人民生活方式发生了巨大变化，旅游已经成为百姓生活的重要组成部分。1999年江西省首次提出“红色旅游”概念，此后红色旅游便逐渐兴起并蓬勃发展。图1为1950~2014年我国旅游人数变化图。



(2) 简述我国旅游人数变化特点及原因，并列举两处红色旅游景区。(10分)

有一种感动穿越时空，有一种记忆历久弥新，有一种精神生生不息，有一种声音激荡身心：共和国的旗帜是红色的，共和国的今天无数先烈用鲜血和生命换来的。

“红色”是刻骨铭心的记忆，那是“砍头不要紧，只要主义真”“生是为中国，死是为中国”的铮铮誓言，是成千上万名烈士用鲜血染红的共和国旗帜。2019年是新中国成立70周年，先烈们为之不懈奋斗的理想正在成为现实。红色史诗，感天动地，红色精神，光照未来！

(3) 运用《文化生活》的知识，谈谈新时代的青年应如何让红色基因融入血脉，让英烈精神薪火相传。(8分)

北京市朝阳区高三年级第二次综合练习

地理学科测试答案

2019.5

1-11CBDDA DACBA D

36. (1) 说出爱沙尼亚城市分布的主要特点并简析其原因。(12分)

(1) 主要分布在沿海地带,(2分) 公路、铁路等交通线沿线,(2分) 北多南少;(2分)  
沿海地区多港口、交通线密集,利于发展工业和对外贸易(2分) 临海海洋资源较丰富,便于开发,(2分) 南部地区以畜牧业为主,城市少。(2分)

(2) 爱沙尼亚的自然条件不利于发展种植业,简析其原因。(10分)

(2) 该国纬度较高,夏季凉爽,热量不足,生长季短;(4分) 受西风影响,雨日多,光照不足;(3分) 地表多沼泽和湖泊,耕地不足,土壤过湿。(3分)

(3) 分析爱沙尼亚空气质量优的原因。(6分)

(3) 该国人口密度小,生活污染小,产业排放污染物较少;(3分) 森林覆盖率高,森林生态系统完整,森林净化空气、调节气候等作用显著。(3分)

(4) 塔林港被视为爱沙尼亚最具发展潜力的港口,阐述其主要理由。(8分)

(4) 塔林港沟通了欧洲北部与南部、西部与东部,交通位置重要;(2分) 港阔水深,(2分) 港口通过发达的铁路或公路网连接广阔的经济腹地(地域)(2分),与欧盟和俄罗斯社会经济联系较紧密(或经济发展快,首都提供的基础设施较好)(2分)

40. (2) 简述中欧班列的开通对沿线区域发展的意义。(10分)

缩短运输时间,降低运输成本,(2分) 加强沿线各国的联系,扩大贸易市场,(2分) 促进各国产业分工合作,促进各国优势产业发展,(2分) 完善基础设施建设,增加沿线地区的就业机会,(2分) 带动沿线区域经济发展和进步。(2分)

41. (2) 简述我国旅游人数变化特点及原因,并列举两处红色旅游景区。(10分)

特点:持续增长,21世纪初(2002年)增长迅速;(2分)

原因:经济发展,人民生活水平(收入)提高,人民旅游愿望增强,旅游业的发展,交通、旅游接待设施不断完善,政策支持。(答出3个即得6分)

红色景区:井冈山、西柏坡等(答出两个即得2分)。

北京市朝阳区高三年级第二次综合练习

政治学科测试答案

2019.5

第一部分 (选择题 共 48 分)

题号	24	25	26	27	28	29	30	31	32	33	34	35
答案	C	A	B	D	C	B	B	D	C	A	D	B

38. (34 分)

(1) (12 分)

必要性：为更好满足人民群众不断升级的消费需求，需要形成强大的国内市场，提供优质产品和服务；消费对经济发展具有基础性作用，经济的发展需要扩大投资与消费市场，以提供源源不断的发展动力；强大的国内市场，为世界各国企业进入中国市场提供机会，为世界经济注入新的活力。(6 分)

可能性：我国经济持续稳定发展，为实现就业、提高人们收入水平提供源泉和动力，不断激发潜在消费，有助于升级国内消费市场；我国不断完善个人收入分配制度，增加低收入群体收入、扩大中等收入群体，优化消费结构，拓展消费新增长点；我国不断深入推进供给侧结构性改革，扩大有效供给，稳定国内有效需求。(6 分)

(其他角度作答，言之成理，酌情给分)

(2) (12 分)

形成强大国内市场是一个整体，需要补足消费的供给短板，以树立全局观念，才能促进国内市场良性发展。

培育新的消费增长点、促成消费升级，做到了密切关注不断变化发展着的消费市场实际，有利于寻找促进国内市场的新动力。

分析促进国内市场发展的原因时，不仅要重视市场主体投资、消费潜力的发挥，也不能忽视外部矛盾的重要性，政府优化市场环境，可以进一步提振投资和消费者的信心。

(3) (10分)

政府履行基本职能，组织社会主义经济建设，进行宏观调控，利用日益强大的国内市场为世界经济的稳定与发展发挥积极作用，发挥负责任大国的作用。

政府作为权力机关的执行机关，严格执行相关法律，坚持依法行政；在依法规范国内市场的同时，也为外来投资创造法治化的营商环境。

政府坚持独立自主的和平外交政策，对国际问题自主地决定自己的态度和对策，坚持平等互利，为国内国际市场的联动营造良好的国际环境。

(其他角度作答，言之成理，酌情给分)

39. (10分) 评分标准:

等级水平	等级描述
水平4 (8~10分)	观点鲜明，能明确表达自己的见解；紧扣问题，就某点深入分析，或全面展开论证；知识运用恰当、准确；逻辑严密，条理清晰
水平3 (4~7分)	观点比较明确，能表达自己的见解；能扣住问题展开论述，或能就某点分析；知识运用比较恰当、准确；逻辑性较强，有条理
水平2 (1~3分)	观点不明确；论述不能集中指向问题，罗列知识；知识运用不正确；表述缺乏逻辑，条理性差
水平1 (0分)	应答与试题无关；或重复试题内容；或没有应答

知识角度建议:

经济知识：可用财政作用、宏观调控、完善社会保障制度、社会主义本质、共同富裕、共享理念等知识；

哲学知识：群众观、价值判断和价值选择、具体问题具体分析、尊重客观规律发挥主观能动性、从实际出发、实践观、创新等知识。

41. (3) (8分)

继承和发扬中华民族的优良传统，弘扬英雄奉献精神，铸牢中华民族的精神支柱；

弘扬和培育爱国主义为核心的民族精神，自觉成为民族精神的传播者、弘扬者和建设者；

坚定理想信念，培育和践行社会主义核心价值观，挺起精神脊梁、守望精神家园。

树立文化自信，捍卫英烈荣光，树立崇尚英雄、缅怀先烈的良好社会风尚，传递奋发向上的社会正能量。

（其他角度作答，言之成理，酌情给分）

北京市朝阳区 2019 届高三第二次综合练习

文综历史试题参考答案及评分标准

题号	12	13	14	15	16	17	18	19	20	21	22	23
答案	B	C	A	B	D	B	C	A	B	C	B	A

37. (34 分)

(1) 背景：社会制度转型，冲击传统秩序；贵族曲解法律，社会矛盾尖锐。(4 分)

历史价值：成文法按律量刑体现了法律的公开透明；它们的法治观念及实践对后世的法制产生深远影响，是人类思想史上的宝贵遗产。(4 分，言之有理即可酌情给分)

(2) 基本特征：继承传统法律思想，融合启蒙思想；立法、行政、司法三权分立并相互制衡；注意保护个人权利，坚持程序公正，实行律师辩护制度；保护私有财产，维护资产阶级利益。(8 分)

背景：资本主义经济发展；资产阶级代议制度确立；文艺复兴、宗教改革、启蒙运动等促进了公民权利观念的发展。(6 分)

(3) 成就：建立中华苏维埃共和国、陕甘宁边区政府等民主政权；制定并实施了宪法、行政、民事、刑事、经济等系列法案；建立了新民主主义的法律制度，依法保障人民群众的合法权益。(6 分)

意义：新民主主义革命时期的法治建设，揭开了中国法制史的新篇章；集中反映了人民群众反帝反封建的革命意志，体现了广大人民的切身利益；为社会主义政治法律建设作了有益的探索。(6 分，言之有理即可酌情给分)

40. (10 分)

(1) 世界大势：第一次：19 世纪中叶，欧美资本主义国家发展迅速，英国率先完成工业革命，工业化浪潮向欧洲、北美、东亚扩张，为争夺市场和原料，列强在全球范围加紧进行殖民扩张。

第二次：冷战结束后，世界多极化趋势继续发展；世界各国经济依存度进一步提高，市场经济体制被普遍认可；在新的科技革命推动下，区域集团化、经济全球化加速。(6 分)

启示：历史上西方主导的全球化存在严重不平等性，但全球化趋势是历史发展的必然。20

世纪末，世界各地的经济联系更加紧密，经济全球化出现新高潮。中国倡导构建人类命运共同体，进一步促进全球治理体系变革。(4分，言之有理即可酌情给分)

41.(8分)

(1)第1组：新中国成立之初，由于长期战乱，经济凋敝、物资匮乏、人民生活贫困，基本消费不足。20世纪70年代，实行计划经济，社会主义建设取得一定成效；但“大跃进”、人民公社化、“文革”造成国民经济困难，日常消费品供应不足。(8分)

第2组：20世纪90年代，改革开放进入新阶段，社会主义市场经济体制发展完善，物质产品极大丰富，人民生活水平提高。21世纪初，中国特色社会主义进入新时代，中国入世，信息技术革命和经济全球化改变了人们的支付方式，便捷了人们的生活。(8分)