

学校 _____ 班级 _____ 姓名 _____

考生须知

1. 本试卷共 8 页,共两部分,24 道小题。满分为 70 分。考试时长为 70 分钟。
2. 请在试卷和答题卡(纸)上准确填写学校、班级、姓名。
3. 试题答案一律书写在答题卡(纸)上,在试卷上作答无效。
4. 在答题卡上,选择题用 2B 铅笔作答,其他试题用黑色字迹签字笔作答。
5. 考试结束后,请将答题卡交回。

第一部分 选择题(共 30 分)

本部分共 20 小题,每小题 1.5 分,共 30 分。在每小题列出的四个选项中,选出最符合题目要求的一项。

1. 浙江余姚井头山遗址中,出土了数万件陶片、骨器、石器(斧、锤、磨盘等)、大型磨制贝器、少量炭化米粒以及水稻小穗轴等,据此可以判断井头山人
 - A. 开始使用打制石器
 - B. 已经从事农业生产
 - C. 掌握纺织制衣技术
 - D. 已经出现阶级分化
2. 右图是商朝大禾方鼎,该鼎器壁四面有人面纹饰,双耳上侧饰有兽面纹,鼎腹内壁铸铭文“大禾”。该文物直接反映了
 - A. 青铜器的铸造工艺
 - B. 商朝思想文化变迁
 - C. 青铜器的多种用途
 - D. 商朝礼器等级制度
3. 右侧《秦朝驰道示意图》可用于研究秦朝
 - A. 修建长城的原因
 - B. 丝绸之路的开通
 - C. 统一六国的过程
 - D. 巩固统一的措施
4. 以下是北魏孝文帝改革前后的部分官职名称变化情况表,据此可以判断北魏孝文帝改革



改革前	改革后
侯懃(qín)地何	尚书
莫堤	刺史
郁若	二千石(地方最高行政长官)

- A. 促进了鲜卑族的汉化
 - B. 保持了鲜卑族的特色
 - C. 推动了北魏文学发展
 - D. 丰富了鲜卑族的语言
5. 右侧材料共同说明了唐朝
 - A. 中外交往繁盛
 - B. 政治制度完善
 - C. 民族关系和睦
 - D. 江南经济开发

- 唐太宗被周边各族尊奉为“天可汗”
- 唐中宗时,唐朝的宫廷球队与吐蕃球队展开马球比赛
- 唐玄宗册封粟末靺鞨首领为渤海郡王

6. 以下图文材料反映了



《东京梦华录》记载：“近(州)桥两岸，皆石壁雕镌海马水兽飞云之状。”

北宋东京城州桥遗址，发掘出土了瓷器 5.6 万多件。州桥东侧的浮雕石壁上雕刻有海马、仙鹤、祥云等图案。

- ①文献资料的记载都真实可信
 ②考古发现可以证实文献记载
 ③北宋时期雕刻技术水平较高
 ④北宋时期制瓷业的规模庞大
- A. ①②③ B. ②③④
 C. ①③④ D. ①②④

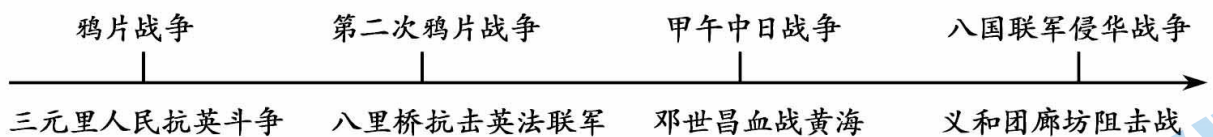
7. 右侧是某本书的目录，该书主要研究的是中国古代

- A. 中央政治制度演变
 B. 选官用官制度演变
 C. 地方监察制度演变
 D. 地方行政制度演变

.....
 第二节 从分土而治到分民而治——县制的起源
 第三节 两千年三循环——郡县制的“封建变形”

 第五节 犬牙相入还是山川形便——行省的创新

8. 观察以下示意图，其反映的主题是



- A. 闭关锁国 B. 文明开化 C. 探索与发展 D. 侵略与抗争

9. 以下刊物出版于 19 世纪末 20 世纪初，与它们相关的事件分别是

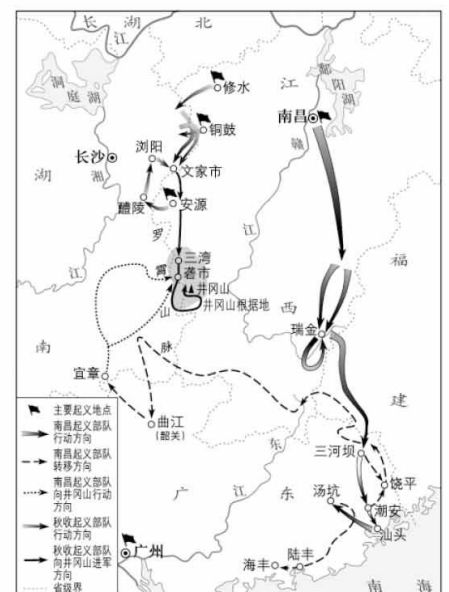
刊物名称	《西国近事汇编》	《时务报》	《新青年》
创办者或机构	江南机器制造总局	梁启超等	陈独秀

- A. 新文化运动、戊戌变法、辛亥革命
 B. 戊戌变法、洋务运动、辛亥革命
 C. 洋务运动、戊戌变法、新文化运动
 D. 洋务运动、辛亥革命、新文化运动

10. 对右图反映的历史事件认识正确的是

- ①北伐的胜利进军推动了工农革命运动
 ②中国共产党独立领导武装斗争的开端
 ③拉开中国革命从城市转入农村的序幕
 ④中国共产党历史上生死攸关的转折点

- A. ②③
 B. ①④
 C. ①②
 D. ③④



11. 右图漫画选自 1938 年《新中华报》，该漫画旨在说明

- A. 抗日民族统一战线维护了团结抗战的大局
- B. 台儿庄战役的胜利振奋了中国军民的精神
- C. 第三次长沙会战在国内外产生了积极影响
- D. 中共七大为争取抗日战争胜利准备了条件



12. 某历史社团计划参观北京地区红色景点，他们按照历史时序规划的参观路线是

- ①焦庄户地道战遗址 ②新文化运动纪念馆(北大红楼) ③平津战役指挥部旧址
- A. ①②③ B. ②①③ C. ①③② D. ③①②

13. 1950 年《人民日报》报道：“北京郊区没收地主土地和征收富农出租土地共 39 万余亩，这些土地均已适当分给了无地和少地的农民使用。”该报道反映的历史事件是

- A. 抗美援朝 B. 土地改革 C. 三大改造 D. “一五”计划

14. 某博物馆曾展出 459 件欧洲的艺术巨匠真迹，其中包括达芬奇《自画像》、米开朗基罗雕塑《磨刀者》以及拉斐尔的《圣母子像》等。该展览的主题是

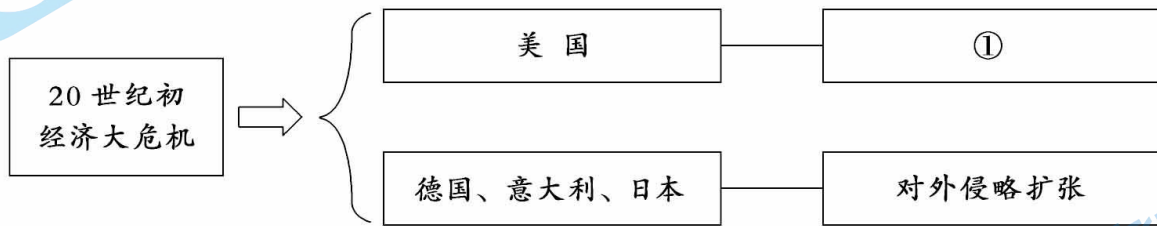
- A. 手工工场 B. 殖民扩张 C. 文艺复兴 D. 奴隶贸易

15. 对以下材料理解正确的是

- ①15 世纪末，哥伦布率领船队，开始横渡大西洋，“发现”了美洲。
- ②新航路开辟预示着世界历史全球阶段的来临，是全球统一性的开始。

- A. ①是历史解释 B. ①阐述了新航路开辟的主要目的
- C. ②是历史史实 D. ②肯定了新航路开辟的积极作用

16. 观察以下结构图，①处应填



- A. 十月革命 B. 新经济政策 C. 罗斯福新政 D. 马歇尔计划

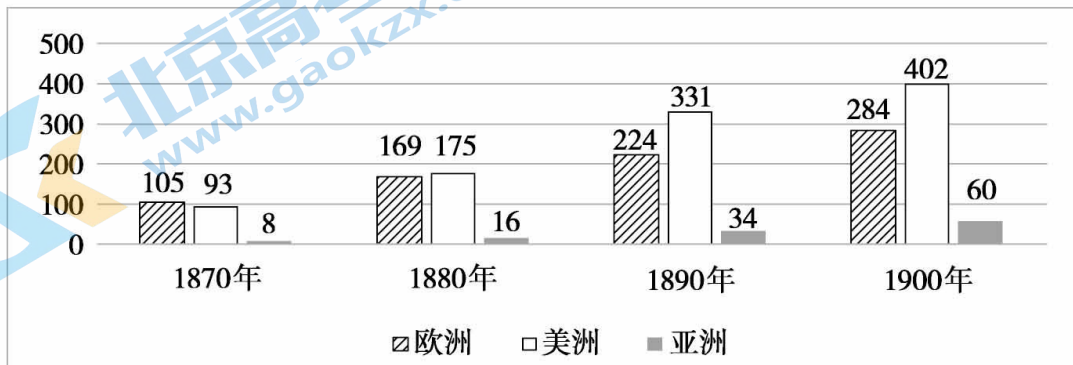
17. 1929 年，德国作家雷马克出版《西线无战事》，售出百万册。书中写到，“经历过战争的 12 年后的今天，必须坚决地反对美化战争，死者的遗嘱不是说要报仇，而是说战争永远不再有！”以上材料可以用来研究

- A. 工业化国家的社会大发展 B. 一战后民众对战争的态度
- C. 二战后资本主义的新变化 D. 亚非拉民族独立的大浪潮

18. 《杜鲁门回忆录》中记载，1948 年 6 月到 1949 年 9 月期间，美国与英国不断向柏林加强空运，累计飞行 27.7 万架次，总空运量达 232.5 万吨。出现这种情况的原因是

- A. “柏林危机”的爆发 B. 社会保障制度建立
- C. 欧洲一体化进程加快 D. 社会主义力量壮大

19. 以下是“1870—1900 年的世界铁路里程表(单位：千公里)”，据此可以判断



- ①世界范围内铁路建设里程不断增加
③殖民掠夺促进了殖民国家原始积累

- ②工业革命促进了世界跨越式大发展
④19世纪后,城市交通得到极大改善

A. ①②③ B. ②③④ C. ①②④ D. ①③④

20. 海尔在全球建立了 33 个工业园、133 个制造中心,23 万多个销售网络,实现了“全球造”落地,开启了“全球造全球卖”新局面。以上事实可以说明

- A. 中国积极推动全球治理变革 B. 霸权主义威胁世界和平发展
C. 世界向多极化方向不断演变 D. 跨国公司的生产活动全球化

第二部分 材料分析题(共 40 分)

本部分共 4 小题,共 40 分。

21. (9 分)中国式现代化道路的理论起源与发展

材料一

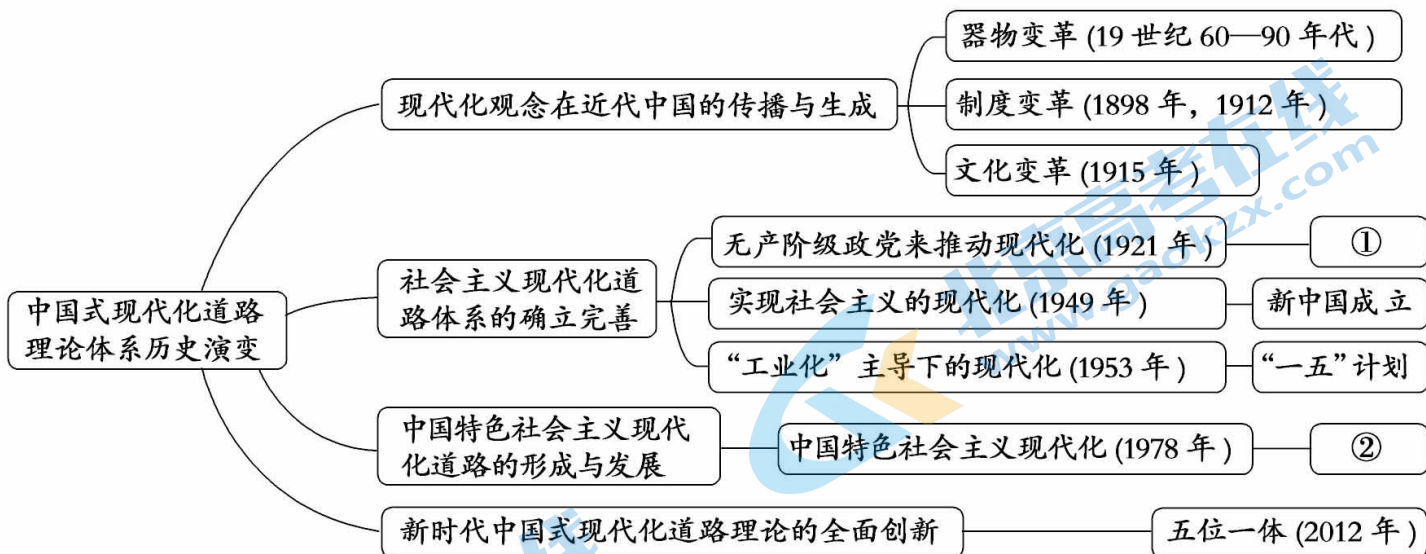
思想渊源	具体思想	中国式现代化道路理论体系(部分内涵)
中国传统文化	_____	“绿水青山就是金山银山”的生态文明理念
	《礼记》修身齐家治国平天下	加强家风建设,营造现代化建设的文化氛围
	_____	“以民为本”的社会发展理想形态与政治理念

①《尚书》:民惟邦本,本固邦宁。

②《荀子》:斩伐养长不失其时,故山林不童而百姓有余材也。

(1)依据材料一相关内容,完成表格。(2分)(填序号)并说明中国传统文化与中国式现代化道路理论体系的关系。(1分)

材料二 中国式现代化道路理论体系的历史演变



——摘编自张艳艳《中国式现代化道路话语体系建构研究》

(2)依据材料二及所学,写出①、②所指代的历史事件。(2分)任选其一,谈一谈该事件对中国式现代化道路发展的作用。(1分)

材料三 中国共产党领导中国人民在艰辛探索中创造出来的中国式现代化道路,为在现代化道路上步履蹒跚的发展中国家提供了发展的新选择。由于中国式现代化是人口规模巨大的现代化,其复杂程度和难度,在世界现代化历史上是独一无二的,因而从中总结出来的经验和启示,也就超越了一国层面,具有了世界性的意义与价值。

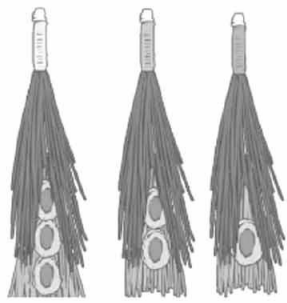
——孙代尧《论中国式现代化新道路与人类文明新形态》

(3)依据以上所有材料,谈一谈你对中国式现代化道路的认识。(3分)

关注北京高考在线官方微信:北京高考资讯(微信号:bjgkzx),获取更多试题资料及排名分析信息。

22. (10分) 功勋荣誉

材料一

 <p>花翎(líng),清时官员的冠饰,以孔雀翎为材料,翎眼越多功劳越大</p>	<p>乾隆时期,被赏戴三眼花翎者,只有傅恒、福康安父子。傅恒为平定准噶尔的统帅;福康安父子参与过平定大小金川,率军抵抗入侵西藏的国外势力。</p> <p>——摘编自向敬之《清史不忍细读》</p>
--	---

(1) 依据材料一及所学,指出傅恒、福康安父子被赏赐三眼花翎的原因。(2分)

材料二 嘉禾勋章设立于1912年。北洋政府在颁布的《勋章令》和《颁给勋章条例》中规定嘉禾勋章主要授予“有勋劳于国家”和“有功绩于学问及事业者”,文武官员均可获得。如,张謇曾获得一等宝光嘉禾勋章,詹天佑曾获二等宝光嘉禾勋章。受表彰的人可以得到很高的政治地位,官方也把所提倡的行为方式和道德标准昭示于天下。

——摘编自吴江主编《国家荣誉制度建设研究》

(2) 依据材料二,写出北洋政府时期颁布嘉禾勋章的目的。(2分)

材料三

序号	勋章名称	国家	获奖人物 (获奖时间)	主要事迹
①	 紫心勋章	美国	三人 (姓名不可查) (1782年)	三人均为士官,表彰他们在独立战争期间英勇作战
②	 列宁勋章	苏联	斯达汉诺夫 (1936年)	1935年起,斯达汉诺夫不断在采矿领域突破技术、创造新的采矿产量记录,掀起了一场全国范围内的社会主义劳动竞赛
③	 维多利亚十字勋章	英国	杰拉德·鲁普 (1940年)	杰拉德·鲁普是“萤火虫”号驱逐舰舰长,在1940年4月8日打击了德国两艘驱逐舰,击沉德国一艘重巡洋舰,他牺牲在这次战斗中


——摘自王斯德等著《苏联兴亡史》、利安·汤普森著《二战物典》

关注北京高考在线官方微信: [北京高考资讯\(微信号:bjgkzx\)](#), 获取更多试题资料及排名分析信息。

(3)依据材料三并结合所学,仿照示例,任选一例,为勋章获得者撰写解说词。(3分,示例除外)

示例:② 20世纪30年代,苏联开始了工业化建设。斯达汉诺夫不断突破技术、创造新的采矿产量记录,掀起了全国工业化生产的高潮,为苏联的第二个五年计划完成做出了重要贡献。

材料四 共和国勋章是中华人民共和国最高荣誉勋章,授予在中国特色社会主义建设和保卫国家中做出巨大贡献、建立卓越功勋的杰出人士。

 <p>共和国勋章</p>	<p>目前,共和国勋章获得者有:</p> <p>于敏:为国防建设隐姓埋名28载</p> <p>申纪兰:“勿忘人民、勿忘劳动”</p> <p>孙家栋:“两弹一星”元勋</p> <p>李延年:荣誉属于所有烈士</p> <p>张富清:“战斗英雄”</p> <p>①袁隆平:_____</p> <p>黄旭华:我的一生属于核潜艇,属于祖国</p> <p>②屠呦呦:_____</p> <p>钟南山:临危受命 国士担当</p>
--	---

(4)依据所学,任选①或②,写出其获得共和国勋章的理由;(1分)并结合以上所有材料,谈一谈你对功勋精神的理解。(2分)

23.(9分)依据以下大事年表,解答问题。

大事年表

时 间	事 件
17世纪末 18世纪初	①彼得一世改革采取了一系列近代化措施
1853—1854年	②美国舰队强行进入日本港口,日本被迫在不平等条约上签字
1853—1856年	③俄国在克里木战争中惨败
1860年	④林肯当选为美国第16任总统
1861年	⑤亚历山大二世颁布了_____法令,规定农奴获得人身自由,可以改变身份,自由转换职业;农奴还可以获得一份土地,但需出钱赎买
1861年	⑥南方军队挑起战争,美国内战爆发
1862年	⑦林肯发表了_____,黑人奴隶踊跃参战
1865年	⑧南方军队投降;林肯被拥护奴隶制的狂热分子刺杀
1868年	⑨倒幕派发动“王政复古”政变,结束了幕府统治,新政府决心向西方学习
19世纪60—90年代	⑩明治政府实行一系列改革措施:废藩置县,加强中央集权;实行征兵制,建立新式军队;以“_____”为口号,发展近代经济;提倡“文明开化”,学习西方的教育、文化和生活方式
1889年	⑪明治政府颁布《大日本帝国宪法》,确立了日本君主立宪制的天皇制度

关注北京高考在线官方微信:北京高考资讯(微信号:bjgkzx),获取更多试题资料及排名分析信息。

(1)从以下选项中,选取合适内容填入大事年表。(3分)

A.《解放黑人奴隶宣言》

B.承认土地私有

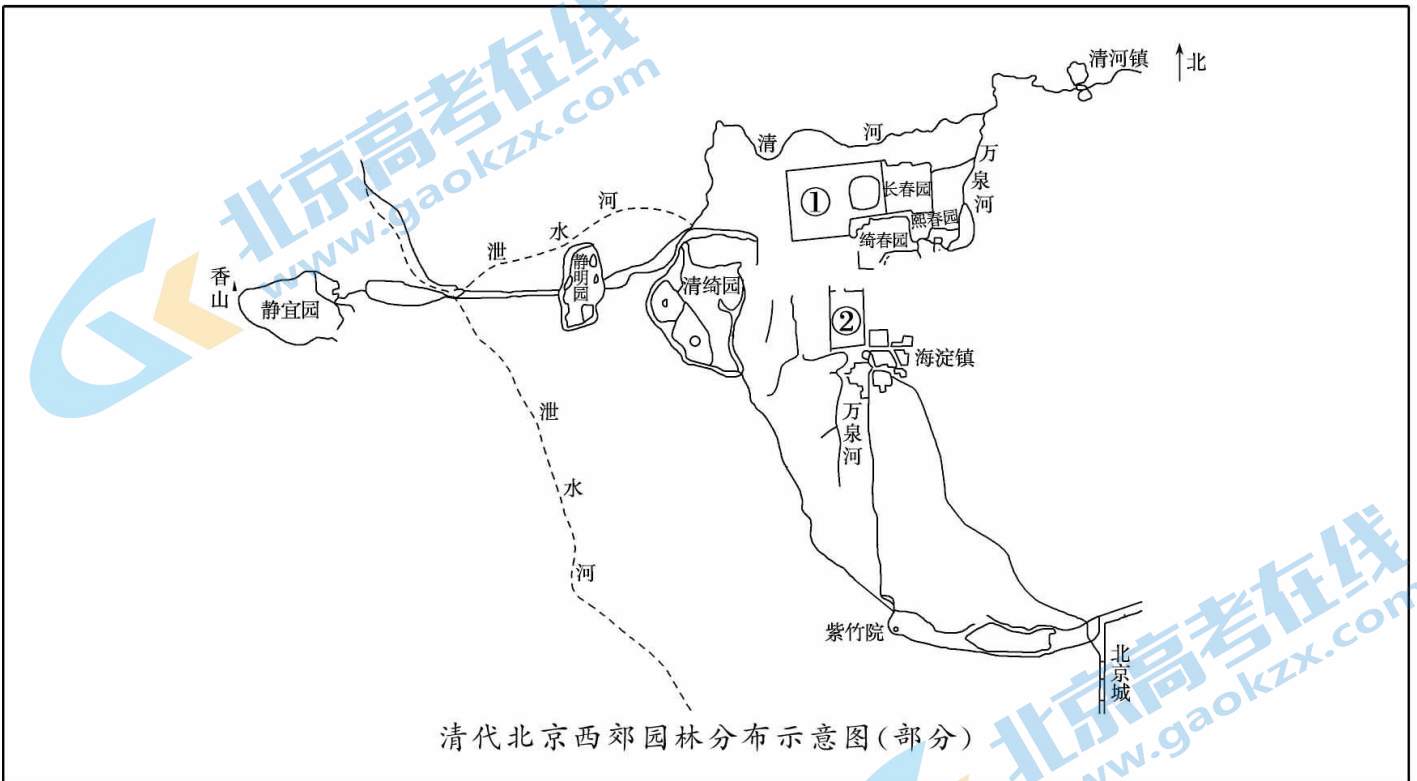
C.《废除农奴制》

D.殖产兴业

(2)选择材料中相互关联的事件,结合所学,提炼出一个观点,并加以阐述或说明。(6分)(要求:观点正确,史论结合,条理清晰)

24. (12分)北京园林

材料一



清代北京西郊园林分布示意图(部分)

清朝百余年时间,海淀附近的皇家名园并起。从西到东有:静宜园、静明园、清绮园、圆明园等;从北到南有:长春园、熙春园、绮春园、畅春园等。这些皇家园林利用其建筑形象和总体布局以显示皇家气派和皇权的至尊。它们不仅是庞大的艺术创作,也是一项耗资甚巨的土木工事。清前期皇帝将园林功能极大丰富,园林同宫城一样,兼具听政、受贺、看戏、居住、园游等诸多功能,甚至连做买卖的商业市街之景也设置在园林之中。

——摘编自朱祖希《园林北京》;周维权《中国古代园林史》

(1)依据材料一,写出①②所代表的皇家园林的名称。(2分)并概括北京地区皇家园林的特点。(2分)

材料二 民国成立以后,创办公园成为各地市政建设的重要内容。开办公园时一般采取两种途径:一是拨地新建;二是开辟前代皇家或官家园林。1911年后,原址为皇家祭祀等功能的皇家园林如天坛、社稷坛等,开放为公园。由于公园开放数量有限,北京市民频频在报刊等出版物上表达开放公园的意愿,如1925年《社会日报》中刊登了“市民请开放景山,胜迹荒颓殊为可惜”的报道。这种“公园开放运动”推动了公共园林的历史进程,也解放了人们的思想,成为移风易俗的有效途径。

——摘编自王丹丹《民国初期北京公共园林开放初探》

(2)依据材料二,说出近代北京园林功能发生的变化。(1分)并结合材料及所学,分析出现这种变化的背景。(2分)

材料三 新中国成立后,相关部门决定恢复颐和园历史风貌,保存清时期的陈列特点并配合园林设计进行规划。颐和园的维护工作得到了科学规划的指引,增加了必要的游览设施,开辟了便利的公共交通路线以便百姓游览。同时,相较于民国时期高昂的票价,新中国成立后颐和园门票低廉,曾低到人民币一角。到了1961年,颐和园每天迎接成千上万的中外游人,昔日的皇家园林已真正成为劳动人民的公园。

——摘编自北京市档案馆资料;丁洁、刘超《颐和园见证毛泽东的为民初心》

(3)依据材料三,说出新中国成立后颐和园管理的新模式。(2分)

材料四 城市绿心森林公园以百万乔冠树木、百种乡土植物、24节气林窗、四季景观大道为特色,是城市副中心“一带一轴”交汇处最具活力的“一心”。设计师们将绿心打造成了开放共享的市民活力中心、多元体验的生活风尚中心、科学有序的生态治理示范、永续生长的生态城市森林、东方智慧的特色文化名片。这些设计理念均已成为绿心森林公园的真实写照。

——摘编自《北京城市副中心城市绿心森林公园规划设计》

(4)依据材料四,分析北京城市副中心城市绿心公园的建设意义。(2分)并对北京市城市公园的发展,提出合理建议。(1分)

通州区 2023 年初中学业水平模拟考试

历史参考答案及评分标准

2023 年 4 月

第一部分 选择题(每小题 1.5 分,共 30 分)

题号	1	2	3	4	5	6	7	8	9	10	11	12	13	14	15	16	17	18	19	20
答案	B	A	D	A	C	B	D	D	C	A	A	B	B	C	D	C	B	A	C	D

第二部分 材料分析题(共 40 分)

21. (9 分)

(1)②①(2 分)中国传统思想是中国式现代化道路的思想源泉之一,中国式现代化道路在继承传统文化的基础上进一步发展完善。(1 分)

(2)①中国共产党的成立②改革开放(2 分)

①中国共产党的成立,无产阶级政党领导中国式现代化道路的探索。

②改革开放,是中国特色社会主义现代化道路形成和发展的关键阶段,推动中国式现代化道路的发展。(1 分)

(3)受优秀传统文化等思想的影响;形成了独一无二的体系;对其他发展中国家是一种借鉴;具有世界性的价值。(3 分)

22. (10 分)

(1)立下了功绩;维护了清朝的统治和统一多民族国家的发展。(2 分)

(2)肯定有功之人的贡献;宣扬政府提倡的行为;激励人民学习楷模(2 分)

(3)序号①:1775 年北美十三州爆发了独立战争,反对英国的殖民统治,争取民族独立。以三人为代表的士兵推动了美国独立战争的胜利,结束了英国的殖民统治,实现了国家独立。

序号③:第二次世界大战期间,以德国为代表的法西斯不断侵略其他国家。以杰拉德·鲁普为代表的士兵英勇作战,保卫自己的国家,为世界反法西斯的胜利做出了重要贡献。(3 分,背景、事件、影响各 1 分)

(4)①杂交水稻之父;②发现了青蒿素(1 分)

答出“爱国”“奉献”等关键词,言之成理即可(2 分)

23. (9 分)

(1)C、A、D 关注北京高考在线官方微信:北京高考资讯(微信号:bjgkzx), 获取更多试题资料及排名分析信息。

(2)评分标准

水平等级	得分	拟定的观点	材料运用与论述
4	6	明确,有新意或者有思想深度	紧扣自己的观点加以论述,运用材料中两个以上的史实,能够做到史论结合,逻辑清晰
3	4—5	明确	能够围绕观点论述,运用了材料中的史实,但不够充分或不够典型,条理基本清楚
2	2—3	不够明确	有论述或说明,但材料不充分,或史论结合不充分
1	0—1	没有凝练出观点	观点、论述与材料无关,或仅仅重复材料中的史实

【示例一】①③⑤俄国通过改革促使了社会的进一步发展。俄国彼得一世改革推动了强兵与学习西方科学技术,开启了俄国近代化的进程;俄国在克里木战争爆发了巨大的危机,促使了1861年农奴制的改革。1861年农奴制改革废除了农奴制,农奴获得人身自由,还可以获得土地,扫除了资本主义发展障碍,俄国采取了改革的方式走上了资本主义道路。

【示例二】②⑨⑩⑪日本通过学习与改革,走上了资本主义发展道路。明治维新之前日本遭遇了美国黑船事件,面临着巨大的社会危机;日本国内幕府统治严重阻碍了社会发展,爆发了倒幕运动,结束了幕府统治。1868年明治政府开启了改革,以西方为榜样,全面改造日本,日本迅速走上资本主义发展道路,实现了富国强兵,跻身于资本主义强国之列。

【示例三】④⑥⑦⑧美国通过战争的方式清除了美国资本主义发展障碍。内战前,美国南方奴隶制限制了美国资本主义的发展,南北矛盾加剧,战争一触即发。1860年林肯当选总统,成为战争的导火索,在战争过程中,联邦政府通过《宅地法》《解放黑人奴隶宣言》,调动了农民与黑人奴隶的积极性,扭转战局。美国内战避免了美国分裂,扫除了资本主义发展的障碍,为美国经济发展创造了条件。

【示例四】⑤⑥⑩19世纪中期资本主义制度在世界范围内扩展开来。俄国通过废除农奴制,扫除了资本主义发展障碍;日本通过明治维新,从政治、经济、军事、文化等方面全方位改造日本,走上资本主义发展道路;美国内战,废除了奴隶制,维护了国家统一,清除了资本主义发展的最大障碍。19世纪中期资本主义制度在全世界范围内扩展开来,资本主义力量进一步增强。

24. (12分)

(1)①圆明园 ②畅春园(2分)

特点:象征皇权至尊;技艺高超;耗资巨大;功能丰富。(2分)

(2)变化:皇家园林开放为公园;从御花园到大众公园的角色转换(1分)

背景:中华民国的建立;近代社会生活的变化影响;北京市民的迫切要求;出于对皇家园林保护的目。 (2分)

(3)保存历史风貌;增加游览设施;开辟交通路线;降低门票价格。(2分)

(4)展示生态文明的活力;恢复动物栖息环境;为市民提供自然之美;成为重要的文化空间;缓解市民生活压力等。(2分)

建议:言之成理即可(1分)

关注北京高考在线官方微信:北京高考资讯(微信号:bjgkzx),获取更多试题资料及排名分析信息。

关于我们

北京高考在线创办于 2014 年，隶属于北京太星网络科技有限公司，是北京地区极具影响力的中学升学服务平台。主营业务涵盖：北京新高考、高中生涯规划、志愿填报、强基计划、综合评价招生和学科竞赛等。

北京高考在线旗下拥有网站门户、微信公众平台等全媒体矩阵生态平台。平台活跃用户 40W+，网站年度流量数千万量级。用户群体立足于北京，辐射全国 31 省市。

北京高考在线平台一直秉承 “精益求精、专业严谨” 的建设理念，不断探索 “K12 教育+互联网+大数据” 的运营模式，尝试基于大数据理论为广大中学和家长提供新鲜的高考资讯、专业的高考政策解读、科学的升学规划等，为广大高校、中学和教科研单位提供 “衔接和桥梁纽带” 作用。

平台自创办以来，为众多重点大学发现和推荐优秀生源，和北京近百所中学达成合作关系，累计举办线上线下升学公益讲座数百场，帮助数十万考生顺利通过考入理想大学，在家长、考生、中学和社会各界具有广泛的口碑影响力

未来，北京高考在线平台将立足于北京新高考改革，基于对北京高考政策研究及北京高校资源优势，更好的服务全国高中家长和学生。



微信搜一搜

北京高考资讯