

2022 北京昌平高三（上）期末

政 治

本试卷共 9 页，100 分。考试时长 90 分钟。考生务必将答案答在答题卡上，在试卷上作答无效。

第一部分

本部分共 15 题，每题 3 分，共 45 分。在每题列出的四个选项中，选出最符合题目要求的一项。

1. 中国载人航天工程实施近 30 年来，我国的载人航天事业从无到有，从弱到强，以令人惊叹的速度，一路追赶、并跑、超越：从无人飞行到载人飞行，从一人一天到多人多天，从舱内实验到出舱活动，从单船飞行到组合体稳定运行，我们跨越了发达国家半个世纪的发展历程。中国载人航天从弱到强的发展历程

- ①说明中国科技发生质的飞跃，强国梦已经实现
- ②彰显了中国特色社会主义的无限生机与活力
- ③展示了伟大的中国道路、中国精神、中国力量
- ④是我国始终坚持以科技创新为中心的具体体现

A.①② B.①④ C.②③ D.③④

2.“一心中国梦，万古下泉诗”是南宋名句。今天我们所说的“中国梦”，与古人所言的“中国梦”有了根本的不同，是指实现中华民族伟大复兴的中国梦。要实现这一伟大梦想需要

- ①党领导人民进行伟大斗争、建设伟大工程、推进伟大事业
- ②青年人脚踏实地，在实现个人利益的过程中放飞青春梦想
- ③发挥中国共产党的主体作用，做中国梦的建设者和享受者
- ④解放和发展生产力，最大限度满足人民对美好生活的需要

A.①② B.①④ C.②③ D.③④

3. 国务院关于 2020 年度国有资产管理情况的综合报告提请十三届全国人大常委会第三十一次会议审议，亮出我国国有资产管理最新“账单”如下：

国有企业资产
总额268.5万亿
元、国有资本
权益76万亿元。

国有金融企业
资产总额323.2
万亿元，形成
国有资产22.7
万亿元。

行政事业性国
有资产总额
43.5万亿元、
净资产32.3万
亿元。

国有土地总面
积52333.8万
公顷，全年水
资源总量
31605.2亿立
方米。

关于国有资产以下说法正确的是

- ①国有资产是国有企业职工的共同财富，必须管好用好
- ②国有资产“家底”厚实，有利于增强国有经济的控制力、影响力
- ③公布国有资产管理情况，有利于提高国有资产管理透明度和公信力
- ④体现了全社会对国有金融资本的监管，有利于防范化解重大金融风险

A.①③ B.①④ C.②③ D.②④

4.建设安全可靠、生态良好、天朗气清的网络空间符合人民利益和国家利益。网信事业越是发展，信息化服务越是普及，数字经济越是加速勃兴，各行各业对安全需求也就越来越高。下列做法有利于实现网络安全的是

- ①完善网络市场规则 and 标准、构建公平公正的市场环境
- ②全球范围内深化合作、共建网络空间命运共同体
- ③巩固非公经济在网络安全建设中的主导性地位
- ④提升公民网络安全意识，使其发挥决定性作用

A. ①② B. ①③ C. ②④ D. ③④

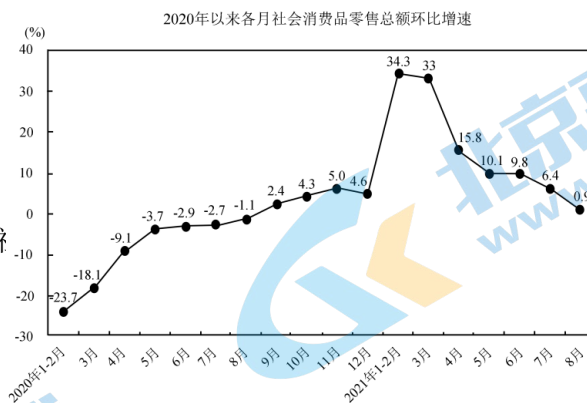
5.据 2021 年 9 月国家统计局发布的数据显示，从累计增速看，2021 年 1-8 月份社会消费品零售总额仍保持两位数较快增长，消费

市场持续恢复态势并未改变。右图是

2020 年 1 月至 2021 年 8 月社会消费品

零售总额环比增速图。结合图表，以下关于社

额增速的变化合理的是



①2020 年 1-8 月,社会消费品零售总额

持续增长

②2021 年 4-8 月,社会消费品零售总额

增速下降带来恩格尔系数上升

③2021 年 1-3 月,节日消费带来社会消费品零售总额增长较快

④2020 年总体受疫情影响,消费市场低迷，会影响我国经济增速

- A. ①② B. ①④ C. ②③ D. ③④

6. 2021年4月,市场监管总局依据《中华人民共和国反垄断法》,对某互联网外卖平台在中国境内滥用市场支配地位行为立案调查。经调查市场监管总局依法作出行政处罚决定,责令该平台停止违法行为,并作出34.42亿元的行政处罚决定。市场监管总局的处罚,有利于

- ①推动行业健康发展、促进社会公平正义
- ②为市场主体创造更优化的发展环境
- ③强化政府职能,促进货币政策实施
- ④消除市场滞后性,促进企业自由竞争

- A.①② B.①③ C.②④ D.③④

7.截至2021年9月底,全国基本养老、失业、工伤保险参保人数分别为10.21亿人、2.26亿人、2.79亿人。1~9月,向1429万失业人员发放失业保险待遇783亿元,向150万人次发放价格临时补贴6亿元。16个省份提高了城乡居民养老保险省级基础养老金,超过2020年。这说明

- ①通过国民收入再分配,能够调节不同群体之间的利益关系
- ②社会优抚能够很好的防范和化解失业人员的生存危机
- ③社会保障通过风险分摊与责任共担,充分发挥社会互助功能
- ④社会福利是最高层次的社会保障,是我国社会保障体系的核心

- A.①② B.①③ C.②④ D.③④

8.时代楷模、优秀共产党员黄文秀研究生毕业后,自愿回到百色革命老区工作,主动请缨到贫困村担任驻村第一书记。在脱贫攻坚中她立下“不获全胜、决不收兵”的铿锵誓言,积极推动实施村屯亮化、道路硬化和蓄水池修建等工程项目,带领群众发展多种产业。2019年黄文秀在突发山洪中不幸遇难,年仅30岁。黄文秀的先进事迹体现了

- ①党加强自身建设,不断提高执政能力和水平
- ②共产党员不忘初心、牢记使命的责任担当
- ③党完善领导方式,发挥党员的先锋模范作用
- ④共产党员坚定理想信念,永远跟党走的信心和决心

- A.①② B.①③ C.②④ D.③④

9.办证“零跑腿”、线上问诊、AI信号灯、互联网法庭、高空抛物监控……这些曾经出现在科幻电影里的奇思妙想，如今正走进市民的现实生活，并且通过指尖就能轻松实现。杭州、重庆、天津、武汉、合肥……如今，越来越多的城市加入智慧城市行列，搭建出会思考的“城市大脑”，为城市管理提供新思路、新路径和新模式。建设智慧城市

- ①旨在促进政府性质转变，打造守法诚信的政府
- ②使信息技术完全取代人工管理，促进效率提升
- ③有助于提升市民幸福感，满足美好生活需要
- ④为社会治理现代化赋能，提升管理和服务水平

A.①② B.①③ C.②④ D.③④

10.普法文化街、“一街一室一园”普法文化圈……在西长安街两侧，法治漫画和以案释法的法律小故事文化墙随处可见。这种用通俗易懂、寓教于乐的形式向居民阐述与生活密切相关的法律知识，让人们逐步形成了办事依法、遇事找法、解决问题用法、化解矛盾靠法的新思维。开展全民普法有利于

- ①将全民普法作为依法治国的长期基础性工作，建设法治社会
- ②提升公民的法治素养，完善中国特色社会主义法律体系
- ③增进社会共识，维护社会秩序，消除社会矛盾
- ④调动人民群众投身依法治国实践的积极性和主动性

A.①③ B.①④ C.②③ D.②④

11.援外 71 年来，我国已向 160 多个国家提供了各类援助，包括成套项目、物资援助、技术合作项目等。新冠疫情发生后，我国开展了新中国成立以来时间最集中、涉及范围最广的紧急人道主义援助，已向 150 多个国家和 13 个国际组织提供了防疫物资，向 106 个国家和 4 个国际组织提供了超过 15 亿剂疫苗。如果给此新闻配一个标题，最合适的是

- A.助力全球发展，中国展现大国担当
- B.推动抗疫合作，中国提供交流平台
- C.促进多边贸易，中国与世界共赢
- D.强化安全保障，中国重构世界秩序

12.习近平指出：“历史一再证明，没有和平就没有发展，没有稳定就没有繁荣。各国安全紧密相关，没有哪个国家可以独善其身，也没有哪个国家可以包打天下。”下列能够诠释这一观点的有

- ①第十三届全国人民代表大会第三次会议在京开幕
- ②某大国正式退出旨在遏制气候变化的《巴黎协定》
- ③《区域全面经济伙伴关系协定》(RCEP)正式签署

④中国先后参加 25 项联合国维和行动，累计派出 4 万余人次维和人员

- A.①② B.①③ C.②④ D.③④

13.伽利略通过观察吊灯随风摇曳的现象发现了单摆等时定律；德国科学家魏格纳通过观察墙壁上挂着的世界地图创立了“大陆漂移”学说。同学们运用逻辑与思维的知识对此发表各自的看法，你认为正确的有

- ①小明：这说明思维在实践中产生，在实践中发展
②小刚：这说明思维具有概括性和社会历史性
③小亮：学习科学思维，有利于我们把握本质和发展规律
④小华：这说明科学思维的结果不具有可检测性

- A.①② B.①③ C.②④ D.③④

14.甲、乙、丙、丁四个人的血型各不相同，他们的血型是 A、B、O、AB 型四种中的一种。

甲说：“丙是 A 型。”

乙说：“丁是 O 型。”

丙说：“如果我是 A 型，丁就是 O 型。”

丁说：“我不是 O 型。”

经核查，四个人中只有一个人的说法不真实。下列选项正确的是

- A.甲和乙两人的判断是不一样的，必有一假，可得出结论：丁不是 O 型
B.排中律表明，甲和乙两人的判断必有一真，可得出结论：丁是 O 型
C.如果甲的说法是真的，可得出结论：丙是 A 型，丁是 B 型
D.矛盾律表明，乙和丁两人的判断必有一假，且四人中只有一人讲话是假的，可得出结论：丁是 O 型

15.党的十九大报告指出：“中国特色社会主义进入新时代，我国社会主要矛盾已经转化为人民日益增长的美好生活需要和不平衡不充分的发展之间的矛盾。”同时又指出：“我国社会主要矛盾的变化，没有改变我们对我国社会主义所处历史阶段的判断，我国仍处于并将长期处于社会主义初级阶段的基本国情没有变。”对于中国特色社会主义社会“变”与“不变”的认识正确的是

- ①“变”是为了满足人民美好生活需要的发展，“不变”的是不平衡不充分的发展
②“变”是实事求是，“没有变”也是实事求是，是创造性地坚持和发展中国特色社会主义
③“不变”是绝对的、永恒的，“变”是相对的、暂时的

④党既要有“变化”的勇气，又要有“不变”的初心

A. ①② B. ①③ C. ②④ D. ③④

第二部分

本部分共 6 题，共 55 分。

16. (11 分) 2021 年是中国共产党建党 100 周年，百年奋斗、百年积累、百年风华写就一部厚重的党史书。

【图说党史】某校开展党史学习教育活动，请你按要求完成下列学习任务。



图 1



图 2



图 3

(1) 一张图片展现一段党的历史，请你为上述图片配上相应的主题。(3 分)

图 1 _____

图 2 _____

图 3 _____

【见证奇迹】中国共产党从无到有，由弱到强，从一个胜利走向另一个胜利，带领中国人民取得了一个个世界奇迹。

(8 分)

社会主义制度确立后，我国建立起独立的比较完整的工业体系和国民经济体系；初步满足了占世界 1/4 人口的基本生活需求；建筑、交通、运输等基础设施建设获得较快发展；科技发展取得重要突破，成为世界上有重要影响力的大国。	1978 年以来，我国国内生产总值由 3679 亿元增长到 2020 年的 101.59 万亿元，中国经济增速远高于同期世界经济增速。多年来中国对世界经济增长贡献率超过 30%。现在是世界第二大经济体、制造业第一大国、货物贸易第一大国、商品消费第二大国。	2020 年底，我国如期实现脱贫攻坚目标，使占世界人口近五分之一的中国全面消除绝对贫困，提前 10 年实现《联合国 2030 年可持续发展议程》减贫目标，不仅是中华民族发展史上具有里程碑意义的大事件，也是人类减贫史乃至人类发展史上的大事件，为全球减贫事业发展和人类发展进步作出
--	---	--

结合材料，运用所学知识，阐述中国共产党带领中国人民取得一个个世界奇迹说明了什么？

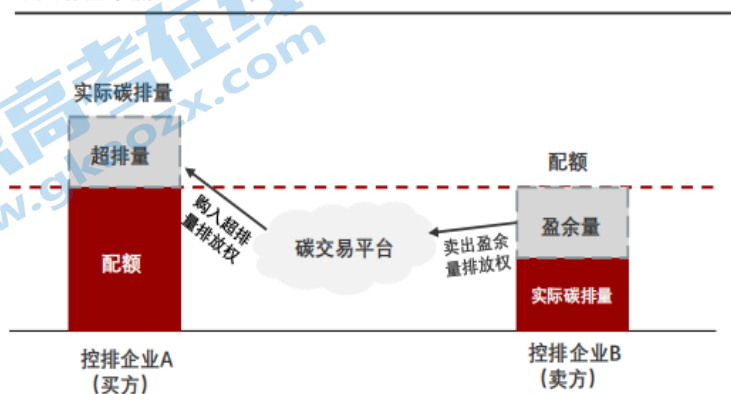
17. (8 分) 近几年，由于温室气体排放导致的全球气候变化危机，引发世界广泛关注。

材料一 习近平主席在第七十五届联合国大会一般性辩论上的讲话指出：“中国将提高国家自主贡献力度，“二氧化碳排放力争于 2030 年前达到峰值，努力争取 2060 年前实现碳中和”。

碳达峰是指我国承诺 2030 年前，二氧化碳的排放不再增长，达到峰值之后逐步降低。碳中和是指企业、团体或个人测算在一定时间内直接或间接产生的温室气体排放总量，然后通过植树造林、节能减排等形式，抵消自身产生的二氧化碳排放量，实现二氧化碳“零排放”。

材料二 为解决我国发展中的碳排放问题，我国启动了碳权交易市场。政府给每个企业制定碳排放配额，根据过往碳排放情况等，发放减排目标。这个配额就可以在交易市场自由交易。企业如果用完配额，要么关门停产，要么向排放配额富足的企业购买，不然就要接受高额罚款。

碳交易基本流程



结合《经济与社会》相关知识，说明建立碳权交易市场如何助力我国实现碳达峰、碳中和目标的。

18. (8分) 西部大开发实施 20 多年来，我国西部发生了翻天覆地的变化。特别是党的十八大以来，西部地区经济社会发展取得重大历史性成就。进入新时代，西部地区正加速构建新发展格局，绘就一幅更加美丽、更加开放、更具活力的西部画卷。如今，在西部，一场从脱贫攻坚到乡村振兴的接力赛正在进行。

云南不断推动文旅融合新形式，持续带动村民增收；甘肃陇南深挖电商产业，花椒、核桃、中药材等特产源源不断走出大山；宁夏固原的福马社区安置了 500 多名群众，当地发展特色种养殖、服装加工等产业，不断拓宽村民们的增收渠道。

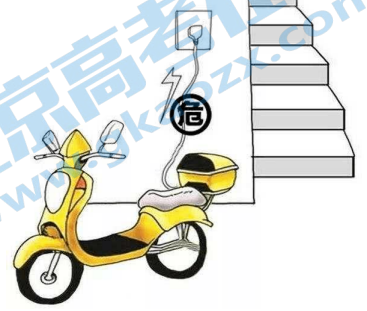
在西藏，生态保护红线面积已达 60.8 万平方公里，自治区一半的区域都被列入最严格的保护范围；在青海，实施生态补偿制度；就在这个月，内蒙古正式施行《自治区草畜平衡和禁牧休牧条例》，用立法保护 13.2 亿亩草原休养生息。到 2020 年底，西部地区累计退耕还林还草超过 1.37 亿亩，森林覆盖率超过 19.3%。

贵州落子大数据产业，不断推动数字经济和传统产业深度融合；陕西成立秦创原创新驱动平台，打造西部创新“策源地”。不久前，《成渝地区双城经济圈建设规划纲要》正式发布，为推动成渝地区高质量发展、在推进新时代西部大开发中更好地发挥支撑作用提供了指南。

向南，西部陆海新通道成为西部地区出海的新动脉。2020 年，北部湾港集装箱吞吐量达 505 万标箱，首次跻身我国沿海港口前 10。向西，中欧班列络绎不绝。新疆发挥霍尔果斯、阿拉山口“双口岸”优势，一条贯通欧亚 20 多个国家和地区的国际联运大通道正加速形成。

结合材料，运用《经济与社会》相关知识，分析我国如何绘就更加美丽、更加开放、更具活力的西部画卷。

19. (10分) 这几年，电动自行车因其便捷、经济、环保等特点，成为居民的主要出行工具之一。与此同时，电动自行车引发的火灾数量也呈现明显上升趋势。应急管理部消防救援局发布的数据显示，全国每年发生约 2000 起与电动自行车有关的火灾，其中 80% 为充电时引发。2021 年 8 月 1 日起实施的《高层民用建筑消防安全管理规定》明确规定，禁止在高层民用建筑公共门厅、疏散走道、楼梯间、安全出口停放电动自行车或者为电动自行车充电。国家明令禁止电动自行车进楼充电，但居民上楼入户充电行为依然屡禁不止。公共安全不可被悬于风险之中，需要各方发力，解决电动自行车充电问题。针对此问题，某校学生开展了社会调查活动并撰写调查报告。以下是调查报告的部分内容，请你补充完整。



《关于电动自行车充电问题的调查》

(1) 调查对象：居民、居委会、_____、_____。

(2) 原因分析：经过调查发现一些小区充电桩配套设施不全；或者有充电桩但是车棚设施简陋，缺乏消防喷淋等安全设施，同时由于管理混乱，存在“抢位”“占位”现象；一些充电桩收取的充电费一般由电费与服务费构成，往往高于居民用电价格；而当前电动自行车停车棚及集中充电设施缺乏权威标准、缺少统一安全技术指标的问题，而问题源头更不能被忽视——电池质量，谁来监管？类似这些问题都应该早做谋划，在电动车“保有量 3 亿”的前提下再行治理，其难度是可以想见的。

(3) 解决措施（至少写出 3 条）：

20. (8分) 立善法于天下，则天下治；立善法于一国，则一国治。人民群众美好生活需要有了新内涵，国家立法就有了新任务。

镜头一：适应信息技术和互联网的迅猛发展，立法“拥抱”电商时代，使电子商务不再是法外之地；个人信息保护法筑牢法治“防火墙”，最大限度保护个人信息权益；反电信网络诈骗法草案即将提请审议，有望对电信网络诈骗施以全链条打击，全国人大常委会以良法善治保障经济高质量发展、助推社会高效能治理、守护百姓高品质生活。

镜头二：全国人大常委会积极探索，不断拓展代表参与立法工作的广度与深度，健全代表参与立法机制——把办理代表议案建议与编制立法规划计划、制定修改法律更紧密地结合起来；改进邀请代表列席常委会会议工作，更加注重向基层代表倾斜；积极邀请代表参与立法调研、论证、评估，为代表全过程深度参与常委会立法工作提供充分保障。

镜头三：基层立法联系点作为国家立法“直通车”为人民群众有序参与国家立法提供了有效途径。截止 2021 年 7 月，全国人大法工委建立的基层立法联系点扩大到 22 个，涉及 21 个省（区、市），覆盖全国 2/3 省份，辐射带动各省、设区的市立法联系点如雨后春笋般发展。

江山就是人民、人民就是江山。结合三组镜头，运用《政治与法治》相关知识，说明全国人大如何通过完善立法坚持人民主体地位的。

21. (10 分)

材料一 1989 年 11 月，在澳大利亚的倡议下，澳大利亚、美国、加拿大、日本、韩国、新西兰和当时的东盟六国在澳大利亚首都堪培拉召开首届部长级会议，标志着亚太经合组织成立。此后，该组织不断扩大，截至 2019 年，共有 21 个成员，其中既有美国、日本等发达成员，也有中国、马来西亚、墨西哥等发展中成员。



(1) 亚太经合组织属于_____国际组织。(1 分)

(2) 任选一个成员国写出其政体：_____。(1 分)

材料二 2021 年是中国加入亚太经合组织 30 周年。这 30 年，是中国深化改革、扩大开放的 30 年，也是亚太经济合作不断扩展的 30 年。30 年来，中国积极融入亚太区域合作，多次在 APEC 框架内采取行动大幅降低关税水平，推动区域贸易投资自由化和便利化水平，主持了 200 多个经济技术合作项目，涉及区域经济一体化、互联互通、基础设施建设、人力资源开发等多个领域；目前中国贸易的 62%、实际利用外资的 83%、对外直接投资的 68% 都是与 APEC 成员进行的，这些助力亚太地区繁荣发展的“中国贡献”得到 APEC 成员人士广泛认可和高度评价。

正如习近平总书记于 2021 年 11 月在亚太经合组织第二十八次领导人非正式会议上所言，中方愿同亚太各成员一道，积极推动构建亚太命运共同体，携手开创亚太经济合作新篇章。

(3) 结合材料，运用《当代国际政治与经济》相关知识，阐述中国积极推动构建亚太命运共同体的意义。(8 分)

2022 北京昌平高三（上）期末政治

参考答案

第一部分共 15 题，每题 3 分，共 45 分。

1. C 2. B 3. C 4. A 5. D 6. A 7. B 8. C 9. D 10. B

11. A 12. D 13. B 14. D 15. C

第二部分共 6 题，共 55 分。

16. (11 分)

(1) 图 1 中国共产党成立；图 2 建立新中国；图 3 改革开放。（3 分）

(2) 角度：党的领导；人民群众；马克思主义基本原理同中国具体实际相结合，丰富发展中国特色社会主义道路、理论、制度、文化；只有社会主义才能救中国、只有中国特色社会主义才能发展中国、只有中国特色社会主义才能实现民族复兴等（8 分）（言之有理可酌情给分）

等级水平	等级描述
水平 4	观点鲜明，能明确表达自己的见解；紧扣问题，全面阐释论述；知识运用准确、贴切；逻辑严密，条理清晰。
水平 3	观点比较明确，能表达自己的见解；能扣住问题展开阐释论述；知识运用比较准确、贴切；逻辑性较强，有条理。
水平 2	观点不明确；阐释论述不能集中指向问题，罗列知识；知识运用不正确；论述缺乏逻辑，条理性差。
水平 1	应答与试题无关；或重复试题内容；或没有应答。

17. (8 分)

碳交易市场的建立是政府履行经济职能的表现。政府制定碳减排政策，加强体制机制创新，同时加大市场监管，引导企业绿色生产，节能减排。碳交易市场的建立，充分发挥市场机制的调节作用，促使企业技术创新、节能改造，转变发展方式，走集约型发展道路，从而控制碳排放。碳权交易市场体现了有为政府与有效市场的紧密结合，从而助力我国如期实现双碳目标。

18. (8 分)

坚持党的全面领导，西部地区坚持创新、协调发展，以创新为动力，推动产业结构优化升级，促进区域、产业、城乡协调发展；坚持绿色发展，加强生态文明建设，将绿色作为西部发展的重要底色，构建生态安全屏障。坚持开放发展，积极融入“一带一路”，促进西部开放迈上新台阶。坚持共享发展，通过产业融合，促进农民增收致富，共享

发展成果，实现共同富裕。西部地区坚持以人民为中心的发展思想，贯彻新发展理念，建设现代化经济体系，实现经济社会高质量发展。（产业调整升级、正确处理经济发展和环境保护的关系，满足人民对美好生活的需要）

19.（10分）

（1）物业人员、街道办、社区党支部（社区党支部成员）、业委会等。（2分）

（2）制定、完善相应的法律法规和政策。履行法治政府的职能，加强对电动自行车电池的质量监管，提供公共服务。实行民主管理，就电动自行车棚管理和使用集思广益，解决抢位、占位等现象。公民应树立安全意识与法治意识，坚持权利义务相统一原则，为解决电动自行车充电问题提出自己合理的建议并按照规定执行。（8分）

20.（8分）

全国人大顺应时代发展要求，坚持科学立法，回应现实需求，为满足人民群众美好生活需要提供法律保障，体现了我国社会主义国家性质。

全国人大坚持依法立法，民主立法。拓宽人大代表参与立法的方式途径，通过设立基层立法联系点，开展立法协商、凝聚共识，提高立法质量，立法更好反映人民意愿，维护人民的根本利益，坚持人民主体地位。

21.（10分）

（1）政府间、区域性、专门性的国际组织。（1分）

（2）如中国是人民代表大会制度，美国是民主共和制，英国、日本为君主立宪制等。

（1分）

（3）顺应经济全球化发展趋势，中国积极推动构建亚太命运共同体，通过大幅降低关税实现区域贸易投资自由化和便利化，有利于充分利用国际、国内两个市场、两种资源，完善社会主义市场经济体制，构建对外开放新格局。

中国与亚太地区加强互联互通，推动多个领域的合作，促进亚太地区经济发展、社会进步和民生改善，推动世界经济朝着更加开放、包容、普惠、平衡、共赢的方向发展。（8分）

北京高一高二高三期末试题下载

北京高考资讯整理了【2022年1月北京各区各年级期末试题&答案汇总】专题，及时更新最新试题及答案。

通过【北京高考资讯】公众号，对话框回复【期末】或者底部栏目<试题下载→期末试题>，进入汇总专题，查看并下载电子版试题及答案！

