

海淀区高三年级第二学期期末练习

文科综合能力测试

2017.5

学校_____ 班级_____ 姓名_____ 成绩_____

本试卷共12页，共300分。考试时长150分钟。考生务必将答案答在答题卡上，在试卷上作答无效。

第一部分 选择题 (共140分)

本部分共35小题，每题4分，共140分。每小题4个选项只有1项符合题目要求，请将所选正确答案填涂于机读卡相应位置。

图1为位于地中海的石灰岩地貌。天气晴朗时，透过石拱能欣赏到海天一色的“蓝窗”景观。读图，回答第1题。

1. 该景观
 - A. 主要在内力作用下形成
 - B. 反映热带自然景观特征
 - C. 在夏季观赏的效果最佳
 - D. 在冬季受流水侵蚀较弱




图1

图2为两个不同时刻的海平面气压分布图(单位:百帕)。图中阴影表示比湿最大的区域。(比湿是指在空气中水汽的质量与该团空气总质量的比值,用来表示空气中水汽含量的多少。)读图,回答第2、3题。

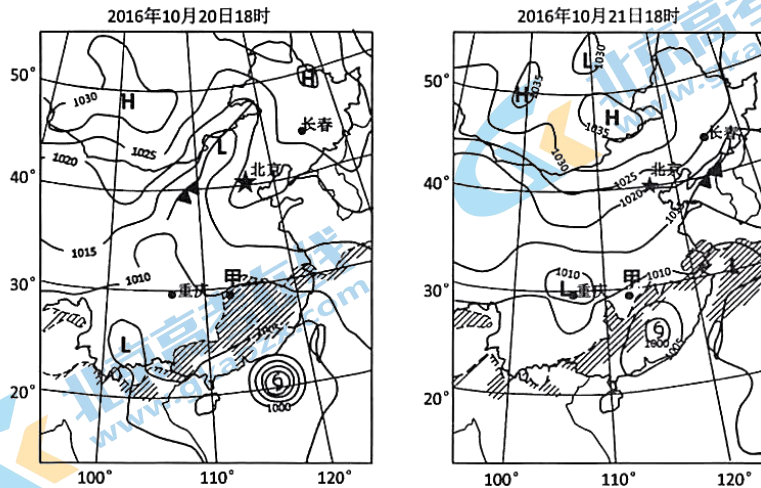


图2

高三文科综合能力测试试卷 第1页(共12页)

2. 20日18时至21日18时期间
- A. 长春地区风向由西北转为东北
 - B. 北京经历降温天气，风力增强
 - C. 重庆气压值始终高于1010百帕
 - D. 高压中心的势力均在逐渐减弱
3. 21日18时比20日18时
- A. 甲地区空气中水汽含量减少
 - B. 福建省比湿最大区域范围扩大
 - C. 台风带来的降水使所经地区比湿增大
 - D. 南下冷空气使所经地区蒸发减弱，比湿增大

河流年输沙量是指一年内通过河道某断面的泥沙数量。图3为长江某水文站（117°37'E，30°46'N）1970~2014年间年径流量与年输沙量变化示意图。读图，回答第4~6题。

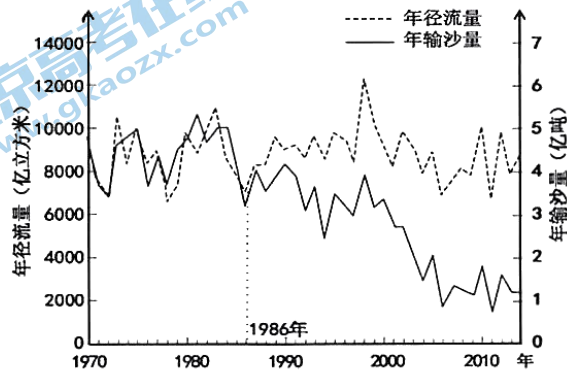


图3

4. 1986~2014年期间，形成该水文站年输沙量变化趋势的主要原因是其上游
- A. 年降水量减小
 - B. 流域面积扩大
 - C. 植被覆盖率降低
 - D. 水库总容量增加
5. 通常，该水文站一年中输沙能力最强的时段为
- A. 2月
 - B. 5月
 - C. 8月
 - D. 11月
6. 图示输沙量的变化会导致
- A. 长江口渔业资源增长
 - B. 下游河段通航能力改善
 - C. 长江口海浪侵蚀减弱
 - D. 下游湖泊面积加速萎缩

读图4，回答第7、8题。

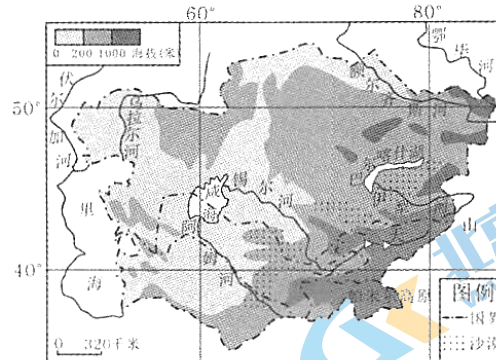


图4

7. 图示地区
- A. 终年炎热，蒸发旺盛
 - B. 信风控制，降水较少
 - C. 地势平坦，水流缓慢
 - D. 沙漠广布，下渗强烈
8. 自上世纪60年代至今，咸海面积减小
- A. 主要原因是沿岸地区大量引用咸海水灌溉棉田
 - B. 主要原因是全球变暖，雪线下移，河流水量减少
 - C. 导致咸海对该区域河流的补给量减少
 - D. 导致咸海沿岸地区的气温日较差增大

继深圳经济特区和上海浦东新区之后，2017年中央政府决定设立雄安新区，集中疏解北京非首都功能。雄安新区将建成国际一流、绿色、现代、智慧城市。读图5，回答第9~11题。

9. 与深圳经济特区和上海浦东新区相比，雄安新区

- ①基础设施完善
 - ②人口密度较大
 - ③土地价格较低
 - ④发展潜力较大
- A. ①②
 - B. ①③
 - C. ②③
 - D. ③④

10. 雄安新区最有可能承接

- A. 北京市政府行政部门
- B. 服务北京市民的大型居住区
- C. 大型企业及配套部门
- D. 服务全国的综合性交通枢纽

11. 雄安新区的发展将会使北京

- A. 生态环境压力减轻
- B. 城市用地规模减少
- C. 第二产业比重增大
- D. 城市化的水平下降

12. 《礼记》记载：“殷人尊神，率民以事神，先鬼而后礼”；周人则提出“天命靡（无）常，惟德是辅”。周公曾说：“民之所欲，天必从之”。这说明西周统治者的政治观念不同于商朝之处在于

- A. 重视民心向背
- B. 宣扬君权神授
- C. 实行等级制度
- D. 依赖家族关系

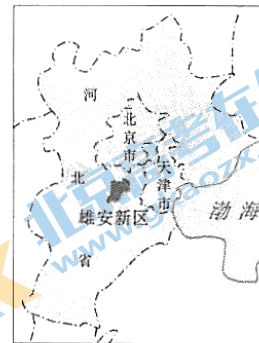


图5

13. 秦汉时期，商品买卖双方若有争讼时，市场管理者“以券书（契券）从事，毋（没有）券书，勿听”。这表明，秦汉时期
- A. 国家对商业采取宽松的管理政策 B. 商人守法经营，政治地位不断提高
C. 官府注重通过契约规范市场行为 D. 商品交易管理混乱，商人冲突不断
14. 宋以前，印刷刊行的主要是日历、佛经。宋初，在宋太宗的主持下，大量编印出版典籍，并着手编纂一套权威版本的经典文本。至继任的宋真宗时，刊印了《七经义疏》共 165 卷。民间刊印儒学经典的数量也大量增加。以上现象
- ①推动了活字印刷术日臻完善 ②促进了儒学思想的广泛传播
③有利于社会文化水平的提高 ④强化官营印刷业的垄断地位
- A. ①③ B. ①④ C. ②③ D. ②④
15. 盛宣怀在其所拟《电报局招商章程》中说：“中国兴造电线，固以传递军报为第一要务，而其本则尤在厚利商民，力图久计。”这表明盛宣怀主张，中国如果要真正发展近代电讯事业，根本在于
- A. 引进西方近代电讯技术 B. 适应国防建设的需要
C. 满足工商业发展的需求 D. 提高电讯行业的利润
16. 图 6 为 1907 年北京《益森画报》所载《斯役演说》（见图 6）。画中文字为：毛家湾某女学堂，每日下午，各学生家多来相接。一女生仆人，年五十余，初十傍晚，在该堂门首对各家父兄及仆人演说“阅报之益”，津津有味，颇能动听。演说不奇，出自斯役则奇。此史料可直接用来研究
- ①戊戌变法 ②晚清教育
③辛亥革命 ④报刊传媒
- A. ①② B. ②④ C. ①④ D. ③④
17. 下表列出了中共中央文献研究室编写的《周恩来传》的部分目录，根据所学知识判断，表中的序号“九”应该是



图 6

目录	
三	南开学校
八	黄埔军官学校
九	
十二	南昌起义
二十六	坚持在重庆（上）

- A. 五四风暴 B. 从统一广东到北伐
C. 长征 D. 抗战胜利和双十公告

18. 图7 左侧照片反映的是中国某军队在一次战斗胜利之后缴获的敌军的旗帜等战利品，图右为战斗指挥者粟裕的题词：“新编第四军，先遣出江南。卫岗斩土井，处女奏凯还。”它反映了



图7

- A. 工农武装割据局面形成
B. 红军胜利完成战略转移
C. 共产党领导的敌后抗战
D. 中国战场实施战略反攻
19. 1961年，中共中央提出“调整、巩固、充实、提高”八字方针。其中“调整”就是“适当调整国民经济各部门的发展速度，即尽可能提高农业发展的速度，提高轻工业发展的速度，适当控制重工业的发展速度。”据此，“调整”的直接作用是
- A. 解决大炼钢铁造成的严重经济问题
B. 发展轻工业以带动城市的经济改革
C. 取消人民公社以促进农业快速发展
D. 彻底否定了“多快好省”的总路线
20. 古希腊历史上有一个耐人寻味的现象，就是那些著名的思想家，都对民主持批评或否定的态度，如柏拉图是拥有民主权利的雅典公民，但他却反对雅典的民主制。这是因为古代雅典的
- A. 民主制不能够确保公平和正义
B. 民主制剥夺了贵族的政治权利
C. 下层公民没有享受到民主权利
D. 民主制使平民和贵族矛盾激化
21. 16世纪最后几十年，对于一名西班牙人来说，似乎现在一磅羊肉的价格在以前几乎能买到一只羊。而在英格兰1500-1600年间，小麦价格上涨了425%，法国涨了650%，波兰则是400%。这种现象导致
- A. 黄金、白银大量流入欧洲
B. 工商业者的经济实力增强
C. 封建领主的财富急剧增加
D. 大西洋沿岸成为商路中心
22. 以下史实和结论对应关系正确的是

	史实	结论
A.	1338年，佛罗伦萨有两百多家手工工场从事呢绒生产，约占全城人口的三分之一。	手工工场主已成为意大利政治的主导力量。
B.	到1904年，美国汽车市场被福特、通用、克莱斯勒3家公司瓜分。	美国被迫放弃自由主义经济政策。
C.	1953年苏联全部农用动力中，机械动力所占比重已达91.7%，畜力所占比重已降8.3%。	赫鲁晓夫农村经济体制改革成效显著。
D.	20世纪70年代，西欧和日本经济实力大大增强。	美国丧失了世界经济霸主的地位。

23. 图8为当代某一国际经济组织成员国（地区）分布图（图中深色区域为该组织成员）该组织的作用是



图8

- A. 实现了全球范围内的贸易自由化
B. 促进了欧洲国家之间的经济合作
C. 形成了美国为中心的自由贸易区
D. 推动了亚太地区经济合作与发展
24. 后人评价王羲之的行草书“遒媚劲健，千变万化，纯出自然。”这与他年少师从卫夫人有关。卫夫人在《笔阵图》中将各个笔画都用自然事物形象作比：[横]如千里阵云，隐隐然其实有形，[点]如高峰坠石，磕磕然实如崩也……这成为以后归纳“永字八法”（图9）的基础来源。“永字八法”流传至今已二千余年，成为习书者的学习宝典。这说明



图9

- ①书法艺术的传播、继承、创造和发展离不开教育活动
②书法艺术对人的影响具有潜移默化、深远持久的特点
③书法以汉字为载体书写中华文化，标志人类进入文明时代
④千姿百态的自然景象是书法艺术创新的源泉和动力
- A. ①②
B. ①③
C. ②④
D. ③④
25. 第六届“草根春晚”启动以来，全国2万多个社区、23万居民踊跃参加。节目由普通人本色出演，演出的都是自己身边的故事，通过网络平台和电视直播的方式形成互动，深得人民群众喜爱，获得较好的社会效益。草根春晚的成功
- ①说明人民群众是文化创造的主体
②说明文化多样性是人类文明进步的动力
③得益于现代传媒超越时空的传播功能
④说明政府应多提供人民群众喜闻乐见的文化产品
- A. ①②
B. ①③
C. ②④
D. ③④
26. 民间把农历正月初一叫做“鸡日”，这一习俗源于重明鸟的神话。相传重明鸟能吓退妖魔鬼怪，因而古代先民常在门窗上画上重明鸟。因其模样类似鸡，人们后来常常将鸡形窗花剪纸（图10）贴在门窗上，用以祈福辟邪。下列关于重明鸟神话的说法不正确的是



图10

- A. 重明鸟神话源自古代先民的精神活动
B. 重明鸟神话是对自然界“神化”了的描述
C. 神话中的重明鸟可以在客观世界找到某种原型
D. 重明鸟神话带有古代先民认识世界的主观色彩

27. 近年来,人们感觉“西红柿没有以前的味儿了”。经科研人员研究发现,这是由于在现代育种过程中过于注重产量、外观等方面,从而导致控制风味品质的部分基因位点丢失,造成13种风味物质含量显著降低,最终使得西红柿口感下降。这给我们的启示是

- ①坚持适度的原则,防止质变的发生
- ②矛盾双方在一定条件下可以相互转化
- ③主要矛盾对事物的发展起决定作用
- ④正确把握因果联系,提高活动的预见性

A. ①② B. ①③ C. ②④ D. ③④

28. “2016年外卖消费大数据”显示:外卖已成为居民第三种常规就餐方式。外卖消费不再限于只是填饱肚子,消费者开始注重品质、注重品牌、注重味道,外卖食品的质量等问题也引发关注,因此,2017年外卖行业将往精细化运营方向发展。这主要说明

- A. 居民收入差距缩小,总体消费水平提高
- B. 居民消费的水平与质量取决于国家是否加强对外卖行业的监管
- C. 居民消费需求的变化可以引导外卖行业运营方向转变
- D. 外卖企业应把满足消费者变化的需求作为经营的直接目的

29.

财政收入				财政支出			
全国一般公共预算收入	国内增值税	营业税	车辆购置税	全国一般公共预算支出	教育支出	科学技术支出	社会保障和就业支出
159552亿元	同比增长30.9%	同比下降40.4%	同比下降4.2%	187841亿元	增长6.8%	增长12%	增长13.3%

上表列出了2016年我国财政收支的部分数据,据此得出的推断合理的有

- ①国家更重视民生与科技发展,对教育事业重视远远不够
- ②营业税和车辆购置税收入的减少是财政赤字出现的根本原因
- ③增值税与营业税的变化可能是由于全面推开“营改增”试点后,形成收入转移
- ④车辆购置税同比下降可能是由于当年1.6升及以下排量乘用车税收减半的政策

A. ①② B. ①③ C. ②④ D. ③④

30. 长期以来,我国公立医院形成了“医药不分、以药养医”的错位“补偿”机制。近日,北京市政府印发《医药分开综合改革实施方案》的通知:医事服务费取代挂号费等费用,自费额度按医院层级不同逐级降低,上调一般治疗、手术等与医务人员劳务相关项目价格,取消药品加成并且采取药品阳光采购。这一改革

- ①可以使药品的价格低于其价值,让利老百姓
- ②降低了药品价格,导致生产药品企业营利减少
- ③体现了医生技术劳务价值,有利于提高服务质量
- ④可以分流病人,有利于实现医疗资源的合理配置

A. ①② B. ①③ C. ②④ D. ③④

31. 随着人口红利的逐渐消失和土地等资源价格的攀升，有着“世界工厂”美誉的中国制造，正在加速丧失传统优势，许多传统制造业加速向东南亚等发展中国家转移。依据李嘉图的比较成本学说，这给我们的启示是
- ①加快推动产业升级，形成新的比较优势
 - ②重视培育和发展自主品牌，提升竞争优势
 - ③增强政府干预，加大对传统产业的补贴力度
 - ④主导国际市场，增强技术密集型产品的出口竞争力
- A. ①② B. ①③ C. ②④ D. ③④
32. 听证制度是现代民主政治的产物。学校的收费问题涉及多方利益，某市就教育收费问题拟召开价格听证会。以下不符合该价格听证会要求的是
- A. 各方代表需要比例合理
 - B. 应由该市教育主管部门主持
 - C. 应请媒体参加，以保证足够的透明度
 - D. 应提前向社会公布，以便各方进行充分准备
33. “赶考”，会让人想起书生携囊负笈，赶到京城参加殿试，然后金榜题名的场景。对于一个执政党来说，“赶考”的内涵远比这广泛，而且难度更大、意义也更深远。在“考官”人民群众面前，中国共产党作为“考生”，参加着一场接一场的考试，“考题”变化万千，都是对它的考验。中国共产党作为执政党要交出一份满意的“答卷”，需要
- ①风清气正，气正则心齐，心齐则事成——正风反腐，提高党的行政管理水平
 - ②锄一害而众苗成，刑一恶而万民悦——党要管党，从严治党
 - ③与人民风雨同舟、生死与共——依靠人民，保障人民直接参与国家管理
 - ④治国者，必以奉法为重——依法执政，依宪执政
- A. ①② B. ①③ C. ②④ D. ③④
34. 宗教工作关系社会和谐、民族团结，关系国家安全和祖国统一。下列建议中符合我国宗教政策的有
- ①取缔寺院周边所有卖高香摊点，引导信徒、游客文明进香
 - ②加强环境保护，倡议设立“全国素食日”，全民信教
 - ③支持宗教界人士对宗教教义作出符合社会进步要求的阐释
 - ④治理宗教界乱象，需要完善法律法规，依法加强管理
- A. ①② B. ①③ C. ②④ D. ③④
35. 2017年3月15日，第十二届全国人大第五次会议表决通过了《中华人民共和国民法总则》。此前，全国人大常委会先后3次审议了民法总则草案，并且先后3次于会后将草案审议稿在人大网公布征求社会公众意见，2次印送全国人大代表征求意见，还印发相关机构征求意见。这一过程体现了
- A. 全国人大是我国最高国家权力机关，行使决定权
 - B. 发展基层民主，保障了人民群众直接行使民主权利
 - C. 人民代表大会制度的组织和活动原则是民主集中制
 - D. 全国人大代表坚持对人民负责，积极行使立法权

第二部分 非选择题 (共 160 分)

36. (36 分) 阅读图文资料, 回答下列问题。

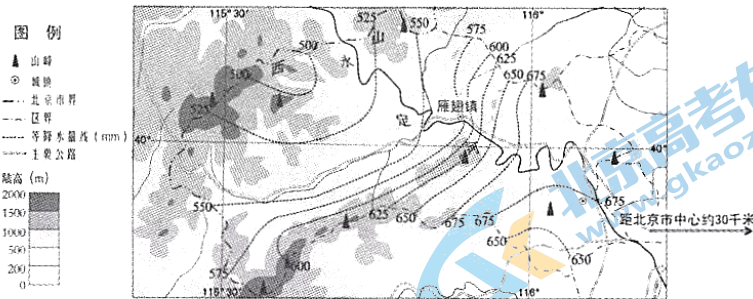


图 11

(1) 读图 11, 描述该区域年降水量的空间分布特征, 并说出其主要影响因素。(10 分)

永定河沿岸的耕地多分布在河流阶地上 (图 12)。阶地的形成首先是河流侧向侵蚀, 使谷底展宽; 汛期时, 河流带来的泥沙大量在沿岸堆积, 形成宽阔的河漫滩; 最终经过地质作用使原有河漫滩形成阶地。

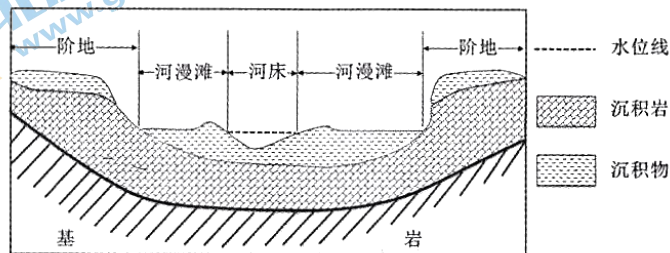


图 12

(2) 说出河流阶地形成过程中地质作用的具体表现形式, 并分析耕地多分布在河流阶地的自然原因。(10 分)

近年来, 雁翅镇着力发展“一沟一品”的特色林果经济, 农业产业结构逐年调整。区域内耕地面积不断减少, 林果种植面积逐年增加, 建成苹果、葡萄、香椿、蘑菇等特色农业生产基地, 极大地促进了区域经济发展。

(3) 简述雁翅镇农业产业结构调整的区域条件。(8 分)

图示区域现有 50 多个传统村落, 其中 10 个入选了“中国传统村落名录”。当地正依托丰富的村落资源进行旅游开发, 实现旅游业的快速发展。

(4) 说明该地发展旅游业的有利条件。(8 分)

37. (34分) 节庆活动承载了国家和民族的文化和价值观。阅读材料，回答问题。

材料一 我国以农立国，对季节更替和气候变化非常关注。为了适应农事和生活，人们就定出一些节日，以调剂生活，增进群体活动的乐趣。民间的宗教意识和祈福于神的心理，以及躲避灾害的要求，促成了拜天敬神的仪式和咒术、禁忌等，并确定于特定的时间。中国人的伦理思想是返始报本、慎终追远的，于是以祖配天、敬天法祖的思想和仪节，就牢牢地凝结在中华民族的群体中。我国古来以孝治天下，所谓凡能孝于亲者，必能忠于国。故“忠孝节义”四大德目，自古影响个人性格与立国精神，如清明祭扫，以示不忘先人；中秋团圆，以叙天伦之乐；重阳登高，以崇敬老之礼。

——摘编自蓝吉富 刘增贵主编《中国人的精神生活与礼俗》

(1) 阅读材料一，说明影响中国传统节庆产生的诸方面因素，并分析中国传统节庆中体现的价值观念。(8分)

材料二 法国大革命的节日表现出日益强烈的世俗化或非基督教化倾向，理性神崇拜、反宗教化装舞会等节日的出现，显然也直接体现着人民大众狂欢文化的这种反基督教传统。1790年7月14日的联盟节庆典，也已出现了数万人共同宣誓效忠祖国之类世俗的新因素，这是一个反映了旧时代向新时代过渡的节日。革命节日的人民大众文化特质还表现为人民大众对节日的广泛参与，卢梭认为剧院里的演出决不是人民的节日，人民的节日应当在光天化日之下进行，让群众自己变成演员，“让每个人都走到别人当中并使自己得到愉悦，以便使大家更紧密地团结起来。”

——摘编自高毅《法兰西风格：大革命的政治文化》

(2) 依据材料二和所学知识，分析近代法国节庆文化的新特点和形成这些特点的原因。(12分)

材料三 在中国传统的岁时礼俗中增添有意义的节日的建议，梁启超就曾在《清议报》印行100册之际和癸卯年(1903)元旦时，两次提出此问题。他认为“东西各国，每年必有一二日之大祝典，为国民荣誉之纪念”，如美国的7月4日、法国的7月14日等开国成功纪念日。这种庆祝活动，可以使人记已往，振现在，励将来，受到爱国主义教育，增添强国、勇猛、进步、自立的气氛。而我国向来无此风气，号称一年中普天同庆的节日，也不过是元旦这一天。而元旦不过地球绕日一周而复、毫无意识之天象，没有什么特殊的或重要的值得纪念的意义。他认为，中国人对于前人的事业，则只有考据而无纪念，因此历史的思想极薄弱，而爱国、爱团体、爱事业之感情也因此不生。

——焦润明《中国近代文化史》

(3) ①简要叙述梁启超关于改革中国节庆制度的主张及理由。(6分)

②上述材料的作者认为梁启超的观点有其进步意义也“有些过激”。你如何看待梁启超的观点?(8分)

38. (34分) 山高愈前行，梦好起宏图。今日之中国，正奋进在中华民族复兴的伟大征程之中。

材料一 实体经济是综合国力的物质基础，是实现中华民族复兴的可靠保障。当前，必须大力振兴实体经济。

振兴实体经济，既要做“减法”，让企业轻装上阵，也要做“加法”，支持企业发展新动能，拓展新空间。振兴实体经济关键是要用好创新“钥匙”，点燃创新引擎，以创新引领实体经济转型升级。

高三文科综合能力测试试卷 第10页(共12页)

当下中国经济发展，最缺乏的当属“从0到1”的原始创新。主动拥抱创新，需要“对症下药”，完善对基础研究和原创性研究的长期稳定支持机制，持续激发企业和人才的创造潜能，为原始创新提供“生根发芽”的沃土；加大投入建设“双创”示范基地，打造科技资源开放共享平台，促进科技创新成果转化，为创新能力提供“变现”的空间。

(1) 结合材料一，运用《经济生活》的相关知识，分析政府应如何用好创新“钥匙”，点燃创新引擎。(12分)

材料二 环境问题是中华民族复兴征程中面临的重大课题。环境保护涉及千家万户，与我们每个人息息相关。我们每一个人既是受害者，又是享有者，既是污染者，也是保护者。所以，我们每一个人都不应成为环境问题的旁观者、指责者，要成为解决环境问题的参与者、贡献者。

(2) 结合《政治生活》的学习，联系生活实际，说明我们怎样成为环境治理的参与者、贡献者。(12分)

材料三 我们从哪里来？我们走向何方？中国到了今天，我无时无刻不提醒自己，要有这样一种历史感。伫立在天安门广场的人民英雄纪念碑有一组浮雕，表现的是1840年鸦片战争到1949年中国革命胜利的全景图。我们一方面缅怀先烈，一方面沿着先烈的足迹向前走。我们提出了中国梦，它的最大公约数就是中华民族伟大复兴。……中国有坚定的道路自信、理论自信、制度自信，其本质是建立在5000多年文明传承基础上的文化自信。

——2015年11月3日，习近平总书记在第二届“读懂中国”国际会议期间会见外方代表的讲话

(3) 阅读材料三，围绕“文化自信”这一主题，自选角度，自拟题目，运用《文化生活》的相关知识，写一篇200字左右的短文。(10分)

要求：观点鲜明；可以全面论述，也可以就某一点深入分析；知识运用准确、贴切；论述合乎逻辑，条理清晰。

39. (12分) 明年大学毕业的学生小王面临找工作的问题，一直犹豫选择什么样的工作，于是他做了以下几件事：

第一，网上查阅相关信息：国家相关就业政策，近年来的就业形势、状况，与自己专业相关的行业现状、薪资等信息。

第二，咨询某些专家对于就业状况的观点以及意见。

第三，对自己的家庭状况、兴趣爱好、学业专长等方面进行了分析。

运用《生活与哲学》的相关知识，结合材料，回答问题。

(1) 小王在找工作的过程之中，运用了哪些思想方法？(6分)

(2) 专家的意见就一定正确的吗？你怎么看？(6分)

40. (18分) 国际贸易和国际组织推动了经济发展和社会进步。阅读材料，回答问题。

材料一 18世纪上海附近有两万多名纺织工人和染色工人。江西的瓷器中心，天空被炉火映得通红。广东的制铁业水力锤不费任何人力不断锤打着。在西南省份，水力造纸机嗡嗡作响。中国国内市场的规模保证了生机勃勃的经济。1800年左右，10%以上的粮食用来出售而不是农民自己吃掉，25%以上的原棉、以及一半以上的棉布用来销售，几乎所有的丝、茶、盐也同样在市场上出售。在此背景下，国际贸易对中国相对无足轻重。然而，中国对世界其他地方的经济至关重要。

高三文科综合能力测试试卷 第11页(共12页)

在广州的对外贸易据点，世界各国吵吵嚷嚷地要进入中国几乎紧闭的大门，搜寻中国茶叶、丝绸、大黄、瓷器等。而且，感谢欧洲茶叶市场的增长，中国贸易顺差继续扩大。荷兰在广州购买的茶叶从18世纪前期的年约150万荷兰盾，上升到18世纪后期的年近1650万荷兰盾。此时，英国成为大买主，在1784年后的20年里购买了近3亿英镑的茶叶。

摘编自 P·费尔南德兹-阿迈斯托《世界：一部历史》

(1) 结合材料和所学，分析18世纪中国对外贸易的状况及成因。(8分)

材料二 亚洲基础设施投资银行，简称亚投行，是首个由中国倡议设立的亚洲区域多边组织，总部设在北京，重点支持亚洲地区的铁路、公路、桥梁、港口、机场和通讯等基础设施建设。

(2) 说明亚投行投资业务的开展对亚洲地区发展的积极影响。(10分)

41. (26分) 创新是社会进步的不竭动力。阅读材料，回答问题。

材料一 20世纪四五十年代以来，原子能、电子计算机、微电子技术、航天技术、分子生物学和遗传工程等领域取得重大突破，标志着新的科学技术革命到来。它产生了一大批新型工业，第三产业迅速发展。最具划时代意义的是电子计算机的迅速发展和互联网的广泛运用，这意味着人类社会已经进入信息时代。新科技革命带来了一种新型经济——知识经济，知识经济发达程度的高低已成为各国综合国力竞争中成败的关键所在。

(1) 阅读材料，结合所学，以“科技创新与社会变迁”为视角，评述第三次科技革命。(10分) (要求：观点明确，史实充分，史论结合，逻辑清晰。)

材料二 2016年9月，具有自主知识产权的世界最大单口径射电望远镜在贵州省平塘县大窝凼天坑落成。该工程选择远离城镇的天然喀斯特洼坑作为台址，既减少了电磁信号的干扰，又大大缩短了工程建设的周期。充分体现了设计者的创新精神，堪称中国“天眼”。

(2) 评价在大窝凼建设“天眼”工程的主要条件。(10分)

材料三 三万里河东入海，五千仞岳上摩天——燕赵之地崛起，必将雄安天下。日前，中共中央、国务院印发通知，决定设立河北雄安新区。雄安新区将成为培育创新驱动发展的新引擎。雄安新区该如何建设好？通知要求，坚持先谋后动、规划引领，用最先进的理念和国际一流的水准进行城市设计，建设标杆工程，打造城市建设的典范；要保持历史耐心，尊重城市建设规律，合理把握开发节奏；要加强对雄安新区与周边区域的统一规划管控，避免城市规模过度扩张，促进与周边城市融合发展。

(3) 结合材料三，运用《生活与哲学》的相关知识，说明“如何建设好雄安新区”。(6分)

海淀区高三年级第二学期期末练习参考答案

地 理

2017.5

第 I 卷 （选择题 共 44 分）

本卷共 11 小题，在每小题给出的四个选项中，只有一项是符合题目要求的。请将所选答案前的代表字母填写在答题纸上（每小题 4 分，多选、错选、漏选，该小题均不得分）。

题号	1	2	3	4	5	6	7	8	9	10
答案	C	B	A	D	C	B	D	D	D	C
题号	11									
答案	A									

第 II 卷 （综合题 共 56 分）

36. (36 分)

(1) (10 分)

参考答案：

分布特征：整体呈现山东南向西北递减的趋势；大部分降水在 500mm 至 675mm 之间，中部地区降水量空间差异大于东、西部（或单位距离降水量差异大）。

影响因素：夏季风（或大气环流），地形（或下垫面）。

(2) (10 分)

参考答案：

表现形式：

外力作用：流水侵蚀，流水沉积，固结成岩。

内力作用：地壳抬升（或地壳运动）

原因：泥沙沉积，土壤肥沃；临近河流，利于灌溉；相对于河漫滩地势较高，洪水威胁小；地形平坦。

(3) (8 分)

参考答案：

山区地形，适宜发展林果经济；农产品的市场需求更加多样；交通及基础设施条件更加完善；冷藏保鲜技术不断发展；政策支持不断加强；区域生态环境保护的要求增强。

(4) (8 分)

参考答案：

临近北京中心城区，靠近客源市场；附近有公路经过，交通便利；古村落历史文化价值较高；数量丰富，集群状况好。

40. 题

(2) (10 分)

参考答案：

进一步完善基础设施建设；带动相关产业发展；创造更多就业机会；加强区域内的信息联系，促进国家间的文化交流；增强国家间的贸易往来；促进亚洲经济的发展。

41. 题

(2) (10 分)

参考答案：

有利条件：人类活动少，电磁干扰少；利用天然洼坑，减少工程量（缩短周期，降低成本）；政策支持；

不利条件：位置偏远，交通不便；地质条件复杂，易发生地质灾害；教育落后，科技不发达，科技人才不足。

海淀区高三年级 2016-2017 学年第二学期期末练习
文科综合能力测试（历史部分）参考答案及评分标准

2017. 5

第一部分（共 48 分）

12	13	14	15	16	17	18	19	20	21	22	23
A	C	C	C	B	B	C	A	A	B	D	D

第二部分（共 52 分）

37. (34 分) (1) (8 分) 影响因素：农耕时代生产、生活的需要；鬼神意识影响下祈求幸福和躲避灾害的活动；传统天人观念和家国伦理思想的影响。(6 分)

价值观念：注重孝道和敬老，崇尚以德治国。(2 分)

(2) (12 分) 特点：摆脱基督教的影响，呈现出世俗化；强调爱国主义的政治情感；群众的广泛、主动参与。(6 分)

原因：欧洲资本主义的发展；启蒙运动的影响；法国大革命的氛围。(6 分)

(3) (14 分) 主张及理由：主张设立有重大政治意义的纪念日；通过节日增强国民的爱国意识和进取精神；认为中国传统节日缺乏社会意义。(6 分)

看待：(言之有理，即可得分，8 分)

【评分标准】

第一等，能够全面、准确理解梁启超的观点、选用史实准确充分，论证层次清晰、逻辑合理。8-6 分。

第二等，比较全面、准确理解梁启超的观点、选用史实准确，论证层次比较清晰。5-3 分。

第三等，能够理解梁启超部分观点，能够运用史实对观点简单论证。3-1 分

第四等，无明确观点或观点错误，史实论证错误。0 分。

40. (1) (8 分) 状况：世界市场对中国商品需求旺盛；荷兰、英国从中国大量进口茶叶等商品，中国处于出超地位。外国商品进口少，国内对外国商品需求量小。(4 分)

成因：中国手工业发达提供大量产品；农产品商品化，大量投入市场；自然经济仍占较大比例，实行闭关政策。(2 分) 西方国家推行重商主义，积极开拓海外市场。18 世纪后期英国开始工业革命，对海外市场有强烈需求。(2 分)

41. (1) (10 分) (要求：观点明确，史实充分，史论结合，逻辑清晰。)

从科技创新角度：传统的科技创新主要体现在重工业和轻工业行业等行业，第三次科技革命科技创新主要产生于高新技术领域；它改变了传统制造业的生产方式，形成了新型工业；互联网的发展使知识经济成为最新经济形态。(5 分)

从社会变迁角度：第三次科技革命推动了战后世界经济的迅速发展；改变了传统的经济结构，第三产业所占比重日渐突出；计算机和信息技术极大地改变了经济运行方式和人们的日常生活，科技在社会发展和人们生活中的作用更加显著；知识经济成为国际竞争和综合国力的关键因素。(5 分)

海淀区高三年级第二学期期末练习文科综合能力测试政治参考答案

2017.5

第一部分 选择题（每题4分，共48分）

24.A 25.B 26.A 27.C 28.C 29.D 30.D 31.A 32.B 33.C 34.D 35.C

第二部分 非选择题（共52分）

38（1）实施创新驱动发展战略，推动实体经济优化结构，不断提高质量、效益和核心竞争力；（3分）发挥财政、税收对基础研究、原创性研究和创新型、研究型企业的支持力度；（3分）完善科技要素参与分配的多种分配方式，调动科技人员的积极性；（3分）坚持科教兴国发展战略，积极培育创新型人才。（3分）（其他言之有理酌情给分）

38（2）我们应树立公民意识，坚持权利与义务相统一、国家利益与个人利益相统一的原则积极参与环境治理。（2分）

积极履行公民权利，通过多种途径，积极参与民主决策、民主管理，以主人翁的态度，为环境治理建言献策，（4分）依法行使监督权，监督相关环保部门的工作，对破坏环境的企业进行举报等。（4分）

自觉履行公民义务，树立生态环保意识，增强社会责任感，养成保护生态环境的生活习惯，使用绿色、低碳产品，为环境治理做贡献。（2分）（其他言之有理酌情给分）

38（3）（10分）

等级水平	等级描述
水平4 (8-10)分	观点鲜明，能明确表达自己的见解；紧扣问题，全面展开论述，或就某点深入分析；知识运用准确、贴切；逻辑严密，条理清晰。
水平3 (5-7)分	观点比较明确，能表达自己的见解；能扣住问题展开论述，或能就某点分析；知识运用比较准确、贴切；逻辑性较强，有条理。
水平2 (1-4)分	观点不明确；论述不能集中指向问题，罗列知识；知识运用不正确；论述缺乏逻辑，条理性差。
水平1 0分	应答与试题无关；或重复试题内容；或没有应答。

39.（1）坚持具体问题具体分析，具体分析国家就业现状、自身各方面状况，选择工作。（3分）坚持联系的观点看问题，综合考虑影响个人就业的相关因素，选择工作。（3分）（其他言之有理酌情给分）

（2）不一定，人的认识是对客观对象的反映，其中与客观对象相符合的认识才是正确的认识，反之，就是谬误。专家的意见如果把握了就业规律，如实反映了客观的就业状况，就是正确的，否则是错误的。（4分）专家的意见正确与否最终必须通过实践的检验。（2分）（其他言之有理酌情给分）

41（3）坚持正确意识的指导作用，规划引领，用最先进的理念建设雄安新区。（2分）尊重客观规律，坚持量变与质变的统一，循序渐进建设雄安新区。（2分）立足整体，统筹规划，协调好雄安新区与周边区域的关系，融合发展。（2分）（其他言之有理酌情给分）



扫描二维码，关注北京高考官方微信！

查看更多北京高考相关资讯！

官方微信公众账号：bj-gaokao