

2024 届高三文科综合试题

考生注意：

1. 本试卷分第 I 卷(选择题)和第 II 卷(非选择题)两部分,共 300 分。考试时间 150 分钟。
2. 请将各题答案填写在答题卡上。
3. 本试卷主要考试内容 地理:必修 1、必修 2、选修 3、选修 6。政治:必修 1,必修 2 第 1~2 单元。历史:中国古近代史、世界古近代史、选修。

第 I 卷 (选择题 共 140 分)

本卷共 35 小题,每小题 4 分,共 140 分。在每小题所给的四个选项中,只有一项最符合题目要求。

沉香是一种药材,具有较高的药用滋补价值。海南屯昌沉香生产历史悠久,但附加值较低。2017 年屯昌成立首家沉香鉴定中心,2022 年屯昌建立沉香国际交易中心。如今屯昌沉香以较高的价格畅销北京、上海、深圳等地。近年来,屯昌当地不断扩大沉香种植面积。据此完成 1~3 题。

1. 如今屯昌沉香能够以较高价格畅销的关键是

- ①品牌价值提升
- ③生产历史悠久

- ②控制进口规模
- ④拓宽销售渠道

A. ①②

B. ①④

C. ②③

D.

2. 屯昌沉香以较高的价格畅销北京、上海、深圳等城市,是因为这些城市

- A. 气候与海南差异大
- C. 居民普遍使用沉香

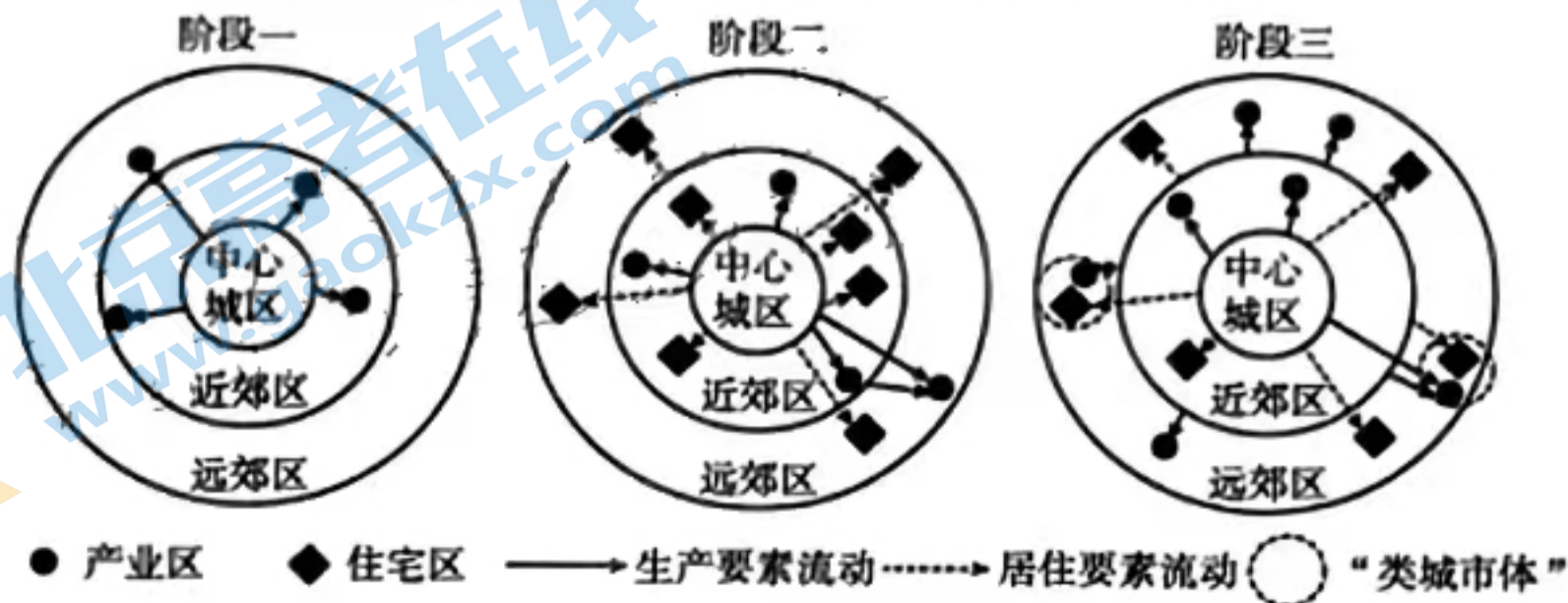
- B. 医药产业发达
- D. 人均收入较高

3. 屯昌当地不断扩大沉香种植面积主要是为了

- A. 提高经济效益
- C. 发展旅游业

- B. 改善生态环境
- D. 提高沉香品质

伴随城市空间加速向郊区扩张,远郊区域得到快速发展,其功能的完善性、独立性使之具备城市特性,形成“类城市体”,学者将此现象称为后郊区化。研究表明,目前上海正逐步进入后郊区化阶段。下图示意 1949 年至今上海市后郊区化空间发育模式演变。正向通勤指居住在郊区、工作在中心城区的通勤,反之称为逆向通勤。据此完成 4~6 题。



4. 图中正向通勤和逆向通勤最突出的分别是

- A. 阶段二、阶段三
C. 阶段三、阶段二

- B. 阶段二、阶段一
D. 阶段三、阶段一

5. 从阶段二到阶段三,引起上海市近郊区和远郊区布局转换的关键因素是

- A. 土地租金
C. 人口迁移

- B. 交通条件
D. 环境质量

6. 与近郊区相比,上海市远郊区更易成为功能复合完善的“类城市体”,主要原因是

- A. 对周边城市辐射更强
C. 受中心城区辐射较小

- B. 生产成本低廉
D. 劳动力数量多

杭州亚运会火炬于2023年9月8日在杭州开始传递,9月10日到达浙江省最北端的嘉兴,9月15日到达浙江省最南端的温州,9月20日回到杭州。下图为浙江省简图。据此完成7~8题。



7. 杭州亚运会火炬传递期间

- A. 杭州正午太阳高度角增大
B. 嘉兴的白昼始终比温州长
C. 杭州日出方位逐渐向北移动
D. 温州日落方位位于西南方

8. 火炬回到杭州的那一天,杭州日出时中时区区时最接近

- A. 0时
C. 14时

- B. 6时
D. 22时

在末次冰期,全球季风区降水减少了约10%,但澳大利亚西北部季风区降水增加。研究表明,末次冰期海平面大幅下降,北半球大陆架出露的面积远大于南半球。据此完成9~11题。

9. 末次冰期,全球多数季风区降水减少,主要是因为

- A. 夏季风减弱
C. 冬季风减弱

- B. 夏季风增强
D. 冬季风增强

10. 末次冰期,澳大利亚西北部季风区降水增加,主要原因是

- A. 12月一次年2月南半球降温快
B. 6—8月南半球降温慢
C. 12月一次年2月北半球降温快
D. 6—8月北半球升温慢

11. 北半球大陆架出露的面积远大于南半球,主要取决于南北半球的
- ①气候差异
 - ②洋流差异
 - ③水下地形差异
 - ④海陆分布差异
- A. ①② B. ①④ C. ②③ D. ③④
12. 春秋时期,管仲在齐国进行改革,其中一项是推行粮食“准平”政策,简单说就是民间物资有余百姓就会低价卖出,故君主应该以低价收购;民间物资不足百姓就会高价买进,故君主应该以高价售出。物资的价格经过君主的调节后,富商大贾就无法对百姓巧取豪夺。“准平”政策蕴含的经济生活道理是
- ①商品的价格与供给会相互影响、相互制约
 - ②价格变动可以调节商品生产规模的大小
 - ③平抑物价需要按照市场经济的规律办事
 - ④市场阻止不了粮食产品价格的异常波动
- A. ①③ B. ①④ C. ②③ D. ②④
13. 近年来,防晒服饰的编织工艺和防晒剂配方持续改进升级。如今,制作防晒服的新型面料,可以阻挡紫外线,且厚度不到1毫米。有些厂商还在面料中添加凉感成分,穿上后可瞬间降低体感温度。2016年至2022年,我国防晒服饰市场年复合增长率达5.9%,预计2023年市场规模将达742亿元。由此可见
- ①消费对企业产品的升级调整具有重要导向作用
 - ②依托技术创新推动供给升级可以创造市场需求
 - ③使用价值是企业产品价值成功实现的重要因素
 - ④生产生活方式变化推动着人们消费观念的更新
- A. ①② B. ①④ C. ②③ D. ③④
14. 与2022年相比,2023中国企业500强投入的研发费用增长9.07%,平均研发强度提高了0.04个百分点;专利申请数量增长了13.03%,其中申报发明专利增长了10.48%;申报参与标准制定增加171项,共申报参与了4992项国际标准制定。据此可以得出的合理结论是
- ①创新驱动发展为中国企业注入了持续发展的新动能
 - ②中国企业500强成为党执政兴国的重要支柱和依靠力量
 - ③中国企业参与制定国际标准,为全球发展贡献力量
 - ④中国经济发展已由依靠投资驱动转为依靠创新驱动
- A. ①③ B. ①④ C. ② D. ②④
15. 2023年9月,国内两家品牌手机生产商宣布达成全球专利交叉许可协议,该协议覆盖了包括5G在内的多项通信技术。此次协议的达成,意味着双方同意在全球范围内交叉使用彼此的专利技术,且互不侵犯对方的知识产权。签订全球专利交叉许可协议有利于
- ①降低双方的生产成本,提高企业资金周转率
 - ②促进专业化分工细化,提升一体化经营水平
 - ③发挥双方互补优势,缩短企业产品开发周期
 - ④减少专利侵权纠纷,构建行业良好竞争生态
- A. ①② B. ①③ C. ②④ D. ③④

16. 目前,我国 15 个省份 100 多个城市试点不动产“带押过户”。所谓不动产“带押过户”,是指已经抵押的不动产买卖转移时,不需要提前归还旧贷款、注销抵押权,即可完成过户、再次抵押和发放新贷款等手续,实现不动产登记和抵押贷款的有效衔接。不动产“带押过户”能够
- ①盘活闲置不动产资源,增加居民经营性收入
 - ②降低买卖双方交易成本,促进二手市场交易
 - ③简化过户交易的流程,促进不动产有序转移
 - ④助力商业银行信贷业务增长,化解金融风险
- A. ①③ B. ①④ D. ②④
17. 2023 年以来,我国积极的财政政策加力提效,专项债券、税费优惠等政策工具靠前发力。上半年,各地发行用于项目建设的专项债券 21721 亿元,支持地方建设实施一大批惠民生、补短板、强弱项的项目。这些专项债券发挥作用的传导路径是
- ①增加地方经济建设支出,扩大社会总需求
 - ②培育壮大消费市场,畅通国内大循环
 - ③保障和改善人民生活,稳定居民消费预期
 - ④带动社会有效投资,扩大市场就业容量
- A. ①→③→④→② B. ①→④→③→②
- C. ④→①→②→③ D. ③→④→①→②
18. 2023 年 7 月,自然资源部发布的《自然资源部关于深化矿产资源管理改革若干事项的意见》明确,全面推进矿业权竞争性出让。规定除特殊情形外,矿业权一律按照《矿业权出让交易规则》以招标、拍卖、挂牌方式公开竞争出让,探索建立相关规则,确保矿业权交易顺利进行。矿业权竞争性出让意在
- ①推动自然资源价格上涨,促进自然资源节约和高效利用
 - ②减少政府对矿产资源的干预,促进矿产开采业可持续发展
 - ③运用市场竞争机制最大限度实现矿产资源的价值
 - ④调动社会资本投资矿产的积极性,提高我国资源保障能力
- A. ①② B. ①③ C. ②④ D. ③④
19. 当今世界,最稀缺的资源是市场。构建新发展格局,迫切需要加快建设高效规范、公平竞争、充分开放的全国统一大市场,建立全国统一的市场制度规则,促进商品要素资源在更大范围内畅通流动。下列有助于建设全国统一大市场的合理建议是
- ①推进市场设施高标准联通,建立高效顺畅的流通体系
 - ②严厉打击行政性垄断行为,全面废止限制竞争的规定
 - ③进一步破除制度性障碍壁垒,治理、优化全国营商环境
 - ④提高乡村各类基础设施发展水平,消除城乡发展差异
- A. ①② B. ①③ C. ②④ D. ③④
20. 2023 年 7 月,M 市人大常委会通过相应工作机制,广泛听取人大代表、建设单位、监理单位、运营单位、区政府相关部门、街道乡镇、专家学者等方面的意见建议,并通过多轮次征求调研组建议、开展专题调研和立法座谈会、公开征求公众意见等多种方式,最终形成《M 市建筑绿色发展条例(草案)》。该草案的形成过程表明
- ①城市治理要发挥人民民主对权力的制约作用
 - ②全过程人民民主是科学立法的重要保障

③人民当家作主和依法治国是内在统一的

④市民通过社会公示制度参与了民主监督

A. ①③

B. ①④

C. ②③

D. ②④

21. 某村是该县人口最多的行政村。近年来,该村坚持“党建引领、村民自治、服务升华”的原则,实行“1+1+1+5”(一部村规民约、一块红黑榜、一个村民议事微信群、五个村级群众自治组织)工作法,使乡村振兴充满勃勃生机。原来乡村建设、乡村治理都是靠政府,现在只要一号召,村民们就积极加入。该地乡村治理的有益经验是

①构建村民自治新机制,实现自治、德治融合发展

②探索善治、共治新路径,激发乡村治理的内生动力

③优化村民自治组织结构,提高村民自我管理能力和

④发挥党的主体作用,将组织优势转化为治理优势

A. ①②

B. ①④

C. ②③

D. ③④

22. 为照顾到更多数字化体验能力不足的老年群体,某市街头的电话亭全新升级改造为“Hello老友亭”,老年人可以通过刷脸快速叫车、预约挂号、政策咨询;如果迷路了,老年人则可以用“守望相助”AI人脸识别找到家属。此外,在“15分钟生活圈”里,可以查询周边文娱、医院、电信营业厅等生活设施位置。可见该市政府

①发挥数字优势,不断提升政务服务效能

②加强社会建设,致力于增强政府的权威

③以人民为中心,提高为人民服务的水平

④完善公共服务,增进老年市民的幸福感和

A. ①②

B. ①③

C. ②④

D. ③④

23. “交树交印”制度历史悠久。明朝正德年间,剑州知州组织种植大量柏树,发出了“官民相禁剪伐”的禁令,建立了“交树交印”的制度。从那时起,每逢新官和旧官交接任,都要核查清点当地古柏树数量,并依此进行奖惩。“交树交印”制度对今天政府的启示是

①树立和践行正确的政绩观,创造泽被后世的“潜绩”

②强化生态环境监管执法,以司法力量护航生态保护

③算好“经济账”,善于把“绿水青山”转化为“金山银山”

④抓生态文明建设必须搭建好制度框架,抓好制度执行

A. ①③

B. ①④

C. ②③

D. ②④

24. 考古发现,三星堆目前出土的青铜器约有一吨,这些青铜器的铸造需要上千吨的铜矿材料。而科学研究显示,其中部分铜矿材料是千里之外的江西瑞昌铜岭矿冶遗址产出的。这一考古发现可以用来说明当时

A. 区域联系的增强

B. 长途贸易的兴盛

C. 殷商文化的扩展

D. 冶金技术的进步

25. 在秦墓出土的竹简《日书》中出现最多的字依次是吉、凶、祸、福、贫、富、利、害等,几乎找不到德、仁、义等字眼,这与同为卜问吉凶祸福的周人的《易》,动辄“天德”“修身”“大义”等内容形成鲜明对比。这反映出

A. 秦人的迷信思想衰退

B. 秦文化功利主义色彩

C. 焚书坑儒摧残秦文化

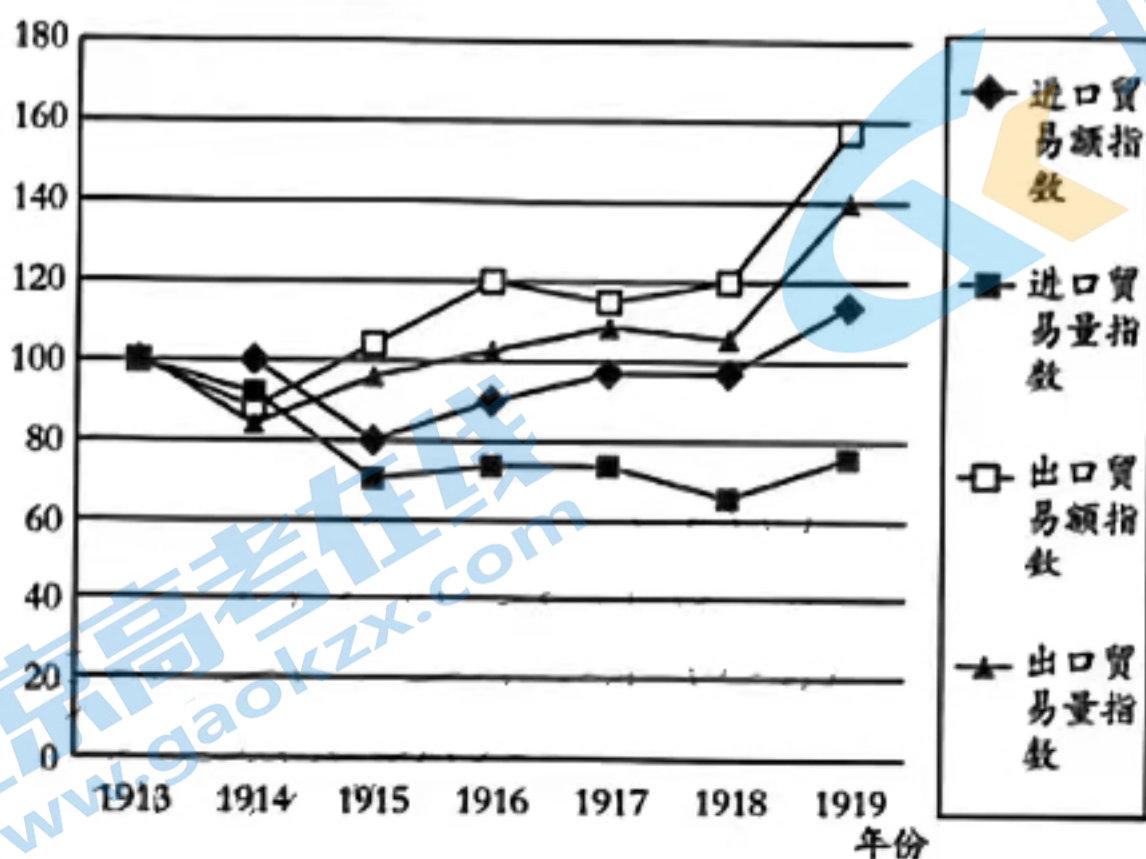
D. 秦国移风易俗最彻底

26. 下表所示是《唐律疏议》中所涉及的文书档案法律条文(部分)。这凸显了唐朝

法令	出处
诸盗官文书印者,徒二年;余印,杖一百	《贼盗律》
诸私发官文书印封视书者,杖六十;制书,杖八十……即误发,视者各减二等;不视者不坐	《杂律》
诸漏泄大事应密者,绞;非大事应密者,徒一年半;漏泄于藩国使者,加一等	《职制律》

- A. 减轻刑罚以人为本
B. 法律制度规范化
C. 注重保护国家机密
D. 文书处理规范高效
27. 明清时期,闽南人大批渡台,从福建南靖梅林迁入台湾的简氏在《丰乐里简氏家谱》中作诗云:“江波源派向东流,寻溯源泉不见休。举眼纷纭南驿路,寄身寂寞古梅州。一行音讯烦君达,片纸家书为我酬。本欲归乡谒我祖,元龟未卜是何秋。”这说明
- A. 族谱编修顺应了大陆移民的需求
B. 大陆移民促进了台湾文化的发展
C. 族谱联结着两岸人民的血缘亲情
D. 海峡两岸居民正常往来受到阻碍
28. 从19世纪40年代到20世纪初,清政府虽然每次战败后均与侵略者签订了割地、赔款、开放商埠或允许在华建厂等丧权辱国的条约,但就其主要倾向来讲,仍是“仇外”“排夷”的。然而,自《辛丑条约》签订之后,清政府对外国的侵略就再也不抵抗了。这一变化
- A. 催生了中国的思想解放潮流出现
B. 加速了列强掀起瓜分中国狂潮
C. 使列强侵华经济方式发生了转变
D. 使中国社会两大矛盾日益合流

29. 下图所示是1913—1919年中国进口和出口贸易量指数与贸易额指数变化(1913年=100)情况。据图中变化可得出,这一时期



- A. 中国对外贸易总额领先世界
B. 中国民族工业得到迅速发展
C. 列强对华商品输出有所增加
D. 工业文明的竞争优势已降低

30. 20 世纪二三十年代的青岛, 市民可以到新舞台欣赏《凤凰山》《霸王别姬》等曲目, 也可以到国民大戏院欣赏《英雄义》《二本哭长城》等曲目。年轻人大多去福禄寿大戏院、共和大戏院等戏院观看充满现代精神的影片。这些影片有国产的, 也有欧美的; 有剑侠片, 也有滑稽片。这反映了当时青岛

- A. 多元包容兼蓄的城市文化
B. 戏曲是文化发展的主推器
C. 追求新思想成为社会时尚
D. 近代化努力收到较大成效

31. 齐锡生在谈 1945 年年底到 1947 年年初马歇尔到华调停国共之争时说, 马歇尔“认为国共只是在争一些小事情。一旦美国人对中国领袖们晓以大义, 后者必定会接受美国的真知灼见。岂知蒋介石和毛泽东都不按照他的开导行事, 这使他大为失望, 铩羽而归”。由此可见, 齐锡生

- A. 反对美国插手中国的内政
B. 指出了美国对华外交狂妄自大
C. 赞赏中国领导人独立自主
D. 揭露了美国“扶蒋反共”的本质

32. 公元前 330 年, 德摩斯梯尼在《祖国没有忘记, 为金冠而辩》的演说中, 巧妙地避开了雅典的败绩, 历数自己对城邦的功德与贡献, 赢得了雅典民众的广泛支持, 也排除了政敌埃斯基涅斯的非难, 赢得了金冠。由此可推知, 当时雅典

- A. 民主原则得以贯彻
B. 城邦体制危机凸显
C. 民主政治缺乏正义
D. 政客左右城邦政局

33. 下面两幅图分别是拉斐尔的《西斯廷圣母》和达·芬奇的《圣母子与圣安妮》。这类作品



- A. 宣扬回归朴素的生活
B. 刻画了人的内心世界
C. 突显宗教画神韵意趣
D. 重构了人与神的关系

34. 美国 1787 年宪法拒绝任何世袭的贵族制度, 规定联邦和各州均不得授予任何贵族爵位, “凡在合众国之下担任领取报酬或负有责任之职务者, 非经国会同意, 皆不得从任何国王、君主或外国接受任何礼物、俸禄、官职或任何种类的爵位”。这一规定旨在

- A. 保障民主共和政体
B. 防止君主专制复辟
C. 维护国会绝对权威
D. 加强联邦政府权力

35. 下表所示是 1761—1851 年英国城市人口、粮食进口数量、粮食总产量变化情况。这些变化出现的主要原因是

时间(年)	城市人口/百万	净进口量指数	粮食总产量指数
1761	6.15	4	124
1781	7.04	0	136
1791	7.71	2	147
1801	8.66	5	159
1831	13.28	12	226
1851	16.74	16	272

- A. 资本主义世界市场已形成
C. 英国工业化进程不断加快

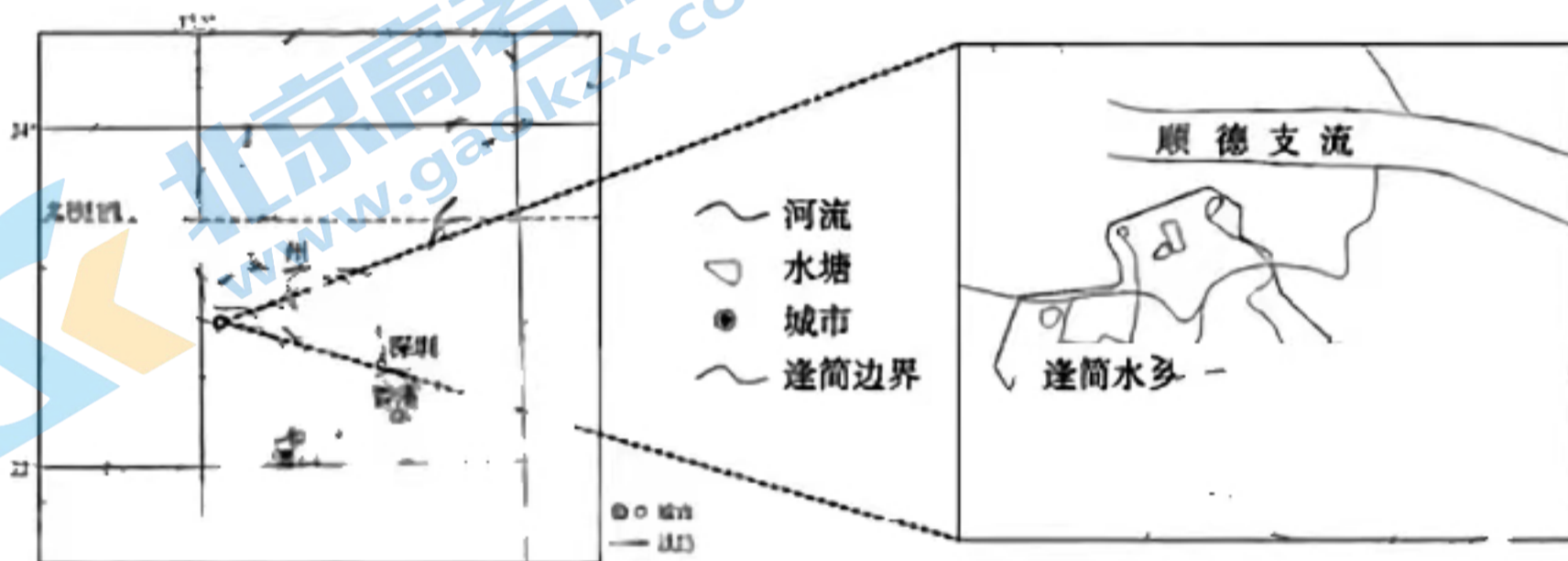
- B. 英国粮食生产逐渐陷入困境
D. 英国城市化进程的基本完成

第 II 卷 (非选择题 共 160 分)

本卷包括必做题和选做题两部分。第 36—42 题为必做题,每道试题考生都必须作答。第 43—47 题为选做题,考生根据要求作答。

36. 阅读图文材料,完成下列要求。(24 分)

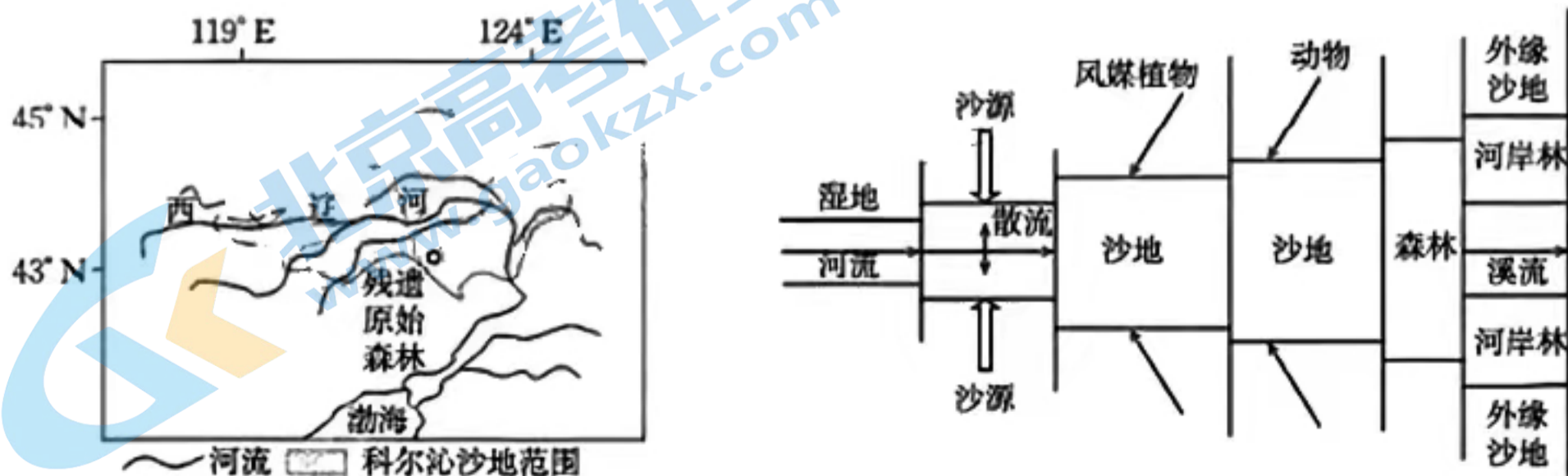
逢简水乡位于珠江口西侧,是历史上“桑基鱼塘”的重要基地之一,以栽桑养蚕为核心,逐渐成为繁荣昌盛的丝绸产地,人地关系协调。20 世纪 80 年代以来,逢简水乡的丝绸产业开始衰败,但水污染反而开始加重。近十年来,逢简水乡加大水环境治理力度,以优美的环境为底色开展产业升级,打造宜居、宜业、宜游的岭南特色小镇。下图示意逢简水乡的位置。



- (1) 分析历史上逢简水乡成为重要丝绸产地的有利条件 (6 分)
- (2) 简述 20 世纪 80 年代以来逢简水乡丝绸产业逐渐衰败的原因。(6 分)
- (3) 丝绸产业衰败后,逢简水污染反而加重,对此做出合理的解释。(6 分)
- (4) 立足水的优势,请你为逢简水乡经济可持续发展提出合理建议。(6 分)

37. 阅读图文材料,完成下列要求。(22 分)

大青沟拥有科尔沁沙地中唯一保存下来的残遗原始森林,生态价值较高。历史上,大青沟流经该地,在气候变化和河流作用影响下,河岸形成沙地。河岸沙地形成后,河道逐渐萎缩,靠风媒扩散的沙地植被群落快速定居。河流彻底改道移走后,该地植被继续演替,植物群落生物多样性增大,动物传播逐渐取代风力传播成为种子传播的主要方式。森林群落成熟后,原来大青沟较低的河床进一步发育成溪流。下列左图示意科尔沁沙地的位置,右图示意大青沟植物群落形成及环境演变模式。



- (1)与大青沟河岸沙地形成时期相比,推测大青沟原始森林形成时期的气候特征。(4分)
- (2)简述大青沟河岸沙地能发育植被的自然条件。(6分)
- (3)分析大青沟植被演替过程中种子传播方式发生改变的原因。(6分)
- (4)说明植被促进溪流发育的机制。(6分)

38. 阅读材料,完成下列要求。(12分)

S县山地众多,昼夜温差大,土壤富含稀土元素,非常利于优质黄桃生长。当地黄桃产业自2011年起发展至今已成为国家农产品地理标志保护产品。全县已建成现代化的黄桃果汁生产厂、果酒加工厂、桃干加工厂等100余家企业,开发出果汁、罐头、黄桃米酿、果酒、糕点等衍生产品,年加工产值达5亿元。目前全县电商已达5000余户,在大型线上平台设店340家,当地黄桃65%以上通过线上平台销售。从省内走到省外,从南方销往北方,越来越多的知名商超和电商平台选择该县黄桃产品。该县还推行“公司+基地+合作社+农户”的模式,共吸引6万多人加入黄桃产业中,并将“体验采摘”“品黄桃宴”“住特色民居”等深度结合,打造出集“体验、休闲、采摘、批量销售”等为一体的黄桃产业链,走出了一条独具特色的产业发展之路。

结合材料,运用经济生活知识,说明S县是如何将小黄桃做成大产业的。

39. 阅读材料,完成下列要求。(14分)

《“十四五”现代流通体系建设规划》提出,加快发展智慧物流。与传统物流不同,智慧物流让物流系统通过传感器获取各种末端信息,然后将信息通过互联网传输到数据中心进行相应存储和处理,进而指挥各个物流环节执行相应操作。近年来,我国智慧物流快速发展。随着居民生活水平的不断提高,人们越来越向往更高效的物流服务,在此背景下,各类支持政策密集出台,引导物流业加速智能化升级。

智慧物流	运输环节	通过搭建货运互联网平台,实现货运供需信息在线对接和实时共享
	仓储环节	通过开发智能仓库管理系统,加强仓储信息集成、挖掘、跟踪与共享,实现进出货无缝对接和订单精准处理
	配送环节	借助互联网平台搭建城市配送运力池,发展共同配送、集中配送、智能配送等先进模式
	货运场站(园区)管理环节	通过对传统货运场站(园区)进行数字化改造,实现货物周转全程可视化、自动化、智能化,将依靠经验判断和人工操作的传统管理模式转变为大数据辅助决策和自动化操作

结合材料,运用经济生活知识,说明我国智慧物流快速发展的原因,并分析加快发展智慧物流的意义。

40. 阅读材料,完成下列要求。(26分)

材料一

流动摊贩是城市商业的组成部分。街巷叫卖声、夜市家乡味,是许多人的美好记忆。居民生活改善了,对小摊贩的需求也在改变。例如,既要享受农户自种蔬菜的新鲜,又希望有

类似商超的食品安全保障；既青睐夜市的热闹，又渴望城市的干净。2023年8月，上海正式实施《关于进一步规范设摊经营活动的指导意见（试行）》。在开放设摊经营区域前，上海向市民发放1.2万余份问卷征求意见，最终提出多项禁止性要求，如不得影响行人通行、不得影响周边环境等。

材料二

近年来，为用好复议化解行政争议、助企解难的功能，深圳通过复议工作搭建好行政机关和企业的沟通桥梁，在个案中利用函询调查、听证、召开座谈会等方式倾听企业对行政执法的意见和建议，共促行政争议实质化解；同时，充分发挥行政复议“刀刃向内”“有错必纠”的监督功能。2022年，深圳市行政复议直接纠错率为7.71%。对于简单的复议案件，深圳力促简案速办。如今在深圳，企业和群众不仅可以现场申请、邮寄申请、上级转办行政复议，而且足不出户也可以在网上申请复议、查询案件审理进度、参加听证、参与案件调查。目前，深圳全面推行行政复议文书网上公开的“阳光复议”制度，让发生法律效力的行政复议文书在网上公开。2022年，深圳市本级经过复议的行政争议近90%实现案结事了。

- (1) 民主协商是化解城市流动摊贩治理难题的有益途径。结合材料一，运用政治生活知识对此加以说明。（10分）
- (2) 结合材料二，运用政治生活知识，说明深圳是如何做好行政复议工作、助企解难的。（12分）
- (3) 城市治理需要获得人民群众的理解、支持和配合。结合上述材料，为城市治理拟定两条宣传标语。要求言简意赅，每条标语限20字以内。（4分）

41. 阅读材料，完成下列要求。（25分）

材料一

严复是最先在中国发扬德、智、体三育并重的维新人士，他很看重体育，认为“今者论一国富强之效，而以其民之手足体力为之基”。康有为在《大同书》中，较系统全面地提出了各级学校体育应有的措施。梁启超认为要使国家富强，“条理万端，皆归本于学校”，他也认为“尚武”是新国民的特性之一，因此他非常重视尚武精神和学校体育。这些思想对于近代学校体育的兴起起到了巨大的作用。

——摘编自王子琪《中外学校体育发展史的比较研究》

材料二

卢梭对古典主义教育残害人的心智发展深恶痛绝，他认为体育是一切教育的前提。他继承洛克体育教育应遵循“顺应自然与理性约束的原则”的思想，以自然状态为标准开展体育教育活动，他选择设定乡村为儿童成长环境，因为乡村的自然环境更接近自然状态。他将“身体——感官教育”作为儿童教育重点，强调教育者必须注重儿童的身体锻炼，主张遵循儿童的自然天赋和自然意志训练官能。卢梭站在社会意义视角，认为体育教育要磨炼人的意志品格，以此抵制过剩体力带来的妄动，抵御邪念的无限发展，最大程度上保持人类“生理”与“道德”上的孤独，成为身心健全的人

——摘编自吴永全、陆小聪《扭曲的身体与自然的体育——卢梭体育教育观的整体面向》

- (1) 根据材料一并结合所学知识，指出晚清时期体育教育思想的特征并分析其成因。（10分）
- (2) 根据材料二并结合所学知识，概括卢梭体育教育观的主要内容及意义。（10分）
- (3) 根据材料一、二并结合所学知识，谈谈应如何促进学校体育教育的健康发展。（5分）

42. 阅读材料,完成下列要求。(12分)

材料

下表所示是中国古代关税征收的变化情况。

朝代或时期	主要表现
春秋时期	“关市之征”开始出现,“关”位于国境,“市”则在国境之内。齐国管仲主张关市省征,实行低关税,且不能重复征税。晋国也实行“轻关易道”的政策
战国时期	秦国商鞅变法后,实行关市重征政策
秦代	制定《关市律》规范关税、市税的征收
汉代	汉初一度免征关市税。汉武帝时期,在国内开征较重的关税,后来又在北部国境征收关税。边关既有军事防御的作用,也具有征收关税的职能。这一时期的“关”主要在北方
唐代	在广州始设市舶使,是管理对外贸易的专门机构,对外国商船征收关税
宋代	在广州、明州、泉州等地设立市舶司,制定“元丰广州市舶条”,是中国历史上第一个外贸专项法规,关税成为重要财源之一
明代	因日本使节争贡事件而取消市舶司
清代前中期	一度设立澳门、漳州、宁波、灵台四海关,后改为广州海关。颁布《粤海关税则》,是中国历史上第一部海关税则,对关税的征收作了详尽的规定

摘编自祝凤梧《中国古代关税漫谈》

提取材料信息,围绕“中国古代的关税”自拟论题,并结合所学知识予以阐述。(要求:论题明确,表述成文,史论结合,逻辑清晰。)

请考生从2道地理选考题、3道历史选考题中每科任选一题作答。如果多做,则每科按所做的第一题计分。

43. [地理——选修3:旅游地理](10分)

新疆和田古称“于阗”,约特干是于阗古国的都城,集中了于阗古国的历史和文化精髓。2022年,一座复刻古于阗文明的约特干故城在当地政府的扶持下建成,成为和田一处新的旅游目的地。每天晚间21点(暑假期间为22点),约特干故城推出大型沉浸式主题演出,随着剧情的推进,工作人员扮成古于阗人融入游客当中。目前,约特干故城主要依赖演艺门票收入,相关配套产业发展缓慢,游客通常直奔主题演出而来,演出结束便返回。

简述约特干故城沉浸式主题演出开始时间较晚的原因,并立足演出前后的不同时段为沉浸式演出衍生配套产业提出建议。

44. [地理——选修6:环境保护](10分)

加强青藏高原“中华水塔”保护,加大封育保护力度,因地制宜实施林草植被恢复等预防保护措施,提高林草植被综合覆盖度,提升生态系统自我修复能力和稳定性。以长江上中游、黄河上中游、东北黑土区、西南岩溶石漠化区、三峡和丹江口库区等为重点,因地制宜推进坡耕地、淤地坝、侵蚀沟、崩岗治理等工程,采取工程措施和生物措施相结合的方式,综合防治水土流失,提升治理效益。以流域为单元,以山青、水净、村美、民富为目标,统筹配置沟道治理、生物过滤带、水源涵养、封育保护、生态修复等措施,打造生态清洁小流域。

——摘自《国家水网建设规划纲要》(“推进水源涵养与水土保持”片段)

说明“推进水源涵养与水土保持”片段中蕴含的因地制宜思想。

45. [历史——选修 1:历史上重大改革回眸](15 分)

材料

北魏前期,黄河流域经历了长期的战争,土地荒芜,人口锐减,生产凋敝,民不聊生。许多农民不得不投靠大族豪强,沦为荫附户。荫附户不承担国家的赋税徭役,其负担必然要转嫁到其他劳动人民的身上;而大族豪强对荫附户实行残酷剥削,荫附户也苦不堪言,社会阶级矛盾不断激化。“世祖(拓跋焘)经略四方,内颇虚耗,既而国祚时艰,朝野楚楚”,这就是文成帝继位时面临的社会现实。文成帝(440—465 年)曾经派出二十多批官员巡视州郡,检查地方垦田、徭赋、吏治和刑法。他五次发诏惩治贪官污吏,并一度减轻赋税,免收相当于常赋一半的杂调。这些措施虽然有一定的作用,但是收效甚微。

——根据司马光《资治通鉴》整理

(1)根据材料并结合所学知识,分析北魏文成帝改革的背景。(6 分)

(2)根据材料并结合所学知识,简要评价北魏文成帝改革。(9 分)

46. [历史——选修 3:20 世纪的战争与和平](15 分)

材料

冷战期间,阿富汗作为战略资源和战略位置极其重要的中东边缘地区,成为苏联大规模渗透的对象。1978 年,阿富汗国内政局动荡不安。苏共高层作出了出兵阿富汗推翻阿明政权,扶植卡尔迈勒傀儡政府的决策。苏联出兵后,非但没有实现巩固阿富汗亲苏政权的目,反倒因自己“入侵者”的角色,激起阿富汗伊斯兰抵抗力量的扩大与联合,加上美国、巴基斯坦、伊朗和沙特等国的介入,战争陷入长期化。1988 年,苏联国内局势急剧恶化,急于摆脱在阿富汗的困境,政治解决阿富汗问题的步伐明显加快,最终达成日内瓦协议。苏军撤出后,阿富汗由于日内瓦协议的不完整性、模糊性陷入内战,国家和平、民族和解、难民返回等旧有问题还没解决,毒品、恐怖主义等新问题随之而来。

——摘编自李晓亮《阿富汗战争:苏联高层决策研究(1979—1989 年)》

(1)根据材料并结合所学知识,分析苏联入侵阿富汗的原因。(6 分)

(2)根据材料并结合所学知识,指出苏联入侵阿富汗的结局及其教训。(9 分)

47. [历史——选修 4:中外历史人物评说](15 分)

材料

20 世纪 60 年代初,刘少奇向党中央提出试办托拉斯的建议。1965 年,刘少奇在听取托拉斯试办工作座谈会时指出:办托拉斯,资本主义和社会主义都给我们提供了一些参考资料,但都没有完整的经验,要我们自己创造。可以考虑托拉斯有三种形式:一种是人权、财权、物权全部统,工厂全部收;另一种是只统一计划、价格、原材料供应和产品销售;第三种是只管计划,安排任务,交流经验。恐怕几种形式都要有,只一种不行。总的目的,是要把经济组织起来。组织起来,就可以搞专业化、标准化、系列化,提高质量,增加品种,降低成本,提高劳动生产率。这样对国家有利,对地方有利,对整个社会都有利。

——摘编自《刘少奇选集》

(1)根据材料并结合所学知识,指出刘少奇主张试办托拉斯的背景。(6 分)

(2)根据材料并结合所学知识,简析刘少奇主张试办托拉斯的意义。(9 分)

关于我们

北京高考在线创办于 2014 年，隶属于北京太星网络科技有限公司，是北京地区极具影响力的中学升学服务平台。主营业务涵盖：北京新高考、高中生涯规划、志愿填报、强基计划、综合评价招生和学科竞赛等。

北京高考在线旗下拥有网站门户、微信公众平台等全媒体矩阵生态平台。平台活跃用户 50W+，网站年度流量数千万量级。用户群体立足于北京，辐射全国 31 省市。

北京高考在线平台一直秉承“精益求精、专业严谨”的建设理念，不断探索“K12 教育+互联网+大数据”的运营模式，尝试基于大数据理论为广大中学和家长提供新鲜的高考资讯、专业的高考政策解读、科学的升学规划等，为广大高校、中学和教科研单位提供“衔接和桥梁纽带”作用。

平台自创办以来，为众多重点大学发现和推荐优秀生源，和北京近百所中学达成合作关系，累计举办线上线下升学公益讲座数千场，帮助数十万考生顺利通过考入理想大学，在家长、考生、中学和社会各界具有广泛的口碑影响力

未来，北京高考在线平台将立足于北京新高考改革，基于对北京高考政策研究及北京高校资源优势，更好的服务全国高中家长和学生。

推荐大家关注北京高考在线网站官方微信公众号：**京考一点通**，我们会持续为大家整理分享最新的高中升学资讯、政策解读、热门试题答案、招生通知等内容！

