

高三文科综合

考生注意：

1. 本试卷分选择题和非选择题两部分。满分 300 分，考试时间 150 分钟。
2. 答题前，考生务必用直径 0.5 毫米黑色墨水签字笔将密封线内项目填写清楚。
3. 考生作答时，请将答案答在答题卡上。选择题每小题选出答案后，用 2B 铅笔把答题卡上对应题目的答案标号涂黑；非选择题请用直径 0.5 毫米黑色墨水签字笔在答题卡上各题的答题区域内作答，超出答题区域书写的答案无效，在试题卷、草稿纸上作答无效。
4. 本试卷主要命题范围：高考范围。

一、选择题：本题共 35 小题，每小题 4 分，共 140 分。在每小题给出的四个选项中，只有一项是符合题目要求的。

新能源汽车具有节能环保、使用成本低、智能程度高等优点，受到越来越多的消费者青睐。受国家产业政策、配套设施、消费偏好等因素影响，不同国家新能源汽车发展有较大差异。下表示意 2017~2022 年部分国家新能源汽车市场渗透率(单位：%)变化(含预测)，新能源汽车渗透率=新能源汽车销量/汽车总销量 $\times 100\%$ 。据此完成 1~3 题。

年份 国家	2017 年	2018 年	2019 年	2020 年	2021 年	2022 年(预测)
中国	2	4	4	5	13	23
德国	1	2	3	13	23	24
法国	2	2	2	9	14	17
挪威	29	38	42	58	70	70
美国	1	2	2	2	4	7
日本	1	1	1	1	1	2
韩国	1	2	2	1	4	7

1. 图中信息显示

- A. 中国新能源汽车发展势头良好
B. 挪威新能源汽车潜在市场最大
C. 渗透率与经济发展水平成正比
D. 渗透率与经济发展速度成反比

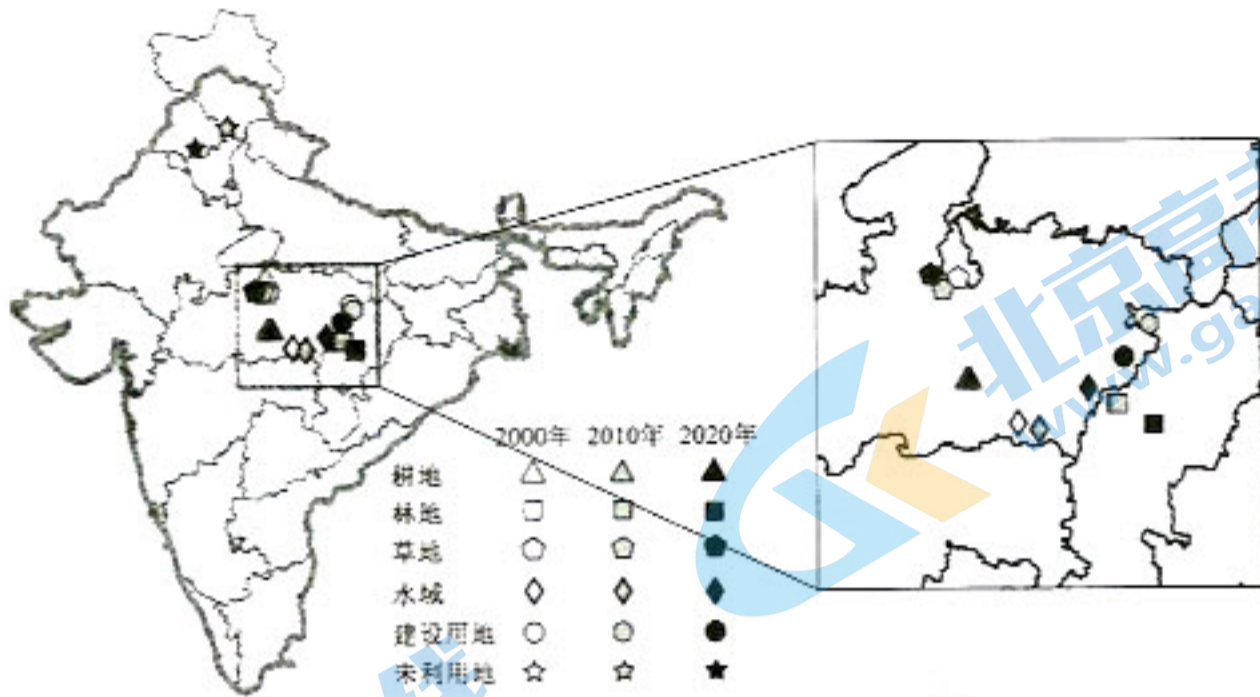
2. 2021 年中国新能源汽车渗透率小于德国，但是销售量远大于德国，主要是因为

- A. 中国新能源汽车市场庞大
B. 中国新能源汽车价格较低
C. 德国新能源汽车市场饱和
D. 德国新能源汽车出口量大

3. 近年来，中国新能源汽车在欧洲市场的渗透率不断提高，主要得益于

- A. 政府补贴多
B. 知名度高
C. 生产能力强
D. 性价比高

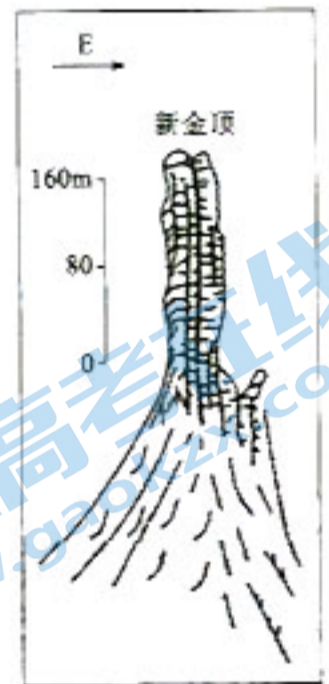
印度是全球增长最快的新兴经济体，作为世界耕地大国和农业大国，其土地利用格局演化对全球粮食安全和可持续发展意义重大。下图示意 2000~2020 年印度主要土地利用类型重心迁移情况。据此完成 4~6 题。



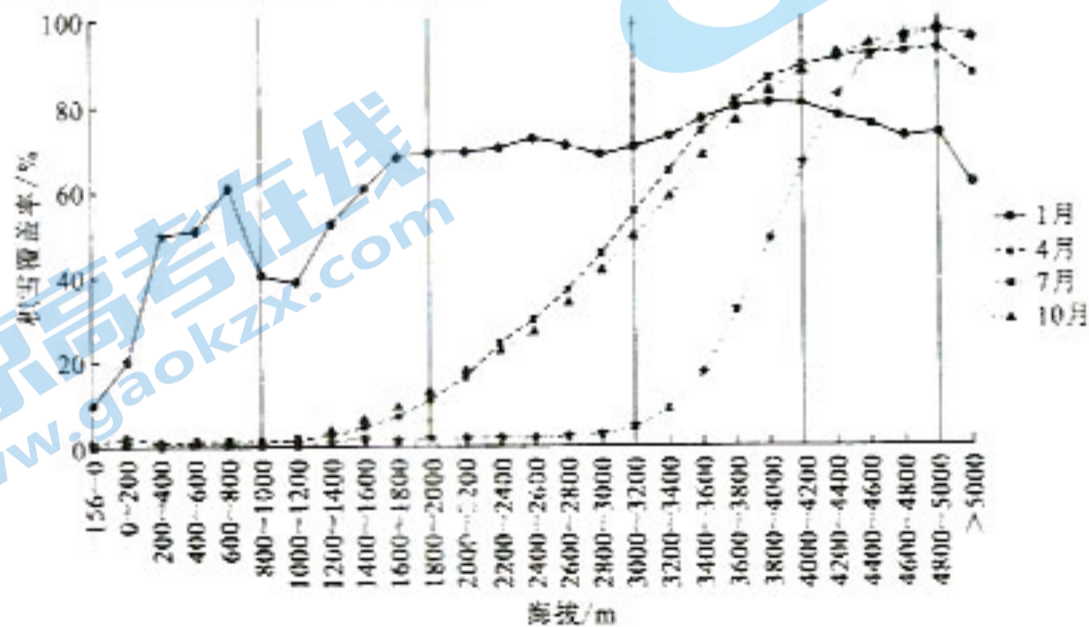
4. 下列印度的土地利用类型中,2000~2020年重心位置最为稳定的是
 A. 草地 B. 林地 C. 耕地 D. 建设用地
5. 2000~2020年印度水域重心向东北方向迁移,其原因可能是
 ①全球气候变暖 ②水域面积分布较为均匀 ③东北季风强度增强 ④西南季风强度增强
 A. ①③ B. ①④ C. ②③ D. ②④
6. 2000~2020年印度西南部城市
 A. 出现逆城市化现象 B. 林地转化为建设用地最多
 C. 城镇化速度比较快 D. 未利用土地面积持续增加

梵净山是武陵山脉主峰,山体主体为古老的层状变质岩,周围由碳酸盐岩为主的喀斯特地貌环绕。梵净山山体庞大雄浑,状似穹窿,出露地层大致沿该穹窿向周缘变新。新金顶是梵净山主体三大峰之一,海拔2336m,四面悬崖峭壁,整体呈柱状。右图示意梵净山新金顶素描。据此完成7~8题。

7. 梵净山山体主体属于
 A. 向斜 B. 背斜
 C. 地垒 D. 地堑
8. 梵净山主峰新金顶柱状形态得以保留的主要影响因素是
 A. 岩石类型 B. 地壳运动
 C. 裂隙发育 D. 岩石厚度



积雪覆盖率表示积雪覆盖面积占区域总面积的百分比,其变化与海拔、降水量(降雪量)、坡向、坡度、风等密切相关。天山是我国三大稳定积雪区之一,其积雪覆盖率随季节和海拔有明显的差异。下图示意2001~2018年天山不同海拔分区积雪覆盖率年内平均变化情况。据此完成9~11题。



9. 2001~2018年,天山积雪覆盖率

①总体随海拔升高而增加 ②总体随海拔升高而降低 ③夏季随海拔波动变化较显著 ④冬季随海拔波动变化较显著

A. ①③ B. ①④ C. ②③ D. ②④

10. 气温对天山7月和10月积雪覆盖率垂直变化影响最大的海拔区间是

A. 1000m以下 B. 2000~3200m C. 3200~4200m D. 4200~5200m

11. 冬季海拔大于5000m地区的积雪覆盖率下降速率大于夏季,其主要原因可能是

A. 气温较低 B. 降雪量较大 C. 坡度较小 D. 风力较大

12. 2022年以来,S省坚持把促消费作为稳增长稳预期的重要手段,创新思路与方法,全面提振消费信心,释放消费潜力。其中,借助东方甄选助农直播“网上年货节”“618双品网购节”“金秋双节直播季”等网络促销活动,前三季度全省网上零售额达到4780.6亿元,同比增长9.7%,成为推动全省消费回暖的重要推动力量。S省的做法意在

①打造绿色产业链,促进居民的消费结构升级 ②挖掘消费的巨大潜力,培育经济发展新动能 ③搭建消费平台,推动线上线下消费融合发展 ④营造良好消费环境,引导居民科学理性消费

A. ①② B. ①④ C. ②③ D. ③④

13. 2022年11月1日起《促进个体工商户发展条例》开始施行。该条例聚焦当前个体工商户发展过程中面临的突出困难,作出有针对性的安排。内容包括:引导和支持个体工商户加快数字化发展,提升线上经营能力;加大对个体工商户的字号、商标、专利、商业秘密等权利的保护力度;规定任何单位和个人不得违反法律法规和国家有关规定向个体工商户收费或者变相收费等。该条例的施行有利于

①巩固我国社会主义基本经济制度的基础 ②发挥个体经济是经济发展的生力军作用 ③优化营商环境,激发公有制经济的活力 ④增强个体工商户进行创新创业的积极性

A. ①③ B. ①④ C. ②③ D. ②④

14. 近年来,我国医保目录谈判力度不断加大。截至2021年底,14.2万家医药机构供应谈判药品,国谈药全年累计惠及患者1.4亿人次、为民减负1500亿元。2022年国家医保药品目录调整,对罕见病用药开通单独申报渠道,已有45种罕见病用药被纳入国家医保药品目录。国家此举

①有利于降低群众用药成本,惠民利民 ②可以增强医保药品的功能性和经济性 ③提升了我国基本医疗保障的服务能力 ④有效规避了医保药品市场交易的弊端

A. ①② B. ①③ C. ②④ D. ③④

15. 没有人会想到,10年后的中国汽车制造商会颠覆汽车市场。如今,越来越多的中国汽车品牌正加速走向全球。根据中国海关总署统计,2022年前八个月,中国汽车出口达191万辆,超越德国,仅次于日本,中国汽车出口量赶日超德,十年时间差距缩小一半。可见,我国

①贸易顺差持续扩大,竞争力增强 ②实现了从引进来向走出去的转变 ③是全球经济恢复增长的支撑力量 ④经济发展的内外联动性不断增强

A. ①② B. ①④ C. ②③ D. ③④

16. 针对近年来频繁发生的未成年人的高额打赏行为等类似现象,2022年5月,中央文明办等四部门发布《关于规范网络直播打赏加强未成年人保护的意见》,明确禁止未成年人参与直播打赏。2022年7月18日,中央网信办等五部门启动“清朗·2022年暑期未成年人网络环境整治”专项行动,严厉查处诱导未成年人参与直播打赏的现象。上述举措

①彰显出我国坚持以人民为中心的理念 ②可以提升我国未成年人的主人翁地位 ③体现了我国政府履行文化建设的职能 ④旨在行使专政职能以增强政府威慑力

A. ①③ B. ①④ C. ②③ D. ②④

17. 在基层治理过程中,公共法律服务是一道硬门槛。某社区活跃着一支“法律明白人”队伍,该区按照“每个网格至少2人”的要求,先后遴选社区“法律明白人”2181人,积极参与乡村治理、人民调解、普法宣传等工作。近两年来,该社区“法律明白人”共预防、化解各类社区矛盾纠纷500多起。该社区这一做法带来的影响是
- ①探索法治中国建设的有效路径 ②促进司法机关下沉服务办实事 ③为基层政府充实更多专业人才 ④推动基层治理法治化、专业化
- A. ①② B. ①④ C. ②③ D. ③④
18. 2022年10月27日,国防部新闻发言人在答记者问时表示,美方近期不断炮制损害中国主权的涉台政策法案,变本加厉搞“以台制华”,特别是有的条款意在强化美台军事联系,支持所谓台湾“自我防卫”。这些行径严重干涉中国内政,严重违反一个中国原则和中美三个联合公报规定,严重违背美方在台湾问题上对中方的严肃政治承诺,我们对此坚决反对,已向美方提出严正交涉。由此可推出
- ①主权是构成国家的基本要素具有至高无上性 ②台湾问题属于中国内政,国家统一不容挑衅 ③以和平方式解决国际争端是主权国家的义务 ④台湾作为中国地方行政区域已成为世界共识
- A. ①② B. ①③ C. ②④ D. ③④
19. 2022年9月27日,主题为“人类文明多样性与人类共同价值”的2022中国(曲阜)国际孔子文化节第八届尼山世界文明论坛在山东曲阜举行,600余名专家学者、嘉宾代表以线上和线下相结合的方式相聚,共赴一场思想盛宴、文明之约。本届论坛下设“文化交融发展与人类共同价值”“人类共同价值与全球治理”等9个分论题,举办了14场主论坛学术交流活动。本届论坛的举办有利于
- ①增强世界各国人民对中华文化的认同感 ②依托文化交流为人类文明进步注入新力量 ③传播中华文化,增强中华文明的影响力 ④统一人类的价值观,促成共同的人类价值
- A. ①③ B. ①④ C. ②③ D. ②④
20. 为老、为小、为困难群体、为需要心理疏导和情感慰藉群体、为社会公共需要服务,是新时代文明实践志愿服务的重中之重。某县有9万多名志愿者活跃在“五为”志愿服务活动一线,精准对接群众需求,用行动践行着“奉献、友爱、互助、进步”的志愿服务精神,也让越来越多群众由参与者变身为志愿者,成为热心公益的带头人。可见,“五为”志愿活动
- ①有利于提高人们道德修养和科学修养 ②是全面传承中华优秀传统文化的重要载体 ③汇聚了社会爱心力量,共创文明新风 ④推动了新时代文明实践工作成风化俗
- A. ①② B. ①④ C. ②③ D. ③④
21. 恩格斯说:“马克思的整个世界观不是教义,而是方法。它提供的不是现成的教条,而是进一步研究的出发点和供这种研究使用的方法。”列宁指出:“马克思的理论所提供的只是总的指导原理,而这些原理的应用具体地说,在英国不同于法国,在法国不同于德国,在德国又不同于俄国。”由此可见
- ①马克思主义为中国特色社会主义实践提供遵循 ②真理是具体的、不确定的,总有它的适用范围 ③本土化、时代化的理论才能放射出真理的光芒 ④马克思主义是各国社会性变革的具体行动指南
- A. ①② B. ①③ C. ②④ D. ③④
22. 很多人只看到冬奥会上“天才少女”谷爱凌的成功夺冠,却没有看到她从3岁就开始练习滑雪,也没有看到别的孩子快乐玩耍的时候她一次次的摔倒和一次次的咬牙坚持。没有昨天的辛苦,哪有今天的荣耀?经历了千锤百炼,才成就了今天的“天才少女”。谷爱凌的成长历程启示我们
- A. 把握质量互变规律,在旧质基础上开始新量变
B. 坚持适度原则,要把量变控制在一定程度之内
C. 重视量的积累,积极地为事物的质变创造条件
D. 知晓质变就是发展的道理,果断促成一切质变

23. 2022年10月30日,十三届全国人大常委会第三十七次会议表决通过新修订的妇女权益保障法。针对当前升学就业、财产分配、人身权利等领域侵害妇女合法权益的问题,新修订的妇女权益保障法做出了积极回应。明确了推进性别平等理念、消除实际存在的性别歧视两类目标任务,特别是明确了性别歧视的基本判断标准,将增强法律的可操作性。上述修订旨在
- ①发挥先进社会意识对社会发展的推动作用 ②改革现有生产关系,更好促进生产力发展 ③调整上层建筑以适应经济基础的发展状况 ④通过立法确立妇女是社会历史发展的主体
- A. ①③ B. ①④ C. ②③ D. ②④

24. 下表是春秋战国时期部分思想家的君臣观。据此可知,这一时期

思想家	君臣观
孔子	“以道事君”
墨子	“官无常贵,民无常贱”“选天下之贤可者,立以为天子”
韩非子	“君臣之交,计也”

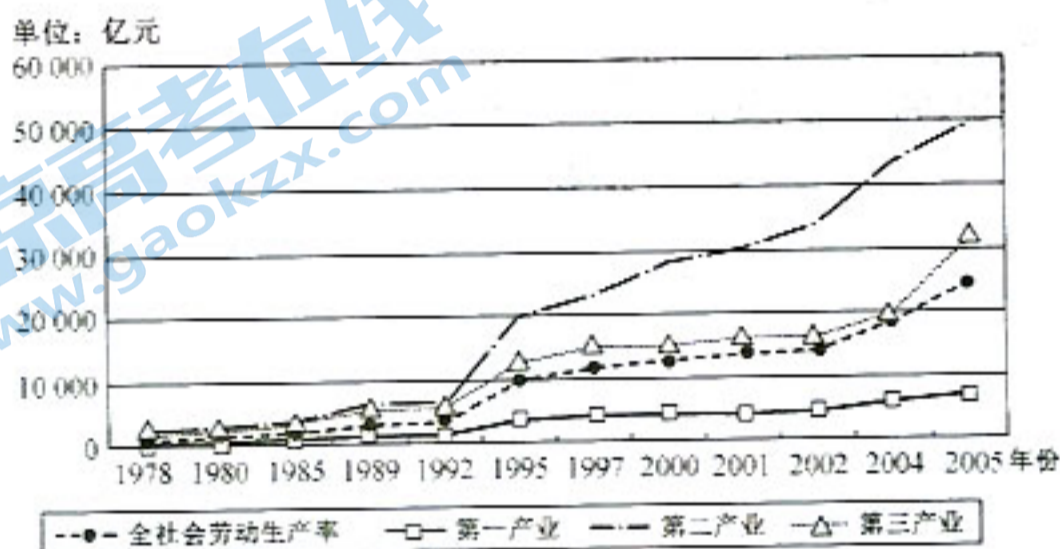
- A. 中华文化呈现出多元一体特征
B. 三者的君臣观均植根于其核心理论
C. 诸子百家之间的争鸣日趋激烈
D. 诸子百家思想具有同源异流的特征
25. 《汉书》记载:“监御史,秦官,掌监郡”,其主要职责是监察,但也被赋予了其他权力,如带兵作战、开渠、治狱等。汉武帝“置部刺史,掌奉诏条察州,秩六百石,员十三人”,刺史代表中央监察地方,没有固定的治所,岁末亲自去京师奏事。这一变化
- A. 保障了吏治的清明与高效 B. 使古代监察体系得以完善
C. 埋下汉末分裂割据的隐患 D. 有利于加强对地方的控制
26. 唐《杂令》规定:“诸诉田宅、婚姻、债务,起十月一日,至三月三日检校,以外不合。若先有文案,交相侵夺者,不在此例”。唐玄宗时,“诏不急之务,一切且停,待至农闲,任依常式”。这些规定
- A. 体现了法律儒学化趋势 B. 推动了唐朝商品经济发展
C. 意在维护农业生产稳定 D. 说明古代政治服务于农业
27. 清廷延揽晚明遗老、饱学之士参与《明史》的修撰。与以往大书崇祯帝失德之举不同的是,《明史》“言及崇祯,皆谓其不曾失德,谓明之亡,实亡于神宗”。“盖天命有归,莫之为而为者矣”。据此可知,清廷撰修《明史》旨在
- A. 承继修史传统 B. 保存历史记忆
C. 构建政治认同 D. 倡导实学学风
28. 有学者说:“‘大清’与‘天国’的搏斗演化为新兵器、新军制乃至新制度的竞争。太平天国一度承诺不进攻通商口岸,而始终将炮口对准清王朝;清王朝筹办洋务以‘灭发、捻为先,治俄次之,治英又次之’。”该学者意在强调
- A. 阶级斗争客观上促进了中国的近代化 B. 思想文化冲突影响太平天国运动
C. 太平天国是空想性和进步性的统一体 D. 太平天国加剧中国半殖民化程度
29. 严复指出,讲自由,则不可以不明平等,“天之生蒸民,无生而贵者也”。在西方国家,以少数服从多数为治国之道,“西之教平等,故以公治众而贵自由”。由此可知,严复意在
- A. 强调维新变法的重要性 B. 宣传西方自由平等
C. 利用自由平等宣传变法 D. 反对封建等级制度

30. 下面是 20 世纪 40 年代中国共产党的政权建设情况统计表。这说明

时间	表现
1940 年	中国共产党在陕甘宁边区实行的“三三制”政权组织形式提出了“协商建立民主政权”的理念
1948 年	中共中央明确提出：“各民主党派、各人民团体、各社会贤达迅速召开政治协商会议，讨论并实现人民代表大会，成立民主联合政府”
1949 年	第一届中国人民政治协商会议召开，确立了未来的新国家将在民主协商的政治框架下运行，确立了民主建政、协商建国的施政方针和立国原则

- A. 中国共产党探索民主协商机制
B. 时局变化影响中共政策制定
C. 中国特色政党制度在逐步确立
D. 新民主主义的政权不断完善

31. 下图反映了 1978~2005 年我国三大产业劳动生产率的变动趋势。出现大幅变化的主要原因是



- A. 国有企业改革全面展开
B. 社会主义市场经济体制逐步确立
C. 城乡经济发展结构合理
D. 改革开放调动了人们建设积极性

32. 古希腊悲剧大师欧里庇德斯说：“城邦属于群众时，个人就会为了自己的利益，用语言吹捧、迷惑群众，也许能暂时有利于群众，可是一旦出现错误，他就会通过诽谤别人来隐藏自己的错误，逃避惩罚，然而群众却可能毫无辨别。”这说明古希腊

- A. 城邦政治推崇人民主权
B. 民主政治具有虚伪性特征
C. 直接民主制的弊端明显
D. 公民群体缺乏理性的精神

33. 某学者在《向西殖民论》中说：“如果英国人在北美及时建立殖民地，那就可以阻止西班牙占领整个美洲；如果能够利用美洲的资源建设一支强大的海军，那就能够摧毁西班牙强大的舰队，最终打击西班牙的嚣张气焰，支持反罗马天主教的伟大事业。”这可用于说明

- A. 西欧工业国家对美洲的争夺
B. 英国殖民扩张的动因
C. 英西战争的爆发具有必然性
D. 资本主义扩张的本性

34. 18 世纪上半叶，喜歌剧内容不再反映王公贵族的生活而是以平时生活中的小人物、社会中下阶层为主要表现对象，赞扬他们聪明、热情、公正、智慧，拥有巨大的力量，总是能战胜邪恶势力，取得胜利。由此可见，这一时期的喜歌剧创作

- A. 深受启蒙思想的影响
B. 号召推翻封建制度
C. 凸显工业革命的弊端
D. 符合浪漫主义风格

35. 有学者指出：“由民族国家做出的对紧随工业生产而来的社会转型的反应，就是把问题本土化，也就是把种种世界性的力量和由失控的社会带来的种种威胁都变成民族国家范围之内的问题。”该学者旨在强调


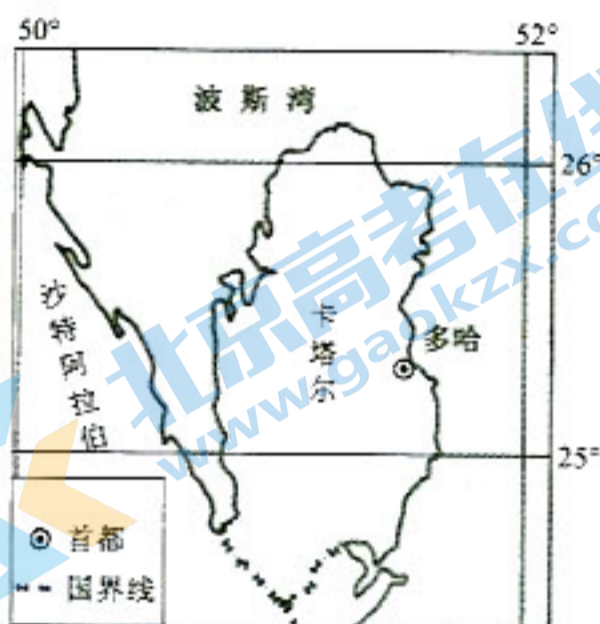
- A. 全球化趋势使世界联系密切
B. 传统的全球治理模式已经过时
C. 国际经济秩序日益走向混乱
D. 主权国家应积极参与全球治理

二、非选择题:共 160 分。第 36~42 题为必考题,每个试题考生都必须作答。第 43~47 题为选考题,考生根据要求作答。

(一)必考题:共 135 分。

36. 阅读图文材料,完成下列要求。(22 分)

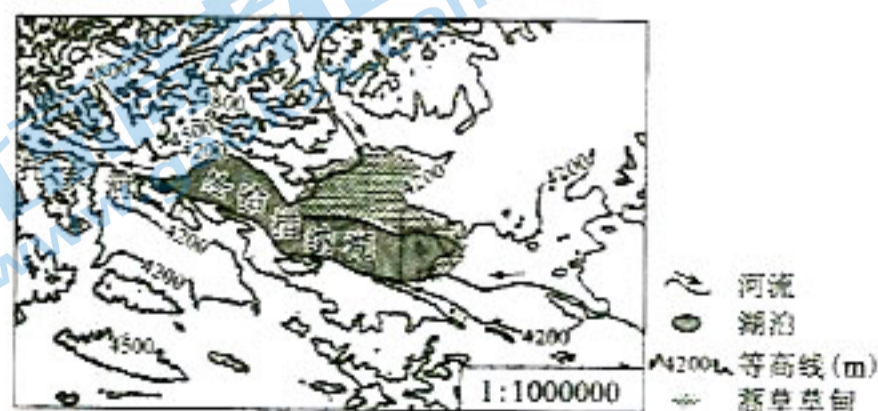
当地时间 2022 年 10 月 18 日上午,2022 年卡塔尔世界杯赛事电力供应来源之一,由中国电力建设集团总承包的卡塔尔阿尔卡萨 800 兆瓦光伏电站项目顺利投产。该光伏电站选址于首都多哈以西 80 千米的荒漠中,园区占地 10 平方千米,是卡塔尔首座非化石燃料发电站,也是中东地区最大的光伏电站之一。该项目全部采用中国设备,投产后可满足卡塔尔峰值电力需求的 10%,预计将在其生命周期内减少 2600 万吨的碳排放,有力支撑了卡塔尔举办“碳平衡”世界杯的承诺。下图示意卡塔尔位置及阿尔卡萨 800 兆瓦光伏电站景观。



- (1) 卡塔尔油气资源丰富,但仍注重太阳能等清洁能源开发。试说明原因。(6 分)
- (2) 简述阿尔卡萨光伏电站建设的有利区位条件。(6 分)
- (3) 说明阿尔卡萨光伏项目诚邀中国公司承包对中国的有利影响。(6 分)
- (4) 环境影响因素是阿尔卡萨光伏项目建设过程中关注的重点。简述中国电力建设集团在该项目建设过程中可能采取的措施。(4 分)

37. 阅读图文材料,完成下列要求。(24 分)

冻融草丘为草根密集处的地下水受冻结地面及其下部冻土层的阻滞,在薄弱地带膨胀隆起、相邻丘间较低处形成积水的丘状微地貌。冬给措纳湖地处青藏高原东北部的断陷盆地内,湖面平均海拔 4088m,年降水量约为 300mm,年蒸发量高达 1000mm,但仍为淡水湖。该湖东部冻融草丘发育广泛。下图示意冬给措纳湖及周边区域。



- (1)简述冬给措纳湖形成的主要过程。(4分)
- (2)指出冬给措纳湖的主要补给水源,并说明其含盐量较少的原因。(8分)
- (3)说明冬给措纳湖东部有利于冻融草丘广泛发育的条件。(6分)
- (4)有专家推测,冬给措纳湖在将来可能会成为咸水湖。试说明该专家的推测依据。(6分)

38. 阅读材料,完成下列要求。(14分)

体育是竞技,是文化,是产业,是一国综合国力和社会文明程度的重要体现。

进入后疫情时代以来,户外运动行业热度急剧升温,精致露营、冰雪运动都一度成为现象级的流行热潮。2022年11月7日,国家体育总局等八部门共同印发《户外运动产业发展规划(2022—2025年)》。《规划》提出:优化露营产品供给,鼓励开放郊野公园提供露营服务,鼓励户外运动装备企业研制多系列满足不同人群的露营装备;创新户外运动消费新场景、新模式、新业态,推动科技赋能户外运动场景,开发智能骑行、智能划船、模拟飞行等线上产品和服务,打造户外运动线上线下协同发展的消费新模式;推进户外运动消费场景与乡村旅游、休闲农业等融合,转化绿水青山生态价值……多项利好之下,户外运动产业将迎来新机遇。

结合材料,运用经济生活知识,说明贯彻落实《规划》要求的现实意义。

39. 阅读材料,完成下列要求。(12分)

2022年11月5日至13日,《湿地公约》第十四届缔约方大会在武汉举行。近年来,武汉认真贯彻落实习近平总书记关于湿地保护的重要指示要求,全力将城市湿地打造成人与自然和谐共生的绿色空间,湿地生态全面向好。2010年,武汉在全国副省级城市中率先出台《武汉市湿地自然保护区条例》;随后,武汉市接连制定了《武汉市湖泊保护条例》《武汉市基本生态控制线管理条例》等与湿地保护密切相关的地方性法规;2014年,《武汉市湿地自然保护区生态补偿暂行办法》开始实施,政府投入财政专项资金分类进行生态补偿,用激励机制引导农民调整种植和养殖方式,缓和人鸟矛盾,让村民们对湿地保护更加理解和支持。目前,武汉市运用物联网、大数据、云计算等技术,对湿地进行数字化、标准化、常态化管理,力争实现湿地资源监测全要素、全周期、全覆盖。同时严格管理,建立湿地保护修复奖励机制和湿地损害终身追责机制,确保湿地面积只增不减。

结合材料,运用政治生活知识,说明武汉是如何促进湿地生态全面向好的。

40. 阅读材料,完成下列要求。(26分)

2022年10月16日—22日,中国共产党第二十次全国代表大会在北京人民大会堂召开。

【团结·力量】

在党的二十大报告中,“团结”是一个高频关键词,从题目到内容、从开头到结尾,是贯穿大会始终的鲜明基调。过去5年和新时代以来的10年,党面临形势环境的复杂性和严峻性、肩负任务的繁重性和艰巨性世所罕见,以习近平同志为核心的党中央团结带领全党全国各族人民坚定信心、迎难而

上,实现了第一个百年奋斗目标,才有了“新时代的伟大成就是党和人民一道拼出来、干出来、奋斗出来的!”豪壮与底气。在新征程上,团结让奋斗更有力量,奋斗才能使团结有落点、见效果。全党全国各族人民在党的旗帜下团结奋斗,就是要牢记空谈误国、实干兴邦,就是要在各自工作岗位上出力尽责、担当作为,把落实党的二十大作出的重大决策部署付诸行动、干出成效。

(1)“全党全国各族人民在党的旗帜下团结奋斗,就是要在各自工作岗位上出力尽责、担当作为”。运用整体和部分的关系对此加以说明。(12分)

【谋略·方向】

党的二十大首次将“文化自信”写入党的代表大会报告,是党中央统筹中华民族伟大复兴战略全局和世界百年未有之大变局,就社会主义文化事业发展作出的重大战略调整。报告高频提到“人民”,从文化的全民性、文化权利和文化创造的角度来讲,全民族的文化创新创造力量要进一步激活。报告还首次提出要“实施重大文化产业项目带动战略”,在这一方面,发展新兴文化业态、数字文化产业、引导新型文化消费将成为未来的重点。

(2)结合材料,运用文化生活知识,说明我国应如何推动文化自信自强。(10分)

【追梦·前行】

青年是祖国的未来、民族的希望,是整个社会中最积极、最有朝气、最富有创造性的力量。习近平总书记在二十大报告中殷切寄语青年人:“青年强,则国家强。当代中国青年生逢其时,要坚定不移听党话、跟党走,怀抱梦想又脚踏实地,让青春在全面建设社会主义现代化国家的火热实践中绽放绚丽之花。”

(3)某班拟召开“学习二十大,争做好青年”主题班会,请你列举两个发言要点。(4分,要求主旨鲜明,朗朗上口,每个要点在20个字以内)

41. 阅读材料,完成下列要求。(25分)

材料一

古代希腊罗马国家的法律肇始于平民与贵族的冲突……梭伦立法,即是由于贵族与平民两大集团的激烈争斗。亚里士多德曾言:“任何力量,只要它能通过共同的政治行为促进和维护社会福利,我们就说它是合法的和合乎正义的。”古希腊的政治理论和古罗马的法律,可以为西方近代国家所继承,且后者又可以为包括社会主义国家在内的所有现代化国家所借鉴,这在很大程度上要归因于这些理论本身所具有的形式合理化……罗马帝国时期,皇帝敕令成为最高的法律渊源,“为君主所喜之物具有法律效力”。法律为主权者所制定,依靠国家力量而推行,这种观念在19世纪以后颇为流行。

——摘编自周芳宇等《古代中国与古希腊罗马法律文化传统比较研究》

材料二

中国古代法律起源于军事战争,如黄帝做“五刑”;自商鞅“改法为律”,“律”从此成了中国古代刑法的专用名称,其中律典成为秦以后各朝的主要刑事法典。它包含了有关民法、诉讼法以及行政法等方面的法律内容……历朝的法律形式虽然名称有所变化,但律始终调整的是当时社会中的各类刑事关系。儒家主张“为政以德”,以道德教化为治国的根本。孔子说:“道之以政,齐之以刑,民免而无耻;道之以德,齐之以礼,有耻且格”。传统法律的神圣性来源于“天”,并随着“天”的神圣性转移至被称为“天子”的封建帝王身上,使封建帝王拥有不可置疑的立法权和至高无上的司法权。

——摘编自曾宪义《中国法制史》

- (1)根据材料一并结合所学知识,概括古代希腊罗马法律的特点,并分析其影响。(10分)
- (2)根据材料一、二,指出古代中国与古代希腊罗马法律的异同,并结合所学知识分析其不同的原因。(15分)

42. 阅读材料,完成下列要求。(12分)

材料

一部中国近代史,就是一部思想解放史。从鸦片战争到新中国成立的百余年间,思想解放的潮流始终围绕共同的主题,究其源则主要是来自西方文化的冲击。中国固有的封建思想文化宝库中已经不可能找到救国济民良药的特定情况下,如何向西方学习,在吸收西方先进文化的过程中振兴中国,就成了近代中国必须解决的一个核心问题。在处理中西问题时,必然会遇到如何对待中国的传统,如何使古老的中国走向现代的问题,“古”和“今”的问题自然提到了日程上来,而且许多中西之争往往是通过古今之争、新旧之争表现出来,中西和古今不可分割地交织在一起。唯一值得幸运的是,国人在炮火中逐渐苏醒。

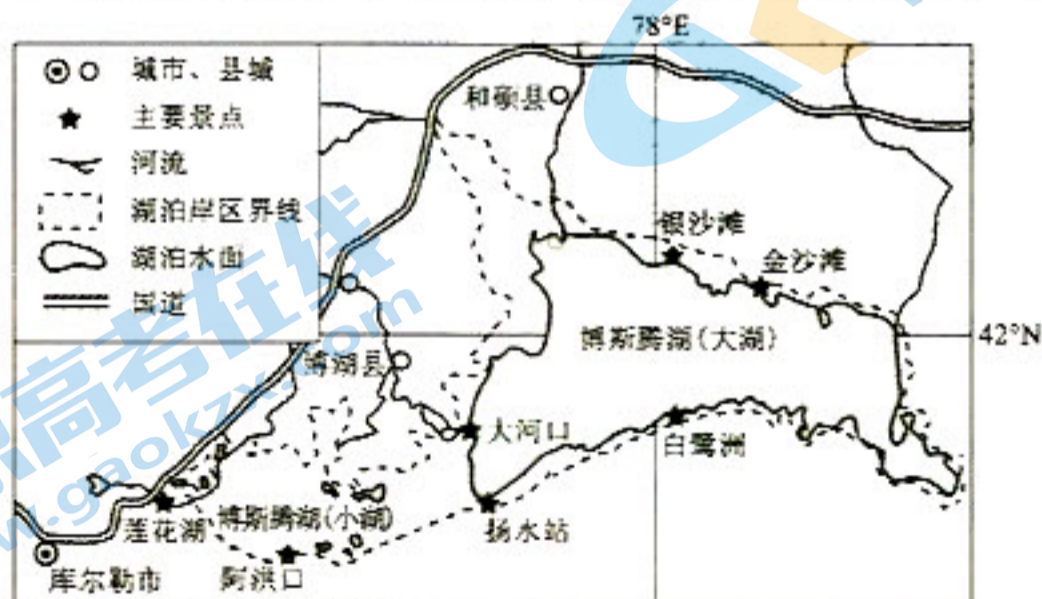
——摘编自刘德军等《人类思想解放史》

根据材料并结合中国近代史的相关史实,自行拟定一个论题,并予以阐述。(要求:论题明确,史论结合,表达清晰。)

(二)选考题:共25分。请考生从2道地理题、3道历史题中每科任选一题作答。如果多做,则每科按所做的第一题计分。

43. [地理——选修3:旅游地理](10分)

盛夏的博斯腾湖,天空湛蓝,湖水、沙漠、芦苇交相辉映,构成了一幅美妙的沙海画卷,成为了各地游客打卡、体验的好去处,同时也吸引了众多沙漠越野爱好者来到这里,体验沙漠文化,感受越野的乐趣与魅力。近年来,依托博斯腾湖,博湖县以全域旅游示范区为载体,依托丰富的旅游资源,积极落实“文化+旅游+体育”发展模式,促进旅游与文化、体育互动融合,大力发展全域旅游、全季旅游、全产业链旅游,助力旅游经济高质量发展。下图示意博斯腾湖及周边主要景点分布。



推测博斯腾湖周边沙漠适合开展沙漠越野赛项目的有利条件,并说明博湖县发展“旅游+文化+体育”模式的意义。

关于我们

北京高考在线创办于 2014 年，隶属于北京太星网络科技有限公司，是北京地区极具影响力的中学升学服务平台。主营业务涵盖：北京新高考、高中生涯规划、志愿填报、强基计划、综合评价招生和学科竞赛等。

北京高考在线旗下拥有网站门户、微信公众平台等全媒体矩阵生态平台。平台活跃用户 40W+，网站年度流量数千万量级。用户群体立足于北京，辐射全国 31 省市。

北京高考在线平台一直秉承 “精益求精、专业严谨” 的建设理念，不断探索 “K12 教育+互联网+大数据” 的运营模式，尝试基于大数据理论为广大中学和家长提供新鲜的高考资讯、专业的高考政策解读、科学的升学规划等，为广大高校、中学和教科研单位提供 “衔接和桥梁纽带” 作用。

平台自创办以来，为众多重点大学发现和推荐优秀生源，和北京近百所中学达成合作关系，累计举办线上线下升学公益讲座数百场，帮助数十万考生顺利通过考入理想大学，在家长、考生、中学和社会各界具有广泛的口碑影响力

未来，北京高考在线平台将立足于北京新高考改革，基于对北京高考政策研究及北京高校资源优势，更好的服务全国高中家长和学生。



微信搜一搜

北京高考资讯