

# 房山区 2023 年高三年级第二次模拟考试

## 历史

本试卷共 10 页，共 100 分。考试时长 90 分钟。考生务必将答案答在答题卡上，在试卷上作答无效。考试结束后，将答题卡交回，试卷自行保存。

### 第一部分

本部分共 15 题，每题 3 分，共 45 分。在每题列出的四个选项中，选出最符合题目要求的一项。

1. 《战国策》记载：“（仲尼既没之后）田氏取齐，六卿分晋，道德太废，上下失序。至秦孝公，捐礼让而贵战争，弃仁义而用诈谲，苟以取强而已矣。夫篡盗之人，列为侯王；诈谲之国，兴立为强。”上述历史现象形成的背景为

- ①铁农具与牛耕的使用并推广      ②手工业及商业均有发展  
③分封制与宗法制完全被破坏      ④儒学独尊地位受到冲击

A. ①②      B. ①③      C. ②④      D. ③④

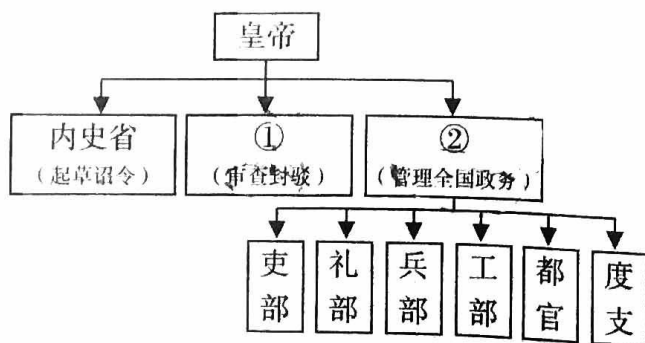
2. 西汉政府除在张掖地区设置郡县管辖外，另设张掖属国用以安置归附的少数民族部落。西汉末年，窦融成为含张掖郡在内的河西五郡大将军，主持修缮防御设施，实施屯田，鼓励匈奴、卢水胡等民族发展农业生产。当时在张掖地区的大街小巷时常见到西域的胡商与中原的汉商。据此可知

- ①西汉政府已对张掖有效治理      ②政府屯田措施促进边疆开发  
③少数民族放弃畜牧专事商业      ④张掖成为西域商贸重要地区


A. ①②③      B. ①②④      C. ①③④      D. ②③④

3. 右图为隋朝中央机构示意图（局部），在①②处填写对应的内容，正确的是

- A. 中书省 尚书省  
B. 门下省 中书省  
C. 门下省 尚书省  
D. 尚书台 门下省



4. 右图为元代罗罗斯铜牌（当时的“身份证”）。正面长方形边框内竖排楷书阳文三行：“中奉大夫罗罗斯宣慰使火儿灰、奉议大夫罗罗斯宣慰同知布颜、承直郎罗罗斯宣慰司经历元楨”。罗罗是彝族先民的一种称谓，元世祖时设置罗罗斯宣慰司，治所在建昌路（今四川西昌）。据此推测此牌



- ①是当时西南少数民族地区官员的符牌
- ②是研究元代民族历史重要的实物史料
- ③表明元代创制的八思巴字被楷书取代
- ④说明罗罗斯直接隶属宣政院管辖新疆

A. ①②                      B. ①④                      C. ②③                      D. ③④

5. 在明朝问世的文学著作中，以市民为主人公或涉及市民的作品逐渐增多。例如《喻世明言》有十一篇，《警世通言》有十三篇，《醒世恒言》有九篇，约占“三言”的四分之一；《初刻拍案惊奇》有十六篇，《二刻拍案惊奇》有十八篇，几近“二拍”的二分之一。材料反映

- A. 明朝社会成员身份平等
- B. 市民争取政治权力的斗争
- C. 工商皆本成为社会思潮
- D. 市民阶层扩大的社会现象

6. 清初，中央设礼部和理藩院，负责接待藩邦、属国或外国的贡使；1861年，设立总理各国事务衙门，总揽对外交涉，如教案、出使之类以及同外国发生干系的财政、海防、边务等各方面大权。材料表明

- A. 中国人对外部世界的认识受限
- B. 理藩院的职责范围在逐渐扩大
- C. 总理衙门的职权位居六部之上
- D. 外交机构因时局变化进行调整

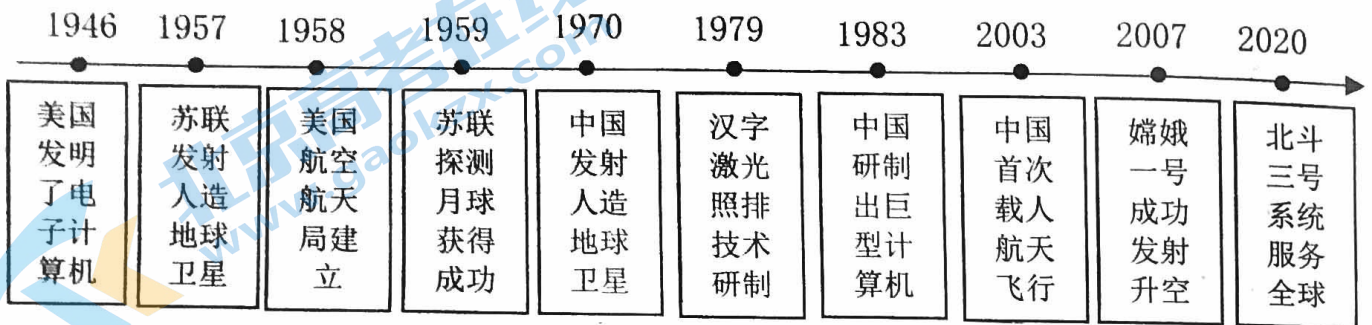
7. 1936年成立的东北抗日联军官兵的构成，除汉族外还有满族、朝鲜族、达斡尔族、鄂伦春族、赫哲族、鄂温克族等；1939年，马鸿宾所率81军取得绥西抗战的首次大捷，其中马鸿宾的军兵训练班培养的回汉青年军官和士兵发挥了重要作用。这说明

- A. 国共合作标志着抗日民族统一战线的形成
- B. 抗战以来中国军队在正面战场的最大胜利
- C. 中华民族的团结推动了抗日战争走向胜利
- D. 中国在东北地区开展了一系列的抗日活动

8. 下表为1953-1957年新中国基本建设投资比例，结合所学，可判断这一时期我国

工业	农业水利	运输邮电	贸易银行物质储备	文化教育卫生	城市公用事业建设	其他
58.2%	7.6%	19.2%	3%	7.2%	3.7%	1.1%

- A. 国民经济结构合理发展迅速  
B. 优先发展重工业及配套设施  
C. 较完整的工业体系已经形成  
D. 社会主义市场经济体制确立
9. 下列是第二次世界大战后中外航空、航天、通信科技发展的部分历史事件对照年表，对此解读合理的是



- ①美苏在冷战竞争中起步较早  
②能解决经济发展的所有问题  
③中国在改革开放后速度加快  
④服务于军事又惠及人民生活
- A. ①②③  
B. ①②④  
C. ①③④  
D. ②③④
10. 2008年5月12日，四川省汶川县发生8级特大地震，面对灾情

中央财政拨付抗震救灾医疗救治和卫生防疫专项资金 10.02 亿元，调拨血液、消杀药品、水质检测设备等各种抗疫物资
国务院抗震救灾总指挥部统一部署，发挥军地协商优势，建立了会商、信息通报、措施联动等运行机制
四川省政府提出了科学规范抗震救灾卫生防疫工作的十项措施
灾后 19 个对口支援省市，带着 700 多亿元援建资金，到汶川开展灾后重建

以上信息说明我国

- ①以服务人民为宗旨完善政府的社会治理  
②已建立起了最完备的卫生防疫工作机制  
③实现灾后现代医疗保障体系上的全覆盖  
④形成抗震救灾精神丰富中国精神的内涵

- A. ①②  
B. ①④  
C. ②③  
D. ③④

11. 《汉谟拉比法典》规定：“如果一个人偷了一头牛、一只羊……如果它属于神或者王官，他要赔偿30倍；如果它属于平民，他要赔偿10倍；如果窃贼没有可赔偿的，他应该被处死。”“如果一个人债务缠身，暴风雨神阿达德摧毁了他的田地，或者洪水冲走了作物……在那一年，他可以不用向他的债主归还粮食，他可以暂停履行他的合同，他可以不用付那一年的利息。”据此可知《汉谟拉比法典》

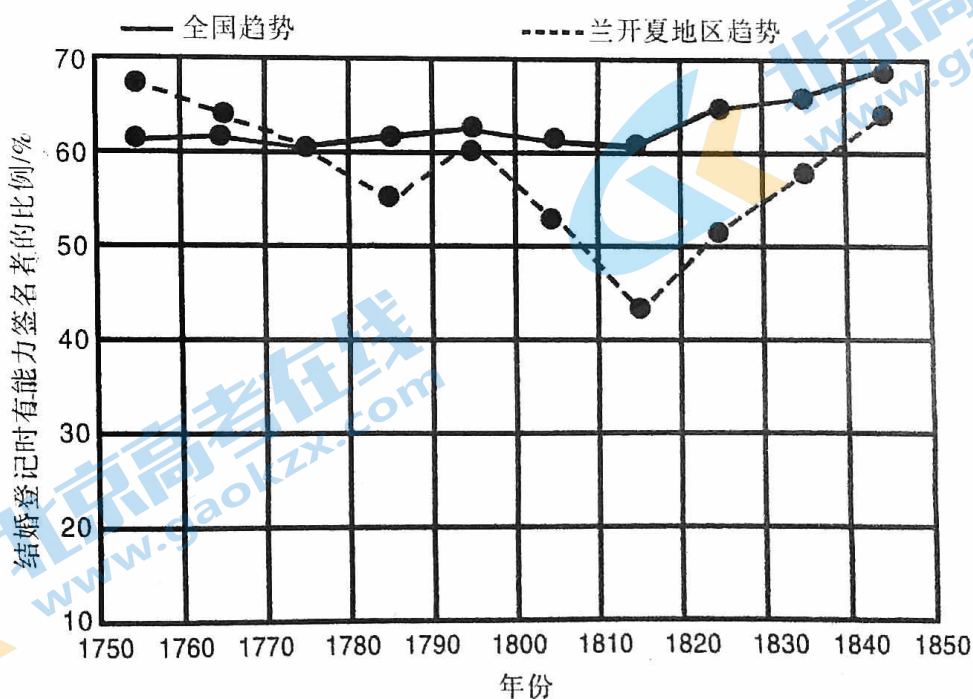
- A. 是世界上现存最早的较为完整的成文法典
- B. 使得古巴比伦人民享有法律面前人人平等
- C. 协调借贷等社会关系，维护有产者的利益
- D. 成为近代英美法系和大陆法系的历史源头

12. 下列材料涉及的历史事件，按时序先后排列正确的是

- ① “朕愿下令赐给，从你们发现的岛屿和大陆获得的一切利润和收入……给你们留下二十分之一。”
- ② “凡当时仍在叛乱的任何一州或地区，其境内所有奴隶都应永远获得自由。”
- ③ “联邦议会与帝国议会的召集、开会、延会、闭会之权属于皇帝。”
- ④ “东印度公司及其后继者有权在15年的任期内，享有完全独占东印度贸易的自由和特权。”

- A. ①③④②      B. ①④②③      C. ②①④③      D. ④②③①

13. 阅读下列《1754-1845年英国全国和兰开夏地区结婚青年男性识字率变化图》，对此论述正确的是



- A. 英国及兰开夏地区的识字率一直呈上升趋势
- B. 兰开夏地区的教育普及率远超全国平均水平
- C. 当时教育文化的普及催生了近代科技的诞生
- D. 工业革命地开展提升了整体民众的文化水平

14. 2022年12月，中国与沙特联合举办“中国—阿拉伯国家”“中国—海合会”“中国—沙特”元首“三环峰会”。2023年2月，伊朗总统莱希访华，3月10日，中国成功协调伊朗和沙特两国达成北京协议，宣布沙伊双方同意恢复外交关系，开展各领域合作。


材料表明

- A. 古代中国与伊朗、阿拉伯地区有密切的文化交流
- B. 中、沙、伊三国探索具有本国特色的现代化之路
- C. 中国倡导全球安全倡议，重视发展与周边的关系
- D. 中国外交体现了“以和为贵”“协和万邦”的理念

15. 以下四幅图片用于研究性学习，与之契合的主题是




用楔形文字书写的信件



发现于山西应县木塔的辽代雕版印刷书《蒙求》书影



贝尔试用电话



“一部手机走天下”

- A. 信息革命与人类文化的共享
- B. 文字演变与社会生活变化
- C. 多极化趋势与人类文化传承
- D. 文化传承的载体及其发展

## 第二部分

本部分共 5 题，共 55 分。

### 16. (8 分) 监察制度

材料一 明朝统治者对百官监察十分重视。早在朱元璋统一中国前，曾置御史台，设左右御史大夫，御史中丞，侍御史等官。“自洪武十三年（1380 年）胡惟庸之狱，始罢御史台。”但并不是罢免御史，而是罢免其总领御史大夫。洪武十五年（1382 年）改御史台为都察院。“都御史职专纠劾百司，辨明冤枉，提督各道，为天子耳目风纪之司。”

除都察院外，明朝还创立了独立监察权的六科给事中，即“吏、户、礼、兵、刑、工六科”。明朝初年其职权仅为“看详诸司奏本及目录旨意等”。洪武十五年废中书省后其职权变为：“掌侍从、规谏、补阙、拾遗、稽查六部百司之事。”从每科分工来看，职责清楚，分工细腻。如“吏科，凡吏部引选，则掌科（印），同至御前请旨。外官领文凭，皆先赴科画字。内外官考察自陈后，则与各科具奏。”

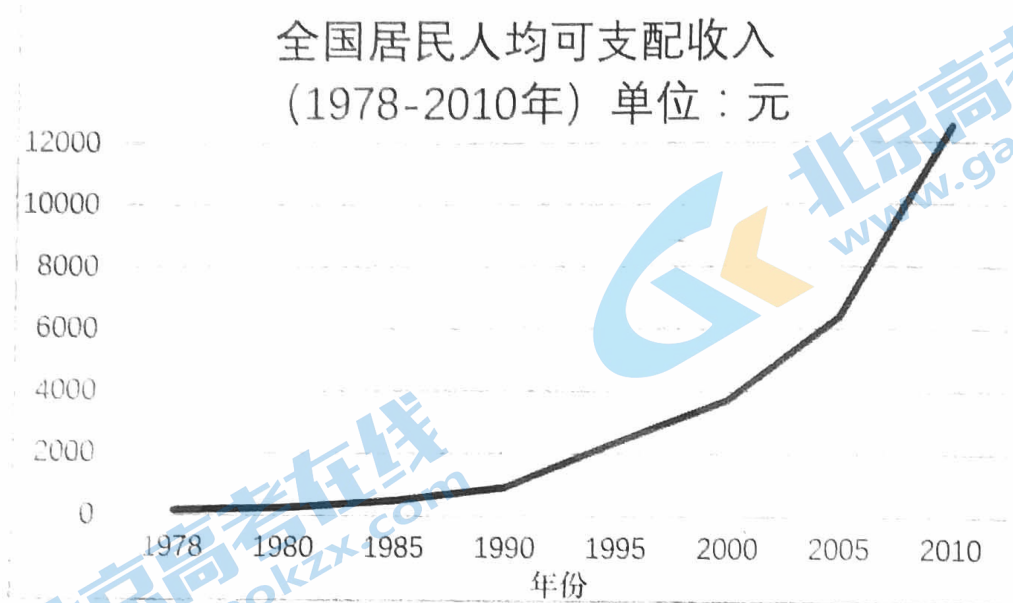
材料二 清朝中央监察机构在明朝基础上有所调整。雍正以后，为了集中皇权，取消了六科给事中历来负责封驳皇帝诏旨的职权，将六科并入都察院。都察院所属六科给事中与十五道监察御史，合称“科道”，分别负责对内外官吏的纠察。

依据材料，结合所学，简要分析明清时期监察制度发展的背景及影响。（8 分）

### 17. (12 分) 经济建设

材料一 陕甘宁边区政府发布《1941 年陕甘宁边区经济建设计划》，提出边区经济建设要由半自给发展到自给自足，以适应抗战和民生的需要。边区各级党政军民学一起出动，上山进沟，开展以农业生产为主的生产劳动，组织集体开荒造田，垦荒种地，发展植棉。同时，进行织布纺线、养猪养鸡、打柴烧炭。1943 年，陕甘宁边区广大人民群众基本实现了“足食”，部分群众开始有了余粮。同年，除了粮食以外，棉布自给率达到 73%，牛、羊、驴等牲畜饲养量也取得了快速增长。公营纺织厂可以供给机关、部队、学校等所需布匹的 70%，还有万合毛厂、民生纸厂、元华工厂等数家工厂。而与人民群众生活息息相关的各类手工作坊更是如雨后春笋一般蓬勃发展起来。

材料二



1979年，国家经委召集京、津、沪三市的8家企业讨论企业管理体制改革问题，决定在这8家企业进行扩大经营管理自主权的改革试点，允许它们在完成国家计划的前提下，根据市场需要安排生产，实行利润留成，并在人、财、物方面拥有相应的自主权。1980年8月，第五届全国人大常委会第十五次会议通过《广东省经济特区条例》：(1)在维护中国主权和利益的前提下，鼓励外商投资，坚持平等互利的原则，保障投资者的合法权益；(2)对投资者给予特殊的优惠；(3)实行一套适应特区性质和要求的管理体制。1992年9月，国家计委宣布，从1993年起由国家计委管理的农业、工业、物资、商业、外贸出口产品计划指标，减少三分之一以上，其中指令性计划指标减少一半，农业除粮、棉、油等少数关系国计民生的农产品实行指导性计划管理以外，其它农产品一律取消生产计划指标。2005年10月，党的十六届五中全会在关于制定“十一五”规划的建议中提出：“鼓励东部地区率先发展”“东部地区要努力提高自主创新能力，加快实现结构优化升级和增长方式转变，提高外向型经济水平，增强国际竞争力和可持续发展能力。”

(1) 归纳材料一中陕甘宁边区经济建设的主要特点，并简述其历史意义。(4分)

(2) 结合材料二及所学，概括全国居民人均可支配收入的变化趋势并加以分析。

(8分)

18. (10分) 国际法

“国际法历史发展分期的不同划分(部分)”

学者	观点
英国学者奥本海	分两阶段:格劳秀斯以前国际法的发展和格劳秀斯以后国际法的发展
奥地利学者菲德罗斯	分九部分:西亚(近东);地中海地区;欧洲的基督教国际社会;阿拉伯哈里发、伊斯兰国际社会和土耳其帝国;欧洲的列国体制和“古典国际法”;美国革命、法国革命和工业革命以后的国际法;印度的列国体制;东亚(中国和日本);世界的列国体制和普遍国际法
苏联学者费尔德曼、巴斯金	分四阶段:国际法的起源(古代世界)、国际法的形成、国际法的成熟和当代国际法
中国学者杨泽伟	分四阶段:一是国际法萌芽期(远古至1648年),它从古代国际法的遗迹开始一直到1648年《威斯特伐利亚和约》签订之前;二是近代国际法(1648—1914年),它始于《威斯特伐利亚和约》的签订,止于1914年第一次世界大战的爆发;三是现代国际法(1914—1945年),它从第一次世界大战开始直到1945年第二次世界大战结束;四是当代国际法(1945年至今),它以第二次世界大战结束为起点,一直到现在

(1) 中外学者关于国际法历史发展的分期有不同观点,依据材料指出各自分期划分的主要标准。(4分)

(2) 结合所学,对材料中中国学者的观点进行说明。(6分)



## 19. (12分) 文献档案

材料一 王安石变法的有关史料摘编如下

序号	文献史料	出处
①	今介甫为政，尽变更祖宗旧法……使上自朝廷，下及田野，内起京师，外周四海，士、吏、兵、农、工、商、僧、道无一人得袭故而守常者，纷纷扰扰，莫安其居。	(宋)司马光《与王介甫书》
②	奎议变法，而在廷交执不可，安石傅经义，出己意，辩论辄数百言，众不能诘。甚者谓“天变不足畏，祖宗不足法，人言不足恤”。罢黜中外老成人几尽，多用门下儇慧少年	(元)脱脱《宋史·王安石传》
③	宋宰执荆公，由鄞令起家，博古好学……起堤堰，决陂塘，为水陆之利；贷谷与民，立息以偿，俾新陈相易；兴学校；严保伍；邑人便之……鄞民歌咏其德，于棠蒂所驻	(明)王章《重修经纶阁记》 注：经纶阁是鄞县百姓纪念王安石的地方，历代多次重修刻碑以记

材料二 河北省平山县西柏坡是解放战争后期中共中央所在地。中国共产党在这里领导全国人民进行革命斗争，积累了数量庞大的、较为系统的档案资料，这些红色档案历经战火，保存不易，迄今已有70多年历史，成为不可多得的珍稀文献和重要的历史文化遗产。习近平总书记到西柏坡调研时曾深情地说：“对我们共产党人来说，中国革命历史是最好的营养剂，多重温我们党领导人民进行革命的伟大历史，心中就会增添很多正能量。”

西柏坡红色档案基本是以纸质载体形式存在，鉴于档案的唯一性，以及存放地点的分散性，查找不便。部分档案馆曾经进行过档案整理，编辑出版了一些综合性或专题性档案资料，初步实现了从点到面的传播，但其数量、内容和覆盖范围不足，难以适应学术研究和社会教育的需要。因年代久远，许多珍贵的地方革命档案出现了字迹漫漶不清、霉烂和虫蛀等损毁，到了必须抢救的紧急关头。

(1) 请将材料一中的文献史料进行分类并写出相应序号，结合所学，扼要分析材料中对王安石变法的态度有何不同。(6分)

(2) 依据材料二，结合所学，简述西柏坡红色档案的主要价值。谈谈你对更好保护红色资源的建议。(6分)

## 20. (13分) 社会主义运动

材料一 1857年，伴随着新的经济危机到来，又催生了新的工人运动。1859年，英国伦敦建筑工人罢工，随后，法国、德国、美国、意大利等国的工人相继罢工，争取工人权利，开展革命活动。1864年9月，“国际工人协会”的成立，马克思参与并领导了“第一国际”。马克思指出：“工人工资在整个工业生产产生的利润中所占的比重很小，工人只要在每个工作日劳动很少一部分时间，就足以抵偿这点工资；在余下的大部分时间里，工人都是在无偿地为资本家工作。”

材料二 恩格斯在致奥·伯尼克的一封信中写道：“我认为，所谓‘社会主义社会’不是一种一成不变的东西，而应当和任何其他社会制度一样，把它看成是经常变化和改革的社会。”

材料三 在资本主义时代，革命运动的中心与各个国家的社会经济发展及资本主义发展的不平衡性有关。1900年，列宁创办《火星报》，宣传马克思主义，并指出无产阶级的阶级觉悟随着自发的工人运动与社会主义结合的程度日渐提高，马克思主义政党的建立就是这一过程的自然结果。1903年，俄国社会民主工党第二次代表大会召开，标志着布尔什维克党的建立，其指导思想是“布尔什维主义”。1917年3月，在布尔什维克党的领导下，俄国推翻了君主专制制度，八个月后，建立了无产阶级专政。俄国劳动者及其领导，向全世界无产阶级作出了应该如何推翻资产阶级和建立新的共产主义社会的范例，并深刻影响了中国革命的进程。

(1) 依据材料一，结合所学，指出19世纪50—70年代国际社会主义运动的新发展。

(4分)

(2) 阅读材料二、三，围绕“理论与实践”，自行拟定一个论题，运用20世纪初期俄国和中国社会主义运动的相关史实加以阐释。(9分)

要求：观点正确，史论结合，论证充分，逻辑清晰。

## 关于我们

北京高考在线创办于 2014 年，隶属于北京太星网络科技有限公司，是北京地区极具影响力的中学升学服务平台。主营业务涵盖：北京新高考、高中生涯规划、志愿填报、强基计划、综合评价招生和学科竞赛等。

北京高考在线旗下拥有网站门户、微信公众平台等全媒体矩阵生态平台。平台活跃用户 40W+，网站年度流量数千万量级。用户群体立足于北京，辐射全国 31 省市。

北京高考在线平台一直秉承 “精益求精、专业严谨” 的建设理念，不断探索 “K12 教育+互联网+大数据” 的运营模式，尝试基于大数据理论为广大中学和家长提供新鲜的高考资讯、专业的高考政策解读、科学的升学规划等，为广大高校、中学和教科研单位提供 “衔接和桥梁纽带” 作用。

平台自创办以来，为众多重点大学发现和推荐优秀生源，和北京近百所中学达成合作关系，累计举办线上线下升学公益讲座数百场，帮助数十万考生顺利通过考入理想大学，在家长、考生、中学和社会各界具有广泛的口碑影响力

未来，北京高考在线平台将立足于北京新高考改革，基于对北京高考政策研究及北京高校资源优势，更好的服务全国高中家长和学生。



微信搜一搜

北京高考资讯