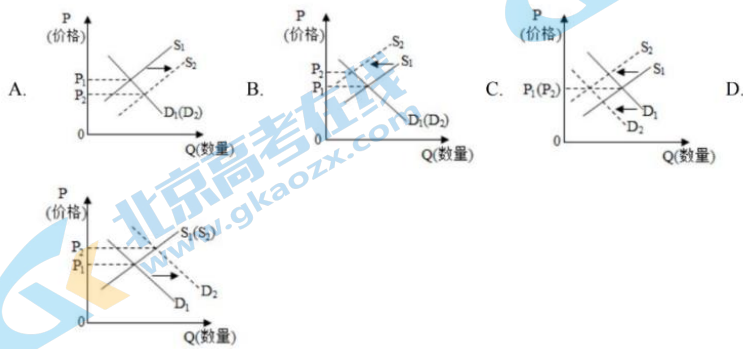


延庆区 2021 届高三第一学期统一练习（9 月月考）

政治试卷

第一部分本部分共 15 题，每题 3 分，共 45 分。

1. 某国生产新闻纸所需要的纸浆以固废纸为原料，消耗的固废纸 20% 以上依赖进口。出于环保需要，2019 年该国开始限制固废纸进口。不考虑其他因素，正确反映短期内该国新闻纸价格变化的图示是（图中 S 表示供给，D 表示需求）



2. 新冠肺炎疫情发生以来，为应对经济下行压力，北京市政府宣布，将于 2020 年 6 月 6 日开始，全面启动发放电子消费券。在京消费者通过京东 APP 领取的北京消费券，可在线上、线下参与活动的商家进行消费使用，预计将惠及上千万北京市民。政府发放消费券的举措（ ）

- ① 利于增强消费信心，扩大居民消费
- ② 透支了未来消费需求，不能转化为消费潜力
- ③ 能够有效扩大消费规模，促进相关产业发展
- ④ 降低居民消费成本，从根本上解决居民消费问题

- A. ①② B. ①③ C. ②④ D. ③④

3. 美元对人民币汇率变化对中国经济产生多方面的影响。结合下表内容，下列说法正确的有（ ）

时间	2020 年 1 月 19 日	2020 年 8 月 10 日
----	-----------------	-----------------

100 美元兑换人民币汇率	688.78	696.49
---------------	--------	--------

- ①美元贬值，增加中国居民的出境旅游成本
- ②人民币贬值，有利于扩大中国出口商品的价格优势，增加出口
- ③人民币升值，有利于优化中国对外投资结构，加快“走出去”步伐
- ④美元升值，提升中国外汇储备的国际购买力

- A. ①② B. ①③ C. ②④ D. ③④

4. 对下表理解正确的是 ()

北京市医事服务费收费和报销标准 (单位: 元)

项目 名称	三级医院			二级医院			一级及以下医疗机构		
	医事 服务费	报销 金额	自付 金额	医事 服务费	报销 金额	自付 金额	医事 服务费	报销 金额	自付 金额
普通门诊	50		10	30	28	2	20	19	1
副主任医师	60		20	50		20	40		20
主任医师	80	40	40	70	30	40	60	20	40
知名专家	100		60	90		60	80		60
急诊	70	60	10	50	48	2	40	39	1
住院	100	按比例报销		60	按比例报销		50	按比例报销	

- ①按级别增加医务人员服务费，体现了医务人员的技术劳动价值
- ②三级医院知名专家供给有限，需求旺盛，医事服务费高于其他医院
- ③按医院医生级别设立医事服务费，有利于降低患者就医费用
- ④不同级别医院医生的服务是互补关系，提高三级医院专家的服务费价格，会增加普通医院就医人数

- A. ①② B. ①④ C. ②④ D. ②③

5. 随着农业电商的发展，网上订购、可视农业，将是农业未来发展的一种方向。延庆区某乡村，通过实施“互联网+农村”工程，短短几年时间，农民人均年收入从不到 5000 元提高到 10000 元左右，从一个偏远的乡村发展为数字乡村，成为当地引领乡村振兴的标杆。对该材料的正确解读是 ()

- A. 信息消费已成为拉动我国乡村经济发展的重要引擎
- B. 发展互联网经济是构筑现代化经济体系的坚实基础
- C. 实现城乡融合发展是促进乡村经济振兴的根本途径
- D. 发展农村新产业新业态是乡村经济振兴的重要手段

6. 在做家务的过程中体验和理解父母的辛苦，参加社区保洁、社区护绿等公益劳动，蔬菜种植、粮食收割等学农学工实践，“路口值勤——我是小警察”等职业体验……丰富多彩的劳动教育课程，让同学们在不一样的学习中收获成长。开展劳动教育，旨在引导学生（ ）

- ①树立职业平等观，推动社会分工的细化
- ②树立正确价值观，崇尚劳动，尊重劳动者
- ③了解社会，提高实践能力，实现全面发展
- ④提高劳动技能，促进劳动力市场充分竞争

A. ①② B. ①④ C. ②③ D. ③④

7. 2020年上半年，证监会继续严打财务造假和市场操纵、内幕交易等证券欺诈行为，新增各类案件165件，向公安移送59件，做出行政处罚98份，罚没金额合计38.39亿元。上述举措旨在（ ）

- ①提高资本市场交易效率②促进资本市场健康发展
- ③保护投资者的合法权益④消除资本市场投资风险

A. ①② B. ①④ C. ②③ D. ③④

8. 从下表中我国居民家庭各项支出所占比重可以看出（ ）

项目 年份	食品	衣着	居住	家庭设备 及用品	交通 通信	文教 娱乐	医疗 保健	其他
1990	54.25	13.36	4.76	8.48	3.17	8.78	2.01	5.21
1995	50.09	13.55	8.02	7.44	5.18	9.36	3.11	3.25
2000	39.44	10.01	11.31	7.49	8.54	13.40	6.36	3.44
2013	35.02	10.55	9.68	6.74	15.19	12.73	6.20	3.88

- ①我国居民生活水平有所提高②收入是影响消费的根本因素
- ③我国居民的恩格尔系数下降④发展和享受型消费成为主流

A. ①② B. ①③ C. ②④ D. ③④

9. 圆珠笔在1945年发明时，属于全新产品。成本只有0.5美元一支。可发明者却利用广告宣传和消费者求新求异心理，以20美元销售，仍然引起人们的争相购买。这种定价策略的经济学原理是（ ）

- ①刺激求新求异需求→提高售后服务质量→促进消费增加，提高利润
- ②利用广告宣传商品→增加商品成本→通过高价扩大市场份额
- ③增强广告宣传效应→沟通新品产销环节→引导消费，高价获利

④利用消费者求新求异心理→以高价营造产品优质印象→短期获得厚利

- A. ①② B. ①③ C. ②④ D. ③④

10. 圣经《新约·马太福音》中的一则寓言提到一种两极分化现象：“凡有的，还要加倍给他叫他多余；没有的，连他所有的也要夺过来”。这一强者愈强、弱者愈弱的两极分化现象被称为“马太效应”。在市场竞争中，由于需求方的因素导致企业“马太效应”式分化的是（ ）

- A. 大而不倒——大型企业金融机构的倒闭会给国民经济带来重大风险，因此政府在其面临危机时常会出手援助，而对小型金融机构可能坐视不管
- B. 规模经济——规模更大的企业可以以更低的平均成本进行生产，从而比小企业更有竞争优势
- C. 网络效应——聊天工具、在线游戏等网络产品，影响其吸引力的重要因素是已有用户数量的多少，因此用户数量较多的企业更能吸引新用户
- D. 劣币驱逐良币——当缺乏透明、公正的市场规则时，侵权盗版的企业可能大行其道，积极研发、依法经营的企业却难以立足

11. 按劳分配为主体、多种分配方式并存的分配制度是我国基本经济制度。下列说法正确的是（ ）

- ①小张是工程师，他提供新技术获得的收入属于按生产要素分配所得
- ②小张爷爷是农民，其转让土地承包经营权获得的收入属于按生产要素分配所得
- ③小张的妈妈在企业里当工人，妈妈的工资收入属于按劳分配所得
- ④小张爸爸是公有制经济中的职工，其收入属于财产性收入

- A. ①② B. ①④ C. ②③ D. ③④

12. 受疫情冲击，世界经济形势复杂严峻。我国适时提出要加快形成以国内大循环为主体、国内国际双循环相互促进的新发展格局。为此，我国适宜采用的财政政策是（ ）

- ①减税降费，降低企业生产经营成本，提高企业生产积极性
- ②降低存款准备金率，为实体经济和中小微企业提供资金保障
- ③发行抗疫特别国债，主要用于保就业、保基本民生、保市场主体
- ④政府简政放权，提高服务效率和水平，进一步优化营商环境

- A. ①③ B. ②④ C. ②③ D. ①④

13. 随着信息时代的发展，生产要素的内涵不断丰富。甚至数据也与劳动、资本、土地一样，并列成为生产要素。某班同学围绕“数据为什么能够成为生产要素”展开了激烈讨论。下列同学们的观点中合理的是（ ）

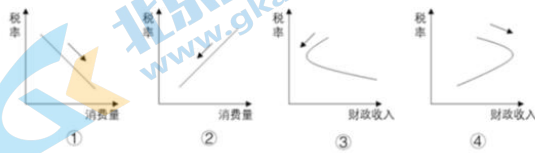
- ①数据广泛融入生产过程，具有独特创造力②数据是最具流动性的基础性资源
③数据能够替代劳动等要素成为财富新源泉④数据对提高生产效率的作用日益凸显

A. ①② B. ①④ C. ②③ D. ③④

14. 社会保障是再分配调节机制的重要内容。2019年4月以来，我国多地启动社会救助和保障标准与物价上涨挂钩的联动机制，当单月CPI（居民消费价格指数）同比涨幅达到3.5%或CPI中的食品价格指数同比涨幅达到6%时，发放价格临时补贴，更好地保障困难群众基本生活。这表明（ ）

- A. 价格临时补贴有利于促进社会公平，共享发展成果
B. 国家通过初次分配，保障低收入人群的基本生活
C. 政府通过财政支出，提高低收入者的劳动收入
D. 价格临时补贴能够降低物价，提升人民生活水平

15. 面对疫情对经济的严重冲击，为了实现“六稳”，促进国内需求，2020年我国加大减税降费的力度，持续发挥其政策效应。不考虑其他因素，下列图示能正确反映适度减税对消费和财政收入影响的是（ ）



A. ①④ B. ①③ C. ②③ D. ②④

第二部分 本部分共6题，共55分。

16. 近年来，随着我国经济快速发展，我国居民食品结构发生了很大变化。

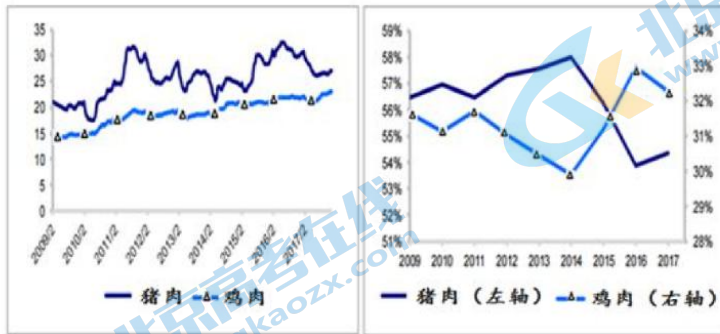
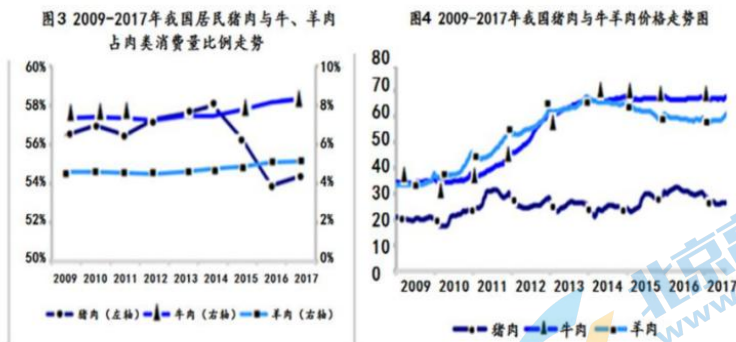


图1 猪肉与鸡肉价格走势

图2 猪肉与鸡肉占肉类消费量比例

(1) 对比图 1 和图 2 变化, 运用《经济生活》知识分析说明图 1 变化对图 2 变化的影响。



(2) 分析说明图 3 反映的经济现象; 不考虑其他因素, 运用所学《经济生活》知识结合图 4, 推测其变化的主要原因。

17. 城镇老旧小区, 是指建成于 2000 年以前、公共设施落后影响居民基本生活、居民改造意愿强烈的住宅小区。城镇老旧小区普遍存在管网破旧, 上下水、电网、煤气等公共设施的缺失或老化问题; 城镇老旧小区建造时间较早, 养老、抚幼、文化娱乐、健身、物业等很多公共服务缺失, 机动车和非机动车的存放难也是普遍存在的问题, 这些问题直接关系到生活在小区里居民的获得感、幸福感、安全感。

六层老楼安上电梯、脏乱外墙维修焕新、节能设施安装入户, 会带动居民户内改造、装饰装修、家电更新; 加快建设快递收发站、标准化菜市场、连锁便利店、停车场等便民设施, 方便居民生活……城镇老旧小区改造不仅是重大民生工程、民心工程, 也是培育国内市场、拓展内需的重要抓手, 是中国经济新的增长点。

结合材料, 从《经济生活》投资与消费的角度, 说明为什么城镇老旧小区改造成为中国经济新的增长点?

18. 国有企业是壮大国家综合实力、保障人民共同利益的重要力量。以改革为动力做强做优做大国有企业, 意义深远。

材料一



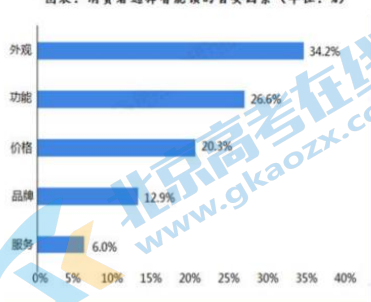
(1) 解读材料一中的经济信息。

材料二 某国有航空物流公司自 2016 年底开启混合所有制改革之后，用 18.45 亿元国有资本，通过引入合计股权比例为 45% 的非国有资本及 10% 的核心员工持股，有效带动了 22.55 亿元的非国有资本投入，民企成为新的战略投资者，国有资本仍是大股东但不再处于绝对控股地位；新成立的董事会吸收民营企业代表参与企业经营决策，优化了经营管理机制。与新的战略投资者在云计算、物联网等领域开展战略合作，培育了创新发展新动能。国企民企以混改“联姻”，改出了国有资本、非公有资本融合发展的新优势，2018 年公司实现利润总额同比增长 40.65%。

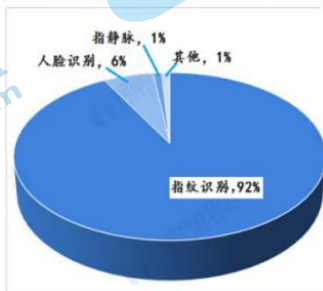
(2) 结合材料二，运用《经济生活》知识说明这一国有航空物流公司是如何通过混改形成新优势的。

19. 相比传统门锁，智能门锁具备科技感、颜值、功能性、便捷等优势，使其成为越来越多追求品质生活消费者的新选择，智能门锁正在成为一个非常大的，具有成长性的市场。但智能锁行业的大热，也引来数千家厂家的竞争。下列图表是某智能锁生产厂家调研市场所统计的部分内容。

图表：消费者选择智能锁的首要因素（单位：%）



图表：2019 年中国智能锁行业细分产品格局分布（单位：%）



该企业的发展目标是成为“中国智能锁行业领军品牌”。结合材料，运用《经济生活》相关知识，说明该企业应如何实现其发展目标？

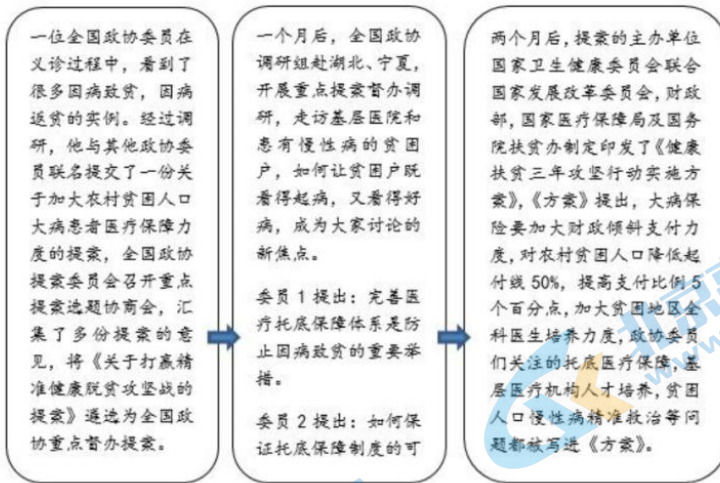
20. 材料一 经济政策会对市场参与者的行为和利益产生重要影响。假设某制造企业的某一产品当前销售单价为 10.8 万元（其中包含企业每销售一件产品应缴纳的税额 2.5 万元），年销售量 10 万件。现对该企业销售产品实行免税措施，免税后单价为 10 万元，年销售量为 13 万件。

(1) 计算销售单件产品后买卖双方从免税中分别获得的收益，并据此指出其收益变化情况。

材料二 制造业是国民经济的根基，而智能制造是新一轮工业革命的核心。为主动应对世界新技术革命挑战，全球工业大国都在全力抢占智能制造的制高点，构筑全球新战略。在经济新常态下，我国企业税负过重等老问题依然突出，弱化了企业创新意愿和创新能力，减税已成为当前推动中国制造向中国智造转型升级的迫切要求和重要选择。

(2) 运用《经济生活》相关知识，说明减税可以助推中国制造向中国智造转型升级的理由。

21. 中国制度优势透视：看一个提案怎样变成民生福祉



运用《政治生活》相关知识，对一个提案转变为健康福祉的过程进行阐释。

参考答案

1. 【答案】B

【解析】

【详解】从材料提供的条件可以看出，由于该国限制固废纸进口，不考虑其他因素，短期内该国新闻纸的供给量减少，供不应求纸价上涨，B能正确反映该国新闻纸价格的变化；A表示新闻纸供给量增加，与题意不符；C表示该国新闻纸需求量减少，与题意不符；D表示该国新闻纸需求量增加，与题意不符；正确选项为B。

【点睛】市场上同一商品的价格有时高，有时低；在有的地方高，在有的地方低。引起价格变动和差异的因素有很多，如气候、时间、地域、生产条件、政策等，甚至宗教信仰、习俗等文化因素也能对价格产生影响。各种因素对商品价格的影响，是通过改变该商品的供求关系来实现的。

2. 【答案】B

【解析】

【详解】①③：领取的北京消费券，可在线上、线下参与活动的商家进行消费使用，预计将惠及上千万北京市民。由此可见，通过发放消费券，能够增强消费信心，扩大居民消费，有效扩大消费规模，促进相关产业发展，①③符合题意。

②：政府消费券不是贷款消费，不是在透支未来消费，②错误。

④：消费券的使用并不能降低居民消费成本，从根本上解决居民消费问题，只是刺激消费的短期手段，④错误。

故本题选B。

3. 【答案】C

【解析】

【详解】根据图表信息，可知美元升值，人民币贬值。

①：根据图表信息，可知美元升值，①错误。

②：根据图表信息，可知美元升值，人民币贬值。人民币贬值，有利于扩大中国出口商品的价格优势，增加出口，②正确。

③：根据图表信息，可知人民币贬值，③错误。

④：根据图表信息，可知美元升值，人民币贬值。美元升值，提升中国外汇储备的国际购买力，④正确。

故本题选C。

4. 【答案】A

【解析】

【详解】①：按级别增加医务人员服务费，体现了对技术的尊重，体现了医务人员的技术劳动价值。①符合题意。

②：供求影响价格，三级医院知名专家供给有限，医事服务需求旺盛，医事服务费高于其他医院。②正确。

③：按医院医生级别设立医事服务费，不一定降低患者就医费用。③错误。

④：不同级别医院医生的服务是替代关系，提高三级医院专家的服务费价格，会增加普通医院就医人数。④错误。

故本题选 A。

5. **【答案】**D

【解析】

【详解】A：材料强调的是农业电商的发展，网上订购、可视农业，“互联网+农村”工程，打造数字乡村，实现乡村振兴，而没涉及信息消费，A 与题意无关。

B：大力发展实体经济是构筑现代化经济体系的坚实基础，B 错误。

C：材料涉及的是“互联网+农村”工程对乡村振兴的重要意义，而未提及城乡融合发展，C 与题意无关。

D：实施“互联网+农村”工程，该村人均收入显著提高，成为当地引领乡村振兴的标杆，这说明发展农村新业态是乡村振兴的重要手段，D 正确。

故本题选 D。

6. **【答案】**C

【解析】

【详解】②③：材料中多种职业体验、丰富多彩的劳动教育课程，让同学们在不一样的学习中收获成长，这样做有利于学生树立正确价值观，崇尚劳动，尊重劳动者，有利于学生了解社会，提高实践能力，实现全面发展，②③符合题意。

①④：材料中主要强调的是开展劳动教育，让学生感受和体验劳动，没有涉及职业平等观，推动社会分工的细化，也没有涉及提高劳动技能，促进劳动力市场充分竞争等内容，①④与题意无关。

故本题应选 C。

7. **【答案】**C

【解析】

【详解】②③：证监会继续严打财务造假和市场操纵、内幕交易等证券欺诈行为，有利于规范资本市场市场秩序，促进资本市场健康发展，保护投资者的合法权益，②③符合题意。

①：材料没有涉及提高资本市场交易效率，①观点与题意无关。

④：整顿资本市场秩序不会消除资本市场投资风险，且资本市场是有风险的，其风险是不可消除的，④观点错误。

故本题选 C。

8. 【答案】B

【解析】

【详解】①③：从表中可以看出，我国居民家庭食品支出占家庭总支出的比重由 1990 年的 54.25% 下降到 2013 年的 35.02%，说明恩格尔系数下降，居民生活水平提高。①③正确。

②：经济发展水平是影响消费的根本性因素。②错误。

④：从表中可以看出，2013 年我国居民家庭食品、衣着、居所占比超过 50%，因此发展和享受型消费不是主流。④错误。

故本题选 B。

9. 【答案】D

【解析】

【详解】①：刺激求新求异需求与提高售后服务质量无关，①错误。

②：高价销售并不能扩大市场份额，②错误。

③：发明者利用广告宣传，以 20 美元销售。这是增强广告宣传效应，增强知名度，沟通了新品产销环节，吸引消费者消费，高价获利，③正确。

④：发明者利用消费者求新求异心理，以 20 美元销售。这是以高价营造产品优质印象，在短期内能够获得高额利润，④正确。

故本题选 D。

10. 【答案】C

【解析】

【详解】A：金融企业属于金融行业的供给方，该项中的现象体现的是供给方因素导致的企业“马太效应”式分化。A 不符合题意。

B: 规模经济中的企业属于供给方, 该项中的现象体现的是供给方因素导致的企业“马太效应”式分化。B 不符合题意。

C: 网络用户属于需求方, 用户数量较多的企业更能吸引新用户, 体现的是需求方的因素导致企业“马太效应”式分化。C 正确。

D: 该选项强调的是供给方。D 不符合题意。

故本题选 C。

11. 【答案】A

【解析】

【详解】①: 通过提供新技术所获得的收入属于按生产要素分配中的技术要素分配。①正确。

②: 农民转让土地承包经营权获得的收入属于按生产要素分配中的土地要素分配。②正确。

③: 公有制企业中工人的工资收入才属于按劳分配, 材料未涉及小张的妈妈工作企业的性质, ③错误。

④: 公有制经济中职工的工资收入属于按劳分配收入, 不属于财产性收入。④错误。

故本题选 A。

12. 【答案】A

【解析】

【详解】①③: 受疫情冲击, 世界经济形势复杂严峻, 我国适宜采用积极的财政政策, “减税降费, 降低企业生产经营成本, 提高企业生产积极性”“发行抗疫特别国债, 主要用于保就业、保基本民生、保市场主体”属于积极的财政政策, ①③符合题意。

②: 降低存款准备金率, 属于积极的货币政策, ②不符合题意。

④: 政府简政放权, 提高服务效率和水平, 进一步优化营商环境, 和财政政策无关, ④不符合题意。

故本题选 A。

13. 【答案】B

【解析】

【详解】①: 信息时代, 数据已和其他要素一起融入经济价值创造过程中, 具有独特的创造力。①正确。

②: 数据是最具流动性的基础性资源, 这是数据要素的特征, 并不是数据被列为生产要素的原因。②错误。

③: 劳动是创造财富的源泉, 数据作为生产要素是创造财富的手段。③错误。

④：大数据通过数字化丰富要素供给，通过智能化提升产出效能，数据对生产力的发展具有广泛影响。④正确。

故本题选 B。

14. 【答案】A

【解析】

【详解】A：“发放价格临时补贴，更好地保障困难群众基本生活”，这表明价格临时补贴有利于促进社会公平，使人们共享发展成果，A 符合题意。

B：“社会保障是再分配调节机制的重要内容”，发放价格临时补贴属于再分配调节，而不是初次分配，B 不符合题意。

C：政府通过财政支出，发放价格临时补贴，提高的是低收入者的非劳动收入，C 说法错误。

D：价格临时补贴是给低收入者发放的，更好地保障困难群众基本生活，而不是降低物价，D 说法错误。

故本题选 A。

15. 【答案】B

【解析】

【详解】①：实施减税降费，税率降低，有利于降低消费成本，扩大消费，而①图表示的正是税率降低，消费量增加，①符合题意。

②：实施减税降费，税率降低，有利于扩大消费量，②图体现的是税率降低，消费量减少，②观点错误。

③：实施减税降费，税率降低，短期内会造成国家财政收入的减少，但这会减轻企业负担，促进企业发展，从长期来看，又有利于国家财政收入的增加，而③图体现的正是税率降低，财政收入减少，但后来，随着税率的降低，财政收入反而增加，③符合题意。

④：该图体现的是税率降低，财政收入增加，但后来，随着税率的降低，财政收入反而减少，④不合题意。

故本题选 B。

【点睛】国家宏观调控

(1) 含义：宏观调控是指国家综合运用各种手段对国民经济进行调节和控制。

(2) 必要性：社会主义市场经济的正常运行与发展，需要科学的宏观调控。宏观调控是政府的主要职责和作用之一。

(3) 目标：促进经济增长，增加就业，稳定物价，保持国际收支平衡。

(4) 手段：经济手段、法律手段、行政手段。

第二部分 本部分共6题，共55分。

16. 【答案】(1)猪肉与鸡肉是互为替代品。

从2009-2017年猪肉与鸡肉价格走势、猪肉与鸡肉占肉类消费比例的走势可以明显看出，每当猪肉价格远高于鸡肉价格时，猪肉消费量占比下降，鸡肉消费量占比上升；

每当猪肉价格与鸡肉价格接近时，猪肉消费量占比上升，鸡肉消费量占比下降。

(2)图3反应了从2014年起，我国居民猪肉消费比率明显下降，牛羊肉消费比率逐年上升。

收入是消费的前提和基础，图4显示，牛羊肉价格高于猪肉且价格逐年上涨，在这种情况下居民减少猪肉消费，转而增加价格较高的牛羊肉消费，由此可以推断我国居民收入水平提高，消费结构得到优化，消费水平有了很大提升。

【解析】

【分析】

本题以我国居民食品结构的变化作为背景材料，命题指向是《经济生活》中的相关知识。主要考查考生经济生活基本知识的掌握程度，考查考生获取和解读信息能力，分析综合演绎归纳的思维能力，论证和探究问题的能力，运用知识解决实际问题的能力。

【详解】(1)本题要求对比图1和图2变化，运用《经济生活》知识分析说明图1变化对图2变化的影响，属于说明类主观题，知识范围限定不明确。考生解答本题时侧重于“读”，读图，解题思路是正确利用材料中图头信息，注意图头中信息所展示的问题是什么；全面分析图中内容本身，提取数据，纵横对比，说明理论知识。根据材料中的图示，一方面可以较容易的看出猪肉和鸡肉是互为替代品，随着我国经济快速发展，我国居民食品结构不断优化，猪肉和鸡肉的消费量都不断增加；另一方面猪肉和鸡肉作为替代品，对于它们的需求量具有此消彼长的特点。

(2)本题要求分析说明图3反映的经济现象；不考虑其他因素，运用所学《经济生活》知识结合图4，推测其变化的主要原因，共有两个小问，属于说明类主观题和探究类主观题，知识范围不明确。考生解答时必须认真读图，全面把握图中所示信息，概括图3中所包含的信息，可以看出我国居民猪肉消费比率明显下降，牛羊肉消费比率逐年上升；从图4中可以看出牛羊肉价格高于猪肉且价格逐年上涨，根据所学可以推测出收入是消费的前提和基础、消费结构得到优化，消费水平有了很大提升等。

【点睛】解答图表类主观题应注意：

“三看”、“两比较”、“五忌”“四联”。

1. “三看”：一看图表标题，表格名称中的相同、相近或相关联的中心词，往往就是本题所要分析的主要问题；二看图表内容，这是答案的主要来源。三看表注(备注)，表注使图表的含义得到全面深刻的表述，往往对答题有较大的影响。

2. “两比较”：即“横向比较”(通常比差距)、“纵向比较”(通常比变化)等等。这可能也会是后面的设问要求回答的问题。

3. “五忌”：一忌离开图表标题和设问谈图表，不知图表所云；二忌离开对图表的分析作答，答了一些与图表无关的书本知识；三忌审题不严，答题要点不全，观点不准；四忌词多意少，言语罗嗦；五忌字体潦草，概念出错。

4. 四联：联系图表、材料、课本知识、时政热点

17. 【答案】(1) 加固、维修城镇老旧小区楼房、安装电梯及节能设施等，可以直接增加节能环保建筑材料生产、加工、施工的投资需求；增加电梯行业生产、安装、维修等投资需求，拉动实体经济增长。

(2) 改造老旧小区带动居民户内改造、装饰装修、家电更新，促进居住消费升级，由此带动行业上下游相关产业的产业发展。

(3) 在老旧小区改造中，建设快递收发站、停车场等便民设施，既增加投资需求，又方便居民生活消费，利于扩大内需，拉动实体经济增长。

【解析】

【分析】

本题以旧城改造、扩内需，惠民生设置情境，考查投资与消费的相关知识，考查学生提取有效信息，调动相关知识，描述和阐释事物的能力，培育学生对政府宏观调控政策的政治认同。

【详解】解答主观题要求学生审设问、审材料、审教材，设问要求是“投资与消费的角度”、“为什么”、“城镇老旧小区改造成为中国经济新的增长点”，材料要分成三个层次，然后准确调动教材相关知识回答，具体如下：

由材料“加固、维修城镇老旧小区楼房、安装电梯及节能设施等”，可推导出，可以直接增加节能环保建筑材料生产、加工、施工的投资需求；增加电梯行业生产、安装、维修等投资需求，拉动实体经济增长。

由材料“改造老旧小区带动居民户内改造、装饰装修、家电更新”，可推导出，有利于促进居住消费升级，由此带动行业上下游相关产业的产业发展。

由材料“在老旧小区改造中，建设快递收发站、停车场等便民设施”，可推导出，既增加投资需求，又方便居民生活消费，利于扩大内需，拉动实体经济增长。

【点睛】本题属于分析说明题。

回答分析说明类问题，主要按以下思路进行：

第一步，分析材料，把握主题，联想相关知识（本题知识角度已经给出）。

第二步，围绕主题，回归教材，确认知识（细化知识要点并确认）。以试题反映出的问题为中心与教材联系，找出材料与教材的“结合点”。

第三步，紧扣题意，合理作答。通常，我们只要将教材中的基本原理与材料一一对应，用理论分析材料即可。

18. 【答案】(1) 2013~2017 年中国企业 500 强中，民企的数量稳步增加，国企数量有所减少但始终占优势；国有经济在国民经济中起主导作用。

(2)

- ①通过资本融合，放大国有资本的功能，增强企业实力，实现不同所有制资本之间取长补短，相互促进。
- ②通过调整企业治理结构，提高企业的运行效率和管理的科学性。
- ③通过分配激励机制改革，调动员工的积极性，激发企业活力。
- ④通过技术合作，提高企业创新能力。

【解析】

【分析】

本题旨在考查我国的基本经济制度、国有企业改革等知识点，以当前国企混合所有制改革热点为主题，考查学生的知识的掌握和运用能力。

【详解】(1) 本题要求“解读材料一的经济信息”属于材料信息概括类试题。考生在解答此题时，首先要明确此题的材料范围为材料一，知识范围为“经济生活”的知识，属宏观考查。然后由材料一的图表信息可概括出 2013-2017 年中国企业 500 强国企数量逐年减少，民企数量逐年增加，但仍低于国企数量，其中在关系国民经济命脉的重要行业和关键领域，国有经济仍然处于支配地位，国有经济是国民经济的支柱。

(2) 本题要求结合材料二，运用经济生活知识说明这一国有航空物流公司是如何通过混改形成新优势的，考查我国的基本经济制度，属措施类主观题。解答时就得找出联通公司混改的具体做法，再将这些做法与教材知识相结合。材料中“通过引入合计股权比例为 45% 的非国有资本及 10% 的核心员工持股，有效带动了 22.55 亿元的非国有资本投入，民企成为新的战略投资者”可知通过资本融合，放大国有资本的功能，增强企业实力，实现不同所有制资本之间取长补短，相互促进；材料中新成立的董事会吸收民营企业代表参与企业经营决策，优化了经营管理机制”可知通过调整企业治理结构，提高企业的运行效率和管理的科学性；材料中“通过引入合计股权比例为 45% 的非国有资本及 10% 的核心员工持股”可知通过分配激励机制改革，调动员工的积极性，激发企业活力；材料中“与新的战略投资者在云计算、物联网等领域开展战略合作，培育了创新发展新动能”可知通过技术合作，提高企业创新能力。

【点睛】对于图表材料信息概括题目，学生的要做到“三看”：一看图表标题；二看图表内容；三看图表图例和注解等。“三比”：一是横向比较；二是纵向比较；三是图表与图表之间比较。先分后总，先量后速，先现象后本质。

19. 【答案】①洞察市场需求，关注消费者对智能锁消费的心理和习惯，了解消费需求发展趋势，开发外观简洁美观，功能友好方便的产品。②重视产品研发创新，降低成本，保持价格优势；利用人工智能技术开发人脸识别等消费新场景新应用，提高产品竞争力。③树立品牌意识，坚守产品品质；提高服务意识，不断提升服务能力。

【解析】

【分析】

本题以智能门锁的生产和消费为话题设置情境，从经济生活角度考查学生获取和解读信息、调动和运用知识、描述和阐释事物的能力。

【详解】本题知识范围限定“经济生活知识”，设问要求回答“说明该企业应如何实现其发展目标”，属于措施类主观题，需要从材料中提取有效信息，与教材知识相结合。

根据图表中“消费者选择智能锁的首要因素”，消费者更多关注外观、功能和价格，可从企业制定正确的经营战略，面向市场关注消费者需求这一角度进行分析。

根据图表中“2019年中国智能锁行业细分产品格局图”，人脸识别类只占6%，指静脉和其他类各占1%，可从提高自主创新能力的角度进行分析。

该企业的发展目标是成为“中国智能锁行业领军品牌”，可从企业树立良好的信誉和形象，树立品牌意识这一角度进行分析。

【点睛】措施类主观题答题方法

第一步，落实主体

解答措施类试题，最关键的是明确措施的实施者，有几个措施的实施者，答案就有几个角度。主体明确的要围绕设问指定的主体进行发散思考，所答内容要符合主体身份；主体不明确的则要根据题目设置的情境，从不同主体的角度进行发散思维，考虑不同的主体在解决某一问题中负有怎样的责任，该作出怎样的努力。

第二步，“三联系”分析对策

一是联系教材，解答措施类试题，首先要做的便是联系教材，看看教材有没有给我们提供解决这一问题的措施或方法。

二是联系材料，看看材料提供了哪些有用信息，如果材料呈现的是问题或困难，就要对症下药提出措施；如果材料呈现的是成功经验，就要对材料中的措施与经验加以概括总结，并使之与教材理论相符合。

三是联系时政知识，从时政热点、党和国家的方针政策中寻找解决问题的办法。

20. 【答案】(1)买方收益： $10.8-10=0.8$ 万元；

卖方收益： $2.5-0.8=1.7$ 万元。

减税使买卖双方收益均增加；

卖方增加的收益大于买方增加的收益，企业获益更大。

(2)增加了企业利润，有利于促进企业技术进步。增加了居民实际收入，有利于刺激消费以带动制造业健康成长。发挥了税收和价格在资源配置中的作用，有利于引导资本向制造业转移。能促进制造业结构优化升级，有利于提升我国制造业的国际竞争力。

【解析】

【分析】

本题以“减税”为背景，从经济生活角度设置问题，考查宏观调控的相关知识，考查学生调动和运用知识的能力、论证和探究问题的能力，解答本题要求学生教材内容比较熟悉并有一定的综合分析能力，本题难度一般。

【详解】（1）本题有两小问。

第一问为计算题，要求计算销售单件产品后买卖双方从免税中分别获得的收益。需要仔细阅读材料，弄清内在关系进行计算。

根据题意，首先可以计算买方收益，由免税前后产品单价可知，免税前单价为10.8万元（含税额2.5万元），免税后单价为10万元，故可知买方收益： $10.8-10=0.8$ 万元；免税后，卖方单件产品可以获得免税收入2.5万元，但单价降低0.8万元，故可知卖方收益： $2.5-0.8=1.7$ 万元。

第二问属于分析说命题，要求据此指出其收益变化情况，需要在第一问基础上作答。

由以上计算结果可知：减税使买卖双方收益均增加；卖方增加的收益大于买方增加的收益，企业获益更大。

（2）本题目类型为原因类试题，知识限定不明确，要求说明减税可以助推中国制造向中国智造转型升级的理由。

解答本题，需要从减税带来的具体意义进行分析说明，据此，我们可以从减税对企业的意义、对消费者的意义、对资源配置的意义、对产业结构优化升级的意义等角度，分析说明减税可以助推中国制造向中国智造转型升级的理由。

【点睛】解答原因类试题一般做到“两审读，一发散，一结合”。所谓“两审读”：第一是审读主干材料，依据主干材料抽取主体信息和主旨信息；第二是审读设问，通过设问明确知识的指向范围，或者主体指向。“一发散”就是依据设问或者主干信息，明确问题核心，以问题核心为中心，发散相关有效知识点。“一结合”：结合发散指向与设问核心，正确作答。

21. **【答案】**聚焦脱贫攻坚重大工程，政协委员深入调研，调查贫困群众需求，建言资政，凝聚共识，形成健康脱贫的提案。政协将协商民主贯穿政治协商、参政议政、民主监督的全过程，就托底医疗保障、基层医疗机构人才培养的提出高质量建议。政府有关部门强化责任担当，履行职能，各方通力合作，将提案转化为政策，落实民生福祉。

【解析】

【分析】

本题以“中国制度优势透视：看一个提案怎样变成民生福祉”作为背景材料，从《政治生活》角度设置问题，考查政协委员、人民政协以及政府等的相关知识，设问指向“对一个提案转变为健康福祉的过程进行阐释”，属于说明类主观题。

【详解】解答本题，关键在于我们要认真审读材料，找出相应行为主体，对应相关知识点作答。“一位全国政协委员”“经过调研，他与其他政协委员联名提交了一份关于加大农村贫困人口大病患者医疗保障力度的提案”，这体现了政协委员深入调研，调查贫困群众需求，建言资政，凝聚共识，形成健康脱贫的提案；“全国政协调研组”“委员1提出”“委员2提出”，这些关键词说明了政协将协商民主贯穿政治协商、参政议政、民主监督的全过程，就托底医疗保障、基层医疗机构人才培养提出高质量建议；“提案的主办单位国家卫生健康委员会联合国家发展改革委员会，财政部，国家医疗保障局及国务院扶贫办制定印发了《健康扶贫三年攻坚行动实施方案》”，这说明政府有关部门强化责任担当，履行职能，各方通力合作，将提案转化为政策，落实民生福祉。

【点睛】主观题答题技巧

1.审材料(主题→分析、综合)

- ①概括中心思想(把握整体观点)
- ②划分层次(根据标点符号)→把握大概的知识点
- ③中心句，关键词(划出来、圈起来)→联系具体知识点
- ④边审材料边简要拟列提纲，防止遗漏知识点(不要忽视整体观点)

2.审问题

- ①范围(如果没有给，就要联系材料自己判断，材料侧重哪方面就重点写哪方面)
- ②题型(是什么、为什么、怎么办，认识题，意义题)
- ③设问中的主体和客体

3.组织答案要点

- (1)要点：①段落化 ②序号化，如①②③ ③规范化(专业术语+时政语言)
- (2)技巧：①先重点，再其它 ②先观点，再材料 ③先教材，再创新(时政语言)
- ④搜索课本相关语言，把材料语言转化为课本语言

关于我们

北京高考资讯是专注于北京新高考政策、新高考选科规划、志愿填报、名校强基计划、学科竞赛、高中生涯规划的超级升学服务平台。总部坐落于北京，旗下拥有北京高考在线网站（www.gaokzx.com）和微信公众平台等媒体矩阵。

目前，北京高考资讯微信公众号拥有30W+活跃用户，用户群体涵盖北京80%以上的重点中学校长、老师、家长及考生，引起众多重点高校的关注。
北京高考在线官方网站：www.gaokzx.com

北京高考资讯 (ID: bj-gaokao)
扫码关注获取更多



关注北京高考在线官方微信：[北京高考资讯 \(ID:bj-gaokao\)](https://www.gaokzx.com)，获取更多试题资料及排名分析信息。