

高三数学参考答案

1. 【答案】 C

【解析】 $\because N = \{x \mid y = \sqrt{x^2 - x - 6}\} = \{x \mid x^2 - x - 6 \geq 0\} = (-\infty, -2] \cup [3, +\infty)$, 而 $M = \{-3, -2, 0, 1, 2\}$,
 $\therefore M \cap N = \{-3, -2\}$.

2. 【答案】 B

【解析】 $\because z = \frac{1-i}{1+i} = \frac{(1-i)(1-i)}{(1+i)(1-i)} = \frac{-2i}{2} = -i$, $\therefore \bar{z} = i$, 即 $\bar{z} - z = 2i$.

3. 【答案】 D

【解析】 $\because a = (1, 1), b = (1, -1)$, $\therefore \lambda a + b = (1+\lambda, \lambda-1), a + \mu b = (1+\mu, 1-\mu)$,
 由 $(\lambda a + b) \parallel (a + \mu b)$ 可得, $(1+\lambda) \cdot (1-\mu) = (\lambda-1) \cdot (1+\mu)$, 整理得 $\lambda\mu = 1$.

4. 【答案】 A

【解析】 函数 $y = \ln x$ 在 \mathbf{R}^* 上单调递增, 而函数 $f(x) = \ln(x^2 - ax)$ 在区间 $(1, +\infty)$ 上单调递增,
 则有函数 $y = x(x-a) = (x - \frac{a}{2})^2 - \frac{a^2}{4}$ 在区间 $(1, +\infty)$ 上恒正且单调递增, 因此 $\frac{a}{2} \leq 1$ 且 $1-a \geq 0$,
 解得 $a \leq 1$, \therefore 实数 a 的取值范围是 $(-\infty, 1]$.

5. 【答案】 C

【解析】 由题意可得: $(\frac{4}{5})^n < \frac{1}{5}, \lg(\frac{4}{5})^n < \lg \frac{1}{5}, n \lg \frac{8}{10} < \lg \frac{1}{5}, n(3 \lg 2 - 1) < -(1 - \lg 2)$,

$n > \frac{1-0.301}{1-3 \times 0.301} \approx 7.21$, 又 $n \in \mathbf{N}$, 所以 n 的最小值是 8, 选项 C 正确.

6. 【答案】 A

【解析】 $(x+y)^5(x-y)^6 = (x-y)(x^2-y^2)^5$,
 $(x^2-y^2)^5$ 展开式的通项公式为 $T_{r+1} = (-1)^r C_5^r x^{10-2r} y^{2r} (0 \leq r \leq 5, r \in \mathbf{N})$,
 $r=3$ 时, $T_4 = -10x^4 y^6$, 所以 $x^4 y^7$ 的系数为 $-1 \times (-10) = 10$.

7. 【答案】 D

【解析】 $\because x^2 + y^2 - 4y - 1 = 0$, 即 $x^2 + (y-2)^2 = 5$, 可得圆心 $C(0, 2)$, 半径 $r = \sqrt{5}$,
 过点 $A(2, 0)$ 作圆 C 的切线, 切点为 M, N ,

$\therefore |AC| = \sqrt{2^2 + (-2)^2} = 2\sqrt{2}$, 则 $|MA| = \sqrt{|AC|^2 - r^2} = \sqrt{3}$,

可得 $\sin \angle MAC = \frac{\sqrt{5}}{2\sqrt{2}} = \frac{\sqrt{10}}{4}$, $\cos \angle MAC = \frac{\sqrt{3}}{2\sqrt{2}} = \frac{\sqrt{6}}{4}$,

则 $\sin \angle MAN = \sin 2 \angle MAC = 2 \sin \angle MAC \cos \angle MAC = 2 \times \frac{\sqrt{10}}{4} \times \frac{\sqrt{6}}{4} = \frac{\sqrt{15}}{4}$,

$\cos \angle MAN = \cos 2 \angle MAC = \cos^2 \angle MAC - \sin^2 \angle MAC = \left(\frac{\sqrt{6}}{4}\right)^2 - \left(\frac{\sqrt{10}}{4}\right)^2 = -\frac{1}{4} < 0$, 即 $\angle MAN$ 为钝角,

$\therefore \sin \alpha = \sin(\pi - \angle MAN) = \sin \angle MAN = \frac{\sqrt{15}}{4}$, $\tan \alpha = \tan(\pi - \angle MAN) = -\tan \angle MAN = \sqrt{15}$.

8. 【答案】 C

【解析】 $\frac{\ln 2}{2} < \frac{\ln 3}{3} \Leftrightarrow 3 \ln 2 < 2 \ln 3 \Leftrightarrow \ln 8 < \ln 9$, 选项 A 显然正确;

设 $k(x) = \frac{e^x}{x}, x > 1$, 则 $k'(x) = \frac{e^x(x-1)}{x^2} > 0$ 在 $(1, +\infty)$ 上恒成立, 故函数 $k(x)$ 在 $(1, +\infty)$ 上单调递增,

故 $k(a) > k(b)$, 即 $\frac{e^a}{a} > \frac{e^b}{b}$, 故 $be^a > ae^b$, 选项 B 成立;

$\cos \frac{1}{4} < \frac{31}{32} \Leftrightarrow \cos \frac{1}{4} < 1 - \frac{1}{32} = 1 - \frac{1}{2} \left(\frac{1}{4}\right)^2$, 构造 $f(x) = \cos x - 1 + \frac{1}{2}x^2$, $f'(x) = x - \sin x \geq 0$, $f(x)$ 单调递增,

$\therefore f(x) \geq f(0) = 0$, $f\left(\frac{1}{4}\right) = \cos \frac{1}{4} - \frac{31}{32} > 0$, 选项 C 不成立;

$\sin \frac{7}{2} + \frac{7}{2} > \pi \Leftrightarrow \sin \frac{7}{2} > \pi - \frac{7}{2} \Leftrightarrow \sin\left(\pi - \frac{7}{2}\right) > \pi - \frac{7}{2} \Leftrightarrow \sin\left(\frac{7}{2} - \pi\right) < \frac{7}{2} - \pi$,

构造函数 $f(x) = x - \sin x$, $x \in (0, 1)$, $f'(x) = 1 - \cos x \geq 0$, $f(x)$ 单调递增,

$\therefore f\left(\frac{7}{2} - \pi\right) > f(0) = 0$, $\frac{7}{2} - \pi > \sin\left(\frac{7}{2} - \pi\right)$, 选项 D 成立.

9. 【答案】 AB

【解析】 数据 $-1, 1, 3, 5, 6, 7, 9, x, 10, 10$ 的 80% 分位数为 $\frac{x+10}{2}$,

数据 $-1, 1, 3, 5, 6, 7, 9, 10, 10$ 的 80% 分位数为 10, $\therefore x = 10$, 选项 A 正确;

根据平均值定义可知选项 B 正确;

$D(X) = \frac{3}{2}$, $D(2X+3) = 4D(X) = 6$, 故选项 C 错误;

相关系数 $|r|$ 越大, 两个变量线性相关性越强, 选项 D 错误.

10. 【答案】 BC

【解析】 根据题意: 选项 A 中, $-1 \leq f(x) \leq 1$, 不满足②;

选项 B 中, 满足①②③;

选项 C 中, 满足①②③;

选项 D 中, 没有最大值, 不满足③; 故选项 BC 正确.

11. 【答案】 ACD

【解析】 设 G 为 CD 中点, 则截面图形是 A_1BGE 为等腰梯形, F_1, F_2 分别为 C_1D_1, C_1C 的中点, 由于

$B_1F \parallel$ 平面 A_1BE , 则平面 $B_1F_1F_2 \parallel$ 平面 A_1BE , 故点 F 的轨迹为线段 F_1F_2 , 且 $|F_1F_2| = \frac{\sqrt{2}}{2}$, 选项 A 正确;

$V_{F-A_1BE} = V_{B_1-A_1BE} = V_{E-A_1BB_1} = \frac{1}{6}$, 选项 B 错误;

当点 F 为 F_1F_2 中点时, 满足 $B_1F \perp CD_1$, 此时直线 B_1F 与直线 BC 所成角的正弦值恰好为 $\frac{1}{3}$;

当点 F 与 F_1 或 F_2 重合时, 此时直线 B_1F 与直线 BC 所成角的正弦值恰好为 $\frac{\sqrt{5}}{5}$, 选项 CD 正确.

12. 【答案】 ACD

【解析】 因为 $a_{n+1} - a_n = \frac{a_n + \sqrt{a_n^2 + 1}}{2} - a_n = \frac{\sqrt{a_n^2 + 1} - a_n}{2} > 0$, 即 $a_{n+1} > a_n$,

所以数列 $\{a_n\}$ 为递增数列, 可得 $a_{2024} > a_{2023}$, 选项 A 正确;

因为数列 $\{a_n\}$ 为递增数列且 $a_n \geq 1 > 0$, 则 $\left\{\frac{1}{a_n^2}\right\}$ 为递减数列, 选项 B 错误;

因为 $a_{n+1} = \frac{a_n + \sqrt{a_n^2 + 1}}{2}$, 则 $2a_{n+1} - a_n = \sqrt{a_n^2 + 1}$, 两边平方整理得 $4a_{n+1}^2 - 1 = 4a_{n+1}a_n$, 选项 C 正确.

因为 $4a_{n+1}^2 - 1 = 4a_{n+1}a_n$, 整理得 $a_n = a_{n+1} - \frac{1}{4a_{n+1}}$,

两边平方得 $a_n^2 = a_{n+1}^2 + \frac{1}{16a_{n+1}^2} - \frac{1}{2} > a_{n+1}^2 - \frac{1}{2}$, 即 $a_{n+1}^2 - a_n^2 < \frac{1}{2}$,

可得 $a_{2024}^2 - a_{2023}^2 < \frac{1}{2}, a_{2023}^2 - a_{2022}^2 < \frac{1}{2}, \dots, a_2^2 - a_1^2 < \frac{1}{2}$,

所以 $a_{2024}^2 - a_1^2 < \frac{1}{2} \times (2024 - 1) = 1011.5$,

即 $a_{2024}^2 - 1 < 1011.5$, 所以 $a_{2024}^2 < 1012.5 < 1013$, 故 D 正确.

13. 【答案】 78

【解析】 (1) 上午 2 节, 下午一节, 共有 $3 \times 3A_3^3 = 54$ 种;

(2) 上午 1 节, 下午 2 节, 共有 $4A_3^3 = 24$, 故不同的排课方案共有 $54 + 24 = 78$ 种.

14. 【答案】 $\sqrt{3}$

【解析】 由图象可得 $A = f(x)_{\max} = 2$, 函数 $y = f(x)$ 的最小正周期为 $T = 2 \times \left(\frac{\pi}{3} + \frac{\pi}{6} \right) = \pi$,

$\therefore \omega = \frac{2\pi}{T} = \frac{2\pi}{\pi} = 2$, 则 $f(x) = 2\sin(2x + \varphi)$,

$\therefore f\left(-\frac{\pi}{6}\right) = 2\sin\left[2 \times \left(-\frac{\pi}{6}\right) + \varphi\right] = 2\sin\left(\varphi - \frac{\pi}{3}\right) = 0$,

$\therefore \varphi - \frac{\pi}{3} = 2k\pi (k \in \mathbf{Z})$, 即 $\varphi = \frac{\pi}{3} + 2k\pi (k \in \mathbf{Z})$,

由于 $|\varphi| < \frac{\pi}{2}$, $\therefore k = 0, \varphi = \frac{\pi}{3}$,

$\therefore f(x) = 2\sin\left(2x + \frac{\pi}{3}\right)$, 故 $f\left(\frac{\pi}{6}\right) = 2\sin\frac{2\pi}{3} = \sqrt{3}$.

15. 【答案】 $\frac{\sqrt{5} + \sqrt{2}}{3}$

【解析】 $\because \vec{F}_1B \perp \vec{F}_2B, \therefore |\vec{F}_1B| = |\vec{F}_2B| = \sqrt{2}c$,

又 $\vec{F}_2A = -2\vec{F}_2B, \therefore |\vec{F}_2A| = 2\sqrt{2}c$, 则 $|\vec{AF}_1| = 2a + 2\sqrt{2}c$,

$\therefore |\vec{AF}_1| - |\vec{AF}_2| = 2a$, 即 $2\sqrt{5}c - 2\sqrt{2}c = 2a$,

$\therefore \frac{c}{a} = \frac{1}{\sqrt{5} - \sqrt{2}} = \frac{\sqrt{5} + \sqrt{2}}{3}$.

16. 【答案】 $12\sqrt{3} - \frac{10}{3}\pi$

【解析】 构建一个底面边长为 $2\sqrt{3}$, 高为 2 的正三棱柱, 其内切球正好半径为 1, 球外部分体积为

$V_1 = V_{\text{柱}} - V_{\text{球}} = 6\sqrt{3} - \frac{4}{3}\pi$;

法一: 本题中的小球未到达的区域还包括三条侧棱与球的空间区域, 其中 V_2 为底面是两个边长为 $\sqrt{3}$, 1 拼接而成的四边形, 其中两个对角为 90° , 另外两个对角分别为 60° 和 120° , 高为 2 的曲边柱

体, $V_2 = 3 \times 2 \left(\sqrt{3} - \frac{1}{3}\pi \right)$,

所以小球未能达到的空间体积为 $V_1 + V_2 = 6\sqrt{3} - \frac{4}{3}\pi + 3 \times 2 \left(\sqrt{3} - \frac{1}{3}\pi \right) = 12\sqrt{3} - \frac{10}{3}\pi$.

法二:球在上下移动中所形成的空间几何体为球+圆柱,

$$\text{其体积为: } V_{\text{柱}} + V_{\text{球}} = \pi \cdot 1^2 \cdot (4-2) + \frac{4}{3} \pi \cdot 1^3 = \frac{10}{3} \pi,$$

$$\text{所以剩下体积: } V = \frac{\sqrt{3}}{4} (2\sqrt{3})^2 \cdot 4 - \frac{10}{3} \pi = 12\sqrt{3} - \frac{10}{3} \pi.$$

17. 【解析】 (1) 由 $\sin A - \sin B = \sin(C-B)$ 可知, $\sin(C+B) - \sin(C-B) = \sin B$,
 则 $2\cos C \sin B - \sin B = 0$,
 $\therefore \sin B \neq 0$,
 $\therefore \cos C = \frac{1}{2}$, 即 $C = \frac{\pi}{3}$; (4分)

(2) $\therefore S = \frac{1}{2} ab \sin C = \frac{\sqrt{3}}{4} ab = \frac{\sqrt{3}}{6} c^2$,
 $\therefore c^2 = \frac{3}{2} ab$, (6分)

又 $c^2 = a^2 + b^2 - ab = \frac{3}{2} ab$, 则 $2a^2 - 5ab + 2b^2 = 0$,
 $\therefore a = 2b$ 或 $2a = b$, (8分)

\therefore 当 $a = 2b$ 时, $\frac{c}{b} = \sqrt{3}$;
 当 $2a = b$ 时, $\frac{c}{b} = \frac{\sqrt{3}}{2}$ (10分)

18. 【解析】 (1) $\therefore a_n^2 + 2a_n = 4S_n - 1$,
 $\therefore a_{n-1}^2 + 2a_{n-1} = 4S_{n-1} - 1, (n \geq 2)$,
 两式相减可得: $a_n^2 - a_{n-1}^2 + 2(a_n - a_{n-1}) = 4a_n, (n \geq 2)$,
 $\therefore (a_n + a_{n-1})(a_n - a_{n-1} - 2) = 0, (n \geq 2)$, 又 $a_n > 0$,
 $\therefore a_n - a_{n-1} = 2, (n \geq 2)$,
 又 $a_1^2 + 2a_1 = 4a_1 - 1$,
 $\therefore a_1 = 1$,
 \therefore 数列 $\{a_n\}$ 是以首项为 1, 公差为 2 的等差数列,
 $\therefore a_n = 2n - 1$,
 可得 $S_n = n^2$; (6分)

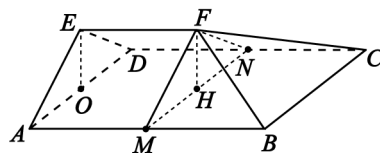
(2) 由题意可得, $b_n = \frac{4(n+2)}{2n \cdot 2(n+1) \cdot 2^{n+1}} = \frac{2(n+1) - n}{n(n+1) \cdot 2^{n+1}} = \frac{1}{n \cdot 2^n} - \frac{1}{(n+1) \cdot 2^{n+1}}$
 $\therefore b_1 + b_2 + \dots + b_9 = \frac{1}{2} - \frac{1}{10 \times 2^{10}} = \frac{5119}{10240}$ (12分)

19. 【解析】 (1) 分别取 AB 与 CD 的中点 M, N , 连接 MN, MF, NF , 则平面 FMN 将五面体分割成两部分, 棱柱 $ADE-MNF$ 和棱锥 $F-MBCN$, 故 $V_{\text{五面体}} = V_{ADE-MNF} + V_{F-MBCN}$,

取 AD 中点为 O , 易知 $EO \perp$ 平面 $ABCD$,
 则 $AB = 2AD = 2EF = 4, AE = DE = \sqrt{2}, FH = ED = 1$,

$$\text{则 } V_{F-MBCN} = \frac{1}{3} S_{MBCN} \cdot FH = \frac{1}{3} \times 4 \times 1 = \frac{4}{3},$$

$$V_{ADE-MNF} = S_{\triangle ADE} \cdot AM = 1 \times 2 = 2,$$



$$V_{\text{五面体}} = V_{F-MBCN} + V_{ADE-MNF} = \frac{10}{3}; \dots\dots\dots (5 \text{分})$$

(2)解法一:

取 BC 中点 Q , 连接 OQ ,

$$\because AE = ED = \sqrt{2}, AD = 2,$$

$$\therefore \angle AED = 90^\circ,$$

$$\because O \text{ 为 } AD \text{ 中点}, \therefore EO \perp AD,$$

$$\therefore \triangle ADE \perp \text{平面 } ABCD,$$

$$\therefore EO \perp \text{平面 } ABCD, OQ \perp AD, OA, OE, OQ \text{ 两两垂直},$$

以 O 为坐标原点, OA 为 x 轴, OQ 为 y 轴, OE 为 z 轴建立如图所示的空间直角坐标系;

$$\text{则 } B(1, 4, 0), C(-1, 4, 0), A(1, 0, 0), E(0, 0, 1), \vec{BC} = (-2, 0, 0),$$

$$\because \text{几何体是五面体}, AB \parallel CD, AB \parallel \text{平面 } CDEF, \text{平面 } ABFE \cap \text{平面 } CDEF = EF,$$

$$\therefore AB \parallel EF,$$

$$\therefore EF = 2,$$

$$\therefore F(0, 2, 1), \vec{BF} = (-1, -2, 1) \dots\dots\dots (6 \text{分})$$

设平面 BCF 的法向量 $\mathbf{m} = (x, y, z)$,

$$\text{可得 } \begin{cases} \vec{BC} \cdot \mathbf{m} = 0, \\ \vec{BF} \cdot \mathbf{m} = 0, \end{cases} \text{ 则 } \begin{cases} -2x = 0, \\ -x - 2y + z = 0, \end{cases}$$

$$\text{取 } x = 0, \text{ 得 } y = 1, z = 1,$$

$$\text{解得平面 } BCF \text{ 的一个法向量 } \mathbf{m} = (0, 1, 2), \dots\dots\dots (8 \text{分})$$

$$\because G \text{ 在 } \vec{BF} \text{ 上}, \text{ 设 } \vec{BG} = \lambda \vec{BF} = \lambda(-1, -2, 1) = (-\lambda, -2\lambda, \lambda),$$

$$\therefore G(1-\lambda, 4-2\lambda, \lambda), \text{ 则 } \vec{AG} = (-\lambda, 4-2\lambda, \lambda),$$

设直线 AG 与平面 BCF 所成角为 θ ,

$$\sin \theta = |\cos \langle \vec{AG}, \mathbf{m} \rangle| = \left| \frac{\mathbf{m} \cdot \vec{AG}}{|\mathbf{m}| |\vec{AG}|} \right| = \left| \frac{4-2\lambda+2\lambda}{\sqrt{5} \cdot \sqrt{\lambda^2 + (4-2\lambda)^2 + \lambda^2}} \right| = \left| \frac{4}{\sqrt{5} \cdot \sqrt{6\lambda^2 - 16\lambda + 16}} \right| = \frac{2\sqrt{30}}{15},$$

$$\therefore 3\lambda^2 - 8\lambda + 5 = 0, \therefore \lambda = 1 \text{ 或 } \lambda = \frac{5}{3} \text{ (舍去)},$$

$$\therefore |\vec{BG}| = |\vec{BF}| = \sqrt{6},$$

故存在 G 点, 当 $BG = \sqrt{6}$, 即 G 与 F 重合时, AG 与平面 BCF 所成角的正弦值为 $\frac{2\sqrt{30}}{15}$. $\dots\dots (12 \text{分})$

解法二:

Q 为 BC 中点, 连接 OQ 交 MN 于 H , 如右图所示,

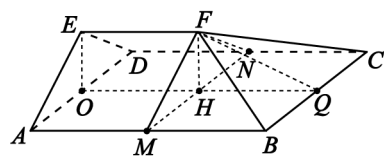
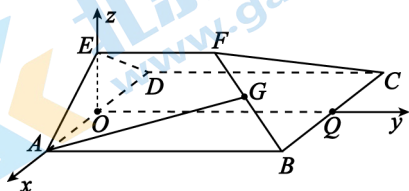
$HF \perp \text{平面 } ABCD, AD \parallel BC, BC \subset \text{平面 } BCF, AD \not\subset \text{平面 } BCF,$

$$\therefore AD \parallel \text{平面 } BCF,$$

$$A \text{ 到平面 } BCF \text{ 的距离} = O \text{ 到平面 } BCF \text{ 的距离} = 2 \times H \text{ 到平面 } BCF \text{ 的距离} = \frac{4}{\sqrt{5}},$$

假设 G 点存在, 设 $BG = x, x \in [0, \sqrt{6}]$,

$$\text{由 } AG \text{ 与平面 } BCF \text{ 所成角正弦值为 } \frac{2\sqrt{30}}{15},$$



$\therefore AG = \sqrt{6}$, (8分)

由于 $\cos \angle ABF = \frac{\sqrt{6}}{3}$,

$\therefore AG^2 = AB^2 + BG^2 - 2 \cdot AB \cdot BG \cdot \cos \angle ABF$,

$\therefore x^2 - \frac{8\sqrt{6}}{3}x + 10 = 0$,

解得 $x = \sqrt{6}$ 或 $\frac{5\sqrt{6}}{3}$ (舍去), (10分)

存在点 G 满足条件, 此时 $BG = \sqrt{6}$ (12分)

20.【解析】 (1) 有放回抽样会有 16 个等可能的样本

\bar{t}	$t_{(1)} = 5$	$t_{(2)} = 6$	$t_{(3)} = 7$	$t_{(4)} = 8$
$t_{(1)} = 5$	5	5.5	6	6.5
$t_{(2)} = 6$	5.5	6	6.5	7
$t_{(3)} = 7$	6	6.5	7	7.5
$t_{(4)} = 8$	6.5	7	7.5	8

样本均值的分布列为:

\bar{t}	5	5.5	6	6.5	7	7.5	8
P	$\frac{1}{16}$	$\frac{1}{8}$	$\frac{3}{16}$	$\frac{1}{4}$	$\frac{3}{16}$	$\frac{1}{8}$	$\frac{1}{16}$

\therefore 均值 $E(\bar{t}) = 5 \times \frac{1}{16} + 5.5 \times \frac{1}{8} + 6 \times \frac{3}{16} + 6.5 \times \frac{1}{4} + 7 \times \frac{3}{16} + 7.5 \times \frac{1}{8} + 8 \times \frac{1}{16} = 6.5$ (4分)

(2) 无放回抽样会有 12 个等可能的样本,

\bar{t}	$t_{(1)} = 5$	$t_{(2)} = 6$	$t_{(3)} = 7$	$t_{(4)} = 8$
$t_{(1)} = 5$		5.5	6	6.5
$t_{(2)} = 6$	5.5		6.5	7
$t_{(3)} = 7$	6	6.5		7.5
$t_{(4)} = 8$	6.5	7	7.5	

样本均值的分布列为:

\bar{t}	5.5	6	6.5	7	7.5
P	$\frac{1}{6}$	$\frac{1}{6}$	$\frac{1}{3}$	$\frac{1}{6}$	$\frac{1}{6}$

样本均值超过总体均值的概率为 $\frac{1}{6} + \frac{1}{6} = \frac{1}{3} < 0.5$,

所以样本均值超过总体均值的概率不会大于 0.5. (8分)

(3) 样本均值与总体均值的误差不超过 0.5 的概率 $P(6 \leq \bar{t} \leq 7)$,

有放回的抽样, $P(6 \leq \bar{t} \leq 7) = \frac{5}{8}$; 无放回的抽样, $P(6 \leq \bar{t} \leq 7) = \frac{2}{3}$,

$\frac{5}{8} < \frac{2}{3}$, 故采用无放回的抽样方法概率更大. (12分)

21.【解析】(1)由椭圆的性质可知,左焦点 F_1 发出的光线,经过两次反射之后回到点 F_1 ,
光线经过的路程为 $4a=8$,
解得 $a=2$; (2分)

又椭圆的离心率为 $\frac{1}{2}$,

$$\text{得 } e = \frac{c}{a} = \frac{1}{2},$$

$$\therefore c=1, \text{故 } b^2 = a^2 - c^2 = 4 - 1 = 3,$$

故椭圆 C 的标准方程为 $\frac{x^2}{4} + \frac{y^2}{3} = 1$ (4分)

(2)椭圆 $C: \frac{x^2}{4} + \frac{y^2}{3} = 1$ 的 $a=2, b=\sqrt{3}, c=1$, 右顶点为 $A(2,0)$, 上顶点为 $B(0,\sqrt{3})$,

设 $P(x_1, y_1), Q(x_2, y_2)$, 直线 PQ 的方程为 $x=my+t$,

$$\text{联立 } \begin{cases} x=my+t, \\ \frac{x^2}{4} + \frac{y^2}{3} = 1, \end{cases} \text{ 可得 } (3m^2+4)y^2 + 6mty + 3t^2 - 12 = 0,$$

$$\begin{cases} y_1 + y_2 = -\frac{6mt}{3m^2+4}, \\ y_1 y_2 = \frac{3t^2-12}{3m^2+4}, \end{cases}$$

由 $OP \perp OQ$, 可得 $\vec{OP} \cdot \vec{OQ} = 0$,

$$\begin{aligned} x_1 x_2 + y_1 y_2 &= (my_1+t)(my_2+t) + y_1 y_2 = (1+m^2)y_1 y_2 + mt(y_1+y_2) + t^2 \\ &= (1+m^2) \cdot \frac{3t^2-12}{3m^2+4} + mt \left(\frac{-6mt}{3m^2+4} \right) + t^2 = 0, \end{aligned}$$

化简为: $7t^2 = 12(m^2+1)$; (6分)

$$\text{而 } O \text{ 到直线 } PQ \text{ 的距离为 } |OM| = \frac{|t|}{\sqrt{1+m^2}} = \sqrt{\frac{12}{7}} = \frac{2\sqrt{21}}{7},$$

即有 M 的轨迹方程为 $x^2 + y^2 = \frac{12}{7}$; (8分)

解法一:

$$\text{设 } M(m, n), \text{ 则 } \vec{MA} \cdot \vec{MB} = (2-m, -n) \cdot (-m, \sqrt{3}-n) = m^2 - 2m + n^2 - \sqrt{3}n = (m-1)^2 + \left(n - \frac{\sqrt{3}}{2}\right)^2 - \frac{7}{4},$$

表示点 (m, n) 与点 $(1, \frac{\sqrt{3}}{2})$ 的距离的平方, 减去 $\frac{7}{4}$ 的差; (10分)

由点 $(0,0)$ 与 $(1, \frac{\sqrt{3}}{2})$ 的距离为 $\frac{\sqrt{7}}{2}$,

可得 M 与点 $(1, \frac{\sqrt{3}}{2})$ 的距离的最大值为 $\frac{\sqrt{7}}{2} + \frac{2\sqrt{21}}{7}$,

则 $\vec{MA} \cdot \vec{MB}$ 的最大值为 $\left(\frac{\sqrt{7}}{2} + \frac{2\sqrt{21}}{7}\right)^2 - \frac{7}{4} = \frac{12}{7} + 2\sqrt{3}$ (12分)

解法二:

令 $r_0 = \sqrt{\frac{12}{7}}$, 设 $M(r_0 \cos \theta, r_0 \sin \theta)$, $\theta \in [0, 2\pi)$,

$$\begin{aligned} \therefore \vec{MA} \cdot \vec{MB} &= (2-r_0 \cos \theta, -r_0 \sin \theta) \cdot (-r_0 \cos \theta, \sqrt{3}-r_0 \sin \theta) = \frac{12}{7} - 2r_0 \cos \theta - \sqrt{3}r_0 \sin \theta \\ &= \frac{12}{7} - \sqrt{7} \cdot \frac{2\sqrt{3}}{\sqrt{7}} \sin(\theta + \varphi) \leq \frac{12}{7} + 2\sqrt{3} \quad (\text{其中 } \tan \varphi = \frac{2\sqrt{3}}{3}), \end{aligned}$$

当且仅当 $\theta + \varphi = -\frac{\pi}{2}$, $\tan \theta = \tan(-\frac{\pi}{2} - \varphi) = \frac{1}{\tan \varphi} = \frac{\sqrt{3}}{2}$ 时, 取“=”.

22. 【解析】 (1) $p(x) = xf(x) + ag(x) = xe^x + a \ln x$,

当 $a = 1$ 时, $p(x) = xe^x + \ln x$, $p(1) = e$,

$$p'(x) = e^x + xe^x + \frac{1}{x}, p'(1) = 2e + 1,$$

\therefore 切线方程为 $y - e = (2e + 1)(x - 1)$,

切线与坐标轴的交点为 $A(\frac{e+1}{2e+1}, 0)$, $B(0, -e-1)$,

$$S_{\triangle AOB} = \frac{1}{2} \left| \frac{e+1}{2e+1} \right| \cdot |-e-1| = \frac{(e+1)^2}{4e+2}; \dots\dots\dots (4 \text{ 分})$$

(2) 当 $a = -1$ 时, $p(x) = xe^x - \ln x$,

由题意 $(t+1)r(t) = p(t)$, 即 $(t+1) \left[(t+1)e^t - \frac{1}{t} \right] = te^t - \ln t$,

$$(t+1)^2 e^t - \frac{t+1}{t} = te^t - \ln t,$$

$$t(t+1)^2 e^t - (t+1) = t^2 e^t - t \ln t,$$

$$(t+1)^2 e^{t+\ln t} - te^{t+\ln t} = (t+1) - t \ln t,$$

$$e^{t+\ln t} (t^2 + t + 1) = t^2 + t + 1 - t^2 - t \ln t,$$

$$(t^2 + t + 1)(e^{t+\ln t} - 1) + t(t + \ln t) = 0 (*) \dots\dots\dots (6 \text{ 分})$$

$\therefore e^x \geq x + 1$ (证明略)

$$\therefore \text{上式} = 0 \geq (t^2 + t + 1)(t + \ln t + 1 - 1) + t(t + \ln t)$$

$$= (t + \ln t)(t^2 + t + 1 + t)$$

$$= (t + \ln t)(t + 1)^2$$

$$\therefore (t + 1)^2 \geq 0, \therefore t + \ln t \leq 0, \textcircled{1}$$

$$\therefore t > 0, \text{由} (*) \text{得}, 0 \leq (t^2 + t + 1)(e^{t+\ln t} - 1),$$

$$\therefore t + \ln t \geq 0, \textcircled{2}$$

由 $\textcircled{1}\textcircled{2}$ 知 $t + \ln t = 0$, $\dots\dots\dots (9 \text{ 分})$

构造函数 $\varphi(t) = t + \ln t$, ($t > 0$), $\varphi'(t) = 1 + \frac{1}{t} > 0$,

$\therefore \varphi(t)$ 在 $(0, +\infty)$ 单调递增,

$$\varphi\left(\frac{5}{9}\right) = \frac{5}{9} + \ln 5 - 2 \ln 3 < 0, \varphi\left(\frac{5}{3e}\right) = \frac{5}{3e} + \ln 5 - \ln 3 - 1 > 0,$$

$$\frac{5}{9} < t < \frac{5}{3e}. \dots\dots\dots (12 \text{ 分})$$