

# 2022 北京通州初三一模

## 历史

2022年4月

### 考生须知

1. 本试卷共 10 页，共两部分，24 道小题。满分为 70 分。考试时长为 70 分钟。
2. 请在试卷和答题卡（纸）上准确填写学校、班级、姓名。
3. 试题答案一律书写在答题卡（纸）上，在试卷上作答无效。
4. 在答题卡上，选择题用 2B 铅笔作答，其他试题用黑色字迹签字笔作答。
5. 考试结束后，请将答题卡交回。

### 第一部分 选择题（共 30 分）

本部分共 20 小题，每小题 1.5 分，共 30 分。在每小题列出的四个选项中，选出最符合题目要求的一项。

1. 经考古发现，位于北京门头沟区的东胡林遗址中，有早期栽培粟、黍等遗存，这类考古发现还出现在（ ）  
A. 元谋人遗址      B. 北京人遗址      C. 半坡人遗址      D. 河姆渡遗址
2. 它为回溯华夏文明的历史源头，为殷商考古学的发展，为古代科技史、古代书法艺术等领域的发展奠定了坚实的基础。“它”指的是（ ）  
A. 甲骨文      B. 铁农具      C. 都江堰      D. 唐三彩
3. 以下材料论证了丝绸之路是（ ）

2000 多年前，中国手工制造的丝绸可供迦太基和地中海周围其他城市的权贵富豪们穿戴，产自印度的调味品可以用在新疆和罗马的厨房，中亚畜养的马匹骄傲地驰骋在千里之外的东方。

- A. 战争之路      B. 贸易之路      C. 变革之路      D. 和平之路
4. 某位学者对北魏时期部分女性服饰做的研究统计如下，都城迁到洛阳后，女性服饰出现变化的直接原因是（ ）

服饰组合	都城在平城时穿着人数	迁都洛阳后穿着人数
风帽、鲜卑长袍	114	0
襦裙（汉服的一种）	72	188

- A. 统一北方政权      B. 重视农业生产      C. 推行汉化措施      D. 重视吏治改革
5. 以下措施共同反映了统治者（ ）

唐太宗	唐玄宗
为了考察地方长官，命人把各地都督刺史的名字都写在屏风上，记录其功过行能，以备赏罚。	亲自考察新任命的县令，遣返了德行较差的官员，并贬斥了主持县令选任的两位重要官员。

- A. 发展农业生产      B. 善于虚怀纳谏      C. 关注人才选拔      D. 重视整顿吏治
6. “这个阶段的特征是经济重心完成了南移的过程，南方经济发展水平完全超过北方，可以说是南方的全盛时代。”这一阶段是指（ ）

- A. 唐朝      B. 宋朝      C. 元朝      D. 明朝

7. 右图是某同学整理的微专题笔记，①处应填（ ）

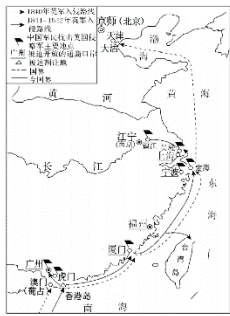
三国：孙权派将军卫温率万人船队到达夷洲  
隋朝：隋炀帝派人三赴琉球  
元朝：设置澎湖巡检司，负责管辖澎湖和琉球  
清朝：①\_\_\_\_\_

- A. 设西域都护府      B. 设立宣政院      C. 设置台湾府      D. 设立驻藏大臣

8. 对《鸦片战争示意图》解读正确的是（ ）

- ①在本次战争中，英军两次入侵中国      ②中国军民在多地开展反侵略的斗争  
③战后清政府被迫割辽东半岛给英国      ④中国被迫开放内陆地区的通商口岸

关注北京高考在线官方微信：[北京高考资讯\(微信号:bjgkzx\)](#)，获取更多试题资料及排名分析信息。



- A. ①②      B. ②③      C. ②④      D. ③
9. 1911年10月9日，一位革命领导者发布了一则行动命令，其可用于研究（ ）

一、本军于今夜十二时举义，兴复汉族，驱除满虏。  
.....工程八营，以占领楚望台军械库为目的。  
.....  
八、武昌弹药枪枝，暂由楚望台军械库接济。

- A. 洋务运动      B. 戊戌变法      C. 辛亥革命      D. 五四运动
10. 以下图片见证的历史事件（ ）



上海市兴业路76号某会址




浙江绍兴南湖红船(复制品)

- A. 标志着中国共产党诞生      B. 挽救了党和挽救了红军  
C. 为抗战胜利准备了条件      D. 开启了改革开放新局面

11. 某本著作里的某一章节有以下三个标题：驰名中外的地道战、威震敌胆的地雷战、神出鬼没的麻雀战，这三个标题共同反映了（ ）


- A. 正面战场的英勇战斗      B. 敌后战场的抗战智慧  
C. 解放战争的最后胜利      D. 土地改革的顺利推进

12. 右侧漫画创作于1950年，其反映的历史事件（ ）



- A. 加速了人民解放战争的胜利      B. 实现了祖国大陆的完全统一  
C. 摧毁了我国的封建土地制度      D. 大大提高了我国的国际地位

13. 某同学搜集了三幅《人民日报》号外的图片，这组图片反映的主题是（ ）



- A. 空军装备的更新      B. 农村产业的发展      C. 科学技术的发展      D. 文教事业的繁荣

关注北京高考在线官方微信：[北京高考资讯\(微信号:bjgkzx\)](#)，获取更多试题资料及排名分析信息。

14. 中国共产党在长期奋斗中构建起了中国共产党人的精神谱系，以下精神按照时间顺序排列正确的是（ ）

①伟大抗疫精神 ②伟大抗战精神 ③改革开放精神 ④井冈山精神

A. ④①②③ B. ②④③① C. ④③②① D. ④②③①

15. 土豆起源于美洲的安第斯山区，在 16 世纪中叶被运到欧洲并在欧洲的植物园里广泛种植。与这一现象直接相关的是（ ）

A. 手工工场兴起 B. 租地农场发展 C. 新航路的开辟 D. 资产阶级革命

16. “将所有这些权利用书面形式汇聚于一纸，而且作为人民与国王之间的契约出现，这是具有重大意义的事。它因此成为英国宪政中最重要的奠基性文件之一。”“它”指的是（ ）

A. 《权利法案》 B. 《人权宣言》 C. 《独立宣言》 D. 《拿破仑法典》

17. 19 世纪的日本生活发生了翻天覆地的变化。与以下变化对应的政策是（ ）

日本生活的变化	
1868 年	开通电信（东京至横滨）
1870 年	日刊报纸创刊
1871 年	西洋料理店开张
1878 年	首次使用电灯
1896 年	电影开始出现

A. 四民平等 B. 文明开化 C. 废藩置县 D. 地税改革

18. 列宁时期的社会主义实践活动可以概括为两条道路：一条是革命型道路，也就是军事共产主义的道路；另一条是改革型道路，也就是\_\_\_\_\_的道路。“\_\_\_\_\_”处应填（ ）

A. 农奴制改革 B. 新经济政策 C. 工业化建设 D. 农业集体化

19. 1933 年的 5—6 月，美国政府通过了《1933 年农业调整法》和《农业信贷法》，建立起了一个完整而行之有效的农业信贷体系，为农场主摆脱危机起了重要的作用。这反映了美国（ ）

A. 用立法的手段干预经济 B. 建立起了社会保障制度  
C. 对农业采取放任的政策 D. 彻底解决了农业的危机

20. 以下表格中①②处应该填（ ）

战后国际格局的演变

类别	第一次	第二次	第三次
时间	①	二战后	20 世纪 90 年代后
名称	凡尔赛—华盛顿体系	两极格局	多极化趋势
形成	巴黎和会和华盛顿会议召开	②	东欧剧变和苏联解体

A. 一战后 三国同盟和三国协约成立 B. 一战后 北约组织和华约组织成立

C. 一战后 联合国和世贸组织成立 D. 冷战后 联合国和世贸组织成立

## 第二部分 材料分析题（共 40 分）

本部分共 4 小题，共 40 分

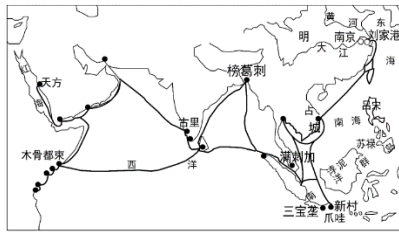
21.（11 分）和谐共生·和平共进·合作共赢

材料一

有子曰：“礼之用，和为贵。” ——《论语·学而篇》	子曰：“君子和而不同，小人同而不和。” ——《论语·子路篇》
------------------------------	-----------------------------------

(1) 依据材料一概括其反映的共同思想，并结合所学写出这一思想所属的学派以及这一学派的创始人。（3 分）

材料二



这是中国古代一次空前的对外活动。在整个过程中，始终以和平友好为宗旨，以建立和发展同各国人民的友好关系为使命，“宣德化而柔远人”，绝不以强凌弱，以大欺小，所到之处，皆平等待人，秋毫无犯，使明代中国在“西洋”诸国的声望大大提高，纷纷遣使前来表示友好。

(2) 依据材料二并结合所学写出其反映的历史事件，并分析其影响。(2分)

材料三 马克思、恩格斯说：“人对人的剥削—消灭，民族对民族的剥削就会随之消灭。民族内部的阶级对立—消失，民族之间的敌对关系就会随之消失。”也就是说，如果民族内部人对人的剥削被消除了，这个民族内部以及相关民族之间也就失去了战争、掠夺和奴役。因此，马克思、恩格斯号召“全世界无产者，联合起来”……只有消灭资本主义剥削制度，才能将战争从人类生活中永远清除出去。

——摘编自王兰芳《马克思恩格斯的和平理论及其现实意义》

(3) 写出材料三中“全世界无产者，联合起来”出自的著作名称，并结合所学指出马克思恩格斯对于人类社会实现永久和平的看法。(2分)

#### 材料四

1949年11月8日，周恩来在外交部成立大会上的讲话中指出：“我们不要被动、怯懦，而要认清帝国主义的本质，要有独立的精神，要争取主动，没有畏惧，要有信心。”

1950年9月30日，周恩来在政协为建国一周年举行的庆祝大会上指出：“中华人民共和国可在平等和互利的基础上，与各国的政府和人民恢复并发展通商贸易关系。”

1955年在亚非会议上周恩来指出：“在亚非国家中是存在不同的思想意识和社会制度的，但这并不妨碍我们求同和团结。”

——摘编自中华人民共和国外交部、中共中央文献研究室《周恩来外交文选》

(4) 依据材料四概括周恩来的外交思想。(2分)

材料五 要维护世界和平，必须“摒弃一切形式的冷战思维，树立共同、综合、合作、可持续安全的新观念”“扔掉我赢你输、赢者通吃的旧思维”，坚持多边主义，反对单边主义，推动世界多极化和国际关系民主化，“以合作实现双赢、多赢和共赢”。同时，文明没有高下、优劣之分，只有特色、地域之别，只有在交流中才能融合，在融合中才能进步。世界各国人民都是人类命运共同体的成员，人类应该和衷共济，和合共生，朝着构建人类命运共同体方向不断迈进，共同创造更加美好未来。

——摘编自龚群《和平与发展是世界各国人民的共同事业》

(5) 依据材料五谈一谈当今世界如何“维护世界和平”。(2分)

## 22. (9分) 冰上运动的发展

### 材料一



清代《冰嬉图》局部

清代乾隆时期，冰嬉被定为国俗，冰上运动进入鼎盛时期。清代冰嬉运动项目主要分为以下几类：一是竞速项目，如“抢等”，意为抢名次；二是军事训练项目，如“转身射球”、“冰上蹴鞠”等；三是娱乐项目，类似于今天的花样滑冰，如哪吒探海、猴子献桃，而且还将满族传统骑射元素和汉族人民的武术、杂技等成分加入到冰上运动中，形成了冰上杂技，如射箭、爬竿等。同时，冰嬉运动参与人数没有限制，形式丰富多样，广受平民百姓喜爱。

——摘编自李南、侯广庆等《古代冰雪运动述考——以清代冰嬉运动为例》

(1) 依据材料一概括清代冰嬉运动的特点。(2分)

材料二

①	公元8—10世纪,瑞典人制成了“骨制冰刀”,荷兰人发展了“木制冰刀”
②	1742年,英国爱丁堡成立了世界上第一个花样滑冰俱乐部——尤登贝拉滑冰俱乐部
③	1850年,继200多年前苏格兰人设计出第一双“全铁冰刀”后,美国人首先将合成钢的冰刀,用螺丝牢牢地拧在鞋底上,为后来的滑冰运动的开展奠定了基础
④	1892年,在荷兰倡导下,9个国家正式成立了“国际滑冰联盟”
⑤	1908年,花样滑冰首次进入第4届夏季奥运会,标志冰上运动从此进入了一个更高层次的发展阶段——成为奥运会比赛项目
⑥	1924年,国际奥委会在法国的沙莫尼举办以滑雪、滑冰为主的“冬季运动周”。次年,本次“冬季运动周”被追认为第1届冬季奥运会

——摘编自胡奇志、芦立前《冰上体育运动发展史介绍》

(2) 依据材料二,仿照示例,将表格中历史事件进行主题归类,完成表格。(4分)

示例:

序号	主题
②	滑冰组织的出现与发展
④	
序号	主题
①	冰刀的设计与发展
序号	主题

材料三 新中国成立后,我国冰上体育事业获得新发展。1979年“名古屋会议”恢复了中国的国际奥委会合法席位,中国奥委会宣布运动员参加1980年美国普莱西德湖冬奥会花样滑冰比赛项目,开启了角逐奥运的征程。随后国家兴建首都体育馆滑冰馆,允许运动员留美学习,并成立国家集训队。经过多年努力,在2022年北京冬奥会上,中国队员以15枚奖牌位列总奖牌榜第三名,其中短道速滑、花样滑冰等项目皆有新的突破,其余多个项目更是填补了历史空白。

——摘编自李雨阳、韩贝宁《我国花样滑冰运动发展的百年回眸与未来展望》

(3) 阅读材料三并结合所学,分析我国冰上体育事业获得新发展的原因。(3分)

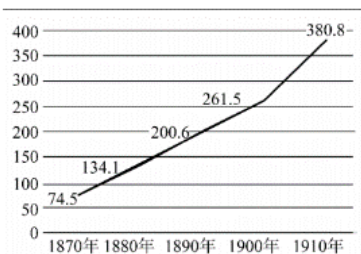
## 23. (9分) 大学建设与社会发展

材料一 14世纪以后,由于欧洲大学在社会生活中发挥了重要作用,原先由学者们自发形成和组织的大学日益减少,而由国家或教会创建的大学迅速增加。地域分布逐渐由意大利向西南欧、中欧和东欧其他地区扩展。它们在许多方面体现和反映了人文主义的特征,一些新的人文主义学科如希腊文、修辞学、文学等有关世俗文化的学科被正式纳入大学课程,打破了神学在大学中的垄断地位。

——摘编自刘静静《文艺复兴与宗教改革时期欧洲大学变迁研究》

(1) 依据材料一概括文艺复兴时期欧洲大学的变化,并结合所学指出其背景。(3分)

材料二 德国柏林大学的高校经费预算(单位:万马克)





19世纪六七十年代后，德国社会沉浸在工业化的浪潮中，对科学技术的发展愈加重视，更加着眼满足于社会提出的前沿性和实用性要求。一些德国大学，开始了对工程学和纯科学相结合的尝试，创办了应用电工学、数学、化学和物理学研究所。

——摘编自张雪《19世纪德国现代大学及其社会、国家关系研究》

(2) 依据材料二说出图表反映的柏林大学经费预算的发展趋势。(1分)并结合所学分析这种趋势出现的原因。(2分)

### 材料三

名称	概况
 北洋大学堂	1895年11月18日，盛宣怀按照美国大学模式天津办起“北洋西学学堂”，后来更名为北洋大学堂，天津大学的前身，盛宣怀在深感“自强之道，以培育人才为本。求才之道，尤宜以设立学堂为先”。
 京师大学堂	北京的前身，创办于1898年7月3日，是百日维新的产物，它以“广育人才，讲求时务”为宗旨，遵循“中学为体、西学为用”的方针，标志着中国教育现代化进程的重大发展。

(3) 依据材料三概括两所中国早期大学创办的共同目的。(1分)结合所学，分析其出现的共同背景。(1分)

材料四 习近平指出，一流大学建设要坚持党的领导，坚持马克思主义指导地位，全面贯彻党的教育方针，坚持社会主义办学方向，抓住历史机遇，紧扣时代脉搏，立足新发展阶段、贯彻新发展理念、服务构建新发展格局，把发展科技第一生产力、培养人才第一资源、增强创新第一动力更好结合起来，更好为改革开放和社会主义现代化建设服务。

——2021年4月9日习近平在清华大学考察时的讲话

(4) 依据材料四并结合所学谈谈你对大学建设与社会发展关系的认识。(1分)

## 24. (11分) 古韵通州·历久弥新

### 汉朝古城溯源

今北京市通州区的行政区划出现最早可以追溯到西汉初设置的路县。据历史文献考证，西汉“置此为路县，属于渔阳郡”。路县位于今通州区潞城镇古城村。2016年7—9月，北京市文物研究所对路县古城遗址进行了考古勘探，确定了其具体位置和规模。根据北京市文物局提供的资料，路县古城遗址分为城墙基址、城内遗存、护城河和城外遗存四部分，在南城墙外，发现大面积的汉代文化遗存。

——摘编自杨家毅《通州文脉》

(1) 依据以上材料并结合所学写出和“路县属于渔阳郡”这一历史现象直接相关的政治制度及这一制度创立的朝代，并分析这一考古发现的历史意义。(3分)

### 明清古城概览

①明清时期，为存储漕粮，在通州旧城和新城，建造了大运中仓、大运东仓、大运西仓和大运南仓等

②明嘉靖七年，通州城北关设置石坝，在东关外设置土坝，南来漕粮抵达之后经过验收，运进京城的粮仓

③清道光年间，城内外市肆相连，百货摆列，往来交易到天亮都不停，通州夜市名于天下

——摘编自北京市通州区政协文史和学习委员会《大始通州》

知识链接：

漕运，中国历代对地方政府所征粮食运往京师或其他指定地点的水路运输的称呼；

漕粮，我国封建时代通过河运和海运由东南地区漕运至京师的税粮。

(2) 明清时期，通州作为漕运枢纽，其发挥了重要的城市职能。从以上材料中选择对应的史实与其职能相对应。(填序号，3分)

漕运码头：\_\_\_\_\_

仓储重地：\_\_\_\_\_

商业重镇：\_\_\_\_\_

近代通州烽火

 <p>①永通桥（八里桥）抗战遗址 (1860年，通州民团猎户数千人与清军一起殊死抗击英法联军)</p>	 <p>②通州城墙废墟 ——《八国联军侵华时期照片集》</p>
 <p>③日军占领下的通州城 ——《百年沧桑—通州历史图片汇编》</p>	 <p>④平津战役指挥部遗址 (1949年1月2日，平津战役指挥部设于通州宋庄)</p>

(3) 历史遗迹和历史照片是历史的见证，以上史料能够见证近代列强侵略的是\_\_\_\_\_；(填序号)从以上四幅图片中任选一幅，结合所学写出与其相关的历史事件并分析该事件产生的影响。(3分)

当代城市新貌

2019年1月11日，北京市级行政中心正式迁入北京城市副中心，市级行政中心位于通州区潞城镇。到2035年，城市副中心将初步建成国际一流的和谐宜居现代化城区，成为低碳高效的绿色城市、蓝绿交织的森林城市、自然生态的海绵城市、智能融合的智慧城市、古今同辉的人文城市、公平普惠的宜居城市，奠定新时代千年之城的坚实基础。

——摘编自《北京城市副中心控制性详细规划（街区层面）》

(4) 依据以上材料谈一谈为实现2035年北京城市副中心的发展目标，作为一名学生你能够做哪些努力。(2分)

# 参考答案

## 第一部分 选择题（每小题 1.5 分，共 30 分）

题号	1	2	3	4	5	6	7	8	9	10	11	12	13	14	15	16	17	18	19	20
答案	C	A	B	C	D	B	C	A	C	A	B	D	C	D	C	A	B	B	A	B

## 第二部分 材料分析题（共 40 分）

21. (11 分)

(1) 强调和谐、和睦 (1 分); 儒家 (1 分), 孔子 (1 分)。

(2) 历史事件: 郑和下西洋 (1 分)

影响: 提高了中国的威望; 促进中国与亚非国家的友好往来。(1 分, 答出一点即可)

(3) 著作: 《共产党宣言》(1 分)

看法: 消灭人与人之间的剥削, 消灭各民族之间的剥削, 消灭资本主义制度, 才能实现永久和平。(1 分)

(4) 独立自主; 平等互利; 求同存异。(2 分, 答出两点即可)

(5) 摒弃冷战思维, 树立共同合作的新观念; 推动世界多极化和国际关系民主化; 文明之间不断交流, 融合; 共同构建人类命运共同体。(2 分, 答出两点即可)

22. (9 分)

(1) 特点: 项目多或内容丰富; 军事与娱乐兼顾; 吸收汉族文化, 体现民族交融; 全民参与等。

(2 分) (答出两点即可)

序号	主题	序号	主题
①	冰刀的设计与发展	⑤ (1 分)	冰上运动进入奥运会 (1 分)
③ (1 分)		⑥ (1 分)	

(3) 改革开放的推动; 国家实力的增长; 中国恢复国际奥委会合法席位; 国家政府的重视; 运动员自身的努力等。(3 分, 答出三点即可)

23. (9 分)

(1) 变化: 由自发建立到国家或者教会创立; 分布地域由意大利向其他地区扩展; 出现新的人文主义学科。(2 分, 答出两点即可)

背景: 14 世纪文艺复兴在意大利兴起; 人文主义思想兴起并向欧洲其他国家扩展。(1 分, 答出一点即可)

(2) 趋势: 不断增加 (1 分)

原因: 第二次工业革命的开展; 德国社会对科技的发展更加重视; 政府加大对科研的投入。(2 分, 答出两点即可)

(3) 目的: 为社会培养人才 (1 分)

背景: 甲午战后, 民族危机加剧; 洋务运动对教育近代化的影响。(1 分, 答出一点即可)

(4) 大学建设要适应社会发展需求, 为社会发展服务; 社会的发展也推动大学的进步。(1 分, 答出一点即可)

24. (11 分)

(1) 政治制度: 郡县制 (1 分);

朝代: 秦朝 (1 分)

意义: 为通州建制提供考古依据, 证明通州城具有悠久的发展历史; 为研究汉代历史提供了考古依据。(1 分, 答出一点即可)

(2) 漕运码头: ② (1 分)

仓储重地: ① (1 分)

商业重镇: ③ (1 分)

(3) ①②③; (1 分)

①第二次鸦片战争, 这次战争使中国半殖民地半封建社会程度进一步加深;

②八国联军侵华战争, 北京沦陷, 清政府与列强签订《辛丑条约》, 中国完全陷入半殖民地半封建社会的深渊;

③日本侵华战争, 日本侵略战争使中国人民处于水深火热之中, 饱经磨难;

④平津战役, 平津战役的胜利, 使北平和平解放, 华北全境基本解放。

关注北京高考在线官方微信: [北京高考资讯\(微信号:bjgkzx\)](#), 获取更多试题资料及排名分析信息。



(2分) (答出一个历史事件及其一点影响即可)

(4) 从保护环境、学习文化知识、立志将来建设副中心等角度作答。(2分)



## 2022 北京各区初三一模试题下载

北京高考资讯公众号整理【**2022 北京各区初三一模试题&答案**】，持续为大家进行分享。

想要下载练习各区各科试题答案，可以扫描下方二维码，进入试题答案汇总下载高清电子版文件。

扫描二维码进入试题答案汇总  
下载电子版试题



还有更多**一模成绩、排名**等信息，考后持续分享  
记得关注我们的公众号【**北京高考资讯 ( ID : bjgkzx )**】！



微信搜一搜

北京高考资讯