

历史

考生注意:

- 1.答题前,考生务必将自己的姓名、考生号填写在试卷和答题卡上,并将考生号条形码粘贴在答题卡上的指定位置。
- 2.回答选择题时,选出每小题答案后,用铅笔把答题卡对应题目的答案标号涂黑。如需改动,用橡皮擦干净后,再选涂其他答案标号。回答非选择题时,将答案写在答题卡上。写在本试卷上无效。
- 3.考试结束后,将本试卷和答题卡一并交回。

一、选择题:本题共 15 小题,每小题 3 分,共 45 分。在每小题给出的四个选项中,只有一项是符合题目要求的。

1.距今约 4200—3800 年的山西兴县碧村遗址,是一座有内外双重城垣的石城。碧村遗址出土大量陶器、玉器,形成了以粟为主、以黍为次以及大量养殖猪羊牛的农业经济,与同期的陶寺、石峁等古国遥相呼应。该遗址可

- A.用于研究龙山文化的特点
- B.证明中国最早的城市国家出现
- C.看出农业和手工业的分工
- D.说明山西是我国农业的起源地

2.图 1 是汉代某一经济政策的示意图。这一政策的实施

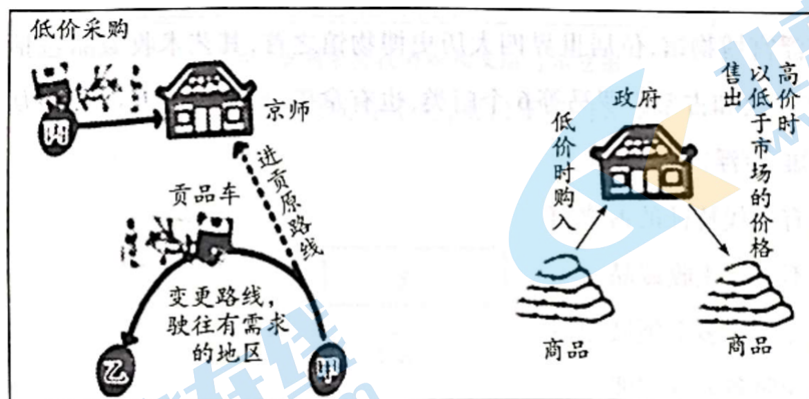


图 1

- A.规范了货币的流通秩序
- B.加强了国家的宏观调控
- C.推动了民间财富的增长
- D.平衡了全国各地的物价

3.图 2 为在汉代的基础上改建的北魏都城洛阳,城中心有很大的宫殿区,有网格状的街道以及不同的区划。

城市分成两部分,包括仅限官员活动的政治区域和由政府管理的市场与居民区。据此可知,北魏

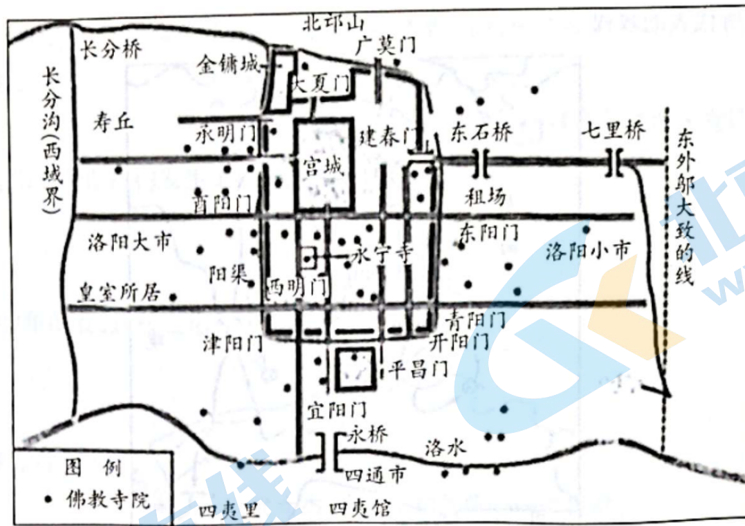


图 2

- A. 城市营建开始形成制度
 - B. 商品经济发展受到重视
 - C. 城市实行市坊分离制度
 - D. 佛教发展决定都城规划
4. 某学者指出，明朝借助血缘关系维系的商业组织，道德义务可能超过其经济利益。执商业资本之牛耳的徽商、晋商，其汇兑业务的运转全赖个人操守及道德观念，“亦不能与现代资本主义国家以民法及公司法之作保障者相提并论”。该学者意在强调，明朝
- A. 商业组织宗法血缘化明显
 - B. 商人重视诚信经营
 - C. 尚未实现向商业近代转型
 - D. 商帮缺乏法律观念
5. 鸦片战争后，朝野上下形成了“以守为战”的海防思想。甲午战争后，关于海防的内容，时人云：“其分项可判为二：一为海上作战之所谓海军国防；二为海岸防御值所谓海军国防。”这一变化反映出
- A. 师夷制夷的战略思想
 - B. 海防观念的日益丰富
 - C. 自卫和平的价值诉求
 - D. 民族危机的不断加深
- 6.

表 1

此如创机著书诸事，各国例许专利，非不知专利之致不平也，然不专利则无以奖功激励	1901 年严复
现中国各省局厂仿用外洋新机，仿造专利机件不少，且正欲各处推广制造以挽权利。……若准保护美国专利牌照，是自塞其智慧	1903 年张之洞

- 表 1 是严复和张之洞关于专利保护的主张。据此推知
- A. 两人均主张保护机器专利
 - B. 严复借助于专利保护推行新法
 - C. 两种主张激发了发展潜力
 - D. 张之洞的主张基于新政的需要
7. 图 3 中阴影区域所代表的政权，

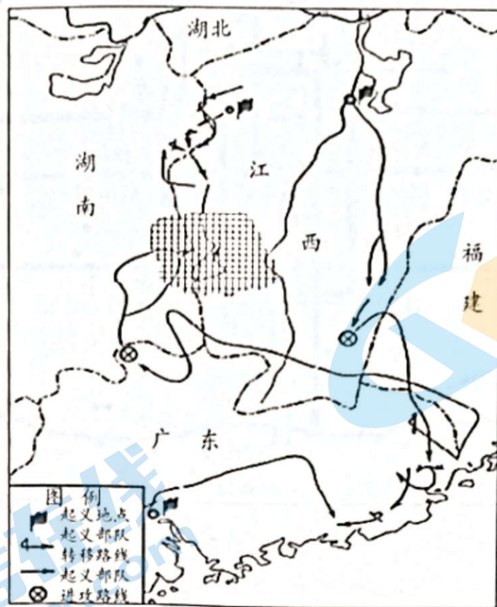


图 3

- A. 巩固了革命统一战线
- B. 是创建我国人民革命政权的尝试
- C. 贯彻“三三制”原则
- D. 为建立首个共和国奠定实践基础

8. 图 4 是关于恢复中国在联合国大会席位的投票情况。据此可推知，我国

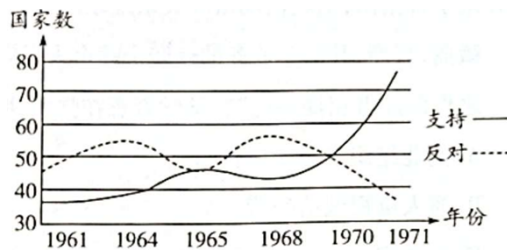


图 4

- A. 独立自主和平外交政策赢得更多认可
- B. 全方位外交取得了巨大成就
- C. “求同存异”外交方针获得普遍赞誉
- D. 中国特色大国外交走出新路

9. 图 5 为新中国成立后颁布的被称为“社会生活的百科全书”的某部法律文献目录(局部)。这部法律文献

目 录	
第一编 总则	1
第一章 基本规定	1
第二章 自然人	2
第一节 民事权利能力和民事行为能力	2
第二节 监护	2
第三节 宣告失踪和宣告死亡	7
第四节 个体工商户和农村承包经营户	9
第三章 法人	10
第一节 一般规定	10
第二节 营利法人	13
第三节 非营利法人	14
第四节 特别法人	16
第四章 非法人组织	16
第五章 民事权利	17

图 5

- A.初步奠定中国法治建设的基础
- B.推动了社会主义市场经济体制的确立
- C.标志着中国特色法律体系形成
- D.推进了国家治理体系和能力的现代化

10.以印欧人为主体的游牧部落的迁徙，分别形成赫梯人、波斯人、希腊人和雅利安人。下列选项与图6中“乙”处族群相关的是

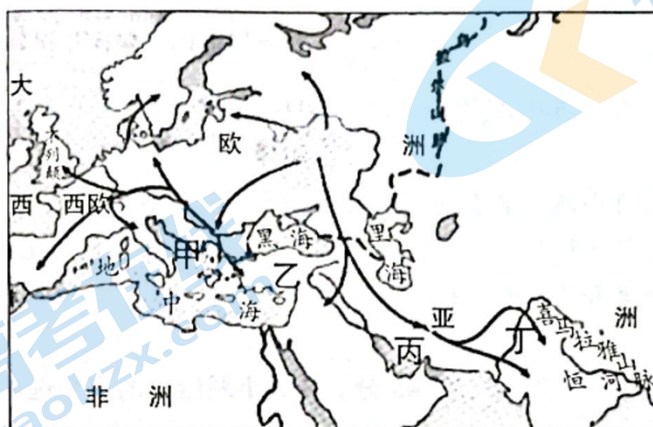


图6 印欧人早期迁徙路线示意图(公元前3000—前1000年)

- A.率先掌握了冶炼铁器的技术
- B.奠定了分科教育的基础
- C.制定了现存最早的成文法典
- D.首次统一西亚北非文明

11.如果把欧洲人迈入大洋当作全球化开始的话，那么走在前列的首先是伊比利亚半岛国家，他们以高效的行政机器组织远航，怀揣着寻找黄金的期盼，揭开了不同种族、不同文明的大碰撞，充满“内在动力”的帆船运载着奴隶、黄金、香料，也撒播着诸如“地球是圆的”等进步光芒。“他们”组织远航的主要“内在动力”是

- A.开拓新的市场
- B.掠夺金银财富
- C.传播基督新教
- D.求证地圆学说

12.18世纪建成的卢浮宫博物馆，位居世界四大历史博物馆之首，其艺术收藏品包括雕塑、绘画、美术工艺及古代东方，古代埃及和古希腊罗马等6个门类，也有拿破仑一世对外征战时，从世界各地掠夺来的艺术珍品。据此可知，卢浮宫博物馆

- A.被视作首个具有近代特征的博物馆
- B.通过掠夺各国不断积累收藏品
- C.向公众全方位提供了多个领域知识
- D.具有文化传承和服务公众职能

13.近代世界的政治结构有两大基本概念，一是土地应划分成统一在独立当局之下的区域，它们在确定的疆界内有决定其内部事务的最终发言权；二是这些区域只要有可能，就应该由具有一体感的人们所居住，他们形成民族关系或民族性。符合这一“政治结构”的是

- A.“我的附庸的附庸不是我的附庸”
- B.“美洲是美洲人的美洲”
- C.“热爱祖国就是热爱你自己”
- D.“欧洲是欧洲人的欧洲”

14.图7是1910—1990年美德英日四国国家钢产量折线图(单位：百万吨)。其中④是

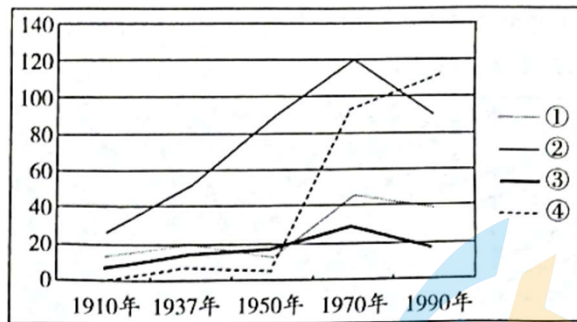


图7

- A.德国 B.英国 C.美国 D.日本

15.2010年,某学者指出,今天美国人的时区是铁路需要保持准确计时的产……虽然很多早期的乘客是为了做生意而乘坐火车,但铁路公司很快就高兴地发现,休闲旅游能带来巨大的新市场,可以说铁路使得休闲大众化并把它变成大生意。该学者意在说明,铁路的发展

- A.催生了现代时间观念 B.基于商业市场发展的需要
C.改变了人们日常生活 D.是大众旅游潮出现的根源

二、非选择题:本大题共4小题,共55分。

16.(12分)阅读材料,回答问题。

材料一

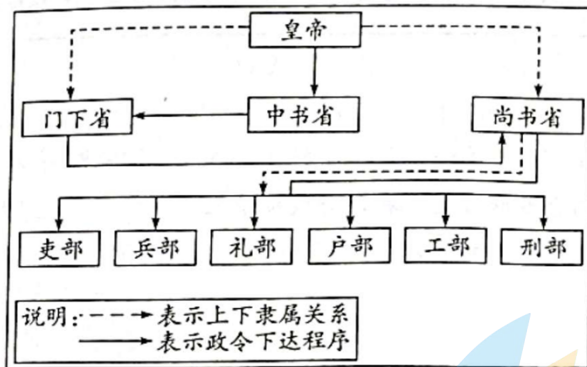


图8 唐朝中央权力结构及运行示意图

国家本置中书、门下以相监察,中书诏敕或有差失,则门下当行驳正。

——司马光《资治通鉴·唐纪》

材料二

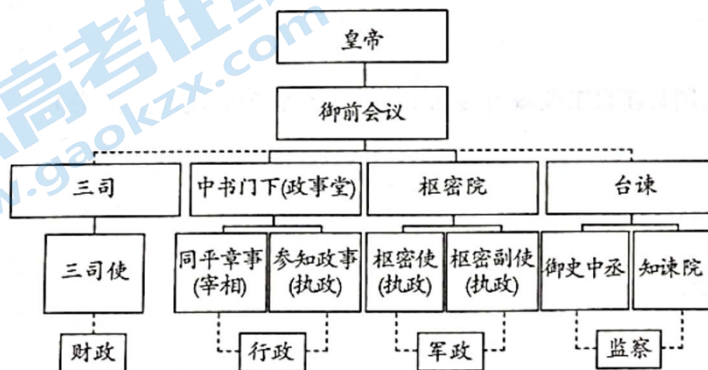


图9 北宋中央官僚机构示意图

中书门下并列于外，又别置中书于禁中，是谓政事堂，与枢密院对掌大政。天下财赋、内廷诸司、中外管库，悉隶三司。

——马端临《文献通考·卷四十七·职官考一》

(1)与唐朝相比，北宋中枢机构发生了哪些变化。(6分)

(2)从国家治理的角度看，这些变化有何意义?(6分)

17.(14分)阅读材料，回答问题。

表2 近代女杰、女权运动先驱一张竹君

张竹君年谱(节选)

1900年,在广州博济医院医科班毕业,24岁开始行医;
1902年,创办南福医院,成为中国第一位创办医院的女性。同时议论朝政,抨击时弊,倡导新学,提倡女权;
1904年,日俄战争爆发,随万国红十字会深入东北救护受伤的中国人;
1907年,加入中国同盟会,进行反清斗争;
1911年,辛亥革命爆发后,张竹君发起成立中国赤十字会,组织、率领救护队员前往武昌,救治受伤士兵达1300余人;
1926年,上海霍乱肆虐,张竹君奋战在抗疫第一线;
1932年淞沪抗战与1937年八·一三事变爆发时,她依然在战火硝烟中抢救伤员;
……
她终生不嫁,却收养了20多名孤苦儿童,并将他们抚养成人;她深受民众的推崇和赞誉。不仅享有“女界之梁启超”“中国的南丁格尔”等美誉,民国初年,她还荣获孙中山颁发的“立国纪念勋章”,军民们亦赠予她“巾帼伟人”的匾额

我要做男女平权的运动者，一切以身作则，要打破数千年来禁锢妇女的封建枷锁，把不平等的旧思想、恶习惯，彻底扫除。那些头脑冬烘、思想陈腐的礼教奴隶，我要和他们搏斗，替女同胞杀开一条新路。那么，任何非议诋谤，任何耻辱牺牲，我都是不管的。

——张竹君《妇女的十一危难事》(1909年)

作为历史的观察者，说明张竹君女士为何深受民众推崇，并谈谈如何实现“张竹君”们的女性解放梦。

18.(13分)阅读材料，回答问题。

材料



图10 第三套壹元面值人民币上的“东方红”拖拉机

图中人民币上拖拉机手原型人物是梁军。1947年，梁军进入中国共产党人创办的乡村师范学校就读，她积极报名参加拖拉机培训班，驾驶着从苏联进口的拖拉机成为中国第一个女拖拉机手。20世纪50年代中期，国家开始大规模、有组织地开发北大荒，她也成为北大荒建设队伍中的一员。1959年11月，洛阳第一拖拉机厂刚刚投产，就向北大荒国营农场运送了第一批13台“东方红”大型拖拉机。黑龙江省政府找到梁军，希望中国第一个女拖拉机手开第一台中国制造的拖拉机。

——摘编自胡铁华《新中国第一个女拖拉机手——梁军》

结合材料和所学知识，以“人民币上的拖拉机手”为题写一则历史短文。(要求：表述成文，叙述完整；立论正确，史论结合；逻辑严密，条理清晰)

19.(16分)阅读材料，回答问题。

材料一

曼彻斯特的城市化

甲：在该城的某些部分……地下室的潮湿程度根本不宜给人居住……据我所知，有许多工人家庭在这种墙上滴水的地下室住上一段时期后就与世长辞……使穷人最受苦的是通风不足。最常见的后果是寒热病，我还屡次见到由此引起的肺癆病例……

——《1793年医师关于曼彻斯特城工人住宅的调查报告》

乙：

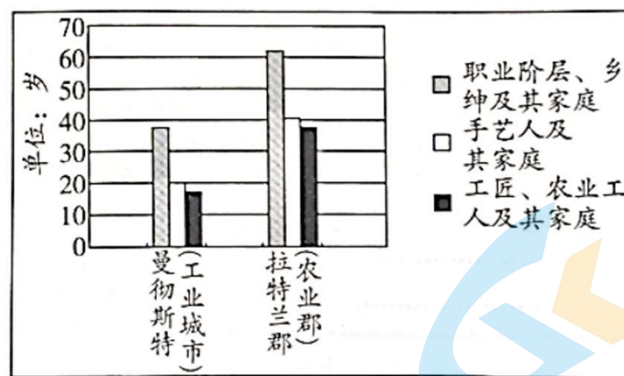


图 11 1837 年曼彻斯特和拉特兰郡人口平均寿命

丙：以棉纺工业中心的曼彻斯特为例，18世纪80年代，第一家蒸汽动力的棉纺厂在曼彻斯特建立，1794年为3家，而到1821年则多达66家。1853年时，曼彻斯特的棉纺厂数为108家，达到了顶峰。除了厂房，城市中还有其他大量生产性建筑。



图 12 1849 年曼彻斯特市布里奇沃特街区

——据梁远《近代英国工业城市规划演进研究(1848—1940)》等整理

材料二

1863 年,议会颁布《碱业法》,要求抑制工业生产中的有害气体;
 1868 年、1875 年,英国两次颁布《工人住宅法》,应对贫民窟问题;
 1875 年,议会颁布《公共卫生法》,设立公共卫生局,对供水、排污、贫民窟清理进行监督;
 1876 年,“首都公共事务委员会”开辟新街道,缓解交通拥堵;议会颁布第一部水环境保护法《河流污染防治法》。

——李亚丽《英国城市化进程的阶段性借鉴》

(英国)政府陆续颁布了《控制公害法》《放射性物质法》等法律,并大力推动能源结构调整。……在节能环保方面表现出色的企业和政府机构还会被授予绿色奖章。经过 19 世纪工业城市改造工程,现代都市整洁、卫生、舒适的物质环境初露端倪,居民的工作、居住和生活条件大为改观,走过了对环境先污染、后治理的弯路。

——摘编自《三个“雾都”如何走出“霾伏”?》

(1)材料一可用于说明曼彻斯特城市化中的什么问题?概括说明理由。(6 分)为更好地说明这一问题,还需要搜集哪些方面的材料?(4 分)

(2)根据材料,为我国某新兴工业城市提几条加强城市管理的建议。(6 分)