

# 2024 北京西城高一（上）期末

## 政 治

2024.1

本试卷共8页，100分。考试时长90分钟。考生务必将答案答在答题卡上，在试卷上作答无效。考试结束后，将本试卷和答题卡一并交回。

### 第一部分

本部分共22题，每题2分，共44分。在每题列出的四个选项中，选出最符合题目要求的一项。

1. “在新的设防城市的周围屹立着高峻的墙壁并非无故；它们的堑壕成了氏族制度的墓穴，而它们的城楼已经高耸入文明时代了。”对这一观点理解正确的是

- ①原始社会的人们通过氏族议事会管理国家事务
- ②国家是阶级矛盾不可调和的产物，是阶级统治的工具
- ③国家产生后就一直掌握在少数统治阶级手中
- ④奴隶社会代替原始社会后人类迈入文明时代

A. ①③                      B. ①④                      C. ②③                      D. ②④

2. 在中国历史上的某一时期，开始出现了分工精细的手工工场，而且在城市和乡镇还出现了买卖劳动力的市场。据此判断，这一时期

- A. 属于封建社会的发展初期
- B. 属于封建生产关系兴盛的时期
- C. 已经出现了资本主义萌芽
- D. 已经进入了资本主义社会

3.

“代替那存在着阶级和阶级对立的资产阶级旧社会的，将是这样一个联合体，在那里，每个人的自由发展是一切人的自由发展的条件。”  
——《共产党宣言》

“在共产主义社会里，任何人都没有特殊的活动范围，而是都可以在任何部门内发展，社会调节着整个生产，因而使我有可能会随自己的兴趣今天干这事，明天干那事……”  
——《德意志意识形态》

对上述论断分析正确的是

- A. 工人运动是科学社会主义产生的前提
- B. 占有剩余价值是资本家剥削工人的秘密
- C. 生产关系是否适应生产力状况是衡量社会进步与否的主要标准
- D. 实现人的自由而全面的发展是马克思主义追求的根本价值目标

4. 国家典籍博物馆举办《共产党宣言》专题展，展出了中文、德文、俄文、英文、法文等 55 种语言 306 个版本的《共产党宣言》，详细展示了《共产党宣言》的诞生、重大理论贡献及其在世界和中国的译介传播。《共产党宣言》之所以影响深远，是因为它

- ①科学揭示了人类社会历史发展的基本规律
- ②提出了阶级斗争学说和古典政治经济学思想
- ③为解决变化发展中的时代问题提供了具体答案
- ④指引的目标、坚持的原则、贯穿的方法对今天的实践仍具有重要启示

A. ①②                      B. ①④                      C. ②③                      D. ③④

5. 近代以来，中华民族的复兴面临的两大历史任务是

- ①推翻封建主义的统治，求得君主立宪的实现
- ②彻底改变贫穷的面貌，实现国家富强和人民幸福
- ③推翻封建主义的统治，促进民族资本主义经济的发展
- ④推翻帝国主义和封建主义的统治，求得民族独立和人民解放

A. ①③                      B. ①④                      C. ②③                      D. ②④

6. 某班同学以“现代中国发展进步的制度基础”为题开展综合探究，提出以下要点，其中正确的是

- A. 1919年五四运动爆发，结束了在中国延续几千年的君主专制制度
- B. 1949年人民代表大会制度建立，从根本上改变了中国社会的发展方向
- C. 1956年社会主义改造胜利完成，我国建立起社会主义制度
- D. 1978年实行改革开放，奠定了中华民族伟大复兴的制度基础

7. 某校举行板报展览，下面是小西准备的相关资料。由此可推断，这次板报展览的主题最有可能是

A. 最为广泛而深刻的社会变革



油画《开国大典》



签署中国加入世贸组织法律文件时使用的文具



建党百年纪念邮票  
《摆脱贫困》

- B. 党的全部理论和实践的主题
- C. 新时代新征程中国共产党人的初心和使命
- D. 中国共产党领导中国人民站起来、富起来、强起来

8. \_\_\_\_\_，是中华民族的最高利益和根本利益，是新时代中国共产党和中国人民的奋斗目标。

- ①基本实现社会主义现代化                      ②实现中华民族伟大复兴
- ③建成社会主义现代化强国                      ④把我国建成富强民主文明的社会主义国家

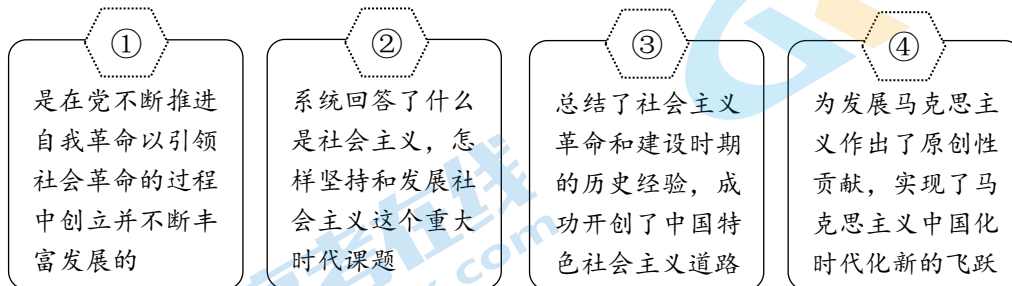
A. ①②                      B. ①④                      C. ②③                      D. ③④

9. 40多年来，改革开放极大地改变了中国的面貌、中华民族的面貌、中国人民的面貌、中国共产党的面貌。没有改革开放，就没有中国的今天，也就没有中国的明天。关于改革开放，下列理解正确的是

A. 改革开放是党和国家的工作中心

- B. 消除社会基本矛盾是改革开放的根本目的
- C. 实现经济增长是改革开放顺利推进的关键所在
- D. 改革开放是中国人民和中华民族发展史上的一次伟大革命

10. 某校学生在学习“习近平新时代中国特色社会主义思想”相关内容时，记录了以下内容：习近平新时代中国特色社会主义思想



上述内容表达正确的是

- A. ①②
- B. ①④
- C. ②③
- D. ③④

11. 马克思主义与中华优秀传统文化来源不同，但彼此存在高度的契合性，使得马克思主义基本原理能够与中华优秀传统文化相结合。下列说法正确的是

- ①马克思主义的共产主义理想与中华优秀传统文化“天下为公”“天下大同”的追求都寄托着社会发展的美好憧憬
- ②马克思主义的国际主义思想与中华优秀传统文化的“协和万邦”“胸怀天下”之道，都具有宏大的国际视野
- ③马克思主义的实践观与中华优秀传统文化“知行合一”“行胜于言”等主张都体现出鲜明的实践性特征
- ④马克思主义的人民立场兼并了中华优秀传统文化“民惟邦本，本固邦宁”等民本思想

- A. ①②③
- B. ①②④
- C. ①③④
- D. ②③④

12. 实行什么样的经济制度，决定着一个国家的性质和发展方向，同人民的命运密切相关。我国的社会主义基本经济制度包括

- ①公有制为主体、多种所有制经济共同发展
- ②按劳分配为主体、多种分配方式并存
- ③社会主义市场经济体制
- ④中国特色社会主义制度

- A. ①②③
- B. ①②④
- C. ①③④
- D. ②③④

13. “看天供暖”已在北京实行多年。为保障居民需求，北京热力集团编制了针对极寒天气、热源管网事故等情况的应急保障方案，并完成大面积智慧供热改造，运用物联网、智能控制等技术确保精准供热、按需送热、实时管热。北京热力集团

- A. 承担了作为国有经济在公共服务方面的重要责任
- B. 垄断了北京市供暖业务，属于不正当竞争行为
- C. 以增加盈利为首要目的，不断改进供热技术
- D. 坚持节约优先，提高资源使用效率

14. 川西北有了首条铁路！随着四川成都至青海西宁铁路青白江东至镇江关段开通运营，阿坝藏族羌族自治州结束了没有铁路的历史，阿坝州丰富的农副特产、独有的自然风光将“搭乘”动车走出大山。动车开进阿坝州

- ①会提高乘客出行效率，节省出行成本
- ②要把绿色作为引领发展的第一动力
- ③将促进城乡和区域协调发展，建设交通强国
- ④政府要积极主动作为，减少市场机制的影响

A. ①②                      B. ①③                      C. ②④                      D. ③④



2023年7月19日，《中共中央 国务院关于促进民营经济发展壮大的意见》（以下简称《意见》）正式发布。回答15、16题。

15. 《意见》首次将民营经济定位为“推动中国式现代化的生力军”，从民营经济的发展环境、政策支持、法治保障以及促进民营经济人士健康成长等方面，提出31条具体举措。《意见》措施有助于

- A. 增强非公有制经济的控制力和影响力
- B. 更好发挥政府作用，构建亲清政商关系
- C. 使非公有制经济成为稳定经济增长的主导力量
- D. 优化非公有制经济高质量发展环境和社会氛围，培育市场主体

16. 下列关于促进民营经济做大做强的政策措施，发挥作用的传导路径描述正确的是

- A. 加大减税力度→扩大企业生产规模→扩大内需改善民生
- B. 放宽市场准入→提高企业生产效率→增加企业经济效益
- C. 着力保护民营企业产权→稳定投资预期→激发企业活力
- D. 定向下调存款准备金率→降低融资成本→提升金融业服务质量

17. 2023年是“一带一路”倡议提出10周年。习近平主席发表主旨演讲：“共建‘一带一路’走过了第一个蓬勃十年，正值风华正茂，务当昂扬奋进，奔向下一个金色十年！”。推动共建“一带一路”更高质量、更高水平的新发展

- ①能避免和消除国际贸易摩擦和冲突
- ②拓展了国家和地区发展的新空间
- ③要内外联动优势互补，促进互利共赢
- ④意味着我国新发展格局要以国际大循环为主体，加快建设贸易强国

A. ①③                      B. ①④                      C. ②③                      D. ②④

18. 网络直播行业迅猛发展的同时，也暴露出以次充好、夸大宣传等问题。对此，下列说法合理的是

- ①直播商家应强化自律，守法诚信经营      ②电商平台应完善监督，严惩违法行为
- ③政府部门加强监管，消除市场自发性      ④消费者应多一分理性，谨防营销套路

A. ①②                      B. ①④                      C. ②③                      D. ③④

19.

小韩：我每个月都缴纳失业保险、基本养老保险和医疗保险，将来有保障，心里踏实！  
老杨：我以前有病不敢看，现在有病也不怕上医院啦！城乡居民医疗保障范围扩大、大病保险起付线降低，再也不担心“病根”变“穷根”了。



以上两人对话谈到的社会保障形式是

- A. 社会救助          B. 社会保险          C. 社会福利          D. 社会优抚

20. 发展社会保障事业，什么时候都不能忘记一个道理，经济发展和社会保障是水涨船高的关系，水浅行小舟，水深走大船，违背规律就会搁浅或翻船。发展社会保障事业

- A. 要满足人们对高品质生活的需要，提高社会福利水平  
B. 应坚持社保资金由中央政府拨款，确保尽力而为  
C. 需增强风险意识，坚持社会保障与经济发展相适应  
D. 要通过发挥市场的决定性作用，实现区域水平均等化

21. 某村支书的 2022 年度“账单”：

◇ 全村接待游客 10 万余人，餐饮住宿等收益 1200 余万元；柑橘、桃子等由供销合作社保底收购，稻田中甲鱼养殖也因有科技特派员指导实现丰收，总收入 6 万余元；  
◇ 村民小王转让了自家承包地的经营权，在村办农家乐做服务员，工资一个月 3200 元，七月份村分红 4000 元，收入增加了很多。

从“账单”信息中可以看出

- ①农村产业融合发展有助于增加农民收入  
②非公有制经济是推动农村经济健康发展的主力军  
③健全农业社会化服务体系是发展农村集体经济的重要举措  
④村民小王家的收入来源多样，既有经营性收入，也有财产性收入

- A. ①③          B. ①④          C. ②③          D. ②④

22. 从我国“运 10”研制的戛然而止到与麦道公司合作的无疾而终，从 21 世纪之初党中央的战略决策到中国商用飞机的应运而生……中国民用飞机产业的发展，与党中央战略布局、新型举国体制的制度优势相关，国内 22 个省市、200 多家企业、36 所高校、近 20 万科研人员协作攻关的成果。这充分展示出

- ①党的领导是中国特色社会主义制度的最大优势  
②强化按劳分配能有效激励科技创新发展  
③我国集中力量办大事的显著优势  
④中国积极推动实现世界持久和平和共同繁荣

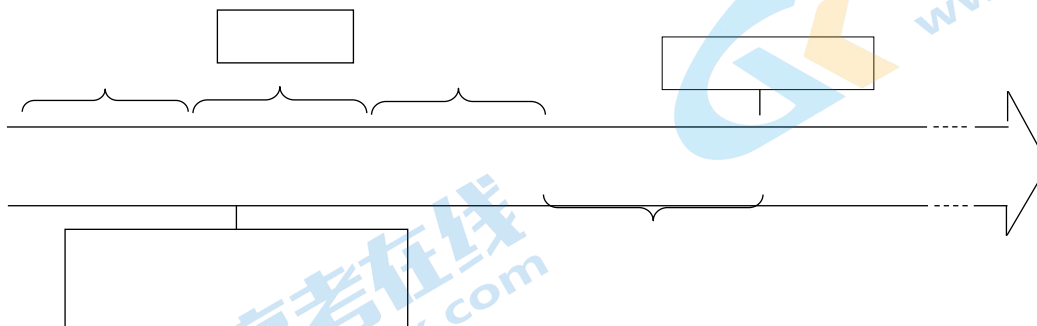
- A. ①②          B. ①③          C. ②④          D. ③④

## 第二部分

本部分共5题，共56分。

23. (16分) 同学在“探索中国道路”主题学习活动中，绘制了一个年代尺。

(1) 请将年代尺上①②③处的内容补充完整。(6分)



在“点赞中国道路”的分享活动中，同学总结到：

近代中国，民族危亡，中国向何处去？新中国成立，面对一穷二白，中国向何处去？1978年，在重大历史关头，中国社会主义向何处去？

当代中国的伟大社会变革，不是简单延续我国历史文化的母版，不是简单套用马克思主义经典作家设想的模板，不是其他国家社会主义实践的再版，也不是国外现代化发展的翻版。只有\_\_\_\_\_，才能把蓝图变成美好现实。

(2) 续写划线部分的内容，并从上面的年代尺中任选一个历史时期，选择恰当的事实和观点加以说明。(10分)

(要求：观点明确，合理使用学科术语)

◇ 毛泽东：现在我们实行这么一种制度，这么一种计划，是可以一年一年走向更富更强的，一年一年可以看到更富更强些。而这个富，是共同的富，这个强，是共同的强，大家都有份。

◇ 邓小平：我们坚持走社会主义道路，根本的目标就是实现共同富裕。

◇ 习近平：共同富裕是全体人民共同富裕，是人民群众物质生活和精神生活都富裕，不是少数人的富裕，也不是整齐划一的平均主义。

24. (13分) 关于“促进共同富裕”，同学整理出如下信息：

(1) 概括材料观点。(3分)

(2) 综合运用所学，阐释实现全体人民共同富裕的必要性。(4分)

(3) 从个人收入分配角度，就促进共同富裕提出三条具体建议。(6分)

25. (8分)



司马台长城



古北口镇

古北口镇是“中国历史文化名镇”“中国特色小镇”。镇域内的司马台长城是我国唯一保留明代原貌的古建筑遗址，1987年被列入世界遗产名录。古北口镇因位于古北口附近又有江南水乡乌镇风格而得名，是集休闲度假、商务会展、创意文化等旅游业态为一体的综合性特色休闲国际旅游度假区。

在古北口镇旅游官网上公布的景区门票价格：古北口镇门票 140 元/成人（市场调节价），司马台长城门票 40 元/成人（政府定价）。

小西很是不解，为什么都是景区票价，一个是市场调节价，一个是由政府定价？

请运用《经济与社会》相关知识，解答小西的疑问。

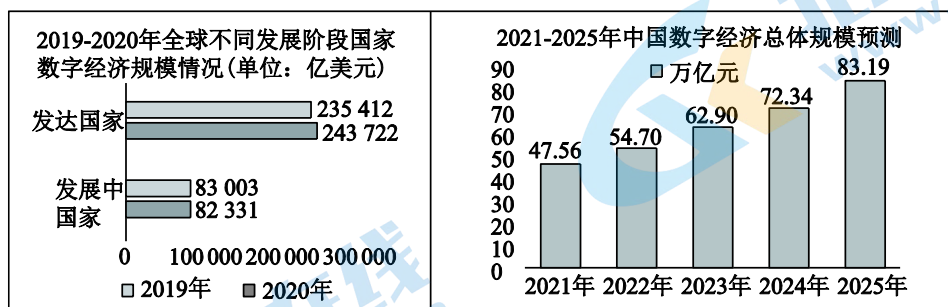
26. (6分) 某地是目前国内较大的菠萝产区，这里的菠萝纤维少、鲜甜多汁。由于小农户难以对接全国大市场，该地一度陷入菠萝“丰产不丰收”的困境。

在政府支持下，该地制定实施了品牌产业发展计划，筹建大数据库，以数据引导生产、拓宽市场。产区按照市场需求和价格走势，调整种植结构，实现标准种植，确保品质可控，还建成了分拣、仓储、保鲜、加工、物流等全产业链，让滞销的菠萝“火”了起来。如今，该地菠萝出村进城、漂洋过海，农户实现了增收致富。

结合材料，运用《经济与社会》相关知识，说明该地菠萝“火”起来的经验。

27. (13分)

材料一 全球数字经济发展状况（来源：中国信息通信研究院、世界银行）



注：《全球数字经济白皮书（2023年）》显示，美国数字经济规模蝉联全球第一（12.34万亿美元）；中国数字经济规模位居世界第二（4.73万亿美元），同比增长14.2%，增速位居世界第一。

材料二 近年来，数字经济发展速度之快、辐射范围之广、影响程度之深前所未有，正在成为重组全球要素资源、重塑世界经济结构、改变全球竞争格局的关键力量。2022年，我国网民数量全球第一，电子商务总量全球第一，电子支付总额全球第一；建有全球规模最大的5G网络和光纤宽带，通信基础设施覆盖

欠发达地区、偏远地区，是通信基础设施覆盖率最高的国家，已成为名副其实的网络大国。

### 材料三

- ◇ 智能机器人在生产线上各司其职，24小时不间断作业；无人驾驶收割机在设定好路线后，在田间地头自动走位收割；坐进无人驾驶车，点击面前的平板电脑即可进入自动驾驶模式……
- ◇ 数字技术与各行业加速融合，电子商务、移动支付、在线学习、协同办公、远程医疗、智能家居等生产生活新方式加速推广，提供了更加便捷舒适的服务体验；
- ◇ 全国各地大力推进“互联网+政务服务”，更多民生服务事项“一网通办”、更多涉企服务事项“一站式”办理和“不见面”审批，让百姓少跑腿、数据多跑路。

- (1) 概括材料一反映的经济信息。(3分)
- (2) 参考材料二，指出并解释中国数字经济迅速发展的两个原因。(4分)
- (3) 结合材料三，运用《经济与社会》的相关知识，说明“数字经济有助于推动生产方式、生活方式和治理方式的深刻变革。”(6分)



## 参考答案

### 第一部分（共44分）

1. D 2. C 3. D 4. B 5. D 6. C 7. D 8. C 9. D 10. B  
11. A 12. A 13. A 14. B 15. D 16. C 17. C 18. B 19. B 20. C  
21. A 22. B

### 第二部分（共56分）

#### 23.（16分）

- (1) ① 新民主主义（2分） ② 中国共产党（2分） ③ 中国特色社会主义（2分）

- (2) 可结合新民主主义革命道路、社会主义革命和建设道路、中国特色社会主义道路的形成，阐释中国道路始终坚持符合中国实际，反映中国人民意愿，适应时代发展要求；坚持党团结带领人民艰辛探索，回答时代问题，完成历史任务；坚持马列主义基本原理同中国具体实际相结合、同中华优秀传统文化相结合等。（10分）

等级水平	等级描述
水平4 (8~10分)	观点鲜明，能明确表达自己的见解；紧扣问题，结合事实，运用所学知识展开论述；逻辑严密，条理清晰
水平3 (5~7分)	观点比较明确，能表达自己的见解；能扣住问题展开论述，知识运用比较准确；逻辑性较强，有条理
水平2 (3~4分)	观点不明确；论述不能集中指向问题，罗列知识；知识运用不正确；论述缺乏逻辑，条理性差
水平1 (0~2分)	应答与试题无关；或重复试题内容；或没有应答

#### 24.（13分）

- (1) 带领人民走向共同富裕是中国共产党人始终不变的追求。（3分）

- (2) 可以选择一或两个模块的知识，从以下角度作答。（4分）

《中国特色社会主义》：中国梦、新时代新征程、我国社会主要矛盾、人民立场等

《经济与社会》：社会主义本质、以人民为中心的发展思想等

- (3) 任选以下内容中的三条作答。（6分）

- ① 坚持居民收入增长和经济增长基本同步、劳动报酬提高和劳动生产率提高基本同步。
- ② 初次分配方面，坚持多劳多得，勤劳致富，促进机会公平，增加低收入者收入，扩大中等收入群体；多渠道增加居民要素收入财产性收入。
- ③ 再分配方面，加大税收、社会保障、转移支付等调节力度。
- ④ 重视发挥第三次分配作用，发展公益慈善事业。
- ⑤ 规范收入分配秩序，保护合法收入，调节过高收入，取缔非法收入。

25. (8分)

市场竞争中形成的市场调节价，能比较灵敏地反映生产经营成本和供求变化，引导要素流动和消费需求，激励企业改进技术和管理，提高服务质量。司马台长城是重要的公共文化资源，适用政府定价范围，能更好地保障公众基本文化权益，维护公共利益，促进社会公平。市场调节价和政府定价结合，充分发挥市场在资源配置中起决定性作用，更好发挥政府作用，提高资源配置效率和公平性，促进经济效益和社会效益的统一。

26. (6分)

该地政府履行经济职能，优化公共服务，推动数字技术与农业发展深度融合，实现了产销对接，激活了菠萝市场；产区根据市场需求和价格走势，优化种植和产业结构，提高产品和服务品质，推动了菠萝产业高质量发展。

27. (13分)

- (1) 全球数字经济发展不平衡，南北差距较大，存在数字鸿沟；中国数字经济规模发展呈上升趋势，潜力大。(3分)
- (2) 可从以下角度展开分析作答：中国凭借超大市场规模优势、以人民为中心的发展思想、完善的数字基础设施、强大的低成本制造能力、加强人才培养等，推动了数字经济的快速发展和持续升级。(4分)
- (3) 本题为开放性试题，可从以下角度回答：以科技创新为引领，数字经济与实体经济深度融合，增强发展动力；赋能传统产业转型升级，构建现代化产业体系，推动经济高质量发展，构筑国家竞争新优势；改善条件，优化生活工作体验，满足多样化需求；提高行政效率和政府效能，建设人民满意的服务型政府。(6分)

# 北京高一高二高三期末试题下载

京考一点通团队整理了【**2024年1月北京各区各年级期末试题&答案汇总**】专题，及时更新最新试题及答案。

通过【**京考一点通**】公众号，对话框回复【**期末**】或者点击公众号底部栏目<**试题专区**>，进入各年级汇总专题，查看并下载电子版试题及答案！



微信搜一搜

