

# 2022 北京海淀初三二模

## 历史

### 第一部分

本部分共 20 题，每题 1.5 分，共 30 分。在每题列出的四个选项中，选出最符合题目要求的一项。

1. 著名考古学家夏鼐曾评价说“商代文化实在是一个灿烂的文明 一个高度发达的文明”。下列文物中属于商代创造的文明成果的是



①良渚玉琮



②半坡人面鱼纹彩陶盆



③殷墟甲骨文



④司母戊鼎

A. ①②

B. ③④

C. ①③

D. ②④

2. 秦朝建立后，推行“书同文”、“车同轨”、统一度量衡等措施。这些措施的推行

A. 加强了对各地诸侯的控制

B. 确立了三公九卿的政治体制

C. 巩固了统一的多民族国家

D. 加重了劳动人民的赋役负担

3. 右图为某学生阅读教科书所做的读书笔记。依据其内容判断，他正

A. 分封制

B. 郡县制

C. 科举制

D. 行省制

4. 元朝时，腹里地区（今河北、山东、山西及内蒙古的一部分）每年交纳粮食 227 万石，而江浙地区每年交纳粮食达 449 万石，江浙地区全国“岁入粮数”的 37%。以上现象可以说明元朝时

A. 北方商业繁盛

B. 疆域面积

C. 南北发展均衡

D. 南方已成

重心

5. 右图所示为中国古代某项科技成就的发展。该科技成就

A. 改变了中国政治制度

B. 发展了中医治疗理论

C. 促进了远洋航海发展

D. 丰富了文学艺术宝库

6. 明朝小说《初刻拍案惊奇》中描写安徽商人程德瑜专

大得其利。在《二刻拍案惊奇》中也描写另一安徽商人程宰，到东北辽阳为商，贩卖人参、貂皮等，往来数年。以上故事情节折射出明朝

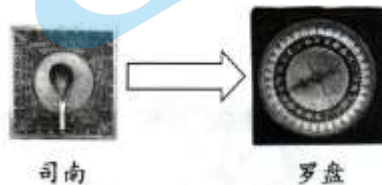
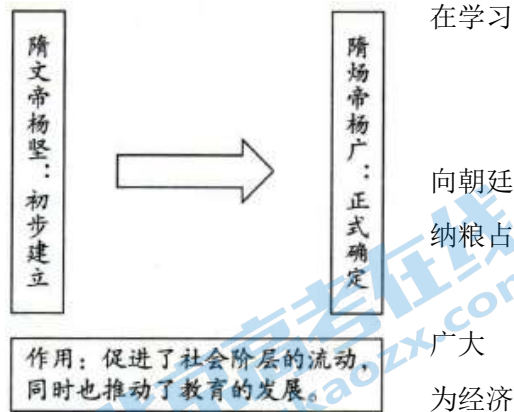
A. 外贸得到政府的支持

B. 外来高产作物得到推广

C. 工场手工业快速发展

D. 商人积极从事长途贸易

7. 从文物中获取信息是我们学习历史的方法。下列直观地反映中央政府对少数民族地区管理的文物是



司南

罗盘

走川、陕等地贩货，



A. 蹴鞠铜镜

B. 泥活字版

C. 青花扁壶

D. 达赖金印

8. 某学生搜集到右图所列历史人物的相关资料，他学习的主题应是

- A. 金属冶炼工艺新
- B. 天文算学铸辉煌
- C. 治病数人传医术
- D. 文学艺术源流长



张仲景



华佗



李时珍

9. 19世纪60年代起洋务派掀起了旨在“自强”“求富”的洋务运动；19世纪末，中国北方兴起了义和团运动。这两件历史事件发生的共同背景是

- A. 维新思想的传播
- B. 民族危机的加深
- C. 民族企业的发展
- D. 民主观念的传播

10. 下表中呈现的是1919年5月北京政府警察厅对被捕学生的供词笔录（节选）。透过这份供词笔录，我们可以了解五四运动的

姓名	学校	年龄	参加游行原因	事发现场
许德珩	北京大学	26	昨晚在法科大礼堂参加集会得知中国外交失败。今日中午在北大操场集合，然后去天安门。	在队伍后面，未进曹宅，不知因何起火，走至石大人胡同处被抓捕。
熊天祉	北京大学	21	因阅报载青岛归日本，关系中国存亡。今早同学约我前往天安门开会。	在队伍后面，在曹宅门外“意图辱骂是实”。

- ①爆发背景
  - ②具体细节
  - ③运动结果
  - ④历史影响
- A. ①②      B. ③④      C. ②③      D. ①④

11. 雕塑作品能够形象地反映历史场景。下列四幅雕塑作品所表现的历史事件按其发生的顺序排列正确的是

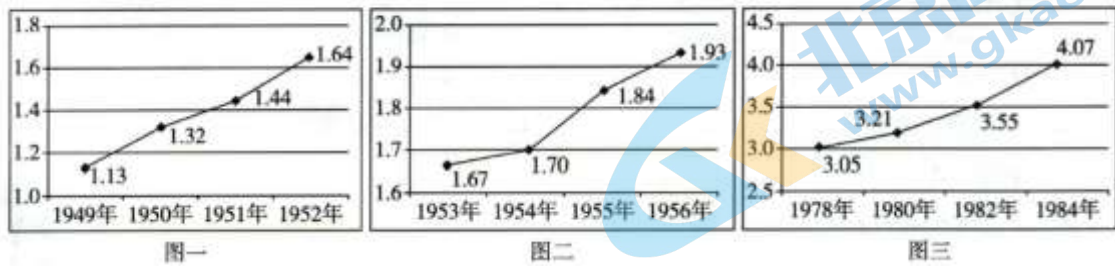
①南昌起义	②共商国是一中国人民政治协商会议第一次全体会议

③敌后抗日游击战	④人民解放军胜利渡长江
----------	-------------

- A. ①③④②      B. ②①③④      C. ③①②④      D. ④①②③

12. 对下列数据变化原因解释正确的是

中华人民共和国不同时期粮食产量变化(单位:亿吨)



- ①图一: 与实施《中华人民共和国土地改革法》有关  
 ②图二: 与广泛开展农业合作化运动有关  
 ③图三: 与推行家庭联产承包责任制有关  
 ④综合因素: 农业投资在经济投资总额中占据首位

- A. ①②③      B. ①②④      C. ①③④      D. ②③④

13. 不同时期的奋斗具有独特的时代精神风貌。从下列成就取得的过程中可凝练出

- A. 两弹一星精神  
 B. 改革开放精神  
 C. 载人航天精神  
 D. 抗击非典精神

- 1964年, 我国第一颗原子弹爆炸成功
- 1966年, 我国第一次成功进行了发射导弹核武器的试验
- 1967年, 我国第一颗氢弹爆炸成功

14. 在一幅反映15世纪

加勒比海岛的

船只, 画面右侧显示一位航海家登上岛屿, 正替国王宣示对此地的所有权。画中的这位航海家应是

- A. 迪亚士      B. 达·伽马      C. 哥伦布      D. 麦哲伦

15. 民歌蕴含着丰富的历史信息。右图所列为十七世纪末英国民歌《呢绒商的快乐》内容节选, 材料反映出当时英国

- ①手工工场中存在劳动分工  
 ②机器生产提高了生产效率  
 ③资本主义生产的雇佣关系  
 ④殖民扩张造成东西方差距加大

我们聚集金银千千万, 都是榨自穷光蛋。  
 多亏广大穷人早晚忙, 我们才能发财致富住高房。  
 梳匠、纺织工、漂匠排成行, 为了极少工资把活

- A. ①②      B. ①③      C. ②④      D. ③④

16. 某历史公众号准备推送一期专题——十九世纪资本主义制度的扩展。下列各项可以放进专题资源包的是

- ①文献: 莎士比亚手稿      ②图片: 俄国贵族宣读“解放”农奴的法令  
 ③地图: 美国内战形势图      ④视频: 权威重构与明治维新

- A. ①②③      B. ①②④      C. ①③④      D. ②③④

17. “二战的一个重要根源, 即在于第一次世界大战后战胜国对世界做出的和平安排之中。”能够为此观点提供证据的是

- A. 同盟国和协约国形成      B. 美国加入协约国对德作战  
 C. 俄国爆发了十月革命      D. 凡尔赛-华盛顿体系形成

18. 若概括下列历史人物的共同特征，他们都是



玻利瓦尔  
(1783-1830年)



章西女王  
(约1835-1858年)



甘地  
(1869-1948年)



扎格鲁尔  
(1857-1927年)

- A. 反对封建专制的革命者  
B. 反抗殖民压迫的民族英雄  
C. 推动改革内政的政治家  
D. 主张非暴力抵抗的爱国者

19. 漫画《来自西边的风》创作于1948年7月，漫画中立于云端之上的西风神（ERP，实际是马歇尔计划的缩写）正鼓起双腮，向寓意欧洲（Europe）的大风车吹来劲风，大风车转动起来，吹走了欧洲的严寒。这幅漫画说明了美国企图

- A. 通过新政缓解资本主义世界经济危机  
B. 通过经济援助稳定欧洲资本主义秩序  
C. 建立军事同盟与社会主义阵营相抗衡  
D. 革新技术谋求资本主义世界霸主地位



车吹来

20. 某国际组织的首要宗旨是：“维持国际和平及安全；并为此目的：采取有效集体办法，以防止且消除对于和平之威胁，制止侵略行为或其他和平之破坏；并以和平方法且依正义及国际法之原则，调整或解决足以破坏和平之国际争端或情势。”该国际组织是

- A. 联合国  
B. 北大西洋公约组织  
C. 亚太经合组织  
D. 世界贸易组织

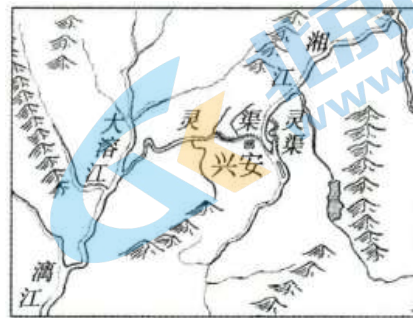
### 第二部分

21. (10分) 水利工程的兴修影响非凡。

材料一 灵渠开通泽后世

为解决军粮运输问题，秦朝在广西兴安境内开凿沟通系和珠江水系的灵渠（见右图）。公元前214年，灵渠凿航，大批粮草经水路运往岭南。依靠充足的物资供应，秦岭南，随即设桂林、象、南海三郡，岭南纳入秦朝版图。

2000多年来，岭南以北的物资多通过灵渠运往岭南，而两广地区的商品也经灵渠运到长江流域及以北的中原地区。当区。当今灵渠仍然灌溉着20000亩土地。



图例：  
山脉  
城镇  
河流、湖泊  
人工运河

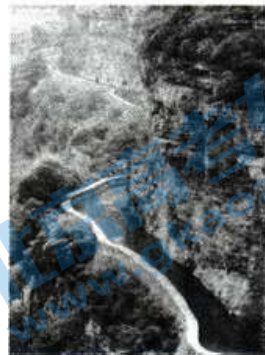
长江水  
成通  
兵攻克

南，而  
区。当

(1) 依据材料一，概括灵渠的作用。(2分) 再列举一项著名的中国古代水利工程。(1分)

材料二 红旗渠水绕太行

为解决林县人民长期缺水的困难，1960年3月中共林县县委决定引漳河水把引漳入林工程正式命名为“红旗渠”。中共林县县委带领30万林县人民，科学心施工，靠一锤、一钎、一双手，苦战10年，削平1250座山头，架设152个通211条隧道，在太行山悬崖绝壁上，凿出了一条长1500公里的“生命之河”。月红旗渠总干渠通水。自此，林县彻底改变了靠天吃饭的现状，实现了“引得清的美好梦想。



入林县并设计，精渡槽，打1965年4水天上来”

(2) 依据材料分析红旗渠成功修筑的原因。(2分)

材料三 苏伊士运河多磨难 1858年，法国驻埃及领事与埃及政府签约，法国获得了开凿、控制、经营苏伊士运河等权益。经过埃及人民的挖掘，运河于1869年11月通航。

苏伊士运河通航后国际航运里程变化一览表

起止点	沿非洲绕行好望角	从地中海经苏伊士运河
伦敦——孟买	17400km	10100km
马赛——孟买	16000km	7400km
伦敦——新加坡	18990km	13350km

1882年，英国骑兵进驻运河区。1888年后，苏伊士运河长期被英国控制。为收回苏伊士运河，埃及人民不断斗争。

1952年埃及共和国成立后，埃及政府坚决要求收回苏伊士运河，经过长期斗争，最终迫使英国撤走了占领军并将运河主权交还埃及。1956年，埃及总统纳赛尔宣布苏伊士运河收归国有。

(3) 依据材料三中的表格资料，指出苏伊士运河通航的意义。(1分)

(4) 依据材料三，概括苏伊士运河管辖权的变化。(2分) 你如何评价埃及人将苏伊士运河收归国有的行为？(2分)

22. (10分) 服饰折射出历史的发展。

材料一

<p>①彩陶靴，发现于青海省，属于新石器时代辛店文化类型。</p>	<p>②北魏洛阳贵族墓出土女俑的服饰线描图。其窄袖衣服具有鲜卑特点，宽袖则具有汉族风尚；高腰表现北魏崇尚骑马的风俗，腰线上提展现出女性优美。</p>	<p>③《礼宾图》(局部)，陕西乾县唐代章怀太子墓壁画。其中既有唐朝官员，还有拜占庭帝国、日本等国的使节。</p>

(1) 选择，一个研究主题和相应的一则材料，并说明选择材料的理由。(3分，仿照示例完成，抄写答题示例不得分)

研究主题 A: 对外交往	研究主题 B: 民族交融	研究主题 C: 史前文化
--------------	--------------	--------------

【答题示例】

研究主题: C

选择材料: ①

理由: 出土文物彩陶靴, 属于史前时期。据此, 可以了解青海地区新石器时代的服饰和制陶的具体状况。

材料二 工业革命中的机器生产对服装的影响最为明显: 缝纫机的发明为服装制造业发展开辟了道路; 机器在服装业的普遍使用需要服装的规格化、标准化支持, 才能保证批量生产, 于是出现了裁衣的样板; 量体裁衣逐渐让位于标准化服装裁剪, 成衣的概念应运而生, 并逐渐成为大众消费模式的主流; 化学纤维工业发展使原料供给更加丰富。

——摘编自冯泽民刘海清《中西服装发展史》

(2) 依据材料二, 概括工业革命对服装生产的影响。(3分)

材料三 20世纪70年代末80年代初, 国内外文化碰撞激烈, 青年人追求时尚, 喇叭裤成为时尚青年的首选, 也遭到很多人的反对和抵制。随着人们思想解放, 喇叭裤最终风靡大街小巷。20世纪80年代, 随着国外新潮服饰的流入, 耐穿耐脏、款式多变的牛仔裤和凸显个性的健美裤开始流行; 随着中国女排在世界竞技场上实现了“五连冠”, 带动体育事业迅速发展, 运动装也成为日常生活中的时髦便服, 很多学校也把运动服作为学生的校服。

(3) 依据材料三, 概括20世纪70年代末到80年代服饰的特点,(2分)并分析特点成因。(2分)

23. (8分) 信息传播方式随社会发展不断变化。

材料一 晚清时期容闳在上海创办《汇报》, 其中介绍工商业状况的商情和刊登的各类广告就占据4个版面。上海的《昭文新报》《汇报》《述报》《循环日报》等很多报刊开设“航船日期”“银行市面”“各货行情”“各行告白”等栏目, 刊登各类商业广告。

武昌起义前革命团体日知会创办报刊阅览室, “始则渐增革命书报, 继而吸引同志, 进行组织”“吾鄂各学堂, 对于《湖北学生界》及革命刊物, 人人秘手一册, 递相传播, 皆欲奋起”。

——摘编自马晓军《近代报刊对辛亥革命前后中国社会的影响》

(1) 依据材料一概括近代报刊产生的影响。(2分)

材料二 为研究近代报刊, 某校历史学习小组收集到如下资料并开展研究:


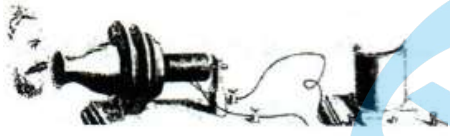

		
<p>①梁启超在《时务报》上发表《变法通议》, 强调“法者, 天下之公器也, 变者, 天下之公理也”。《时务报》</p>	<p>②1915年9月陈独秀在《青年杂志》发表《敬告青年》, 反对封建礼教, 提倡民主与科学。《青年杂志》</p>	<p>《红星》报是中国工农红军军事委员会最早的机关报, 1931年12月创刊于江西瑞金, 对农村革命根据地和长征多有报道, 深受军民欢迎。《红星》报</p>

_____。	_____。	_____。
--------	--------	--------

(2) 从②③中任选一则报刊，参照示例，将材料中画横线处的内容补充完整。(2分，抄写答题示例不得分)

【答题示例】《时务报》宣传变法主张，推动了维新变法运动的开展。



材料三 信息传播方式的变化

		
图1 魏晋墓中出土的《驿使图》	图2 1876年美国贝尔发明了电话	图3 2011年开发的手机即时通讯服务程序——微信

(3) 依据材料三，分别指出图2、图3中的科技发明的背景。(2分) 分析从图1到图3信息传播方式变化及影响。(2分)

24. (12分) 民众推动着历史的发展。

材料一 民众与古代著作

	
A. 作者贾思勰，此书系统总结了6世纪及以前黄河流域传统农业生产经验和技術。	B. 作者宋应星，此书共18卷，农业生产技术约占了全书三分之一，对手工业的介绍几乎涉及了明代所有手工业部门。

(1) 请将下列评价与上述著作正确对应。(2分，答题要求：只填写字母即可)

①“十七世纪的中国工艺百科全书”——( )

②“中国古代农业百科全书”——( )

(2) 依据材料一，概括两部著作的共同特点。(2分)

材料二 民众与群众路线

八路军129师开赴太行地区后，在多地与日军展开血战，痛击日军，而且不拿群众一针一线，帮助农民生产劳动。许多农村青年怀着崇拜八路军的理想参加了军。		1939年2月，中共中央号召抗日根据地全体党政军民开展大生产运动。毛泽东、朱德等中央领导人亲自动手，种菜纺纱。第120师第359旅屯田垦荒，将荒无人烟的南泥湾变成“到处是庄稼，遍地是牛羊”的“陕北的好江南”。
--	---	--

(3) 依据材料二，概括中国共产党领导的抗日根据地建设的成功经验。(3分) 结合所学，指出中国共产党为全民族抗战胜利所作的贡献。(1分)

材料三 中华人民共和国成立后，涌现出许多英雄模范人物。部分英模人物如下：



①黄继光



②王进喜



③焦裕禄



④雷锋



⑤袁隆平



⑥屠呦呦

(4) 任选一位英模人物，写一段解说词，向同学们介绍他（她）的杰出贡献。（2分）

材料四

“人民，只有人民，才是创造历史的真正动力”“为人民服务”——毛泽东

“中国人民将通过自己的创造性劳动，根本改变自己国家的落后面貌，以崭新的面貌，自立于世界的先进之列，并且同各国人民一道，共同推进人类的正义事业”“我深情地爱着我的祖国和人民”——邓小平

“人民就是江山，共产党打江山、守江山，守的是人民的心，为的是让人民过上好日子。我们党的百年奋斗史就是为人民谋幸福的历史”——习近平

(5) 综合材料二、三、四，说明中国共产党与人民的关系。（2分）



# 参考答案

## 第一部分（共 30 分）

1.B    2.C    3.C    4.D    5.C    6.D    7.D    8.C    9.B    10.A  
11.A    12.A    13.A    14.C    15.B    16.D    17.D    18.B    19.B    20.A

## 第二部分（共 40 分）

21. (10分) (1) 作用：(2分) 作用：扩大了秦朝的版图，巩固了统一的多民族国家；促进了南北经济文化交流，在当今仍然发挥积极作用。  
列举(1分)：都江堰、大运河
- (2) (2分) 坚持党的领导；科学规划；自力更生，艰苦创业；团结协作；无私奉献。
- (3) (1分) 缩短了远洋航程；密切了世界各地的联系。
- (4) 管辖权变化(2分)：从法英等外国殖民势力控制到归埃及国有。评价(2分)：维护了埃及的民族利益和国家主权，削弱了帝国主义的殖民统治，推动了殖民体系的瓦解。
22. (10分) (1) (3分) 研究主题：对外交往  
选择材料：③  
理由：《礼宾图》(局部)属于唐朝时期。通过对《礼宾图》(局部)的研究，可以了解唐朝时期唐政府与外国使节往来交流的情况。  
研究主题：民族交融  
选择材料：②  
理由：北魏洛阳贵族墓出土女俑的服饰线描图属于北魏时期。通过对线描图的研究，可以了解南北朝时期民族服饰的风貌，以及民族交融的情况。
- (2) (3分) 服装原材料变化；机器生产、批量生产出现；服装生产规格化、标准化；消费模式/观念转变。
- (3) 特点(2分)：服饰多样；凸显个性；追逐潮流等；  
成因(2分)：改革开放；经济发展；思想解放；文化交流。
23. (8分) (1) (2分) 经济发展(工商业发展)；政治变革(革命浪潮)。
- (2) (2分) 答案示例：《青年杂志》宣传了民主和科学的思想，推动了新文化运动的发展。  
《红星》报宣传了中国共产党的革命主张，增强了红军的凝聚力和战斗力。
- (3) 背景(2分)：图二为第二次工业革命(电气时代)；图三为互联网(第三次科技革命或信息时代)。  
影响(2分)：使信息的传递变得快捷和简便；使人与人、人与世界的联系更加紧密；深刻地改变着人们的思想观念和生活方式。
24. (12分) (1) (2分) ① ( B ) ② ( A )
- (2) (2分) 都总结了古代劳动人民的生产经验；都是古代的科技著作；都与农业有关等。
- (3) 成功经验(3分)：纪律严明；自力更生；关注民众利益；减轻民众负担；团结民众；注重思想宣传。贡献：  
领导中国人民坚持长期抗战，发挥中流砥柱的作用，为彻底的实现民族独立和人民解放奠定基础。
- (4) (2分) 答案略。答题要求：人物与事迹对应正确；精神概括准确。
- (5) (2分) 关系：来自人民；依靠人民；为了人民。

## 2022 北京各区初三二模试题下载

北京高考资讯公众号整理【**2022 北京各区初三二模试题&答案**】，持续为大家进行分享。  
想要下载练习各区各科试题答案，可以扫描下方二维码，进入试题答案汇总下载高清电子版文件。

扫描二维码进入试题答案汇总  
下载电子版试题



还有更多**一模二模模成绩、排名**等信息，考后持续分享！  
记得关注我们的公众号【**北京高考资讯 (ID: bjgkzx)**】！



 微信搜一搜

 北京高考资讯