

北京一零一中 2020-2021 学年度第一学期高三数学统考二

一、选择题共 10 小题。在每小题列出的四个选项中，选出符合题目要求的一项。

01. 已知集 $A = \{(x, y) | x^2 + y^2 = 1\}$, $B = \{(x, y) | y = 2x\}$, 则 $A \cap B$ 中元素的个数是 **【 】**

- A. 3
- B. 2
- C. 1
- D. 0

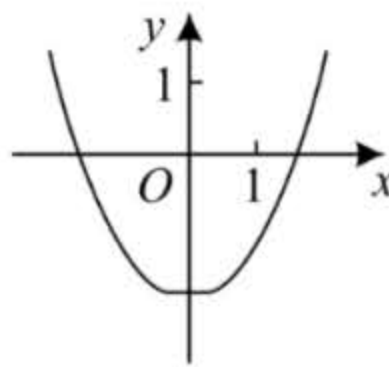
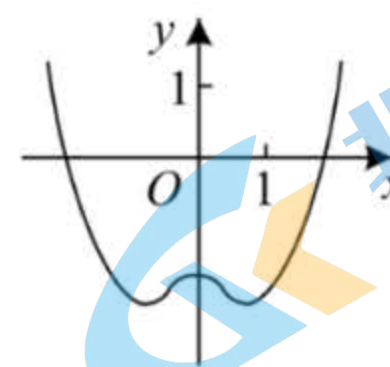
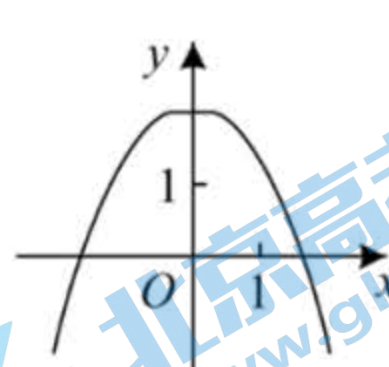
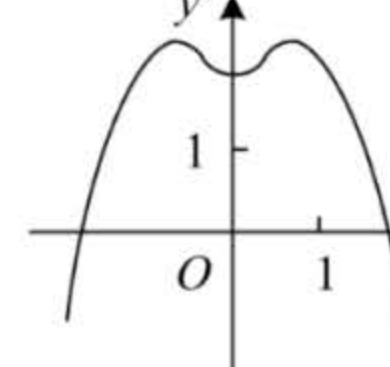
02. 已知数列 $\{a_n\}$ 为等差数列，若 $a_2 + a_6 + a_{10} = \frac{\pi}{2}$ ，则 $\tan(a_3 + a_9)$ 的值为 **【 】**

- A. 0
- B. $\frac{\sqrt{3}}{3}$
- C. 1
- D. $\sqrt{3}$

03. 在 $\triangle ABC$ 中，内角 A, B, C 所对的边为 a, b, c ，若 $a^2 \cos A \sin B = b^2 \sin A \cos B$ ，则 $\triangle ABC$ 的形状为 **【 】**

- A. 等腰直角三角形
- B. 直角三角形
- C. 等边三角形
- D. 等腰三角形或直角三角形

04. 函数 $y = -x^4 + x^2 + 2$ 的图象大致为 **【 】**

- A. 
- B. 
- C. 
- D. 

05. 已知定义在 R 上的奇函数 $f(x)$ 在 $(-\infty, 0)$ 上单调递减且 $f(-1)=0$, 若

$a = f(-\log_3 8), b = f(-\log_2 4), c = f\left(2^{\frac{2}{3}}\right)$, 则 a, b, c 的大小关系是 【 】

A. $c < a < b$

B. $a < b < c$

C. $a < c < b$

D. $c < b < a$

06. 设四边形 $ABCD$ 为平行四边形, $|\overline{AB}| = 6, |\overline{AD}| = 4$. 若点 M, N 满足 $\overline{BM} = 3\overline{MC}, \overline{DN} = 2\overline{NC}$, 则 $\overline{AM} \cdot \overline{NM}$

【 】

A. 20

B. 15

C. 9

D. 6

07. 规定 $\begin{vmatrix} a & b \\ c & d \end{vmatrix} = ad - bc$, 若在复平面上的三个点 A, B, C 分别对应复数 $0, z, zi$, 其中 z 满足 $\begin{vmatrix} z & 1-i \\ 1+i & 1 \end{vmatrix} = i$, 则

$\triangle ABC$ 的面积为

【 】

A. 25

B. $\frac{25}{2}$

C. 5

D. $\frac{5}{2}$

08. 若 $2^x - 2^y < 3^{-x} - 3^{-y}$, 则

【 】

A. $\ln(y-x+1) > 0$

B. $\ln(y-x+1) < 0$

C. $\ln|xy| > 0$

D. $\ln|xy| > 0$

09. 已知函数 $f(x) (x \in R)$ 满足 $f(-x) = 2 - f(x)$, 若函数 $y = \frac{x+1}{x}$ 与 $y = f(x)$ 图象的交点为 $(x_1, y_1), (x_2, y_2), \dots, (x_m, y_m)$,

则 $\sum_{i=1}^m (x_i + y_i) =$

【 】

A. 0

B. m

C. $2m$

D. $4m$

10. 数学家也有许多美丽的错误, 如法国数学家费马于 1640 年提出了猜想: $F_n = 2^{2^n} + 1 (n \in \mathbb{N})$ 是素数。

直到 1732 年才被善于计算的数学家欧拉算出 $F_5 = 641 \times 6700471$, 不是素数。

$a_n = \log_2(F_n - 1) (n \in \mathbb{N}^*)$, S_n 表示数列 $\{a_n\}$ 的前 n 项和, 则使不等式

$$\frac{2}{S_1 S_2} + \frac{2^2}{S_2 S_3} + \cdots + \frac{2^n}{S_n S_{n+1}} < \frac{2^n}{2020}$$
 成立的最小整数 n 的值是 **【 】**

A. 11

B. 10

C. 9

D. 8

二、填空题共 5 小题。

11. 等比数列 $\{a_n\}$ 的前 n 项和 $S_n = 2^n + b$, 则 $b =$ _____.

12. 已知向量 $\overrightarrow{OA} = (-3, 4)$, $\overrightarrow{OB} = (3, 4)$, $\overrightarrow{OC} = \overrightarrow{OA} + t\overrightarrow{OB} (t \in \mathbb{R})$, 若射线 OC 平分 \overrightarrow{OA} 与 \overrightarrow{OB} 的夹角, 则 t 的值为 _____.

13. 已知函数 $f(x) = \sin \omega x (|\omega| < 1)$ 在 $\left[0, \frac{\pi}{4}\right]$ 上单调递增, 且 $f(x)$ 的图象关于点 $(2\pi, 0)$ 对称, 则

$$\omega =$$
 _____.

14. 已知函数 $f(x) = -x^2 + ax - \ln x$, 若函数 $f(x)$ 既有极大值又有极小值, 则 a 的取值范围是 _____.

15. 对于非空集合 $A = \{a_1, a_2, a_3, \dots, a_n\} (a_i \geq 0, i = 1, 2, \dots, n)$, 其所有元素的几何平均数记为 $E(A)$, 即

$$E(A) = \sqrt[n]{a_1 \cdot a_2 \cdots a_n}$$
 若非空数集 B 满足下列两个条件: ① $B \subseteq A$; ② $E(B) = E(A)$, 则称 B 为 A 的一个“保均值子集”, 据此, 集合 $\{1, 2, 4, 8, 16\}$ 的“保均值子集”有 _____ 个.

三、解答题共 6 小题。解答应写出文字说明、演算步骤或证明过程。

16. 已知 $\{a_n\}$ 是公差为 d 的等差数列, 且满足 $a_1 = 2, a_1, a_3, a_7$ 成等比数列。

(1) 求数列 $\{a_n\}$ 的通项公式;

(2) 设 $b_n = a_n + 2^{a_n}$, 求数列 $\{b_n\}$ 的前 n 项和 S_n .

17. 已知函数 $f(x) = \frac{1}{4}x^3 - x^2 + x$.

(1) 求曲线 $y=f(x)$ 的斜率为 1 的切线方程;

(2) 当 $x \in [-2, 6]$ 时, 求证: $x-6 \leq f(x) \leq x+18$.

18. 已知 $\triangle ABC$ 的面积为 S , 角 A, B, C 所对的边为 a, b, c , 点 O 为 $\triangle ABC$ 的内心, $b=2\sqrt{3}$ 且

$$S = \frac{\sqrt{3}}{4}(a^2 + c^2 - b^2).$$

(1) 求 B 的大小;

(2) 求 $\triangle AOC$ 的周长的取值范围.

19. 已知函数 $f(x)$ 的图象是由函数 $g(x) = \cos x$ 的图象经如下变换得到: 先将 $g(x)$ 图象上所有点的纵坐标伸长到

原来的 2 倍 (横坐标不变), 再将所得到的图象向右平移 $\frac{\pi}{2}$ 个单位长度.

(1) 求函数 $f(x)$ 的解析式, 并求其图象的对称轴方程;

(2) 已知关于 x 的方程 $f(x) + g(x) = m$ 在 $[0, 2\pi)$ 内有两个不同的解 α, β .

① 求实数 m 的取值范围;

② 求 $\cos(\alpha - \beta)$ 的值.

20. 已知函数 $f(x) = (x-1)e^x - ax^2$ (e 是自然对数的底).

(1) 判断函数 $f(x)$ 极值点的个数, 并说明理由;

(2) 若对任意的 $x \in R^+$, $f(x) + e^x \geq x^3 + x$, 求 a 的取值范围.

21: 对于数列 $\{u_n\}$, 若存在常数 $M > 0$, 对任意的 $n \in N^*$, 恒有 $|u_{n+1} - u_n| + |u_n - u_{n-1}| + \dots + |u_2 - u_1| \leq M$, 则称数列 $\{u_n\}$ 为 B -数列.

(1) 首项为 1, 公比为 $\frac{1}{2}$ 的等比数列 $\{a_n\}$ 是否为 B -数列? 请说明理由;

(2) 设 S_n 是数列 $\{a_n\}$ 的前 n 项和, 若数列 $\{S_n\}$ 是 B -数列, 那么数列 $\{a_n\}$ 是否为 B -数列? 若是, 请说明理由; 若不是, 请举出一个例子;

(3) 若数列 $\{a_n\}, \{b_n\}$ 都是 B -数列, 求证: 数列 $\{a_n b_n\}$ 是 B -数列.

关于我们

北京高考资讯是专注于北京新高考政策、新高考选科规划、志愿填报、名校强基计划、学科竞赛、高中生涯规划的超级升学服务平台。总部坐落于北京，旗下拥有北京高考在线网站（www.gaokzx.com）和微信公众平台等媒体矩阵。

目前，北京高考资讯微信公众号拥有30W+活跃用户，用户群体涵盖北京80%以上的重点中学校长、老师、家长及考生，引起众多重点高校的关注。
北京高考在线官方网站：www.gaokzx.com

北京高考资讯 (ID: bj-gaokao)
扫码关注获取更多



关注北京高考在线官方微信：[北京高考资讯 \(ID:bj-gaokao\)](https://www.gaokzx.com)，获取更多试题资料及排名分析信息。