

考生注意:

1. 本试卷分第 I 卷和第 II 卷两部分。满分 300 分,考试时间 150 分钟。
2. 考生作答时,请将答案答在答题卡上。必须在题号所指示的答题区域作答,超出答题区域书写的答案无效,在试题卷、草稿纸上答题无效。

第 I 卷

本卷共 35 小题,每小题 4 分,共 140 分。在每小题给出的四个选项中,只有一项是最符合题目要求的。

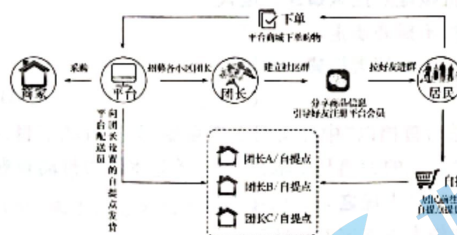
土地是发展之基础、农民之根本。2023 年 2 月 13 日,中央一号文件正式发布,文件指出:引导土地经营权有序流转,发展农业适度规模经营,总结地方“小田并大田”等经验,探索在农民自愿前提下,结合农田建设、土地整治逐步解决细碎化问题,将“一户多块地”改造为“一户一块地”,并通过土地流转,促进土地向种粮大户集中。“小田并大田”政策目前在安徽、江苏、山东等地区进行试点。据此完成 1~3 题。

1. 我国实施“小田并大田”政策的原因有
 - ①劳动力成本逐渐上升
 - ②土地流转费用高
 - ③摆荒和弃耕现象严重
 - ④耕地分布不平衡

A. ①② B. ①③ C. ②④ D. ③④
2. 目前,部分试点地区农民对土地流转积极性不高,其主要影响因素是

A. 经营收益 B. 就业压力 C. 生存保障 D. 补贴力度
3. “小田并大田”政策对安徽省的意义是
 - A. 促进农业生产结构转型升级
 - B. 实现农业生产多样化
 - C. 减少农村劳动力的迁出数量
 - D. 缓解耕地非粮化倾向

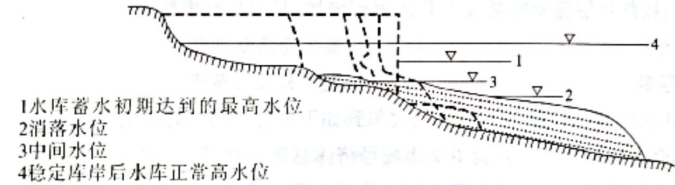
社区团购是真实居住社区内居民团体的一种互联网线上线下购物消费行为,是依托真实社区的一种区域化、小众化、本地化、网络化的团购形式,团购产品主要以生鲜蔬果为主。下图为社区团购商业模式示意图。据此完成 4~5 题。



4. 与传统菜场销售相比,社区团购
 - A. 销售人员多
 - B. 无需租用店铺
 - C. 仓储损耗低
 - D. 商家利润更高

5. 推测众多社区商家申请成为社区团购“团长”的主要目的是
 - A. 及时掌握消费信息
 - B. 促进规模化经营
 - C. 利用网络营销平台
 - D. 保障产品的品质

水库库岸演变指在库水与库岸相互作用下库岸的变化。水库边岸在库水水位升降及风浪冲刷作用下,发生岸壁坍塌破坏,岸边淤积浅滩,最终形成新的稳定岸坡。下图为水库库岸演变成新的稳定库岸剖面示意图,图中虚线表示库岸演变过程中不同时期库岸线及水下浅滩位置。据此完成 6~8 题。



6. 图示水库库岸演变过程是
 - A. 甲、乙、丙、丁
 - B. 乙、丁、甲、丙
 - C. 甲、乙、丁、丙
 - D. 乙、丙、丁、甲
7. 水库库岸演变过程中
 - A. 蓄水初期的库岸比较平缓
 - B. 岸边地下水水位持续升高
 - C. 库区淤积加速坍岸的发展
 - D. 波浪作用下形成水下浅滩
8. 水库库岸演变最终趋于稳定的主要原因是
 - A. 水库面积扩大,正常高水位下降
 - B. 库岸岩性变化,抗侵蚀能力提升
 - C. 浅滩逐渐增长,削弱波浪的冲刷
 - D. 岸坡植被增加,水土保持能力强

为了研究新疆托尔峰自然保护区生态系统的水源涵养功能,某高校科研团队选取保护区内具有代表性的云杉林(海拔 2 600 米)、灌木林(海拔 2 400 米)、草地(海拔 2 100 米),从林冠层、枯枝落叶层和土壤层三个层面进行研究。研究结果显示云杉林的综合水源涵养能力最好,灌木林次之,草地最差。下表为不同植被类型林冠层截留降水能力结果统计表。据此完成 9~11 题。

植被类型	降雨量/mm	穿透降雨		树干茎流		林冠截留	
		降雨量/mm	占比/%	树干茎流量/mm	占比/%	林冠截留量/mm	占比/%
草地	19.75 ± 1.71						
灌木林	28.83 ± 4.32	14.12 ± 1.54	49.90 ± 2.30			14.71 ± 2.88	50.10 ± 2.30
云杉林	40.70 ± 3.73	23.08 ± 3.31	58.58 ± 10.21	0.60 ± 0.15	1.62 ± 0.59	17.02 ± 5.26	39.80 ± 10.63

注:表中数据为平均值 ± 标准误差,空白表示没有获取该项数据。

9. 据表中信息可知
- A. 研究区降雨量与海拔呈负相关
B. 实测单次降水量草地最大
C. 灌木林的林间湿度大于云杉林
D. 云杉林吸附水分能力较差
10. 云杉林林冠截留量占比较灌木林低的原因是
- A. 叶表形成蜡质层
B. 降雨间隔时间长
C. 林冠层厚度较大
D. 林冠空隙面积大
11. 研究发现,灌木林枯枝落叶层随海拔高度上升而累积增加,是因为海拔高处
- A. 降水减少,蒸发增大
B. 微生物活跃度低
C. 风力大,树叶凋零多
D. 灌木林枝叶茂密

12. 某校同学在探究“伟大的改革开放”的课题中,收集到如下事件。其中对应正确的是
- ①党的十六届三中全会——就完善社会主义市场经济体制进行部署
②我国成功加入世界贸易组织——标志着中国对外开放进入了一个新的阶段
③党的十九大——作出了中国特色社会主义进入新时代的重要判断
④党的十九届五中全会——对全面深化改革和实行高水平对外开放作出部署
- A. ①②
B. ①③
C. ②④
D. ③④

13. 中央经济工作会议明确,2023年继续实施积极的财政政策和稳健的货币政策。实施积极的财政政策要加力提效,“加力”就是要适度加大财政政策扩张力度,“提效”就是要提升政策效能。上述政策的影响传导路径正确的是
- ①适度扩大财政支出规模→补基础设施建设短板→夯实实体经济发展根基
②扩大地方政府专项债券规模→为地方经济建设筹措资金→拉动经济增长
③增加中央对地方转移支付→加大民生领域支出→兜牢基层“三保”底线
④优化财政支出结构→助力供给侧固本培元→加大对技术改造的支持力度
- A. ①②
B. ①④
C. ②③
D. ③④

14. 某校研究小组通过网络搜集到如下几组新闻:

新闻一	就业是民生之本,牵动着千家万户。2022年,全国城镇新增就业累计实现1206万人,超额完成1100万人的全年目标任务。
新闻二	针对2022年居民消费价格指数涨幅,绝大多数省份预计控制在3%左右,并提出做好重要民生商品保供稳价工作,落实社会救助和保障标准与物价上涨挂钩联动机制。
新闻三	社会保障网织密织牢。截至2022年末,全国基本养老保险参保人数达10.5亿,同比增加2430万人,失业、工伤保险参保人数分别为2.4亿人、2.9亿人。

如果给这组新闻取一个标题,最合适的是

- A. 落实就业优先政策,积极完善社会保障体系
B. 强化监测预警,做好重要民生商品保供稳价
C. 强化基本公共服务,兜牢基本民生保障底线
D. 坚持以人民为中心的发展思想,持续增进民生福祉

15. 过去,人大预算审查监督主要是通过听取政府部门情况报告等方式开展。现在,借助科技手段实施预算联网监督,通过手机App,人大代表可以随时随地查阅相关政府预算和预算审查监督的内容信息,实现了“把数据装进口袋”,更好保障依法履行预算审查监督职责。预算联网监督系统
- ①推动政府加强预算管理,提升财政资金的使用效益
②拓宽了人大代表参与预算审查监督的渠道和方式
③为人大代表更好履职提供了有力的技术手段支撑
④便于人大代表更好地依法履职,切实行使监督权
- A. ①②
B. ①④
C. ②③
D. ③④

16. 山西晋中市找准乡村治理切入点,以党建为引领,抓队伍建设,实现乡村“有人治”;抓组织体系,实现乡村“有序治”;抓能力提升,实现乡村“有招治”;抓集体经济,实现乡村“有力治”;抓网格党建,实现乡村“有效治”;抓制度执行,实现乡村“有章治”。“六抓六治”
- ①加强了中国共产党对乡村治理工作的领导,以自治增活力,以自治强保障
②利用数字化手段赋能乡村治理,实现村级事务管理信息化,提升治理效率
③系统提升了乡村治理的能力和水平,为全面推进乡村振兴提供有力的保障
④通过县乡村联动,推动更多资源下沉到乡镇和村,全面提高乡村治理效能
- A. ①②
B. ①③
C. ②④
D. ③④

17. 2022年10月25日,全国政协港澳台侨委员会召开粤港澳大湾区现代产业体系建设对口协商座谈会,围绕“粤港澳大湾区发展规划纲要落实情况——构建具有国际竞争力的现代产业体系”议题建言,开展民主监督,推动粤港澳深化合作。这表明人民政协
- ①积极地参政议政,助力粤港澳大湾区建设
②发挥协商民主的独特优势,凝聚发展共识
③聚焦民生热点开展工作,以增进人民福祉
④作为多党合作的重要机构,履行国家职能
- A. ①②
B. ①④
C. ②③
D. ③④

18. 乡村建设是实施乡村振兴战略的重要任务,要传承保护传统村落民居和优秀乡土文化,突出地域特色和乡村特点,保留具有本土特色和乡土气息的乡村风貌,打造各具特色的现代版“富春山居图”。这启示我们必须
- ①坚持遵循乡村发展建设规律,充分体现本地文化风貌
②坚持一切从实际出发,防止机械地照搬城镇建设模式
③坚持在个性基础上把握共性,不搞齐步走、“一刀切”
④重视量的积累,防止超越发展阶段搞大拆建、大开发
- A. ①②
B. ①④
C. ②③
D. ③④


19. 《遇鉴文明》是中央广播电视总台首档以“中外文明交流互鉴”为主旨的节目,在这场“美美与共”的盛宴里,中外文明同框互鉴,讲述着彼此的相遇与交融,以恒久的艺术魅力打动着观众。由此可见
- ①文化交流可以增进不同文化背景人民之间的相互理解
②推动文明交流互鉴是增进中外人民友谊的最佳途径
③推动文化交流要博采众长,坚持相互借鉴、求同存异
④《遇鉴文明》节目体现了各民族文化相互尊重、平等交流
- A. ①②
B. ①④
C. ②③
D. ③④

20. 2022年12月9日,国家主席习近平出席首届中国—海湾阿拉伯国家合作委员会峰会并发表主旨讲话,总结历史经验,擘画未来蓝图,为构建面向新时代的中海关系指明方向与路径,为中海友好合作注入了强劲动力。材料从侧面说明

- ① 中海各国拥有广泛的共同利益
 - ② 世界多极化发展是不可阻挡的
 - ③ 世界一体化是我国的不懈追求
 - ④ 我国坚持对外开放政策不动摇
- A. ①③ B. ①④ C. ②③ D. ②④

21. 由下图可以推断出

中国和G7主要经济体对世界经济增长平均贡献率(2013—2021)



- ① 中国经济增长的对外依存度不断提高
- ② 中国以强大经济实力主导世界经济发展
- ③ 中国是多极化世界中的一个重要支柱
- ④ 中国日益成为世界经济增长的重要引擎

- A. ①② B. ①④ C. ②③ D. ③④

22. 小何的父亲老何去世,留下一处房产。老何的父母都先于老何过世,但老何生前有过两段婚姻关系。小何生母生下两个女儿后因病去世。后来,老何再婚,继母吴某带了一个10岁的女儿小红,此时小何大姐已经外嫁。婚后,四人一起共同生活了多年,前几年吴某去世。对此下列说法正确的是

- ① 老何留下的房子是再婚前购买,和继女小红没有关系
- ② 继承权男女平等,小何大姐并不因外嫁就丧失继承权
- ③ 继女小红与老何形成了扶养关系,亦应该享有继承权
- ④ 小何大姐已经外嫁好多年,房子的继承人只能是小何

- A. ①② B. ①④ C. ②③ D. ③④

23. 关系判断是断定认识对象之间关系的简单判断。下列属于“非传递关系”的是

- ① 小马是小赵的朋友,小赵是小吴的朋友
- ② 小王比小李大两岁,小李比小刘大两岁
- ③ 小红成绩比小明高,小明成绩比小亮高
- ④ 小华是小丽的同学,小丽是小天的同学

- A. ①② B. ①④ C. ②③ D. ③④

24. 商鞅主张对脱离农业生产的工商业者征以重税,不许商人经营粮食贸易,并加重关市之税,使商人觉得经商无利可图。这一做法旨在

- A. 推崇重义轻利价值观
- B. 增加政府的财政收入
- C. 维护奴隶主阶级统治
- D. 推动小农经济的发展

25. 汉代的察举制有赖于自下而上的层层推荐,能够入选者必须以地方长官了解和信任为前提,选拔的官吏一般都出自地方名人。由此可以看出,察举制

- A. 加强了中央集权
- B. 削弱了封建贵族的势力
- C. 保障了吏治清明
- D. 促进了官僚政治的形成

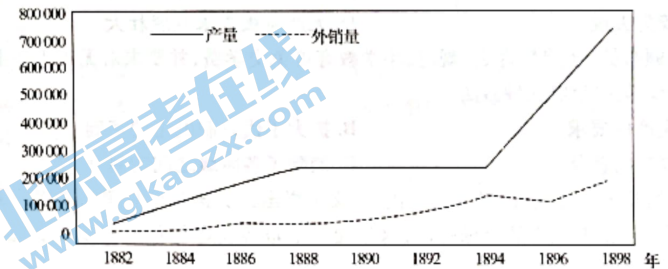
26. 在君臣关系上,宋代理学家杨时(1053—1135年)强调君臣应同心同德,以诚相待,和谐共事,共同治理国家。这一主张

- A. 反映了士大夫阶层的诉求
- B. 体现了分权制衡的政治理念
- C. 否定了封建君主专制制度
- D. 动摇了传统儒学的正统地位

27. 雍正四年(1726年)春,云南巡抚鄂尔泰在奏折中称:“云贵大患,无如苗蛮。欲安民必先制夷,欲制夷必改土归流。而苗疆多与邻省犬牙相错,又必归并事权,始可一劳永逸。”当时鄂尔泰强调“改土归流”意在

- A. 抵制外来侵略
- B. 开发民族地区
- C. 强化边疆管理
- D. 实现民族平等

28. 下图为1882—1898年间开平煤矿产量和外销量变化情况示意图(单位:吨)。由此可知,洋务运动



- A. 促进外贸逆差转变
- B. 开启中国近代化进程
- C. 鼓励民间兴办实业
- D. 具有外争利权的作用

29. 1912年,孙中山发表演讲称“今吾国之革命,乃为国民利福革命,拥护国民利福者,实社会主义”。1924年,孙中山又公然提出,社会主义“即是大同主义”,其真髓为“公有”。这表明孙中山

- A. 主张废除私有制度
- B. 认同苏俄革命道路
- C. 高度重视民生问题
- D. 坚守儒家大同思想

30. 20世纪80年代,当代著名社会学家费孝通多次到江苏常州调研,发现发展乡镇企业并没有导致农业和农村的衰败,反而“促进了农业的繁荣和发展,走上现代化道路”。这可以反映出

- A. 对外开放政策激活乡镇企业
- B. 深化农村经济体制改革顺应应民
- C. 城市经济体制改革卓有成效
- D. 加入世界贸易组织促进乡村振兴

31. 公元5世纪,天主教教皇基拉西乌斯一世提出“双剑说”,即“上帝赐给人类两把统治之剑,一把剑象征着最高的宗教权力,由上帝交给教皇执掌;另一把剑象征着最高的世俗权力,由上帝交给皇帝执掌。”据此可知,基拉西乌斯一世

- A. 坚持教权高于王权
B. 反对教会干涉世俗政务
C. 主张“政教合一”
D. 强调教权与王权的分工

32. 据下表可知,该时期德国

时间	记述
19世纪20—30年代	德意志关税同盟建立,各邦国呈现出前所未有的合作发展势头
19世纪50—60年代	德意志工业产值以每十年翻一番的速度发展,德意志商人想插足世界市场

- A. 军国主义势力日渐抬头
B. 国内市场逐渐走向统一
C. 国家统一促进经济发展
D. 卷入资本主义世界市场

33. 下面为1871年巴黎公社失败后原公社领导人之一鲍狄埃写下的《国际歌》中的部分歌词,这体现出当时法国

压迫的国家、空洞的法律,苛捐杂税榨穷苦;富人无义务独逍遥。
穷人的权利只是空话,受够了护佑下的沉沦。平等需要新的法律,
没有无义务的权利,平等!也没有无权利的义务!

- A. 工运进入到一个新高潮
B. 社会主义理论尚不成熟
C. 社会阶级矛盾较为尖锐
D. 无产阶级尚未发展壮大

34. 1891年,英国政府颁布的《免费教育法》规定,小学教育可免交学费,并要求对无正当理由的、不送孩子上学的家长处以罚金。英国政府这种做法

- A. 适应了机器大生产的要求
B. 扩大了代议制民主的基础
C. 实现了义务教育制的普及
D. 消除了各阶级之间的对立

35. 1996年,美国学者约翰·耶马在《世界的美国化》一文中指出:“美国制作和美国风格的影片、服装成了从布琼布拉一直到符拉迪沃斯托克的全球标准,这是使这个世界比以往任何时候都更加美国化的最重要因素。”从中可以看出美国

- A. 推行文化霸权主义
B. 借助文化交流渗透冷战
C. 妄图建立单极世界
D. 致力于构建新国际秩序

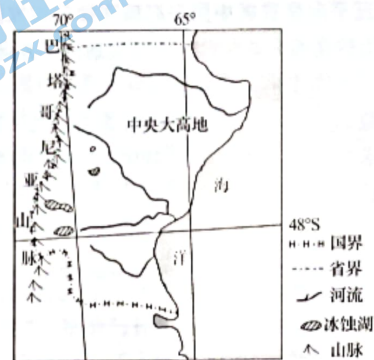
第Ⅱ卷

二、非选择题:共160分。

36. 阅读图文材料,完成下列要求。(30分)

巴塔哥尼亚山脉又称“巴塔哥尼亚安第斯山脉”,属于南美洲安第斯山脉的南段,北自南纬35°起,南至火地岛。山体切割破碎,多山间洼地和冰成湖泊,冰川侵蚀地貌发育典型。山脉东部为中央大高地,逐级下降到海拔1000米,以陡峭的悬崖急剧地落入大西洋中。高地地区年降水量不足400毫米,高大的林木几乎难以成活,只生长矮小的灌木,且都几乎倾向一侧。高地地区多以外流河为主,河流清澈,水生生物很少。下图为巴塔哥尼亚山脉地理位置及东部中央大高地河流分布示意图。

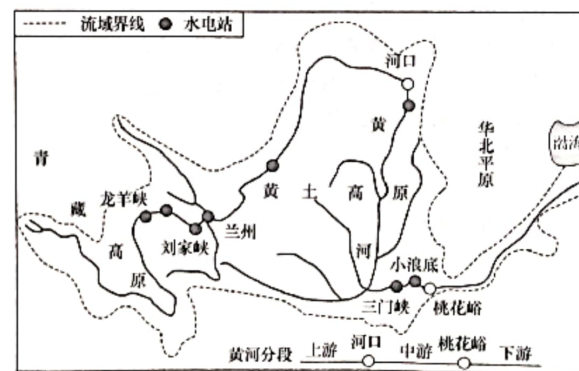
文科综合试题 第7页(共12页)



- (1) 简述巴塔哥尼亚山脉冰蚀湖发育的过程。(8分)
(2) 冰蚀湖东、西部沿湖地区外力作用差异较大,指出湖泊两侧主要外力作用及判断依据。(10分)
(3) 从河流水文特征角度,分析中央大高地地区河流水生生物很少的原因。(6分)
(4) 推测中央大高地地区只生长矮小灌木的原因,并指出灌木“倾向一侧”的方向。(6分)

37. 阅读图文材料,完成下列要求。(26分)

《中华人民共和国黄河保护法》自2023年4月1日起正式施行,黄河流域生态保护和高质量发展已上升为国家战略。流域内有三江源、祁连山、三角洲湿地等多个国家公园和国家重点生态功能区,被认为是我国重要的生态屏障区。近20年来,流域内建有小浪底水利枢纽、南水北调等国家重大工程。某科研团队对黄河流域省区生态系统服务价值进行评估,并对其演变动态进行剖析。结果显示:2000年以来,黄河流域生态系统服务价值呈逐年增加趋势,但山东省和山西省呈逐年减少趋势。下图为黄河流域示意图。



文科综合试题 第8页(共12页)

- (1) 简述小浪底水利枢纽对黄河流域的自然环境供给服务、调节服务的作用。(8分)
- (2) 从水环境角度,分析山西黄河流域生态系统价值降低的原因。(6分)
- (3) 2022年以来,甘肃省推动黄河上游实施沙、(矿)山、(湖)水、林(草)、田一体化保护和治理修复工程。结合所学知识,简述上述工程实施对国家安全产生的有利影响。(任选三个工程简述,6分)
- (4) 在山东省黄河三角洲湿地的发展过程中要抓住生态发展和高效发展的关键。从生态发展和高效发展中任选一个角度,简述湿地发展需要采取的措施。(6分)

38. 阅读材料,完成下列要求。(10分)

2023年2月26日至28日,中国共产党二十届二中全会在北京召开。全会提出,必须以习近平新时代中国特色社会主义思想为指导,深入学习贯彻二十大精神,把我国制度优势更好转化为国家治理效能。

天津和平区积极贯彻党的精神,坚持“法无授权不可为、法定职责必须为”,在“小区域”作出了全面依法治区的“大文章”,厉行法治结出累累硕果,连续28年获得全国平安建设先进区。

和平区委、区政府把习近平法治思想纳入理论学习中心组重要内容,抓好“关键少数”法治素养提升;举办习近平法治思想专题报告会、推进法治政府建设专题研讨班等培训40余场次,领导干部的法治观念进一步增强。

在和平区,法官、检察官、律师入驻社区、服务群众已是常态。法治力量下沉到社区、商超,推动矛盾纠纷的源头化解、前端处置,开展“无讼”商圈试点工作。

结合材料,运用《政治与法治》的知识,说说天津和平区法治建设给我们的启示。

39. 阅读材料,完成下列要求。(8分)

人工智能产品 ChatGPT 来了! 它不仅可以陪人们娱乐聊天,还能胜任写文案、剪视频等具有一定技术含量的工作……

2023年春节档热映的《流浪地球2》运用人工智能技术帮助演员在电影中实现了“返老还童”。人工智能还可以参与剧本创作。过去,人们想参观博物馆只能亲临现场。如今,运用人工智能等技术,人们足不出户就可云游博物馆,查阅藏品信息,甚至与文物交流对话。

人工智能越来越聪明,文化产业是否会迎来人工智能的替代性竞争? 文化产业从业者将会受到什么影响?

有人认为:人工智能会推动文化产业的发展。请你结合材料,运用实践的相关知识说明其合理性。

40. 阅读材料,完成下列要求。(12分)

2023年2月24日,我国外交部发布的《关于政治解决乌克兰危机的中国立场》强调:联合国宪章宗旨和原则应该得到严格遵守。要共同维护国际关系基本准则,捍卫国际公平正义;要尊重各国主权,国家不分大小、强弱、贫富一律平等,各国主权、独立和领土完整都应该得到切实保障;要摒弃冷战思维,坚持共同、综合、合作、可持续的安全观。一国的安全不能以损害他国安全为代价,地区安全不能以强化甚至扩张军事集团来保障。

结合材料,运用《当代国际政治与经济》的知识,说说为什么处理国际关系要“尊重各国主权、摒弃冷战思维”。

41. 阅读材料,完成下列要求。(14分)

由刘慈欣创作的长篇科幻小说《三体》一经问世就迅速走红,在国内外获得多个奖项。2016年5月,经刘慈欣授权,腾讯公司获得将《三体》录制成音频作品的独占性授权。同时,腾讯公司还获得针对《三体》音频侵权盗版单独提起诉讼的权利。

在对《三体》音频节目的运营过程中,腾讯公司发现荔枝 FM 网站及 APP 平台上存在大量盗版《三体》音频节目,多个主播因此获得巨大的流量和非常可观的经济收益。腾讯公司多次发送侵权通知函,要求荔枝公司删除其平台上的侵权音频。不过,腾讯公司发现,虽然荔枝公司删除了部分链接,但平台上仍存在大量侵权音频。2019年,腾讯公司将荔枝公司起诉至上海市浦东新区人民法院,并索赔经济损失500万元。

(1) 荔枝公司侵犯了腾讯公司的何种权利? 为什么? (8分)

(2) 荔枝公司作为侵权方应承担怎样的民事责任,并简述打击此类侵权行为的意义。(6分)

42. 阅读材料,完成下列要求。(8分)

2022年12月,中央经济工作会议上,习近平总书记根据我国经济发展的趋势性变化和阶段性特征,作出了“要继续把握好稳中求进的工作总基调”这一准确判断。

从宏观数据看,我国国民经济三大需求持续回升,恢复发展后劲增强。2022年以来,面对复杂严峻的国内外形势和多重超预期因素的冲击,我国坚持稳中求进的工作总基调,落实疫情要防住、经济要稳住、发展要安全的要求,坚持统筹疫情防控和经济社会发展,既最大程度保护了人民生命安全和身体健康,也最大程度稳住了经济社会发展基本盘。这是在以习近平同志为核心的党中央坚强领导下,全国上下付出艰辛努力共同奋斗的结果。

结合材料,运用辩证思维的知识,分析当前宏观经济判断的科学性。

43. 阅读材料,回答下列问题。(25分)

材料一 汉朝统治者吸取秦亡于严苛刑罚的教训,在以法治国的基础上,增加了具有意识形态功能的养老制度。汉代养老制度的内容,主要包括养、敬、顺、葬这四个方面。养,即子女在物质层面对父母进行供养的行为。敬,即子女与父母在生活及日常交流中,应该保持礼仪及行为等方面的尊敬。顺,即对父母应该顺从,不忤逆,在父权家长制背景下,子女要绝对服从父权,做到无违。葬,即丧葬,子女要为父母养老送终。在汉代不论是皇帝王公,还是平民百姓,父母丧葬之后,都需要为父母服丧三年。

——摘自李健《浅析汉代养老制度》

材料二 人口老龄化是人类社会发展的客观趋势。“十三五”时期,在党和国家重大规划和政策引领下,我国在老龄政策法规体系与养老服务体系、多元社会保障与老龄产业发展等领域取得了重大成就。《“十四五”国家老龄事业发展和养老服务体系规划》中指出:“‘十四五’时期,我国开启全面建设社会主义现代化国家新征程。党中央把积极应对人口老龄化上升为国家战略,在《中华人民共和国国民经济和社会发展第十四个五年规划和2035年远景目标纲要》中作了专门部署。我国具备坚实的物质基础、充足的人力资本、历史悠久的孝道文化。同时也要看到,老龄事业和养老服务还存在发展不平衡、不充分等问题。”

(1) 根据材料一并结合所学知识,概括汉代养老制度的特点,并简要评价。(12分)

(2) 根据材料二并结合所学知识,阐述《“十四五”国家老龄事业发展和养老服务体系规划》的实施的的可能性。(13分)

44. 阅读材料,完成下列要求。(12分)

材料 近代以来中西文化激荡碰撞,推动中华民族精神实现两次现代转换:一是西方工业文明影响下民主与科学精神的发展;二是社会主义市场经济条件下契约与法治精神的生长。这两次重大历史性转换均与20世纪社会主义兴衰及其引发的国际大环境的变化和冲击密切相关:第一次转换是俄国“十月革命一声炮响”启悟了中华优秀儿女;第二次转换是苏联东欧社会主义大厦轰然坍塌,中国共产党人直面严峻现实做出的艰难选择。

——摘编自刘晨晔、孙擎《论中华民族精神的两次现代转换及中国精神的深层基础》

根据材料并结合所学知识,就“中华民族精神的现代转换”提出一个具体的论题,并进行简要的阐述。(要求:明确写出论题,阐述须史论结合。)

45. 阅读材料,回答下列问题。(15分)

材料一 19世纪40年代,美国出现了早期工业经济。很多新工业技术要求靠近原料地或市场地,一批新的城镇随之产生。解放的农村劳动力移民到城市,城市人口增加,城市化初步显现。19世纪后期,美国工业资本主义迅速发展,工业产量跃居世界第一,成为以重工业为主导的工业国家。之后,铁路系统进行了大规模改革,铁路网的日益完善促进了城市间的贸易分工,推动了工业在大城市的集中,城市规模随之扩大。到1920年,美国城市化水平已达到51.25%,基本实现城市化。

——摘自郭祎《美国城市化的发展历程、经验及启示》

材料二 “逆城市化”是发达国家的城市化在经历了快速发展、迈入高级阶段后出现的一种新现象:大城市人口停止增长甚至不断缩减,人口和其他资源逐步向中小城市甚至农村流动,特别是流向大城市周围的郊区和小城镇。这种现象于20世纪70年代首先在美国出现,然后在欧洲的发达国家出现,如英国在20世纪70年代全国人口增长速度从高到低排列依次为独立的乡村地区、独立的城镇、次要的大都市区,而主要的大都市区却出现了人口明显减少的现象,伦敦大都市区在1971年到1981年间人口减少了34%。

——摘编自陈红爱《“逆城市化”问题研究综述》

(1) 根据材料一并结合所学知识,说明19世纪中后期至20世纪初美国城市化进程快速发展的原因。(8分)

(2) 根据材料一、二并结合所学知识,概述20世纪70年代以来欧美发达国家“逆城市化”的主要表现及积极影响。(7分)

参考答案、提示及评分细则

地理部分

题号	1	2	3	4	5	6	7	8	9	10	11
选项	B	C	D	C	A	B	D	C	D	A	B

1. B 【解析】随着我国经济的发展,农村人口不断向城市转移,耕地撂荒和弃耕现象严重,加之劳动力成本上升,机械化推广实施的需要,实施“小田并大田”以提高农业生产效率。“小田并大田”即土地流转的一种形式,土地流转费用高低不是实施“小田并大田”政策的原因;目前“小田并大田”主要在安徽、江苏、山东等耕地集中分布地区进行试点,针对的是耕地细碎化问题,而非耕地分布不均衡。
2. C 【解析】土地是农民所依赖的生存保障,而当前农村社会保障机制不完善,农民担心如果将土地流转出去,可能会失去土地,所以农民在从事非农产业经营后,宁可粗放经营,甚至不惜撂荒弃耕,也不愿流转出土地。土地流转后农民依然可以选择继续从事农业经营;土地流转后农民的经济收益会提高;政府的补贴力度不是主要影响因素。
3. D 【解析】土地整治可以减少耕地撂荒和弃耕现象,因此能够缓解耕地非粮化的倾向,保证粮食安全,但不能减少农村劳动力迁出数量;“小田并大田”后仍然从事农业生产活动,并不能促进农业生产结构转型升级,对实现农业生产多样化意义不大。
4. C 【解析】根据图文材料可知,社区团购采取预售制,不需要备货,可以降低仓储损耗;社区团购生鲜蔬果是通过微信进行销售,因此销售人员比传统菜场要少;社区团购需要建立自提点,需要门店;社区团购的平台方可能会压缩商家的利润空间。
5. A 【解析】社区商家申请成为“团长”,能够通过消费者从平台下单的消费信息,及时掌握居民需求和消费习惯,更好地调整自身库存,同时居民前往自提点提货也能给商家引流。
6. B 【解析】根据图文材料可知,水库蓄水后,水位迅速上升,库岸的岩、土体经水的浸湿,湿化的松散沉积物自然崩坍于坡脚,水边线向外(岸)推移,水体范围扩大(图乙);波浪冲击陡岸,在坡脚水深较小处破碎,以更大冲击力破坏岸壁,自然崩坍和冲刷坍落的松散土成为悬移质和推移质被波浪回流带离坡脚,淤积于岸边,库岸边线后退,水下浅滩开始形成(图丁);随着库水水位下降,水下浅滩淤积位置下移,边岸线后退减缓(图甲);到了次年,新的蓄水期重新开始(图丙),波浪重复作用,库岸继续坍落、后退,浅滩逐渐增长,直到形成相对稳定的岸坡。
7. D 【解析】根据上题可知,水库库岸自然崩坍和冲刷坍落的松散岩土成为悬移物质,被波浪回流带离坡脚,淤积于岸边,形成水下浅滩;蓄水初的库岸比较陡峻;岸边地下水水位会随着库水水位下降而下降;库区的淤积促进水下浅滩形成,阻滞坍岸发展。
8. C 【解析】浅滩的粗糙表面和透水空隙能够消耗波浪能,水库库岸演变过程中,浅滩面积发展扩大,水下浅滩使波浪折射变形,削弱波浪对岸坡的冲刷,从而减缓库岸后退速度,直至浅滩扩大到足以消耗全部波能,库岸趋于稳定。
9. D 【解析】分析表中数据可知,研究区降雨量从海拔 2 100 米至 2 600 米呈增加趋势;在 3 种不同植被类型中,草地的实测单次降雨量最小;云杉林穿透降雨量最大,林间湿度最大;云杉林林冠截留量平均值大于灌木林,但林冠截留量占比却小于灌木林,说明云杉林吸附水分的能力较差。

10. A 【解析】根据上题可知,云杉林林冠截留量占比小于灌木林,吸附水分的能力较差,是因为云杉林叶子表面形成的类似于蜡质的膜层,阻隔水分吸附;云杉林降雨量最多,降雨间隔时间较短;林冠层厚度较大,雨水接触面大,会增加林冠截留量,但对云杉林林冠截留量占比影响小;林冠空隙面积大,会增加穿透降雨量,减少林冠截留量,但云杉林林冠截留量大于灌木林,其林冠空隙面积并不大。

11. B 【解析】灌木林分布海拔较云杉林低,降水较少而蒸发量较大,使得灌木林枯枝落叶层蓄积量较少,并且大部分以未分解形式覆盖于土壤表层,随着海拔的上升,气温逐渐下降,微生物活跃程度降低,枯枝落叶的分解速度减缓,因此枯枝落叶层随海拔高度上升而累积增加。由材料可知,研究区海拔升高,降雨量增多;灌木林分布区域风力以及枝叶密度差异较小。

36. 【答案】(1)地处西风带,太平洋水汽源源不断输送,山脉降雪丰富;山脉海拔高,纬度高,地形起伏较小,冰雪易于存留,形成范围广阔的冰川;冰川侵蚀等外力作用形成凹地;气候变暖,冰川融化汇集在凹地中,积水成湖。(每点2分,共8分)

(2)西部以冰川和流水作用为主。(1分)依据:西部湖岸地处巴塔哥尼亚山脉,山地冰川东端前缘,地势高,坡度大,冰川作用(冰川侵蚀、堆积作用)显著;加之冰川融水量大,流水作用(流水侵蚀、堆积作用)强烈。(4分)

东部以风化和风力作用为主。(1分)依据:东部湖岸靠近中央大高地,降水量少,气候干旱;加之东部湖岸地势低,坡度小,风速较大,风化和风力侵蚀、沉积作用显著。(4分)

(3)河流以冰川融水补给为主,径流季节变化大,水温低,不利于水生生物生存、繁殖;地势西高东低,大陆轮廓东西狭窄,水流速度快,不利于水生生物繁殖;外流河,河流清澈,泥沙含量低,营养物质少。(每点2分,共6分,其他答案言之有理亦可得分)

(4)西风受西部高大山脉阻挡,导致东部大高地气流下沉(焚风效应)显著,降水少,气候干旱,无法满足高大树木生长要求,只能生长矮小的温带灌木。(4分)西风(西北风)穿过山地峡谷,风速加快,使灌木倾向东南一侧。(2分)

37. 【答案】(1)供给服务:利用水能发电,提供廉价水电;调节下游河流流量,为农田提供相对稳定的灌溉水源。调节服务:调节下游河流流量,减轻下游旱涝灾害;调节泥沙含量,改善下游河流水质及生态环境。(每点2分,共8分,其他答案言之有理亦可得分)

(2)山西是我国重要的能源基地,开采能源矿产资源破坏植被,水土流失加剧,导致水体含沙量增加;发展能源加工业排放污染物,导致水环境污染;能源加工业耗水量较大,导致水资源短缺。(每点2分,共6分,其他答案言之有理亦可得分)

(3)治沙:恢复自然植被,防风固沙,减轻荒漠化威胁和减少泥沙流入黄河,保障生态环境安全。

治(矿)山:恢复矿山植被,维护生物多样性,保障生态安全;保持水土,减少泥石流等地质灾害。

林(草)修复:提高植被覆盖率,形成林草结合防护网,改善区域土壤及气候条件,保障环境安全;涵养水源,稳定黄河的径流,保障水资源安全。

治(湖)水:净化水质,降低水污染,改善水资源的质量,保障水体安全。

治田:减少农田农药化肥使用,改善土地质量,稳定农业生产,保障国家粮食安全。

(任选三个工程论述,每点2分,共6分,其他答案言之有理亦可得分)

(4)生态发展:加强和完善黄河三角洲湿地保护区的建设和保护,保障生物多样性;加大湿地宣传力度,提高公众对湿地的保护意识;控制湿地开发规模,适度开发湿地生态旅游;控制农业与工业规模,减少农业生产与油气开采对湿地的影响。【或高效发展:加强对土地资源的集约利用,提高土地的单位产值;治理土壤盐碱化,提高土地的肥力;强化黄河流域生态环境治理,增加黄河入海口的稳定性;促进产业多元化发展,引进高新技术产业,发展高质量服务业。】(每点2分,任答3点即可,共6分,其他答案言之有理亦可得分)

政治部分

题号	12	13	14	15	16	17	18	19	20	21	22	23
选项	A	C	D	C	B	A	A	B	B	D	C	B

12. A 【解析】党的十六届三中全会,围绕完善社会主义市场经济体制进行了部署,①正确;2001年,我国成功加入世界贸易组织,标志中国对外开放进入了一个新的阶段,②正确;党的十九大作出了中国特色社会主义进入新时代的重要判断,这并不属于改革开放进程中的重大事件,③排除;2021年,《十四五规划和2035年远景目标纲要》对全面深化改革和实行高水平对外开放作出部署,④排除。
13. C 【解析】“加力”要在专项债投资拉动上加力,可以合理安排地方政府专项债券规模,为地方经济建设筹措资金,从而拉动经济增长,②正确;“加力”要在推动财力下沉上加力,可以增加中央对地方转移支付,加大民生领域支出,从而兜牢基层“三保”底线,③正确;“加力”要在财政支出强度上加力,可以适度扩大财政支出规模,从而补基础设施建设短板,但只有推动制造业高质量发展,才能夯实实体经济根基,①排除;“提效”可以优化财政支出结构,加大对技术改造的支持力度,从而助力供给侧固本培元,④错误。
14. D 【解析】材料中强调我国扩大就业、稳住物价、完善社保等系列措施,这说明我国坚持以人民为中心,持续增进民生福祉,D正确;A只体现了新闻一、三内容,不能完全概括新闻二的内容,排除;B只强调了新闻二的内容,排除;C只强调了新闻三的内容,排除。
15. C 【解析】通过手机App,人大代表可以随时随地查阅相关政府预算和预算审查监督的内容信息,这拓宽了人大代表参与预算审查监督的渠道和方式,②正确;借助科技手段实施预算联网监督,为人大代表更好履职提供了有力的技术手段支撑,③正确;预算联网监督系统与提升财政资金的使用效益无关,①排除;只有人大及其常委会才能行使监督权,而不是人大代表,④排除。
16. B 【解析】以党建为引领,抓队伍建设,实现乡村“有人治”,说明要加强党对乡村治理工作的领导,①正确;通过“六抓”实现“有人治”“有序治”“有招治”“有力治”“有效治”“有章治”,能够系统提升乡村治理的能力和水平,③正确;材料未涉及利用数字化手段赋能乡村治理,②排除;材料没有体现通过县乡村联动,推动更多资源下沉到乡镇和村,④排除。
17. A 【解析】全国政协港澳台侨委员会召开粤港澳大湾区现代产业体系建设对口协商座谈会,这表明人民政协积极地参政议政,助力粤港澳大湾区建设,①正确;围绕“粤港澳大湾区发展规划纲要落实情况——构建具有国际竞争力的现代产业体系”议题建言,推动粤港澳深化合作,说明人民政协发挥协商民主的独特优势,凝聚发展共识,②正确;材料没有体现聚焦民生热点,增进人民福祉,③排除;人民政协是多党合作的重要机构,但不是国家机构,不能履行国家职能,④排除。
18. A 【解析】保留具有本土特色和乡土气息的乡村风貌,说明要坚持遵循乡村发展建设规律,充分体现本地文化风貌,①正确;突出地域特色和乡村特点,说明要坚持一切从实际出发,防止机械地照搬他国城镇建设模式,②正确;要在共性基础上把握个性,才能真正认清事物的本质,③排除;材料强调要坚持具体问题具体分析,而没有涉及量变引起质变,④排除。
19. B 【解析】在这场“美美与共”的盛宴里,中外文明同框互鉴,讲述着彼此的相遇与交融,以恒久的艺术魅力打动着观众,说明文化交流可以增进不同文化背景人民之间的相互理解,①正确;推动文化交流互鉴并不是增进中外人民友谊的最佳途径,②错误;材料没有涉及文化交流要博采众长、求同存异,③排除;此节目展现了文化的多样性,体现了各民族文化相互尊重、平等交流,④正确。

20. B 【解析】新时代中海合作,从侧面说明了中海各国拥有广泛的共同利益,也说明了我国坚持对外开放政策不动摇,①④当选;材料没有体现世界多极化发展,也不涉及世界一体化问题,②③不合题意。
21. D 【解析】图表显示信息是中国对世界经济增长的贡献率超过 G7 的总和,说明中国是多极化世界中的一个重要支柱,日益成为世界经济增长的重要引擎,③④正确;材料并未涉及中国经济增长的对外依存度问题,①排除;中国并不能主导世界经济发展,②错误。来源:高三答案公众号
22. C 【解析】本案中,继女小红从小跟老何长大,与老何形成了扶养关系,亦应该享有继承权,①错误,③正确;虽然小何大姐出嫁多年,但她是老何亲生女儿,有权继承房产,②正确,④错误。
23. B 【解析】如果该对象与第三个对象可能有、也可能无那种关系,这种关系被称为非传递关系。小马是小赵的朋友,小赵是小吴的朋友,小马与小吴可能是、也可能不是朋友,是非传递关系,①正确;小华是小丽的同学,小丽是小天的同学,小华和小天不一定是同学关系,这是非传递关系,④正确;如果该对象与第三个对象不再具有那种关系,这种关系被称为反传递关系,小王比小李大两岁,小李比小刘大两岁,小王比小刘大四岁,故小王比小刘大两岁一定不成立,是反传递关系,②排除;如果该对象与第三个对象之间还具有那种关系,这种关系被称为传递关系,小红成绩比小明高,小明成绩比小亮高,故小红成绩比小亮高,这是传递关系,③排除。
38. 【答案】①坚持中国共产党的领导,善于运用习近平法治思想指导法治政府建设;(2分)②法治政府建设要把政府工作全面纳入法治轨道,让政府用法治思维和法治方式履行职责,确保政权在法治框架内运行;(3分)③严格依法办事,坚持“法定职责必须为,法无授权不可为”,将权力关进制度的笼子里,建设执法严明的政府、公开公正的政府;(3分)④深入开展法治宣传教育,推动全社会树立法治意识,提高社会治理法治化水平。(2分)(答“人民当家作主、人民民主专政、国家职能”酌情给分)
39. 【答案】实践是认识的来源和发展动力。(2分)人工智能技术基于实践需要,产生并提升了人们实践和认识的能力。(2分)在文化产业发展过程中,文化产业从业者可以运用这一技术创新文化生产和传播的模式,更好满足人们的多层次多样化的文化需求,推动文化产业发展。(4分)
40. 【答案】国家主权是现代国家得以存在的法理依据。(2分)要遵循主权国家不分大小、强弱、贫富一律平等处理国际关系的基本准则,只有尊重各国主权,严格遵守联合国宪章宗旨和原则,各国安全利益才能得到切实保障。(4分)和平与发展是当今时代的主题。(2分)搞阵营划分、集团对抗等冷战思维,同和平与发展的时代潮流背道而驰,只会加剧国际形势的紧张,不利于矛盾和问题的解决,应着眼世界长治久安,构建共同、综合、合作、可持续的安全观。(4分)
41. 【答案】(1)荔枝公司侵犯了腾讯公司的著作权。(2分)著作权属于法人或者非法人组织的,保护期是作品发表后的 50 年,因为《三体》作者刘慈欣授权腾讯公司获得将《三体》录制成音频作品的独占性授权,且该著作权依然处于保护期内,(3分)根据我国著作权法的规定,荔枝公司未经腾讯公司许可,通过网络公开直播腾讯公司享有著作权的作品,就可能构成侵权。(3分)
- (2)荔枝公司作为侵权方依法应承担停止侵权、消除影响、赔偿损失的侵权责任。(3分)打击此类侵权行为有利于保护创新主体的合法权益,保护创新,促进创新发展,建设创新型国家。(3分)
42. 【答案】①坚持分析与综合相结合的方法。(2分)我国坚持统筹疫情防控、人民生命安全和经济社会发展。(2分)②遵循质量互变规律,在推进经济发展中坚持适度原则。(2分)坚持稳中求进工作总基调,既最大程度保护了人民生命安全和身体健康,也最大程度稳住了经济社会发展基本盘。(2分)

历史部分

题号	24	25	26	27	28	29	30	31	32	33	34	35
选项	D	B	A	C	D	C	B	D	B	C	A	A

24. D 【解析】由题干中的信息“对脱离农业生产的工商业者征以重税”可知,商鞅“抑商”旨在保护小农经济,故 D 项正确;A 项应为儒家学派的思想观点,商鞅属于法家学派代表人物,排除;“抑商”阻碍了工商业的发展,不能增加政府财政收入,排除 B 项;商鞅代表新兴地主阶级的利益,排除 C 项。
25. B 【解析】A 项中“中央集权”的说法与题干中的信息“入选者必须以地方长官了解和信任为前提”不符,排除;由题干中的信息“选拔的官吏一般都出自地方名人”可知,察举制在一定程度上打破了血缘关系对选官的影响,故 B 项正确;C 项中“保障”的说法过于绝对化,排除;D 项是郡县制的影响,且官僚政治的形成早于题干中的时间“汉代”,排除。
26. A 【解析】题干中的信息“君臣应同心同德……共同治理国家”体现了封建君主与士大夫共治天下的理念,故 A 项正确;B、C、D 三项题干中并未体现,故排除。
27. C 【解析】题干中的“苗蛮”属于中国境内的少数民族,排除 A 项;题干中未提及开发民族地区,排除 B 项;由题干中“云贵大患,无如苗蛮”“欲安民必先制夷”等信息可知,鄂尔泰主张通过“改土归流”加强中央对云南和贵州等边疆少数民族地区的治理,故 C 项正确;D 项中“民族平等”的说法与题干中的关键词“苗蛮”不符,排除。
28. D 【解析】洋务运动旨在利用西方先进技术,维护清朝封建统治,但实际上并未推动贸易逆差的改变,排除 A 项;B 项中“开启”的表述孤证不立,排除;题干中的“开平煤矿”属于地主阶级洋务派创办的民用企业,故 C 项中“民间兴办”的表述错误,排除;由图中 1882—1898 年间,开平煤矿煤产量和外销量总体呈现上升趋势的现象可知,洋务运动在一定程度上抵制了西方列强的经济侵略,故 D 项正确。
29. C 【解析】题干中的“孙中山”属于资产阶级革命派,他主张在中国建立资产阶级共和国,排除 A、B、D 三项;题干中“民福”“大同”“公有”等关键词语体现了孙中山对民生问题的关注,故 C 项正确。
30. B 【解析】题干中 20 世纪 80 年代乡镇企业的产生与发展是农村经济体制改革不断深化的结果,故 A、C 两项错误,B 项正确;D 项中“加入世界贸易组织”发生于 2001 年,晚于题干中的时间“20 世纪 80 年代”,排除。
31. D 【解析】由题干中“一把剑……由上帝交给教皇执掌”“另一把剑……由上帝交给皇帝执掌”等信息可知,基拉西乌斯一世的“双剑说”强调“教权”和“王权”的分工。
32. B 【解析】由表中“德意志关税同盟建立”“德意志商人想插足世界市场”等信息可知,该时期,德意志境内各邦国逐渐取消贸易障碍,建立统一市场,故 B 项正确;题干中未提及对外侵略扩张,排除 A 项;C 项中的国家“统一”发生于 1871 年,晚于表中的时间段“19 世纪 20—60 年代”,排除;该时期的德国本身就在资本主义世界市场范围内,排除 D 项。
33. C 【解析】根据题中关键信息“压迫的国家”“苛捐杂税榨穷苦”“富人无义务独逍遥”“穷人的……沉沦”可知,歌词反映了当时法国社会阶级矛盾较为尖锐,故选 C 项。A、B、D 三项由材料无法得出,排除。
34. A 【解析】题干中的“《免费教育法》”有利于提高国民整体素质,适应了当时工业化生产对劳动者文化知识的要求,故 A 项正确;题干中未提及资产阶级代议制的发展概况,排除 B 项;根据题干中材料信息,无法得出实现了义务教育制的普及,排除 C 项;D 项中“消除了”的说法过于夸大化,排除。

35. A 【解析】题干中的信息“美国制作和美国风格的影片、服装成了……全球标准”体现了美国积极对外渗透文化价值观,故 A 项正确;B 项中的“冷战”结束于 1991 年,早于题干中的时间“1996 年”,排除;题干中未提及“建立单极世界”的主张,排除 C 项;D 项应为发展中国家的价值追求,题干中的“美国”属于发达国家,排除。

43. 【答案】(1)特点:内容全面;具有浓厚的儒家伦理色彩;以家庭养老为主要方式;具有明确的法律规定。(4 分)

评价:一方面,有利于形成重孝的社会风气,提高社会道德水平;有利于稳定社会秩序,维护封建统治。

(4 分)另一方面,带有浓厚的父权制色彩;由于生产力水平低下,以家庭养老为主的养老模式具有明显脆弱性。(4 分)

(2)阐述:我国党和政府一直重视人口老龄化和养老问题并且取得了重要成就,为“十四五”老龄事业和养老服务继续发展奠定了坚实基础。(2 分)改革开放以来,我国国民经济一直保持快速增长,我国已经建成了世界上最大的社会保障体系,为进一步提升老龄事业工作质量和养老服务质量创造了良好条件。(2 分)

积极应对人口老龄化道路是建设中国特色社会主义现代化国家、实现伟大复兴中国梦的重要组成部分。(2 分)孝亲敬老的传统文化得到传承和弘扬对积极应对人口老龄化道路的影响巨大。(2 分)

中国的社会主义制度保证了积极应对人口老龄化作为国家的长期战略稳步推进。(2 分)同时党和政府也认识到老龄事业和养老服务还存在发展不平衡、不充分等问题,应该更加注重科学合理地协调不同地区、城乡之间等发展差距。(2 分)总之,我国具备坚实的物质基础、充足的人力资本、历史悠久的孝道文化,使《“十四五”国家老龄事业发展和养老服务体系规划》的实施具有可能性。(1 分)

44. 【答案】示例:论题:国际环境的变化与中华民族精神的现代转换。(2 分)

阐述:19 世纪中期以来,西方列强先后发动了侵略中国的两次鸦片战争、甲午战争和八国联军侵华战争,中华民族危机不断加深,民主与科学精神(救亡图存或爱国主义等)成为中华民族精神的新内容。(2 分)

随着“十月革命一声炮响”,马克思主义传入中国,与中国国情相结合,诞生工农武装割据思想。伴随着新中国的成立,人民民主制度确立为中国的国家制度,人民民主精神也成为新中国的国家精神。(2 分)

20 世纪末,苏东剧变对中国特色社会主义发展道路产生了巨大的冲击。中国共产党领导中国人民对未来发展道路进行了独立的探索,取得了许多突破性的进展。(2 分)1992 年,中共十四大提出建立社会主义市场经济体制的目标,社会主义市场经济条件下的契约与法治精神丰富和发展了中华民族精神。(2 分)

综上,随着国际环境的变化,中华儿女进行了积极的探索,不断丰富和发展着中华民族精神,为民族的发展提供了不竭动力。(2 分)

45. 【答案】(1)原因:工业革命的推动;大量农村剩余劳动力流向城市;交通设施的革新;政府的政策支持。(8 分)

(2)主要表现:城市人口向郊区移动;城市人口减少,城市规模缩小;城市人口比重不断下降。(2 分)

积极影响:有利于缓解城市拥挤带来的各种压力,使城市空间得到优化;促使城镇实现跨越式发展;有利于推动城市文明的扩散和城乡资源的流动,促进城乡一体化。(5 分)

关于我们

北京高考在线创办于 2014 年，隶属于北京太星网络科技有限公司，是北京地区极具影响力的中学升学服务平台。主营业务涵盖：北京新高考、高中生涯规划、志愿填报、强基计划、综合评价招生和学科竞赛等。

北京高考在线旗下拥有网站门户、微信公众平台等全媒体矩阵生态平台。平台活跃用户 40W+，网站年度流量数千万量级。用户群体立足于北京，辐射全国 31 省市。

北京高考在线平台一直秉承 “精益求精、专业严谨” 的建设理念，不断探索 “K12 教育+互联网+大数据” 的运营模式，尝试基于大数据理论为广大中学和家长提供新鲜的高考资讯、专业的高考政策解读、科学的升学规划等，为广大高校、中学和教科研单位提供 “衔接和桥梁纽带” 作用。

平台自创办以来，为众多重点大学发现和推荐优秀生源，和北京近百所中学达成合作关系，累计举办线上线下升学公益讲座数百场，帮助数十万考生顺利通过考入理想大学，在家长、考生、中学和社会各界具有广泛的口碑影响力

未来，北京高考在线平台将立足于北京新高考改革，基于对北京高考政策研究及北京高校资源优势，更好的服务全国高中家长和学生。



微信搜一搜

北京高考资讯