

2023 届“皖南八校”高三第二次大联考

数 学

考生注意:

1. 本试卷分选择题和非选择题两部分。满分 150 分,考试时间 120 分钟。
2. 考生作答时,请将答案答在答题卡上。选择题每小题选出答案后,用 2B 铅笔把答题卡上对应题目的答案标号涂黑;非选择题请用直径 0.5 毫米黑色墨水签字笔在答题卡上各题的答题区域内作答,超出答题区域书写的答案无效,在试题卷、草稿纸上作答无效。
3. 本卷命题范围:高考范围。

一、选择题:本题共 8 小题,每小题 5 分,共 40 分。在每小题给出的四个选项中,只有一项是符合题目要求的。

1. 已知集合 $A = \{-1, 0, 1, 2, 3\}$, $B = \{x | (x-2)^2 \leq 1, x \in \mathbb{R}\}$, 则 $A \cap B =$
 - A. $\{1, 2\}$
 - B. $\{0, 1, 2, 3\}$
 - C. $\{1, 2, 3\}$
 - D. $\{2\}$
2. 若复数 z 满足 $|z-i| = \bar{z}i$ (i 为虚数单位), 则 $z =$
 - A. $-\frac{1}{2}$
 - B. $\frac{1}{2}$
 - C. $-\frac{1}{2}i$
 - D. $\frac{1}{2}i$
3. 已知单位向量 a, b 满足 $|a+b| = \sqrt{3}$, 则 a 在 b 上的投影向量为
 - A. a
 - B. $\frac{1}{2}a$
 - C. $\frac{1}{2}b$
 - D. b
4. 已知双曲线 $E: \frac{x^2}{a^2} - \frac{y^2}{b^2} = 1$ ($a > 0, b > 0$) 以正方形 $ABCD$ 的两个顶点为焦点, 且经过该正方形的另两个顶点, 则双曲线 E 的离心率为
 - A. $\sqrt{2}+1$
 - B. $\sqrt{2}-1$
 - C. $2\sqrt{2}+2$
 - D. $2\sqrt{2}-2$
5. 在三棱锥 $P-ABC$ 中, $PA \perp AB$, $PA = 12$, $AB = 16$, $PC = 10\sqrt{2}$, $\angle PBC = 45^\circ$, 则三棱锥 $P-ABC$ 外接球的体积为
 - A. $\frac{4000\pi}{3}$
 - B. 400π
 - C. 169π
 - D. $\frac{169\pi}{3}$
6. 已知圆 C 的方程为 $x^2 + y^2 - 6x + 8 = 0$, 若直线 $y = kx + 2$ 上至少存在一点, 使得以该点为圆心, 1 为半径的圆与圆 C 有公共点, 则实数 k 的最小值是
 - A. $-\frac{3}{5}$
 - B. $-\frac{4}{5}$
 - C. $-\frac{6}{5}$
 - D. $-\frac{12}{5}$
7. 为落实疫情防控“动态清零”总方针和“四早”要求, 有效应对奥密克戎变异株传播风险, 确保正常生活 and 生产秩序, 某企业决定于每周的周二、周五各做一次抽检核酸检测. 已知该企业组装车间的某小组有 6 名工人, 每次独立、随机的从中抽取 3 名工人参加核酸检测. 设该小组在一周内的两次抽检中共有 ξ 名不同的工人被抽中, 下列结论不正确的是

A. 该小组中的工人甲一周内被选中两次的概率为 $\frac{1}{4}$

B. $P(\xi=3) < P(\xi=6)$

C. 该小组中的工人甲一周内至少被选中一次的概率为 $\frac{3}{4}$

D. $P(\xi=4) = P(\xi=5)$

8. 已知 $f(x) = -x^2 - \cos x$, 若 $a = f(e^{-\frac{1}{8}})$, $b = f(\ln \frac{8}{9})$, $c = f(-\frac{1}{8})$, 则 a, b, c 大小关系为

A. $c < b < a$

B. $a < c < b$

C. $b < c < a$

D. $c < a < b$

二、选择题: 本题共 4 小题, 每小题 5 分, 共 20 分. 在每小题给出的选项中, 有多项符合题目要求. 全部选对的得 5 分, 部分选对的得 2 分, 有选错的得 0 分.

9. 随着时代与科技的发展, 信号处理以各种方式被广泛应用于医学、声学、密码学、计算机科学、量子力学等各个领域. 而信号处理背后的“功臣”就是正弦型函数, $f(x) = \sum_{i=1}^4 \frac{\sin[(2i-1)x]}{2i-1}$

的图象就可以近似的模拟某种信号的波形, 则下列说法正确的是

A. 函数 $f(x)$ 的图象关于直线 $x = \frac{\pi}{2}$ 对称

B. 函数 $f(x)$ 的图象关于点 $(0, 0)$ 对称

C. 函数 $f(x)$ 为周期函数, 且最小正周期为 π

D. 函数 $f(x)$ 的导函数 $f'(x)$ 的最大值为 4

10. 已知抛物线 $C: x^2 = 2py (p > 0)$ 的焦点 F 到准线的距离为 4, 过 F 的直线与抛物线交于 A, B 两点, M 为线段 AB 的中点, 则下列结论正确的是

A. 抛物线 C 的准线方程为 $y = -2$

B. 当 $3\overrightarrow{AF} = \overrightarrow{FB}$, 则直线 AB 的倾斜角为 30°

C. 若 $|AB| = 16$, 则点 M 到 x 轴的距离为 8

D. $4|AF| + |BF| \geq 18$

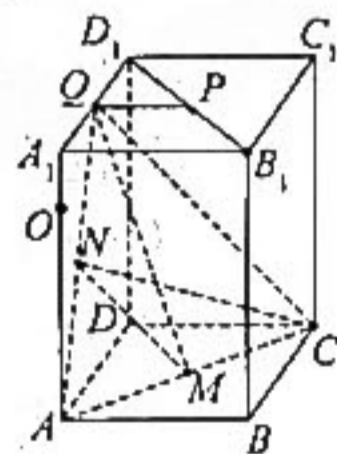
11. 在底面边长为 2、高为 4 的正四棱柱 $ABCD - A_1B_1C_1D_1$ 中, O 为棱 A_1A 上一点, 且 $A_1O = \frac{1}{4}A_1A$, P, Q 分别为线段 B_1D_1, A_1D_1 上的动点, M 为底面 $ABCD$ 的中心, N 为线段 AQ 的中点, 则下列命题正确的是

A. CN 与 QM 共面

B. 三棱锥 $A - DMN$ 的体积为 $\frac{4}{3}$

C. $PQ + QO$ 的最小值为 $\frac{3\sqrt{2}}{2}$

D. 当 $\overrightarrow{D_1Q} = \frac{1}{3}\overrightarrow{D_1A_1}$ 时, 过 A, Q, M 三点的平面截正四棱柱所得截面的周长为 $\frac{8(\sqrt{2} + \sqrt{10})}{3}$



12. 已知 $f(x), g(x)$ 都是定义在 \mathbb{R} 上的函数, 对任意 x, y 满足 $f(x-y) = f(x)g(y) - g(x)f(y)$, 且 $f(-2) = f(1) \neq 0$, 则下列说法正确的有

A. $g(0) = 1$

B. 函数 $f(2x-1)$ 的图象关于点 $(\frac{1}{2}, 0)$ 对称

C. $g(1) + g(-1) = 1$

D. 若 $f(1) = \frac{\sqrt{3}}{2}$, 则 $\sum_{n=1}^{2023} f(n) = \frac{\sqrt{3}}{2}$

三、填空题:本题共 4 小题,每小题 5 分,共 20 分.

13. 国庆节前夕,某市举办以“红心颂党恩、喜迎二十大”为主题的青少年学生演讲比赛,其中 10 人比赛的成绩从低到高依次为:85,86,88,88,89,90,92,93,94,98(单位:分),则这 10 人成绩的第 75 百分位数是_____.

14. 在 $(x - \frac{1}{x} + y)^{11}$ 的展开式中, xy^8 的系数为_____.

15. 已知 $\alpha, \beta \in (0, \pi)$, $\tan(\alpha + \frac{\pi}{3}) = \frac{\sqrt{2}}{2}$, $\cos(\beta + \frac{\pi}{6}) = \frac{\sqrt{6}}{3}$, 则 $\cos(2\alpha - \beta) =$ _____.

16. 已知 $a < 0$, 不等式 $x^{a+1} \cdot e^x + a \ln x \geq 0$ 对任意的实数 $x > 1$ 恒成立, 则实数 a 的最小值是_____.

四、解答题:本题共 6 小题,共 70 分. 解答应写出文字说明、证明过程或演算步骤.

17. (10 分)

已知数列 $\{a_n\}$ 的首项 $a_1 = \frac{1}{2}$, 且满足 $a_{n+1} = \frac{a_n}{2a_n + 3} (n \in \mathbb{N}^*)$.

(1) 求证: 数列 $\{\frac{1}{a_n} + 1\}$ 为等比数列;

(2) 若 $\frac{1}{a_1} + \frac{1}{a_2} + \frac{1}{a_3} + \dots + \frac{1}{a_n} < 121$, 求满足条件的最大整数 n .

18. (12 分)

近年来,我国大学生毕业人数呈逐年上升趋势,各省市出台优惠政策鼓励高校毕业生自主创业,以创业带动就业. 某市统计了该市其中四所大学 2021 年的毕业生人数及自主创业人数(单位:千人),得到如下表格:

大学	A 大学	B 大学	C 大学	D 大学
当年毕业人数 x (千人)	3	4	5	6
自主创业人数 y (千人)	0.1	0.2	0.4	0.5

(1) 已知 y 与 x 具有较强的线性相关关系, 求 y 关于 x 的线性回归方程 $\hat{y} = \hat{a} + \hat{b}x$;

(2) 假设该市政府对选择自主创业的大学生每人发放 1 万元的创业补贴.

(i) 若该市 E 大学 2021 年毕业生人数为 7 千人, 根据(1)的结论估计该市政府要给 E 大学选择自主创业的毕业生创业补贴的总金额;

(ii) 若 A 大学的毕业生中小明、小红选择自主创业的概率分别为 $p, 2p-1 (\frac{1}{2} < p < 1)$, 该市政府对小明、小红两人的自主创业的补贴总金额的期望不超过 1.4 万元, 求 p 的取值范围.

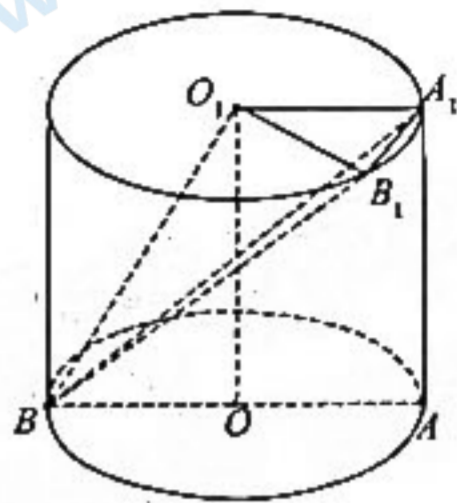
参考公式: 回归方程 $\hat{y} = \hat{a} + \hat{b}x$ 中斜率和截距的最小二乘法估计公式分别为:

$$\hat{b} = \frac{\sum_{i=1}^n (x_i - \bar{x})(y_i - \bar{y})}{\sum_{i=1}^n (x_i - \bar{x})^2} = \frac{\sum_{i=1}^n x_i y_i - n \bar{x} \bar{y}}{\sum_{i=1}^n x_i^2 - n \bar{x}^2}, \hat{a} = \bar{y} - \hat{b} \bar{x}.$$

19. (12分)

如图,将长方形 OAA_1O_1 (及其内部)绕 OO_1 旋转一周形成圆柱,其中 $OA=1, O_1O=2$,劣弧 A_1B_1 的长为 $\frac{\pi}{6}$, AB 为圆 O 的直径.

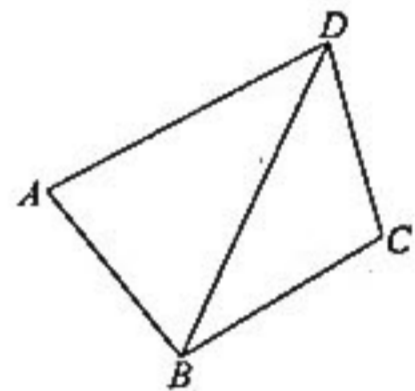
- (1)在弧 AB 上是否存在点 C (C, B_1 在平面 OAA_1O_1 的同侧),使 $BC \perp AB_1$,若存在,确定其位置,若不存在,说明理由;
- (2)求平面 A_1O_1B 与平面 B_1O_1B 夹角的余弦值.



20. (12分)

如图,在平面四边形 $ABCD$ 中, $AB=BC=CD=2, AD=2\sqrt{3}$.

- (1)若 DB 平分 $\angle ADC$,证明: $A+C=\pi$;
- (2)记 $\triangle ABD$ 与 $\triangle BCD$ 的面积分别为 S_1 和 S_2 ,求 $S_1^2+S_2^2$ 的最大值.



21. (12分)

已知椭圆 $C: \frac{x^2}{a^2} + \frac{y^2}{b^2} = 1 (a > b > 0)$ 经过点 $(\sqrt{3}, \frac{1}{2})$, 其右焦点为 $F(\sqrt{3}, 0)$.

- (1)求椭圆 C 的标准方程;
- (2)椭圆 C 的右顶点为 A ,若点 P, Q 在椭圆 C 上,且满足直线 AP 与 AQ 的斜率之积为 $\frac{1}{20}$,求 $\triangle APQ$ 面积的最大值.

22. (12分)

已知函数 $f(x) = 3x - e^x + 1$, 其中 $e = 2.71828 \dots$ 是自然对数的底数.

- (1)设曲线 $y = f(x)$ 与 x 轴正半轴相交于点 $P(x_0, 0)$, 曲线在点 P 处的切线为 l , 求证: 曲线 $y = f(x)$ 上的点都不在直线 l 的上方;
- (2)若关于 x 的方程 $f(x) = m$ (m 为正实数) 有两个不等实根 $x_1, x_2 (x_1 < x_2)$, 求证: $x_2 - x_1 < 2 - \frac{3}{4}m$.

2023 届“皖南八校”高三第二次大联考·数学

参考答案、解析及评分细则

1. C 因为 $A = \{-1, 0, 1, 2, 3\}$, $B = \{x | 1 \leq x \leq 3, x \in \mathbf{R}\}$, 则 $A \cap B = \{1, 2, 3\}$. 故选 C.

2. D 设 $z = a + bi$, 则 $|z - i| = |a + (b - 1)i| = \sqrt{a^2 + (b - 1)^2}$, $z \cdot i = (a - bi)i = b + ai$. $\because |z - i| = z \cdot i$,

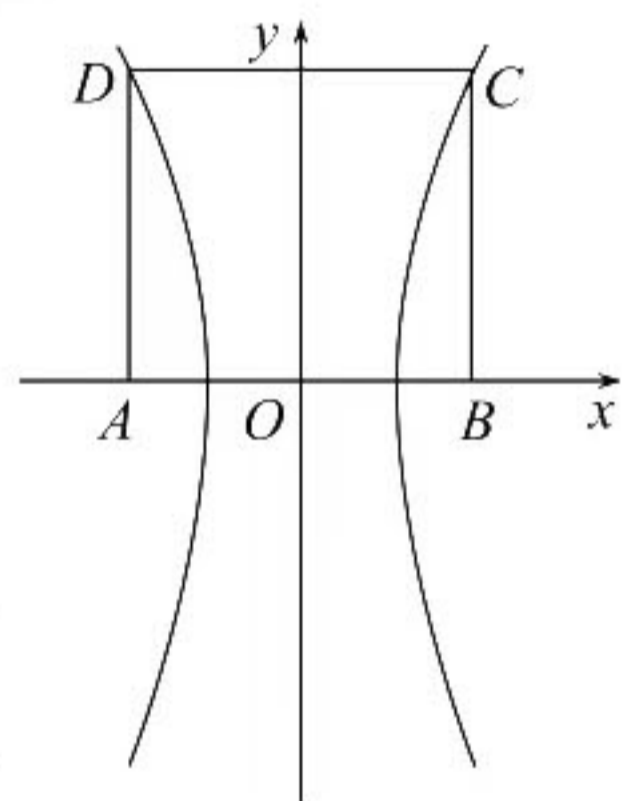
$$\therefore \sqrt{a^2 + (b - 1)^2} = b - ai, \text{ 解得 } \begin{cases} a = 0, \\ b = \frac{1}{2}, \end{cases} \text{ 即 } z = \frac{1}{2}i. \text{ 故选 D.}$$

3. C 因为 a, b 是单位向量, 所以 $|a| = 1, |b| = 1$, 故 $a^2 = |a|^2 = 1, b^2 = |b|^2 = 1$, 由 $|a + b| = \sqrt{3}$ 得, $|a + b|^2 = 3$, 即 $(a + b)^2 = 3$, 解得 $a \cdot b = \frac{1}{2}$. 设 a 与 b 的夹角为 θ , 则 a 在 b 上的投影向量为 $|a| \cos \theta \frac{b}{|b|} = \frac{a \cdot b}{|b|} \cdot \frac{b}{|b|} =$

$\frac{1}{2}b$. 故选 C.

4. A 如图, 正方形的顶点 A, B 为双曲线的焦点, 顶点 C, D 在双曲线上, 则 $A(-c, 0)$, $B(c, 0)$, 故 $C(c, \frac{b^2}{a})$. 由正方形 $ABCD$ 得 $AB = BC$, 所以 $2c = \frac{b^2}{a}$, 则 $2ac = b^2 = c^2 - a^2$

即 $c^2 - 2ac - a^2 = 0$, 两边同除 a^2 得 $e^2 - 2e - 1 = 0$, 解得 $e = \sqrt{2} + 1$ 或 $e = -\sqrt{2} + 1$ (舍). 故选 A.



5. A 因为 $PA \perp AB$, $PA = 12$, $AB = 16$, 所以 $PB = 20$, 在 $\triangle PBC$ 中, 由正弦定理得

$$\frac{PC}{\sin \angle PBC} = \frac{PB}{\sin \angle PCB}, \text{ 即 } \frac{10\sqrt{2}}{\frac{\sqrt{2}}{2}} = \frac{20}{\sin \angle PCB}, \text{ 所以 } \sin \angle PCB = 1, \text{ 取 } PB \text{ 的中点 } O, \text{ 可}$$

知 O 为三棱锥 $P - ABC$ 外接球的球心, 外接球的半径 $R = \frac{1}{2}PB = 10$, 所以三棱锥 $P - ABC$ 外接球的体积为

$$V = \frac{4\pi}{3}R^3 = \frac{4000}{3}\pi, \text{ 故选 A.}$$

6. D \because 圆 C 的方程为 $x^2 + y^2 - 6x + 8 = 0$, 整理得: $(x - 3)^2 + y^2 = 1$, \therefore 圆心为 $C(3, 0)$, 半径 $r = 1$, 又 \because 直线 $y = kx + 2$ 上至少存在一点, 使得以该点为圆心, 1 为半径的圆与圆 C 有公共点, \therefore 点 C 到直线 $y = kx + 2$ 的距

离小于或等于 2, $\therefore \frac{|3k - 0 + 2|}{\sqrt{k^2 + 1}} \leq 2, 5k^2 + 12k \leq 0$, 化简得, 解得 $-\frac{12}{5} \leq k \leq 0$, $\therefore k$ 的最小值是 $-\frac{12}{5}$. 故选 D.

7. B 依题意每次抽取工人甲被抽到的概率 $P = \frac{C_3^2}{C_6^2} = \frac{1}{2}$, 所以工人甲一周内被选中两次的概率为 $(\frac{1}{2})^2 = \frac{1}{4}$,

故 A 正确; 依题意 ξ 的可能取值为 3, 4, 5, 6, 则 $P(\xi = 3) = \frac{C_3^1}{C_6^3} \cdot \frac{1}{C_3^3} = \frac{1}{20}, P(\xi = 6) = \frac{C_3^3}{C_6^3} \cdot \frac{C_3^3}{C_3^3} = \frac{1}{20}$, 所以

$P(\xi = 3) = P(\xi = 6)$, 故 B 错误; 对于 C, 工人甲一周内至少被选中一次的概率为 $1 - (1 - \frac{1}{2})^7 = \frac{3}{4}$, 故 C 正

确; $P(\xi = 4) = \frac{C_3^2}{C_6^4} \cdot \frac{C_3^2 C_3^1}{C_3^3} = \frac{9}{20}, P(\xi = 5) = \frac{C_3^1}{C_6^5} \cdot \frac{C_3^1 C_3^2}{C_3^3} = \frac{9}{20}$, 所以 $P(\xi = 4) = P(\xi = 5)$, 故 D 正确. 故选 B.

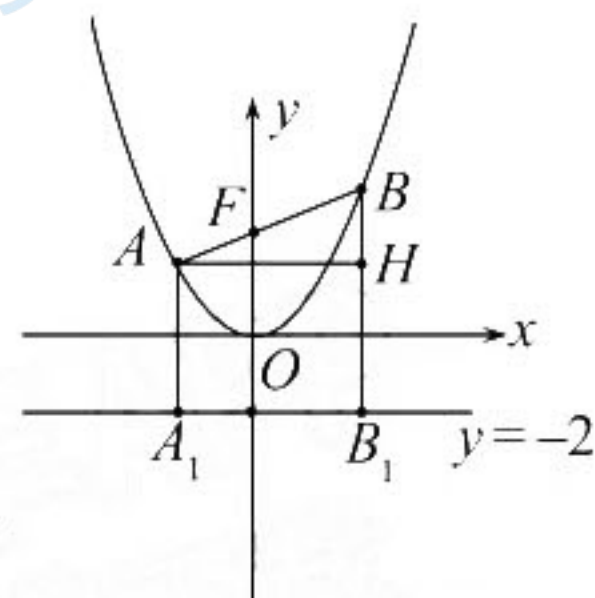
8. B 因为 $f(x) = -x^2 - \cos x, x \in \mathbf{R}, f(-x) = -(-x)^2 - \cos(-x) = -x^2 - \cos x = f(x)$, 所以 $f(x)$ 为 \mathbf{R} 上的偶函数, 当 $x \geq 0$ 时, $f'(x) = -2x + \sin x, f''(x) = -2 + \cos x < 0$, 所以 $f'(x)$ 在 $[0, +\infty)$ 上单调递减, 所以 $f'(x) \leq f'(0) = 0$, 所以 $f(x)$ 在 $[0, +\infty)$ 上单调递减, 又因为 $f(x)$ 为 \mathbf{R} 上的偶函数, 所以 $f(x)$ 在 $(-\infty, 0)$ 上

单调递增. 因为 $a = f(e^{\frac{7}{8}}), b = f(\ln \frac{8}{9}) = f(\ln \frac{9}{8}), c = f(-\frac{1}{8}) = f(\frac{1}{8})$, 由 $e^x \geq x + 1$, 得 $e^{\frac{7}{8}} >$

$-\frac{7}{8} + 1 = \frac{1}{8}$, 所以 $f(e^{-\frac{7}{8}}) < f(\frac{1}{8})$, 由 $\ln x \leq x - 1$, 得 $\ln \frac{9}{8} < \frac{9}{8} - 1 = \frac{1}{8}$, 所以 $f(\ln \frac{9}{8}) > f(\frac{1}{8})$, 从而有 $a < c < b$. 故选 B.

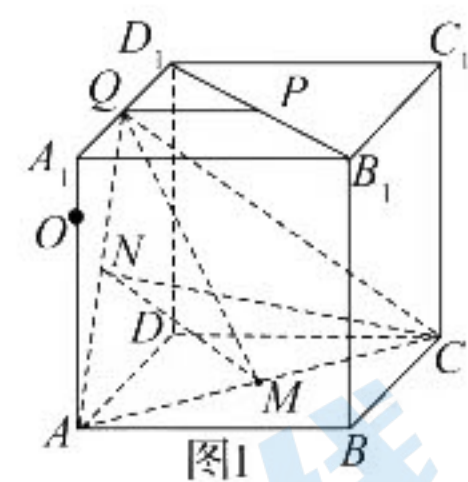
9. ABD 函数 $f(x) = \sum_{i=1}^4 \frac{\sin[(2i-1)x]}{2i-1} = \sin x + \frac{\sin 3x}{3} + \frac{\sin 5x}{5} + \frac{\sin 7x}{7}$, 对于 A, 可以验证 $f(x+\pi) = f(-x)$, 故 A 正确; 对于 B, 同样可以验证 $f(x) = -f(-x)$, 故 B 正确; 对于 C, 由诱导公式易知 $f(x+\pi) = -f(x) \neq f(x)$, 故 C 错误; 对于 D, 易知 $f'(x) = \cos x + \cos 3x + \cos 5x + \cos 7x \leq 4$, 故 D 正确. 故选 ABD.

10. AD 对于 A, 易知 $p=4$, 从而准线方程为 $y=-2$, 故 A 正确; 对于 B, 如图分别过 A, B 两点作准线 $y=-2$ 的垂线, 垂足分别为 A_1, B_1 , 过 A 点作 BB_1 的垂线, 垂足为点 H. 由于 $3\vec{AF} = \vec{FB}$, 不妨设 $|AF|=t$, 则 $|BF|=3t$, 由抛物线的定义易知: $|AA_1|=t$, $|BB_1|=3t$, $|BH|=2t$, 在直角 $\triangle ABH$ 中, $\angle BAH=30^\circ$, 此时 AB 的倾斜角为 30° , 根据抛物线的对称性可知, AB 的倾斜角为 30° 或 150° , 所以 B 错误; 对于 C, 点 M



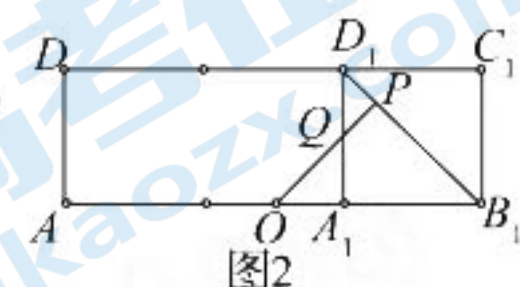
$(\frac{x_1+x_2}{2}, \frac{y_1+y_2}{2})$, 由抛物线的定义知, $|AF| + |BF| = y_1 + 2 + y_2 + 2 = 16$, 有 $y_1 + y_2 = 12$, 所以 M 到 x 轴距离 $\frac{y_1+y_2}{2} = 6$, C 错误; 对于 D, 由抛物线定义知 $\frac{1}{|AF|} + \frac{1}{|BF|} = \frac{2}{p} = \frac{1}{2}$, 所以 $4|AF| + |BF| = 2(4|AF| + |BF|) (\frac{1}{|AF|} + \frac{1}{|BF|}) = 2(5 + \frac{|BF|}{|AF|} + \frac{4|AF|}{|BF|}) \geq 18$, 当且仅当 $\frac{|BF|}{|AF|} = \frac{4|AF|}{|BF|}$, 即 $|BF| = 2|AF|$ 时取得等号, 所以 D 正确. 故选 AD.

11. ACD 对于 A, 如图 1, 在 $\triangle ACQ$ 中, 因为 M, N 为 AC, AQ 的中点, 所以 $MN \parallel CQ$, 所以 CN 与 QM 共面, 所以 A 正确;

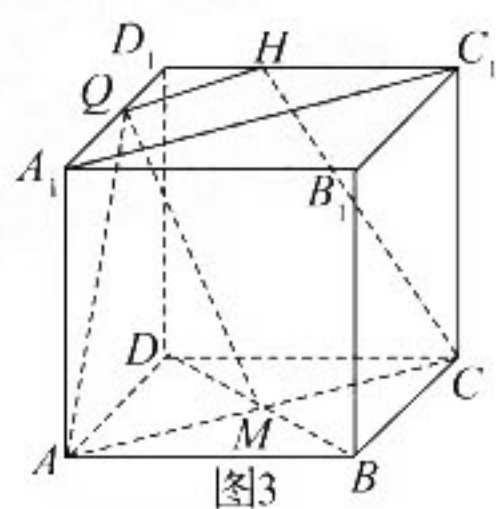


对于 B, 由 $V_{A-DMN} = V_{N-ADM}$, 因为 N 到平面 ABCD 的距离为定值 2, 且 $\triangle ADM$ 的面积为 1, 所以三棱锥 A-DMN 的体积为 $\frac{2}{3}$, 所以 B 错误;

对于 C, 如图 2, 展开平面 A_1ADD_1 , 使点 A_1ADD_1 共面, 过 O 作 $OP \perp B_1D_1$, 交 B_1D_1 与点 P, 交 A_1D_1 与点 Q, 则此时 $PQ+QO$ 最小, 易求 $PQ+QO$ 的最小值为 $\frac{3\sqrt{2}}{2}$, 则 C 正确;



对于 D, 如图 3, 取 $\vec{D_1H} = \frac{1}{3}\vec{D_1C_1}$, 连接 HC, 则 $HQ \parallel A_1C_1$, 又 $AC \parallel A_1C_1$ 所以 $HQ \parallel AC$, 所以 A, M, C, H, Q 共面, 即过 A, Q, M 三点的正四棱柱的截面为 ACHQ, 由 $AQ = CH = \sqrt{4^2 + (\frac{4}{3})^2} = \frac{4\sqrt{10}}{3}$, 则 ACHQ 是等腰梯形, 且 $QH = \frac{1}{3}A_1C_1 = \frac{2\sqrt{2}}{3}$, 所以平面



截正四棱柱所得截面的周长为 $\frac{8(\sqrt{2} + \sqrt{10})}{3}$, 所以 D 正确. 故选 ACD.

12. ABD 对于 A, 令 $x=y=0$, 代入已知等式得 $f(0) = f(0)g(0) - g(0)f(0) = 0$, 得 $f(0) = 0$, 再令 $y=0, x=1$, 代入已知等式得 $f(1) = f(1)g(0) - g(1)f(0)$, 可得 $f(1)[1-g(0)] = -g(1)f(0) = 0$, 结合 $f(1) \neq 0$ 得 $1-g(0) = 0, g(0) = 1$, 故 A 正确; 对于 B, 再令 $x=0$, 代入已知等式得 $f(-y) = f(0)g(y) - g(0)f(y)$, 将 $f(0) = 0, g(0) = 1$ 代入上式, 得 $f(-y) = -f(y)$, \therefore 函数 $f(x)$ 为奇函数, \therefore 函数 $f(2x-1)$ 关于点 $(\frac{1}{2}, 0)$ 对称, 故 B 正确. 对于 C, 再令 $x=1, y=-1$ 代入已知等式, 得 $f(2) = f(1)g(-1) - g(1)f(-1) \therefore f(-1) = -f(1), \therefore f(2) = f(1)[g(-1) + g(1)]$, 又 $\therefore f(2) = -f(-2) = -f(1), \therefore -f(1) = f(1)[g(-1) + g(1)]$, 即 $f(1)[g(-1) + g(1) + 1] = 0, \therefore f(1) \neq 0, \therefore g(-1) + g(1) + 1 = 0$ 得 $g(1) + g(-1) = -1$, 故 C

错误;对于D,再分别令 $y=-1$ 和 $y=1$ 代入已知等式,得以下两个等式 $f(x+1)=f(x)g(-1)-g(x)f(-1)$, $f(x-1)=f(x)g(1)-g(x)f(1)$,两式相加易得 $f(x+1)+f(x-1)=-f(x)$,所以有 $f(x+2)+f(x)=-f(x+1)$,从而有 $f(x-1)=f(x+2)$, $\therefore f(x)$ 为周期函数,且周期为3, $\therefore f(1)=\frac{\sqrt{3}}{2}$, $\therefore f(-2)=\frac{\sqrt{3}}{2}$, $f(2)=-\frac{\sqrt{3}}{2}$, $\therefore f(3)=f(0)=0$, $\therefore \sum_{n=1}^{2023} f(n)=\frac{\sqrt{3}}{2}$.故D正确.故选ABD.

13. 93 $10 \times 75\% = 7.5$,所以从小到大选取第8个数作为第75百分位数,即93.

14. -495 由二项式展开式的定义易知 xy^8 的系数为 $C_{11}^8(-C_2^1) = -495$.

15. $\frac{\sqrt{3}}{3}$ 因为 $\cos(2\alpha-\beta) = \cos\left[2\left(\alpha+\frac{\pi}{3}\right) - \left(\beta+\frac{\pi}{6}\right) - \frac{\pi}{2}\right] = \sin\left[2\left(\alpha+\frac{\pi}{3}\right) - \left(\beta+\frac{\pi}{6}\right)\right]$
 $= \sin\left[2\left(\alpha+\frac{\pi}{3}\right)\right]\cos\left(\beta+\frac{\pi}{6}\right) - \cos 2\left(\alpha+\frac{\pi}{3}\right)\sin\left(\beta+\frac{\pi}{6}\right)$.
 $\sin\left[2\left(\alpha+\frac{\pi}{3}\right)\right] = 2\sin\left(\alpha+\frac{\pi}{3}\right)\cos\left(\alpha+\frac{\pi}{3}\right) = \frac{2\sin\left(\alpha+\frac{\pi}{3}\right)\cos\left(\alpha+\frac{\pi}{3}\right)}{\sin^2\left(\alpha+\frac{\pi}{3}\right) + \cos^2\left(\alpha+\frac{\pi}{3}\right)} = \frac{2\tan\left(\alpha+\frac{\pi}{3}\right)}{\tan^2\left(\alpha+\frac{\pi}{3}\right) + 1} = \frac{2\sqrt{2}}{3}$,
 $\cos\left[2\left(\alpha+\frac{\pi}{3}\right)\right] = \cos^2\left(\alpha+\frac{\pi}{3}\right) - \sin^2\left(\alpha+\frac{\pi}{3}\right) = \frac{\cos^2\left(\alpha+\frac{\pi}{3}\right) - \sin^2\left(\alpha+\frac{\pi}{3}\right)}{\cos^2\left(\alpha+\frac{\pi}{3}\right) + \sin^2\left(\alpha+\frac{\pi}{3}\right)} = \frac{1 - \tan^2\left(\alpha+\frac{\pi}{3}\right)}{\tan^2\left(\alpha+\frac{\pi}{3}\right) + 1} = \frac{1}{3}$;
 因为 $\cos\left(\beta+\frac{\pi}{6}\right) = \frac{\sqrt{6}}{3}$, $\beta \in (0, \pi)$,所以 $\left(\beta+\frac{\pi}{6}\right) \in \left(0, \frac{\pi}{2}\right)$,所以 $\sin\left(\beta+\frac{\pi}{6}\right) = \frac{\sqrt{3}}{3}$,故 $\cos(2\alpha-\beta) = \frac{2\sqrt{2}}{3} \times \frac{\sqrt{6}}{3} - \frac{1}{3} \times \frac{\sqrt{3}}{3} = \frac{\sqrt{3}}{3}$.

16. -e 由题意得 $x^{a+1} \cdot e^x + a \ln x \geq 0$ 化简得 $xe^x \geq \frac{-a \ln x}{x^a} = \frac{1}{x^a} \ln \frac{1}{x^a} = e^{\frac{1}{\ln x^a}} \ln \frac{1}{x^a}$ 易知函数 $y = xe^x$ 是单调递增的函数,所以 $x \geq \ln \frac{1}{x^a}$ 对 $x > 1$ 恒成立,此时 $a \geq \left(-\frac{x}{\ln x}\right)_{\max}$,令 $f(x) = -\frac{x}{\ln x}$,则 $f'(x) = \frac{1 - \ln x}{(\ln x)^2}$,当 $x \in (0, e)$ 时, $f'(x) > 0$, $f(x)$ 单调递增,当 $x \in (e, +\infty)$ 时, $f'(x) < 0$, $f(x)$ 单调递减,当 $x = e$ 时, $f(x)_{\max} = f(e) = -e$,即 a 的最小值为 $-e$.

17. (1) 证明:由 $a_{n+1} = \frac{a_n}{2a_n+3}$,可得 $\frac{1}{a_{n+1}} = \frac{2a_n+3}{a_n} = 2 + \frac{3}{a_n}$,
 $\frac{1}{a_{n+1}} + 1 = \frac{3}{a_n} + 3 = 3\left(\frac{1}{a_n} + 1\right)$,又 $\frac{1}{a_1} + 1 = 3 \neq 0$, 3分

故数列 $\left\{\frac{1}{a_n} + 1\right\}$ 是以3为首项,3为公比的等比数列. 4分

(2) 解:由(1)可知 $\frac{1}{a_n} + 1 = 3 \times 3^{n-1} = 3^n$,故 $\frac{1}{a_n} = 3^n - 1$ 5分

$\frac{1}{a_1} + \frac{1}{a_2} + \frac{1}{a_3} + \dots + \frac{1}{a_n} = 3 - 1 + 3^2 - 1 + 3^3 - 1 + \dots + 3^n - 1 = \frac{3(1-3^n)}{1-3} - n = \frac{3^{n+1}}{2} - \frac{3}{2} - n$ 6分

令 $f(n) = \frac{3^{n+1}}{2} - \frac{3}{2} - n, (n \in \mathbf{N}^*)$

$f(n+1) - f(n) = \frac{3^{n+2}}{2} - \frac{3}{2} - (n+1) - \left(\frac{3^{n+1}}{2} - \frac{3}{2} - n\right) = 3^{n+1} - 1 > 0$ 易知 $f(n)$ 随 n 的增大而增大.

..... 8分

$f(4) = 116 < 121, f(5) = 358 > 121$,故满足 $f(n) < 121$ 的最大整数 n 为4. 10分

18. 解:(1)由题意得 $\bar{x} = \frac{3+4+5+6}{4} = 4.5, \bar{y} = \frac{0.1+0.2+0.4+0.5}{4} = 0.3$ 2分

$$\sum_{i=1}^4 x_i y_i = 6.1, \sum_{i=1}^4 x_i^2 = 86, \hat{b} = \frac{\sum_{i=1}^4 x_i y_i - 4 \bar{x} \bar{y}}{\sum_{i=1}^4 x_i^2 - 4 \bar{x}^2} = \frac{6.1 - 4 \times 4.5 \times 0.3}{86 - 81} = 0.14. \dots\dots\dots 3分$$

所以 $\hat{a} = \bar{y} - \hat{b} \bar{x} = 0.3 - 0.14 \times 4.5 = -0.33$

故得 y 关于 x 的线性回归方程为 $\hat{y} = 0.14x - 0.33$ 4分

(2)(i) 将 $x=7$ 代入 $\hat{y} = 0.14x - 0.33$, 得 $\hat{y} = 0.14 \times 7 - 0.33 = 0.65$,

所以估计该市政府需要给 E 大学毕业生选择自主创业的人员发放补贴金总额为 $0.65 \times 1\,000 \times 1 = 650$ (万元). 6分

(ii) 设小明、小红两人中选择自主创业的人数为 X , 则 X 的所有可能值为 $0, 1, 2$ 7分

$$P(X=0) = (1-p)(2-2p) = 2p^2 - 4p + 2,$$

$$P(X=1) = (1-p)(2p-1) + p(2-2p) = -4p^2 + 5p - 1,$$

$$P(X=2) = p(2p-1) = 2p^2 - p. \dots\dots\dots 10分$$

$$\therefore E(X) = 0 \times (2p^2 - 4p + 2) + (-4p^2 + 5p - 1) \times 1 + (2p^2 - p) \times 2 = 3p - 1. \dots\dots\dots 11分$$

$$\because 3p - 1 \leq 1.4, \frac{1}{2} < p < 1, \therefore \frac{1}{2} < p \leq \frac{4}{5}, \text{故 } p \text{ 的取值范围为 } \left(\frac{1}{2}, \frac{4}{5}\right]. \dots\dots\dots 12分$$

19. 解:(1)存在, 当 B_1C 为圆柱 OO_1 的母线, $BC \perp AB_1$ 2分

连接 BC, AC, B_1C , 因为 B_1C 为圆柱 OO_1 的母线, 所以 $B_1C \perp$ 平面 ABC ,

又因为 $BC \subset$ 平面 ABC , 所以 $B_1C \perp BC$.

因为 AB 为圆 O 的直径, 所以 $BC \perp AC$.

$BC \perp AC, B_1C \perp BC, AC \cap B_1C = C$, 所以 $BC \perp$ 平面 AB_1C ,

因为 $AB_1 \subset$ 平面 AB_1C , 所以 $BC \perp AB_1$ 6分

(2)以 O 为原点, OA, OO_1 分别为 y, z 轴, 垂直于 y, z 轴直线为 x 轴建立空间直角坐标系, 如图所示.

$$A_1(0, 1, 2), O_1(0, 0, 2), B(0, -1, 0),$$

$$\text{因为 } A_1B_1 \text{ 的长为 } \frac{\pi}{6}, \text{ 所以 } \angle A_1O_1B_1 = \frac{\pi}{6}, B_1\left(\frac{1}{2}, \frac{\sqrt{3}}{2}, 2\right), \vec{O_1B} = (0, -1, -2),$$

$$\vec{O_1B_1} = \left(\frac{1}{2}, \frac{\sqrt{3}}{2}, 0\right).$$

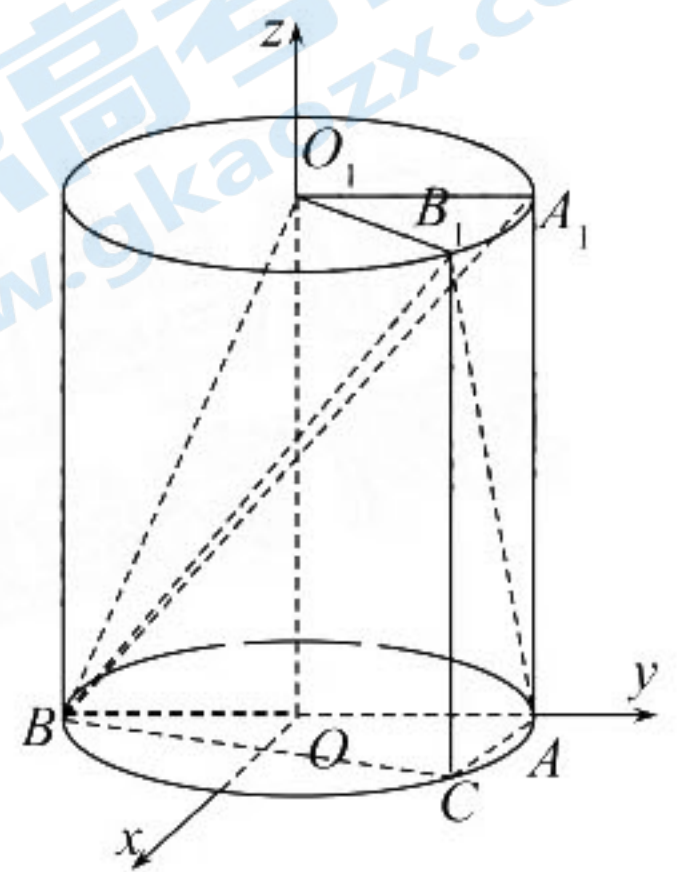
设平面 O_1B_1B 的法向量 $m = (x, y, z)$,

$$\begin{cases} -y - 2z = 0, \\ \frac{1}{2}x + \frac{\sqrt{3}}{2}y = 0, \end{cases} \text{ 令 } x = -3, \text{ 解得 } y = \sqrt{3}, z = -\frac{\sqrt{3}}{2}, \text{ 所以 } m = \left(-3, \sqrt{3}, -\frac{\sqrt{3}}{2}\right). \dots\dots\dots 8分$$

因为 x 轴垂直平面 A_1O_1B , 所以设平面 A_1O_1B 的法向量 $n = (1, 0, 0)$ 9分

$$\text{所以 } \cos \langle m, n \rangle = \frac{-3}{\sqrt{9+3+\frac{3}{4}}} = -\frac{2\sqrt{51}}{17}. \dots\dots\dots 10分$$

所以平面 A_1O_1B 与平面 B_1O_1B 夹角的余弦值为 $\frac{2\sqrt{51}}{17}$ 12分



20. (1)证明: $\because DB$ 平分 $\angle ADC, \therefore \angle ADB = \angle CDB$, 则 $\cos \angle ADB = \cos \angle CDB$,

由余弦定理得 $\frac{AD^2 + BD^2 - AB^2}{2AD \cdot BD} = \frac{CD^2 + BD^2 - BC^2}{2CD \cdot BD}$,

即 $\frac{12 + BD^2 - 4}{4\sqrt{3}BD} = \frac{4 + BD^2 - 4}{4BD}$, 解得 $BD^2 = 4(\sqrt{3} + 1)$; 2分

$\therefore \cos A = \frac{AD^2 + AB^2 - BD^2}{2AD \cdot AB} = \frac{12 + 4 - 4(\sqrt{3} + 1)}{8\sqrt{3}} = \frac{\sqrt{3} - 1}{2}$,

$\cos C = \frac{CD^2 + BC^2 - BD^2}{2CD \cdot BC} = \frac{4 + 4 - 4(\sqrt{3} + 1)}{8} = \frac{1 - \sqrt{3}}{2}$,

$\therefore \cos A = -\cos C$, 又 $A \in (0, \pi), C \in (0, \pi), \therefore A + C = \pi$ 6分

(注:此问若用正弦定理处理也给6分)

(2)解: $\because BD^2 = AB^2 + AD^2 - 2AB \cdot AD \cos A = BC^2 + CD^2 - 2BC \cdot CD \cos C$,

$\therefore 16 - 8\sqrt{3} \cos A = 8 - 8 \cos C$, 整理可得 $\cos C = \sqrt{3} \cos A - 1$; 8分

$S_1^2 + S_2^2 = \left(\frac{1}{2}AD \cdot AB \sin A\right)^2 + \left(\frac{1}{2}BC \cdot CD \sin C\right)^2 = 12 \sin^2 A + 4 \sin^2 C = 12 - 12 \cos^2 A + 4 - 4 \cos^2 C = 16 -$

$12 \cos^2 A - 4(\sqrt{3} \cos A - 1)^2 = -24 \cos^2 A + 8\sqrt{3} \cos A + 12 = -24 \left(\cos A - \frac{\sqrt{3}}{6}\right)^2 + 14$,

$\because A \in (0, \pi), \therefore$ 当 $\cos A = \frac{\sqrt{3}}{6}$ 时, $S_1^2 + S_2^2$ 取得最大值, 最大值为 14. 12分

21. 解: (1) 依题可得 $\begin{cases} c = \sqrt{3}, \\ \frac{3}{a^2} + \frac{1}{4b^2} = 1, \\ a^2 = b^2 + c^2, \end{cases}$ 解得 $\begin{cases} a = 2, \\ b = 1, \\ c = \sqrt{3}, \end{cases}$ 2分

所以椭圆 C 的方程为 $\frac{x^2}{4} + y^2 = 1$ 3分

(2) 易知直线 AP 与 AQ 的斜率同号, 所以直线 PQ 不垂直于 x 轴,

故可设 PQ: $y = kx + m, P(x_1, y_1), Q(x_2, y_2)$,

由 $\begin{cases} \frac{x^2}{4} + y^2 = 1, \\ y = kx + m \end{cases}$ 可得, $(1 + 4k^2)x^2 + 8mkx + 4m^2 - 4 = 0$,

所以 $x_1 + x_2 = \frac{-8mk}{1 + 4k^2}, x_1 x_2 = \frac{4m^2 - 4}{1 + 4k^2}, \Delta = 16(4k^2 + 1 - m^2) > 0$, 即 $4k^2 + 1 > m^2$, 5分

而 $k_{AP} k_{AQ} = \frac{1}{20}$, 即 $\frac{y_1}{x_1 - 2} \cdot \frac{y_2}{x_2 - 2} = \frac{1}{20}$,

化简可得 $20(kx_1 + m)(kx_2 + m) = (x_1 - 2)(x_2 - 2)$,

$20k^2 x_1 x_2 + 20km(x_1 + x_2) + 20m^2 = x_1 x_2 - 2(x_1 + x_2) + 4$,

$20k^2 \cdot \frac{4m^2 - 4}{1 + 4k^2} + 20km \cdot \frac{-8mk}{1 + 4k^2} + 20m^2 = \frac{4m^2 - 4}{1 + 4k^2} - 2 \times \frac{-8mk}{1 + 4k^2} + 4$

化简得 $6k^2 + mk - m^2 = 0$,

所以 $m = -2k$ 或 $m = 3k$,

所以直线 PQ: $y = k(x - 2)$ 或 $y = k(x + 3)$,

因为直线 PQ 不经过点 A,

所以直线 PQ 经过定点 $(-3, 0)$ 8分

所以直线 PQ 的方程为 $y = k(x + 3)$, 易知 $k \neq 0$,

设定点 $B(-3,0)$, $S_{\triangle APQ} = |S_{\triangle ABP} - S_{\triangle ABQ}| = \frac{1}{2} |AB| |y_1 - y_2| = \frac{5}{2} |k| |x_1 - x_2|$

$$= \frac{5}{2} |k| \sqrt{(x_1 + x_2)^2 - 4x_1x_2}$$

$$= \frac{5}{2} |k| \sqrt{\left(\frac{-8km}{1+4k^2}\right)^2 - 4 \times \frac{4m^2-4}{1+4k^2}}$$

$$= \frac{5|k|}{2} \frac{\sqrt{16(4k^2+1-m^2)}}{1+4k^2} = \frac{10\sqrt{(1-5k^2)k^2}}{1+4k^2},$$

因为 $\Delta > 0$, 且 $m = 3k$,

所以 $1 - 5k^2 > 0$, 所以 $0 < k^2 < \frac{1}{5}$, 10 分

设 $t = 4k^2 + 1 \in (1, \frac{9}{5})$,

所以 $S_{\triangle APQ} = \frac{5}{2} \sqrt{\frac{-5t^2 + 14t - 9}{t^2}} = \frac{5}{2} \sqrt{-9\left(\frac{1}{t} - \frac{7}{9}\right)^2 + \frac{4}{9}} \leq \frac{5}{3}$,

当且仅当 $t = \frac{9}{7}$, 即 $k^2 = \frac{1}{14}$ 时取等号, 即 $\triangle APQ$ 面积的最大值为 $\frac{5}{3}$ 12 分

22. 证明: (1) 由题意可得: $3x_0 - e^{x_0} + 1 = 0, e^{x_0} = 3x_0 + 1$,

$f'(x) = 3 - e^x, f'(x_0) = 3 - e^{x_0} = 3 - 3x_0 - 1 = 2 - 3x_0$,

可得曲线在点 P 处的切线为 $l: y = (2 - 3x_0)(x - x_0)$ 3 分

令 $g(x) = (2 - 3x_0)(x - x_0) - (3x - e^x + 1), g(x_0) = 0$,

$g'(x) = 2 - 3x_0 - 3 + e^x = -1 - 3x_0 + e^x, g'(x_0) = -3x_0 + e^{x_0} - 1 = 0$, 可得函数 $g(x)$ 在 $(-\infty, x_0)$ 上单调递减, 在 $(x_0, +\infty)$ 上单调递增, $\therefore g(x) \geq g(x_0) = 0$, \therefore 曲线 $y = f(x)$ 上的点都不在直线 l 的上方. 6 分

(2) 由(1)可得 $f'(x) = 3 - e^x = 0$, 解得 $x = \ln 3, f(\ln 3) = 3 \ln 3 - 3 + 1 = 3 \ln 3 - 2, \therefore 0 < m < 3 \ln 3 - 2$,

曲线在点 P 处的切线为 $l: y = (2 - 3x_0)(x - x_0)$,

$\because e^{x_0} = 3x_0 + 1$, 由零点的存在性定理知 $x_0 \in (1, 2)$,

同理可得曲线 $y = f(x)$ 在点 $(0, 0)$ 处的切线为 $y = 2x$,

$y = m$ 与 $y = 2x, y = (2 - 3x_0)(x - x_0)$ 的交点的横坐标分别为 x_3, x_4 则 $x_3 = \frac{m}{2}, x_4 = x_0 + \frac{m}{2 - 3x_0}$,

$\therefore |x_2 - x_1| < x_4 - x_3 = x_0 + \frac{m}{2 - 3x_0} - \frac{m}{2}$ 8 分

下面证明: $x_0 + \frac{m}{2 - 3x_0} - \frac{m}{2} < 2 - \frac{3m}{4}$.

$\because 2 - \frac{m}{4} - x_0 - \frac{m}{2 - 3x_0} = 2 - x_0 - m \cdot \frac{3(2 - x_0)}{4(2 - 3x_0)} = (2 - x_0) \cdot \frac{12x_0 + 3m - 8}{4(3x_0 - 2)}$,

$\because x_0 \in (1, 2), \therefore 2 - x_0 > 0, 3x_0 - 2 > 1$, 且 $12x_0 - 8 + 3m > 4 + 3m > 0$,

$\therefore 2 - \frac{m}{4} - x_0 - \frac{m}{2 - 3x_0} > 0$,

$\therefore x_0 + \frac{m}{2 - 3x_0} - \frac{m}{2} < 2 - \frac{3m}{4}, \therefore x_2 - x_1 < 2 - \frac{3}{4}m$ 12 分

关于我们

北京高考在线创办于 2014 年，隶属于北京太星网络科技有限公司，是北京地区极具影响力的中学升学服务平台。主营业务涵盖：北京新高考、高中生涯规划、志愿填报、强基计划、综合评价招生和学科竞赛等。

北京高考在线旗下拥有网站门户、微信公众平台等全媒体矩阵生态平台。平台活跃用户 40W+，网站年度流量数千万量级。用户群体立足于北京，辐射全国 31 省市。

北京高考在线平台一直秉承“精益求精、专业严谨”的建设理念，不断探索“K12 教育+互联网+大数据”的运营模式，尝试基于大数据理论为广大中学和家长提供新鲜的高考资讯、专业的高考政策解读、科学的升学规划等，为广大高校、中学和教科研单位提供“衔接和桥梁纽带”作用。

平台自创办以来，为众多重点大学发现和推荐优秀生源，和北京近百所中学达成合作关系，累计举办线上线下升学公益讲座数百场，帮助数十万考生顺利通过考入理想大学，在家长、考生、中学和社会各界具有广泛的口碑影响力

未来，北京高考在线平台将立足于北京新高考改革，基于对北京高考政策研究及北京高校资源优势，更好的服务全国高中家长和学生。



微信搜一搜

北京高考资讯

官方微信公众号: bjkzx

官方网站: www.gaokzx.com

咨询热线: 010-5751 5980

微信客服: gaokzx2018