

绝密★启封前

2014 年普通高等学校招生全国统一考试

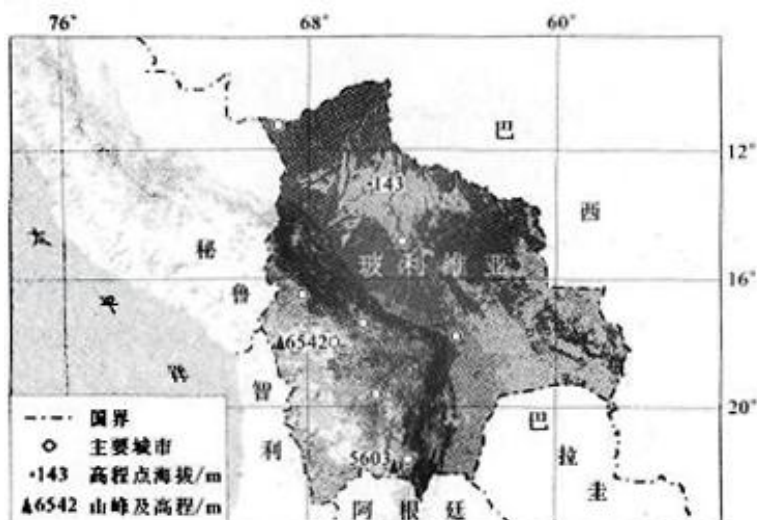
文科综合（北京卷）

本试卷共 15 页，共 300 分。考试时长 150 分钟。考生务必将答案答在答题卡上，在试卷上作答无效。考试结束后，将本试卷和答题卡一并交回。

第一部分（选择题 共 140 分）

本部分共 35 小题，每小题 4 分，共 140 分，在每小题列出的四个选项中，选出最符合题目要求的一项。

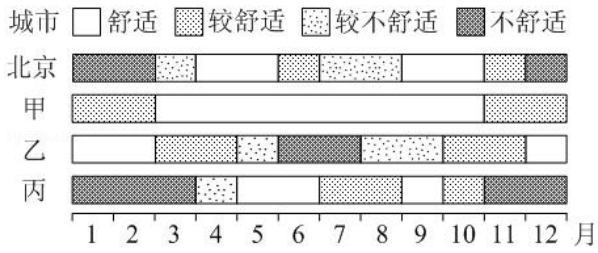
北京时间 2013 年 12 月 21 日 0 时 42 分，我国为玻利维亚成功发射通信卫星。读图，回答第 1、2 题。



1. （4 分）玻利维亚（ ）
 - A. 东邻巴西，西临太平洋
 - B. 受寒流影响，多雾少雨
 - C. 西南山地垂直地带谱复杂
 - D. 城市多分布于平原地区

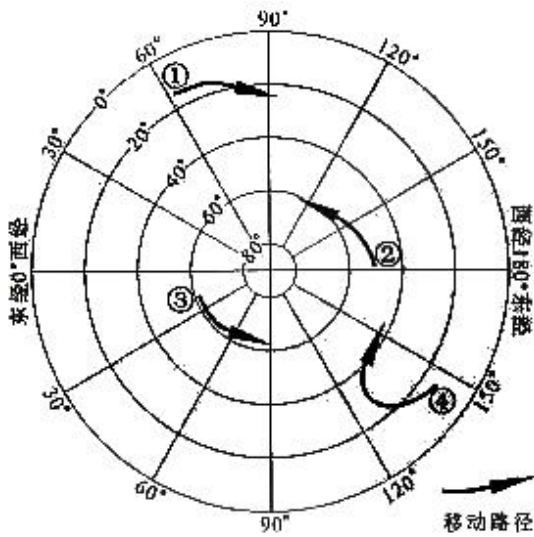
2. （4 分）卫星发射当日（ ）
 - A. 玻利维亚在傍晚可收看卫星发射直播
 - B. 赤道正午太阳高度角接近 90°
 - C. 中国南极昆仑站所在地出现极昼现象
 - D. 地球接近公转轨道的远日点

3. (4分) 气候舒适度主要与气温、湿度、风速等因素相关。如图示意中国4个城市气候舒适度的月变化。读图，回答甲、乙、丙分别是 ()



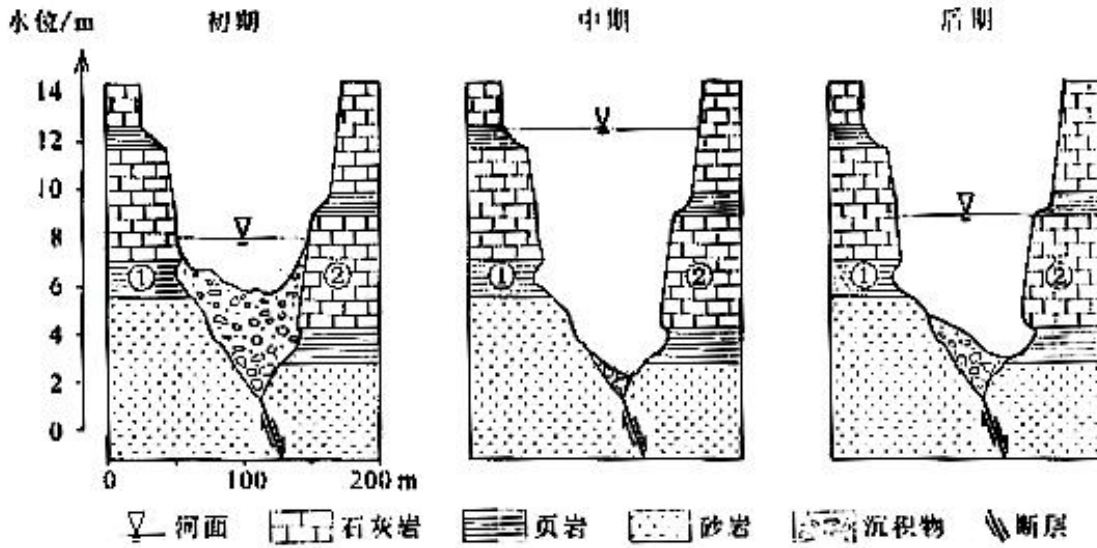
- A. 贵阳、西安、长春
- B. 昆明、海口、哈尔滨
- C. 兰州、上海、沈阳
- D. 南宁、武汉、石家庄

如图示意北半球夏季4个气旋的移动路径。读图，回答第4、5题。



4. (4分) 气旋 ()
- A. ①给南亚地区带来大风暴雨天气
 - B. ②自东南向西北方向移动
 - C. ③移动方向与地球自转方向相反
 - D. ④生成于太平洋热带洋面
5. (4分) 影响气旋④移动路径的主要是 ()
- A. 东南信风
 - B. 副热带高压
 - C. 极地东风
 - D. 北赤道暖流

如图示意某河谷断面经历的一次洪水过程。读图，回答第6、7题。



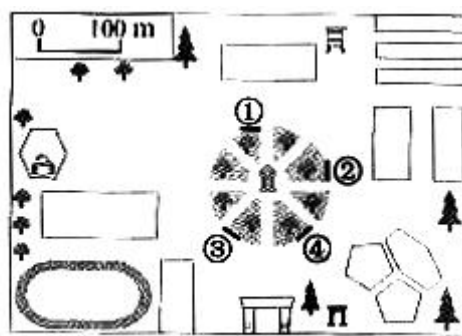
6. (4分) 该河谷 ()
- A. 岩层①比岩层②形成年代早
 - B. 岩层②比岩层①易受侵蚀
 - C. 是断层上发育形成的向斜谷
 - D. 呈“V”型, 适宜修建水库

7. (4分) 本次洪水 ()
- A. 水位上升时, 河流搬运作用减弱
 - B. 水位下降时, 河流含沙量增加
 - C. 流量增大时, 河流堆积作用增强
 - D. 河流侵蚀作用使河床加宽变深

8. 图(a)为某校地理小组设计的校徽景观指示牌, 图(b)为校园图局部. 读图, 回答. 指示牌在图(b)中的位置是 ()



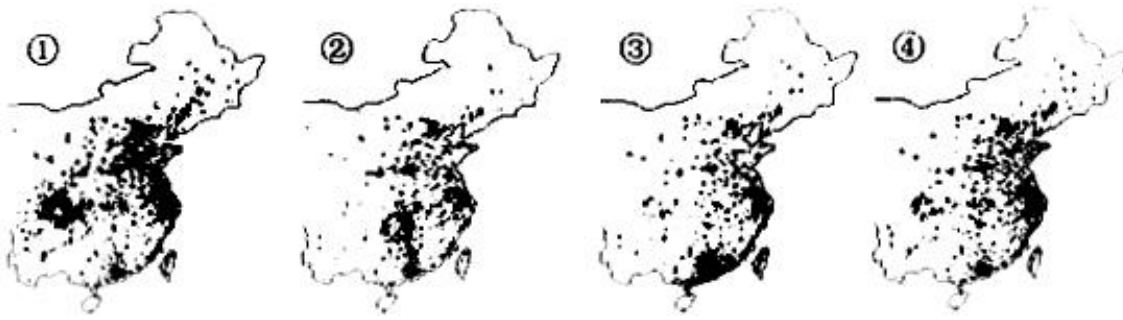
(a)



(b)

- A. ①
- B. ②
- C. ③
- D. ④

如图示意不同类型餐馆在我国部分地区的分布状况。读图，回答第9、10题。



9. (4分) ①②③④依次示意 ()

- A. 川菜馆、湘菜馆、粤菜馆、西餐馆
- B. 粤菜馆、西餐馆、川菜馆、湘菜馆
- C. 西餐馆、川菜馆、湘菜馆、粤菜馆
- D. 湘菜馆、粤菜馆、西餐馆、川菜馆

10. (4分) 各类餐馆如此分布，能够 ()

- A. 降低餐馆原料的运输成本
- B. 加速农业地域类型转变
- C. 促进城市服务范围的扩大
- D. 体现出地域文化的扩散

11. (4分) 如图为我国北方某冶炼厂周边土壤中污染物铜含量等值线图。读图，回答。土壤铜含量 ()

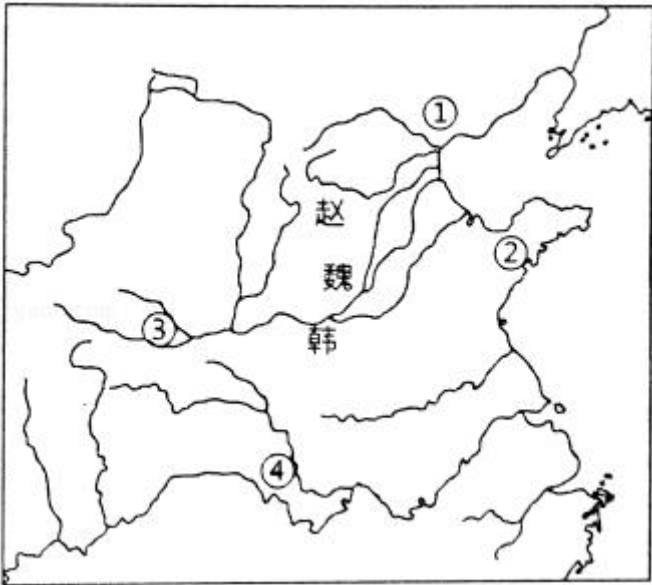


- A. 因河水稀释而逐渐变小
- B. 从冶炼厂向北递增幅度小

C. 高值区沿盛行风向延伸

D. 在居民点大于 200mg/kg

12. (4分) 读图, 根据所学判断, 在地区④产生的代表性著作是 ()



A. 《春秋》

B. 《孟子》

C. 《荀子》

D. 《离骚》

13. (4分) 公元 97 年, 东汉的班超曾派人出使欧洲强国“大秦”。东汉和“大秦”都创造了辉煌的文化。属于它们的文化成就分别是 ()

A. 活字印刷术、万有引力定律

B. 《九章算术》、罗马法

C. 蔡伦改进的造纸术、日心说

D. 《春秋繁露》、《理想国》

14. (4分) 唐末五代, 中央集权大为削弱。为扭转这一局面, 宋初采取的重要措施之一是 ()

A. 文官任知州

B. 设三司使

C. 设枢密院

D. 施行将兵法

15. (4分) 在历史学科的研究性学习中经常出现的错误是, 使用单一或不充分的论据得出普遍性的结论。下列选项中没有这类错误的是 ()

A. 《授时历》的颁行比现行公历早 300 年, 所以中国古代科技水平领先世界

B. 《西游记》是明代的一部优秀小说, 所以明代文学蓬勃发展

C. 唐代 369 位宰相中有 83% 来自北方, 所以唐代宰相的来源存在地域差异

D. 南宋扬州的城市人口占扬州总人口的 81.83%, 所以南宋的城市化水平很高

16. (4分) 《海国图志》中出现了一些外来词汇，如“西业”（参议院）、“里勃里先好司”（众议院）、“勃列西领”（总统）等。结合所学判断，该书（ ）
- A. 主要内容是介绍西方政治体制
 - B. 对西方政治体制已有所涉及
 - C. 提出中国要学习西方代议制度
 - D. 为戊戌变法提供了理论基础

17. (4分) 如图所示是民国时期描绘北京社会生活的风俗画。画中最能反映近代社会生活变革的有（ ）

- ①墙上画作的风格
- ②人物的发型
- ③照明手段
- ④饮食方式。



- A. ①②
 - B. ②③
 - C. ③④
 - D. ①④
18. (4分) “单干邀伴变互助，小组联起变大组，大组变做合作社，领导要靠党支部。”这首歌谣反映了（ ）
- A. 人民公社化运动
 - B. 家庭（联产）承包责任制
 - C. 农业社会主义改造
 - D. 中共八大经济方针
19. (4分) 1977年10月21日，《人民日报》头版头条刊登了“高等学校招生进行重大改革”的报道。这一“重大改革”是（ ）
- A. 教育领域拨乱反正的重要措施
 - B. 实施“科教兴国”战略的重要步骤
 - C. 贯彻十一届三中全会精神的重要举措

D. 贯彻“三个面向”教育方针的具体体现

20. (4分) 第一次世界大战结束之际, 意大利企业家阿格涅利提出, 欧洲要想和平、强大, 就必须借鉴美国的成功经验和失败教训, 超越邦联阶段, 建立联邦制的“欧洲合众国”。能够佐证上述观点的美国历史事实是 ()

- ①邦联政治结构松散, 无力平息社会动荡
- ②联邦剥夺了各州的自主权, 稳定了统治秩序
- ③邦联没有统一的关税, 严重阻碍了经济发展
- ④联邦统一发行货币, 促进了经济的有序发展。

A. ①②③ B. ①②④ C. ②③④ D. ①③④

21. (4分) 如图所示是法国 1789 年的一幅漫画。画中三人分别代表贵族、平民和教士。结合所学判断, 漫画所要表达的意愿是 ()



- A. 第三等级反对制定新宪法
- B. 三个等级联合废除君主制
- C. 三个等级合力制定新宪法
- D. 三个等级修改拿破仑法典

22. (4分) 19 世纪以来, 一些阿拉伯国家进行了近代化改革, 其中以埃及的穆罕默德·阿里改革和土耳其的凯末尔改革最具代表性。这两次改革相同之处有 ()

- ①废除哈里发制度 ②进行军事改革 ③建立近代工业 ④实行教育改革。
- A. ①② B. ②③ C. ③④ D. ①④

23. (4分) 第二次世界大战后, 美苏两国逐渐走向政治、经济、军事领域的全面对抗。苏联在 1949 年成立经济互助委员会, 协调和促进社会主义阵营各成员国的经济发展。此举主要针对的是 ()

- A. 杜鲁门主义
- B. 马歇尔计划

C. 北约组织

D. 德意志联邦共和国

24. (4分) 数间民居、一湾流水、挺拔的轻松和结伴的人们……以丰子恺漫画为底稿的“中国梦”公益广告，亮相于全国大街小巷，向人们诠释着我国仁爱宽厚、孝悌友善等传统美德，引起了人们内心的共鸣。这说明传统



图 11

美德 ()

A. 只能通过特定的方式传播

B. 必须按照原有的含义理解

C. 始终具有同样的社会背景

D. 仍然具有巨大的时代价值

25. (4分) “天人合一，顺时而食。”一家老字号食品企业在这一古老智慧的启发下，随着二十四节气的更替，推出了清明的青团、谷雨的椿芽酥、立夏的青梅饼，芒种的乌梅酥、大暑的荷叶饼等广受消费者欢迎的时令点心。这表明 ()

①传统文化对人们的生活有着持久影响

②民族文化的传承要以市场经济为前提

③民族文化是文化创新的源泉和动力

④文化与经济之间具有相互交融的关系。

A. ①②

B. ③④

C. ②③

D. ①④

26. (4分) 中国早期的时空观念与古代农民的农舍和劳作有关。农舍是他们的生活世界，他们从农舍得到空间观念。“日出而作，日落而息”，他们由农舍出入得到时间观念。这表明 ()

①中国早期的时空观念来源于主观想象

②中国早期的时空观念是农业文明的产物

③时空观念是客观存在的主观映象

④时空观念对社会生活起了决定性作用。

A. ①②

B. ①④

C. ②③

D. ③④

27. (4分) 经济建设与生态建设的协调发展, 通俗地讲, 就是要金山银山和绿水青山, 某地在实践中对这“两座山”关系的认识经过了三个阶段: 一是用绿水青山去换金山银山; 二是既要金山银山, 也要绿水青山; 三是绿水青山本身就是金山银山。这一认识过程说明 ()

- ①每一阶段的特点相同
- ②是一个由浅入深的发展过程
- ③是一种圆圈式的循环运动
- ④经过实践和认识的多次反复达到了更高境界。

A. ①③ B. ①④ C. ②③ D. ②④

28. (4分) 北京某胡同推行垃圾分类新招。居民将与自家对应的二维码贴在塑料袋上分类投放垃圾, 垃圾综合处理厂通过二维码扫描仪分拣垃圾, 政府部门对正确分类和投放的住户进行奖励。随着新招的推出, 居民垃圾分类意识逐步增强。这一新招 ()

- ①促进了政府管理与社会参与的有机结合
- ②维护了市场在社区建设中的决定作用
- ③通过有效的激励机制提高了居民环保意识
- ④通过科技手段扩大了政府公共服务的职能。

A. ①③ B. ①④ C. ②③ D. ②④

29. (4分) 在下列“假如我是人大代表”的模拟情境中, “我”的行为不当的是 ()

- A. 当我被选为人大代表后, 在人大网站专门开设群众信箱征集各方面意见
- B. 当我调查到某工厂生产假冒伪劣产品时, 立即拿出代表证要求厂家停产整顿
- C. 当我调研发现信息网络安全问题日益突出时, 在人大会议上联名提出相关议案
- D. 当我了解到规划局有法不依, 执法不严时, 在人大会议上联名向该局提出质询

30. (4分) 近期中纪委监察部网站列出了 56 本推荐书目, 现选择 4 本列在表, 其中集中体现“有效制约和监督政府权力的关键, 是健全权力运行的制约和监督体系”这一观点的是 ()

选项	书名	基本内容
A	《村委监督委员会实践与思考》	村委监督委员会负责监督村务公开

		制度的落实
B	《履职忠告 - - 公职人员清正廉洁读本》	公职人员必须在工作中培养职业道德，做到拒腐防变
C	《控制腐败法律机制研究》	制度建设是为了使公共权力运行环环相扣、监督有力、制约到位
D	《做官与修德》	做官先做人，为政先修德

A. A

B. B

C. C

D. D

31. (4分) 在自然界面前，没有哪个国家或个人可以免责。2013年，我国关于推动绿色经济和生态文明建设的提案获得了联合国环境规划署的批准。这说明我国 ()

- ①主动承担国际责任，赢得国际社会肯定
- ②积极参加联合国工作，发挥建设性作用
- ③维持国际社会现状，参与多边规则制定
- ④尊重联合国的权威，倡导联合国改革。

A. ①②

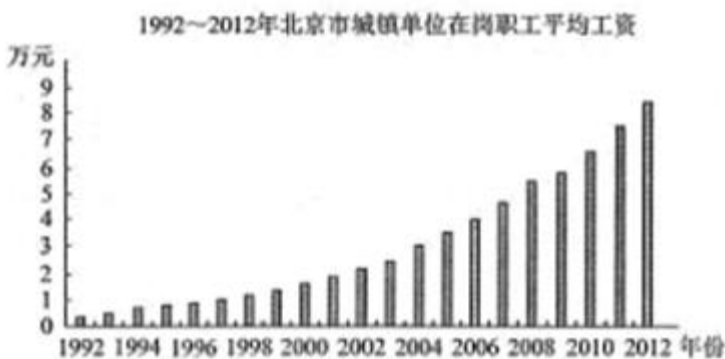
B. ①④

C. ②③

D. ③④

32. (4分) 1992年 - 2012年北京城镇单位在岗职工平均工资根据图变化趋势可以推断出，近二十年来北京市城镇区 ()

- ①恩格尔系数逐年提高
- ②居民生活成本呈下降趋势
- ③社会劳动生产率日益提高
- ④劳动者对服务业需求不断上升。



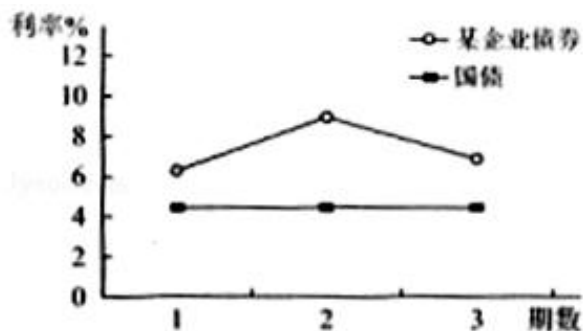
A. ①②

B. ①④

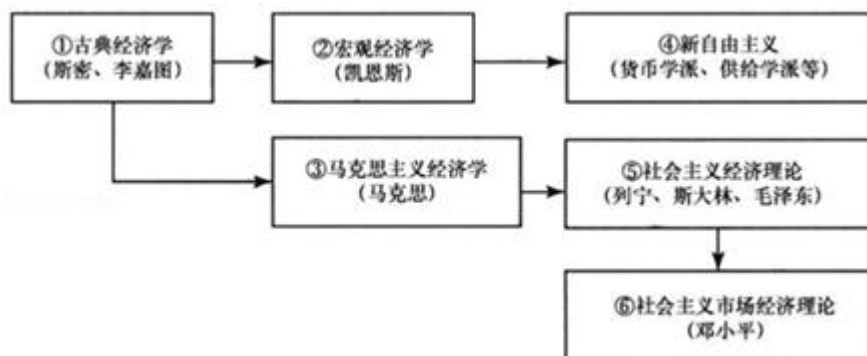
C. ②③

D. ③④

33. (4分) 债券利率受到风险的影响, 当风险下降时, 债券利率降低。小华准备购买某企业新发行的债券, 通过查询该企业近几期债券的利率, 绘制了图, 相对于稳定的国债利率, 该企业债券利率从第2期到第3期下降的原因可能是 ()



- A. 国际原油价格上涨, 企业运输成本上升
 - B. 新产品受市场欢迎, 企业经济效益提高
 - C. 面临高额关税, 企业国际市场份额下滑
 - D. 海外投资失误, 企业债务负担大幅增加
34. (4分) “自动稳定器”是一种经济调节机制, 具有自动稳定宏观经济运行的功能: 在经济繁荣时会自动抑制经济增长, 在经济衰退时会自动促进经济增长。下列选项能够体现“自动稳定器”功能的是 ()
- A. 税务总局实施部分服务业营业税改征增值税, 降低企业税负
 - B. 因经济繁荣职工收入提高, 个人所得税税率进入更高等级
 - C. 政府加快推进新型城镇化战略, 促进经济健康可持续发展
 - D. 中央银行为应对经济下行, 降低商业银行存款准备金率
35. (4分) 某小组进行主题为“学习《经济学常识》, 把握经济思想脉络”的课程讨论时, 绘制了一张图表, 对图判断正确的是 ()



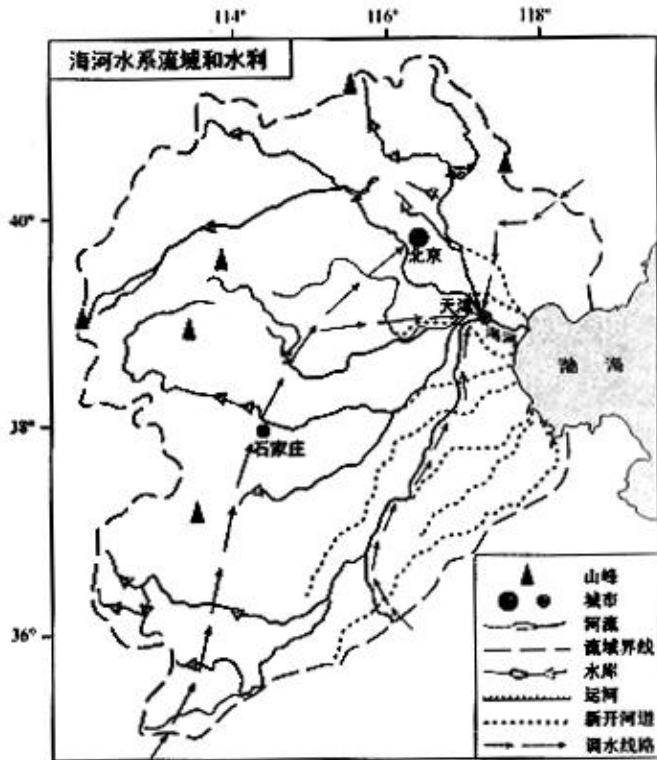
a. ①到②起因于“滞涨”现象

- b. ③揭示了资本主义生产的实质是剩余价值的生产
- c. 1929 - 1933 年经济危机促使②到④
- d. ⑥是在实践的基础上对③的丰富和发展。

A. ab B. ac C. bd D. cd

第二部分（非选择题 共 160 分）

36. （36 分）读图，回答下列问题。



20 世纪 50 年代以来，针对海河流域频发的旱涝灾害，在流域西部、北部修建了大量水库，在东部新开了多条入海河道。

(1) 结合流域气候和地形特点，分析修建水库和新开入海河道的自然原因。

海河流域人均水资源占有量不足全国的 $\frac{1}{7}$ 。

(2) 针对流域水资源匮乏的现状，简述农业生产应采取的对策。

(3) 指出河源地区旅游开发和景区建设给河流带来的环境问题，列举一项应对措施。

依据 2014 年《政府工作报告》精神，京津冀地区逐步淘汰钢铁、水泥、平板玻璃等行业，加快产业结构调整。

(4) 简述京津冀地区产业结构调整的方向以及对改善大气质量的作用。

37. 13. （36 分）区域的世界·联系的世界·多样的世界

材料一 西周时期，周王自称“天之子”，其所居之地称为“中国”（即中央之国），文献准确记载的区域大致在黄河流域。古希腊人认为，他们的主神宙斯的居住地就是世界中心，文献中明确记载的地理范围不超过地中海周边地区。罗马人则说，众神选择并指引罗马成为世界中心，罗马帝国初期所能明确认识的地理范围已远远超过了古希腊，但仍限于欧洲、非洲北部和亚洲中西部。上述三个文明对于远离其统治区域的地方则认识模糊。

(1) 概括材料一中各文明对世界认知的共同之处。

材料二 如图 1、2、3、4 所示



图 1 公元 1400 年前世界主要贸易路线示意图



图 2 公元 1400~1800 年世界主要贸易路线和白银流向示意图



图 3 公元 1900 年前后世界主要航海贸易路线和铁路示意图

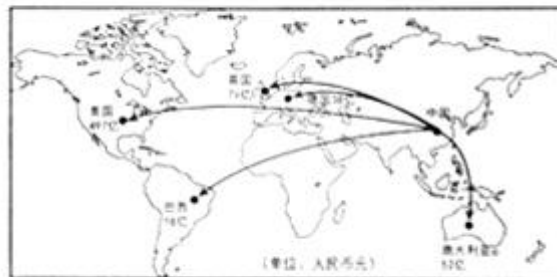


图 4 公元 2013 年五大跨境电商市场对中国商品网购需求预估示意图

(2) 阅读图 1 至图 4，以世界洲际贸易的发展为视角，结合所学，对材料二所蕴含的历史信息进行解读。

要求：提取信息充分；总结和归纳准确、完整；解释和分析逻辑清晰。

(3) 世界是联系的，也是多样的。结合“洋务运动”、“辛亥革命”和“中华人民共和国成立”三个历史事件的具体史实，回答：中国的有识之士是如何立足国情、学习外来文化的？中国取得了哪些具有自身特色的成果？

38. (34 分) 地铁作为流动的博物馆，被称为城市“最有价值的隐藏”。

材料一 北京地铁宛若一条条彩带串起北京不同区域的“文化珍珠”：颐和园、天坛、鸟巢、什刹海、南锣鼓巷、王府井、中关村科技园，等等。一座座地铁造型别致，站内设计装饰与地面文化景观交相辉映、浑然一体，仿佛在讲述着北京的昨天、今天和明天。北京地铁还举办了“祖国你好”大型公益广告活动、“民俗风、中国年”迎新春活动、儿童文学专列、诗歌坊等丰富多彩的活动。

(1) 结合材料说明地铁在推动北京文化创新过程中是怎样发挥作用的。

材料二 拥挤的车厢、高额的补贴……在当前地铁供需条件下，票价的合理性成为关注的焦点。某校学生围绕“北京地铁票价涨不涨、怎么涨”开展研究性学习，在采访乘客的过程中，了解到如下一些看法：乘客甲：“两块

钱票价真便宜，涨价就不那么挤了。不过我每次就坐两站，总不该和坐几十站的人花一样多的钱呀。”乘客乙：“我通常在高峰期挤地铁上班，真实人进去，相片出来啊。其实，非高峰期就没那么多人。”乘客丙：“地铁便捷、污染少，关系到老百姓的民生，不能只考虑经济因素。”

(2) 结合材料，你认为地铁票价应怎样调整？运用《经济生活》相关知识说明理由。

(3) 地铁票价调整各项民生、召开地铁票价听证会，是保障科学决策、民主决策，使票价调整方案更加科学合理的有效方式。为使听证会获得预期效果，应注意表中事项。运用《政治生活》相关知识，说明注意这些事项的理由。

材料三 破解北京地铁的供需矛盾，不仅要解决地铁票价合理性问题，更在于如何加大地铁建设力度问题。地铁4号线采用PPP模式（Public - Private Partnership）建设。在该模式下，政府通过市场化手段，引入某公司负责4号线的一部分投资和后期运营。这种模式为加大地铁建设力度提供了新思路，既拓宽了民间资本的投资领域，也使政府从地铁投资者和间接经营者转变为部分投资者和监管者。

(4) 结合材料，运用《经济生活》相关知识，说明传统上由政府财政投资兴建地铁，现在为什么要通过市场化引入民间资本。

39. (12分) 古人说：“大学之道，在明明德，在亲民，在止于至善。”社会主义核心价值观，其实就是一种，即使个人的德，也是一种大德，就是国家的德、社会的德。国无德不兴，人无德不立。修德，既要立意高远，又要立足平实。

一位借款经营的店主、一个客人遗忘的装有6万多元的皮包，会发生怎样的故事？

“真没想到，这么多钱还能原封不动地回来”，失主回忆道。他抱着侥幸心理回到那家面馆，一眼就看到自己的皮包好端端地放在面馆货架上。店主核对信息后，把皮包归还给他。

6万多元现金，相当于全家人辛苦经营面馆一年的收入，更何况家里还有借款。

“那是客人的东西，我们哪能动！”店主这样说，“自己挣的钱花的才踏实，不是我们的钱，可不能拿。”

事情传开后，人们纷纷来面馆吃面，面馆生意越来越红火。

心怀感激的失主、朴实的面馆老板、蜂拥而至的顾客，

(1) 简要分析这个故事体现了社会主义核心价值观的哪些内容？

(2) 从知行统一的角度，谈谈你对践行社会主义核心价值观的理解。

40. (1) (8分) 中国工业布局受政治、资源、市场等因素影响不断变化。

1932年，日本在上海挑起一·二八事变。鉴于中国重要工厂绝大部分都集中于上海，而内地各省几乎没有工业基础，难以满足抗战的物资需要，南京国民政府计划将工厂内迁。1937年，国民政府制订了《工厂迁移协助办法》，打算在武汉建立新工业区。截止到1937年底，上海迁出民营企业146家，各种机件14600余吨。南京沦

陷后，国民政府再次动员企业迁移，拟定《西南西北工业建设计划》。从1938年7月起，已在武汉的工厂又大规模拆迁，主要迁往湘、桂、黔、滇、陕、川，共迁出企业304家，物资511825吨。

结合材料及所学，概述20世纪30年代中国工业内迁的原因及过程。

(2) (10分) “十二五”期间，依据国家区域发展新格局，要依托黄金水道，建设长江经济带。读图，回答：



与长江三角洲地区相比，概述川渝地区发展的地理优势。

(3) (6分) 中国工业布局受政治、资源、市场等因素影响而不断变化。建设长江经济带，川渝地区应如何坚持具体问题具体分析的原则？

41. (1) (10分) 维护和平、发展经济、保障民生和保护环境是人类共同的任务，需要世界各国的积极参与。工业革命在给英国带来财富的同时，也产生了严重的大气污染，1952年12月的伦敦烟雾事件震惊世界。

分析气候对英国大气污染的影响。

(2) (8分) 维护和平、发展经济、保障民生和保护环境是人类共同的任务，需要世界各国的积极参与。

第二次世界大战给英国经济造成巨大破坏，人民生活水平急剧下降。1942年，英国工党提出了不分阶级，不分贫富，人人都有权享有社会福利的主张，得到越来越多的民众的支持。1945年，工党在大选中获胜。1948年，工党政府首相艾德礼宣布实行《家庭津贴法》《国民保险法》《国民医疗保健法》《国民救济法》等一系列社会保障法，为英国建立福利国家奠定了基础。

依据材料，结合所学，概述英国建立“福利国家”的时代背景及方式。

文综试题答案

1. **【分析】** 读图，图示玻利维亚东邻巴西，西临秘鲁和智利；因山脉阻隔，不受寒流影响；图示平原地区城市很少；而西南部海拔高，纬度低，所以垂直带谱复杂。

【解答】 解：A、图示玻利维亚东邻巴西，西临秘鲁和智利，故不符合题意；

B、因山脉阻隔，不受寒流影响，故不符合题意；

C、而西南部海拔高，纬度低，所以垂直带谱复杂，故正确；

D、图示平原地区城市很少，故不符合题意。

故选：C。

【点评】 本题难度适中，主要考查了区域自然地理和人文地理特征，获取图中信息并调用相关知识进行解答。

2. **【分析】** 主要考查了地球运动地理意义，根据图中经度可以判断玻利维亚位于西四区，比北京时间晚 12 小时，玻利维亚收看卫星发射直播的时间为中午；12 月 21 日，太阳直射点位于南回归线附近，赤道正午太阳高度角接近 $66^{\circ} 34'$ ；中国南极昆仑站（南极圈以内）所在地出现极昼现象；地球接近公转轨道的近日点（1 月初）。

【解答】 解：A、根据图中经度可以判断玻利维亚位于西四区，比北京时间晚 12 小时，玻利维亚收看卫星发射直播的时间为中午，故不符合题意；

B、12 月 21 日，太阳直射点位于南回归线附近，赤道正午太阳高度角接近 $66^{\circ} 34'$ ，故不符合题意；

C、12 月 21 日，太阳直射点位于南回归线附近，中国南极昆仑站所在地出现极昼现象，故正确；

D、12 月 21 日，地球接近公转轨道的近日点（1 月初），故不符合题意。

故选：C。

【点评】 本题难度适中，属于知识性试题，解题的关键是掌握地球运动地理意义。

3. **【分析】** 此题考查的知识是影响气候的因素的应用，与实际生活联系。题中给出的是大家都熟悉的北京城市，由横坐标可以看出北京在一年中的四个指标的情况，北京是北方城市，最不舒服是每年的冬季，夏季较热也不舒服，而春秋季节基本上还是舒服的。当然这个也和我们国家大部分的城市是相似的。但是也有不同的情况，如东北冬季很冷，冬季的时间也感觉较长，所以不舒服的时间也较长。再如南方的海南，一年四季都热，尤其是夏季，所以它最不舒服的季节应该是夏季。通过生活经验来做题应该是解这个题目最好的办法。

【解答】 解：

A 贵阳在冬春季节有华南准静止锋的影响，数天阴雨连绵，不会出现甲图的情况，所以通过排除法，A 错误；

B 昆明四季如春，应该是个舒服的城市，甲的 12 个月都是舒服和较舒服情况，所以昆明符合甲。海口市是海南省会城市，一年最不舒服的是夏季，受高温和台风的困扰。而海南的冬季是很舒服的，因为是南方，气温较北

方高，所以海口符合乙。哈尔滨市东北的，冬季很冷，而且时间也较其他两个城市长，是不舒服的季节，哈尔滨符合丙。所以 B 正确；

C 兰州市我国西北内陆城市，是典型的温带大陆性气候，冬冷夏热，所以不符合甲，故 C 错误；

D 南宁市是广西的省会城市，是亚热带季风气候，夏季高温多雨，不是舒适的季节，不符合甲，故 D 错误。

故选：B。

【点评】 这题是考查气候的知识，但是与实际生活联系较紧密。学生可以根据北京的四个不同情况，来对照分析甲乙丙，再从给出的四个答案中用排除法直接得出答案即可。

4. **【分析】** 主要考查了区域的判断和气旋对天气的影响，此图是北半球俯视图，地球自转的方向为逆时针，结合经纬度位置判断夏季 4 个气旋的移动路径、生成地及对天气的影响。

【解答】 解：A、①位于大西洋，不会影响南亚地区，故不符合题意；

B、②从西南向东北移动，故不符合题意；

C、③自西向东移动，与地球自转的方向相同，故不符合题意；

D、④发源于太平洋的低纬度地区，属于太平洋热带洋面，故正确。

故选：D。

【点评】 本题难度较小，属于知识性试题，解题的关键是掌握区域的判断和气旋对天气的影响。

5. **【分析】** 主要考查了影响气旋移动路径的主要因素，移动路径基本上沿副热带高压外缘，自东向西移动。但受众多因素影响，移动路径又很复杂。以北太平洋西部地区台风移动路径为例，其路径分为三条：①西移路径。台风从菲律宾以东洋面一直向西移动，经过南海，在我国海南岛或越南一带登陆。②西北路径。台风从菲律宾以东洋面向西北方向移动，穿过琉球群岛，在我国江浙或浙闽一带登陆。③转向路径。台风从菲律宾以东洋面向西北方向移动，然后转向东北方向移去，路径呈抛物线状。

【解答】 解：根据图中经纬度可以判断，气旋④位于西北太平洋海域，移动路径基本上沿副热带高压外缘，自东向西移动。

故选：B。

【点评】 本题难度适中，属于基本能力题，解题的关键是掌握影响气旋移动路径的主要因素。

6. **【分析】** 此题考查河流对地表形态的影响。

图示岩层①位于岩层②的下面，表明形成时间较早，而图示岩层①受流水影响，侵蚀较严重，岩层②出露河谷处，岸线较平直，所以岩层①比岩层②易受侵蚀；该处是断裂形成的谷地，修建水库应该避开断层。故选 A。

【解答】 解：A、图示岩层①位于岩层②的下面，表明形成时间较早，故正确；

B、岩层②出露河谷处，岸线较平直，所以岩层①比岩层②易受侵蚀，故不符合题意；

C、该处是断裂形成的谷地，故不符合题意；

D、修建水库应该避开断层，故不符合题意。

故选：A。

【点评】此题考查河流对地表形态的影响。河流在不同的河段流速不一样，对地表的影响也不同，根据图中的信息解题是依据，此题难度中等。

7. **【分析】**此题考查河流对地表形态的影响。

图示岩层①位于岩层②的下面，表明形成时间较早，而图示岩层①受流水影响，侵蚀较严重，岩层②出露河谷处，岸线较平直，所以岩层①比岩层②易受侵蚀。

水位上升的中期，沉积物较少，表明河流搬运作用较强；水位下降时，沉积物较多，表明泥沙沉积，河流含沙量减少；流量增大时，河流侵蚀作用强；而河流对河底和两岸的侵蚀，使得河床加宽加深。故选 D。

【解答】解：A、水位上升的中期，沉积物较少，表明河流搬运作用较强，故不符合题意；

B、水位下降时，沉积物较多，表明泥沙沉积，河流含沙量减少，故不符合题意；

C、流量增大时，河流侵蚀作用强，故不符合题意；

D、河流对河底和两岸的侵蚀，使得河床加宽加深，故正确。

故选：D。

【点评】此题考查河流对地表形态的影响。河流在不同的河段流速不一样，对地表的影响也不同，根据图中的信息解题是依据，此题难度中等。

8. **【分析】**此题考查读图能力。图中的比例尺是 1：100。指示牌距离老校门 200 米，所以图上的距离是 2 厘米。从校徽景观指示牌中指示的方向和距离，可判断其位置应在②处。故选 B。

【解答】解：A、①距离老校门大于 200 米，故不符合题意；

B、图中的比例尺是 1：100。指示牌距离老校门 200 米，所以图上的距离是 2 厘米。从校徽景观指示牌中指示的方向和距离，可判断其位置应在②处，故正确；

C、③距离老校门小于 200 米，故不符合题意；

D、④距离老校门小于 200 米，故不符合题意。

故选：B。

【点评】此题考查读图能力。根据比例尺，指示牌和其他建筑物的距离解题，重点考查读图能力，难度一般。

9. **【分析】**“东辣西酸，南甜北咸”大致概括了我国不同地域的饮食特点。这既反映了气候、土壤对人们饮食习惯和口味的影响，同时也说明了食品调理是人们适应自然环境的重要手段。一年之中具湿冷气候的川、贵、湘嗜辣，其有祛寒除风湿的作用。山西黄土高原因含钙过多，使居民嗜酸，其有利于消除体内的钙沉积，可以克服各种结石病。贵州省许多民族喜欢酸食，这与长江中下游每年的梅雨以及贵州山地气候所造成的“天无三日晴”也有关系。

【解答】解：从餐馆的位置分析，川菜馆的集中区应在四川；湘菜馆应集中在湖南；粤菜馆应集中广东省；西餐馆应集中在大城市。

故选：A。

【点评】该题以中国某部分区域图为材料，考查学生的空间定位、知识迁移和综合分析能力。

10. **【分析】**“东辣西酸，南甜北咸”大致概括了我国不同地域的饮食特点。这既反映了气候、土壤对人们饮食习惯和口味的影响，同时也说明了食品调理是人们适应自然环境的重要手段。一年之中具湿冷气候的川、贵、湘嗜辣，其有祛寒除风湿的作用。山西黄土高原因含钙过多，使居民嗜酸，其有利于消除体内的钙沉积，可以克服各种结石病。贵州省许多民族喜欢酸食，这与长江中下游每年的梅雨以及贵州山地气候所造成的“天无三日晴”也有关系。

【解答】解：各类餐馆分布既集中，有分散，既体现了地域文化，又有扩散现象；而餐馆的原料基本是就地取材；因不会影响当地的自然和社会条件，所以也不会影响地域类型；餐馆的扩散，只会缩小城市的服务范围。

故选：D。

【点评】该题以中国某部分区域图为材料，考查学生的空间定位、知识迁移和综合分析能力。

11. **【分析】**等值线向数值大方向弯曲的地方数值小，向数值小方向弯曲的地方数值大。等值线的弯曲反映了地理要素的分布受到某些因素的影响。

【解答】解：北方的盛行风向为东南 - 西北风，从图中铜含量数值凸出也为东南 - 西北向，因此高值区沿盛行风向延伸。在上游河水的稀释作用不明显，从冶炼厂向北递减幅度大，因此等值线相对东南变稠密，铜含量在居民点小于 200mg/kg。

故选：C。

【点评】本题主要考查等值线的运用、大气的水平运动对环境的影响等考点的理解。

12. **【分析】**考查百家争鸣中儒家代表作以及先秦时期的文学成就。考查楚辞的相关知识，学生读图获取历史信息的能力。

【解答】根据图片信息可知地区④是指战国时期的楚国地区，①是指燕国地区，②是指齐国地区，③是指秦国地区，《春秋》为春秋时期鲁国孔子所著，《孟子》为战国时期鲁国孟子所著，《荀子》为战国时期赵国荀子所著，《离骚》为战国时期楚国屈原所著，因此选 D。

故选：D。

【点评】以文学作品为切入点，同时考查学生对地图的空间观念的掌握。学习过程中对课本涉及到的地图表格等非文字材料，一定格外注意。

13. **【分析】**本题考查中国古代的科技成就和罗马法。考查学生的识记、运用所学知识解决问题的能力。

【解答】大秦是指当时的古罗马帝国，活字印刷术出现在宋朝，万有引力定律为牛顿在 17 世纪创立，故排除 A 项。

《九章算术》是成书于东汉时期的数学著作，罗马法是古罗马时期的代表性政治成果，因此选 B。

蔡伦改进造纸术是在东汉时期，但是提出日心说的是生活在十五、十六世纪的哥白尼，故排除 C 项。

《春秋繁露》是西汉时期董仲舒所著，《理想国》为古希腊思想家柏拉图所著，故排除 D 项。

故选：B。

【点评】本题解题的关键在于抓住题干的关键词。本题的关键词是“东汉”“大秦”，再结合所学知识即可。

14. **【分析】**本题主要考查的是北宋初年加强中央集权的措施。

【解答】“扭转这一局面”即是指加强中央集权，中央集权主要是指中央与地方的关系而言，即中央政府加强对地方的控制和管理，削弱地方自主性。设三司使是分割宰相的财政权，有利于加强君主专制，与中央集权无关，故 B 项错误。

设枢密院是分割宰相的军权，有利于加强君主专制，与中央集权无关，故 C 项错误。

施行将兵法王安石变法的措施之一，将各路驻军分为若干单位，每单位置将与副将一人，专门负责操练军队，使兵知其将，将练其兵，以提高军队素质，故 D 项错误。

宋初派文官任知州，以防止武将在地方专权、割据称雄，有利于中央集权的加强，故 A 项正确。

故选：A。

【点评】本题主要考查学生识记、理解历史事实，分析历史结论的能力。

15. **【分析】**本题主要考查史学研究的基本方法。

【解答】这类错误即是指“使用单一或不充分的论据得出普遍性的结论”，《授时历》是中国古代的科技成就之一，但是整体上不能代表中国古代科技水平，排除 A；

同样的道理，《西游记》是明代的一部优秀小说，但是整体上不能代表明代文学，南宋扬州的城市人口状况不能整体上代表南宋的城市化水平，排除 BD；

C 项根据唐代 369 位宰相中有 83%来自北方的情况得出所以唐代宰相的来源存在地域差异这一结论，较为合理。

故选：C。

【点评】本题旨在考查学生对史学研究的基本方法的了解。

16. 【分析】本题主要考查魏源的主要思想主张。

【解答】《海国图志》是当时介绍西方历史地理最详实的专著，故 A 项错误；

“西业”、“里勃里先好司”、“勃列西领”等词汇体现出西方的代议制度，《海国图志》中涉及这些外来词汇，反映出它对西方政治体制已有所涉及，故 B 项正确；

早期维新派最早提出中国要学习西方代议制度，《海国图志》作者魏源属于地主阶级抵抗派，故 C 项错误；

为戊戌变法提供了理论基础的是康梁维新思想，故 D 项错误。

故选：B。

【点评】本题旨在考查学生对魏源主要思想主张的了解，考查学生解读史料获取信息的能力。

17. 【分析】本题主要考查中国近代以来物质生活和社会习俗的变迁。

【解答】注意图片信息，画中墙上画作仍属于中国传统山水画，饮食方式仍属传统中式饮食，①④与题意不符；

人物的发型看，已经剪去了发辫，反映了辛亥革命后社会风尚的变化，照明手段看，已经有了电灯，反映了西方文明对近代中国社会生活的影响，②③符合题意。

故选：B。

【点评】本题旨在考查学生对中国近代以来物质生活和社会习俗的变迁的了解，组合型选择题，可用排除法做。

18. 【分析】本题主要考查三大改造的内容。

【解答】人民公社化运动开始于 1958 年，各地农村大办人民公社，家庭（联产）承包责任制开始于 1979 年，以家庭为单位，实行包产到户，自负盈亏，中共八大经济方针是指在综合平衡中稳步前进，都与材料所述情景不符，排除 ABD。1953 - 1956 年新中国开展社会主义改造，其中农业采取合作化的道路，从临时的互助组发展到初级社，再发展到高级农业生产合作社的过渡形式，这与材料所述相符。

故选：C。

【点评】本题旨在考查学生对三大改造内容的理解，考查学生解读史料获取信息的能力。

19. 【分析】本题主要考查现代中国教育事业的发展。

【解答】1977 年，在邓小平等人的主持下，恢复了中断 10 年之久的高考，与题干所述的时间、情景相符，这是教育领域拨乱反正的重要措施，因此选 A。“科教兴国”战略于 1995 年提出，排除 B；十一届三中全会于 1978 年底召开，排除 C；“三个面向”开始于 1983 年邓小平为北京景山学校的题词，排除 D。

故选：A。

【点评】 本题旨在考查学生对现代中国教育事业的发展相关知识点的识记。

20. 【分析】 本题以美国超越邦联阶段，建立联邦制为切入点，考查学生对美国的邦联制和联邦制的掌握，以及学生对材料分析和综合应用能力。

【解答】 独立之初的美国实行松散的邦联，故①正确；1787年宪法规定各州可以在不违背宪法的前提下保留一定的自治权，故②错误；邦联制下，邦联政府没有实权，没有制定统一的关税，美国在欧洲各国的贸易中也常常处于不利地位，经济的发展受到严重影响，故③正确；1787年宪法规定联邦政府拥有统一发行货币权力，有利于经济的有序发展，故④正确，选项D符合题意。

故选：D。

【点评】 本题属于组合型选择题，可采取排除法。本题以材料的形式考查了美国的邦联制和联邦制，解题的关键在于从材料中提取有效信息并与所学知识的有效结合。

21. 【分析】 本题主要考查学生对法国大革命相关知识的掌握。

【解答】 1789年法国大革命前夕，阶级关系处于十分尖锐的对立状态。法国社会被分成三个等级，第一等级是教士、第二等级是贵族，他们属于特权等级，而广大的第三等级却承担着国家的赋税和其他封建义务，第三等级的代表决意反对专制统治，他们要求制订一部宪法，限制王权，实行社会改革，排除A；B在材料中无从体现，而且法国大革命爆发后，代表大资产阶级利益的君主立宪派在人民的支持下掌握了政权，确立了君主立宪制，并没有废除君主制，排除B；拿破仑法典为1797年拿破仑在法国上台执政后公布，时间不符，排除D；图片中三个等级的代表聚在一起，围着象征新宪法的铁床上，喊着“趁热打铁”“努力工作”等，可见C符合题意。

故选：C。

【点评】 本题旨在通过读图的形式考查学生对法国大革命相关知识点的识记。

22. 【分析】 本题考点是选修模块中穆罕默德阿里改革和土耳其的凯末尔改革，要求了解两个改革的内容。

【解答】 比较埃及的穆罕默德阿里改革和土耳其的凯末尔改革的内容，①适合土耳其的凯末尔改革而不符合穆罕默德阿里改革，阿里改革巩固了自身的封建统治，凯末尔改革正式废除了哈里发制度，确立了共和制；②适合穆罕默德阿里改革而不符合土耳其的凯末尔改革，阿里改革为了对外扩张而大力发展军事，排除①②，穆罕默德阿里改革和凯末尔改革都涉及到近代工业和教育问题，③④符合，因此选C。

故选：C。

【点评】 本题考查学生调动和运用知识的能力，主要是了解穆罕默德阿里改革和土耳其的凯末尔改革的内容，注意掌握基础内容，难度不高。

23. 【分析】 本题主要考查马歇尔计划。

【解答】 根据所学知识，杜鲁门主义为美国冷战政策在政治上的表现，苏联采取的对抗措施是1947年成立欧洲共产党和工人党情报局，排除A；

北约组织为美国冷战政策在军事上的表现，苏联采取的对抗措施是 1955 年成立华约组织，排除 C；

针对美国支持下成立德意志联邦共和国，苏联采取的对抗的措施是支持成立民主德国，排除 D；

马歇尔计划为美国冷战政策在经济上的表现，苏联采取的对抗措施是 1949 年成立经济互助委员会，加强社会主义阵营各成员国彼此的经济联系，排斥资本主义经济势力。

故选：B。

【点评】 本题旨在考查学生对马歇尔计划内容的理解。

24. **【分析】** 本题考查：传统美德

中华民族传统美德，是指中国五千年历史流传下来，具有影响，可以继承，并得到不断创新发展，有益于下代的优秀道德遗产。概括起来就是：中华民族优秀的道德品质、优良的民族精神、崇高的民族气节、高尚的民族情感以及良好的民族习惯的总和。

它标志着中华民族的“形”与“魂”。它也是我国人民两千多年来处理人际关系、人与社会关系和人与自然关系的实践的结晶。

【解答】 A 说法错误，传统美德是传统文化的重要组成部分，传播方式多种多样，因此 A 观点错误；

B 说法错误，传统文化应适应时代变迁，赋予传统文化以新的时代内涵，据此可判断 B 观点错误；

C 说法错误，不同地方、不同时代的传统文化，时代背景不一样，C 观点错误；

D 符合题意，我国仁爱宽厚、孝悌友善等传统美德，引起了人们内心的共鸣，体现了 D。

故选：D。

【点评】 解答本题最快的方法为排误法，即排除题肢本身说法错误的选项，即可得出正确答案，这样既节省了考试时间，又提高了正答率。本题难度不大。

25. **【分析】** 本题考查：传统文化的影响；文化与经济

1、传统文化的影响

传统习俗的继承：传统习俗指在一定社会群体中约定俗成的、世代相传的风尚、礼节和习惯，是传统文化的基本形式，对人们的物质生活和精神生活产生持久影响。

2、文化与经济

文化与经济相互交融：

A、在经济发展中，科学技术的作用越来越重要。

B、为推动经济建设，发展教育事业、培养各种高素质人才、提高劳动者素质越来越重要。

C、文化产业迅速崛起，文化消费更加丰富，文化生产力在现代经济的总体格局中的作用越来越突出。

【解答】①符合题意，“天人合一，顺时而食”的古老智慧到今天依然影响着人们的生活，表明传统文化对人们的生活有着持久影响；

②说法错误，民族文化的传承与市场经济没有必然联系；

③说法错误，社会实践是文化创新的源泉和动力；

④符合题意，老字号食品蕴含传统文化，广受人们欢迎，带来了经济效益，体现了文化与经济之间具有相互交融的关系。

故选：D。

【点评】考查学生提取信息、调动所学知识理解和解决问题的能力。注意：一方面要把握材料要阐明的主旨，并和所学知识对应起来，另一方面运用排除法去除错误的选项。

26. **【分析】** 本题考查：意识的内容和本质

不管什么样的意识，都是人脑对客观存在的反映，都是客观存在通过生活和实践的环节进入人脑，并在人脑中加工改造的结果。

意识的形式是主观的，而内容是客观的。

意识是客观存在的主观映像。

【解答】 题中材料“中国早期的时空观念与古代农民的农舍和劳作有关”，说明了中国早期的时空观念是农业文明的产物，故②项符合题意，可以入选；

本题材料中“古代农民从农舍得到空间观念”、“他们由农舍中出入而得到的时间观念”，说明了时空观念是人们对客观存在的主观映像，故③项符合题意，可以入选；

时空观念属于思想意识范畴，来源于社会实践，不能起决定作用，故①④两项表述错误，不能入选。

故选：C。

【点评】 本题是二二制组合式单选题，最简洁的解法，就是排除错误或与题干无关的选项。本题就是排除错误选项，迅速解答。

27. **【分析】** 本题考查：实践是认识的动力

①认识产生于实践的需要。

②实践不断产生新问题、提出新要求，推动人们进行新的探索和研究。

③实践的发展为人们提供日益完备的认识工具，促进人类认识的发展。

④实践锻炼和提高了人的认识能力，从而推动认识的不断深化。

【解答】①说法错误，事物每一阶段的特点不同，而不是特点相同；

②④符合题意，题中“某地在实践中对这“两座山”关系的认识经过了三个阶段”体现了认识过程是一个由浅入深的发展过程，经过实践和认识的多次反复达到了更高境界；

③说法错误，从实践到认识、从认识到实践的循环是一种波浪式的前进和螺旋式的上升，因此认为是“圆圈式的循环运动”的表述有误；

故选：D。

【点评】解答本题最快的方法为排误法，即排除题肢本身说法错误的选项，即可得出正确答案，这样既节省了考试时间，又提高了正答率。本题难度不大。

28. **【分析】**本题考查：政府的作用，政府加强社会建设的职能。

1、政府的作用可概括：管理和服务。

2、加强社会建设的职能。例如，加强公共基础设施、公共文化设施、公共卫生设施等方面的建设；完善市场就业机制，扩大就业规模；建立健全社会保障体系；优化生态环境，防治污染；等等。

【解答】本题考查公民义务和政府职能。政府部门对正确分类和投放的住户进行奖励，居民垃圾分类意识逐步增强。促进了政府管理与社会参与的有机结合，同时通过有效的激励机制提高了居民环保意识，体现了观点①③；

垃圾分类新招是某胡同推出的，并不是市场自发产生的，因此②与材料意思不符合，排除②；

④观点错误，错在“扩大了政府公共服务的职能”，排除④。

故选：A。

【点评】本题是二二制组合式单选题，最简洁的解法，就是排除错误或与题干无关的选项。本题就是排除无关选项和错误选项，迅速解答。

29. **【分析】**本题考查：人大代表的职责

人大代表的职责：

①人大代表的权利：审议权、表决权、提案权、质询权。

②人大代表的义务：协助宪法和法律的实施，与人民群众保持密切联系，听取和反映人民群众的意见和要求，努力为人民服务，对人民负责，并接受人民监督。

【解答】解答本题要注意是逆向选择，要求选出不当行为。

A 不合题意，人大代表在自己的工作要听取和反映人民群众意见和要求，A 是人大代表履行职权的表现；

C 不合题意，是大代表的提案权；

D 不合题意，是从大代表的质询权；

D 符合题意，四个选项中只有 B 项要求立即停产整顿的做法是不当的。

故选：B。

【点评】 本题考查调动和运用知识的能力，属于知识的再认，难度不大。要求考生在复习备考过程中一定要夯实基础知识，强化记忆和理解。

30. **【分析】** 本题考查：对政府权力进行制约和监督的关键

关键是建立健全制约和监督机制。这个机制，一靠民主，二靠法制，二者缺一不可。

具体来说，发挥人民民主对权力的制约和监督，就要切实保障广大人民的选举权、知情权、参与权、监督权，使人民能够有效监督政府权力的运行。加强法制对权力的制约和监督，就要坚持用制度管权、管事、管人，健全咨询、问责、经济责任审计、引咎辞职、罢免等制度。

【解答】 A 村委会是基层群众性自治组织，不是政府，错误，排除；

B 是政府公职人员要切实履行职责，不是对政府权力进行制约和监督，与题意不符，排除；

C 强调制度建设，对政府权力进行监督、制约的关键是建立、健全制约和监督体系，当选

D 强调的是加强思想道德建设，与题意不符，排除。

故选：C。

【点评】 本题为理解型选择题，可以采用释理法解题，就是依据材料提供的事例，对接教材中的相关知识点，题干与题肢之间体现的事理相一致的就选。要特别注意挖掘材料中隐含的意思，对材料进行完整、准确的理解。本题难度适中。

31. **【分析】** 本题考查：中国在联合国中发挥的作用

第一，中国本着自身肩负的重大国际责任，尊重联合国的权威地位，维护宪章的宗旨和原则，积极参加各项活动，在人类和平与发展事业中发挥着建设性作用。

第二，中国坚持以多边主义实现共同安全。

第三，中国坚持以互利合作实现共同繁荣。

第四，中国是联合国改革的最早倡导者和有力支持者之一。

【解答】 ①②正确且符合题意，中国关于推动绿色经济和生态文明建设的提案获得了联合国环境规划署的批准，体现了主动承担国际责任，提出提案是发挥建设性作用的表现，故①②当选；

③说法错误，我国积极倡导国际新秩序，而不是“维持国际社会现状”，排除③；

④与题意无关，材料未涉及倡导联合国改革问题，排除④，

故选：A。

【点评】为了正确验证自己所选的选项是否正确：一可用排除法，排除错误选项；二是正选法，直接选择正确选项，二者结合，相互印证以提高正确率。

32. **【分析】**本题考查：实现收入分配公平的举措、收入是消费的前提和基础

(1) 实现收入分配公平的举措：

①坚持和完善按劳分配为主体、多种分配方式并存的分配制度；

②增加居民收入，提高居民收入在国民收入分配中的比重、劳动报酬在初次分配中的比重，努力实现居民收入增长和经济发展同步、劳动报酬增长和劳动生产率提高同步，是实现社会公平的重要举措；

③再分配更加注重公平是实现社会公平的另一重要举措。要加大再分配调节力度，健全以税收、社会保障、转移支付为主要手段的再分配调节机制，着力解决收入分配差距大的问题。要规范收入分配秩序，保护合法收入，增加低收入者收入，调节过高收入，取缔非法收入。

④大力发展生产力；加强国家宏观调控；坚持科学发展观，统筹城乡、区域发展。

(2) 收入是消费的基础和前提。在其他条件不变的情况下，人们当前可支配收入越多，消费量就越高。要提高居民的生活水平，必须保持经济的稳定增长，增加居民收入。

【解答】①不合题意，恩格尔系数与生活水平呈反向变化，即恩格尔系数越高，说明生活水平越低，显然①错误；

②不合题意，随着收入的增加，生活成本将提高，②不选；

③符合题意，收入增加是建立在经济发展的基础上的，说明北京居民收入努力朝劳动报酬的增加与社会劳动生产率的提高同步这一方向发展；

④符合题意，收入是消费的前提，随着收入的增加，可推断出④。

故选：D。

【点评】本题考查考生对材料的分析理解能力，考生在分析题肢的时候，要结合材料进行思考，排除题肢中和材料无关的选项。解答本题的关键在于对材料的理解和把握，本题难度适中。

33. **【分析】**本题考查：企业债券

企业债券是企业依照法定程序发行，约定在一定时期内还本付息的债券。

企业债券风险高于国债和金融债券，但收益也高于国债和金融债券。因为企业主要以自身经营利润作保证，企业债券的风险与企业经营状况直接相关。一旦企业经营状况不好，连续出现亏损甚至倒闭，就可能无力支付本息。

【解答】本题是一道曲线图，观察图表，我们发现该企业债券利率第一期到第二期是呈上升趋势，而第二期到第三期是呈下降趋势，而且发现国债利率一直是平稳的，因此，债券利率受到风险的影响会发生变化，企业债券利率第二期到第三期是呈下降趋势的原因，新产品受市场欢迎，企业经济效益提高，企业盈利多了，B符合题意。

A、C、D不合题意。

【点评】曲线图选择题重点考查考生解读信息、运用知识、解决问题的能力。它很好地体现了高考对考生综合素质与能力的考查。因此在今后的学习中要加以重视。

34. **【分析】**本题考查：货币政策

(1) 含义：货币政策是指中央银行为实现既定的目标，运用各种工具调节货币供应量来调节市场利率，通过市场利率的变化来影响民间的资本投资，影响总需求来影响宏观经济运行的各种方针政策。

(2) 分类：适度从紧的货币政策（紧缩性）、扩张性货币政策、稳健的货币政策。

①适度从紧的货币政策（紧缩性政策）：提高利率、增加储蓄、提高存款准备率、减少货币供应量、控制货币信贷、抑制投资和消费。

②扩张性货币政策：降低利率、减少存款储蓄、降低存款准备率、增加货币供应量、刺激投资和消费。

③稳健的货币政策：介于扩张性政策和紧缩性政策中间的货币政策，主要是服从服务于改革开放发展大局，服从服务于中央宏观调控大局。

其特点是：合理控制货币信贷总量，既要支持经济发展，又要防止通货膨胀和防范通货紧缩的风险；既要坚持控制投资需求膨胀，又要努力扩大消费需求；既要投资过热的行业降温，又要着力支持经济社会发展中的薄弱环节，促进国民经济的平稳较快发展。

【解答】“自动稳定器”是一种经济调节机制，具有自动稳定宏观经济运行的功能：在经济繁荣时会自动抑制经济增长，在经济衰退时会自动促进经济增长。中央银行的行为就体现了“自动稳定器”功能，应对经济下行，降低商业银行存款准备金率，而ABC则是不可随便变化的，体现不出自动稳定器的功能，D符合题意。

故选：D。

【点评】本题考查考生对材料的分析理解能力，考生在分析题肢的时候，要结合材料进行思考，排除题肢中和材料无关的选项。解答本题的关键在于对材料的理解和把握，本题难度适中。

35. **【分析】**本题考查：马克思的经济危机理论，马克思的剩余价值理论。

(1) 资本主义生产资料私有制和由此决定的资本主义基本矛盾的运动是爆发生产过剩经济危机的根本原因。

(2) 马克思的剩余价值理论的主要内容是：劳动力成为商品是剩余价值生产的前提；剩余价值的生产过程就是劳动过程与价值增殖过程的统一，资本主义生产的实质是生产剩余价值，剩余价值体现资本家对工人的剥削关系；可变资本是剩余价值的真正来源，增加剩余价值生产的方法都是通过提高剩余价值率实现的，基本方法是绝对剩余价值的生产和相对剩余价值的生产。

【解答】①到②起因于“经济危机”现象，故 a 错误；

马克思主义经济学揭示了资本主义生产的实质，故 b 正确；

“滞涨”现象促使②到④，故 c 错误；

社会主义市场经济理论是对马克思主义经济学的继承和发展，故 d 正确。

故选：C。

【点评】解答本题最快的方法为排误法，即排除题肢本身说法错误的选项，即可得出正确答案，这样既节省了答题时间，又提高了正答率。本题难度不大。

36.

【分析】（1）可以从气候特点和地形两方面分析，气候是降水集中，地形平坦。（2）改良农作物品种、采用节水灌溉技术、应加强农业基础设施建设。

（3）环境问题有水污染、水土流失、季节变化加大等，应采取应对措施，要合理规划，加强对旅游区的植被保护，并植树种草，提高植被覆盖率；加强对河水的检测，及时治理，并制定相关的法规；控制旅游人数，减少对旅游区环境的破坏。

（4）应结合京津冀地区的社会经济条件分析产业结构调整方向，并减少污染物的排放，改善环境质量，发展高新技术产业。

【解答】解：（1）从气候特点分析，该流域内降水量偏少且集中夏季，季节和年际变化大，所以使中上游地区平时地表径流量少，暴雨时洪峰流量大，从地形特点分析，中上游地区以山地、高原为主，洪水汇集时间短，因此需修建水库蓄水调节，既能防涝灾，也能防旱灾。下游地区以平原为主，排水不畅；且支流集中汇集于海河，导致排水不畅，因此需要开挖人工河道，主要用于排水泄洪。（2）一方面是改良农作物品种，使农作物适应耐旱环境，积极推广耐旱作物；另一方面，采用节水灌溉技术，推广喷灌、滴灌、微灌等；第三，应加强农业基础设施建设，提高抗旱灾的能力。

（3）河源地区的开发排放的污水和废弃物会增加，使河水污染；植被破坏会使径流量的季节变化增大；水土流失加剧，会使河流的含沙量增加。依据产生问题的原因，应采取应对措施，要合理规划，加强对旅游区的植被保护，并植树种草，提高植被覆盖率；加强对河水的检测，及时治理，并制定相关的法规；控制旅游人数，减少对旅游区环境的破坏。

(4) 应结合京津冀地区的社会经济条件分析产业结构调整方向，并减少污染物的排放，改善环境质量。因京津冀地区高等院校多、科研机构多，应发展生产性服务业、文化创意产业，提高第三产业比重；减少传统工业比重，积极发展高新技术产业；发展新能源、新材料等产业。这样能减少污染源，降低污染物排放。

故答案为：(1) 流域内降水量偏少且集中于夏季，季节和年际变化大。中上游地区以山地、高原为主，平时地表径流量少，暴雨时洪峰流量大，修建水库蓄水调节，可缓解旱涝灾害。下游地区以平原为主，排水不畅，支流集中汇聚于海河，易发生洪涝，开挖人工河道，主要用于排水泄洪。

(2) 推广耐旱作物（调整作物类型、进行品种改良）；应用喷灌、滴灌、微灌等节水技术，发展节水农业；加强农业基础设施建设，提高抵御旱灾的能力。

(3) 问题：河水污染（水质下降）；径流量减少（变化大）；河流含沙量增加。应对措施：例如，合理规划，加强监测，立法管理，控制旅游人数，保护植被，植树种草等。

(4) 发展生产性服务业、文化创意产业；发展高新技术产业；发展新能源、新材料等产业。减少污染源，降低污染物的排放（量）。

【点评】 本题组以小区域为例考查区域图的判读与应用，综合性强，难度适中。要求学生熟练掌握区域自然人文特点的相关知识。

37. **【分析】** (1) 本题考查中外古代对世界的认知。考查各文明对世界认知的共同之处。

(2) 本题考查新航路开辟的影响。考查世界市场的形成历程。

(3) 本题考查中国向西方学习的历程。考查中国的有识之士立足国情、学习外来文化的历程以及中国具有自身特色的成果。

【解答】 (1) 根据材料信息：“周王自称天之子，其所居之地称为中国（即中央之国）”“古希腊人认为，他们的主神宙斯的居住地就是世界中心”“罗马人则说，众神选择并指引罗马成为世界中心”得出各文明都认为神灵在世界中占有统治地位，都认为自己是世界的中心。“上述三个文明对于远离其统治区域的地方则认识模糊”得出三者所能清晰认知的世界范围相对狭小；再结合所学知识，新航路开辟前，世界各大洲相对隔绝，各文明之间缺乏交往和认识。

(2) 阅读图 1 至图 4，并结合所学知识，图 1 反映的是公元 1400 年之前，新航路开辟前，各大洲虽有联系但不密切，世界各地以局部性贸易为主；图 2 反映的是 1400~1800 年间，新航路开辟和殖民扩张开展后，世界各地的经济联系加强，资本主义世界市场初步形成；图 3 反映的是 19~20 世纪，随着工业革命的开展，世界各地的经济联系进一步加强，资本主义世界市场最终形成。图 4 反映的是 20 世纪 90 年以来，随着第三次科技革命的深入开展，经济全球化趋势不断发展。也可从经济全球化的进程、科技进步、国际贸易中心的变化等角度角度进行阐述。

(3) 第一小问结合“洋务运动”、“辛未革命”和“中华人民共和国成立”三个历史事件的内容回答，洋务运动，以学习西方科学技术来维护清朝统治，创办了一批近代企业。辛亥革命主张推翻清政府统治和封建专制制度，

实行民主共和。中国共产党以马列主义、毛泽东思想为指导，经过长期斗争，建立并巩固了中华人民共和国。第一小问结合“洋务运动”、“辛亥革命”和“中华人民共和国成立”三个历史事件的成果回答，洋务运动是中国近代化的开端；辛亥革命推翻了封建君主专制制度，建立了资产阶级共和国，使民主共和观念深入人心；中华人民共和国的成立标志着新民主主义革命的胜利，实现了民族独立，并向社会主义道路过渡。

故答案为：

(1) 各文明都认为神灵在世界中占有统治地位；都认为自己是世界的中心；所能清晰认知的世界范围相对狭小；与其他文明之间缺乏交往和认识。

(2) 示例 1：公元 1400 年之前，古代人类活动分为若干区域，彼此虽有联系但不密切。亚欧大陆间有陆上和海上丝路，但欧亚与非洲、美洲的直接交往较少；贸易以农业和手工业产品为主；世界各地以局部性贸易为主，缺乏稳定的洲际贸易路线。这与生产力水平低下关系密切。

1400 - 1800 年间，随着新航路的开辟和殖民扩张，欧洲人将贸易范围扩展到全世界。他们通过三角贸易从美洲和非洲挤压大量白银、黄金，并用来购买亚洲商品运回欧洲。中国和印度曾经成为白银汇集的中心。世界市场初步形成。

19 - 20 世纪，在工业革命推动下，新的交通手段和贸易路线出现了。英国率先完成工业革命，在世界贸易中居于支配地位。印度和中国等地沦为西方的商品市场和原料产地。资本主义世界经济体系建立起来。

20 世纪 90 年代以来，信息化革命使得世界联系有了突破性发展，网购让洲际贸易更加多样化和便捷化。这一时期美国在世界贸易中保持了领先地位。以中国为代表的新兴经济体迅速发展壮大。

示例 2：从发展程度看，世界贸易经历了从局部、间断、缓慢逐渐向全局、密切、快速的发展过程。古代亚欧大陆间有陆上和海上丝路，贸易以地方物产交换为主，与其他地区联系较少。新航路开辟后，世界联系日益密切。这与殖民扩张、工业革命、世界市场的形成、资本主义世界体系的建立等因素密不可分。世界经济开始呈现出全球化趋势。20 世纪 90 年代后，互联网成为更先进的联系方式。

从贸易过程中反映的科技进步看，古代贸易借助人力和自然力，控制以工业文明成果为主，如轮船、火车等。20 世纪 90 年代后，网购成为更便捷的贸易方式。

从贸易中心的变化看，古代以区域贸易为主，没有世界性贸易中心。1400 - 1800 年间，中国和印度是白银流向的中心，西班牙和葡萄牙一度成为大西洋贸易的中心。工业革命后，巩固成为世界贸易中心，后来美国又取而代之。如今中国在世界贸易中的地位越来越突出。

(3) 参考答案要点：从 19 世纪 60 年代开始，清政府以“自强求富”为目标，掀起洋务运动，以学习西方科学技术为主，创办了一批近代企业。辛亥革命时期，以孙中山为首的革命党人学习西方的民主制度，建立同盟会，提出革命纲领，领导武装起义，推翻了封建帝制。中国共产党以马列主义、毛泽东思想为指导，经过长期斗争，建立并巩固了中华人民共和国。洋务运动的指导思想为“中体西用”，开始了中国近代化的探索。辛亥革命建立了亚洲历史上第一个资产阶级共和国，使民主共和观念深入人心。中华人民共和国的成立标志着新民主主义革命的胜利，中国开始走向社会主义制度道路。

【点评】 本题考查世界市场形成的历程和中国向西方学习的历程。时间跨度大，涉及的知识多，在复习中应注意对这部分知识的掌握。

38. **【分析】** 第（1）问，本题实质上考查文化创新的途径，文化创新的基本途径是推陈出新和博采众长，根本途径是立足社会实践。北京地铁中对传统文化的继承以及在交流中的传播，都为文化创新提供了重要前提。而地铁中各种文化实践活动，则为文化创新提供了根本途径。

第（2）问，北京地铁的调整既要遵循价值规律的要求，也要考虑广大群众的诉求。做本题时，要根据经济学原理及所提供材料中群众的一些看法。尤其是要针对这些群众意见，制定相应方案。

第（3）问，第一个注意事项强调的是进行公示的重要性，主要是保障公民的知情权，使政治参与有序进行；第二个注意事项主要是分析代表广泛性、比例合理性的原因，应从决策民主性、科学性角度思考；第三个注意事项则强调了媒体舆论监督的重要性。

第（4）问，本题主要考查兴建地铁要通过市场化引入民间资本的必要性，要善于挖掘材料及设问中的信息。从“解决供需矛盾”等信息，可以看出能够有利于建设投资、减轻财政负担；从“拓宽民族资本投资领域”等信息，可以看出对优化资源配置的重要意义；从“使政府从地铁投资者和间接经营者转变为部分投资者和监管者”等信息，可以看出使市场与政府的关系更加科学了。

【解答】（1）

①文化在交流的过程中传播，在继承的基础上发展，都包含着文化创新的意义。北京地铁挖掘和展示了北京丰富多彩的文化，北京地铁成为继承和传播北京文化的载体。

②实践是文化创新的根本途径。北京地铁开展多种文化活动，有利于推动北京文化发展。

（2）

提出单一方案（普涨/不涨/降价）或者提出更加综合的方案（多做多付费、上调高峰期票价、实施月票、季票等多种票制、增加地铁线路供给制等）。理由包括：价格变动对需求的影响；地铁作为公共交通工具，具有一定的公共物品性质，会产生社会效益，需要财政适度支持；价格变动与需求弹性；公平原则等。

（3）

①通过公示，保障公民知情权，保证听证会程序正当，有序进行。

②通过保障公民的参与权和表达权，反映民意、集中民智，保证听证会能发现拟定方案中存在的问题，协调各方利益。

③通过舆论监督，保证听证会公开透明、公平公正。

（从其他角度回答，言之有理，酌情给分）

（4）

①能够利用有限的财政资金建设更多的地铁线路，减轻了财政的负担。

②通过拓宽民间资本的投资领域，促进了资源优化配置。

③利用市场规律启动民间投资，处理好政府和市场的关系，促进政府职能的转变。

【点评】（1）本题考查文化生活中有关文化创新的途径的内容，实则考查学生调动和运用基础知识解决问题的能力，目的是让学生通过书本知识来反思试题的内容，解题时要注意对材料的分析。

（2）本题考查经济生活中的相关知识，考查学生获取和解读信息的能力，注意分析中概述的材料与经济原理内在逻辑要一致；且运用经济原理对材料进行较充分的分析。解答本题，应注意要先提出方案，再说明理由，条理要清楚，前后连贯，逻辑严密。

（3）本题考查学生调动和运用知识的能力、论证和探讨问题的能力，注重对学生概括能力和发散思维能力考查，开放性较大，难度较高。解答过程要理清思路，主要从公民参与民主决策的相关知识加以分析。

（4）本题考查学生调动和运用知识的能力、论证和探讨问题的能力，注重对学生概括能力和发散思维能力考查，开放性较大，难度较高。解答时应注意题目要求——结合材料，合理划分材料层次，善于从材料中挖掘有效信息，寻求相关知识点解答。

39. **【分析】**（1）本题是以古语和社会主义核心价值观的相关故事为背景材料，第一问，考查这个故事体现社会主义核心价值观的内容，结合故事，注意相关信息，“店主核对信息后，把皮包归还给他。”“自己挣的钱花的才踏实，不是我们的钱，可不能拿。”等，联系经济生活，可从诚信、友善等角度分析。

（2）第二问，从知行统一的角度，谈谈你对践行社会主义核心价值观的理解。可从实践与认识的关系、社会主义核心价值观的基本要求、重视道德实践、实际行动等知识。

【解答】（1）结合材料从诚信、友善等角度分析。

（2）

①知与行是辩证统一的（实践和认识是辩证统一的）。

②应正确理解和认识社会主义核心价值观的基本要求，把核心价值观内化为自己的精神追求，更要重视道德实践，把践行社会主义核心价值观变成自己的自觉行动，在实践中深化对社会主义核心价值观的认识。

【点评】第（1）问，社会主义核心价值观的内容是教材新增加内容，也是新增考点的内容。我们首先要明确社会主义核心价值观的基本内容包括哪些方面，然后再进行进一步筛选，难度中等。

第（2）问，本题综合考查实践与认识的关系、社会主义核心价值观的内容，解答此题要注意题目的知识范围、题型和关键词语，答案呈现时遵循“书本知识+材料分析”的原则，并做到分层次书写。

40.（1）**【分析】**本题主要考查 20 世纪 30 年代近代中国民族工业发展的相关知识点。

【解答】 本题考查的知识点也为常考内容。关于内迁的缘由可从材料中找出相关信息来作答。根据“日本在上海挑起一·二八事变”“中国重要工厂绝大部分都集中于上海，而内地各省几乎没有工业基础”“满足抗战的物资需要”可得出三点原因。而关于过程，学生阅读材料后半部分可知，主要表现为从沿海迁往武汉再迁往西南，西北。

故答案为：

(1) 原因：中国现代工业多集中在东南沿海地区，分布不平衡；为了支持长期抗战，国民政府决定将工业内迁。

过程：抗战初期企业迁往武汉；武汉失守前又迁往西北、西南等地。

【点评】 本题旨在考查 20 世纪 30 年代近代中国民族工业发展的相关知识点，主要考查学生阅读史料分析史料，并从中提取历史信息的能力。

(2) **【分析】** 对比两地区自然和社会经济条件，从中分析该地区的优势条件。从土地面积对比，川渝地区位于长江上游，土地广阔，地价较低；从资源条件分析，矿产、能源、水力等资源比长江三角洲地区丰富；有国家区域发展新格局，政策的支持；从劳动力分析，人口众多，劳动力资源丰富，且廉价；且市场广阔，经济发展潜力大。

【解答】 解：与长江三角洲地区相比，川渝地区发展的地理优势为位于长江上游，土地广阔（面积大），价格较低；矿产、能源、水力等资源丰富；政策支持；劳动力丰富；市场广阔；经济发展潜力较大。

故答案为：川渝地区位于长江上游，土地广阔（面积大），价格较低；矿产、能源、水力等资源丰富；政策支持；劳动力丰富；市场广阔；经济发展潜力较大。

【点评】 本题难度适中，主要考查了川渝地区发展的地理优势，解题的关键是从图中获取信息和调用相关知识进行解答。

(3) **【分析】** 本题题目类型体现类，知识限定为具体问题具体分析，要求分析建设长江经济带，川渝地区应如何坚持具体问题具体分析的原则。

首先明确具体问题具体分析原则的内涵：在矛盾普遍性原理的指导下，具体分析矛盾的特殊性，并找到解决矛盾的正确方法。

然后要把此内涵与川渝地区的发展结合起来分析。

【解答】 要具体问题具体分析矛盾的特殊性，并找出解决矛盾的正确方法。川渝地区应从实际出发具体分析自己的特殊性，发现与长江经济带其他地区的不同特点，把握自己的优势和劣势，找到具有川渝地区特色的发展道路。

【点评】 解答本题要全面而透彻地阐述具体问题具体分析的内涵，同时，分析中概述的材料与哲学原理内在逻辑要一致；且运用哲学原理对材料进行较充分的分析。

41. (1) **【分析】** 大气污染物由人为源或者天然源进入大气（输入），参与大气的循环过程，经过一定的滞留时间之后，又通过大气中的化学反应、生物活动和物理沉降从大气中去除（输出），如果输出的速率小于输入的速

率，就会在大气中相对集聚，造成大气中某种物质的浓度升高。当浓度升高到一定程度时，就会直接或间接地对人、生物或材料等造成急性、慢性危害，大气就被污染了。

【解答】解：大气污染和大气的垂直运动状况及水平运动状况密切相关，大气对流越旺盛（垂直上升强），越有利于污染物的扩散，反之，垂直下降气流不利于污染物的扩散；大气水平运动（风）越强，越利于污染物扩散，而静风条件不利于污染物扩散。另外，降雨天气利于污染物沉降。

故答案为：英国地处欧洲西部，迎着盛行西风，污染物容易扩散；年降水量丰富，季节分配较均匀，利于污染物沉降；冬季多雾，雾天不利于污染物扩散。

【点评】该题考查了环境污染形成的过程、原因及危害，学生需要认真阅读所给的资料，结合所学知识提取解题信息。

(2) **【分析】**本题主要考查西方国家的福利政策。

【解答】根据材料信息“第二次世界大战给英国经济造成巨大破坏，人民生活水平急剧下降”“英国工党提出了不分阶级，不分贫富，人人都有权享有社会福利的主张，得到越来越多的民众的支持”“工党在大选中获胜”概述英国建立“福利国家”的时代背景。根据材料信息“工党政府首相艾德礼宣布实行《家庭津贴法》《国民保险法》《国民医疗保健法》《国民救济法》等一系列社会保障法”得出以法律形式推行社会保障，再结合二战后国家垄断资本主义在西方国家得到普遍应用等相关知识回答。

故答案为：

背景：第二次世界大战造成英国经济凋敝、人民生活困苦；工党的政治主张赢得社会广泛支持。

方式：以法律形式推行社会保障；实行国家干预。

【点评】本题以英国建立福利国家为切入点，考查学生解读材料信息、调动和运用知识阐释历史事物的能力。