

历史试卷

2023.6

学卷

考生须知	1. 本试卷共 12 页, 24 道小题, 满分 70 分。考试时间为 70 分钟。 2. 在试卷和答题卡上准确填写学校、班级、姓名和教育 ID 号。 3. 试题答案一律填涂或书写在答题卡上, 在试卷上作答无效。 4. 在答题卡上, 选择题用 2B 铅笔作答, 其他试题用黑色字迹签字笔作答。 5. 考试结束后, 将本试卷、答题卡和草稿纸一并交回。
------	--

第一部分 选择题

本部分共 20 题, 每题 1.5 分, 共 30 分。在每题列出的四个选项中, 选出最符合题目要求的一项。

1. 二里头遗址的年代相当于夏王朝后期。在此遗址中发现了前所未见的大型宫殿式建筑基址, 此外还有中、小型地面房基, 以及更多的陷入地下的半地穴、地穴式房屋, 面积最小的勉强可供二三人栖息。以上内容说明夏王朝

- A. 制定了比较成熟的历法
- B. 长期对外征战耗费国力
- C. 社会等级差别十分明显
- D. 实行分封制以巩固疆土


2. 下面一组文物(或文物模型)中, 反映了农业耕作技术水平的有



①司母戊鼎



②战国铁耒



③秦铜权



④汉代耒车(模型)

- A. ①②
- B. ③④
- C. ①③
- D. ②④

3. 《汉书·艺文志》以“游文于六经之中, 留意于仁义之际”来概括春秋战国时期某一家学派的主要特征。下列各项属于该学派主张的是

- A. “无为而治”, 顺应自然
- B. “为政以德”, 爱惜民力
- C. 以法治国, 树立君主权威
- D. “兼爱”“非攻”, 节俭

4. 2023年,“智慧之光——中医药文化展”在国家博物馆开幕。在该展览中有一部重要著作,它发展了中医学的理论和治疗方法,总结了各种疾病的症候。这部著作是
A.《伤寒杂病论》 B.《齐民要术》 C.《本草纲目》 D.《天工开物》
5. 一位同学在观察一幅历史地图时,找到都城是建康;发现图例中的水稻主要种植区标识,以及纺织、制瓷和造船等手工业发达地区的标识,在今江苏、安徽、浙江三省范围内均有所标注。据此判断,这幅历史地图的名称应是
A.《三国鼎立形势》 B.《西晋形势》
C.《江南地区的开发》 D.《北魏迁都》
6. 唐代南方诸郡的贡品,东南地区的物资,通过隋朝时期开凿的大运河经由扬州转运至京都长安。以上内容说明,隋朝大运河在唐代
A. 以扬州为中心,共连接了五大水系 B. 是连接富庶经济地区与国都的纽带
C. 新开凿了扬州直通长安的一段水路 D. 仅供皇帝巡游全国各地以加强统治
7. 贞观十三年,统计户数是312万,开元十四年,近707万,开元二十年,达786万。开元中期米价每斗13文,开元后期稳定在20文以下,“天下无贵物”。社会治安稳定,“远适数千里,不持寸刃”。上述材料可用于说明唐朝
A. 达到鼎盛阶段 B. 重视选拔人才
C. 诗坛气象万千 D. 藩镇割据严重
8. 13世纪的广州声名远播,而不仅仅局限于周边。到13世纪70年代,广州已成为中国海上进出口贸易中心。宋元时期的广州具有这样地位的原因有
①朝廷鼓励海外贸易 ②商帮积极进行商业活动
③海上丝绸之路畅通 ④造船和航海技术的发展
A. ①②③ B. ②③④ C. ①②④ D. ①③④

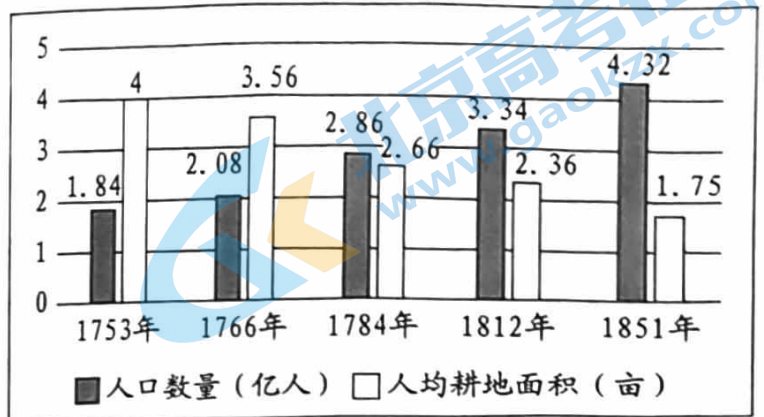
9. 下表中的朝代依次填写正确的是

朝代	_____朝	_____朝	_____朝	_____朝
制度	皇帝制度;中央设丞相、太尉、御史大夫等官职	三省六部制,明确中央机构的职权及决策程序	废除丞相制度和中书省,六部直接向皇帝负责	设立军机处,军政大事完全由皇帝裁决

- A. 秦、汉、元、明 B. 秦、唐、明、清 C. 汉、唐、宋、明 D. 宋、元、明、清

10. 右面是《清朝中期人口数量和人均耕地面积图》，图中数据反映了清朝中期

- A. 中国经济总量居世界首位
- B. 人口增长使人地矛盾突出
- C. 农业生产推动手工业发展
- D. 农村地区出现工商业市镇



11. 下面是 1909 年《京华百二竹枝词》节选。通过这些诗句，我们可以了解

或坐洋车或步行，不施脂粉最文明。衣裳朴素容幽静，程度绝高女学生。
 菜罗中外酒随心，洋式高楼近百寻。门外电灯明似昼，陕西巷深醉琼林。
 新式衣裳夸有根，极长极窄太难论。洋人着服图灵便，几见螭躬不可蹲。

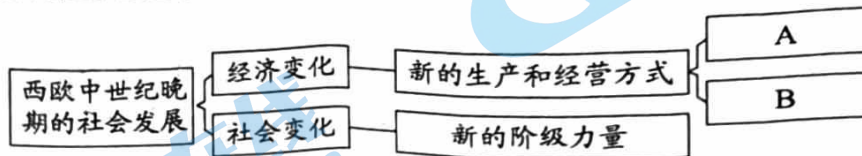
- A. 洋务派创办的近代民用企业
- B. 近代社会生活的变化
- C. 民族工业出现“短暂的春天”
- D. 发展实业的热潮兴起

12. 下面一段文字记录的是当时安徽省委一名干部的亲历。他描述的景象出现的主要原因是

1979 年 5 月的一天，已是深夜 11 点了，在合肥到六安的公路两边，不少农民还在田间紧张忙碌。一对小夫妻对我们说：“政府将土地交给我们承包，生产搞不好，就对不起政府了。现在季节不等人，庄稼早一天下地，就能多收一些粮食。”

- A. 土地改革的实行
- B. 三大改造的完成
- C. 家庭联产承包责任制的实行
- D. 企业获得经营自主权

13. 在一份学生的课堂笔记中有如下图示。该图示中 A 和 B 处应该填写的内容是



- ① 西欧庄园
 - ② 城市法庭
 - ③ 租地农场
 - ④ 手工工场
- A. ①② B. ①③ C. ②④ D. ③④

14. 一部著作中提到：“它使美洲无比丰富的资源供欧洲人掠夺、开发和占有，开始了欧洲海外殖民的血与火的历史，同时也大大促进了欧洲经济的发展……”由此判断，与文中的“它”所指事件紧密关联的人物是

- A. 托勒密
- B. 郑和
- C. 达·伽马
- D. 哥伦布

15. 1688年,伦敦的几位著名人物发送了一封密信给在荷兰的詹姆士二世的女儿玛丽和女婿威廉,邀请他们到英国来保护英国的“宗教、自由和财产”。1688年11月,威廉率军登陆英国并直趋伦敦,詹姆士二世逃往法国。这一事件后,英国
- A. 开始了海外殖民扩张
B. 爆发了内战
C. 逐渐形成君主立宪制
D. 确立共和制

16. 一组数据显示:1870—1900年,世界工业生产指数增加了将近2倍,20世纪初的十三年又增加了60%;1870—1913年,世界贸易总额增加了3.2倍。导致这些变化的因素是
- A. 英国开始第一次工业革命
B. 国际共产主义运动兴起
C. 第二次工业革命的开展
D. 第一次世界大战的结束


17. 1919年召开的某次会议上,战胜国列强带着各自不同的争霸计划与掠夺要求,进行了激烈的争夺。这次会议
- A. 确立凡尔赛体系
B. 签订《九国公约》
C. 决定成立联合国
D. 成立了“欧共体”

18. 以下内容是一位历史人物的部分经历,他是

时间	1869年	1920年	1922年	1930年
事件	出生于一个印度教家庭	号召印度人民开展非暴力不合作运动	决定停止非暴力不合作运动	带领追随者自取海水制盐以反对食盐专卖法

- A. 扎格鲁尔
B. 甘地
C. 卡德纳斯
D. 尼赫鲁

19. 下面图表反映了第二次世界大战中中国抗战的情况。据此可获得的信息有



二战战区总面积	2200万平方千米
中国战区面积	600余万平方千米
1937—1945年,日军在中国战场伤亡130余万,居第二次世界大战中日军在各个战区伤亡人数之首	

- ①中国人民为了战胜日本法西斯作出了极大的牺牲
②1936年广田弘毅上台组阁,亚洲战争策源地形成
③中国为世界反法西斯战争的胜利作出了巨大贡献
④中国战场是世界反法西斯战争的东方主战场

A. ①②③

B. ①②④

C. ①③④

D. ②③④


20. 某班历史兴趣小组搜集到关于“丝绸之路”“中欧班列”“亚洲基础设施投资银行”等相关资料。据此判断他们准备研究的主题是
- A. 两极格局形成
B. 不结盟运动
C. 苏联的改革
D. “一带一路”建设

第二部分 材料分析题

本部分共 4 题,共 40 分。

21. (10 分)广告是社会发展的一面镜子。

材料一

<p>据统计,张择端《清明上河图》画面上仅汴州城东门外附近的十字街口,就有各家商店设置的招牌 30 余块。如卖羊肉的挂着“孙羊店”,卖香料的写着“刘家上色沉檀栳(liàn)香”等。</p> <p>——陈培爱《中外广告史新编》</p>	 <p>宋朝“济南刘家功夫针铺”铜版,是目前已知世界上最早的商标广告。不仅标明铺号,而且以白兔为商品标识,还特别说明是“收买上等钢条,造功夫细针”等。</p>	<p>“今街市与宅院,往往效京师叫声,以市井诸色歌叫卖物之声,采合宫商成其词也。”</p> <p>——吴自牧《梦粱录》 (介绍南宋都城临安城市风貌的著作)</p>
--	---	---

- (1) 依据材料一,归纳宋朝广告的形式。结合所学,简要分析宋朝广告兴盛的原因。

(3 分)

材料二 1872 年,日本第一家专门代理电线杆广告的广告公司成立。电线杆广告这种传播方式醒目;容易让人们加深对广告的印象。创刊于 19 世纪七、八十年代的一些报纸,在早期刊登的广告主要以书籍广告为主,尤其是介绍外国事物、科普知识的书籍广告。

——整理自《日本广告发展史》

- (2) 依据材料二,简述日本在 19 世纪后半期广告业发展的表现。结合所学,说出这一时期广告业发展的时代背景。(2 分)

材料三

序号	材料
①	1979年1月4日,《天津日报》刊登一则牙膏广告,这是改革开放后中国内地发布的第一个商品广告。
②	1979年1月28日,上海电视台播出了第一条商业广告。
③	1979年3月,中央电视台首次播出外国商品广告。
④	1980年元旦,中央人民广播电台播出建台以来第一条商业广告。
⑤	1995年,中央电视台开始黄金段位广告招标。央视广告收入由1993年的5.6亿元飙升至1998年的48亿元。
⑥	1997年,商业性的网络广告出现。
⑦	2005年12月10日起,中国允许设立外资独资广告公司。
⑧	2008年,两家依托央视媒体资源进行代理服务的广告公司,分别在纽约和香港上市。
⑨	2015年,我国社交媒体中信息流广告(基于算法的广告植入)开始出现。
⑩	2021年,全国广告业事业单位和规模以上企业的广告业务收入首次突破1万亿元,同比增长20%。

(3) 从下表观点1和观点2中任选其一,选用材料三中至少两则材料,参照示例进行简要说明。(要求:不得选用示例中的观点和材料)(5分)

观点1	观点2	观点3
改革开放推动了商业广告的兴起	社会主义市场经济体制促进了广告业的发展	计算机网络拓宽了广告传播的途径

示例:

观点3:计算机网络拓宽了广告传播的途径

材料:⑥⑨

说明:20世纪90年代以来,人类社会开始进入信息时代。1997年,商业性的网络广告出现,反映了新的广告传播方式产生。2015年,我国社交媒体中信息流广告开始出现,表明随着互联网的发展,广告传播方式更加丰富。可见,计算机网络技术的发展拓宽了广告传播的途径。

22. (10分) 某班学生以“先贤·先烈·先锋”为主题分组开展研究性学习活动。

【古代先贤故事会】

材料一 令既具，未布，恐民之不信，已乃立三丈之木於国都市南门，募民有能徙置北门者予十金。民怪之，莫敢徙。复曰“能徙者予五十金”。有一人徙之，辄予五十金，以明不欺。卒下令……行之十年，秦民大说，道不拾遗，山无盗贼，家给人足。民勇於公战，怯於私斗，乡邑大治。

——摘自《史记·商君列传》

(1) 依据材料一，指出故事中商鞅的做法主要目的是什么。结合所学，说明商鞅推行的法令对秦国的重要作用。(3分)

【革命先烈小论坛】

材料二 李大钊是我国最早的马克思主义传播者。1918年李大钊发表《法俄革命之比较观》《庶民的胜利》和《布尔什维主义的胜利》，这三篇文章成为五四时期最早宣传社会主义的代表作。1919年李大钊发表《我的马克思主义观》一文，标志着李大钊已从一个具有初步共产主义觉悟的知识分子转变成为一个马克思主义者了。李大钊通过办社团的方式组织进步青年一起学习和传播社会主义理论，还通过讲课、演说等方式直接向学生和民众灌输社会主义的基本原理。

——摘编自龙眠、文华《建党群星》

(2) 依据材料二并结合所学，指出李大钊在中国传播马克思主义受哪些重要历史事件的影响。概括说明李大钊传播马克思主义的方式。(4分)

【英雄模范事迹报告】

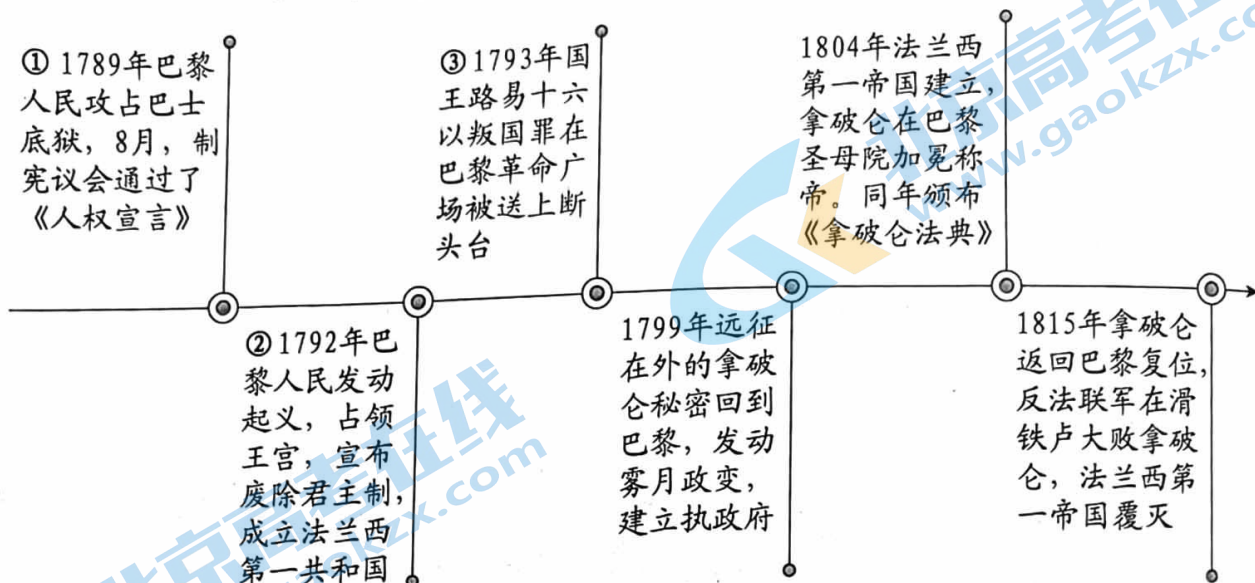
材料三

英雄模范		事迹报告
选自 100 位为新中国成立作出突出贡献的英雄模范人物和 100 位新中国成立以来感动中国人物	陈树湘	主题： 事迹 1： 事迹 2：
	杨靖宇	
	张自忠	
	左权	
	董存瑞	
	黄继光	
	王进喜	
	焦裕禄	
	邓稼先	
	袁隆平	

(3) 依据材料三并结合所学,选择上表中至少两个英模人物,结合他们的事迹归结一个主题,将上表补充完整。(3分)

23. (11分)城市为人类的社会活动提供了重要空间,见证了历史的发展。

材料一 法国巴黎的时代印记



(1)依据材料一并结合所学,从①—③中至少选取一个事件,说明法国大革命的重要意义。结合所学,说出《拿破仑法典》制定的目的及世界影响。(4分)

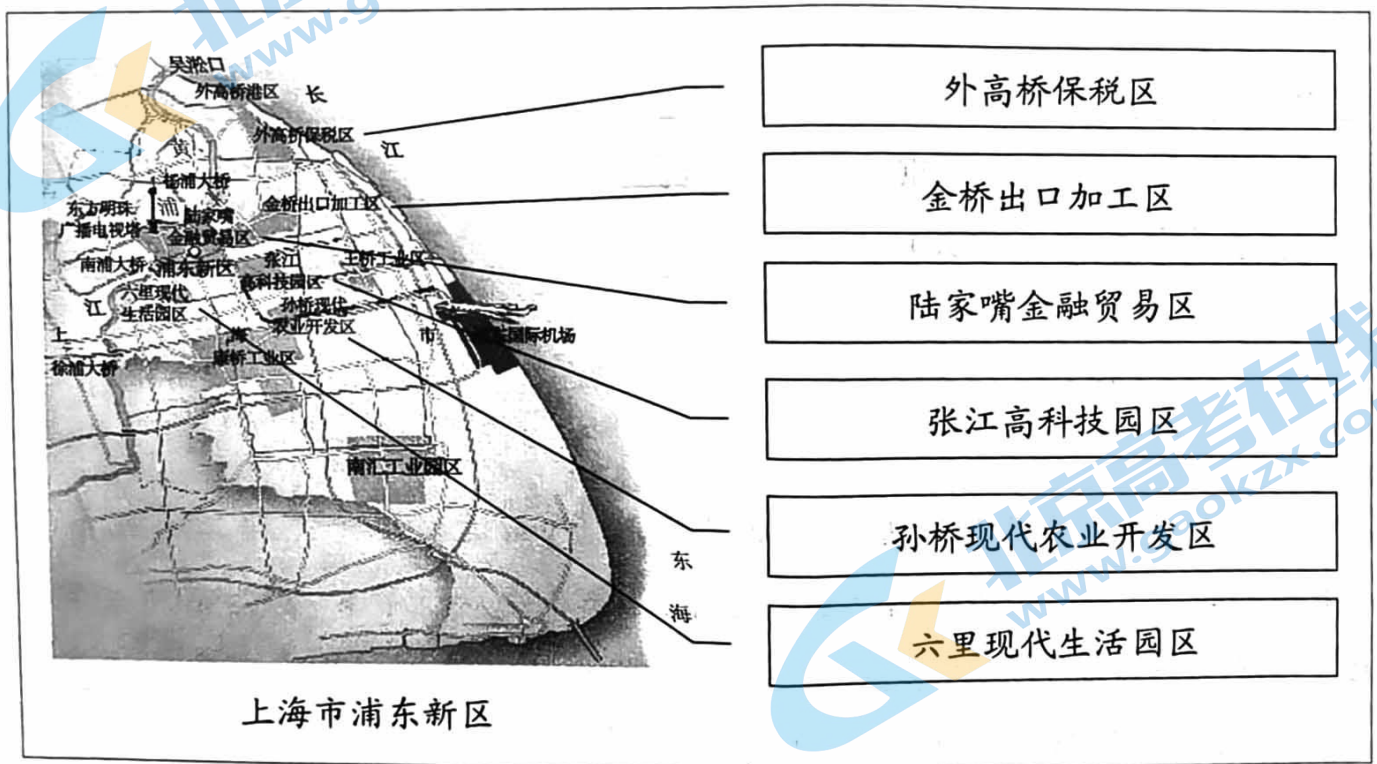
材料二 印度尼西亚万隆的历史性会议

(1955年4月第一次亚非会议在万隆举行,周恩来率中国代表团参加。)这次会议由印度、印度尼西亚、缅甸、锡兰(斯里兰卡)、巴基斯坦五国发起,参加会议的还有阿富汗、埃及、日本等20个国家。当时这些国家中只有6个亚洲国家与中国有外交关系,5个发起国中的锡兰尚未和中国建交,两国只有贸易关系,没有一个非洲国家和中国建交。从万隆会议结束到1964年,同中国建交的49个国家中,亚非民族主义国家已达30个。

——整理自中华人民共和国外交部档案

(2) 依据材料二,指出万隆会议前后新中国的外交局面发生的变化。结合所学,概述周恩来率中国代表团在万隆会议上用怎样的表现促进会议的圆满成功。(4分)

材料三 上海浦东的开发开放



1990年,党中央、国务院批准开发开放浦东,由此掀开了我国改革开放向纵深推进的崭新篇章。这不仅促进了上海的迅速发展,而且对长江三角洲以及整个长江流域乃至全国的改革开放和经济发展产生了强大的辐射和带动作用。

——摘编自《中国共产党简史》

(3) 依据材料三,概括浦东的开发开放有何特点。结合所学,说出浦东的崛起对我国改革开放向纵深推进的重要作用。(3分)

24. (9分) 文献典籍与北京。

材料一

《燕京岁时记》，清末富察敦崇著，是一部记录清代北京一年四季风俗的杂记。

下表为该书目录(部分)。

正月	元旦,花儿市, 耍耗子、耍猴儿、跑旱船	七月	鹊填桥,枣、葡萄
二月	龙抬头,春分	八月	中秋,月饼,兔儿爷摊子
三月	三月三,蟠桃宫	九月	九月九,花糕
四月	榆钱糕,玫瑰花	十月	风筝、毽儿、太平鼓、空竹, 蛐蛐儿、咕咕儿
五月	菖蒲、艾子,石榴	十一月	冬至,溜冰鞋
六月	酸梅汤,西瓜	十二月	腊八粥,春联,除夕,年夜饭,压岁钱

(1) 依据材料一,概括《燕京岁时记》这部著作的特点。简要归纳这部著作所记载内容有哪些类别。(4分)

材料二 北京大学图书馆古籍编目工作人员,新近发现清光绪二十五年(1899年)刊印的《大学堂书目》等珍贵文献,表明在1900年庚子事变之前,京师大学堂藏书楼已有两任提调(当时的图书馆长),其藏书规模已经达到将近5万册。这些文献印证了京师大学堂藏书楼在1898年与京师大学堂同步开办的史料记载,支持了相关学者的研究结论,将京师大学堂藏书楼的创建年从目前认定的1902年上溯到了1898年。

——摘编自姚伯岳《在古籍编目中发现京师大学堂藏书楼的源头》

(2) 依据材料二,指出《大学堂书目》等珍贵文献发现的重要价值。结合所学,简述京师大学堂的创办及与北京大学的渊源。(3分)

材料三 国家典籍博物馆官网部分板块内容

简介

2012年国家图书馆加挂“国家典籍博物馆”牌子,国家典籍博物馆正式成立。它是中华典籍文物的收藏中心,典籍文化的展示中心、交流中心、研究中心和保护中心,青少年中华优秀传统文化教育基地。

社会教育

(典籍课堂、讲座、研学游、小小讲解员)



新近展览



虚拟展厅

- 从《诗经》到《红楼梦》——那些年我们读过的经典
- 从莎士比亚到福尔摩斯：大英图书馆的珍宝
- 问祖寻根——姓氏文化主题展
- 甲骨文记忆展

(3) 依据材料三,概括国家典籍博物馆为古籍的保护与宣传教育作出的贡献。(2分)

历史试卷参考答案及评分标准

2023.6

第一部分 选择题(共 30 分)

题号	1	2	3	4	5	6	7	8	9	10
答案	C	D	B	A	C	B	A	D	B	B
题号	11	12	13	14	15	16	17	18	19	20
答案	B	C	D	D	C	C	A	B	C	D

第二部分 材料分析题(共 40 分)

21. (10 分)

(1)形式:招牌广告、印刷广告、叫卖广告(沿街叫卖)等。(写出其中 2 点即可,2 分)

原因:宋朝商业贸易繁荣;都市文化生活丰富多彩。(1 分)

(2)表现:成立专门的广告公司;通过报纸刊登广告;采用电线杆广告加深人们对广告的印象等。(1 分)背景:日本明治维新,大力发展近代经济,提倡向西方学习,直接带动了广告业的兴起。(1 分)

(3)价值观正确,材料选取恰当,史论结合,表述清晰即可。(5 分)

22. (10 分)

(1)目的:获得秦国百姓的信任,推进变法成功。(1 分)作用:使秦国的国力大为增强,提高了军队的战斗力,一跃成为最强盛的诸侯国,为以后秦国统一全国奠定了基础。(2 分)

(2)事件:俄国十月革命、五四运动。(2 分)

方式:发表文章和译著;建立社团;开设课程;对民众演讲等。(答出其中 2 点即可,2 分)

(3)答案示例:主题:在抗日战争中爱国将士为国捐躯。(1 分)事迹 1:九一八事变后,中国共产党派杨靖宇在东北组织游击队,开展抗日游击战争。在艰苦卓绝的战斗中,最终壮烈牺牲。(1 分)事迹 2:在枣宜会战中,第三十三集团军总司令张自忠上将壮烈殉国。(1 分)

23. (11 分)

(1)意义:答案示例:1792 年巴黎人民发动起义,法国宣布废除君主制,成立法兰西第一共和国;1793 年国王路易十六被送上断头台。以上事件反映了法国大革命摧毁了君主

关注北京高考在线官方微信:北京高考资讯(微信号:bjgkzx),获取更多试题资料及排名分析信息。

统治,资产阶级开始掌握政权。(或《人权宣言》体现了启蒙思想,它的颁布体现了法国大革命传播了资产阶级自由民主思想,具有世界性影响。)(2分)

目的:整理革命以来的立法成果。(1分)

影响:许多国家的民法都以它为参照蓝本。(1分)

(2)变化:从只有与少数亚洲国家建交到1964年与亚非国家建交占建交国的绝大多数。(2分)

表现:周恩来提出的“求同存异”的方针,促进了会议的圆满成功;周恩来在会议期间展现了出色的外交才能和魅力,赢得了普遍赞誉。(2分)

(3)特点:外向型、多功能、现代化。(答出其中1点即可,1分)

作用:浦东已成为令世人瞩目的国际经济、金融和贸易中心之一,不仅促进上海的迅速发展,而且对长江三角洲以及整个长江流域乃至全国的改革开放和经济发展都有强大的辐射和带动作用。(2分)

24.(9分)

(1)特点:是一部按时间顺序记录清代北京风俗的杂记。(2分)

类别:节日传统;民间驯兽、艺人表演;传统饮食;儿童游戏玩具;节气;宠物饲养等。(答出其中2点即可,2分)

(2)价值:印证了京师大学堂藏书楼与京师大学堂同步开办的有关史料记载及学者研究结论。(1分)京师大学堂创办于百日维新期间,辛亥革命后改为北京大学。(2分)

(3)收藏中华典籍文物;组织系列展览,挖掘古籍中蕴含的中华优秀传统文化;开展社会教育活动,向青少年普及典籍文化,提升他们古籍保护意识;注重中外交流,向世界展示中国典籍文化;依托现代技术,创新展陈方式等。(答出其中2点即可,2分)

关于我们

北京高考在线创办于 2014 年，隶属于北京太星网络科技有限公司，是北京地区极具影响力的中学升学服务平台。主营业务涵盖：北京新高考、高中生涯规划、志愿填报、强基计划、综合评价招生和学科竞赛等。

北京高考在线旗下拥有网站门户、微信公众平台等全媒体矩阵生态平台。平台活跃用户 40W+，网站年度流量数千万量级。用户群体立足于北京，辐射全国 31 省市。

北京高考在线平台一直秉承 “精益求精、专业严谨” 的建设理念，不断探索 “K12 教育+互联网+大数据” 的运营模式，尝试基于大数据理论为广大中学和家长提供新鲜的高考资讯、专业的高考政策解读、科学的升学规划等，为广大高校、中学和教科研单位提供 “衔接和桥梁纽带” 作用。

平台自创办以来，为众多重点大学发现和推荐优秀生源，和北京近百所中学达成合作关系，累计举办线上线下升学公益讲座数百场，帮助数十万考生顺利通过考入理想大学，在家长、考生、中学和社会各界具有广泛的口碑影响力

未来，北京高考在线平台将立足于北京新高考改革，基于对北京高考政策研究及北京高校资源优势，更好的服务全国高中家长和学生。



微信搜一搜

北京高考资讯