

2024 届高三三年级 2 月份大联考

数学试题

本试卷共 4 页,19 题。全卷满分 150 分。考试用时 120 分钟。

注意事项:

1. 答题前,先将自己的姓名、准考证号填写在答题卡上,并将准考证号条形码粘贴在答题卡上的指定位置。

2. 选择题的作答:每小题选出答案后,用 2B 铅笔把答题卡上对应题目的答案标号涂黑。写在试题卷、草稿纸和答题卡上的非答题区域均无效。

3. 非选择题的作答:用签字笔直接写在答题卡上对应的答题区域内。写在试题卷、草稿纸和答题卡上的非答题区域均无效。

4. 考试结束后,请将本试题卷和答题卡一并上交。

一、选择题:本题共 8 小题,每小题 5 分,共 40 分。在每小题给出的四个选项中,只有一项是符合题目要求的。

1. 已知集合 $A = \{x \in \mathbf{Z} \mid x^2 \leq 5\}$, $B = \{-3, -2, -1, 0, \frac{1}{2}, 1\}$, 则 $A \cup B$ 中元素的个数为

- A. 4 B. 5 C. 6 D. 7

2. 已知在 $\triangle ABC$ 中, $AB=2$, $AC=1$, $\cos A = \frac{5}{6}$, 则 $BC =$

- A. 1 B. $\frac{\sqrt{5}}{2}$ C. $\frac{\sqrt{5}}{3}$ D. $\frac{\sqrt{15}}{3}$

3. 若 $(a-2b)^{20} = x_0 a^{20} + x_1 a^{19} b + x_2 a^{18} b^2 + \dots + x_{19} a b^{19} + x_{20} b^{20}$, 则 $x_{19} =$

- A. -20 B. -20×2^{19} C. -2^{19} D. 20×2^{19}

4. 若 $\sin \alpha = -\frac{\sqrt{3}}{2}$, $\alpha \in (-\frac{3\pi}{2}, -\frac{\pi}{2})$, 则 $\alpha =$

- A. $-\frac{2\pi}{3}$ B. $-\frac{3\pi}{4}$ C. $-\frac{5\pi}{4}$ D. $-\frac{4\pi}{3}$

5. 若定义在 \mathbf{R} 上的函数 $f(x)$ 满足 $f(x^2) = -f(-x^2)$, 则下列结论一定正确的为

- A. $f(x)$ 的图象关于原点对称 B. $f(x)$ 的图象关于 y 轴对称
C. $f(x)$ 的图象关于点 $(1, 0)$ 对称 D. $f(x)$ 的图象关于直线 $x=1$ 对称

6. 已知点 P 是曲线 $\Gamma: \frac{x^2}{4} - \frac{y^2}{4} = 1$ 在第一象限内的一点, A 为 Γ 的左顶点, R 为 PA 的中

点, F 为 Γ 的右焦点. 若直线 OR (O 为原点) 的斜率为 $\sqrt{5}$, 则 $\triangle PAF$ 的面积为

- A. $\sqrt{10} + \sqrt{5}$ B. $\sqrt{10} - \sqrt{5}$
C. $3\sqrt{2} + 3$ D. $3\sqrt{2} - 3$

7. 在某电路上有 C, D 两个独立工作的元件, 每次通电后, 需要更换 C 元件的概率为 0.2, 需要更换 D 元件的概率为 0.1, 则在某次通电后 C, D 有且只有一个需要更换的条件下, C 需要更换的概率是

- A. $\frac{3}{10}$ B. $\frac{1}{50}$ C. $\frac{9}{13}$ D. $\frac{3}{4}$

8. 在各棱长都为 2 的正四棱锥 $V-ABCD$ 中, 侧棱 VA 在平面 VBC 上的射影长度为

A. $\frac{2\sqrt{6}}{3}$

B. $\frac{2\sqrt{3}}{3}$

C. $\sqrt{3}$

D. 2

二、选择题: 本题共 3 小题, 每小题 6 分, 共 18 分. 在每小题给出的选项中, 有多项符合题目要求. 全部选对的得 6 分, 部分选对的得 3 分, 有选错的得 0 分.

9. 若 z 满足 $z + \bar{z} = 6$, $|z| = |z - 2i|$, 则

A. z 的实部为 3

B. z 的虚部为 1

C. $\frac{z}{3-i} = \frac{1-3i}{2}$

D. z 对应的向量与实轴正方向夹角的正切值为 3

10. 已知 $a = (2, 1)$, $b = (1, -1)$, $c = (x, 2)$, 则

A. 若 $x=0$, 则存在唯一的实数 p, q , 使得 $a = pb + qc$

B. 若 $x=1$, 则 $a \perp c$

C. 若 $x=4$, 则 $a \parallel c$

D. 若 $x=1$, 则 c 在 b 上的投影向量为 $(-\frac{1}{2}, \frac{1}{2})$

11. 若过点 (a, b) 可作曲线 $f(x) = x^2 \ln x$ 的 n 条切线 ($n \in \mathbb{N}$), 则

A. 若 $a \leq 0$, 则 $n \leq 2$

B. 若 $0 < a < e^{-\frac{3}{2}}$, 且 $b = a^2 \ln a$, 则 $n = 2$

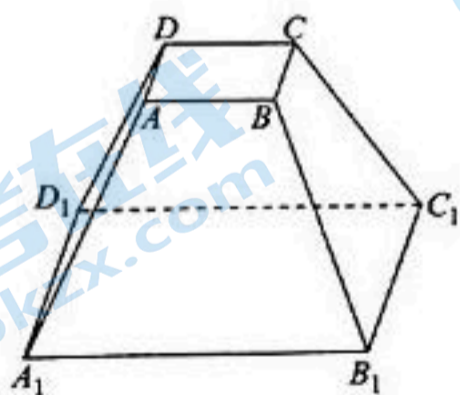
C. 若 $n = 3$, 则 $a^2 \ln a < b < 2ae^{-\frac{3}{2}} + \frac{1}{2}e^{-3}$

D. 过 $(e^{-\frac{3}{2}}, -6)$, 仅可作 $y = f(x)$ 的一条切线

三、填空题: 本题共 3 小题, 每小题 5 分, 共 15 分.

12. 如图是一个正四棱台 $ABCD-A_1B_1C_1D_1$, 已知正四棱台的上、下底面的边长分别为 2 和

6, 体积为 $\frac{104\sqrt{2}}{3}$, 则侧面积为 _____.



13. 在数列 $\{a_n\}$ 中, $a_1 = 3$, 且 $a_{n+1} = 3a_n + 4n - 6$ ($n \in \mathbb{N}^*$), 则 $\{a_n\}$ 的通项公式为 _____.

14. 若圆 C 与抛物线 $\Gamma: y = \frac{x^2}{6}$ 在公共点 B 处有相同的切线, 且 C 与 y 轴切于 Γ 的焦点 A ,

则 $\sin \frac{\angle ACB}{2} =$ _____

四、解答题：本题共 5 小题，共 77 分。解答应写出必要的文字说明，证明过程或演算步骤。

15. (本小题满分 13 分)

某小区在 2024 年的元旦举办了联欢会，现场来了 1 000 位居民。联欢会临近结束时，物业公司从现场随机抽取了 20 位幸运居民进入摸奖环节，这 20 位幸运居民的年龄用随机变量 X 表示，且 $X \sim N(45, 225)$ 。

(1) 请你估计现场年龄不低于 60 岁的人数(四舍五入取整数)；

(2) 奖品分为一等奖和二等奖，已知每个人摸到一等奖的概率为 40%，摸到二等奖的概率为 60%，每个人摸奖相互独立，设恰好有 n ($0 \leq n \leq 20$) 个人摸到一等奖的概率为 $P(n)$ ，求当 $P(n)$ 取得最大值时 n 的值。

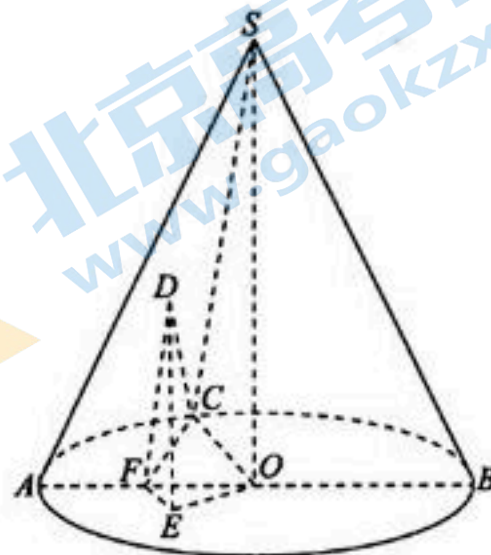
附：若 $X \sim N(\mu, \sigma^2)$ ，则 $P\{|X - \mu| < \sigma\} = 0.6827$ ， $P\{|X - \mu| < 2\sigma\} = 0.9545$ 。

16. (本小题满分 15 分)

如图，在圆锥 SO 中，若轴截面 SAB 是正三角形， C 为底面圆周上一点， F 为线段 OA 上一点， D (不与 S 重合) 为母线上一点，过 D 作 DE 垂直底面于 E ，连接 OE ， EF ， DF ， CF ， CD ，且 $\angle COF = \angle EFO$ 。

(1) 求证：平面 $SCO \parallel$ 平面 DEF ；

(2) 若 $\triangle EFO$ 为正三角形，且 F 为 AO 的中点，求平面 CDF 与平面 DEF 夹角的余弦值。



17. (本小题满分 15 分)

设函数 $f(x) = \ln x + a(x-1)(x-2)$, 其中 a 为实数.

(1) 当 $a=1$ 时, 求 $f(x)$ 的单调区间;

(2) 当 $f(x)$ 在定义域内有两个不同的极值点 x_1, x_2 时, 证明: $f(x_1) + f(x_2) > \frac{5}{9} + \ln \frac{9}{16}$.

18. (本小题满分 17 分)

在直角坐标系 xOy 中, 已知 $C_1(-1, 0), C_2(1, 0), P(x, y), 4 \overrightarrow{C_1P} \cdot \overrightarrow{C_2P} = 3x^2$.

(1) 求点 P 的轨迹 C 的方程;

(2) 设直线 l 不过坐标原点且不垂直于坐标轴, l 与 C 交于 A, B 两点, 点 $M(x_0, y_0)$

$(x_0, y_0 \neq 0)$ 为弦 AB 的中点. 过点 M 作 l 的垂线交 C 于 D, E, N 为弦 DE 的中点.

① 证明: l 与 ON 相交;

② 已知 l 与直线 ON 交于 T , 若 $\overrightarrow{ON} = \lambda \overrightarrow{NT} (\lambda > 0)$, 求 λ 的最大值.

19. (本小题满分 17 分)

在无穷数列 $\{a_n\}$ 中, 令 $T_n = a_1 a_2 \cdots a_n$, 若 $\forall n \in \mathbb{N}^*, T_n \in \{a_n\}$, 则称 $\{a_n\}$ 对前 n 项之积是封闭的.

(1) 试判断: 任意一个无穷等差数列 $\{a_n\}$ 对前 n 项之积是否是封闭的?

(2) 设 $\{a_n\}$ 是无穷等比数列, 其首项 $a_1 = 2$, 公比为 q . 若 $\{a_n\}$ 对前 n 项之积是封闭的, 求出 q 的两个值 (若多求, 则按前 2 个计分);

(3) 证明: 对任意的无穷等比数列 $\{a_n\}$, 总存在两个无穷数列 $\{b_n\}$ 和 $\{c_n\}$, 使得 $a_n = b_n \cdot c_n (n \in \mathbb{N}^*)$, 其中 $\{b_n\}$ 和 $\{c_n\}$ 对前 n 项之积都是封闭的.

2024 届高三年级 2 月份大联考

数学参考答案及解析

一、选择题

1. D 【解析】因为 $A = \{x \in \mathbf{Z} \mid x^2 \leq 5\} = \{x \in \mathbf{Z} \mid -\sqrt{5} \leq x \leq \sqrt{5}\} = \{-2, -1, 0, 1, 2\}$, $B = \{-3, -2, -1, 0, \frac{1}{2}, 1\}$, 所以 $A \cup B = \{-3, -2, -1, 0, \frac{1}{2}, 1, 2\}$ 中元素的个数为 7. 故选 D.

2. D 【解析】由余弦定理得 $BC^2 = 2^2 + 1^2 - 2 \times 2 \times 1 \times \frac{5}{6} = \frac{5}{3}$, 所以 $BC = \frac{\sqrt{15}}{3}$, 故选 D.

3. B 【解析】 $x_{19} = C_{20}^{19} (-2)^{19} = -20 \times 2^{19}$, 所以 B 正确. 故选 B.

4. A 【解析】因为 $\sin \alpha = -\frac{\sqrt{3}}{2}$, 所以 $\alpha = 2k\pi + \frac{4\pi}{3}$ 或 $\alpha = 2k\pi + \frac{5\pi}{3}$ ($k \in \mathbf{Z}$), 因为 $\alpha \in (-\frac{3\pi}{2}, -\frac{\pi}{2})$, 所以 $\alpha = -\frac{2\pi}{3}$. 故选 A.

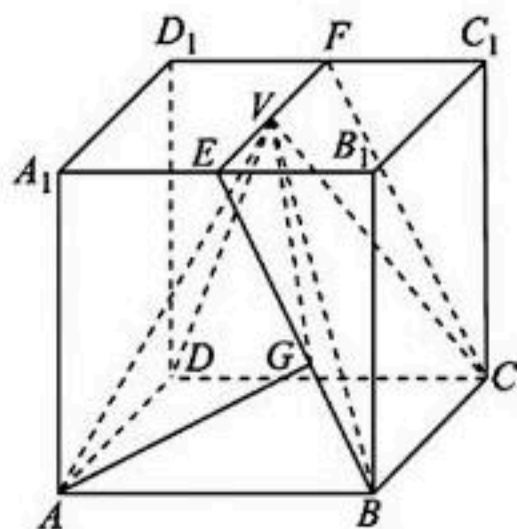
5. A 【解析】若 $\forall t \in \mathbf{R}$, 当 $t > 0$ 时, 令 $t = x^2$, 因为 $f(x^2) = -f(-x^2)$, 所以 $f(t) = -f(-t)$, 即 $f(-t) = -f(t)$; 当 $t = 0$ 时, 令 $t = x^2 = 0$, 因为 $f(x^2) = -f(-x^2)$, 所以 $f(0) = -f(-0)$, 即 $f(0) = 0$; 当 $t < 0$ 时, 令 $t = -x^2$, 因为 $f(x^2) = -f(-x^2)$, 所以 $f(-t) = -f(t)$, 综上, $\forall t \in \mathbf{R}$, $f(-t) = -f(t)$, 所以 $f(x)$ 是奇函数, 所以 A 正确; 若 $f(x) = x$, 则 $f(x^2) = -f(-x^2)$ 成立, 但 B、C、D 都不成立. 故选 A.

6. A 【解析】设 $P(x_0, y_0)$, $x_0 > 0, y_0 > 0$, 所以 $R(\frac{x_0-2}{2}, \frac{y_0}{2})$, $x_0^2 - y_0^2 = 4$, 因为直线 OR 的斜率为 $\sqrt{5}$, 所以 $\frac{y_0}{x_0-2} = \sqrt{5}$, 化简得, $y_0 = \sqrt{5}(x_0-2)$, 与

以 P 点的坐标为 $(3, \sqrt{5})$, 又 $F(2\sqrt{2}, 0)$, 所以 $\triangle PAF$ 的面积为 $\frac{2\sqrt{2} - (-2)}{2} \times \sqrt{5} = \sqrt{10} + \sqrt{5}$. 故选 A.

7. C 【解析】记事件 E: 在某次通电后 C、D 有且只有一个需要更换, 事件 F: C 需要更换, 则 $P(E) = 0.2 \times (1-0.1) + (1-0.2) \times 0.1 = 0.26$, $P(EF) = 0.2 \times (1-0.1) = 0.18$, 由条件概率公式可得 $P(F|E) = \frac{P(EF)}{P(E)} = \frac{0.18}{0.26} = \frac{9}{13}$. 故选 C.

8. B 【解析】把正四棱锥 $V-ABCD$ 放入正四棱柱 $ABCD-A_1B_1C_1D_1$ 中, 则 V 是上底面的中心, 取 A_1B_1 的中点 E, C_1D_1 的中点 F, 连接 EF, BE, CF, 由图可知, 过 A 作 $AG \perp BE$, 垂足为 G, 在正四棱柱 $ABCD-A_1B_1C_1D_1$ 中, $BC \perp$ 平面 ABB_1A_1 , $AG \subset$ 平面 ABB_1A_1 , 所以 $BC \perp AG$, $BC \cap BE = B$, $BC, BE \subset$ 平面 EFCB, 所以 $AG \perp$ 平面 EFCB, 所以侧棱 VA 在平面 VBC 上的射影为 VG, 由已知得, $AA_1 = \sqrt{2}$, $EB = \sqrt{AA_1^2 + (\frac{AB}{2})^2} = \sqrt{3}$, 所以 $\frac{1}{2} \times 2 \times \sqrt{2} = \frac{1}{2} \times \sqrt{3} \cdot AG$, 所以 $AG = \frac{2\sqrt{2}}{\sqrt{3}}$, 所以 $VG = \sqrt{VA^2 - AG^2} = \sqrt{2^2 - (\frac{2\sqrt{2}}{\sqrt{3}})^2} = \frac{2\sqrt{3}}{3}$. 故选 B.



二、选择题

9. AB 【解析】设 $z = a + bi (a, b \in \mathbf{R})$, 因为 $z + \bar{z} = 6$, 所以 $2a = 6$, 所以 $a = 3$. $|z| = |z - 2i| \Rightarrow \sqrt{a^2 + b^2} = \sqrt{a^2 + (b-2)^2}$, 解得 $b = 1$, 所以 $z = 3 + i$, 所以 A, B 正确; $\frac{z}{3-i} = \frac{3+i}{3-i} = \frac{(3+i)^2}{(3-i)(3+i)} = \frac{8+6i}{10} = \frac{4+3i}{5}$, 所以 C 错误; 因为 z 对应的向量坐标为 $(3, 1)$, 所以 z 对应的向量与实轴正方向夹角的正切值为 $\frac{1}{3}$, 所以 D 错误. 故选 AB.

10. ACD 【解析】A: 当 $x = 0$ 时, $b = (1, -1), c = (0, 2)$ 不共线, 所以 b, c 可以作为一组基向量, 由平面向量基本定理得, 存在唯一的实数 p, q 使得 $a = pb + qc$, 所以 A 正确; B: 若 $x = 1$, 则 $a \cdot c = (2, 1) \cdot (1, 2) = 4 \neq 0$, 所以 $a \perp c$ 不成立, 所以 B 错误; C: 若 $x = 4, a = (2, 1), c = (4, 2)$, 则 $a = \frac{1}{2}c$, 所以 $a \parallel c$, 所以 C 正确; D: 若 $x = 1$, 则 $c = (1, 2)$, 所以 c 在 b 上的投影向量为 $\frac{c \cdot b}{|b|^2} \cdot b = \frac{-1}{2} \cdot (1, -1) = (-\frac{1}{2}, \frac{1}{2})$, 所以 D 正确. 故选 ACD.

11. ABD 【解析】设切点 $(x_0, x_0^2 \ln x_0)$, 则 $f'(x_0) = 2x_0 \ln x_0 + x_0$, 切线为 $y - x_0^2 \ln x_0 = (2x_0 \ln x_0 + x_0)(x - x_0)$, 代入 (a, b) 整理得 $(2x_0 \ln x_0 + x_0)a - x_0^2 \ln x_0 - x_0^2 - b = 0$, 令 $g(x) = (2x \ln x + x)a - x^2 \ln x - x^2 - b, g'(x) = (2 \ln x + 3)a - 2x \ln x - 3x = (2 \ln x + 3) \cdot (a - x)$, 令 $g'(x) = 0$ 得 $x_1 = a, x_2 = e^{-\frac{3}{2}}$. 当 $a \leq 0$ 时, $g(x)$ 在 $(0, e^{-\frac{3}{2}})$ 上单调递增, 在 $(e^{-\frac{3}{2}}, +\infty)$ 上单调递减, $g(e^{-\frac{3}{2}}) = -2a \cdot e^{-\frac{3}{2}} + \frac{1}{2} \cdot e^{-3} - b, g(x)$ 至多有 2 个零点, 故 A 正确; 当 $a \in (0, e^{-\frac{3}{2}})$ 时, $g(x)$ 在 $(0, a), (e^{-\frac{3}{2}}, +\infty)$ 上单调递减, 在 $(a, e^{-\frac{3}{2}})$ 上单调递增, $g(a) = a^2 \ln a - b$,

$g(e^{-\frac{3}{2}}) = -2ae^{-\frac{3}{2}} + \frac{1}{2} \cdot e^{-3} - b$, 当 $b = a^2 \ln a$ 时, $g(a) = 0$, 且 $x \rightarrow +\infty$ 时, $g(x) \rightarrow -\infty$, 所以 $n = 2$, B 正确; 若 $n = 3$, 则 $g(a) < 0 < g(e^{-\frac{3}{2}})$, 即 $a^2 \ln a < b < -2ae^{-\frac{3}{2}} + \frac{1}{2}e^{-3}$, 同理当 $a > e^{-\frac{3}{2}}$ 时, $g(e^{-\frac{3}{2}}) < 0 < g(a)$, 即 $-2ae^{-\frac{3}{2}} + \frac{1}{2}e^{-3} < b < a^2 \ln a$, C 错误; ② $a = e^{-\frac{3}{2}}$ 时, $g'(x) \leq 0, g(x)$ 单调递减; 又 $x \rightarrow 0$ 时, $g(x) \rightarrow -b, x \rightarrow +\infty$ 时, $g(x) \rightarrow -\infty$, 则当 $-b > 0$ 时, $g(x)$ 有 1 个零点, 即 $b < 0$, D 正确. 故选 ABD.

三、填空题

12. $32\sqrt{3}$ 【解析】设该正四棱台的高、斜高分别为 h, h' , 由已知得, $\frac{h}{3}(2^2 + 6^2 + 2 \times 6) = \frac{104\sqrt{2}}{3}$, 所以 $h = 2\sqrt{2}, h' = \sqrt{h^2 + (\frac{6-2}{2})^2} = \sqrt{(2\sqrt{2})^2 + (\frac{6-2}{2})^2} = 2\sqrt{3}$, 所以正四棱台侧面积为 $S = 4 \times \frac{(2+6) \times 2\sqrt{3}}{2} = 32\sqrt{3}$. 故答案为 $32\sqrt{3}$.

13. $a_n = 3^n - 2(n-1)$ 【解析】因为 $a_{n-1} = 3a_n + 4n - 6 (n \in \mathbf{N}^*)$, $a_{n+1} + 2n = 3a_n + 4n - 6 + 2n = 3[a_n + 2(n-1)]$, 因为 $a_1 = 3$, 所以 $a_1 + 2 \times (1-1) = 3$, 所以 $a_n + 2(n-1) = 3 \cdot 3^{n-1} = 3^n$, 所以 $a_n = 3^n - 2(n-1)$. 故答案为 $a_n = 3^n - 2(n-1)$.

14. $\frac{\sqrt{3}}{2}$ 【解析】抛物线 $\Gamma: y = \frac{x^2}{6}$ 的焦点为 $A(0, \frac{3}{2})$, 准线 l 为 $y = -\frac{3}{2}$, 依题意不妨令 C 在第一象限, $C(a, \frac{3}{2})$, 则圆 C 的半径 $r = a$, 设 $B(x_0, \frac{1}{6}x_0^2) (x_0 > 0)$, 则圆 C 的方程为 $(x-a)^2 + (y-\frac{3}{2})^2 = a^2$, 由 $y = \frac{1}{6}x^2$, 则 $y' = \frac{1}{3}x$, 所以抛物线在点 B 处的切线 m 的斜率 $k = \frac{x_0}{3}$, 因为圆 C 与抛物线 $\Gamma: y = \frac{x^2}{6}$ 在公

共点 B 处有相同的切线, 所以直线 CB 与 m 垂直, 所

$$\text{以 } \frac{\frac{1}{6}x_0^2 - \frac{3}{2}}{x_0 - a} \cdot \frac{x_0}{3} = -1, \text{ 则 } a = \frac{1}{2}x_0 + \frac{1}{18}x_0^3 \quad \textcircled{1},$$

$$\text{又点 } B \text{ 在圆 } C \text{ 上, 所以 } (x_0 - a)^2 + \left(\frac{1}{6}x_0^2 - \frac{3}{2}\right)^2 = a^2, \text{ 则 } x_0^2 - 2ax_0 + \left(\frac{1}{6}x_0^2 - \frac{3}{2}\right)^2 = 0 \quad \textcircled{2}, \text{ 所以 } x_0^2$$

$$- 2\left(\frac{1}{2}x_0 + \frac{1}{18}x_0^3\right)x_0 + \left(\frac{1}{6}x_0^2 - \frac{3}{2}\right)^2 = 0, \text{ 整理可}$$

$$\text{得 } x_0^4 + 6x_0^2 - 27 = 0, \text{ 解得, } x_0^2 = 3 \text{ 或 } x_0^2 = -9 \text{ (舍}$$

$$\text{去), 所以 } r = a = \frac{1}{2}x_0 + \frac{1}{18}x_0^3 = \frac{2}{\sqrt{3}}, y_B = \frac{1}{6}x_0^2 = \frac{1}{2},$$

$$\text{所以 } |AB| = 2, \text{ 所以 } \sin \frac{\angle ACB}{2} = \frac{\frac{|AB|}{2}}{|AC|} = \frac{1}{\frac{2}{\sqrt{3}}} = \frac{\sqrt{3}}{2}, \text{ 故答案为 } \frac{\sqrt{3}}{2}.$$

四、解答题

15. 解: (1) 因为 $X \sim N(45, 225)$, 所以 $\sigma = 15$. (1分)

$$\text{则 } P(X \geq 60) = P(X \geq \mu + \sigma) = \frac{1 - 0.6827}{2} = 0.15865,$$

(4分)

所以现场年龄不低于 60 岁的人数大约为 $1000 \times$

$$0.15865 \approx 159 \text{ (人)}. \quad (6分)$$

(2) 依题意可得, $P(n) = C_{20}^n 0.4^n \times 0.6^{20-n}$, (7分)

$$\text{设 } \begin{cases} P(n) \geq P(n+1) \\ P(n) \geq P(n-1) \end{cases}$$

$$\text{所以 } \begin{cases} C_{20}^n 0.4^n \times 0.6^{20-n} \geq C_{20}^{n+1} 0.4^{n+1} \times 0.6^{19-n} \\ C_{20}^n 0.4^n \times 0.6^{20-n} \geq C_{20}^{n-1} 0.4^{n-1} \times 0.6^{21-n} \end{cases} \quad (9分)$$

$$\text{所以 } \begin{cases} \frac{20-n}{n+1} \cdot \frac{0.4}{0.6} \leq 1, \\ \frac{21-n}{n} \cdot \frac{0.4}{0.6} \geq 1, \end{cases} \quad (11分)$$

$$\text{所以 } \frac{37}{5} \leq n \leq \frac{42}{5}, \quad (12分)$$

n 为整数, 所以 $n = 8$,

关注北京高考在线官方微信: 京考一点通 (微信号:bjgkzx), 获取更多试题资料及排名分析信息。

所以当 $P(n)$ 取得最大值时 n 的值为 8. (13分)

16. 解: (1) 因为 $\angle COF = \angle EFO$, 所以 $EF \parallel CO$. (1分)

因为 $EF \not\subset$ 平面 SCO , $CO \subset$ 平面 SCO ,

所以 $EF \parallel$ 平面 SCO , (2分)

因为 DE 垂直底面于 E , SO 垂直底面于 O , 所以 $DE \parallel SO$.

同理 $DE \parallel$ 平面 SCO , (3分)

因为 $DE \cap EF = E$, 且 $EF \parallel$ 平面 SCO , $DE \parallel$ 平面 SCO , 所以平面 $SCO \parallel$ 平面 DEF . (5分)

(2) 设圆锥的底面半径为 2,

因为轴截面 SAB 是正三角形, 所以 $SO = 2\sqrt{3}$.

(6分)

如图, 设平面 $SDEO$ 与底面圆周交于 G ,

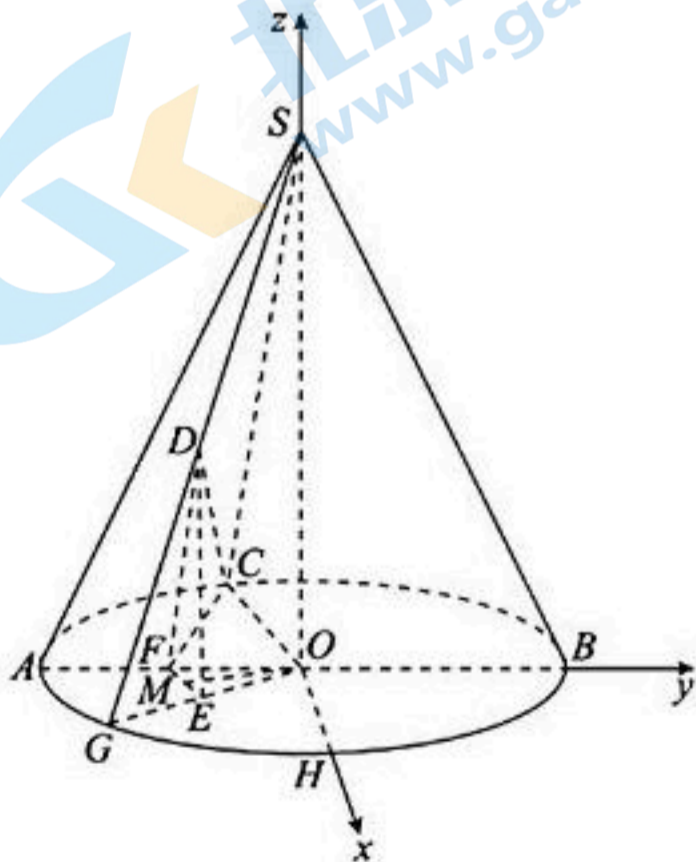
因为 $\triangle EFO$ 为正三角形, 且 F 为 AO 的中点,

所以 $OF = FE = EO = 1$, 所以 E 为 OG 的中点,

所以 DE 为 $\triangle SOG$ 的中位线, 所以 $DE = \frac{1}{2}SO =$

$\sqrt{3}$. (7分)

如图, 在底面圆周上取一点 H , 使得 $OH \perp OB$, 以直线 OH, OB, OS 为 x, y, z 轴建立空间坐标系, (8分)



由已知得, $C(-\sqrt{3}, -1, 0)$, $D\left(\frac{\sqrt{3}}{2}, -\frac{1}{2}, \sqrt{3}\right)$,

$E\left(\frac{\sqrt{3}}{2}, -\frac{1}{2}, 0\right)$, $F(0, -1, 0)$, (9分)

设 EF 的中点为 M , 则平面 DEF 的法向量为 $n_1 =$

$$\overrightarrow{OM} = \left(\frac{\sqrt{3}}{4}, -\frac{3}{4}, 0 \right), \quad (11 \text{ 分})$$

所以 $\overrightarrow{CF} = (\sqrt{3}, 0, 0), \overrightarrow{CD} = \left(\frac{3\sqrt{3}}{2}, \frac{1}{2}, \sqrt{3} \right),$

设平面 CDF 的一个法向量为 $n_2 = (x, y, z),$

$$\text{所以} \begin{cases} \sqrt{3}x = 0, \\ \frac{3\sqrt{3}}{2}x + \frac{1}{2}y + \sqrt{3}z = 0 \end{cases}$$

$x = 0,$ 令 $y = 2,$ 则 $z = -\frac{\sqrt{3}}{3},$

则 $n_2 = \left(0, 2, -\frac{\sqrt{3}}{3} \right), \quad (13 \text{ 分})$

所以平面 CDF 与平面 DEF 夹角的余弦值为

$$\frac{|\mathbf{n}_1 \cdot \mathbf{n}_2|}{|\mathbf{n}_1| |\mathbf{n}_2|} = \frac{\frac{3}{2}}{\frac{\sqrt{3}}{2} \times \frac{\sqrt{13}}{\sqrt{3}}} = \frac{3\sqrt{13}}{13}. \quad (15 \text{ 分})$$

17. 解: (1) $f(x)$ 的定义域为 $(0, +\infty), f'(x) = \frac{1}{x} +$

$$(2x-3) = \frac{2x^2-3x+1}{x}, \quad (2 \text{ 分})$$

令 $f'(x) = 0,$ 得 $x = \frac{1}{2}$ 或 $x = 1,$ (3 分)

$x \in \left(0, \frac{1}{2} \right) \cup (1, +\infty), f'(x) > 0; x \in \left(\frac{1}{2}, 1 \right),$

$f'(x) < 0,$

所以 $f(x)$ 的单调递增区间为 $\left(0, \frac{1}{2} \right), (1, +\infty),$

单调递减区间为 $\left(\frac{1}{2}, 1 \right).$ (5 分)

$$(2) f'(x) = \frac{2ax^2 - 3ax + 1}{x},$$

由 $f(x)$ 在 $(0, +\infty)$ 上有两个不同的极值点 x_1, x_2 得, $2ax^2 - 3ax + 1 = 0$ 有两个不同的正根,

$$\text{则} \begin{cases} 2a \neq 0 \\ x_1 + x_2 = \frac{3}{2} > 0 \\ x_1 x_2 = \frac{1}{2a} > 0 \\ \Delta = 9a^2 - 8a > 0 \end{cases}, \text{解得 } a > \frac{8}{9}, \quad (7 \text{ 分})$$

因为 $f(x_1) + f(x_2) = \ln(x_1 x_2) + a(x_1^2 + x_2^2) - 3a(x_1 + x_2) + 4a = \ln(x_1 x_2) + a[(x_1 + x_2)^2 - 2x_1 x_2] - 3a(x_1 + x_2) + 4a = -\ln(2a) + \frac{7}{4}a - 1,$

(9 分)

设 $g(a) = -\ln(2a) + \frac{7}{4}a - 1, a > \frac{8}{9},$

则 $g'(a) = \frac{7}{4} - \frac{1}{a} = \frac{7a-4}{4a} > 0,$

故 $g(a)$ 在 $\left(\frac{8}{9}, +\infty \right)$ 上单调递增, (12 分)

又 $g(a) > g\left(\frac{8}{9}\right) = -\ln \frac{16}{9} + \frac{5}{9} = \frac{5}{9} + \ln \frac{9}{16},$

故 $f(x_1) + f(x_2) > \frac{5}{9} + \ln \frac{9}{16}.$ (15 分)

18. 解: (1) 因为 $C_1(-1, 0), C_2(1, 0), P(x, y), 4 \overrightarrow{C_1 P} \cdot \overrightarrow{C_2 P} = 3x^2,$

所以 $4(x+1, y) \cdot (x-1, y) = 3x^2,$ (1 分)

所以 $4(x^2 - 1 + y^2) = 3x^2,$ 化简得 $\frac{x^2}{4} + y^2 = 1,$

所以 P 的轨迹 C 的标准方程为 $\frac{x^2}{4} + y^2 = 1.$ (3 分)

(2) ① 因为直线 l 不过坐标原点且不垂直于坐标轴,

所以 $x_0 y_0 \neq 0,$

设点 $A(x_1, y_1), B(x_2, y_2),$

所以 $x_0 = \frac{x_1 + x_2}{2}, y_0 = \frac{y_1 + y_2}{2},$

由题意得, $\begin{cases} \frac{x_1^2}{4} + y_1^2 = 1 \\ \frac{x_2^2}{4} + y_2^2 = 1 \end{cases}$

相减得 $\frac{x_1^2 - x_2^2}{4} + y_1^2 - y_2^2 = 0,$ (4 分)

所以 $\frac{(x_1 + x_2)(x_1 - x_2)}{4} + (y_1 + y_2)(y_1 - y_2) = 0,$

所以 $\frac{y_1 - y_2}{x_1 - x_2} \cdot \frac{y_1 + y_2}{x_1 + x_2} = \frac{y_1 - y_2}{x_1 - x_2} \cdot \frac{2y_0}{2x_0} = -\frac{1}{4},$

所以 $k_{AB} \cdot k_{OM} = -\frac{1}{4},$

所以 $k_l = k_{AB} = -\frac{1}{4k_{OM}} = -\frac{x_0}{4y_0},$ (5 分)

同理得, $k_{ON} \cdot k_{DE} = -\frac{1}{4}$, 又 $k_{AB} \cdot k_{CM} = -\frac{1}{4}$,

相乘得, $k_{ON} \cdot k_{DE} \cdot k_{AB} \cdot k_{CM} = \left(-\frac{1}{4}\right)^2$, (6分)

因为 $k_{DE} \cdot k_{AB} = -1$, $k_{CM} = \frac{y_0}{x_0}$, 所以 $k_{ON} = -\frac{x_0}{16y_0}$, (7分)

因为 $x_0 \neq 0$, 所以 $-\frac{x_0}{4y_0} \neq -\frac{x_0}{16y_0}$, 所以 $k_l \neq k_{ON}$, (8分)

所以 l 与 ON 相交. (9分)

② l 的方程为 $y - y_0 = -\frac{x_0}{4y_0}(x - x_0)$, 直线 DE 的

方程为 $y - y_0 = \frac{4y_0}{x_0}(x - x_0)$,

直线 ON 的方程为 $y = -\frac{x_0}{16y_0}x$,

联立得, $y_T = -\frac{x_0^2 + 4y_0^2}{12y_0}$, $y_N = \frac{-3x_0^2 y_0}{x_0^2 + 64y_0^2}$, (11分)

故 $|\lambda| = \frac{|ON|}{|NT|} = \frac{|ON|}{|OT| - |ON|} = \frac{1}{\frac{|OT|}{|ON|} - 1}$, (12分)

$$\begin{aligned} \text{又 } \frac{|OT|}{|ON|} &= \left| \frac{y_T}{y_N} \right| = \left| \frac{-\frac{x_0^2 + 4y_0^2}{12y_0}}{\frac{-3x_0^2 y_0}{x_0^2 + 64y_0^2}} \right| \\ &= \frac{1}{36} \cdot \frac{(x_0^2 + 4y_0^2)(x_0^2 + 64y_0^2)}{x_0^2 y_0^2} \\ &= \frac{1}{36} \cdot \frac{\left(1 + 4 \frac{y_0^2}{x_0^2}\right) \left(1 + 64 \frac{y_0^2}{x_0^2}\right)}{\frac{y_0^2}{x_0^2}} \\ &= \frac{1}{36} \left(256 \frac{y_0^2}{x_0^2} + \frac{x_0^2}{y_0^2} + 68\right) \geq \frac{25}{9}, \end{aligned} \quad (14分)$$

当且仅当 $x_0^2 = 16y_0^2$ 即 $x_0 = \pm 4y_0$ 时取等号,

$$\text{又 } \frac{x_0^2}{4} + y_0^2 < 1, \text{ 即当且仅当 } \begin{cases} x_0 = \pm 4y_0, \\ -\frac{\sqrt{5}}{5} < y_0 < \frac{\sqrt{5}}{5} \end{cases} \text{ 时取}$$

等号,

关注北京高考在线官方微信: 京考一点通 (微信号:bjgkzx), 获取更多试题资料及排名分析信息。

所以 $|\lambda| = \frac{1}{\frac{|OT|}{|ON|} - 1} \leq \frac{9}{16}$, 故 $|\lambda|$ 的最大值为 $\frac{9}{16}$.

(17分)

19. 解: (1) 不是的. (1分)

如等差数列 $\left\{-\frac{1}{2}, -1, -\frac{3}{2}, -2, \dots\right\}$, $T_2 = a_1 a_2$

$= \frac{1}{2} \notin \left\{-\frac{1}{2}, -1, -\frac{3}{2}, -2, \dots\right\}$. (2分)

所以不是任意一个无穷等差数列对前 n 项之积是封闭的. (3分)

(2) $\{a_n\}$ 是等比数列, 其首项 $a_1 = 2$, 公比 q ,

所以 $a_n = a_1 \cdot q^{n-1} = 2q^{n-1} (n \in \mathbb{N}^*)$,

所以 $T_n = a_1 a_2 \cdots a_n = 2^n q^{1+2+\dots+(n-1)} = 2^n q^{\frac{n(n-1)}{2}}$, (4分)

由已知得, 对任意正整数 n , 总存在正整数 m , 使得 $T_n = a_m$ 成立,

即对任意正整数 n , 总存在正整数 m ,

使得 $2^n q^{\frac{(n-1)n}{2}} = 2q^{m-1}$ 成立,

即对任意正整数 n , 总存在正整数 m , 使得 $q^{\frac{(n-1)n}{2} - (m-1)} = 2^{1-n}$ 成立. (5分)

① 当 $m = \frac{(n+1)n}{2} \geq 1$ 时, 得 $\frac{(n-1)n}{2} - (m-1) = 1-n$, 所以 $q=2$; (7分)

② 当 $m = \frac{(n-1)n}{2} + (2-n) = \frac{n^2 - 3n + 4}{2} \geq 1$ 时, 得

$\left[\frac{(n-1)n}{2} - (m-1)\right] + (1-n) = 0$, 且 $q = \frac{1}{2}$,

综上, $q=2$ 或 $\frac{1}{2}$. [答案正确即可] (9分)

(3) 对任意的无穷等比数列 $\{a_n\}$, $a_n = a_1 q^{n-1} = a_1^n \cdot \left(\frac{q}{a_1}\right)^{n-1}$,

令 $b_n = a_1^n$, $c_n = \left(\frac{q}{a_1}\right)^{n-1}$, 则 $a_n = b_n \cdot c_n (n \in \mathbb{N}^*)$, (11分)

下面证明: $\{b_n\}$ 是对前 n 项之积是封闭的.

因为 $b_n = a_1^n$, 所以 $T_n = a_1^{1+2+\dots+n} = a_1^{\frac{n(n+1)}{2}}$, (12分)

取正整数 $m = \frac{n(n+1)}{2}$ 得, $T_n = b_m$, (13分)

所以 $\{b_n\}$ 对前 n 项之积是封闭的, (14分)

同理证明: $\{c_n\}$ 也对前 n 项之积是封闭的, (16分)

所以对任意的无穷等比数列 $\{a_n\}$, 总存在两个无穷数列 $\{b_n\}$ 和 $\{c_n\}$, 使得 $a_n = b_n \cdot c_n (n \in \mathbb{N}^+)$, 其中 $\{b_n\}$ 和 $\{c_n\}$ 对前 n 项之积都是封闭的. (17分)

关于我们

北京高考在线创办于 2014 年，隶属于北京太星网络科技有限公司，是北京地区极具影响力的中学升学服务平台。主营业务涵盖：北京新高考、高中生涯规划、志愿填报、强基计划、综合评价招生和学科竞赛等。

北京高考在线旗下拥有网站门户、微信公众平台等全媒体矩阵生态平台。平台活跃用户 50W+，网站年度流量数千万量级。用户群体立足于北京，辐射全国 31 省市。

北京高考在线平台一直秉承“精益求精、专业严谨”的建设理念，不断探索“K12 教育+互联网+大数据”的运营模式，尝试基于大数据理论为广大中学和家长提供新鲜的高考资讯、专业的高考政策解读、科学的升学规划等，为广大高校、中学和教科研单位提供“衔接和桥梁纽带”作用。

平台自创办以来，为众多重点大学发现和推荐优秀生源，和北京近百所中学达成合作关系，累计举办线上线下升学公益讲座数千场，帮助数十万考生顺利通过考入理想大学，在家长、考生、中学和社会各界具有广泛的口碑影响力

未来，北京高考在线平台将立足于北京新高考改革，基于对北京高考政策研究及北京高校资源优势，更好的服务全国高中家长和学生。

推荐大家关注北京高考在线网站官方微信公众号：**京考一点通**，我们会持续为大家整理分享最新的高中升学资讯、政策解读、热门试题答案、招生通知等内容！

