

高三历史

学校 _____ 姓名 _____ 班级 _____ 考号 _____

考生须知	1. 本试卷共 10 页, 满分 100 分。考试时间 90 分钟。 2. 在试卷和答题卡上准确填写学校名称、班级、姓名和准考证号。 3. 试题答案一律填涂或书写在答题卡上, 在试卷上作答无效。 4. 在答题卡上, 选择题用 2B 铅笔作答, 其他题用黑色字迹签字笔作答。
------	---

第一部分 选择题

本部分共 22 题, 每题 2 分, 共 44 分。在每题列出的四个选项中, 选出最符合题目要求的一项。

1. 右侧陶寺中期城址平面图可以佐证陶寺文化时期

- ①城市出现功能区划
- ②社会阶级分化显现
- ③奴隶制国家已形成
- ④都城轴线观念出现

- A. ①②③
- B. ①②④
- C. ①③④
- D. ②③④

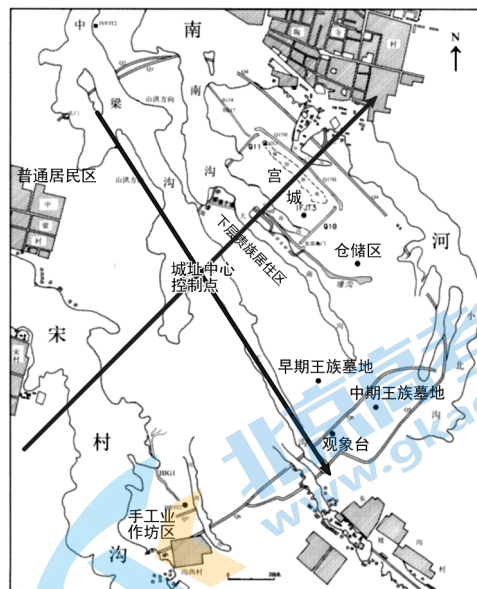
2. 春秋时期, 郑国子产“铸刑书”, 主张“择能力”。战国时期, 李悝在魏国变法, 规定“食有劳而禄有功”。吴起在楚国变法, “明法审令, 捐不急之官”。商鞅在秦国变法, 废除世卿世禄制, 奖励军功。这表明, 春秋战国时期

- A. 礼乐制度彻底崩溃
- B. 华夏认同观念增强
- C. 德治与法治之争结束
- D. 社会阶层流动性加强

3. 公元前 134 年, 汉武帝初令郡国岁举孝、廉各一人。最初, 各郡国对推举“孝廉”并不重视, 有的郡不荐一人。武帝下诏督责, 规定: 二千石不举孝, 就是不奉行诏令, 应当按不敬论罪; 不举廉, 就是不胜任, 应当免官。这一规定

- A. 有利于九品中正制的形成
- B. 削弱了外朝三公的权力
- C. 推动了汉朝选官制度变革
- D. 促使了监察制度的建立

4. 宋熙宁八年春, 吴地大疫, 苏轼在杭州建立很多病坊“以处疾病之人”, 即临时隔离处。宋熙宁九年, 曾巩任江南西路兵都钤辖(武官名), “命县、镇、亭、传, 悉储药待求”, “以授病者民”。这说明, 北宋政府解决疫病的方法有



陶寺中期城址平面图

9.某学者在书中写到,“以1837年为例,先后任总督者共10人,其中旗人占70%。同年任巡抚者共20人,其中旗人占40%。而1864年,在10名总督中,旗员占30%,在担任过巡抚的19人中,则是清一色的汉员。”推动这一变化的主要因素是

- A.太平天国运动引起权力结构变化 B.洋务运动促使地方督抚势力兴起
C.戊戌维新运动冲击旧式官僚体制 D.清政府通过“新政”改革旧式官制

10.1866年,金陵机器制造局竣工。70年代,增设水雷局,“招募艺童,学习洋文洋语”。80年代,仿制德国新式步枪,成功制成中国第一代马克沁单管重机枪,成为金陵制造局的名牌产品。由此可知,金陵机器制造局

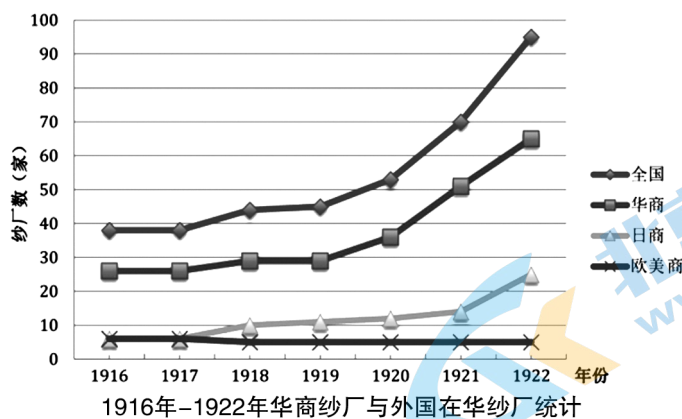
- ①起步于洋务运动时期 ②制造武器投放世界市场
③客观推动新式教育发展 ④建立了独立的军工体系

- A.①② B.①③ C.②③ D.②④

11.1903年,青年革命家邹容撰写的《革命军》出版,他写到:“革命者,天演之公例也;革命者,世界之公理也。”他还喊出“中华共和国万岁”的口号。《革命军》一经问世,销售量居当时革命书刊的第一位。这一现象折射出

- A.革命派领导的武装斗争进入高潮 B.辛亥革命具有广泛的社会基础
C.民主共和理念已经成为社会共识 D.仁人志士对救国道路不断探索

12.观察下图,可以得出的正确信息是



- A.一战后,中国纱厂因外资“卷土重来”严重下滑
B.北洋政府统治时期,中国民族纺织业持续发展
C.日本开始获得在中国通商口岸设厂制造的权益
D.欧美列强忙于一战,逐步缩减对华的商品输出

13.1925年,广东省召开第一次农民代表大会。117位农民代表参加大会,会议由中共党员彭湃等人主持,经过讨论,成立广东省农民协会并发表《广东省农民协会宣言》。这反映了

- A.农民运动正在蓬勃发展 B.中共工作重心转向农村
C.党对军队的绝对领导权 D.土地革命取得显著成果

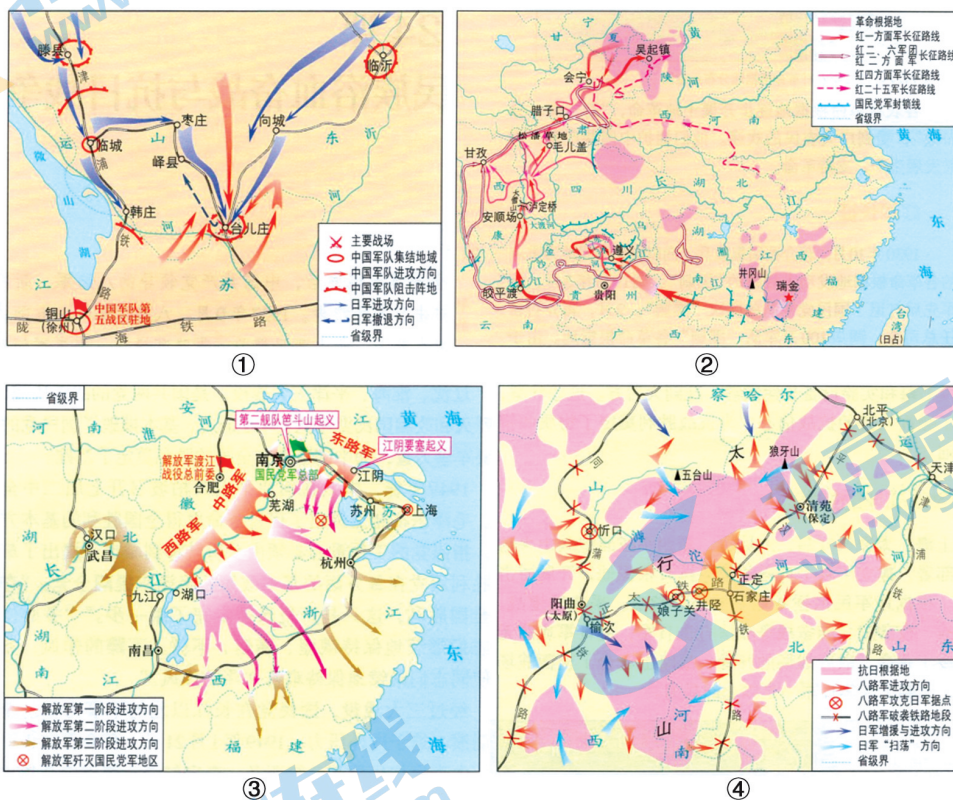
14. 1937年,东部沿海工业向西南大后方迁移,到1940年底,内迁民营厂矿共647家,机器工业达230家,占内迁总数的40.4%。东部沿海工业的转移

- A. 削弱了官僚资本的地位
- B. 基本实现了产业结构的合理化
- C. 适应了持久抗战的需要
- D. 彻底改变了区域发展的不平衡

15. 1947年10月12日,《东北日报》刊发了《中国土地法大纲》全文。12月,刊登外媒对《大纲》的报道,如美国先驱论坛报承认“中国农民世代代倾向于土地革命”,而中共已经“有效地解决了这一问题”,即土地问题。这些报道反映了

- A. 中共抓住了中国革命的重要问题
- B. 三大战役的胜利推动了土改进行
- C. 西方国家消除了对中共的偏见
- D. 土地改革在全国大陆基本完成

16. 下列地图反映的历史事件按时序排列正确的是



- A. ①②④③
- B. ②①③④
- C. ②①④③
- D. ③④②①

17. 目前,我国人民币发行五套。其中,有一套人民币正面主景图案有人民代表、炼钢工人、女拖拉机手、纺织厂、武汉长江大桥、教育与生产劳动相结合等。背面主景图案有天安门、露天采矿、石油矿井等。据此判断,这套人民币的发行时期是在

- A. 新民主主义革命时期
- B. 国民经济恢复时期
- C. 社会主义建设时期
- D. 改革开放新时期

18.20 世纪 60 年代,中国向 23 个正在进行民族解放运动的非洲国家提供援助。1960 年以前,与中华人民共和国建交的非洲国家只有 5 个,到 1969 年,这一数量激增到 19 个,占当时已独立国家的 50%。这些历史史实

- ①体现了“一边倒”的外交方针 ②推动了亚非会议的隆重召开
③有利于非洲民族国家的发展 ④有利于改善中国的国际环境
- A.①② B.①③ C.②③ D.③④

19.以下四项表述可以从史实直接推断出结论的是

	史实	结论
A	公元前 3000 年左右,契约在古埃及广泛使用。凡转让重要财产,都要在地方或中央官署达成书面契约。	两河流域的契约观念影响古代埃及。
B	公元前 4 世纪—公元 3 世纪,汉字已传入朝鲜半岛、日本列岛和东南亚地区。后来,在汉字基础上,朝鲜创造出谚文,日本创造出假名,越南创造出喃字。	中华文化的传播,促进了周边国家的发展。
C	中古时期,各日耳曼王国在记载和整理日耳曼人部落习惯法的基础上编纂了一批成文法,称为“日耳曼法”,作为庄园法庭审判的依据。	在日耳曼法的基础上,英国和法国分别发展了英美法系和大陆法系。
D	据统计,古代美洲的印第安人独立培育出马铃薯、玉米等食物品种,约占当今世界植物食品的 1/3。	古代美洲居民最先从食物采集者转变为食物生产者。

20.下图为美国纽约大都会博物馆收藏的一套 1784 年在中国订制的杯碟套装,在瓷碟画面上方有一只巨大老鹰,鹰嘴部叼着写有“独立宣言”字样的条幅,鹰下方绘有代表 13 个州的 13 位男性,在人和鹰中间绘有一块 1776 数字的号码牌。这一杯碟套装瓷可以用来印证

- A.一个新主权国家的诞生
B.联邦政府实行三权分立
C.美洲殖民地赢得了独立
D.瓷器广受美国民众欢迎



美国独立宣言杯碟套装

21.19 世纪,欧洲很多史学家相继整理出版自己民族的大型史料集,争相撰写本民族和本国历史。同时,史学家们开始关注社会下层的历史,1850 年,斯坦因的《1789 年至今的法国工人运动史》和恩格斯的《德国农民战争》问世。这一现象反映的时代主题有

- ①近代民族国家的发展 ②资本主义的早期萌发
③影响世界的工业革命 ④世界殖民体系的确立
- A.①② B.①③ C.②③ D.②④

- 22.1882年,《告巴西人民宣言》正式发表,它号召巴西人民“醒来吧!很久以来欧洲伟大的宣传家所倡导的独立与幸福正在阔步前进。你们已成为一个掌握自己命运的人民。”据此可知,这一现象的出现反映了
- A.启蒙思想在美洲传播
B.马克思主义的指导作用
C.柏林会议协议的刺激
D.“亚洲觉醒”的重要影响

第二部分 非选择题

本部分共5题,共56分。

23.(20分)中国古代漕运

“漕”原指在天然或人工的河道上运输物资,后来随着各王朝统治的需要,从地方上征收粮饷以及各种进贡的物资,将其运送到京城或前线,这些都属于漕运的范围。

材料一

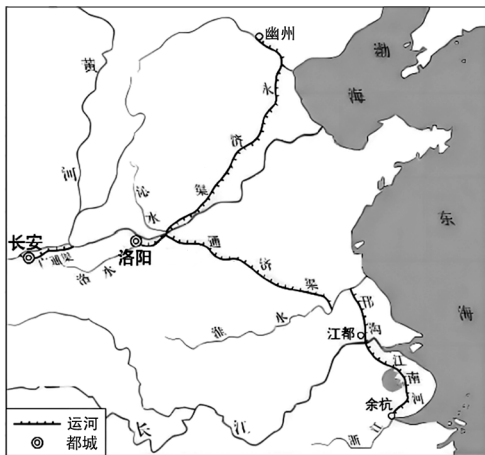


图1 唐代漕运路线示意图

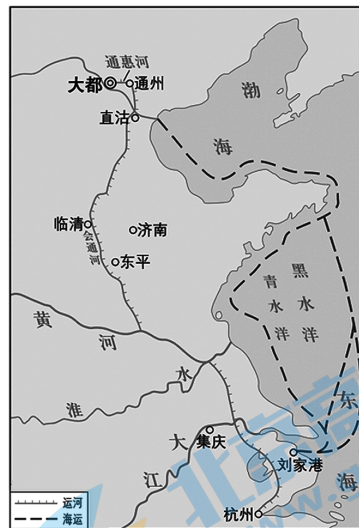


图2 元代漕运路线示意图

(1)依据材料一,指出图1、图2漕运的变化;结合所学,分析其原因。(6分)

材料二 咸丰二年(1852年),清代漕粮海运,仅实行于江苏省。咸丰三年,太平军占领镇江、扬州,江路受阻。清政府宣布,将浙江全省以及苏、松、常、镇四府和太仓州等处“漕米,同办海运。”由上海招商船承雇,装载海运至天津。而湖北、湖南、江西、安徽四省漕粮则一律按每石折银一两三钱为率,改折征收解京或者就地拨充军饷,这样一来,继续征收实物漕粮的只有改行海运的江苏、浙江两省份。庚子事变后,列强在谈判赔款筹集问题时,要求清朝从漕粮中提取赔款,且朝堂上亦有诸多官员提议折漕。光绪二十六年(1900年),南漕改用火车,由天津运往北京。在内外压力下,清朝最终于光绪二十七年宣布全漕改折,漕粮河运至此终结。

(2)依据材料二并结合所学,简述清代漕粮河运废止的原因。(6分)

材料三 2019年12月,北京市政府发布的《北京市大运河文化保护传承利用五年计划(2018-2022)》明确提出,要保护建设张家湾古镇,展示运河古镇历史风貌,打造漕运文化特色小镇。

<p>①</p> <p>张家湾在“州南十五里”,“以元万户张瑄督海运至此而名。今东南运艘,由直沽至河西务,凡百十里,又百三十里至张家湾,乃运入通州仓”。——《读史方輿纪要》(清代顾祖禹等人著)</p>	<p>②</p> <p>张家湾城位于“潞河下游,南北水陆要会。自潞河南至长店四十里,水势环曲,官船客舫,骈集于此,弦唱相闻,最称繁盛”。——《钦定日下旧闻考》(乾隆命人根据《日下旧闻》加以增补、考证而成)</p>	<p>③</p> <p>北运河上“漕艘栉比,廩粟云屯”。张家湾以西的漕运终点通州,则为“仓庾之都会,而水路之冲达也”。——光绪年间《通州志》</p>
<p>④</p>  <p>“山西会馆”匾额</p> <p>该匾额系两块长方形石块合成:上为“山西”,下为“会馆”,发现于通州,现存于通州博物馆。</p>	<p>⑤</p>  <p>清代北运河漕运图</p> <p>(底图来源:谭其骧主编《中国历史地图集》)</p>	
<p>⑥</p>  <p>《潞河督运图》,绘制于清朝乾隆年间,图中画有官船、商船、货船、渔船等64只,官吏、商贾、船户、妇孺、盐坨杂役等八百二十余人,岸上码头、衙署、店铺、银号、酒肆、民宅、粮仓等各种建筑林立。</p>		

(3)任意选取材料三中的三则史料,分别阐述每则材料对研究张家湾古镇的价值。(8分)

24.(10分)时代与报刊

据现有材料统计,五四运动时期,全国新创办报刊1000种左右,选取部分有刊存的主要刊物如下表。

刊名	主持	刊行年月	出版地点	宗旨(倾向)
《新青年》	陈独秀	1915	上海 北京	宣传新思想
《晨报副刊》	梁启超等 (进步党)	1916.8.15	北京	思想解放社会改造
《新民学会会员 通信集》	毛泽东等 (新民学会)	1918.4.18	湖南	研究新思想寻求改造中国与世界的道路与方法
《每周评论》	李大钊	1918.12.20	北京	评论时政
《南开日记》	南开大学	1919.5.26	天津	鼓吹同胞之爱国心,唤起同胞之敌汽
《建设》	孙中山	1919.8	上海	研究革命理论和建设新中国方案
《解放与改造》	张东荪等	1919.9	北京	抵制社会主义、马克思主义
《平民教育》	平民教育社	1919.10.10	北京	研究宣传及实施平民教育
《少年世界》	少年中国学会 南京分会	1920.1.1	南京	实际调查和应用科学之研究
《醒农》	醒农社	1920.5.1	北京	促农民之觉悟
《劳动者》	广州共产主义 小组	1920.10.3	广州	启发工人觉悟、促进团结、推动工运发展
《共产党》	李大钊	1920.11	上海	介绍国际共运、列宁学说、共产党知识

(1)阅读上述材料,概括五四运动时期中国报刊业的特点。(4分)

(2)如果让你在1840-1912年之间创办一个报刊,请为这一报刊起名,并结合时代特征说明创刊理由。(6分)(要求:刊名须反映办刊主旨;办刊理由充分;表述清晰。)

25.(8分)统一战线是党的重要法宝

2022年7月29日至30日,中央统战工作会议时隔7年再次召开。100年前,1922年7月,党的二大在上海召开。会议通过《关于“民主的联合战线”的议决案》,标志着中国共产党统一战线政策的正式提出。1939年10月4日,毛泽东在《〈共产党人〉发刊词》中说,统一战线、武装斗争、党的建设是中国共产党在中国革命中战胜敌人的三个法宝,首次明确了统一战线的法宝地位。建立最广泛的统一战线,是党克敌制胜的重要法宝,也是党执政兴国的重要法宝。

阅读材料并结合所学,从新民主主义革命(1919—1949)、社会主义革命(1949—1956)两个时期中各选一个实例,阐述统一战线是党克敌制胜、执政兴国的重要法宝。(8分)

26.(8分)高校西迁

材料一 据统计,1949年,全国70%以上的工业集中于东部沿海地带,西部边疆地区的工业产值仅占全国的9%;从钢铁工业来看,沿海地区的钢铁生产能力占八成以上,而钢铁资源丰富的西部等地区几乎没有相关工业产业。“一五”计划时期,党和国家提出,要在全国各地适当分布工业生产力,要使工业基地接近原料和燃料产地,并逐步提高落后地区的经济水平。

材料二 据1949年统计,在全国205所高校中,118所高校分布于沿海地区,西北地区仅有9所高校。1955年7月,高等教育部正式制定了《一九五五年至一九五七年调整方案》,高校西迁方案确定。参与此次西迁的沿海或大城市高校30余所。其中,为配合航空工业基地建设,华东航空学院师生坚决服从,教职工、家属、学生共5000余人如期抵达西安,为大西北贡献了第一所以航空为主从事国防科技高等教育的航空院校,即西安航空学院。西航先后研制出多种军事作战飞机,其首届毕业生也全部自觉服从分配,去到西北、西南、东北、中南等急需人才的航空单位。同时承担了多项国家级科研项目,其研制出歼7-E型飞机为国防建设做出了重要贡献。

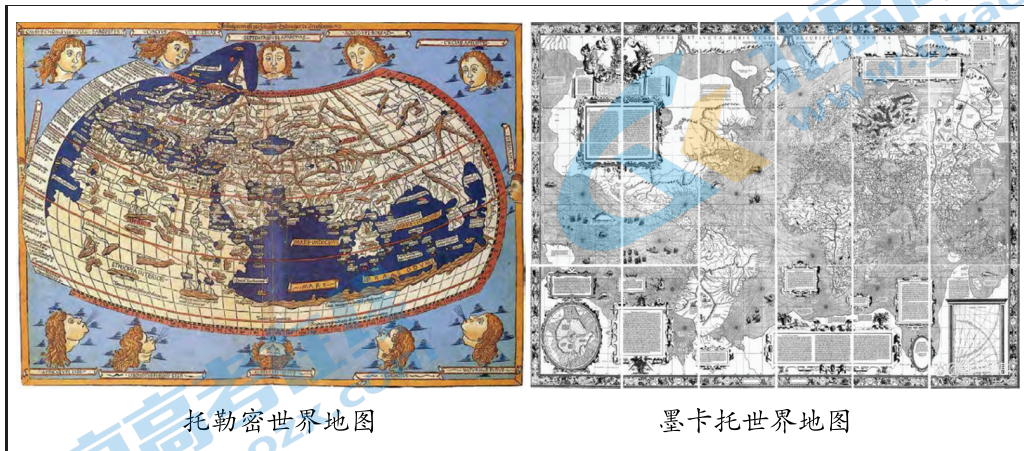
材料三

1955年与1957年各行政区高校数量比较

政区	1955年各行政区高校数		1957年各行政区高校数	
	数量	比例	数量	比例
华北区	41	22.65%	49	21.40%
东北区	25	13.81%	28	12.23%
华东区	50	27.62%	57	24.89%
中南区	34	18.78%	45	19.65%
西南区	19	10.50%	28	12.23%
西北区	12	6.63%	22	9.61%
总计	181		229	

阅读上述三则材料,结合所学,对1955-1957年高校西迁进行解读。(8分)

27.(10分)托勒密的《地理学》



克劳狄斯·托勒密(约90—168年),是生活在埃及的希腊裔罗马帝国公民。他用希腊文写成《地理学》,是一部体现当时欧洲人地理学知识的典籍,奠定西方制图学的基础。不过,《地理学》在公元2世纪左右成书时及以后相当长时间并没有引起重视。后来一个收集古籍的神父,意外在罗马都城发现了《地理学》手稿。1406年,这部手稿被翻译成拉丁文。但是拉丁文译本并没有附地图,直到15世纪,西方人才陆续制作出地图抄本。1492年,当哥伦布寻找东方时,他带着3艘帆船、87名水手,以及一本托勒密的《地理学》。对于当时的欧洲人来说,它是“对已知世界地理情况的最佳指南”。

15世纪初,葡萄牙航海家亨利开始把“托勒密地图”付诸实践运用。但是经过反复考察,却发现这幅地图并不实用。亨利手下的一些船长遗憾地说:“尽管我们对有名的托勒密十分敬仰,但我们发现事实都与他说的相反。”墨卡托(1512—1594年)是近代西方地图学家代表,他不断根据最新的地理发现和旅行报告,完善旧地图,绘制新地图。1569年,墨卡托首次采用正轴等角圆柱投影编制出世界地图。这样他成了第一个把全球表面(东西半球的已知范围)描绘在平面上的人,托勒密版本地图“一统天下”的局面结束。

依据材料并结合所学,评析15世纪托勒密《地理学》在西欧的重新发现。(10分)

关于我们

北京高考在线创办于 2014 年，隶属于北京太星网络科技有限公司，是北京地区极具影响力的中学升学服务平台。主营业务涵盖：北京新高考、高中生涯规划、志愿填报、强基计划、综合评价招生和学科竞赛等。

北京高考在线旗下拥有网站门户、微信公众平台等全媒体矩阵生态平台。平台活跃用户 40W+，网站年度流量数千万量级。用户群体立足于北京，辐射全国 31 省市。

北京高考在线平台一直秉承 “精益求精、专业严谨” 的建设理念，不断探索 “K12 教育+互联网+大数据” 的运营模式，尝试基于大数据理论为广大中学和家长提供新鲜的高考资讯、专业的高考政策解读、科学的升学规划等，为广大高校、中学和教科研单位提供 “衔接和桥梁纽带” 作用。

平台自创办以来，为众多重点大学发现和推荐优秀生源，和北京近百所中学达成合作关系，累计举办线上线下升学公益讲座数百场，帮助数十万考生顺利通过考入理想大学，在家长、考生、中学和社会各界具有广泛的口碑影响力

未来，北京高考在线平台将立足于北京新高考改革，基于对北京高考政策研究及北京高校资源优势，更好的服务全国高中家长和学生。



微信搜一搜

北京高考资讯

官方微信公众号: bjgkzx

官方网站: www.gaokzx.com

咨询热线: 010-5751 5980

微信客服: gaokzx2018

关注北京高考在线官方微信: [北京高考资讯\(微信号:bjgkzx\)](https://www.gkaozx.com), 获取更多试题资料及排名分析信息。