

2024 北京首都师大附中高一（上）期末

政 治

第 I 卷（共 45 分）

一、选择题（本大题共 30 小题，每小题 1.5 分，共 45 分。在每小题所列出的四个选项中，只有一项是最符合题目要求的）

1. 马克思、恩格斯创立了唯物史观。唯物史观揭示了人类社会发展的—般规律。人类社会发展的—般规律是（ ）

- ①生产力一定要适合生产关系状况
- ②经济基础一定要适合上层建筑状况
- ③生产关系一定要适合生产力状况
- ④上层建筑一定要适合经济基础状况

A. ①② B. ①④ C. ②③ D. ③④

2. 2023 年是《共产党宣言》发表 175 周年。这 175 年里，人类社会经历无尽的风云变幻，但始终不变的是人民对和平幸福美好社会理想的追求。关于《共产党宣言》，以下论述正确的是（ ）

- ①为科学社会主义的创立奠定了理论基石
- ②标志着科学社会主义的诞生
- ③为人的全面发展和全人类解放指明了路径
- ④主张阶级斗争，阐述了未来共产主义社会的理想目标

A. ①②④ B. ①②③ C. ②③④ D. ①③④

3. 1921 年 7 月 23 日，中国共产党第一次全国代表大会在上海举行，宣告了中国共产党的正式成立。共产党的成立，犹如一轮红日在东方冉冉升起，照亮了中国革命的前程。自从有了中国共产党，中国革命的面目就焕然一新了。下列说法合理的是（ ）

- A. 中国共产党的诞生使中国人民的斗争有了主心骨
- B. 中国共产党的成立向世界宣告中国人民站起来了
- C. 中国共产党领导民主革命胜利，实现了民族复兴
- D. 中国共产党是应反帝反专制的历史需要而产生的

4. 中国共产党带领中国人民，书写了中华民族历史上最恢宏的史诗，所取得的百年奋斗重大成就有（ ）

- ①实现了中国从封建专制政治向人民民主的伟大飞跃
- ②实现了从一穷二白的大国迈进社会主义社会的伟大飞跃
- ③实现了人民生活从温饱不足到全面富裕的伟大飞跃
- ④实现了中国从富起来、站起来到强起来的伟大飞跃

A. ①② B. ②③ C. ②④ D. ③④

5. 1956 年 1 月 15 日，北京各界 20 多万人在天安门广场举行庆祝社会主义改造胜利联欢大会。社会主义改

造的伟大胜利（ ）

- ①标志着我国实现了从新民主主义到社会主义的转变
- ②极大地激发了广大人民群众建设社会主义的积极性
- ③意味着党带领人民成功开创了中国特色社会主义
- ④表明我国由落后的农业国变为先进的工业国

A. ①② B. ①③ C. ②④ D. ③④

6. 它是一个光辉的起点，它标志着中国共产党从严重的挫折中重新奋起，带领中国人民在新的历史条件下开始了新的伟大革命，“社会主义中国将在这场新的革命中进步，告别贫穷和落后，走向繁荣和进步，实现中华民族伟大复兴”。这里所说的“它”是指

- A. 遵义会议
- B. 中华人民共和国成立
- C. 中共十一届三中全会
- D. 中共十二届三中全会

7. 党的十八大以来，面对国内外形势新变化和实践新要求，我们党勇于进行理论探索和创新，以全新的视野深化对共产党执政规律、社会主义建设规律、人类社会发展规律的认识，取得重大理论创新成果，集中体现为习近平新时代中国特色社会主义思想。习近平新时代中国特色社会主义思想（ ）

- ①是当代中国马克思主义、二十一世纪马克思主义
- ②是中华文化和中国精神的时代精华
- ③实现了马克思主义中国化时代化新的飞跃
- ④完成了对新时代社会主义建设规律的认识

A. ①②③ B. ①②④ C. ①③④ D. ②③④

8. 党的二十大报告指出，前进道路上我们必须牢牢把握的重大原则之一就是“坚持以人民为中心”。下列语句最能体现以人民为中心的是（ ）

- ①志不求易者成，事不避难者进 ②天下兴亡，匹夫有责
- ③治国有常，而利民为本 ④利民之事，丝发而兴；厉民之事，毫末必去

A. ①② B. ①③ C. ②④ D. ③④

9. 一百多年前，孙中山先生在《建国方略》中描绘了一份中国现代化蓝图，有外国记者认为这完全是一种“空想”。如今，铁路进青藏、公路密成网、高峡出平湖、港口连五洋、产业门类齐、“天和”驻太空、“祝融”探火星……现实的画卷远比百年前的设想更为壮阔。进入新时代，中国式现代化气象万千，前景光明。中国式现代化的成功推进和拓展（ ）

- ①源于中国人民勇于实践，成功跨越社会主义初级阶段
- ②得益于中国共产党团结带领全国各族人民接续奋斗
- ③为世界各国发展提供了放之四海而皆准的现代化标准
- ④为实现中华民族伟大复兴的中国梦提供了实践路径

A. ①② B. ①③ C. ②④ D. ③④

10. 以公有制为主体是社会主义初级阶段经济制度的根本特征。我国公有制的主体地位主要体现在 ()

- ①公有资产在各行业中占优势
- ②公有资产在社会总资产中占优势
- ③混合所有制经济中, 国有经济成分占优势地位
- ④国有经济控制国民经济命脉, 对经济发展起主导作用

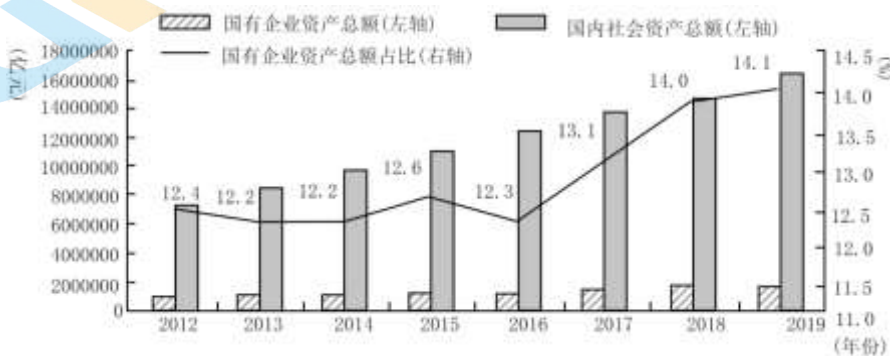
A. ①② B. ①③ C. ②④ D. ③④

11. 发展壮大国有经济, 要推进国有经济布局优化和结构调整, 推动国有经济向关系国家安全、国民经济命脉的重要行业集中, 向提供公共服务、应急能力建设和公益性等关系国计民生的重要行业集中, 向前瞻性战略性新兴产业集中。下列行业中, 更适合国有资本投入的是 ()

- ①电力电网
- ②航空航天
- ③社区餐饮服务
- ④小商品零售

A. ①② B. ①③ C. ②④ D. ③④

12. 下图为 2012—2019 年国有企业资产总额占国内社会资产总额的比例变化情况。



资料来源:《中国国有经济报告(2021)》, 社会科学文献出版社, 2021 年版

根据图中信息, 可以看出 ()

- ①国有经济的控制力逐渐增强
- ②国有企业资产总额在国内社会资产总额中的占比波动上升
- ③国有企业资产总额稳步提高
- ④公有资产总额在国内社会资产总额中的优势不断扩大

A. ①② B. ①④ C. ②③ D. ③④

13. 我国某家生产手机的公司, 向社会发行股票, 成为国家、集体、私人多方持股的企业, 仅用 10 年时间, 就成为我国手机产销量最大的公司之一。这家公司属于 ()

- ①公有制经济 ②非公有制经济 ③股份制企业 ④混合所有制经济

A. ③④ B. ①② C. ①③ D. ②③

14. 某村建立股份合作社, 绿化荒山、修建池塘……优美的生态环境吸引了全国各地的游客和会务、影像项目, 村民通过提供食宿、销售特色手工产品获利丰厚。村集体收入大幅增长, 收益重点用于环境改造、运营支出和村民福利。发展这种集体经济可以 ()

- ①促进产业融合发展，推进乡村振兴
- ②推动各种所有制经济取长补短、共同发展
- ③巩固公有制主体地位，充分发挥其主导作用
- ④建立村集体和农户利益共同体，促进共同富裕

A. ①② B. ①④ C. ②③ D. ③④

15. 早在 2018 年 11 月，习近平总书记就指出，民营经济贡献了 50% 以上的税收、60% 以上的国内生产总值、70% 以上的技术创新成果、80% 以上的城镇劳动就业和 90% 以上的企业数量。从上述“五六七八九”中可以看出，我国民营经济是（ ）

- ①社会主义市场经济体制的根基
- ②推动经济增长、社会发展的重要力量
- ③增强国力、支持科技进步的关键力量
- ④改善民生、增加财政收入的重要力量

A. ①②
B. ①③
C. ②④
D. ③④

16. 某轮胎企业积极探索数字化转型，建立与消费者的直接联系，基于库存和销售数据及时调整产能计划，优化产品营销，提升服务体验，延展商业模式，个人零售成为新的业务增长点。2021 年，在同期轮胎市场负增长的背景下，企业却实现了销量逆势增长近 50%。数字化转型对该企业发展的作用体现在（ ）

- ①改进制造工艺，降低生产成本
- ②精准对接市场，促进产品销售
- ③提升服务水平，优化客户体验
- ④提高产品质量，增加产品价值

A. ①③ B. ①④ C. ②③ D. ②④

17. 对于商品供求和价格的关系，下列说法正确的是（ ）

- ①某地面包、蛋糕等食品需求增长时，国际市场小麦价格下降
- ②倡导居民节约用电，可使国内煤炭价格保持在合理区间运行
- ③根据居民生活用水量实行阶梯式价格，节水设备需求会增加
- ④如果肉鸡养殖业持续亏损，对玉米等饲料的需求可能会减少

A. ①② B. ①④ C. ②③ D. ③④

18. 经济体制改革是全面深化改革的重点，其核心问题是（ ）

- A. 处理好政府和市场的关系
- B. 处理好改革与稳定的关系
- C. 处理好生产与消费的关系
- D. 处理好垄断与竞争的关系

19. 每当论及宏观经济形势，每当说到宏观政策配置，每当谋划进一步深化改革、扩大开放之策，甚至在事关党和国家事业发展全局话题的其他场合，市场主体都在被反复提及。截至 2022 年 8 月底，全国登记在

册市场主体达 1.63 亿户，其中，有 5100 万多万户企业、1.09 亿以上个体工商户，222.5 万户农民专业合作社。下列说法正确的是（ ）

- ①我国市场主体力量不断壮大的过程，就是市场调节的缺陷弱化的过程
- ②从事生产、购销、运输和服务性活动的法人和自然人，都是市场主体
- ③制定宏观经济政策、活跃市场、稳定就业，都要靠市场主体“唱主角”
- ④宏观政策配置要扎根于、围绕着市场主体，微观政策要持续激发市场主体活力

A. ①② B. ①③ C. ②④ D. ③④

20. 近年来，我国医保多项改革措施取得显著成效，建成全国统一的医保信息平台，2022 年全国跨省异地就医直接结算基金支付 809.19 亿元；开展国家医保药品目录准入谈判，实现医保用药全国范围基本统一；国家集中采购 7 批 294 种药品，平均降价超过 50%。关于医保改革，下列传导正确的是（ ）

- ①异地就医直接结算→提高社会福利水平→提高居民参加医疗保险积极性
- ②医保药品目录准入谈判→筛选创新药进入目录→提升医保资金使用效能
- ③统一医保用药范围→增加药品报销种类→满足居民高层次保险需求
- ④药品集中采购→通过市场化机制以量换价→降低居民医疗负担

A. ①② B. ①③ C. ②④ D. ③④

21. 碳交易是为促进全球温室气体减排，减少全球二氧化碳排放所采用的市场机制。我国碳交易市场（如图示）于 2021 年 7 月 16 日启动上线交易以来，全国碳市场交易活跃，交易价格稳中有升，市场运行平稳，助力实现碳达峰目标和碳中和愿景。以下碳排放权交易发挥作用的传导路径，正确的是（ ）



注：碳交易又称为“碳排放权交易”，通常情况下，政府确定一个碳排放总额，并根据一定规则将碳排放配额分配至企业。如果未来企业排放高于配额，需要到市场上购买配额。

- ①企业碳排放超标→企业限产、减产→企业退出生产市场→实现碳中和
- ②企业碳排放超标→购买碳排放量→运营成本增加→倒逼企业减污降碳
- ③企业出售剩余碳排放权→提高碳交易价格→利润增加→扩大生产规模
- ④企业出售剩余碳排放权→利润增加→创新绿色低碳技术→促进绿色生产

A. ①② B. ①③ C. ②④ D. ③④

22. 2023 年 8 月 15 日是首个全国生态日，主题为“绿水青山就是金山银山”。这是个首创性、标志性的纪念日，体现了新时代生态文明建设的重要地位，体现了全面推进美丽中国建设的坚定决心。设立全国生态日是基于（ ）

- ①绿水青山是物质财富的源泉

- ②绿色发展是引领发展的第一动力
 ③绿色发展是人民对美好生活追求的重要体现
 ④促进人与自然和谐共生是中国式现代化的本质要求

A. ①② B. ①③ C. ②④ D. ③④

23. 2023年10月12日，习近平总书记在江西省南昌市主持召开进一步推动长江经济带高质量发展座谈会并发表重要讲话。要更好发挥长江经济带横贯东西、承接南北、通江达海的独特优势，为构建新发展格局提供战略支撑。对新发展格局理解正确的是（ ）

- ①新发展格局以高水平对外开放为主体
 ②新发展格局是开放的国内国际双循环
 ③构建新发展格局要增强国际大循环内生动力
 ④新发展格局以国内大循环为主体

A. ①③ B. ②③ C. ①④ D. ②④

24. 数字乡村是乡村振兴的战略方向，也是建设数字中国的重要内容。我国出台的《数字乡村发展行动计划(2022—2025年)》明确了数字乡村发展方向、阶段目标和实施路径，将为推动乡村振兴取得新进展提供有力支撑，下列关于数字乡村建设助力乡村振兴的传导路径行使正确的是（ ）

- ①推动农产品电子商务发展——拓宽农产品销售渠道——增加农民收入
 ②推进乡村信息基础设施优化升级——丰富农产品服务供给——提高农产品质量
 ③加快农业生产数字化改造——促进农业生产专业化高效化——提高农业经济效益
 ④深化农村普惠金融服务——培育农业新业态新模式——推动农业产业结构转型升级

A. ①③ B. ①④ C. ②③ D. ②④

25. 实行农村土地所有权、承包权、经营权分置并行，着力推进农业现代化。“三权分置”改革对推进农业现代化的影响路径是（ ）

- ①实现土地的适度规模经营
 ②促进土地经营权合理流转
 ③提高农业生产率
 ④提高农村公共服务水平

A. ①→②→③ B. ④→②→① C. ②→①→③ D. ④→①→③

26. 2023年演出市场迎来爆发式增长，上半年我国营业性演出场次19万多场。观众人数在5000人以上的大型演出活动，经常遭遇“一票难求”，观众不得不求助于“黄牛”购买高溢价票。对此，某班同学提出以下解决措施，其中合理的是（ ）

甲	演出单位增加票务供给，履行告知义务，确保消费者从合法渠道购买门票
乙	政府设定合理的梯次退票标准，保障购票人的正当退票权利
丙	加强演出单位票务管理，对大型演出活动实行实名购票和实名入场制度

丁	市场监督管理部门加大执法检查力度，严厉打击各类违法违规行
---	------------------------------

- A. 甲乙 B. 甲丙 C. 乙丁 D. 丙丁

27. 2013-2024 北京冰雪运动消费季活动期间，将向市民发放 3 万张冰雪消费券，市民使用冰雪消费券可享受北京地区部分冰雪场馆门票抵扣优惠。下列关于消费券对经济影响的传导途径，正确的是（ ）

- A. 发放政府消费券→增强居民消费意愿→促进生产发展→扩大就业改善民生
B. 发放政府消费券→增加财政支出→扩大财政赤字→抑制经济过快增长
C. 发放企业消费券→增加居民收入→提高消费质量→满足美好生活需要
D. 发放企业消费券→降低生产成本→增加有效供给→提高经济发展质量

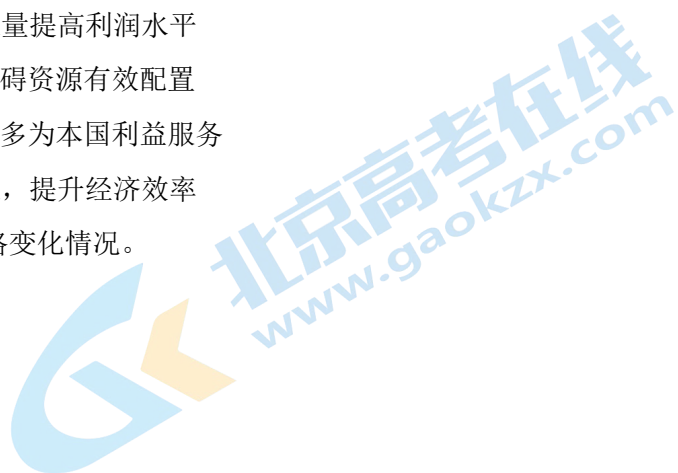
28. “供给侧改革”是当下中国经济领域的一个热词，所谓“供给侧”就是侧重供给，强调要从供给侧入手，解放生产力、提高竞争力，促进宏观经济的发展。下列举措符合这一调控新思路的是

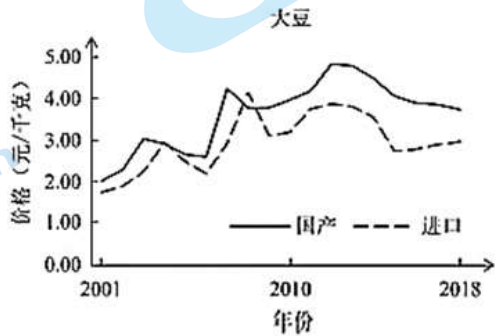
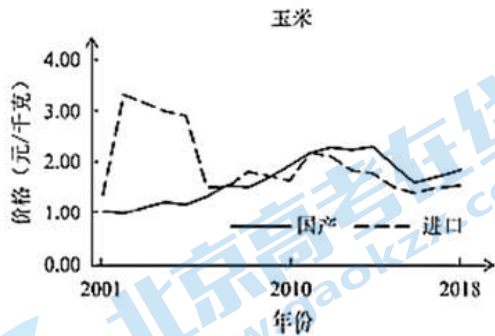
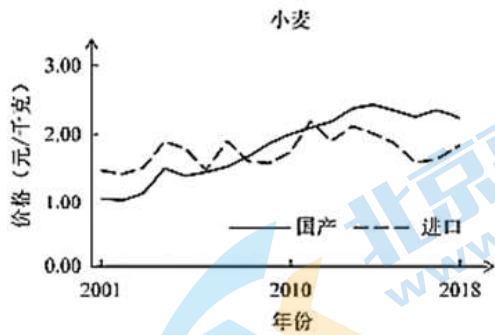
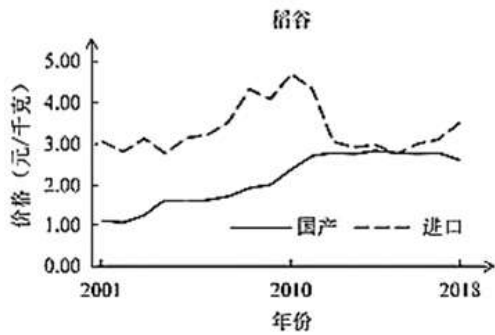
- A. 降低银行的存款准备金率 0.5 个百分点
B. 改善消费预期，发挥需求对生产的调节作用
C. 增发 100 亿元的政府债券，扩大财政赤字的规模
D. 对中小高新技术企业实行企业所得税减免的优惠政策

29. 据报道，欧盟最近对奥地利、德国和比利时三国的国家铁路公司开出 4800 多万欧元罚单。调查发现，这三家铁路公司在跨境铁路整车货运服务中互通客户询价信息，提高报价，形成了一个垄断联盟。下列表述正确的是（ ）

- A. 三家铁路公司形成垄断联盟的目的是通过增加各自的货运量提高利润水平
B. 垄断联盟提升了铁路货运在货物运输市场的竞争力，但妨碍资源有效配置
C. 欧盟开出罚单的根本原因是垄断联盟导致三家铁路公司更多为本国利益服务
D. 欧盟的处罚决定可以使铁路货运价格和运营成本更加接近，提升经济效率

30. 下图给出了 2001~2018 年我国国产粮食和进口粮食的价格变化情况。





下列表述正确的是 ()

- ①2001-2018年, 国产稻谷的价格竞争优势总体上升
- ②2010年以后, 国产小麦与玉米开始具有一定的价格竞争优势
- ③国产大豆在市场价格方面长期处于国际竞争的劣势
- ④我国是农业大国, 但在国际粮食市场上的比较优势有待加强

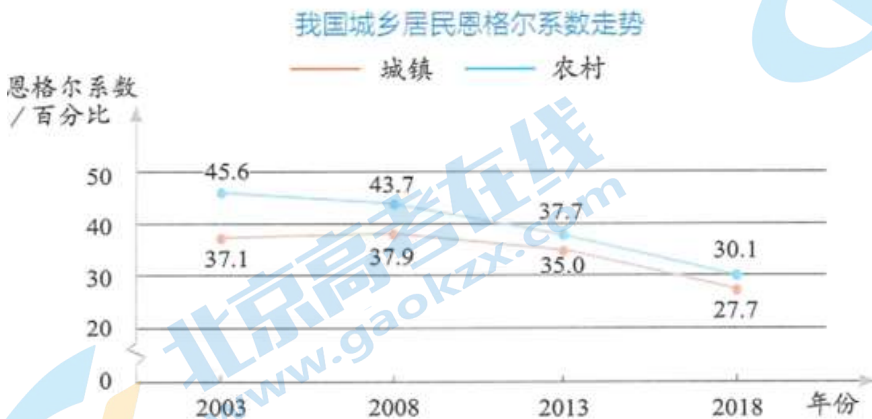
A. ①② B. ①④ C. ②③ D. ③④

第 II 卷 (共 55 分)

二、主观题 (本大题共 6 小题, 共 55 分)

31. 以下内容引自教材 38 页“相关链接”。

恩格尔系数是反映①_____的重要指标。它由 19 世纪德国统计学家恩斯特·恩格尔提出, 指②_____占家庭消费总支出的比例。恩格尔系数越③_____, 一般表明家庭生活水平越高。



- (1) 请将空白处补充完整。
- (2) 请解读上图所反映的经济信息。

32. 关于新发展理念的内涵，小源做了如下整理，请你帮他补充完整。

	解决的问题	原因	具体要求
创新	发展①_____问题	创新是第一动力，决定发展的速度、效能、可持续性	坚持创新在发展全局中的核心地位，不断推动创新
协调	发展②_____问题	是持续健康发展的内在要求	④_____
绿色	人与自然和谐共生问题	人与自然是生命共同体，绿色发展是永续发展的必要条件	牢固树立⑤_____的理念，坚持⑥_____战略，建设美丽中国
开放	发展内外联动问题	开放是国家繁荣发展的必由之路	遵循⑦_____原则，推进高水平对外开放，推动构建⑧_____
共享	社会③_____问题	中国特色社会主义的本质要求	作出更有效的制度安排，使全体人民有更多获得感、幸福感、安全感，朝着⑨_____方向稳步前进

33. 1942年2月1日，毛泽东同志在中央党校开学典礼上发表《整顿党的作风》的演说时指出：“马克思列宁主义理论和中国革命实际，怎样互相联系呢？拿一句通俗的话来讲，就是‘有的放矢’。‘矢’就是箭，‘的’就是靶，放箭要对准靶。马克思列宁主义和中国革命的关系，就是箭和靶的关系。……马克思列宁主义之箭，必须用了去射中国革命之的。”

中国共产党自成立之日起就将马克思主义写在自己的旗帜上，在长期奋斗历程中，运用马克思主义之“矢”射中国实践之“的”，不断丰富和发展马克思主义的科学真理，团结带领人民在民族复兴之路上筑起一座又一座伟大丰碑。

运用《中国特色社会主义》所学，试举两例，说明中国共产党如何运用马克思主义之“矢”射中国实践之“的”。

34. 今年以来，为稳定宏观经济和推动经济高质量发展，我国政府出台了一系列调控政策。

材料一 我国实施新的组合式税费支持政策，精准实施对中小微企业、个体工商户减税降费。2022年全年预计退税减税约2.5万亿元。

材料二 我国2022年一般公共预算支出安排26.71万亿元，比上年扩大2万亿元以上。财政部门优化支出结构，优先支持已纳入国家“十四五”规划纲要、重点专项规划的重点项目，适度超前开展基础设施投资，加大对科技攻关、生态环保、基本民生、现代农业等领域及区域重大战略的支持力度。

材料三 4月25日，中国人民银行降低金融机构存款准备金率0.25个百分点，向市场释放长期资金5300亿元。5月15日，中国人民银行和中国银行保险监督管理委员会调整差异化住房信贷政策。政策出台

后，多家银行下调首套房贷款利率。

运用《经济与社会》知识，分析上述材料中的政策工具在稳定宏观经济和推动经济高质量发展方面如何发挥作用。

35. 中国国家铁路集团有限公司是以铁路客货运输为主业的国有独资公司。

在高铁飞驰的年代，铁路公司仍然亏本运行着 81 对绿皮“慢火车”。这看起来似乎有点“落伍”，然而在一些偏远地区，“慢火车”却是当地民众出行的主要交通工具。乡亲们坐着它去赶集、求医、上学、探亲、外出务工。慢悠悠、站站停的“慢火车”，将十里八村的乡亲们与外面的世界联系起来，不仅改善了贫困地区群众的出行条件，给民众生产生活带来便利，也给他们带来了商机和真金白银的收入，承载着沿线百姓对美好生活的殷切希望。

“慢火车”穿行在崇山峻岭之间，编织出偏远贫困地区一起奋斗、共同圆梦的画卷。在湘西，很多农副产品通过“慢火车”被输送到了城市；在大凉山，很多人借着“慢火车”找到了自己的“致富经”……一列列“慢火车”就是一列列致富专列，将党的致富惠农政策与偏远地区的百姓联系起来。

“慢火车”彰显出国有企业在脱贫攻坚中的巨大作用。有人认为我国脱贫攻坚战已经取得了全面胜利，完成扶贫任务的“慢火车”可以不再开行了；也有人认为在通往共同富裕的路上，依然需要“慢火车”发挥作用。

结合《经济与社会》知识谈谈你对这一问题的看法。

36. “尔滨，我来了”，这个冬季，地处祖国东北角的哈尔滨走进了全国甚至全球视野，被称为 2024 开年首个“顶流”城市。

“软”与“硬”

市委市政府号召市民以客为先、以客为亲，充分展示冰城人的“人情味儿”。文旅部门发布游玩攻略，地下通道铺地毯，免费提供红糖姜茶，景区之间乘坐地铁免费……相比对于游客的“宠”，哈尔滨对一些破坏营商环境的监管却用的是“硬要求”，要求景区、酒店不得旺季涨价，对违规“黑车”处罚不手软。

“冷”与“热”

哈尔滨深挖冰雪资源禀赋，突出地方特色文化。精雕细琢的青花瓷雪雕、写意风格的冰雪水墨画、独一无二的冰版画……依托大自然给“冰城”得天独厚的礼物，越来越多优秀传统文化在雪花和冰晶中次第绽放。以高寒为气候特质的哈尔滨，成为当下社交媒体上最热的文化符号。

“闯”与“创”

新经济、新业态，让城市发展尽显青春与活力。旅游企业和餐饮店主纷纷“头脑风暴”，创意推出黑马骑士、人造月亮、冰面热气球，“一天一个花样”，满足游客的眼球和味蕾……

“哈尔滨绽放的雪花，是旅游业的繁花，表达了人们对消费复苏寄予的厚望。”带着人民对美好生活的向往和追求，奏响新时代东北全面振兴的强音，融入中国式现代化的雄浑交响。

结合材料，运用《经济与社会》的知识，阐释“冰城”缘何成“热点”？

参考答案

第 I 卷 (共 45 分)

一、选择题 (本大题共 30 小题, 每小题 1.5 分, 共 45 分。在每小题所列出的四个选项中, 只有一项是最符合题目要求的)

1. 【答案】D

【详解】③④: 人类社会发展的—般规律是生产关系一定要适合生产力状况, 上层建筑一定要适合经济基础状况, ③④符合题意。

①②: 生产力决定生产关系, 生产关系一定要适合生产力状况; 经济基础决定上层建筑, 上层建筑一定要适合经济基础状况, ①②错误。

故本题选 D。

2. 【答案】C

【详解】①: 唯物史观和剩余价值学说为科学社会主义的创立奠定了理论基石。①说法错误。

②③④: 《共产党宣言》主张阶级斗争, 阐述了未来共产主义社会的理想目标, 为人的全面发展和全人类解放指明了路径, 标志着科学社会主义的诞生, ②③④符合题意。

故本题选 C。

3. 【答案】A

【详解】A: 1921 年 7 月 23 日, 中国共产党正式成立, 党的诞生使中国人民谋求民族独立、人民解放和国家富强、人民幸福的斗争有了主心骨, A 符合题意。

B: 新中国的成立宣告中国人民从此站起来了, B 错误。

C: 中国共产党是新民主主义革命的领导者, 旧民主主义革命是资产阶级领导的, 并且新民主主义革命的胜利并没有实现民族复兴。C 错误。

D: 辛亥革命已经完成了推翻君主专制的历史任务, D 错误。

故本题选 A。

4. 【答案】A

【详解】①②: 新中国的成立实现了中国从封建专制政治向人民民主的伟大飞跃, 三大改造实现了从一穷二白的大国迈进社会主义社会的伟大飞跃, 这都是中国共产党带领中国人民所取得的重大成就, ①②符合题意。

③: 中国共产党带领中国人民实现了人民生活从温饱不足到全面小康的伟大飞跃, ③错误。

④: 中国共产党带领中国人民实现了中国从站起来、富起来到强起来的伟大飞跃, ④错误。

故本题选 A。

5. 【答案】A

【详解】①②: 社会主义改造的伟大胜利标志着我国实现了从新民主主义到社会主义的转变, 极大地激发了广大人民群众建设社会主义的积极性, ①②说法正确。

③: 党的十一届三中全会以后, 以邓小平同志为主要代表的中国共产党人, 团结带领全党全国各族人民成

功开创了中国特色社会主义，③说法错。

④：社会主义改造完成后，党和全国人民的主要任务是集中力量发展社会生产力，尽快把我国由落后的农业国变为先进的工业国，而不是三大改造后我国已由落后的农业国变为先进的工业国，④说法错误。

故本题选 A。

6. 【答案】C

【详解】由“告别贫穷和落后，走向繁荣和进步，实现中华民族的伟大复兴”可知，题干强调的是改革开放的重要意义。1978 年 12 月召开的党的十一届三中全会重新确立了马克思主义的思想路线、政治路线和组织路线，作出实行改革开放的重大决策，故选 C。

ABD：选项 ABD 均不符合题意。

故本题选 C。

7. 【答案】A

【详解】①②③：习近平新时代中国特色社会主义思想，是中华文化和中国精神的时代精华，实现了马克思主义中国化时代化新的飞跃，是当代中国马克思主义、二十一世纪马克思主义，①②③符合题意。

④：习近平新时代中国特色社会主义思想深化了对新时代社会主义建设规律的认识，而不是完成了对新时代社会主义建设规律的认识，④错误。

故本题选 A。

8. 【答案】D

【详解】①：“志不求易者成，事不避难者进”意思是立志不求简单者必能成功，做事不回避困难者定能够前进，没有涉及以人民为中心，①不符合题意。

②：“天下兴亡，匹夫有责”意思是天下大事的兴盛、灭亡，每一个老百姓都有义不容辞的责任，没有涉及维护和实现人民群众的根本利益，②不符合题意。

③：“治国常有常，而利民为本”意思是治理国家的根本途径是利民，体现了以人民为中心，③符合题意。

④：“利民之事，丝发而兴；厉民之事，毫末必去”意思凡是有利于百姓的事情，即使再小也要去做；凡是危害百姓的事情，即使再小也要革除，体现了以人民为中心，④符合题意。

故本题选 D。

9. 【答案】C

【详解】①：我国仍处于并长期处于社会主义初级阶段，①说法错误。

②④：进入新时代，中国式现代化气象万千，前景光明。中国式现代化的成功推进和拓展，得益于中国共产党团结带领全国各族人民接续奋斗，同时为实现中华民族伟大复兴的中国梦提供了实践路径，②④符合题意。

③：中国式现代化拓展了发展中国家走向现代化的途径，但中国式现代化并没有为世界各国发展提供了放之四海而皆准的现代化标准，③说法错误。

故本题选 C。

10. 【答案】C

【详解】①：公有资产在社会总资产中占优势，这是就全国而言的，有的地方、有的产业可以有所差别，

而不是在各行业中占优势，①表述错误。

②④：我国公有制的主体地主要体现在公有资产在社会总资产中占优势，国有经济控制国民经济命脉，对经济发展起主导作用，②④正确。

③：“混合所有制经济中，国有经济成分占优势地位”，这不是公有制的主体地位的表现，且混合所有制经济中并不都是国有经济成分占优势地位，③不选。

故本题选 C。

11. 【答案】 A

【详解】①②：电力电网、航空航天是关系国家安全和国民经济命脉的重要行业和关键领域，国有经济必须占支配地位，①②符合题意。

③④：社区餐饮服务、小商品零售等更多的涉及民生，国有经济可不占支配地位，③④与题意不符。

故本题选 A。

12. 【答案】 C

【详解】②③：由图可以看出，2012—2019 年国有企业资产总额在国内社会资产总额中的占比波动上升，国有企业资产总额稳步提高，②③符合题意；

①：根据图中显示国有企业资产总额及其在国内社会资产总额中的占比近年来稳步提高，但由此不能得出国有经济控制力逐渐增强的结论，因为国有经济控制力不仅体现在量上，而且体现在质上，①排除；

④：图中显示的是国有企业资产总额稳步提高，强调的是国有企业资产总额占国内社会资产总额比例的变化，而公有资产还包括集体资产等，材料未涉及，④排除。

故本题选 C。

13. 【答案】 A

【详解】③④：向社会发行股票，成为国家、集体、私人多方持股的企业，这家公司属于股份制企业也属于混合所有制经济，③④符合题意。

①②：该公司中的国有、集体资产部分属于公有制经济，私人资产则属于非公有制经济，①②错误。

故本题选 A。

14. 【答案】 B

【详解】①④：材料表明，通过发展这种集体经济，村集体收入大幅增长，收益重点用于环境改造、运营支出和村民福利，这说明发展这种集体经济可以促进产业融合发展，推进乡村振兴，也可以建立村集体和农户利益共同体，促进共同富裕，①④正确切题。

②：材料强调的是集体经济，并不是各种所有制经济取长补短、共同发展，②不选；

③：国有经济发挥主导作用，③说法错误。

故本题选 B。

15. 【答案】 C

【详解】①：以公有制为主体，多种所有制经济共同发展的所有制是社会主义市场经济体制的根基，故①不选。

②④：从上述“五六七八九”中可以看出，我国民营经济是推动经济增长、社会发展的重要力量，是改善

民生、增加财政收入的重要力量，故②④入选。

③：国有经济是增强国力、支持科技进步的关键力量，故③不选。

故本题选 C。

16. 【答案】C

【详解】②③：材料强调建立与消费者的直接联系，基于库存和销售数据及时调整产能计划，优化产品营销，提升服务体验，这说明数字化转型有利于企业精准对接市场，促进产品销售，也有利于企业提升服务水平，优化客户体验，②③正确切题。

①：材料涉及的是企业的数字化转型，是经营模式的调整，并不涉及改进制造工艺，降低生产成本，①排除。

④：社会必要劳动时间决定商品的价值，该企业的数字化转型并不能增加产品价值，④不选。

故本题选 C。

17. 【答案】D

【详解】①：小麦是面包、蛋糕的原材料，面包、蛋糕等食品需求增长时，对小麦的需求会增加，小麦的价格会上升而不是下降，①说法错误；

②：倡导居民节约用电，发电对煤炭的需求会有所下降，可能会使煤炭价格下降，但不一定使国内煤炭价格保持在合理区间运行，②不符合题意；

③：根据居民生活用水量实行阶梯式价格，为降低用水成本，居民对节水设备需求会增加，③符合题意；

④：如果肉鸡养殖业持续亏损，生产者获利减少，会减小养殖规模，对玉米等饲料的需求可能会减少，④符合题意。

故本题选 D。

18. 【答案】A

【详解】A：深化社会主义市场经济体制改革，其核心问题是在资源配置中到底是由市场起决定作用还是由政府起决定作用，所以处理好政府和市场的关系问题是深化社会主义市场经济体制改革的核心问题，A符合题意。

BCD：处理好政府和市场的关系问题是深化社会主义市场经济体制改革的核心问题，经济体制改革的核心问题不是处理好改革与稳定、消费与积累、垄断与竞争的关系。其它选项都不符合题干的规定性，BCD排除。

故本题选 A。

19. 【答案】C

【详解】①：我国市场主体力量不断壮大的过程，是我国营商环境不断优化的结果，而不是市场调节的缺陷弱化的过程，①不选。

②：我国的市场主体比较广泛，从事生产、购销、运输和服务性活动的法人和自然人，都是市场主体，②入选。

③：制定宏观经济政策、活跃市场、稳定就业，需要通过政府的经济职能和宏观调控，③不选。

④：宏观政策配置要扎根于、围绕着市场主体，微观政策要持续激发市场主体活力，促进市场的繁荣和经

济社会的发展，④入选。

故本题选 C。

20. 【答案】C

【详解】①：医疗保险属于社会保险，不属于社会福利，因此医保改革不会提高社会福利水平，①传导错误。

②：开展国家医保药品目录准入谈判，筛选创新药进入目录，有利于提升医保基金使用效能，②传导正确

③：医疗保险属于社会保险，满足的是居民的基本保险需求，满足居民高层次保险需求的是商业保险，因此，医保改革不能满足居民高层次保险需求，③传导错误。

④：实现药品集中采购，是国家通过市场化机制以量换价，有利于降低居民医疗负担，④传导正确。

故本题选 C。

21. 【答案】C

【详解】②④：在碳交易启动的情况下，企业碳排放超标，企业需要到碳交易市场购买碳排放量，其运营成本会增加，从而倒逼企业减污降碳，同时企业出售剩余碳排放权，其利润增加，从而刺激企业创新绿色低碳技术，促进绿色生产，②④符合题意。

①：企业碳排放超标，并不会直接导致企业限产、减产，而是在碳交易的背景下，企业需要到市场上购买配额，运营成本增加，企业此时会限产、减产。企业限产、减产并不一定导致企业退出生产市场，①说法错误。

③：企业出售剩余碳排放权，并不会提高碳交易价格，碳交易价格由市场决定，受到供求关系的影响，③说法错误。

故本题选 C。

22. 【答案】D

【详解】③④：设立全国生态日是基于绿色发展是人民对美好生活追求的重要体现，促进人与自然和谐共生是中国式现代化的本质要求，加强生态文明建设是推动经济高质量发展的要求，③④符合题意。

①：劳动是物质财富的源泉，①错误。

②：创新是引领发展的第一动力，②错误。

故本题选 D。

23. 【答案】D

【详解】①：新发展格局以国内大循环为主体，①说法错误。

②④：我国构建的是以国内大循环为主体、国内国际双循环相互促进的新发展格局，②④说法正确。

③：构建新发展格局要增强国内大循环内生动力和可靠性，③说法错误。

故本题选 D。

24. 【答案】A

【详解】①：推进数字乡村建设，有利于推动农产品电子商务发展，拓宽农产品销售渠道，增加农民收入，助力乡村振兴；①传导正确，

②：乡村数字技术发展，有利于推进乡村信息基础设施优化升级，提高农业农村信息化水平，但这与提高

农产品质量无关，②排除。

③：数字乡村建设，有利于加快农业生产数字化改造，促进农业生产专业化高效化，提高农业经济效益，从而助力乡村振兴。③传导正确。

④：数字技术有利于驱动农村普惠金融服务，但普惠金融的重点服务对象通常是指弱势群体，与培育农业新业态新模式，推动农业产业结构转型升级无必然联系，④排除。

故本题选 A。

25. 【答案】C

【详解】②：实行农村土地所有权、承包权、经营权分置改革，可以促进土地经营权合理流转，故②排第一。

①：通过土地经营权合理流转，可以实现土地的适度规模经营，故①排第二。

③：土地的适度规模经营可以提高农业生产率，推进农业现代化，故③排第三。

④：“三权分置”改革与提高农村公共服务水平无关，④不选。

故本题选 C。

26. 【答案】D

【详解】甲：确保消费者从合法渠道购买门票的做法不现实，也太绝对，甲错误。

乙：退票标准应由企业自行设定，乙错误。

丙丁：观众人数在 5000 人以上的大型演出活动，经常遭遇“一票难求”，观众不得不求助于“黄牛”购买高溢价票，因此，要解决上述问题，需要企业加强演出单位票务管理，对大型演出活动实行实名购票和实名入场制度；需要市场监督管理部门加大执法检查力度，严厉打击各类违法违规行为，丙丁正确。

故本题选 D。

27. 【答案】A

【详解】A：市民使用冰雪消费券可享受北京地区部分冰雪场馆门票抵扣优惠，故发放政府消费券可以增强居民消费意愿，消费拉动生产，促进生产发展，从而扩大就业改善民生，A 传导正确。

B：发放政府消费券会增加财政支出，一定程度上扩大财政赤字，能够拉动经济增长，而不是抑制经济过快增长，B 传导错误。

C：发放企业消费券，可以增强消费意愿，但没有增加居民收入，C 传导错误。

D：发放企业消费券是鼓励消费，不能降低生产成本，D 传导错误。

故本题选 A。

28. 【答案】D

【详解】A 不符合题意，该举措不是从供给端入手，因此不符合题意主旨要求；
B 不符合题意，该举措是从消费端入手，因此不符合题意主旨要求；
C 不符合题意，该举措是从投资端入手，因此不符合题意主旨要求；
D 符合题意，“对中小高新技术企业实行企业所得税减免的优惠政策”有利于中小高新技术企业减轻负担，促进其发展，从供给侧入手，解放生产力、提高竞争力，促进宏观经济的发展，故符合题意；
故选 D。

29. 【答案】D

【详解】A：依题意，三家铁路公司形成垄断联盟的目的是通过提高报价提高利润水平，而不是通过增加各自的货运量提高利润水平，A 排除。

B：提高报价可能会降低竞争力，而不是提升竞争力，B 错误。

C：欧盟开出罚单的根本原因是垄断联盟破坏了公平竞争环境，损害了市场主体和消费者利益，而不是因为三家铁路公司是不是更多为本国利益服务，C 错误。

D：三家铁路公司因提高报价而受罚，这说明欧盟的处罚决定可以使铁路货运价格和运营成本更加接近，提升经济效率，D 符合题意。

故本题选 D。

30. 【答案】D

【详解】①：第一图图示表示 2001-2018 年国产稻谷价格总体上升，这意味着国产稻谷价格竞争优势总体降低，①不符合题意。

②：第二、第三图图示表示 2010 年以后，国产小麦与玉米价格开始高于进口小麦与玉米价格，这会失去价格竞争优势，②不符合题意。

③：第四图图示表示国产大豆市场价格高于进口大豆价格，这会使得国产大豆在市场价格方面长期处于国际竞争的劣势，③符合题意。

④：四张图表示国产粮食在国际市场没有价格优势或比较优势降低，这说明我国是农业大国，但在国际粮食市场上的比较优势有待加强，④符合题意。

故本题选 D。

第 II 卷（共 55 分）

二、主观题（本大题共 6 小题，共 55 分）

31. 【答案】（1）①人民生活水平②消费支出③低

（2）2003 年至 2018 年我国城乡居民恩格尔系数均呈下降趋势，表明城乡居民生活水平提高，消费结构得到改善；农村恩格尔系数高于城镇，表明我国仍存在城乡差距。

【分析】背景素材：2003 年至 2018 年我国城乡居民恩格尔系数走势

考点考查：恩格尔系数、新发展理念

能力考查：获取和解读信息、调动和运用知识、描述和阐释事物

核心素养：政治认同、科学精神

【小问 1 详解】

本题属于填空题，考生调用教材知识可知，恩格尔系数是反映“人民生活水平”的重要指标，指“消费支出”占家庭消费总支出的比例。恩格尔系数越“低”，一般表明家庭生活水平越高。

【小问 2 详解】

第一步：审设问。明确主体、知识范围、问题限定和作答角度。

本题属于图表类主观题，本题的设问要求是解读上图所反映的经济信息，考生不仅需要对图中信息进行概括总结，还需要进一步深入分析其所反映的经济信息的本质。

第二步：审图表。审图表标题、图表数据和注释。具体结合图表进行信息解读审材料，提取关键词，链接教材知识。

关键词：由我国城乡居民恩格尔系数走势可知，2003年至2018年我国城乡居民恩格尔系数均呈下降趋势，表明城乡居民生活水平提高，消费结构得到改善；但农村恩格尔系数高于城镇，表明我国仍存在城乡差距。

第三步：整合信息，组织答案。注意设问限定、图表信息以及教材知识与材料、时政信息等相结合。

32. 【答案】①动力；②不平衡；③公平正义；④城乡、区域协调发展、新型工业化、信息化、城镇化、农业现代化（四化）同步；⑤绿水青山就是金山银山；⑥可持续发展；⑦共商共建共享；⑧人类命运共同体；⑨共同富裕

【详解】本题属于填空题。考生需要调用教材基础知识。

①：创新发展注重的是解决发展“动力”问题。

②：协调发展注重的是解决发展“不平衡”问题。

③：共享发展注重的是解决社会“公平正义”问题。

④：协调的发展的具体要求是“城乡、区域协调发展、新型工业化、信息化、城镇化、农业现代化（四化）同步”

⑤：绿色发展要求牢固树立“绿水青山就是金山银山”的理念。

⑥：绿色发展要求坚持“可持续发展”战略。

⑦：开放发展要求遵循“共商共建共享”原则。

⑧：开放发展要求推动构建“人类命运共同体”。

⑨：共享发展要求使全体人民有更多获得感、幸福感、安全感，朝着“共同富裕”方向稳步前进。

33. 【答案】

等级水平	等级描述
水平4	观点鲜明，举例恰当，能明确表达自己的见解；紧扣问题，展开论述；逻辑严密，条理清晰
水平3	观点比较明确，举例比较恰当，能表达自己的见解；能扣住问题展开论述；逻辑性较强，有条理
水平2	观点不明确，举例不够恰当；论述不能指向问题，罗列知识；论述缺乏逻辑，条理性差
水平1	应答与试题无关；或重复试题内容；或没有应答

1. 要有知识，如中国特色社会主义的理论基础；社会基本规律，两个适应；马义中国化三次飞跃（毛思想、中特理论体系、习思想）；人民性是马克思主义本质属性.....

2. 实践举例：新民主主义革命胜利；三大改造，建立社会主义制度；改开/建立社会主义市场经济体制；脱贫攻坚/全面建成小康社会；建设社会主义现代化强国/民族伟大复兴/中国式现代化建设；从严治党、

自我革命、党建.....

3. 要能够把“矢”（理论）和“的”（实践）准确对应起来！可遵循“历史阶段+面临问题（主要矛盾）+理论创新+取得成就”的逻辑链条展开。

【分析】背景素材：马克思主义在中国的实践

考点考查：只有社会主义才能救中国、只有中国特色社会主义才能发展中国

能力考查：获取和解读信息、调动和运用知识、描述和阐释事物

核心素养：政治认同、科学精神、公共参与

【详解】本题属于开放类主观题，要求举两个例子，说明中国共产党如何运用马克思主义之“矢”射中国实践之“的”，考查范围是《中国特色社会主义》，属于大切口宏观知识考查，考生解答本题时首先注意要有“知识”，可以选择社会基本规律、马克思主义中国化理论成果等知识；其次还要有实践举例，可以回答新民主主义革命胜利、建立社会主义制度、改革开放、脱贫攻坚、实现中华民族伟大复兴等；第三，要能够把“矢”（理论）和“的”（实践）准确对应起来，考生可遵循“历史阶段+面临问题（主要矛盾）+理论创新+取得成就”的逻辑链条展开。本题答案具有开放性，言之有理即可。

34. 【答案】①减税降费减少企业负担，保市场主体，增强企业活力，扩大投资和就业。

②财政政策扩大政府投资，提高社会总需求；财政支出优化结构，有助于调整产业结构、实现国家战略。

③降准增加金融机构资金来源，扩大货币供给；降低房贷利率促进房地产和相关行业发展。

【分析】背景素材：我国政府出台一系列调控政策

考点考查：宏观调控、经济高质量发展

能力考查：获取解读信息、调动运用知识、描述阐述事物

核心素养：政治认同、科学精神、公共参与

【详解】第一步：审设问。明确主体、知识范围、问题限定和作答角度。本题需要调用宏观调控的政策的相关知识，从意义角度分析作答。

第二步：审材料。提取关键词，链接教材知识。

关键词①：我国精准实施对中小微企业、个体工商户减税降费→可联系教材经济财政政策知识，减轻企业的负担，增加企业的活力，增加就业。

关键词②：一般公共预算支出安排 26.71 万亿元；财政部门优化支出结构，优先支持已纳入国家“十四五”规划纲要、重点专项规划的重点项目→可联系财政的作用知识，增加社会总需求，刺激消费，优化产业结构，促进经济高质量发展。

关键词③：中国人民银行降低金融机构存款准备金率；调整差别化住房信贷政策→可联系货币政策，向社会释放资金，扩大货币供给，刺激房地产行业发展，刺激经济发展。

第三步：整合信息，组织答案。注意设问限定以及教材知识与材料相结合。

35. 【答案】广大人民群众共享改革发展成果，是社会主义的本质要求。国有企业是中国特色社会主义的重要物质基础和政治基础，是推进国家现代化、保障人民共同利益的重要力量，既要讲求经济效益，也要承担社会责任。“慢火车”的开行是以人民为中心的发展思想的真实写照，有助于推进乡村振兴，贯彻共享发展理念，维护社会公平正义，使全体人民有更多获得感、幸福感、安全感，朝着共同富裕方向稳步前

进。

【分析】背景素材：国家铁路集团有限公司亏本运行 81 对绿皮“慢火车”

考点考查：国有经济、企业经营、以人民为中心的发展思想

能力考查：获取和解读信息，调动和运用知识，描述和阐述事物

核心素养：政治认同、科学精神、公共参与

【详解】第一步：审设问，明确主体、作答范围、问题限定和作答角度。

本题要求考生结合《经济与社会》知识谈谈对这一“完成扶贫任务后是否开行‘慢火车’”这一问题的看法。

解答时，考生应首先认真审阅材料，然后调动教材知识对材料中的两个观点进行评析。

第二步：审材料，通过标点符号、段落等，提取材料有效信息。

有效信息①：“在高铁飞驰的年代，铁路公司仍然亏本运行着 81 对绿皮‘慢火车’---承载着沿线百姓对美好生活的殷切希望”→可联系广大人民群众共享改革发展成果，是社会主义的本质要求。

有效信息②：“中国国家铁路集团有限公司是以铁路客货运输为主业的国有独资公司”“彰显出国有企业在脱贫攻坚中的巨大作用”→可联系国有企业既要讲求经济效益，也要承担社会责任。

有效信息③：“‘慢火车’穿行在崇山峻岭之间，编织出偏远贫困地区一起奋斗、共同圆梦的画卷”→可联系‘慢火车’的开行体现以人民为中心的发展思想，有助于推进乡村振兴，促进共同富裕。

第三步：整合信息，组织答案。

看法：通往共同富裕的路上，依然需要“慢火车”发挥作用。

论据①：广大人民群众共享改革发展成果，是社会主义的本质要求。

论据②：国有企业是推进国家现代化、保障人民共同利益的重要力量，既要讲求经济效益，也要承担社会责任。

论据③：坚持以人民为中心的发展思想，推进乡村振兴，贯彻共享发展理念，维护社会公平正义，增强人民群众获得感、幸福感。

【点睛】认识、评板类主观题解题方法

此类题通常是材料先给出一个社会现象或观点，然后要求利用发散性思维，运用所学的知识谈谈对这一现象或观点的认识，常见设问有“如何认识”“如何看待”“谈谈对某一观点的看法”“分析(评析)某一现象”等等。解答此类题可按照“判断表态(是什么)”——“阐述道理(为什么)”——“明确做法(怎么做)”这一解题思路来作答。第一步,判断表态(是什么)——对题目中说的事或观点作出评论。第二步,阐述道理(为什么),说明做这件事或持这种观点的依据、重要性、必要性、可能性等等。第三步,明确正确的观点或做法。

36. 【答案】哈尔滨市坚持以人民为中心的发展理念，政府积极履行经济职能，为游客提供便利的公共服务；对不合规经营行为进行有效监管，为旅游业发展营造良好营商环境，激发旅游业发展活力。哈尔滨市推进文化和旅游深度融合。将城市的传统文化特色融入文化产品和服务中，打造更具文化魅力的城市品牌，提升了市民游客的幸福感和满意度，促进文旅消费动能持续释放。哈尔滨市打造文旅新产品、新业态、新场景，以供给创造需求，推出更多优质产品和服务，激发文旅市场更加强劲的活力。

【分析】背景素材：哈尔滨被称为 2024 开年首个“顶流”城市

考点考查：更好发挥政府作用、坚持新发展理念、推动经济高质量发展

能力考查：获取和解读信息、调动和运用知识、描述和阐释事物

核心素养：政治认同、科学精神

【详解】第一步：审设问。明确主体、知识范围、问题限定和作答角度。本题属于原因类主观题，考查的范围为《经济与社会》的知识，属于大切口宏观知识考查，要求从原因角度阐释“冰城”缘何成“热点”。

第二步：审材料。提取关键词，链接教材知识。

关键词①：市委市政府号召市民以客为先、以客为亲，充分展示冰城人的“人情味儿”→可联系教材知识坚持以人民为中心的发展理念。

关键词②：文旅部门发布游玩攻略，地下通道铺地毯，免费提供红糖姜茶，景区之间乘坐地铁免费……对一些破坏营商环境的监管却用的是“硬要求”，要求景区、酒店不得旺季涨价，对违规“黑车”处罚不手软→可联系教材知识政府积极履行经济职能，提供便利的公共服务，对不合规经营行为进行有效监管，营造良好营商环境。

关键词③：哈尔滨深挖冰雪资源禀赋，突出地方特色文化；依托大自然给“冰城”得天独厚的礼物，越来越多优秀传统文化在雪花和冰晶中次第绽放→可联系将城市的传统文化特色融入文化产品和服务中，打造更具文化魅力的城市品牌，促进文旅消费动能持续释放。

关键词④：新经济、新业态，让城市发展尽显青春与活力。旅游企业和餐饮店主纷纷“头脑风暴”，创意推出黑马骑士、人造月亮、冰面热气球，“一天一个花样”，满足游客的眼球和味蕾→可联系教材知识打造文旅新产品、新业态、新场景，以供给创造需求，推出更多优质产品和服务，激发文旅市场更加强劲的活力。

第三步：整合信息，组织答案。注意设问限定以及教材知识与材料、时政信息等相结合。

北京高一高二高三期末试题下载

京考一点通团队整理了【**2024年1月北京各区各年级期末试题&答案汇总**】专题，及时更新最新试题及答案。

通过【**京考一点通**】公众号，对话框回复【**期末**】或者点击公众号底部栏目<**试题专区**>，进入各年级汇总专题，查看并下载电子版试题及答案！



微信搜一搜

京考一点通

