

2022 北京西城初三一模

历史

考生须知

1. 本试卷共 8 页，共两部分，共 24 题，满分 70 分。考试时间 70 分钟。
2. 在试卷和草稿纸上准确填写姓名、准考证号、考场号和座位号。
3. 试题答案一律填涂或书写在答题卡上，在试卷上作答无效。
4. 在答题卡上，选择题用 2B 铅笔作答，其他试题用黑色字迹签字笔作答。
5. 考试结束，将本试卷、答案卡和草稿纸一并交回。

第一部分


本部分共 20 题，每题 1.5 分，共 30 分。在每题列出的四个选项中，选出最符合题目要求的一项。

1. 学者王国维认为，“中国政治与文化之变革，莫剧于殷、周之际。”为稳定周初的政治形势，西周实行的政治制度是（ ）
A. 禅让制 B. 分封制 C. 郡县制 D. 行省制
2. 今年是农历壬寅虎年，古人赋予虎勇猛刚强的含义，兵符也多铸成虎形。下图分别是战国时期的秦国“杜虎符”和秦朝的“阳陵虎符”，从中可以获得的信息有（ ）



兵家之符，右才（在）君，左才杜 甲兵之符，右才皇帝，左才阳陵

- ①秦国开始了商鞅变法 ②秦朝与秦国制度上有传承
③秦朝开创了虎符制度 ④秦朝军权掌握在皇帝手中
A. ①② B. ①③ C. ②④ D. ③④
3. 中国古代以农业立国，为了总结经验，指导农业生产，编写了大量的农学类著作。我国现存最早的一部完整的农书是（ ）
A. 《齐民要术》 B. 《农书》 C. 《农政全书》 D. 《天工开物》
4. 北宋时南方人在全国统一科举考试中优势明显，自南宋起，江浙一带尤其成为人才集中 地区。这一现象产生的原因是（ ）
A. 辽宋夏金的并立 B. 经济重心的南移 C. 中央集权的加强 D. 重文轻武的风气
5. 以下示意图呈现了元明清时期中央对西藏地区管辖 历史脉络。其中①处应为（ ）



- A. 设置西域都护 B. 设北庭都护府 C. 设立宣政院 D. 设伊犁将军

6. 清政府在 19 世纪 50~60 年代受到太平天国的深重打击，又遭到英法联军等外国武装侵犯，在内忧外患的形势下，清朝统治者内部一些比较开明的官员开始了（ ）

- A. 开眼看世界 B. 洋务运动 C. 戊戌变法 D. 实业救国

7. 下面是清至民国初期民间男性服饰变化的比较表。结合所学分析，这一时期男性服饰变化的原因有（ ）

时期 项目	鸦片战争之前	晚清至民国初期
款式	长袍马褂	长袍马褂、西装、西式鞋履
面料	棉布、土布、绸缎等	洋纱、洋呢、洋绸、洋缎等



①自然经济逐渐解体 ②西方文化不断传入 ③近代中国政治变革 ④义和团运动 兴起

- A. ①②③ B. ①②④ C. ①③④ D. ②③④

8. 《母亲》是作家丁玲写的一部以辛亥革命为背景的长篇小说，文中写到“母亲”在革命友人的帮助和鼓励下，忍痛放足，成为一名独立自强的新女性，“母亲”实现了从“臣民”到“国民”的转型。从中可以看出辛亥革命的意义是（ ）

- A. 中国的国际地位得到提高 B. 促进了民族工业的发展
C. 人们的生活习惯完全改变 D. 打开了思想解放的闸门

9. 为了纪念某运动，学生们制作了板报，其中有以下几项内容，据此判断该运动是（ ）

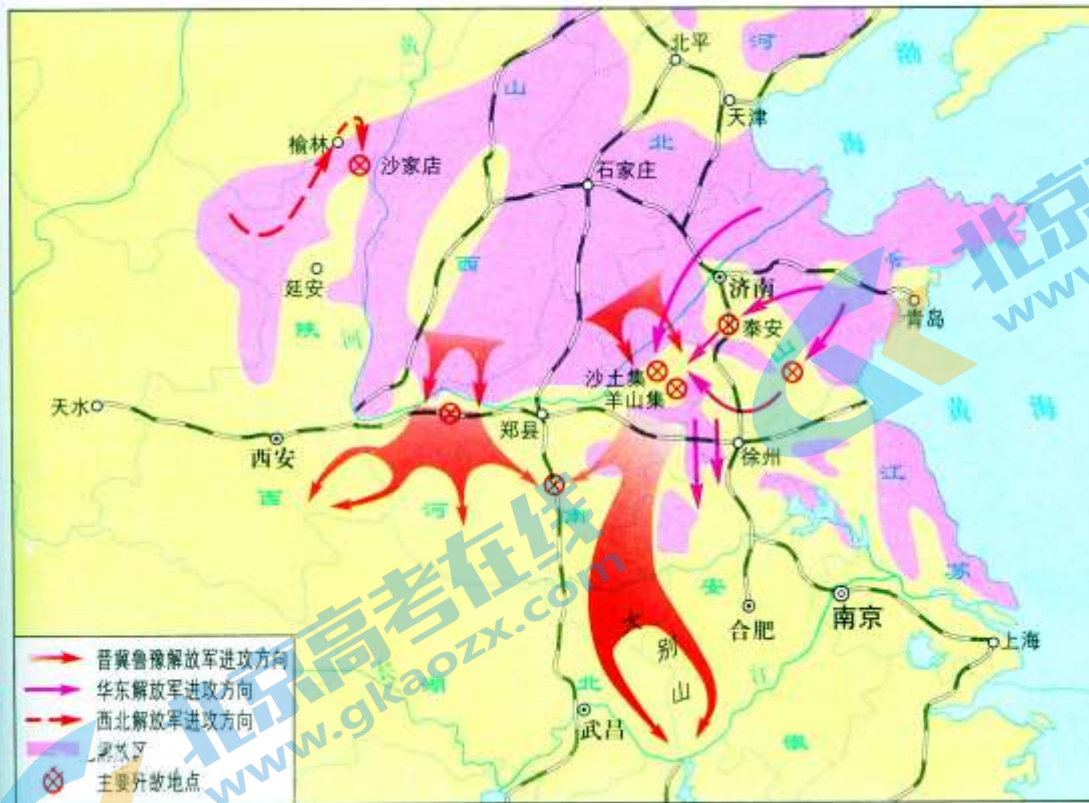
		<p>务望全国工商各界，一律起来设法开国民大会，外争主权，内除国贼。 中国存亡，就在此一举了！</p> <p style="text-align: right;">——《北京学界全体宣言》</p>
-------------------------------------------------------------------------------------	-------------------------------------------------------------------------------------	--------------------------------------------------------------------------------------------------------

- A. 武昌起义 B. 二次革命 C. 五四运动 D. 南昌起义

10. 它的胜利，“粉碎了国民党反动派消灭红军的企图，保存了党和红军的基干力量，使中国革命转危为安。播下了革命种子，打开了中国革命的新局面。”以上叙述说的是（ ）

- A. 马克思主义的传播 B. 井冈山会师的情 C. 遵义会议召开的背景 D. 红军长征胜利的影响

11. 地图包含丰富的历史信息。根据右侧示意图显示的信息判断，下列说法正确的是（ ）



- A. 创建农村革命根据地，开辟了革命新道路
 B. 开展自卫反击战，粉碎国民党军全面进攻
 C. 千里跃进大别山，揭开了战略进攻的序幕
 D. 淮海战役，解放长江中下游以北广大地区

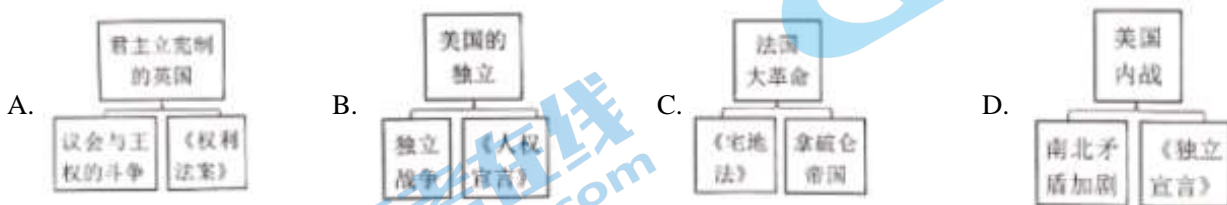
12. 意大利的佛罗伦萨在 15 世纪和 16 世纪达到经济上和文化上的顶峰，众多卓越的艺术家在此留下了大量闪耀着时代光芒的建筑、雕塑和绘画作品。这个“时代”是（ ）

- A. 封建庄园盛行 B. 文艺复兴 C. 启蒙运动 D. 资本原始积累

13. 语言的交流互鉴是历史发展中的常见现象。在美式英语中，一些单词来自印第安语，如 *pone*（玉米饼）、*woodchuck*（土拨鼠）等；还有一些单词来自非洲黑人语言，如 *tote*（搬运）、*okra*（秋葵）、*banana*（香蕉）等。结合所学判断，美式英语最早可能现于（ ）

- A. 17 世纪 B. 19 世纪 C. 20 世纪 D. 21 世纪

14. 绘制示意图梳理知识结构是历史学习的重要方法之一。以下示意图符合史实的是（ ）



15. 到 1820 年，“他已经从西班牙统治下解放了十八个省份，把以前的由新格拉纳达总督辖区的地区、委内瑞拉特别行政区和基多共和国合并建立了大哥伦比亚共和国，自己担任共和国第一任军队总司令”。文中的“他”是指（ ）

- A. 卡德纳斯 B. 甘地 C. 扎格鲁尔 D. 玻利瓦尔

16. 19 世纪上半叶，农奴在俄国全国人口中占很大比重，他们世代被束缚在土地上，不能自由迁徙和务工经商。农村贫困落后，农奴购买力低，这些影响了国内市场的发展。从中可以看出当时的俄国（ ）

- A. 农奴制的盛行成为发展的阻碍
B. 农业生产非常发达
C. 已经走上了资本主义发展道路
D. 无产阶级队伍壮大

17. 有人认为 1868 年开始的日本“明治维新”，比较好地完成了构建现代国家的进程，不仅从军事层面、技术层面、制度层面学习西方，还上升到了文化层面。结合右侧图片上的情景分析，“文化层面”的革新措施指的是（ ）



- A. 废藩置县
B. 殖产兴业
C. 创办新军
D. 文明开化

18. 教师在介绍某一历史人物的成就时，着重提到了“万有引力定律”“光学分析”“微积分”“自然哲学的数学原理”等词，据此判断，此历史人物应是（ ）

- A. 法拉第
B. 诺贝尔
C. 牛顿
D. 达尔文

19. 法国驻印度支那总督于 1926 年写道：“这场把欧洲浸润在血泊中的战争已经……唤醒了远离我们的土地上人民的独立意识……过去几年里，一切都变了。不论是人还是思想，就连亚洲本身都变了。”这说明第一次世界大战的影响是（ ）

- A. 帝国主义国家重新划分了势力范围
B. 亚洲民族民主运动高涨
C. 法国已经彻底失去了欧洲大国地位
D. 欧洲的优势地位被动摇

20. 下列第二次世界大战中的一些重大事件，按照其发生的先后顺序，排列正确的是（ ）

- ①诺曼底登陆 ②雅尔塔会议的召开 ③德军突袭波兰 ④斯大林格勒保卫战
A. ②①③④
B. ②③①④
C. ③②④①
D. ③④①②

第二部分

本部分共 4 题，共 40 分。

21. “行万里路”“读万卷书”

材料一 在甲骨文发现之前，人们对商代的认识是相当有限的。《竹书纪年》是春秋时期的一部史书，其中记述“（商）自盘庚迁殷至纣之灭，二百七十三年更不徙都”。甲骨文出土后，通过对甲骨刻辞及甲骨出土坑位，与之共出的遗迹、遗物状况的研究，认为《竹书纪年》所记的完全可信。

——摘编自李建武等《甲骨文与古都安阳》

(1) 依据材料一并结合所学，分析“甲骨文出土”的意义。

材料二 北魏迁都洛阳以前，云冈石窟的飞天服饰取材自北方民族的日常服饰，形象和服饰突出鲜卑族胡风胡韵的特点。其中第 7 窟飞天脸圆发短，着短裙，身躯粗壮，有憨厚质朴之态，体现了鲜卑民族的精神，具有北方游牧民族之气质。迁都洛阳之后云冈石窟造像样式发生变化，其中第 34 窟飞天最有代表性，面貌清瘦，身材丰满，腰部纤细，是兼有鲜卑族与汉族特点的美丽女性形象，体现了鲜卑文化与中原汉文化的完美交融。

(2) 依据材料二，概括北魏迁都洛阳前后云冈石窟飞天形象的变化。结合所学，写出推动这一变化的重大历史事件。

材料三 《近代中国社会的新陈代谢》目录（部分）

第二章 东方与西方	第九章 日本冲来了
第四章 炮口下的震撼	第十章 变与不变的哲学
第七章 近代化一小步	第十七章 “揖美追欧，旧邦新造”
	第十九章 新文化运动

注：“新陈代谢”比喻新的事物滋生发展，代替旧的事物。

(3) 依据材料三，从目录中任选一章，结合中国近代史的史实，简要说明《近代中国社会的新陈代谢》中“新陈代谢”的含义。

材料四 北京有三千余年建城史，八百余年建都史。古都文化源远流长，京味文化脍炙人口。讲好北京故事，述说风土人情、民间万象、人生百味，是一件非常有意义的事。现策划一套丛书，来讲述老北京的故事。内容包括《古都文脉》《胡同街巷》《京城会馆》《名人故居》《风物民俗》《饮食名饌》《戏曲曲艺》等。

——摘编自安东等《讲好北京故事述说京味文化》

(4) 从材料四中任选一本书，制作一份写作计划（包括体现此书主题的一处遗址、遗迹，或一件实物等，说明其与主题的关系，分析其文化价值。）

22. 中国共产党 诞生，是中国历史上开天辟地的大事变，具有伟大而深远的意义。



材料一 1922年7月，中国共产党召开了第二次全国代表大会，《中国共产党第二次全国代表大会宣言》中指出，“中国共产党的奋斗目标是：消除内乱，打倒军阀，建设国内和平；推翻国际帝国主义的压迫，达到中华民族完全独立；统一中国本部（东三省在内）为真正民主共和国……”。

(1) 依据材料一，概述在民主革命阶段党的主要任务。

材料二 歌曲《八月桂花遍地开》是为庆祝中华苏维埃共和国临时中央政府成立所作，于20世纪30年代兴起，在全国多地传唱。歌中唱道，“八月桂花遍地开，鲜红的旗帜竖起来……粉碎了蒋介石的大围攻，一杆红旗飘在空中，红军队伍要扩充。保卫工农新政权，带领群众闹革命，红色战士最光荣。亲爱的工友们哪，亲爱的农友们哪，拿起刀枪都来当红军。”

(2) 依据材料二，概括20世纪30年代革命形势发展的表现。

材料三 中国共产党是全民族抗战的中流砥柱

<p>①</p> <p>中国共产党在卢沟桥事变发生第二天就通电全国，号召“全中国同胞，政府，与军队，团结起来，筑成民族统一战线的坚固长城，抵抗日寇的侵略！”“国共两党亲密合作抵抗日寇的新进攻！”</p> <p>——摘自《中国共产党简史》</p>	<p>②</p>  <p>1938年，毛泽东撰写《论持久战》，初步总结了全国抗</p>	<p>③</p>  <p>1940年八路军总部发动百团大战，图为八路军破袭日军交通线。</p>
----------------------------------------------------------------------------------------------------------------------------	--------------------------------------------------------------------------------------------------------------------------------	--------------------------------------------------------------------------------------------------------------------------------------

	战经验，系统阐明了党的抗日持久战方针。	
--	---------------------	--

(3) 从材料三中任选其一，结合所学，谈谈你对“中国共产党是全民族抗战的中流砥柱”的理解。

材料四 一九四九年中国人民解放军将向长江以南进军，将要获得比一九四八年更加伟大的胜利。



一九四九年将要召集没有反动分子参加的以完成人民革命任务为目标的政治协商会议，宣告中华人民共和国的成立，并组成共和国的中央政府。这个政府将是一个在中国共产党领导之下的、有各民主党派各人民团体的适当的代表人物参加的民主联合政府。

——毛泽东 1948 年 12 月 30 日为新华社写的 1949 年新年献词（节选）

(4) 依据材料四，指出中国共产党为了实现上述任务而进行的革命实践。


23. 沟通·交流·发展

材料一

 <p>秦驰道示意图</p> <p>公元前 220 年，秦始皇下令修筑以咸阳为中心通往各地的驰道，包括上郡道、东方道等 9 条，工程征发数十万人。车轨是工匠用防腐处理过的木材所做，部分至今保存完好。</p>	 <p>① 示意图</p> <p>605 年起，炀帝诏发开凿此工程，仅开凿永济渠就征发河北 100 多万民众。建设中充分利用之前留下的河道（如邗沟），并依据自然水道疏浚而成。</p>
-------------------------------------------------------------------------------------------------------------------------------------------------------------------------------------------	--------------------------------------------------------------------------------------------------------------------------------------------------------------------------------

(1) 将①处补充完整。依据材料，结合所学，概括两项工程的共同点。

材料二



左图是 1591 年出版的《新发现》一书的插图：美洲的发现、罗盘的发明以及二者之间印刷机的发明被赋予了最重要的位置。火药、钟表、丝织、蒸馏、带马镫的马鞍也得到了呈现。

——（英）戴维·伍顿《科学的诞生：科学革命新史》

(2) 从材料二中的“发现”任选其一，仿照示例，进行解释。

示例

带马镫的马鞍：最早的马镫出现于中国魏晋时期，它与马鞍相配合，使得骑马更为便捷和稳定，从而影响到战争形态，甚至催生了欧洲封建社会。

材料三 19 世纪前人们通过帆船或骑马，一天的行程只有 100 英里。19 世纪铁制船舶和蒸汽动力取代了木制船只和风帆。1838 年，定期跨大西洋航行开启，过去这条航线一般需要两个月的航行时间，到 1857 年，只需要 9 天。大约在 1866 年，大西洋下铺设了 1 条通讯电缆；到 1900 年，大西洋下共铺设了 15 条电缆，推进了大陆间的交流。

——摘编自（美）斯蒂芬·所罗门《水：财富、权力和文明的史诗》

(3) 依据材料三，说出 19 世纪前后航运和通讯领域发生的变化。结合所学，分别说明变化的原因。

24. 在历史进程中，人类不断解决发展中遇到的问题，推动社会发展。

材料一 人类进入 19 世纪，生产力水平有了很大提高，无产阶级却愈加贫困，马克思和恩格斯对人类社会的发展规律进行了深入思考，并于 1848 年发表了《共产党宣言》。

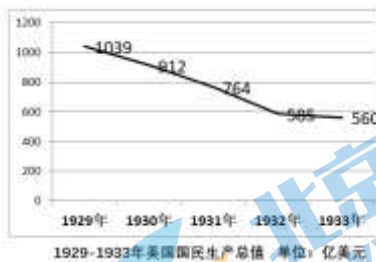
时间	《共产党宣言》的传播情况
1848 年	德文版本发表
1869 年	首个俄文译本出现
1889 年	有英文译本 8 个，法文译本 11 个，俄文版本 12 个，德文版本 21 个
1895 年	已有 20 多个文种，130 多个版本，发行量数以万计
1920 年	陈望道翻译的中文全译本出版
1973 年	已出版 2434.1 万册
2018 年	有 1000 多种版本，是世界上发行量最大的社会政治和人文社会科学著作

——摘编自杨金海《共产党宣言》在世界的翻译传播及其影响》

(1) 依据材料一，概括《共产党宣言》传播的特点。结合所学，说明《共产党宣言》发表的意义。

材料二

1932年2月美国召开的国会委员会上有这样的描述：在俄勒冈州，我看到大量苹果烂到地里，一箱苹果200个只卖40到50美分，与此同时，数以百万计的孩子却因父母的贫穷今年冬天吃不到一个苹果。西部和西南部的路上挤满了饥饿的搭便车者，每一条铁路线都能见到无家可归者燃起的营地篝火。



(2) 依据材料二，指出这一时期美国出现的社会问题。结合所学，说出美国政府的应对之策。

材料三

DECLARATION BY UNITED NATIONS

1942年1月，美、英、苏、中等26个国家的代表签署《联合国宣言》，建立世界反法西斯同盟。从此，同盟国家协同作战，在以后三年半的时间里，相继打败意大利、德国和日本。

《联合国宣言》

(3) 概括材料三的主题。结合所学，分析《联合国宣言》签署的背景。

参考答案

1. 学者王国维认为，“中国政治与文化之变革，莫剧于殷、周之际。”为稳定周初的政治形势，西周实行的政治制度是（ ）

- A. 禅让制 B. 分封制 C. 郡县制 D. 行省制

【1 题答案】

【答案】B

【解析】

【详解】结合所学可知，分封制是西周的政治制度。从目的看，是为了巩固奴隶制国家政权。从具体做法看，周王把王族、功臣和先代的贵族分封到各地做诸侯，建立诸侯国。从本质上看，分封制作为一种国家制度，它属于上层建筑，主要是解决统治阶级内部矛盾，B 项正确；禅让制是中国原始社会末期推举部落联盟首领的制度。排除 A 项；郡县制，是中国古代分封制度之后出现的以郡统县的两级地方管理行政制度，几乎盛行整个封建时代。主要是从秦朝开始的，排除 C 项；行省制创立的时期是元朝，排除 D 项。故选 B 项。

2. 今年是农历壬寅虎年，古人赋予虎勇猛刚强的含义，兵符也多铸成虎形。下图分别是战国时期的秦国“杜虎符”和秦朝的“阳陵虎符”，从中可以获得的信息有（ ）



兵家之符，右才（ ）君，左才杜 甲兵之符，右才皇帝，左才阳陵

- ①秦国开始了商鞅变法 ②秦朝与秦国制度上有传承
③秦朝开创了虎符制度 ④秦朝军权掌握在皇帝手中

- A. ①② B. ①③ C. ②④ D. ③④

【2 题答案】

【答案】C

【解析】

【详解】根据所学可知，图片 2 和图片 1 大体相同，这说明秦朝与秦国制度上有传承；兵符，军事权力的物化，掌握在皇帝手中，没有兵符，大将不能调兵，体现了皇帝对军队的控制，C 项正确。兵符体现不出商鞅变法，东周时就有了虎符制度，排除 ABD 三项。故选 C 项。

3. 中国古代以农业立国，为了总结经验，指导农业生产，编写了大量的农学类著作。我国现存最早的一部完整的农书是（ ）

- A. 《齐民要术》 B. 《农书》 C. 《农政全书》 D. 《天工开物》

【3 题答案】

【答案】A

【解析】

【详解】《齐民要术》大约成书于北魏末年(公元 533 年-544 年),是北朝北魏时期,南朝宋至梁时期,中国杰出农学家贾思勰所著的一部综合性农学著作,也是世界农学史上专著之一,是中国现存最早的一部完整的农书, A 项正确;《农书》是元代著作,《农政全书》《天工开物》均是明代著作,排除 BCD 三项。故选 A 项。

4. 北宋时南方人在全国统一科举考试中优势明显,自南宋起,江浙一带尤其成为人才集中的地区。这一现象产生的原因是()

- A. 辽宋夏金的并立 B. 经济重心的南移 C. 中央集权的加强 D. 重文轻武的风气


【4 题答案】

【答案】B

【解析】

【详解】根据所学可知,到南宋,经济重心南移,随之,南方也更加重视科举,这反过来又推动了南方的发展, B 项正确;材料说的是南宋,排除 A 项;中央集权的加强、重文轻武的风气在全国均是,不是仅在南方,排除 CD 两项。故选 B 项。

5. 以下示意图呈现了元明清时期中央对西藏地区管辖的历史脉络。其中①处应为()



- A. 设置西域都护 B. 设北庭都护府 C. 设立宣政院 D. 设伊犁将军

【5 题答案】

【答案】C

【解析】

【详解】根据材料“元明清时期中央对西藏地区管辖”并结合所学可知,元政府加强对西藏的管辖,在中央设置宣政院,负责管理藏族地区的行政事务,西藏成为我国的正式行政区,①处应为宣政院, C 项正确;汉代设置西域都护,排除 A 项;元朝设置设北庭都护府管辖新疆地区,排除 B 项;清朝设置伊犁将军管辖新疆地区,排除 D 项。故选 C 项。

6. 清政府在 19 世纪 50~60 年代受到太平天国的深重打击,又遭到英法联军等外国武装侵犯,在内忧外患的形势下,清朝统治者内部一些比较开明的官员开始了()

- A. 开眼看世界 B. 洋务运动 C. 戊戌变法 D. 实业救国

【6 题答案】

【答案】B

【解析】

【详解】根据所学可知,清政府在 19 世纪 50~60 年代受到太平天国的深重打击,又遭到英法联军等外国武装侵犯,在内忧外患的形势下,清朝统治者内部一些比较开明的官员开始了洋务运动,这是地主阶级的自救运动, B 项正确;鸦片战争后开眼看世界,戊戌变法是资产阶级领导的,实业救国是资产阶级的救国之路,排除 ACD 三项。故选 B 项。

7. 下面是清至民国初期民间男性服饰变化的比较表。结合所学分析,这一时期男性服饰变化的原因有()

时期	鸦片战争之前	晚清至民国初期

项目		
款式	长袍马褂	长袍马褂、西装、西式鞋履
面料	棉布、土布、绸缎等	洋纱、洋呢、洋绸、洋缎等

①自然经济逐渐解体 ②西方文化不断传入 ③近代中国政治变革 ④义和团运动的兴起

- A. ①②③ B. ①②④ C. ①③④ D. ②③④

【7题答案】

【答案】A

【解析】

【详解】根据所学可知，1840年以来，由于自然经济逐渐解体、西方文化不断传入、近代中国政治变革，人们的思想也开始变化，反映到服饰上面，长袍马褂、西装、西式鞋履并存，棉布、土布、绸缎等被洋纱、洋呢、洋绸、洋缎等代替，A项正确；义和团运动在服饰上体现的是中国的传统，排除BCD三项。故选A项。

8. 《母亲》是作家丁玲写的一部以辛亥革命为背景的长篇小说，文中写到“母亲”在革命友人的帮助和鼓励下，忍痛放足，成为一名独立自强的新女性，“母亲”实现了从“臣民”到“国民”的转型。从中可以看出辛亥革命的意义是

()

- A. 中国的国际地位得到提高 B. 促进了民族工业的发展
C. 人们的生活习惯完全改变 D. 打开了思想解放的闸门



【8题答案】

【答案】D

【解析】

【详解】从“臣民”到“国民”体现的是对政治制度的探索与变革。和人民思想的解放，辛亥革命主张推翻清朝统治，建立资产阶级民主共和国，充分体现了从“臣民”到“国民”的转变。促进了人民的思想解放，D项正确；材料中未涉及中国的国际地位变化，排除A项；材料与民族工业无关，排除B项；“完全”一词说法过于绝对，排除C项。故选D项。

9. 为了纪念某运动，学生们制作了板报，其中有以下几项内容，据此判断该运动是 ()

		<p>务望全国工商各界，一律起来设法开国民大会，外争主权，内除国贼。中国存亡，就在此一举了！</p> <p style="text-align: right;">——《北京学界全体宣言》</p>
-------------------------------------------------------------------------------------	-------------------------------------------------------------------------------------	---------------------------------------------------------------------------------------------------

- A. 武昌起义 B. 二次革命 C. 五四运动 D. 南昌起义

【9题答案】

【答案】C

【解析】

【详解】根据所学可知，1919年，五四运动爆发，它主张外争主权、内除国贼，体现了爱国的性质，C项正确；武昌起义反对清朝，二次革命反对袁世凯，南昌起义反抗国民党，排除ABD三项。故选C项。

10. 它的胜利，“粉碎了国民党反动派消灭红军的企图，保存了党和红军的基干力量，使中国革命转危为安。播下了革命种子，打开了中国革命的新局面。”以上叙述说的是（ ）

- A. 马克思主义的传播 B. 井冈山会师的情 C. 遵义会议召开的背景 D. 红军长征胜利的影响

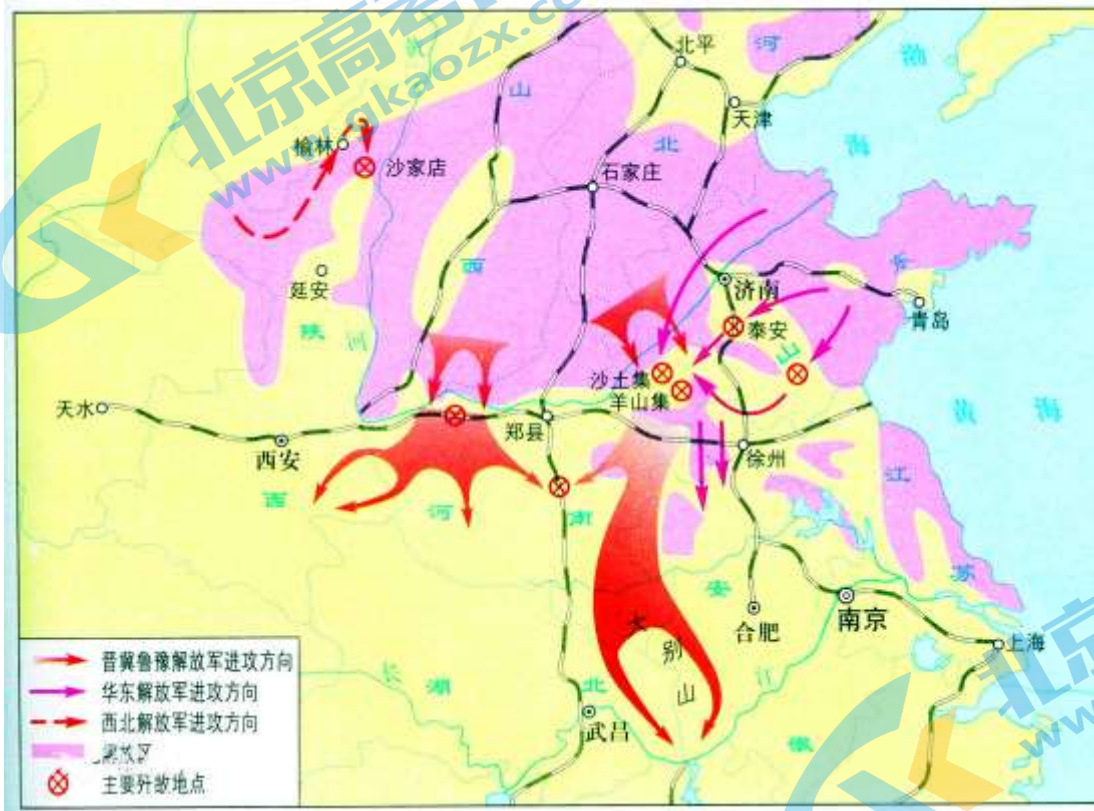
【10题答案】

【答案】D

【解析】

【详解】根据所学可知，1936年，三大红军主力会师，长征胜利结束，它粉碎了国民党反动派消灭红军的企图，保存了党和红军的基干力量，使中国革命转危为安。播下了革命种子，打开了中国革命的新局面，D项正确；马克思主义开始在中国传播时红军还没有诞生，井冈山会师体现了红军力量的壮大，遵义会议标志着中国共产党从幼稚走向成熟，排除ABC三项。故选D项。

11. 地图包含丰富的历史信息。根据右侧示意图显示的信息判断，下列说法正确的是（ ）



- A. 创建农村革命根据地，开辟了革命新道路 B. 开展自卫反击战，粉碎国民党军全面进攻
C. 千里跃进大别山，揭开了战略进攻的序幕 D. 淮海战役，解放长江中下游以北广大地区

【11题答案】

【答案】C

【解析】

【详解】根据图片信息并结合所学可知，描述了1947年夏，刘伯承、邓小平率领晋冀鲁豫解放军，千里跃进大别山，开辟了大别山根据地，牵制了国民党军队，揭开了人民解放军全国性战略进攻序幕，C项正确；创建农村革命根据地，开辟了革命新道路与图片中的行军路线不符合，排除A项；开展自卫反击战，粉碎国民党军全面进攻，主要在陕北和山东解放区，与图片地点不符合，排除B项；淮海战役，解放长江中下游以北广大地区与图片中的行军路线不符合，排除D项。故选C项。

12. 意大利的佛罗伦萨在 15 世纪和 16 世纪达到经济上和文化上的顶峰，众多卓越的艺术家在此留下了大量闪耀着时代光芒的建筑、雕塑和绘画作品。这个“时代”是（ ）

- A. 封建庄园盛行 B. 文艺复兴 C. 启蒙运动 D. 资本原始积累

【12 题答案】

【答案】B

【解析】

【详解】根据所学可知，意大利 佛罗伦萨在 15 世纪和 16 世纪达到经济上和文化上的顶峰，众多卓越的艺术家在此留下了大量闪耀着时代光芒的建筑、雕塑和绘画作品，它们体现人文主义，这就是 文艺复兴，它推动了资本主义的产生和发展，B 项正确；封建庄园盛行是封建主义的，启蒙运动提倡理性，资本原始积累体现的是政治而不是思想，排除 ACD 三项。故选 B 项。

13. 语言的交流互鉴是历史发展中的常见现象。在美式英语中，一些单词来自印第安语，如 pone（玉米饼）、woodchuck（土拨鼠）等；还有一些单词来自非洲黑人语言，如 tote（搬运）、okra（秋葵）、banana（香蕉）等。结合所学判断，美式英语最早可能出现于（ ）

- A. 17 世纪 B. 19 世纪 C. 20 世纪 D. 21 世纪

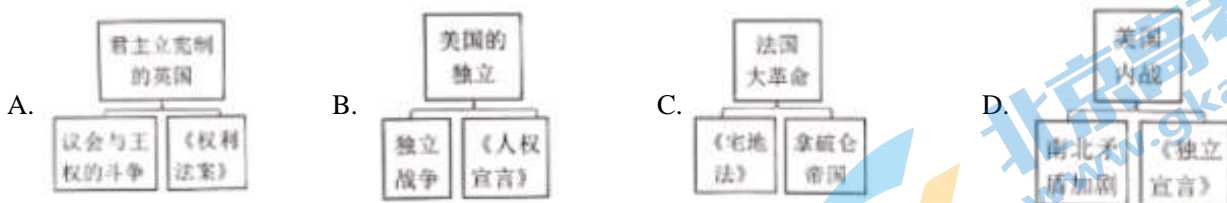
【13 题答案】

【答案】A

【解析】

【详解】根据所学可知，17 世纪，一些英国来到北美殖民，在交往中，他们和当地的印第安人、从非洲贩运来的黑人融合，于是在美式英语中，一些单词来自印第安语，如 pone（玉米饼）、woodchuck（土拨鼠）等；还有一些单词来自非洲黑人语言，如 tote（搬运）、okra（秋葵）、banana（香蕉），A 项正确，排除 BCD 三项。故选 A 项。

14. 绘制示意图梳理知识结构是历史学习的重要方法之一。以下示意图符合史实的是（ ）



【14 题答案】

【答案】A

【解析】

【详解】根据所学可知，在英国，议会为限制王权，经过长时间的斗争，最终通过《权利法案》，逐渐形成君主立宪制，A 项正确；独立战争中颁布《独立宣言》，法国大革命中颁布《人权宣言》，美国内战中通过《宅地法》，排除 BCD 三项。故选 A 项。

15. 到 1820 年，“他已经从西班牙统治下解放了十八个省份，把以前的由新格拉纳达总督辖区的地区、委内瑞拉特别行政区和基多共和国合并建立了大哥伦比亚共和国，自己担任共和国第一任军队总司令”。文中的“他”是指（ ）

- A. 卡德纳斯 B. 甘地 C. 扎格鲁尔 D. 玻利瓦尔

【15 题答案】

【答案】D

【解析】

【详解】根据所学可知，在拉丁美洲独立运动中，到 1820 年，玻利瓦尔已经从西班牙统治下解放了十八个省份，把以前的由新格拉纳达总督辖区的地区、委内瑞拉特别行政区和基多共和国合并建立了大哥伦比亚共和国，自己担任共和国第一任军队总司令，D 项正确；卡德纳斯是墨西哥政治家，甘地是印度政治家，扎格鲁尔埃及政治家，排除 ABC 三项。故选 D 项。

16. 19 世纪上半叶，农奴在俄国全国人口中占很大比重，他们世代被束缚在土地上，不能自由迁徙和务工经商。农村贫困落后，农奴购买力低，这些影响了国内市场的发展。从中可以看出当时的俄国（ ）

- A. 农奴制的盛行成为发展的阻碍
- B. 农业生产非常发达
- C. 已经走上了资本主义发展道路
- D. 无产阶级队伍壮大

【16 题答案】

【答案】A

【解析】

【详解】根据所学和材料“农奴、农村贫困落后，农奴购买力低，这些影响了国内市场的发展”可知，这体现出，农奴制延缓了社会的发展，A 项正确；材料是说农奴制和社会发展之间的关系，不是说农业生产、资本主义、无产阶级，排除 BCD 三项。故选 A 项。

17. 有人认为 1868 年开始的日本“明治维新”，比较好地完成了构建现代国家的进程，不仅从军事层面、技术层面、制度层面学习西方，还上升到了文化层面。结合右侧图片上的情景分析，“文化层面”的革新措施指的是（ ）



- A. 废藩置县
- B. 殖产兴业
- C. 创办新军
- D. 文明开化

【17 题答案】

【答案】D

【解析】

【详解】根据材料“明治维新”并结合所学可知，“文化层面”的革新措施指的是文明开化，D 项正确；废藩置县属于制度层面措施，排除 A 项；殖产兴业属于经济层面措施，排除 B 项；创办新军属于军事层面措施，排除 C 项。故选 D 项。

18. 教师在介绍某一历史人物的成就时，着重提到了“万有引力定律”“光学分析”“微积分”“自然哲学的数学原理”等词，据此判断，此历史人物应是（ ）

- A. 法拉第
- B. 诺贝尔
- C. 牛顿
- D. 达尔文

【18 题答案】

【答案】C

【解析】

【详解】根据所学可知，牛顿是英国著名物理学家，他的成就有“万有引力定律”“光学分析”“微积分”“自然哲学的数学原理”，C项正确；法拉第的代表作是《电学实验研究》，诺贝尔是瑞典化学家，达尔文是生物学家，排除ABD三项。故选C项。

19. 法国驻印度支那总督于1926年写道：“这场把欧洲浸润在血泊中的战争已经……唤醒了远离我们的土地上人民的独立意识……过去几年里，一切都变了。不论是人还是思想，就连亚洲本身都变了。”这说明第一次世界大战的影响是（ ）

- A. 帝国主义国家重新划分了势力范围
B. 亚洲民族民主运动高涨
C. 法国已经彻底失去了欧洲大国地位
D. 欧洲的优势地位被动摇

【19题答案】

【答案】B

【解析】

【详解】根据所学和材料“这场把欧洲浸润在血泊中的战争已经……唤醒了远离我们的土地上人民的独立意识、亚洲本身都变了”可知，这是说，战争推动了亚洲民族民主运动高涨，B项正确；材料是说，世界大战推动了亚洲的民族解放运动，不是说划分了势力范围、法国失去了欧洲大国地位、欧洲的优势地位，排除ACD三项。故选B项。

20. 下列第二次世界大战中的一些重大事件，按照其发生的先后顺序，排列正确的是（ ）

①诺曼底登陆 ②雅尔塔会议的召开 ③德军突袭波兰 ④斯大林格勒保卫战

- A. ②①③④
B. ②③①④
C. ③②④①
D. ③④①②

【20题答案】

【答案】D

【解析】

【详解】结合所学第二次世界大战的史实可知，①诺曼底登陆发生在1944年；②雅尔塔会议召开于1945年2月；③德军突袭波兰是1939年；④斯大林格勒保卫战爆发于1942年，按照其发生的先后顺序排列正确的是③④①②，D项正确；排除A、B、C三项。故选D项。

第二部分

本部分共4题，共40分。

21. “行万里路”“读万卷书”

材料一 在甲骨文发现之前，人们对商代的认识是相当有限的。《竹书纪年》是春秋时期的一部史书，其中记述“（商）自盘庚迁般至纣之灭，二百七十三年更不徙都”。甲骨文出土后，通过对甲骨刻辞及甲骨出土坑位，与之共出的遗迹、遗物状况的研究，认为《竹书纪年》所记的完全可信。

——摘编自李建武等《甲骨文与古都安阳》

(1) 依据材料一并结合所学，分析“甲骨文出土”的意义。

材料二 北魏迁都洛阳以前，云冈石窟的飞天服饰取材自北方民族的日常服饰，形象和服饰突出鲜卑族胡风胡韵的特点。其中第7窟飞天脸圆发短，着短裙，身躯粗壮，有憨厚质朴之态，体现了鲜卑民族的精神，具有北方游

牧民族之气质。迁都洛阳之后云冈石窟造像样式发生变化，其中第 34 窟飞天最有代表性，面貌清瘦，身材丰满，腰部纤细，是兼有鲜卑族与汉族特点的美丽女性形象，体现了鲜卑文化与中原汉文化的完美交融。

——摘编自彭东航《长城区域飞天造像流变与民族融合》

(2) 依据材料二，概括北魏迁都洛阳前后云冈石窟飞天形象的变化。结合所学，写出推动这一变化的重大历史事件。

材料三 《近代中国社会的新陈代谢》目录（部分）

第二章 东方与西方	第九章 日本冲来了
第四章 炮口下的震撼	第十章 变与不变的哲学
第七章 近代化一小步	第十七章 “揖美追欧，旧邦新造”
	第十九章 新文化运动

注：“新陈代谢”比喻新的事物滋生发展，代替旧的事物。

(3) 依据材料三，从目录中任选一章，结合中国近代史的史实，简要说明《近代中国社会的新陈代谢》中“新陈代谢”的含义。

材料四 北京有三千余年建城史，八百余年建都史。古都文化源远流长，京味文化脍炙人口。讲好北京故事，述说风土人情、民间万象、人生百味，是一件非常有意义的事。现策划一套丛书，来讲述老北京的故事。内容包括《古都文脉》《胡同街巷》《京城会馆》《名人故居》《风物民俗》《饮食名饌》《戏曲曲艺》等。

——摘编自安东等《讲好北京故事述说京味文化》

(4) 从材料四中任选一本书，制作一份写作计划（包括体现此书主题的一处遗址、遗迹，或一件实物等，说明其与主题的关系，分析其文化价值。）

【21 题答案】

【答案】（1）意义：甲骨文为研究商朝历史提供了一手史料，它是中国一发现的古代文字中最早、体系较为完整的文字，对中国文字发展有深远影响。

（2）变化：云冈石窟的飞天形象由体现鲜卑民族精神到体现鲜卑文化与中原汉文化的完美交融。北魏孝文帝改革。

（3）选择“第十九章 新文化运动”，说明：在思想上，旧的因素是落后的习俗在农村顽固存在，新的因素是民主科学思想的不断传播，马克思主义传入。（任选一章，言之成理即可。）

（4）选择“《戏曲曲艺》”，说明：京剧的角色行当有明确的划分，早期分为生，旦。净、末、丑、武行、流行②等七行，以后归为生。旦净、丑四行；又将唱、金、做、打相结合，全面和集中地体现了中回戏曲的精华京到是中国的“国粹”之——被誉为“国剧”。（任选一章，言之成理即可。）

【解析】

小问 1 详解】

根据材料一“甲骨文出土后，通过对甲骨刻辞及甲骨出土坑位，与之共出的遗迹、遗物状况的研究，认为《竹书纪年》所记的完全可信。”结合所学知识可知，甲骨文为研究商朝历史提供了一手史料。它是中国一发现的古代文字中最早、体系较为完整的文字，对中国文字发展有深远影响。

【小问 2 详解】

根据材料二“北魏迁都洛阳以前，云冈石窟的飞天……体现了鲜卑民族的精神，具有北方游牧民族之气质。迁都洛阳之后云冈石窟造像样式发生变化，……体现了鲜卑文化与中原汉文化的完美交融。”可知，云冈石窟的飞天形象由体现鲜卑民族精神到体现鲜卑文化与中原汉文化的完美交融。

【小问 3 详解】

开放性设问，根据材料“《近代中国社会的新陈代谢》”，从目录中任选一章，结合中国近代史的史实作答，言之成理即可。如：选择“第十九章 新文化运动”，说明：在思想上，旧的因素是落后的习俗在农村顽固存在，新的因素是民主科学思想的不断传播，马克思主义传入。

【小问 4 详解】

开放性设问，根据材料“《古都文脉》《胡同街巷》《京城会馆》《名人故居》《风物民俗》《饮食名饌》《戏曲曲艺》”，从中任选一本书，制作一份写作计划（包括体现此书主题的一处遗址、遗迹，或一件实物等，说明其与主题的关系，分析其文化价值。），言之成理即可。如：选择“《戏曲曲艺》”，说明：京剧的角色行当有明确的划分，早期分为生、旦、净、末、丑、武行、流行②等七行，以后归为生、旦、净、丑四行；又将唱、念、做、打相结合，全面和集中地体现了中国戏曲的精华是中国的“国粹”之——被誉为“国剧”。

22. 中国共产党的诞生，是中国历史上开天辟地的大事变，具有伟大而深远的意义。



材料一 1922年7月，中国共产党召开了第二次全国代表大会，《中国共产党第二次全国代表大会宣言》中指出，“中国共产党的奋斗目标是：消除内乱，打倒军阀，建设国内和平；推翻国际帝国主义的压迫，达到中华民族完全独立；统一中国本部（东三省在内）为真正民主共和国……”。

(1) 依据材料一，概述在民主革命阶段党的主要任务。

材料二 歌曲《八月桂花遍地开》是为庆祝中华苏维埃共和国临时中央政府成立所作，于20世纪30年代兴起，在全国多地传唱。歌中唱道，“八月桂花遍地开，鲜红的旗帜竖呀竖起来……粉碎了蒋介石的大围攻，一杆红旗飘在空中，红军队伍要扩充。保卫工农新政权，带领群众闹革命，红色战士最光荣。亲爱的工友们哪，亲爱的农友们哪，拿起刀枪都来当红军。”

(2) 依据材料二，概括20世纪30年代革命形势发展的表现。

材料三 中国共产党是全民族抗战的中流砥柱

<p>①</p> <p>中国共产党在卢沟桥事变发生第二天就通电全国，号召“全中国同胞，政府，与军队，团结起来，筑成民族统一战线的坚固长城，抵抗日寇的侵略！”“国共两党亲密合作抵抗日寇的新进攻！”</p> <p>——摘自《中国共产党简史》</p>	<p>②</p>  <p>1938年，毛泽东撰写《论持久战》，初步总结了全国抗战经验，系统阐明了党的抗日持久战方针。</p>	<p>③</p>  <p>1940年八路军总部发动百团大战，图为八路军破袭日军交通线。</p>
----------------------------------------------------------------------------------------------------------------------------	---------------------------------------------------------------------------------------------------------------------------------------------------	--------------------------------------------------------------------------------------------------------------------------------------

(3) 从材料三中任选其一，结合所学，谈谈你对“中国共产党是全民族抗战的中流砥柱”的理解。

材料四 一九四九年中国人民解放军将向长江以南进军，将要获得比一九四八年更加伟大的胜利。

一九四九年将要召集没有反动分子参加的以完成人民革命任务为目标的政治协商会议，宣告中华人民共和国的成立，并组成共和国的中央政府。这个政府将是一个在中国共产党领导之下的、有各民主党派各人民团体的适当的代表人物参加的民主联合政府。

——毛泽东 1948 年 12 月 30 日为新华社写的 1949 年新年献词（节选）

（4）依据材料四，指出中国共产党为了实现上述任务而进行的革命实践。

【23 题答案】

【答案】（1）打倒军阀，实现国内和平；打倒帝国主义，实现民族独立；统一中国。

（2）建立了中华苏维埃共和国，建立了多块农村革命根据地，红军不断壮大。

（3）百团大战，是抗日战争中八路军在华北地区发动的一次规模最大、持续时间最长的战略性进攻战役。在这次战役中，中国共产党领导的华北敌后抗日军民，齐心协力，前仆后继，同日本侵略者浴血奋战，充分表现了中华民族不屈不挠的战斗精神。百团大战严重地破坏了日军在华北的主要交通线，收复了被日军占领的部分地区，给了侵华日军以强有力的打击。百团大战对坚持抗战、遏制当时国民党顽固派妥协投降暗流、争取时局好转起了积极作用，进一步鼓舞了全国人民夺取抗战胜利的信心，提高了中国共产党和八路军的声威。它在中国抗日战争史上写下了光辉的一页。

（4）召开新政协；开国大典，成立中华人民共和国。

【解析】

【小问 1 详解】

根据所学和材料一“消除内乱，打倒军阀，建设国内和平；推翻国际帝国主义的压迫，达到中华民族完全独立；统一中国本部（东三省在内）为真正民主共和国……”可知，这体现的是，打倒军阀，实现国内和平；打倒帝国主义，实现民族独立；统一中国。

【小问 2 详解】

根据所学和材料二“中华苏维埃共和国临时中央政府成立、全国多地传唱、都来当红军”可知，这体现出，建立了中华苏维埃共和国，建立了多块农村革命根据地，红军不断壮大。

【小问 3 详解】

此问相对开放，回答符合下列要点即可，如，可任选一个，但必须提示出它的历史功绩和历史意义，如，百团大战，是抗日战争中八路军在华北地区发动的一次规模最大、持续时间最长的战略性进攻战役。在这次战役中，中国共产党领导的华北敌后抗日军民，齐心协力，前仆后继，同日本侵略者浴血奋战，充分表现了中华民族不屈不挠的战斗精神。百团大战严重地破坏了日军在华北的主要交通线，收复了被日军占领的部分地区，给了侵华日军以强有力的打击。百团大战对坚持抗战、遏制当时国民党顽固派妥协投降暗流、争取时局好转起了积极作用，进一步鼓舞了全国人民夺取抗战胜利的信心，提高了中国共产党和八路军的声威。它在中国抗日战争史上写下了光辉的一页。

【小问 4 详解】

根据所学和材料四“一九四九年将要召集没有反动分子参加的以完成人民革命任务为目标的政治协商会议，宣告中华人民共和国的成立”可知，这些实践有，召开新政协，开国大典，成立中华人民共和国。

23. 沟通·交流·发展

材料一



秦驰道示意图

公元前 220 年，秦始皇下令修筑以咸阳为中心通往各地的驰道，包括上郡道、东方道等 9 条，工程征发数十万人。车轨是工匠用防腐处理过的木材所做，部分至今保存完好。



① 示意图

605 年起，炀帝诏发开凿此工程，仅开凿永济渠就征发河北 100 多万民众。建设中充分利用之前留下的河道（如邗沟），并依据自然水道疏浚而成。

(1) 将①处补充完整。依据材料，结合所学，概括两项工程的共同点。

材料二



左图是 1591 年出版的《新发现》一书的插图：美洲的发现、罗盘的发明以及二者之间印刷机的发明被赋予了最重要的位置。火药、钟表、丝织、蒸馏、带马镫的马鞍也得到了呈现。

——（英）戴维·伍顿《科学的诞生：科学革命新史》

(2) 从材料二中的“发现”任选其一，仿照示例，进行解释。

示例

带马镫的马鞍：最早的马镫出现于中国魏晋时期，它与马鞍相配合，使得骑马更为便捷和稳定，从而影响到战争形态，甚至催生了欧洲封建社会。

材料三 19 世纪前人们通过帆船或骑马，一天的行程只有 100 英里。19 世纪铁制船舶和蒸汽动力取代了木制船只和风帆。1838 年，定期跨大西洋航行开启，过去这条航线一般需要两个月的航行时间，到 1857 年，只需要 9 天。大约在 1866 年，大西洋下铺设了 1 条通讯电缆；到 1900 年，大西洋下共铺设了 15 条电缆，推进了大陆间的交流。

——摘编自（美）斯蒂芬·所罗门《水：财富、权力和文明的史诗》

(3) 依据材料三，说出 19 世纪前后航运和通讯领域发生的变化。结合所学，分别说明变化的原因。

【25 题答案】

- 【答案】（1）大运河。巩固统一、耗费巨大民力和社会财富、对后世影响深远。
- （2）指南针：宋代发明指南针，它导航作用，用于航海，促进了新航路的开辟。
- （3）铁制船舶和蒸汽动力取代了木制船只和风帆，电报、电话取代驿站。工业革命、第二次工业革命。

【解析】

【小问 1 详解】

根据所学和材料一“工程征发数十万人、仅开凿永济渠就征发河北 100 多万民众”可知，图片 2 是大运河示意图；这体现 相同点是，巩固统一，耗费巨大民力和社会财富，对后世影响深远。

【小问 2 详解】

此问相对开放，回答符合下列要点即可，如，所选项目必须典型，论述时，点出时间、历史作用，如，指南针：宋代发明指南针，它导航作用，用于航海，促进了新航路的开辟。

【小问 3 详解】

根据所学和材料三“19 世纪铁制船舶和蒸汽动力取代了木制船只和风帆、电缆，推进了大陆间的交流”可知，这体现的变化是，铁制船舶和蒸汽动力取代了木制船只和风帆，电报、电话取代驿站；这是因为工业革命、第二次工业革命的开展。

24. 在历史进程中，人类不断解决发展中遇到的问题，推动社会发展。

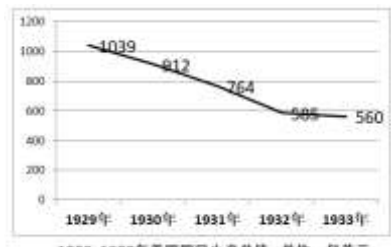
材料一 人类进入 19 世纪，生产力水平有了很大提高，无产阶级却愈加贫困，马克思和恩格斯对人类社会的发展规律进行了深入思考，并于 1848 年发表了《共产党宣言》。

时间	《共产党宣言》的传播情况
1848 年	德文版本发表
1869 年	首个俄文译本出现
1889 年	有英文译本 8 个，法文译本 11 个，俄文版本 12 个，德文版本 21 个
1895 年	已有 20 多个文种，130 多个版本，发行量数以万计
1920 年	陈望道翻译的中文全译本出版
1973 年	已出版 2434. 1 万册
2018 年	有 1000 多种版本，是世界上发行量最大的社会政治和人文社会科学著作

——摘编自杨金海《共产党宣言》在世界的翻译传播及其影响》

（1）依据材料一，概括《共产党宣言》传播的特点。结合所学，说明《共产党宣言》发表的意义。


材料二

<p>1932 年 2 月美国召开的国会委员会有这样的描述：在俄勒冈州，我看到大量苹果烂到地里，一箱苹果 200 个只卖 40 到 50 美分，与此同时，数以百万计的孩子却因父母的贫穷今年冬天吃不到一个苹果。西</p>	 <p>1929-1933 年美国国民生产总值 单位：亿美元</p>
---------------------------------------------------------------------------------------------------------------	------------------------------------------------------------------------------------------------------------------------

部和西南部的路上挤满了饥饿的搭便车者，每一条铁路路线都能见到无家可归者燃起的营地篝火。

(2) 依据材料二，指出这一时期美国出现的社会问题。结合所学，说出美国政府的应对之策。

材料三

 <p>《联合国宣言》</p>	<p>1942年1月，美、英、苏、中等26个国家的代表签署《联合国宣言》，建立世界反法西斯同盟。从此，同盟国家协同作战，在以后三年半的时间里，相继打败意大利、德国和日本。</p>
-------------------------------------------------------------------------------------------------	-------------------------------------------------------------------------------------------

(3) 概括材料三的主题。结合所学，分析《联合国宣言》签署的背景。

【27题答案】

【答案】(1) 传播广泛、作品发行量大、影响深远；马克思主义诞生。

(2) 大量社会财富浪费、穷人忍饥挨饿无家可归、生产下降；罗斯福新政。

(3) 反法西斯国家的联合。1942年12月，太平洋战争爆发，第二次世界大战发展到最大规模，反法西斯国家联合。

【解析】

【小问1详解】

根据所学和材料一表格可知，这体现的特点是，传播广泛、作品发行量大、影响深远；《共产党宣言》发表，马克思主义诞生。

【小问2详解】

根据所学和材料二“大量苹果烂到地里、数以百万计的孩子却因父母的贫穷今年冬天吃不到一个苹果、无家可归者燃起的营地篝火”、示意图可知，这体现出，大量社会财富浪费，穷人忍饥挨饿无家可归，生产下降；为此，美国进行罗斯福新政。

【小问3详解】

根据所学和材料三“建立世界反法西斯同盟。从此，同盟国家协同作战”、图片可知，这体现的主题是反法西斯国家的联合；这是因为，1942年12月，太平洋战争爆发，第二次世界大战发展到最大规模，反法西斯国家联合。

2022 北京各区初三一模试题下载

北京高考资讯公众号整理【**2022 北京各区初三一模试题&答案**】，持续为大家进行分享。

想要下载练习各区各科试题答案，可以扫描下方二维码，进入试题答案汇总下载高清电子版文件。

扫描二维码进入试题答案汇总
下载电子版试题



还有更多**一模成绩、排名**等信息，考后持续分享
记得关注我们的公众号【**北京高考资讯 (ID : bjgkzx)**】！



微信搜一搜

北京高考资讯