

考 生 须 知	1. 本试卷共 8 页，共两部分，24 道小题。满分 70 分。考试时间 70 分钟。 2. 在试卷和答题卡上准确填写学校名称、班级、姓名和准考证号。 3. 试题答案一律填涂或书写在答题卡上，在试卷上作答无效。 4. 在答题卡上，选择题用 2B 铅笔作答，其他题用黑色字迹签字笔作答。 5. 考试结束，请将本试卷、答题卡和草稿纸一并交回。
------------------	---

第一部分 选择题（共 30 分）

本部分共 20 题，每题 1.5 分，共 30 分。在每题列出的四个选项中，选出最符合题目要求的一项。

1. 春秋战国时期是学术思想非常活跃的时期。下列属于这一时期儒家思想的是

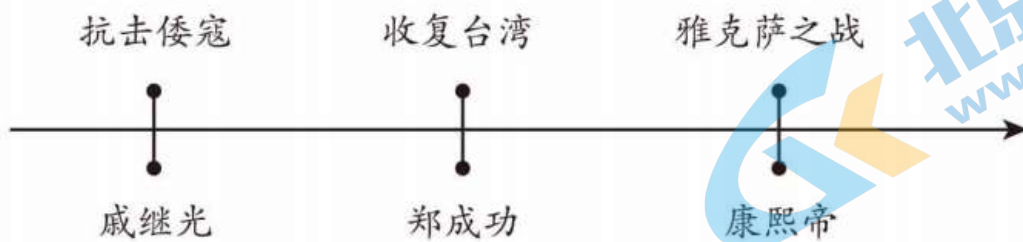
- A.“无为而治” B.以法治国
C.“仁者爱人” D.“兼爱”“非攻”

2. 下面中国农业历史大事年表（摘选）能反映出

265-420 年	长江下游普遍出现再熟稻
8 世纪	南粮北调的模式在唐代形成，时称“北运”
1127-1179 年	太湖地区成为全国著名的粮仓，时有“苏湖熟，天下足”“苏常熟，天下足”之称

- A.耕地面积增加 B.商品经济发展 C.海外贸易兴起 D.经济重心南移

3. 下面示意图中历史事件的共同作用是



- A.维护了祖国领土完整 B.加强了对台湾地区的管辖
C.推行了闭关锁国政策 D.实现了清朝对全国的统治

4. 依据右侧知识卡内容可知

- A.列强不断获得大量战争赔款
B.西方列强在华特权不断扩大
C.中国人民不断反抗列强侵略
D.中国完全沦为半殖民地社会

1843年，英国获得领事裁判权、片面最惠国待遇等
1858年，外国商船和军舰可以在长江各口岸自由航行
1895年，允许日本在通商口岸开设工厂

5. 下面是 1895 年严复在天津《直报》上发表的部分政论梗概，其目的是

《论世变之亟》

《原强》

对比中国的三纲、亲亲、尊君，表示了对西方的自由、平等、尚贤的推崇，同时大声疾呼要用西洋技术，以至富强	介绍了达尔文的《物种起源》及进化论“生存竞争，适者生存”的思想学说，强调如不图存图强，灭种灭族将不可避免
--	--

- A.提出学习西方，改革太平天国内政
B.宣传维新变法思想，号召救亡图存
C.传播革命思想，推翻清王朝的统治
D.宣传民主和科学，掀起新文化运动

6. _____ 撼动了反动统治秩序的根基，在中华大地上建立起亚洲第一个共和制国家以巨大的震撼力和深刻的影响力推动了中国社会变革。_____ 应填写的是

- A.戊戌变法 B.辛亥革命 C.新文化运动 D.国民大革命

7. 下面是学者对五四运动的相关论述，其论述的是五四运动的

它所牵动的社会面非常之广……斗争范围由北京蔓延到全国各地……表现出不达目的誓不罢休的顽强意志……

- A.背景 B.结果
C.性质 D.特点

8. 下面是中国共产党奋斗历程的某一阶段。符合此阶段描述的是



- A.开天辟地，腥风血雨 B.燎原星火，战略转移
C.同仇敌忾，共赴国难 D.命运抉择，日月新天

9. 下图是 1947 年 6 月人民解放军进行的一次进攻活动。这次活动是



- A.挺进大别山
B.发起三大战役
C.强渡长江
D.解放南京

10. 下表是某同学整理的知识点。序号处可填入的是

①	②	③
1965年 西藏自治区	1980年 深圳经济特区	1997年 香港特别行政区

- A. 对外开放 民族区域自治制度“一国两制”
- B. 对外开放“一国两制”民族区域自治制度
- C. 民族区域自治制度“一国两制”对外开放
- D. 民族区域自治制度 对外开放“一国两制”

11. 某班要创办科技兴国主题展报。下列内容可以加入的有



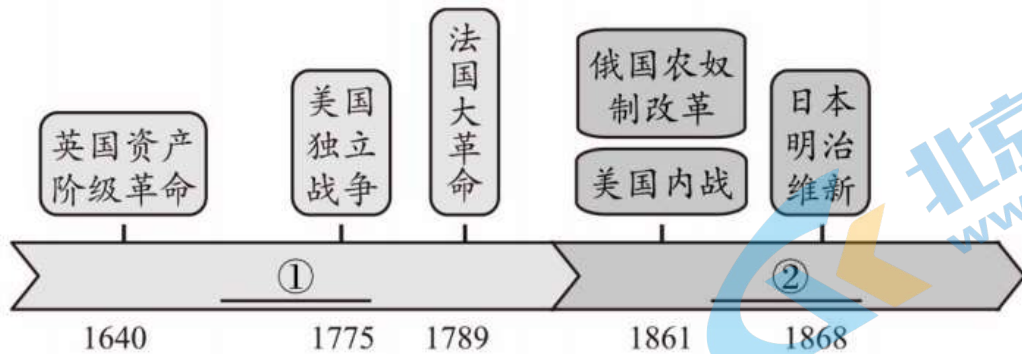
- A. ①②
- B. ①③
- C. ②③
- D. ①④

12. _____是反对教会“神权至上”，促使人们思想得到大解放的文艺巨人；

_____是为谋求财富，勇于探寻通往东方航路的探险家。_____应填写的人物有

- A. 莎士比亚 哥伦布
- B. 达尔文 哥伦布
- C. 达·芬奇 牛顿
- D. 莎士比亚 达尔文

13. 下面图示中②处应填写的内容是



- A. 步入近代
- B. 资本主义制度的扩展
- C. 殖民地人民的反抗
- D. 一战战后初期的世界

14. 右侧是 1917 年上海《民国日报》对某一事件的报道节选。该事件产生的影是

- A. 沉重打击了英国殖民者的殖民统治
- B. 推动俄国走上了发展资本主义道路
- C. 推动了国际无产阶级革命运动发展
- D. 为墨西哥社会 and 经济发展奠定基础

彼得格勒戍军与劳动社会已推倒克伦斯基政府……美克齐美尔（即“过激主义”）党占据都城……主谋者为里林氏（即列宁）……

5. 毛泽东曾论述：1922 年美国召集的会议签订了

一个公约，又使中国回复到几个帝国主义国家共同支配的局面。这个公约是

- A. 《凡尔赛条约》 B. 《九国公约》 C. 《四国公约》 D. 《华沙条约》

6. 下表是苏俄（联）建设社会主义的探索。这些探索

时间	1918年	1921年	1926年	1930年	1936年
探索	实行战时共产主义政策	实行新经济政策	开始进行社会主义工业建设	开始进行大规模农业集体化	形成苏联模式

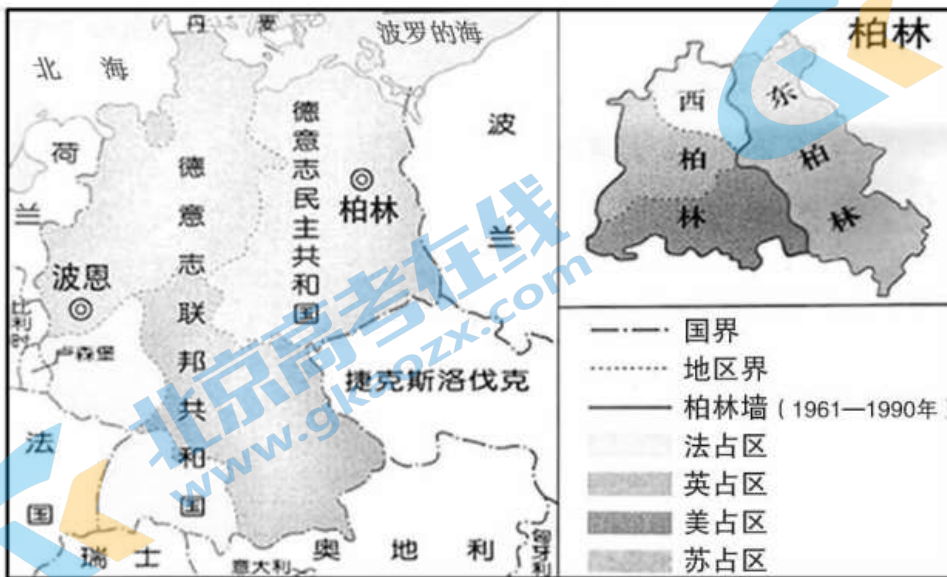
- A. 都在一定程度上巩固了政权
 B. 都强调优先发展重工业
 C. 都以指令性计划来管理经济
 D. 都违背了经济发展规律

17. 下列历史事件与右侧二战期间的海报宣传意图相一致的是



- A. 联合国的成立
 B. 美国对日宣战
 C. 苏联军民抗击德国法西斯
 D. 《联合国宣言》的发表

18. 对下面示意图解读正确的是



- A. 开辟了欧洲第二战场，德国陷入东西夹击

- B.德国得到马歇尔计划援助，经济逐步复兴
 C.德国分裂，欧洲冷战对峙的局面基本形成
 D.民主德国并入联邦德国，德国实现了统一

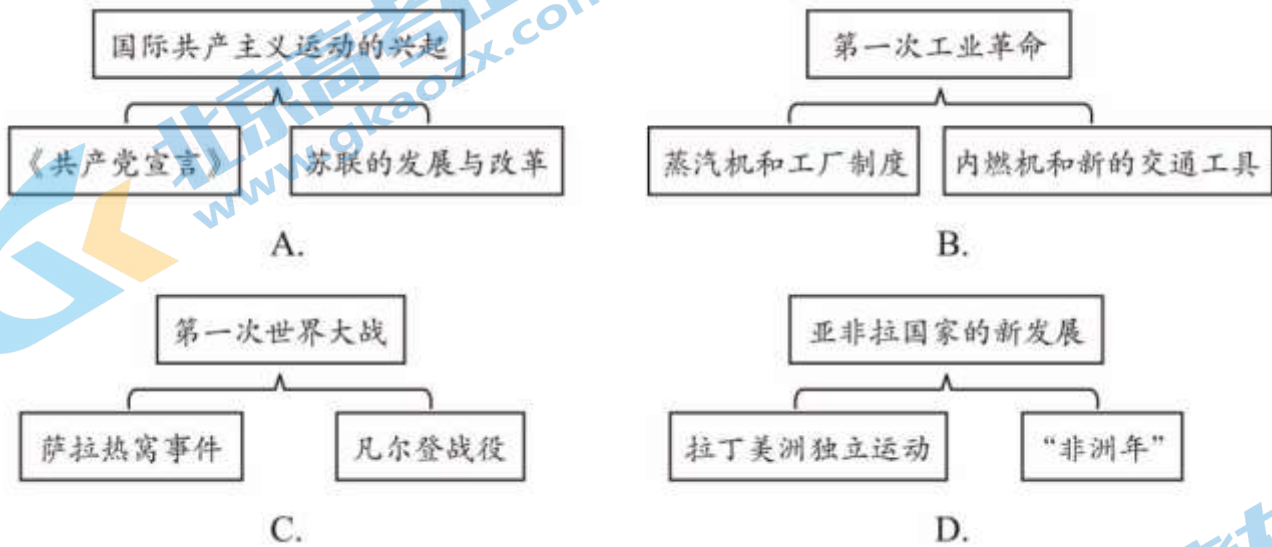
19. 下面是某同学对世界多极化趋势发展的分析。可以加入其中的内容有

因素		
欧洲共同体成立	日本成为资本主义世界仅次于美国的第二经济大国

- ①“北大西洋公约组织”成立
 ②广大发展中国家成为一支重要力量
 ③“华沙条约组织”成立
 ④改革开放后中国综合实力显著增强

- A.①② B.②③ C.③④ D.②④

20. 绘制示意图梳理知识结构是历史学习的重要方法。以下示意图正确的是



第二部分 材料分析题（共 40 分）

21. （11 分）时间串起人类发展历程。

材料一 中国古代对时间的表达与利用有多种方式，如：节气、年号、干支纪年等。

- ①“贞观之治”采用太宗年号记事，“贞观”取自《易经·系辞下》“天地之道，贞观者也”。
 ②北魏《齐民要术》记载有二十四节气农谚：立秋叶如荷钱，犹得豆。
 ③干支纪年是遵循宇宙天体运行规律，利用天干地支循环记录时间的阴阳合历。
 ④二十四节气走向海外，日本、韩国、越南等国都有使用的历史。
 ⑤汉武帝时将“二十四节气”纳入《太初历》作为指导农事的历法补充。
 ⑥中国年号纪年影响四邻，日本有“天元”“明治”、高丽有“天授”“光德”等年号。

（1）从材料一中找出能说明下列观点的内容。（3 分。填序号，每空多选、少选、错选均不得分）

时令节气是指导农耕生产的重要依据：_____

中国古代时间的表达蕴含了丰富的文化：_____

中国的纪年文化影响其他国家：_____

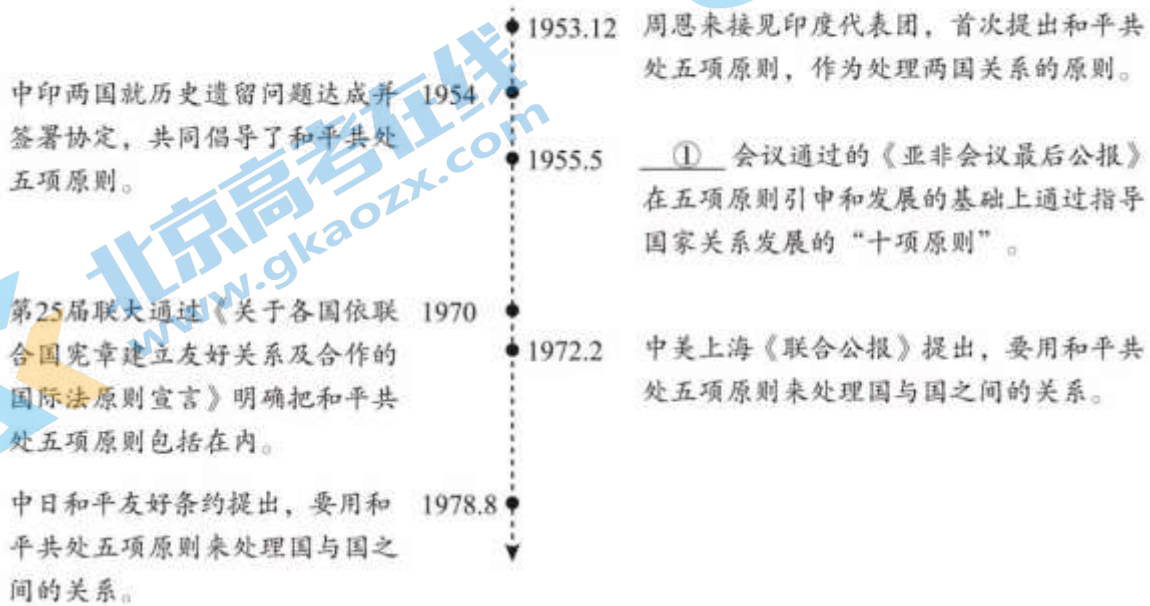
材料二 欧式钟表早在 16 世纪就传入中国。明清之际，成为皇室收藏和达官贵人相互馈赠的玩物。18 世纪以后，英国和瑞士的钟表普遍化，进口到广州以后，当地绅商之家把它们用做家里的摆设。1862 年，京师同文馆首先采用钟表对学生作息做出制度化规定，此后，各大学堂相继仿效。到 1890 年代，钟表在城市的洋行、茶馆等商业机构中广泛使用。20 世纪初，座钟与手表已经进入普通中产家庭与内地城市。

——摘编自封磊《晚清都市钟点时间的社会化及其现代性》等

(2) 依据材料二并结合所学，说出中国人使用欧式钟表的变化并分析原因。(4 分)

材料三

在不同的历史发展时期，和平共处五项原则都做出相应贡献。



(3) 结合所学，写出材料三中①的内容。(1 分) 依据材料三，概括和平共处五项原则在五十年代、七十年代不同的历史贡献，写出一项改革开放以来的外交成就。(3 分)

22. (10 分) 没有一支人民的军队，就没有人民的一切。

材料一

① 时期中国战舰概览表

	北洋海军	南洋水师	福建船政水师	广东水师
铁甲舰	定远、镇远、平远			
巡洋舰	超勇等 7 艘	海安等 8 艘	扬武	
炮舰	镇东等 8 艘	策电等 9 艘	靖远等 11 艘	海镜清等 13 艘
鱼雷舰艇	福龙等 15 艘		福靖	广乙等 13 艘
练习舰	威远、康济、敏捷	登瀛州	建威、元凯	
运输舰	操江等 4 艘	威靖	永保、琛航、大雅	

——据《中国军舰图志：1855~1911》整理

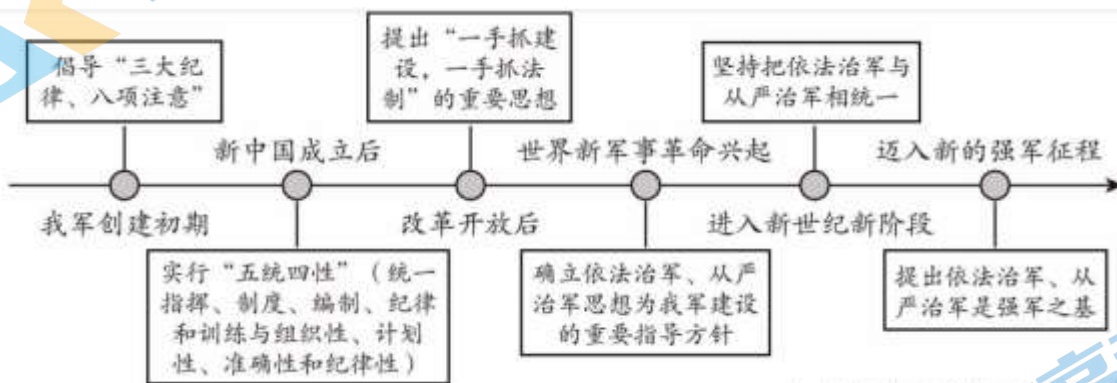
(1) 结合所学，写出材料—①处对应的历史事件。(1分) 依据材料一，概括该时期中国海军发展的特点。(2分)

材料二



(2) 从材料二中任选一个地点，结合所学写出中国共产党领导的人民军队在其发展历程中的重要事件及影响。(2分)

材料三



——据《解放军报》图片材料整理

(3) 依据材料三，概括不同时期人民军队建设的共同点。(2分) 分析该共同点的作用。(1分)

材料四

人民军队始终是党和人民完全可以信赖的英雄军队。 ——习近平

70年前，我和我的战友们为了中华民族的命运，为了子孙后代的幸福，进行了史无前例的万里长征……最后成就了伟大的胜利。——红军战士王定国

我们也决心与华北人民共艰苦，共生死。——抗战将军左权

人在，阵地在！哪怕只剩一人，也要战斗到底。——抗美援朝老兵林志洲

身为军人，就必须随时应对一场战争；作为军队科技工作者，要善于在科研领域下先手棋，打主动仗。——

“人民英雄”陈薇

(4) 依据材料四并结合所学，说出对习近平讲话内容的理解。(2分)

23. (10分) 生态兴则文明兴。

材料一 英国泰晤士河的落魄与新生 3

情境一	情境二	情境三
19世纪以前，泰晤士河河水清澈，是举世闻名的鲑鱼产地。多少年来，豪门宴饮中的水产几乎尽数出自泰晤士河。夏季河上泛舟，冬季河边烧烤，是很多人的乐子	19世纪初以来，随着沿途城市居民的增加和造纸厂等工厂的建立，生活水、工业水和其他污染源不断地进入泰晤士河，使河水污浊不堪	1983年8月31日，一名伦敦垂钓者获得了泰晤士河水务管理局颁发的一只银杯和一张190英镑的支票，奖励他从泰晤士河中钓到了一条鲑鱼。媒体报道此事，说这标志着泰晤士河在因污染死寂了150年之后复生了

(1) 依据材料一并结合所学，说出英国泰晤士河发生的变化并分析原因。(4分)

材料二 20世纪30年代早期到40年代，因人们对土地资源的掠夺性开发，美国南部大平原黑风暴(沙尘暴)肆虐。它的出现让本已脆弱的美国经济雪上加霜……复兴农业必须首先治理黑风暴，罗斯福为此专门制定了“农业复兴计划”，通过《水土保持法》，成立田纳西河流域管理局，建立民间资源保护队等。

——摘编自刘辉萍《罗斯福新政对自然灾害的应对》

(2) 依据材料二并结合所学，指出复兴农业的背景。(1分)概括复兴农业措施的特点。(2分)

材料三

塞罕坝	科尔沁草原
河北塞罕坝在新中国初期是“风沙紧逼北京城”的荒原。1962年，为改变严峻形势，林业部建立了塞罕坝机械林场。由大中专毕业生与原林场干部职工组成的拓荒先锋，开始通过科学育苗等技术建设塞罕坝林场。如今塞罕坝森林覆盖率达80%，成为目前世界上面积最大的人工林	内蒙古科尔沁草原被称为“八百里旱海”。易解放为了完成儿子遗愿，坚持义务植树16年，并通过成立公益组织，在内蒙古从事土地荒漠化治理工作。从一人孤军奋战，到唤起千万人的环保意识，至今已实现绿化荒漠两万亩，完成植树250万棵

(3) 依据材料三，总结两地生态环境得到大幅改善的经验。(2分)说说你从中感悟到的精神品质。(1分)

24. (9分) 北京人口变化与城市发展息息相关。

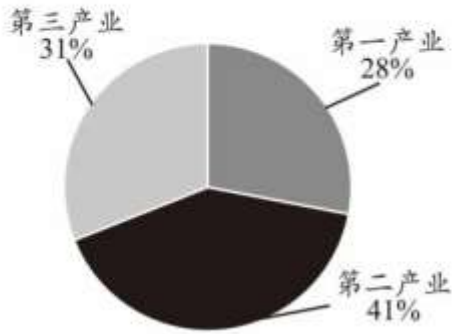
材料一 1953年，北京市人口中18周岁以下993412人，18周岁以上1759396人；男性占总人口的57.72%，女性占总人口的42.28%；全市共有49个民族，其中汉族人口占93.9%。这个工作成绩，直接配合了1954年8月召开的北京市人民代表大会，间接地支持了全国人民代表大会，也为20世纪50年代首都城市规划、文化设施建设、城市住宅等提供重要数据支持。

——摘编自张志如《新中国成立后北京市的第一次人口普查》

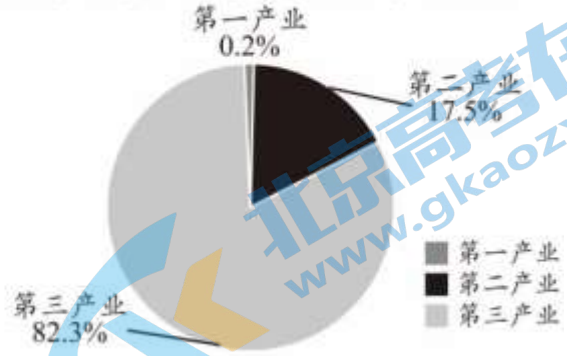
(1) 依据材料一，概括1953年北京市人口构成的特点。(2分)分析北京市第一次人口普查的作用。(2分)

材料二

1981年北京市人口普查就业人口产业结构



2020年北京市人口普查就业人口产业结构



——据《北京志·人口志》等资料整理

在“首都经济”发展战略的推动下，北京产业结构实现深度调整：第一产业逐步实现从传统农业向现代农业转型；第二产业中电子信息、生物医药等高新技术产业发展步伐加快；第三产业内部金融保险、科研技术服务、文化影视等现代服务业成为骨干力量。

——摘编自武陵君《北京产业结构 60 多年的大变迁》

(2) 依据材料二结合所学，说出北京市就业人口产业结构的变化并分析原因。(4分)

材料三 据《北京统计年鉴》记载，2020年北京常住人口 2189 万人。下图是作为超大城市的北京一日的生产生活。



(3) 依据材料三，谈谈你得出的认识。(1分)

参考答案

第一部分 选择题（共 30 分）

1	2	3	4	5	6	7	8	9	10
C	D	A	B	B	B	D	C	A	D
11	12	13	14	15	16	17	18	19	20
A	A	B	0	B	A	D	C	D	C

第二部分 材料分析题（共 40 分）

21.(11 分)

(1)(3 分)②⑤：①③：④⑥

(2)(4 分)变化：由奢侈品摆设到普通生活用品逐渐被作为制度化的计时工具，使用范围从沿海扩展到内地，使用人群从达官贵人到普通家庭。(2 分。任意两点即可)原因：西方生活方式和时间观念的传入，中国近代化进程的不断深入，西方钟表技术的提高和产量的普及等。(2 分。任意两点即可)

(3)(4 分)万隆或亚非：(1 分)五十年代成功解决了与印度以及亚非国家之间的和平交往：七十年代成为与美日等国家外交关系的基础和联合国国际交往的准则：(2 分)提出构建人类命运共同体等。(1 分)

22.(10 分)

(1)(3 分)洋务运动。(1 分)各舰队实力不均衡，舰艇种类较全，都装备了西式军舰，炮舰数量较多。(2 分。任意两点即可)

(2)(2 分。事件 1 分，影响 1 分)

①南昌起义，打响了武装反抗国民党反动派的第一枪。

②三湾改编，从组织上确立了党对军队的领导。

③井冈山会师，两军会师后，合编为中国工农革命军第四军，后改称为中共工农红军第四军，在井冈山开展武装斗争。

井冈山根据地不断巩固和扩大。

④古田会议，确立了思想建党、政治建军的原则。

⑤会宁会师，红军三大主力会师，宣告长征胜利结束。

⑥平型关大捷，全民族抗战爆发后中国军队主动对日作战取得的第一个重大胜利，粉碎了日军不可战胜的神话。

⑦解放南京，结束了国民党在大陆的统治。

(3)(3 分)共同点：重视思想建军、强调法纪治军、从严治军。(2 分。任意两点即可)作用：加强了军队的组织性、纪律性，增加军队的战斗力，更好履行新时代人民军队的使命任务。(1 分。任意一点即可)

(4)(2 分)史实准确，史论结合。

23.(10 分)

(1)(4 分)变化：英国泰晤士河的环境从河水优质、适宜休闲到受到严重污染；之后到 20 世纪，环境得到逐步改善。(2 分)

原因：工业革命带来环境污染；政府关注环境保护促使环境改善。(2 分。一点一分)

(2)(3分)背景：1929~1933年经济大危机或生态环境危机。(1分。任意一点即可)特点：美国政府利用国家干预(颁布法律、成立专门管理机构)，注意环境保护。(2分。任意两点即可)

(3)(3分)经验：政府规划主导、运用科学技术手段、个人及公益组织的努力等。(2分。任意两点即可)精神品质：热爱环保、坚持不懈、不畏艰难等。(1分。任意一点即可)

24.(9分)

(1)(4分)特点：成年人口多；男性偏多；汉族人口占比高。(2分。任意两点即可)为地方和国家人民代表大会制度的建立奠定基础，为北京城市规划建设等提供支持。(2分。任意两点即可)

(2)(4分)变化：第一产业、第二产业人口所占比重由多到少，第三产业所占比重由少到多；(2分。任意两点即可)原因：北京城市发展战略的影响，第一、二、三产业升级、科学技术支持等(2分。任意两点即可)

(3)(1分)答题示例：北京作为一个超大城市，人口是北京创造发展的不竭动力。北京的发展为人们的生活提供了良好保障，有助于人民生活水平的提高，从而为城市创造发展做出更大贡献。同时，庞大的人口也给城市发展带来压力，产生一些问题，仍需要创新解决，共促发展。(1分)

2022 北京各区初三一模试题下载

北京高考资讯公众号整理【**2022 北京各区初三一模试题&答案**】，持续为大家进行分享。

想要下载练习各区各科试题答案，可以扫描下方二维码，进入试题答案汇总下载高清电子版文件。

扫描二维码进入试题答案汇总
下载电子版试题



还有更多**一模成绩、排名**等信息，考后持续分享
记得关注我们的公众号【**北京高考资讯 (ID : bjgkzx)**】！



微信搜一搜

北京高考资讯