

文科综合能力测试

注意事项:

1. 本试卷分第I卷(选择题)和第II卷(非选择题)两部分。答题前,考生务必将自己的姓名、考生号填写在答题卡上。
2. 回答第I卷时,选出每小题答案后,用铅笔把答题卡上对应题目的答案标号涂黑,如需改动,用橡皮擦干净后,再选涂其它答案标号。写在试卷上无效。
3. 回答第II卷时,将答案写在答题卡上,写在试卷上无效。
4. 考试结束,将答题卡交回。

第I卷

本卷共 35 小题,每小题 4 分,共 140 分。在每个小题给出的四个选项中,只有一项是符合题目要求的。

我国中部地区某地级市辖 6 县 2 区,代管 1 县级市。图 1 为 2010-2020 年十年来该市户籍人口和常住人口的变化。据此回答 1-3 题。

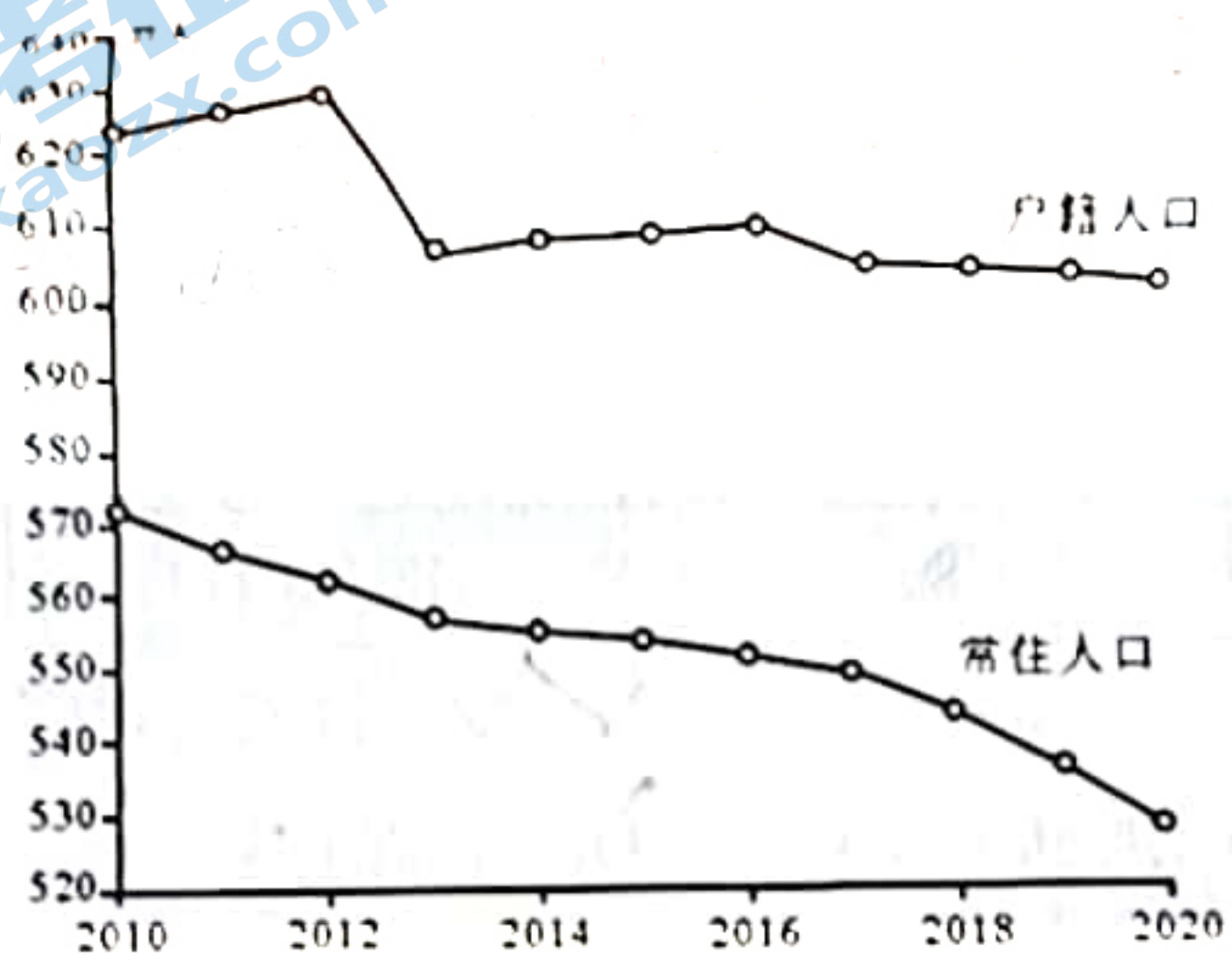


图 1

1. 根据图示资料推测,十年来该市
 - A. 人口自然增长率下降
 - B. 老年人口比例下降
 - C. 劳动力需求数量增加
 - D. 外出务工求学人口增加
2. 2013 年户籍人口明显减少,可能是因为
 - A. 营商环境改变
 - B. 生育政策调整
 - C. 户口管理政策改变
 - D. 行政区划调整
3. 为应对人口减少,该市重点应该
 - A. 完善生育支持体系
 - B. 培育突出的优势产业
 - C. 建设交通枢纽城市
 - D. 控制城市房价上涨

湾区是三面环陆,一面向海的区域。全球 60% 的经济总量、75% 的大城市、70% 的工业资本和人口集中在距离海岸 100km 范围的湾区内。全球四大湾区(纽约湾区、旧金山湾区、东京湾区、粤港澳湾区)经历四个发展阶段,成为全球顶级城市群和经济中心。此完成 4~6 题。

4. 各湾区成长为世界经济中心的基础条件是

A. 腹地广阔 B. 港口优良

C. 人力丰富

D. 政策优惠

5. 世界顶级城市群大多分布在湾区，其产业发展的一般顺序为

A. 创新经济—港口经济—服务经济—工业经济

B. 创新经济—工业经济—服务经济—港口经济

C. 港口经济—服务经济—工业经济—创新经济

D. 港口经济—工业经济—服务经济—创新经济

6. 全球四大湾区中城市等级体系与其他湾区明显不同的是

A. 纽约湾区

B. 旧金山湾区

C. 东京湾区

D. 粤港澳大湾区

近年来，鄱阳湖枯水期水位不断降低成为各方关注问题。有研究认为其主要原因有降水偏少使入湖水量减少；长江上游水库在汛后集中蓄水对鄱阳湖的抽空作业；清水下泄对长江中游河道的下切作用。又有研究认为大规模采砂才是鄱阳湖枯水期水位不断降低的主要原因。其主要依据如图2资料①②③所示。据此回答7-8。

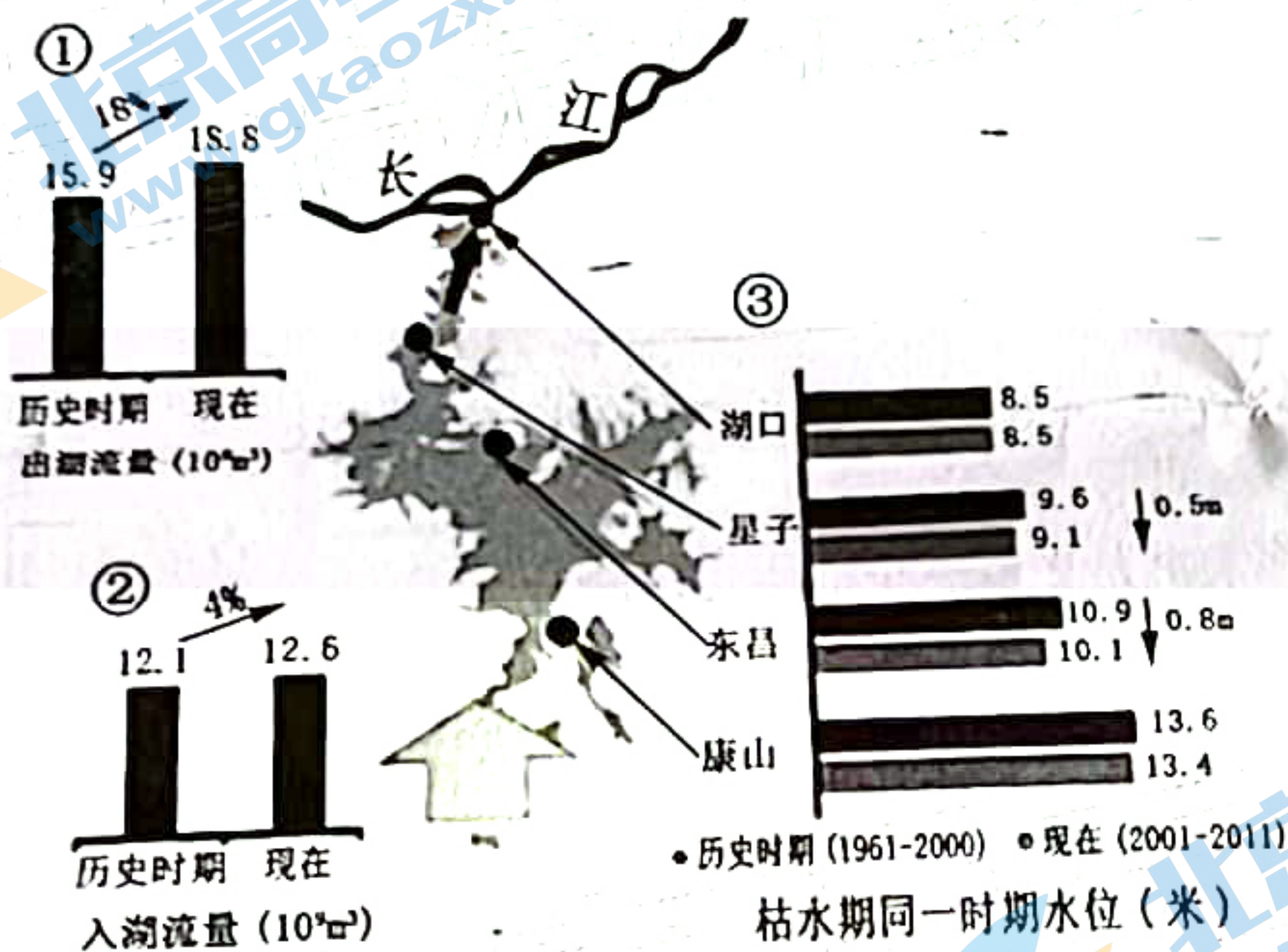


图2

图中信息能反驳原因“清水下泄对长江中游河道的下切作用”的是

A. 东昌水位

B. 星子水位

C. 湖口水位

D. 入湖流量

鄱阳湖大规模采砂导致水位降低的采砂湖段是

A. 湖口附近河段

B. 星子附近河段

C. 康山附近河段

D. 东昌附近河段

高山流石滩是高山地区植被生存的极限，为适应严酷的自然环境，植被通常保持独特的形状及生长特征，如植株匍匐贴地生长，地上部分紧贴地面丛生成半球状或莲座状突起；一生只开一次花，散播一次种实等。高山植被特有性高，同时演化出新物种的概率较高。近年来，随着人为干扰的加剧，很多植被进入濒危状态。据此完成9-11题。

推测高山流石滩地区的气候特征为

A. 干冷

D. 湿冷

10. 高山植物特有性高，同时演化出新物种的概率也较高，引起这一现象的主要原因是高山地区

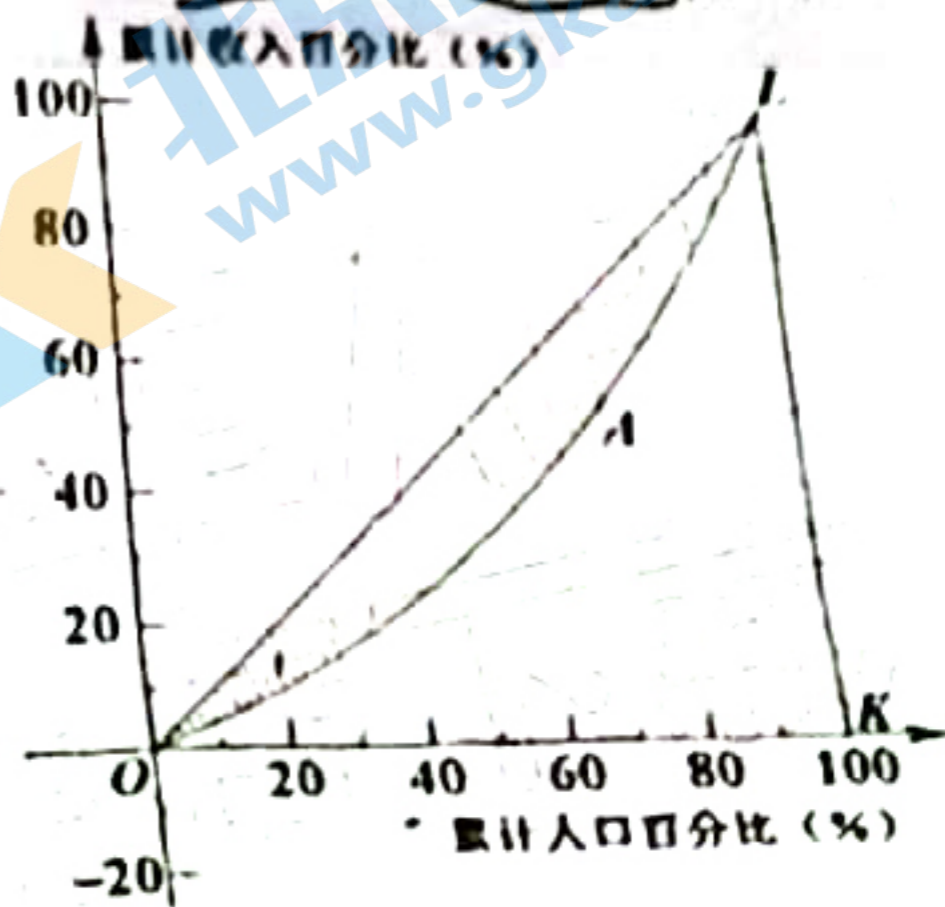
- A. 高差大，垂直交流难
- B. 面积小，生存空间小
- C. 距离远，水平交流难
- D. 积雪多，生长季极短

11. 对于处于濒危状态的高山流石滩植被，应该

- A. 自然演化
- B. 人工培植
- C. 异地引种
- D. 异地移植

12. 洛伦兹曲线是用来反映经济社会收入分配的曲线，如图，横轴表示人口的所占比例，纵轴表示相应比例的人口获得的收入占全社会总收入（总财富）的比例。不考虑其他因素，以下说法正确的是

- ①图中阴影部分保持合理区间有利于提高社会的总体消费水平
- ②健全生产要素按贡献参与分配机制，可缩小曲线的弯曲程度
- ③曲线 OAL 向右下方移动，代表社会财富分配更公平、更合理
- ④强化对 80—100 区间的个人所得税调节有利于促进共同富裕



- A. ①③
- B. ①④
- C. ②③
- D. ②④

13. 2021 年 11 月 8 日，中国人民银行为助推实现碳达峰、碳中和目标，创设了碳减排支持工具。该工具采取先贷后借的直达机制，先由商业银行等金融机构自主决策、自担风险，向碳减排重点领域的企业发放贷款，之后人民银行按贷款本金的 60% 提供资金支持，利率为 1.75%（现有再贷款工具中的利率一般大于 2.25%）。该支持工具产生影响的预期路径是

- ①金融机构贷款积极性提高，盈利能力增强
- ②碳减排企业获得金融机构更多的资金支持
- ③转变发展方式，经济效益和社会效益双赢
- ④增强金融机构支持碳减排企业的贷款能力
- ⑤碳减排企业不断加大节能减排的投入力度

- A. ①→④→⑤→③
- B. ④→①→②→⑤
- C. ④→②→⑤→③
- D. ②→④→③→⑤

14. 据海关统计，2021 年我国货物贸易进出口总值 39.1 万亿元人民币，比 2020 年增长 21.4%。其中，民营企业进出口增长 26.7%，占 48.6%；东盟、欧盟、美国、日本和韩国是我国前五大贸易伙伴，我国对“一带一路”沿线国家进出口增长 23.6%。据此可以推断我国

- ①坚持把提高人民生活品质作为构建新发展格局的出发点和落脚点
- ②对外贸易展现了强大韧性，新发展格局的构建具有强有力的支撑
- ③民营企业活力增强，民营企业出口产品结构得到进一步调整优化
- ④坚持互利共赢的原则卓有成效，对外经贸合作空间不断得到拓展

- A. ①③
- B. ①④
- C. ②③
- D. ②④

15. 2022年2月22日，新华社受权发布《2022年中央一号文件》，文件指出，要全力抓好粮食生产和重要农产品供给，全力抓好粮食生产，需要
- ① 推动效益提高、品质提升和标准化生产
 ② 依靠科技进步，强化现代农业基础支撑
 ③ 进一步稳定、完善农民土地所有权制度
 ④ 加强生态建设，落实退耕还林还草工作
- A. ①② B. ①④ C. ②③ D. ③④
16. 在2022年全国两会召开之际，多国人士聚焦中国民主实践，认为中国的全过程人民民主保证了人民在国家政治生活中极高的参与度，中国的民主在实践中发展完善，始终以人民利益为中心，走出一条成功道路。这是因为全过程人民民主
- ① 形成了全面、广泛、有机衔接的制度体系
 ② 通过实行差额选举保障当选者结构合理性
 ③ 构建了多样、畅通、有序参与的民主渠道
 ④ 拓宽了居民直接参与国家事务管理的渠道
- A. ①② B. ①③ C. ②④ D. ③④
17. 2022年3月5日，国务院总理李克强向十三届全国人大五次会议作政府工作报告，报告强调要切实保障和改善民生，加强和创新社会治理。坚持尽力而为、量力而行，不断提升公共服务水平，着力解决人民群众普遍关心关注的民生问题。这表明
- ① 政府权力从根本上说是人大赋予
 ② 建设有为政府更好履行政府职能
 ③ 国家机构坚持民主集中制的原则
 ④ 政府坚持为人民服务的工作方法
- A. ①② B. ①④ C. ②③ D. ③④
18. 2021年10月25日，国家主席习近平在出席中华人民共和国恢复联合国合法席位50周年纪念会议上强调：“中国同联合国合作50年，很重要的一条经验，就是要始终如一坚守联合国理想，坚定不移走多边主义道路，诚心诚意为世界和平与发展作出贡献。”维护和践行多边主义需要
- ① 坚持统一道路，不要唯我独尊
 ② 坚持大国主导，不要单边独行
 ③ 坚持聚焦行动，不要坐而论道
 ④ 坚持合作共赢，不要零和博弈
- A. ①② B. ①④ C. ②③ D. ③④
19. 央视春晚舞蹈诗剧《只此青绿》运用技术手段让虚拟场景和现实舞台结合，以古典文的叙事方式、传统艺术的当代表达、意念的流动构建起全剧的精神世界，通过人物的实交错、情感的古今交融，将悠远绵长的文化意象，赋予了无限的生命力和想象力，时火爆海内外。这表明
- ① 科技推动了文化传承和发展方式变革
 ② 文化的创新是文化继承和发展的根基
 ③ 每个民族都应认同其他各民族的文化
 ④ 中华文化在世界上具有其独特的魅力
- A. ①③ B. ①④ C. ②③ D. ②④
20. 2021年12月14日，习近平总书记在文联第十一次全国代表大会、中国作协第十次全国代表大会开幕式上指出，广大文艺工作者要深刻把握民族复兴的时代主题，把创造写到民族复兴的历史上、写在人民奋斗的征程中。这一要求启示文艺工作者应
- ① 把人民群众的聪明才智作为文化艺术创作的根本动力
 ② 树立大历史观、大时代观，把握历史进程和时代大势
 ③ 书写中华民族的千年巨变，描绘百年中国的人间正道
 ④ 努力坚持社会意识形态多元化的文艺工作创作新思路
- A. ①② B. ①④ C. ②③ D. ③④

21. 看右图“仙”与“俗”，下列选项与图寓意最一致的是

- A. 横看成岭侧成峰，远近高低各不同
- B. 登山则情满于山，观海则意溢于海
- C. 纸上得来终觉浅，绝知此事要躬行
- D. 近水楼台先得月，向阳花木易为春



22. 2021年9月22日，中共中央、国务院印发的《知识产权强国建设纲要（2021—2035年）》强调，要塑造尊重知识、崇尚创新、诚信守法、公平竞争的知识产权文化理念。基于

- ①文化理念具有相对独立性，推动中国的创新发展
- ②社会意识对社会实践的进程和结果产生重大影响
- ③发挥主观能动性是客观事物矛盾转化的必要条件
- ④正确知识产权文化理念有利于促进社会实践发展

A. ①②

B. ①③

C. ②④

D. ③④

23. 国家主席习近平 2022 年新年贺词强调，回首 2021 年，有很多难忘的中国声音、中国瞬间、中国故事。“请党放心、强国有我”的青春誓言，“清澈的爱、只为中国”的动人告白；运动健儿激情飞扬、奋勇争先；受灾群众守望相助重建家园；人民解放军指战员、武警部队官兵矢志强军、保家卫国……无数平凡英雄拼搏奋斗，汇聚成新时代中国昂扬奋进的洪流。材料表明

- ①人的自由全面发展是在创造价值中实现的
- ②个人的努力与奋斗是实现人生价值的前提
- ③积极投身实践是实现人生价值的根本途径
- ④个人在奉献社会中才能够实现自己的价值

A. ①②

B. ①④

C. ②③

D. ③④

24. 江苏宿迁的“宿”是远古国名国姓。西周初期姬姓之外的弱小宿国，夹在鲁和宋两国侯国之间。《宿州志》称“庄公十年，宋人迁宿移于封内，以为附庸，始因于此”朝取“宿国人迁居于此”之意命名为宿。由此可知

- A. 分封制具有稳定性和延续性
- B. 战国时宿沦为宋国的附庸国
- C. 社会转型决定地名不断变化
- D. 地名是历史文化信息的载体

25. 汉代形成了以“督邮”为主的地方行政组织内部监察制度。督邮由太守直接领导，可督察太守以下的官员，也可监督刺史……这样一来就与刺史制度形成相互监督的掎角之势。这表明汉代地方

- A. 官僚主义势力的急剧膨胀
- B. 以小督大、以卑临尊的制度设置
- C. 监察机关的反向制约特征
- D. 监察官拥有监察权而没有处置权

关注北京高者在线官方微信：北京高考资讯(微信号:bjgkzx)，获取更多试题资料及排名分析信息。

26. 永佃制是宋至近代佃农在按租佃契约交纳地租的条件下享有长期耕作权及处置耕作权权力的租佃制度，其特点是土地所有权同使用权的分离，地主无权随意增租夺佃，而佃农可退佃、转租或典卖佃权。永佃制由于经济上的激励作用，政府采取了鼓励的政策。这一制度

- A. 表明农民已经摆脱了封建人身依附关系
- B. 提高了土地资源的利用效率
- C. 解决了因土地高度集中带来的社会问题
- D. 导致“一田多主”现象普遍

27. 明末士人朱宗元说：“天裁之义，格物之书，象数之用，律历之解，莫不穷源探委，我中土之学问不如也”“自鸣之钟，照远之镜，举重之器，不鼓之乐，莫不精工绝伦，我中土之技巧不如也”。这说明当时

- A. 传统观念受到西学冲击
- B. 向西方学习的新思潮萌发
- C. 天朝上国观念走向瓦解
- D. 知识分子强烈的危机意识

28. 1853年4月到1854年6月，英国、美国公使接连访问天京。经过多次贸易谈判，他们认识到太平天国“欲与外国通商”但“毫无疑问不会承认与清政府签订的条约”。据此可知，太平天国

- A. 希望得到英美的经济援助
- B. 固守闭关锁国政策
- C. 奉行独立自主的外交政策
- D. 缺乏近代外交意识

29. 下表是“晚清单位面积农作物产量指数”统计表，对表中数据变化理解正确的是

年份	指数	年份	指数
1821-1830	100	1861-1870	82
1831-1850	92	1871-1890	80
1851-1860	87	1891-1911	78

- A. 源于人口总量的大量增加
- B. 缘于经济作物的普遍种植
- C. 导致人地矛盾的不断加剧
- D. 不利于中国近代社会转型

30. 1929年8月《中共闽西特委总结报告》中指出“党城市政策的正确，使商人阶级认识革命，尤其使小商人同情革命。过去闽西做了不少破坏城市的行动，此次，我们在水、岩两县，实行保护商店、公买公卖……一般商人安心营业，尤其是小商人，一旦得到相当利益，对于革命尤其同情。”据此可知，该政策

- A. 有利于打破敌人的经济封锁
- B. 坚持了联合资产阶级的方针
- C. 体现了政治与经济同步发展
- D. 保证了近代工商业稳健发展

31. 1953年2月3日的《人民日报》社论指出：自年初本报发表“各地群众纷纷来信报矿”的“读者来信综述”后，到1月26日止，我们继续收到群众报矿的来信五十四件，报告有矿藏的地点达七十八处。人民日报的这一宣传

- A. 适应了恢复国民经济的需要
- B. 旨在向大众普及地质科学知识
- C. 加快了社会主义改造的进程
- D. 有利于大规模经济建设的开展

32. 民众法庭是雅典日常司法机关，主要审理除杀人以外的一切公私诉讼。它还审查某项法律和政策，包括公民大会通过的决议是否违宪，如果违宪可以撤销该项法律或决议。高级公职人员的人选资格必须由它审定。民众法庭本质上是公民大会司法权力的延伸。这说明雅典民主制度

- A. 基本特征是人民主权轮番而治
- B. 具有“法治”原则
- C. 本质是立法权高于行政司法权
- D. 设计缺失权限不明

33. 1470年至1510年，英国毛呢出口量每年增长30%，由每年3万匹跃至9万匹。英国商人把资金投入到养羊业和毛纺织业中，政府为毛纺织品生产和销售提供了许多有利的政策条件。这些现象

- A. 表明英国产业革命已到来
- B. 改变了英国商品输出的结构
- C. 促进英国社会结构的分化
- D. 说明了英国垄断纺织品市场

34. 有学者指出，二战后，美苏“都把在经济上最终超过对方，建立更美好的社会，推广自己的生活方式、价值观和制度模式，争取到更多的追随者作为最终战胜对方的深层决定因素”。这表明

- A. 美苏争霸中优势在美国
- B. 美苏重视制度和发展模式竞争
- C. 大国势均力敌维持和平
- D. 美苏两国彰显大国的责任担当


35. 1833年批评家拉维龙提出：“我们认为最重要的就是艺术的迫切性和社会倾向性，然后是表现的真实和材料处理上或多或少的巧妙手法。……我们要求真实，因为艺术家应该接近生活，为人们所理解。”符合上述创作倾向的作品是



A



B



C



D

本卷包括必考题和选考题两部分。第36—42题为必考题，每个试题考生都必须作答。第43—46题为选考题，考生根据需求作答。

(一) 必考题

36. 阅读图文材料，完成下列要求。(22分)

成都双流机场旅客吞吐量多年位居全国第二，运力早已达到饱和，2016年距离市区50

公里的成都天府国际机场正式开工，2021年6月正式通航，成都成为我国仅次于上海、北京、广州的第四大航空枢纽。近年来，成都市陆续开设成都东站(高铁客运站)、宽窄巷子(旅游景区)两座城市候机楼。城市候机楼是在机场外建设的航空服务体，它包含机场航站楼除了登机之前必须要安检以外的一些功能，还提供舒适休闲的文化空间，包括咖啡茶饮、商务简餐、创新文创产品售卖、图文阅览等。图3示意成都双流机场和成都城市候机楼分布。

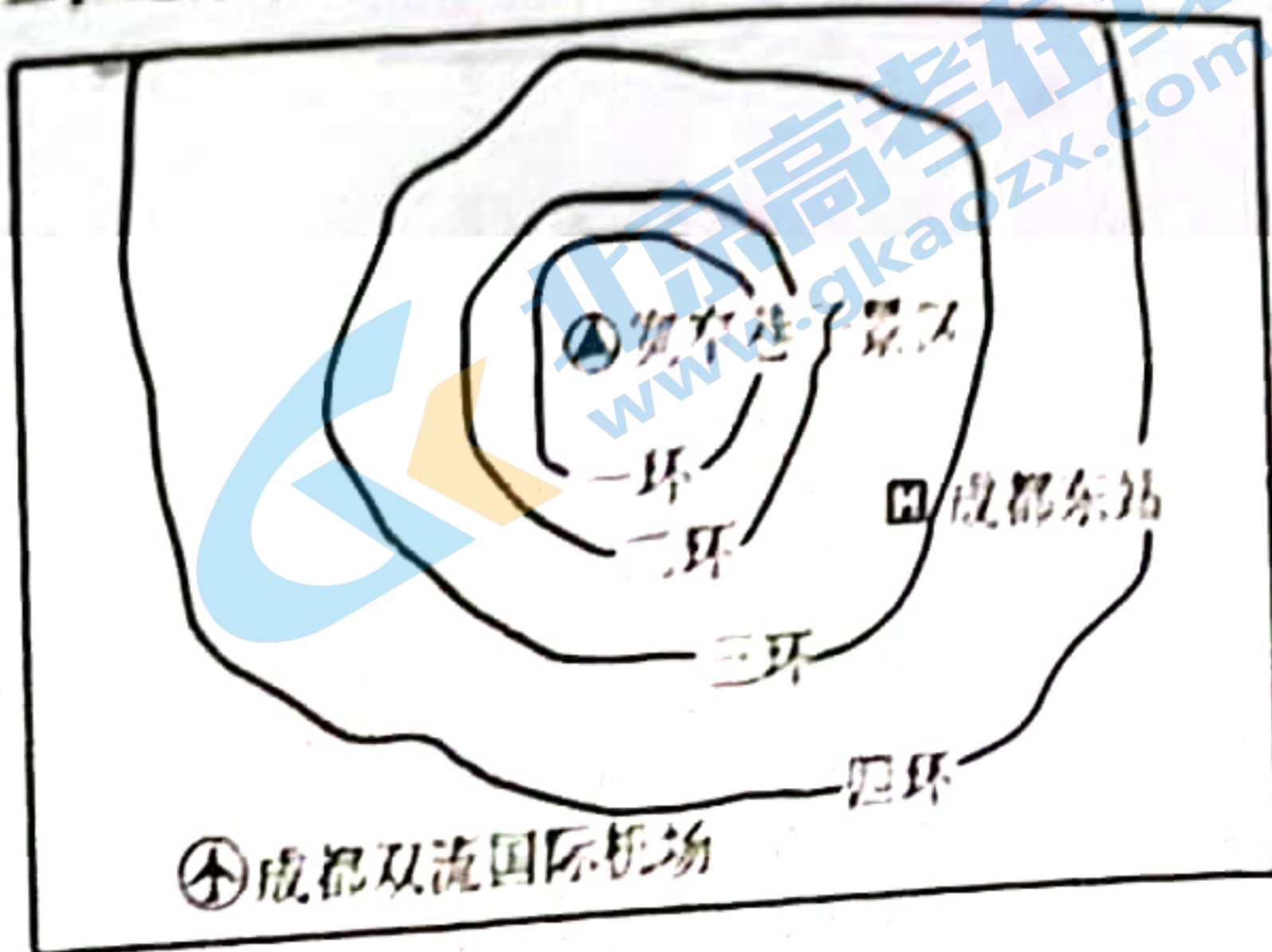


图3

- (1) 分析成都市成为重要航空枢纽的原因。(6分)
- (2) 推测城市候机楼适宜布局的城市类型与城市内部区位。(4分)
- (3) 说明成都市在成都东站与宽窄巷子设立候机楼的原因。(6分)
- (4) 简述成都市城市候机楼的开设对双流机场的作用。(6分)

37. 阅读图文材料，完成下列要求。(24分)

全球气候变化和人类活动干扰，引起多年冻土退化，热融湖发育。热融湖是因热融作用引起的地表塌陷形成的凹坑集水而成。图4所示区域位于青藏高原腹地，平均海拔4500m以上，地形略有起伏，低丘与洼地相间，年均降水量300mm左右，盛行偏西风，冬春季节风力较强。甲湖为图示研究区面积最大的热融湖。

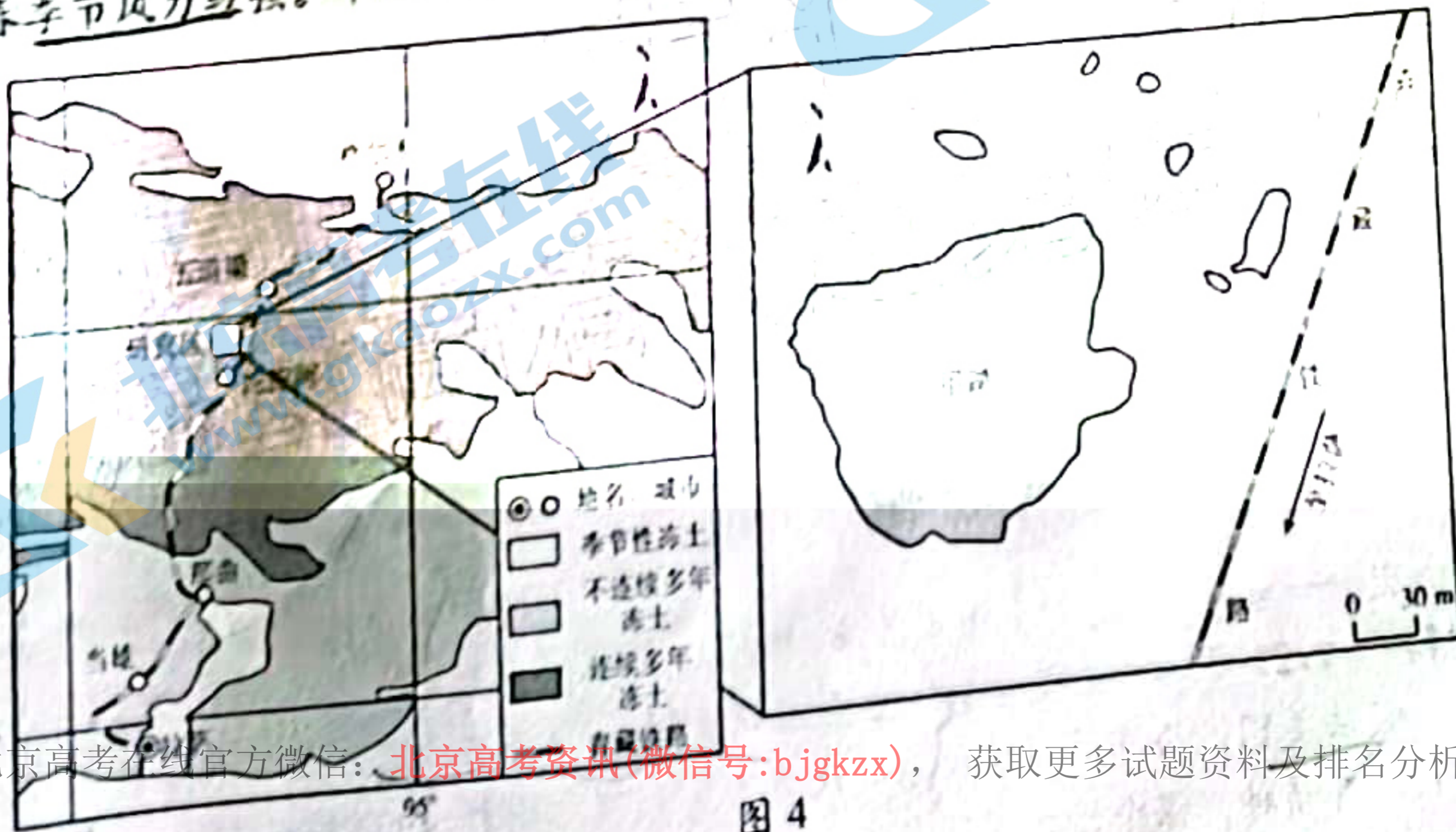


图4

关注北京高考在线官方微信：北京高考资讯(微信号:bjgkzx)，获取更多试题资料及排名分析信息。

... 北京高考在线 www.gkzaoz.com

2021年1月19日，国家统计局发布的数据显示，2021年，我国社会消费品零售总额... 2021年，我国社会消费品零售总额... 比上年增长1.6倍，每套商品房销售... 北京、上海等地开展了内循环... 北京、上海等地开展了内循环...

但是现实情况是，疫情对全球疫情形势和国际经济持续下行的影响，同时... 表现在：一些国家因疫情导致居民消费意愿、制约消费升级的现象；... 线上购物、直播带货等出现了一些... 消费陷阱问题、金融安全问题、消费陷阱问题等，使消费者的消费意愿... 下降... 虽然人口基数最大、面积最大、潜力... 巨大，但消费已下行，农产品上行的农村快递物流“最后一公里”瓶颈也是制约消费的... 重要因素。随着疫情防控更加精准有效，国内消费潜力有望继续释放，将推动经济高... 质量发展，确保经济行稳致远。

阅读材料，概括当前我国消费领域的现状并分析应如何释放消费潜力助推经济... 高质量发展。（14分）

39. 阅读材料，完成下列要求。

近几年来，在各路资本加持下，教育培训机构“起生木起”，却无视教育规律... “内卷”不断。学生学业负担和家长经济负担不断加重，教育行业乱象频发，如出现无... 证无证机构屡禁不止，虚假宣传、超前超标、乱收费、与中小学招生入学挂钩等违法违... 规行为。

2021年7月24日，中共中央办公厅、国务院办公厅印发《关于进一步减轻义务教... 育阶段学生负担和校外培训负担的意见》（简称“双减政策”），强调提升学校课后服... 务水平，满足学生多样化需求，大力提升教育教学质量，确保学生在校内学足学好等要... 求，对学科类校外培训机构提出了力度空前的监管措施。政策实施后，据国家统计局的... 调查显示，73%的家长表示孩子完成书面作业的时间明显减少，85.4%的家长对课后服... 务表示满意。

定节假日、休息日、寒暑假指导各地开展常态巡查、坚决关停。加大对隐形变异培训查处力度，开展专项治理。规范培训收费行为，加强培训预收费监管。推动校外教育培训监管立法，加强执法力量，提升执法能力，抓好执法检查。

有人认为，有效遏制校外培训机构乱象靠的是政府切实履行职能。请运用政治生活知识对此观点进行评析。（12分）

40. 阅读材料，完成下列要求。

北京冬奥会不仅是一场体育盛会，也是一场文化盛宴，讲述中国故事，彰显中国自信。从开幕式的24节气到闭幕式的12生肖，从“黄河之水”倾泻而下到五环“破冰而出”，再到雪花的“花瓣”融入“中国结”结出世界大同……2022年，世界更需要熟悉中国。故冬奥会开幕式强调的是“小而精”，蒲公英、五环破冰是“小”的，会歌合唱是“小”的，同时，精致中国风的服饰、同心圆玉璧的奖牌等，每一个环节都向世界展示了一个不一样的中国，这种“小而精”正是我们国家的文化自信，不用再强调我们国家的地大物博，而是让世界看到我们国家更小、更细、更深层次的一面。

透过北京冬奥会这扇窗口，世人能看到5000多年文明的深厚积淀，也能一览当代中国日新月异的发展面貌。奥运史上首次实现场馆绿色电力全覆盖，“冰丝带”首次采用碳排放趋近于零的制冰技术……科技、智慧、绿色、节俭成为北京冬奥会的鲜明特色，也是新发展理念的生动画卷。从申办报告提出“以运动员为中心、可持续发展、节俭办赛”三大理念，到把绿色、共享、开放、廉洁的办奥理念贯穿筹办工作全过程，北京冬奥会见证了中国经济与社会强劲的发展脉搏，体会到中国智慧、中国方案为奥运、为世界注入的强劲动能。今天，每个民族、国家都是平等的，各国唯有团结合作，打破隔阂，摒弃偏见，“一起向未来”的主题才能实现，共同建设和谐合作的国际大家庭目标才能实现。

- (1) 结合材料，运用文化生活知识，说明北京冬奥会讲好中国故事是如何彰显文化自信的。（10分）
- (2) 北京冬奥会讲好中国故事将有利于全球“一起向未来”。结合材料，运用“价值观导向作用”的知识进行说明。（12分）
- (3) 北京冬奥会用世界语言讲好了中国故事，充分展现了中华灿烂文明与奥林匹克精神的完美交融，展示了新时代的“中国精彩”。请你从文化交流的方式或手段角度，就如何继续向世界讲好“中国故事”提出两条具体建议。（4分）

41. 阅读材料，完成下列要求。（25分）

材料一 汉武帝即位初仍沿用帝王在位年数纪年法，即称元年、二年……因其崇信阴阳术数，每隔六年就改元一次。持续到第四次，有官员建议不宜像这样“一元”“二元”表述纪年，而应以祥瑞为每一纪元命名。武帝遂陆续追改其纪元为“建元”、“元光”等。此外，西汉前期各诸侯王也和皇帝的纪年形式一样，以自己王国内诸侯王的在位年数来纪年，皇帝与诸侯间便颇有分庭抗礼之势。汉武帝用年号纪年后，历朝历代皇帝纪年都有年号而诸侯没有，年号从其诞生时起就成了皇帝神圣统治权威的突出象征。

——摘编自辛德勇《年号背后的玄机与深意》

材料二 清末，很多知识分子提出了革新纪年方式的主张。戊戌变法前夕，康有为在《孔子改制考》中写到“孔子卒后二千三百七十六年”，改立孔子纪年亦成为其变法的

一项重要主张。1903年，刘师培提倡“黄帝纪元”对于汉族保持“特殊性质”的重要作用。1903年，高梦旦提出中国应该使用西方通行的“耶稣纪元”。“耶稣纪元”的重要是符号，符号就应该是使用简便而又通行之例。“耶稣纪元”正代表这一趋势。各种改革派的纪年主张，都借用了西方宗教的例证作为自己合理性的依据。如康有为认为：“天地各国，皆以教主纪年。”刘师培说：“吾观泰西各国，莫不用耶稣降世纪年。”1919年底，钱玄同认为中国应采用世界通用之公历纪年（即耶稣纪元），公历纪年与基督教是不相干的。此想法在当时得到很多人的认同。1949年，新中国决定采用世界通用的公元纪年。

——摘编自朱文性《从“耶稣”到“公元”：近代中国纪年公历之变迁》

- (1) 根据材料一并结合所学知识，分析汉武帝采用年号纪年的历史背景并指出其主要意图。（8分）
- (2) 根据材料二并结合所学知识，分析清末民初知识分子提出革新纪年方式的原因及作用。（12分）
- (3) 根据材料一、二并结合所学知识，阐述你对近代以来耶稣（公元）纪年在中国最终确立的认识。（5分）

42. 阅读材料，完成下列要求。（12分）

材料 学者皮国立在著作《医通中西：唐宗海与近代中医危机》中指出，中医在近代转型过程中碰上了“中与西”与“古与今”历史文化之间的对向冲突而产生之“二重现代性难题”……“二重现代性难题”在中国近代化的过程中有诸多体现。根据材料与所学中国近代史的相关知识，围绕“二重现代性难题”自拟一个具体论题，并就所拟论题予以阐述。（要求：论题明确，史论结合，逻辑清晰）

(二) 选考题（请考生从给出的2道地理题、3道历史题中每科各选一题作答，如果多做，则按所做的第一题计分）

43. 【旅游地理】（10分）

玉龙雪山冰川旅游景区位于云南省丽江市玉龙纳西族自治县，山体终年积雪，是中国纬度最南的亚热带极高山和亚欧大陆距离赤道最近的温带海洋性冰川。景区自1994年开园以来，20多年来旅游业快速发展，享誉海内外。与极地冰川旅游相比，分析玉龙雪山冰川旅游市场竞争力强的原因。

44. 【环境保护】（10分）

黑色农业是指以厨余垃圾、农作物废杆（如杂草、秸秆等）为物质基础，利用腐食性昆虫和微生物独特的消化系统，产出包括有机肥料、昆虫高蛋白饲料、虫砂（昆虫粪便、幼虫等组成的干燥颗粒物）等产品。说明黑色农业的兴起对我国中西部乡村环境改善的意义。

45. 【历史——选修1：历史上重大改革回眸】（15分）

材料 1922年的“壬戌学制”主要采取美国的“六三三制”，表明中国教育从效法日本转向效法美国。公布的《学校系统改革案》列有七条标准：适应社会进化之需要，发挥平民教育精神，谋个性之发展，注意国民经济力，注意生活教育，使教育易于普及，多

留各地方伸编余地。1923年颁布了新课程标准规定：小学校课程为国语、算术、卫生、公民、历史、地理、自然、园艺、~~工用艺术~~、~~修身艺术~~、音乐、体育等。初级中学课程分社会、古文、算学、自然、艺术、体育等。高级中学分普通科和职业科(有师范、商业、工业、农业、家事等科)；普通科以升学为目的，又分为文学和社会科学、数学和自然科学两组。课程均分必修、分科选修、特种选修3部分，各科课程以学分数，以修满150学分为毕业。大学和专门学校的课程，依具体实际情况，参照各校意见，送教育部核定。壬戌学制是中国近代史上实施时间最长、影响最大的一个学制。

——摘编自《壬戌学制》

- (1) 根据材料概括“壬戌学制”的特点。(8分)
- (2) 根据材料并结合所学知识，简析“壬戌学制”的影响。(7分)

46. 【历史——选修3：20世纪的战争与和平】(15分)

材料 车臣地处里海与黑海之间，石油资源丰富，是中亚向欧洲输油的必经之地。从彼得大帝扩张以来，近200年车臣人民一直在反抗俄罗斯人。1944年斯大林以车臣与德国合作为山，把约40万车臣人举族流放中亚和西伯利亚。1991年11月，总统杜达耶夫手托《古兰经》单方面宣布车臣是主权国家。车臣危机一直困扰着俄罗斯，1994年12月战争爆发……格罗兹尼战役后，车臣武装退入山区与俄军展开了游击战。1996年1月，车臣恐怖分子将邻国的基兹利亚尔市约3000名医务人员和病人扣为人质。1996年8月在国内压力和大选逼近下，叶利钦不得已和车臣签署停火协定，车臣获得了非正式独立地位。这场战争俄军死亡3826人，伤17892人，直接经济损失约50亿美元，俄罗斯没有达到自己的政治目标。

——摘编自《第一次车臣战争》

- (1) 根据材料概括俄罗斯车臣危机产生的历史因素与现实因素。(8分)
- (2) 根据材料并结合所学知识，分析第一次车臣战争对俄罗斯的影响。(7分)

47. 【历史——选修4：中外历史人物评说】(15分)

材料 徐光启(1562-1633)，南直隶松江府上海县(今属上海市)人。出身农家，从小就十分关心农事。他利用空闲时间，在北京、天津和上海等地设置了试验田，进行各种农业生产技术的实验。同时向利玛窦学习西方的天文学、地理学和水利工程等方面的知识。徐光启创作和翻译许多农学书籍，其中以《农政全书》最为著名。这本书基本上涵盖了我国古代汉族农业生产各个方面的知识，还贯穿着徐光启的“农政”思想，包括：第一，“富国以农”“理财莫先于务农”的思想。第二，移民垦荒和兴修水利。第三，在农业技术方面，首先打破了我国古代农学中“风土”思想的局限。第四，提高了南方的耕作技术，推广了甘薯的种植经验。第五，徐光启还总结了蝗虫灾害发生的规律，并提出了治理蝗灾的办法。《农政全书》总结了我国劳动人民数千年的生产经验，是农业技术的集大成之作。

——摘编自《徐光启农业思想的研究》

- (1) 根据材料并结合所学知识，说明徐光启“农政”思想产生的原因。(8分)
- (2) 根据材料并结合所学知识，简评徐光启的“农政”思想。(7分)

关于我们

北京高考在线创办于 2014 年，隶属于北京太星网络科技有限公司，是北京地区极具影响力的中学升学服务平台。主营业务涵盖：北京新高考、高中生涯规划、志愿填报、强基计划、综合评价招生和学科竞赛等。

北京高考在线旗下拥有网站门户、微信公众平台等全媒体矩阵生态平台。平台活跃用户 40W+，网站年度流量数千万量级。用户群体立足于北京，辐射全国 31 省市。

北京高考在线平台一直秉承 “精益求精、专业严谨” 的建设理念，不断探索 “K12 教育+互联网+大数据” 的运营模式，尝试基于大数据理论为广大中学和家长提供新鲜的高考资讯、专业的高考政策解读、科学的升学规划等，为广大高校、中学和教科研单位提供 “衔接和桥梁纽带” 作用。

平台自创办以来，为众多重点大学发现和推荐优秀生源，和北京近百所中学达成合作关系，累计举办线上线下升学公益讲座数百场，帮助数十万考生顺利通过考入理想大学，在家长、考生、中学和社会各界具有广泛的口碑影响力

未来，北京高考在线平台将立足于北京新高考改革，基于对北京高考政策研究及北京高校资源优势，更好的服务全国高中家长和学生。



微信搜一搜

北京高考资讯

官方微信公众号: bjkzx

官方网站: www.gaokzx.com

咨询热线: 010-5751 5980

微信客服: gaokzx2018