

北京市海淀区 2016 届高三第一模文综试题

2016 年 8 月 5 日至 8 月 21 日，第 31 届夏季奥运会将在巴西里约热内卢举行。读图 1，回答第 1~3 题。

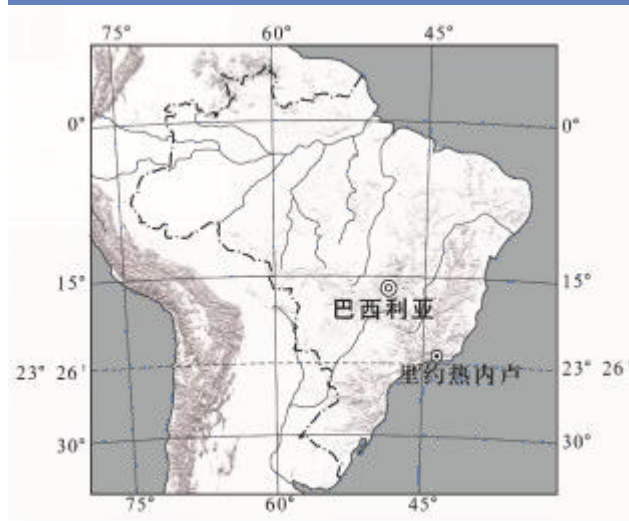


图 1

1. 举办奥运会对里约热内卢产生的影响是 B

- ①促进基础设施建设 ②增加当地就业机会
③扩大人口合理容量 ④加强国际文化交流

A. ①②③ B. ①②④

C. ①③④ D. ②③④

2. 奥运会期间，里约热内卢 A-

- A. 正午太阳高度逐渐变大
B. 日出东南，昼短于夜且昼渐长
C. 受海洋影响，气温达全年最高
D. 受西风影响，正值多雨的季节

3. 巴西 D

- A. 东部沿海洋流对沿岸气候有降温减湿的作用
B. 农产品以咖啡、甜菜为主，产量居世界前列
C. 北部河流流程长、水量丰沛，内河航运发达
D. 主要城市多分布在东南沿海和南部高原地区

图 2 为“某内陆湖及周边区域示意图”。读图，回答第 4、5 题。

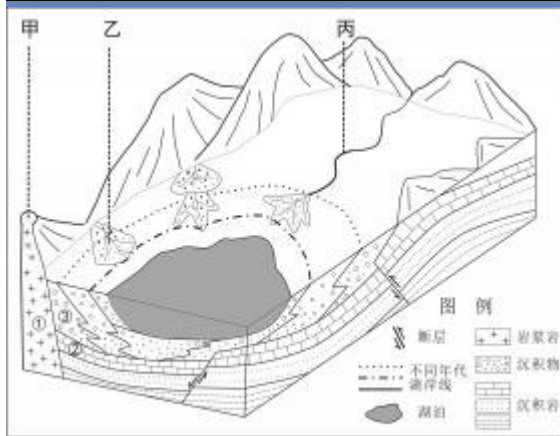


图 2

4.图中 B

- A. 甲处以变质作用为主
 - B. 乙处以流水作用为主
 - C. 丙处沉积作用形成凹岸
 - D. 地层形成顺序是③②①
- 5.据图中信息推测，湖泊 A
- A. 是由于岩层断裂下陷积水形成
 - B. 冬季水位高是因气温低蒸发弱
 - C. 水位下降，流域面积不断缩小
 - D. 对丙河的流量仍具有调蓄作用

这片广袤的黄土地已经被水流蚀割得沟壑纵横，支离破碎，四分五裂，像老年人的一张粗糙的皱脸——每年流入黄河的泥沙就达十六亿吨！就在这大自然无数黄色的皱褶中，世世代代生活和繁衍着千千万万的人。无论沿着哪一条“皱纹”走进，你都能碰见村落和人烟，而且密集得叫你不可思议（引自路遥《平凡的世界》）。据此，回答第 6~8 题。

6. 文中“黄土地”所在的地形区 C
- A. 受降水影响形成深厚土层和沟壑
 - B. 地处温带草原和荒漠过渡地区
 - C. 有革命圣地延安及特色窑洞景观
 - D. 农业地域类型为传统稻作农业
7. 生活在这里的人们 D
- A. 受热量条件制约，选择在河谷地区修路建村
 - B. 借黄土肥沃优势，发展了大规模机械化农业

- C. 不合理耕作破坏植被，导致石漠化现象严重
- D. 通过植树种草及打坝淤地进行有效水土保持

三门峡是在黄河干流上兴建的大型水利工程。表 1 为某年三门峡库区冲淤数据。

表 1

时段	7 月 6 日至 9 日	7 月 10 日至 8 月 2 日	8 月 3 日至 9 日
平均流量 (m ³ /s)	5069	1519	3908
平均含沙量 (kg /m ³)	391	52.7	369
泥沙淤积量 (×10 ³ t)	0.20	-0.114	0.104

8. 从表 1 中信息可知 D
- A. 降水对河流的径流量、含沙量影响较小
 - B. 河流侵蚀强度与水库泥沙淤积量此消彼长
 - C. 数据来源于 GPS，并通过 GIS 进行分析处理
 - D. 数据为三门峡库区的调水调沙工作提供依据

香港地处“岭南文化区”，是重要的国际金融中心。读图，回答第 9、10 题。



图 3

图 4

9. 图 3 为当地传统民居建筑中的“趟栊门”，反映该地 B
- A. 昼夜温差大
 - B. 潮湿闷热
 - C. 光照充足
 - D. 台风频发
10. 图 4 为“香港城市土地利用简图”，图中 A
- A. 商业中心区建筑密集、高楼林立、交通便利
 - B. 混合土地利用带是城市中最常见的功能区
 - C. 高级、低级住宅区的分化是受行政因素影响

D. 工业区分布在常年盛行风的下风地带

我国“四纵四横”高速铁路网建设初具规模，图5示意我国高铁线网中的4条线路，甲、乙是省级行政中心，也是重要铁路枢纽。读图，回答第11



题。

图5

11. 下列叙述正确的是 B

- A. 甲地附近铁路建设桥隧工程量大
B. 乙地附近铁路运行受洪涝影响大
C. 线路②跨越地势第一、二级阶梯
D. 线路④经过少数民族主要分布区

12. 2015年，在江西南昌发掘一座汉墓，因出土文物数量多，所含信息量大，倍受关注。以下出土文物和结论之间相符的是

	文物	结论
A	一面迄今为止发现的最早的绘有孔子画像的屏风	此画像就是孔子的真实相貌
B	出土200万枚五铢钱	当时江西地区商品经济发达
C	墓中金饼题记：“南海海昏侯臣贺元康三年耐金一斤”	墓主可能是刘贺
D	一座真车马陪葬坑和超越列侯丧葬数量规制的编钟	墓主可能是汉朝皇帝

13. 唐开元四年（716年），汴州发生了蝗灾，中书令姚崇领导灭蝗工作，汴州地方长官倪若水拒不执行命令，姚崇乃牒报（行文通报）若水，强令其采取灭蝗措施。据唐朝三省体制判断，这说明了当时

- A. 中书省势大，姚崇越权行政
B. 门下省失权，三省体制瓦解
C. 相权膨胀，威胁皇帝权力
D. 藩镇割据，倪若水抗拒中央

14. “清明前后，种瓜点豆。”清明是我国历法中的二十四节气之一。二十四节气通过表示地球在轨道上运行的二十四个不同的位置，刻划出一年中气候变化的规律。两千多年来，它在安排和指导农业生产过程中，发挥了重大的作用。对此理解正确的是

- ①促进了古代天文学的发展
②体现了我国科学实用性特点
③有一定的宗教迷信的色彩
④促进了古代农业的精耕细作

- A. ①④
B. ②③
C. ①③
D. ②④

15. 有学者认为，晚清西学东渐可以分为四个历史阶段：1811—1842年；1842—1860年；1860—1900年；1900—1911年。下列西学传播的特点属于第三阶段的是

- A. 传播于沿海的通商口岸
B. 系统介绍西方社会政治理论
C. 开始译介西方史地书籍
D. 开始介绍近代西方各国律例

16. 下列各项属于孙中山在民国初年提出的主张的是

- A. 勤求远略，仿行西法以筹自强……徒惟坚船利炮之是务，是舍本而图末也。

- B. 我们革命的目的，是为中国谋幸福，因不愿少数满洲人专制，故要民族革命。
- C. 文明之福祉，国民平等以享之。当改良社会经济组织，核定天下地价。
- D. 我辈须极力振兴实业，讲求民生主义，使我五大族人民，共濬富源。

17. 中国共产党第二次全国代表大会被评价为“找到了与中国实际的联系并决定了党要走的道路”一些学者认为这次大会是“马克思主义中国化的起点”。这次会议

- A. 完成了新民主主义革命的理论探索
- B. 提出了民主革命时期的革命纲领
- C. 探索出中国特色的武装斗争的道路
- D. 确立了武装反抗国民党的总方针

18. 毛泽东曾致函傅作义：“先生北方领袖，爱国宁肯后人？保卫绥远，保卫西北，保卫华北，先生之责，亦红军及全国人民之责也。今之大计，退则亡，抗则存；自相煎则亡，举国奋战则存。”符合该函件思想的是

- A. 国共合作，推翻北洋军阀
- B. 团结一致，抵御外敌侵略
- C. 灵活作战，坚持敌后抗战
- D. 接受改编，和平解放北平

19. 阅读下表并结合所学知识，可以得出符合这一时期中国经济状况的结论是

- A. 追求高速度导致经济比例失调
- B. 三年经济困难造成经济巨大破坏
- C. 压缩投资以实现国民经济调整
- D. 国民经济恢复工作已经基本完成




图6

20. 英国利物浦（见图6）在13世纪初期是从从事农业和渔业的人口聚集地，是一个公认的“小渔村”，在中世纪晚期仅与爱尔兰有少量的商业往来。18世纪中期，利物浦成为仅次于伦敦的英国第二大港口城市。在此期间，促进利物浦城市发展的因素有

- ①新航路开辟后处于商路中心
- ②“商业革命”提供了发展契机
- ③从事跨大西洋的“三角贸易”
- ④工业革命加快了城市化进程

- A. ①②③
- B. ②③④
- C. ①③④
- D. ①②④

21. 有同学按时序整理了19世纪下半叶部分国家的重要文献（见图7）。图中的空白处应填写的是



A. 《法国

- 民法典》 B. 《钦定宪法大纲》
C. 《德意志帝国宪法》 D. 《土耳其共和国宪法》

21. 有同学按时序整理了 19 世纪下半叶部分国家的重要文献（见图 7）。图中的空白处应填写的是

- A. 《法国民法典》 B. 《钦定宪法大纲》
C. 《德意志帝国宪法》 D. 《土耳其共和国宪法》

22. 西方学者认为，在达尔文之前，生物学的主要研究者是业余爱好者和神职人员，研究主要局限于物种的划分。达尔文和进化论的贡献，就像牛顿对物理学和天文学的贡献一样，将有机生命从宗教制度中解放出来。“现在，上帝只是一个旁观者……人类的思想和创造愈发重要了。”据材料判断，达尔文和进化论的贡献是

- A. 否定了教会关于生命起源的学说 B. 促进了物理学和天文学发展
C. 打破了教会对生物学研究的垄断 D. 确立了理性主义的思想观念

23. 1946 年 2 月 22 日，美国驻苏联外交官乔治·凯南向美国国务院发了一封电文，指出：“美国必须在政治舞台上把苏联当作对手，而不是伙伴”，苏联“对理智的逻辑性无动于衷，但对武力的逻辑十分敏感”。因此，美国若拥有足够的实力，并表明准备使用实力时，几乎用不着动武，便可遏制住苏联。这一文件

- A. 使二战后美苏关系由战时盟友转为对手
B. 形成了二战后美苏对峙的两极政治格局
C. 主张美国用战争手段与苏联全面对抗
D. 为美国的“冷战”政策提供了理论依据

24. 某广告公司设计了一个公益广告文案：一张台子、几打儿报纸、一个铁盒，构成“李阿姨自助报摊”的全部，买报的人自觉将钱放进铁盒，没带钱的第二天会补上。李阿姨的自助报摊坚持了八年，算下来一分钱没少过……下面最能直接反映该文案主题的是

- A. 讲诚信，有未来 B. 近朱者赤，近墨者黑
C. 讲法治，有秩序 D. 送人玫瑰，手有余香

25. 《故宫日历》通过大量故宫藏品图片，让普通民众可以在日常生活中感受千年风景；节气、物候、时令要素的增加，也让现代人重新感受传统文化之美。2016 年的日历发行仅一个月就占据了各大书店和电商图书销售榜前列。《故宫日历》

- ①提高了文物收藏价值，保障了人民基本文化权益
②弘扬了民族精神，彰显了中华文化的包容性
③满足了大众的审美需求，滋养了人们的精神世界
④把握了市场脉搏，激发了人们的文化自信

A. ①② B. ①③ C. ②④ D. ③④

26. 在我国浩如烟海的史书典籍中，以哲学智慧解决难题的典故不胜枚举。下列典故中体现创新意识的是

①曹冲称象 ②田忌赛马 ③愚公移山 ④庖丁解牛

A. ①② B. ①③ C. ②④ D. ③④

27. “窄条凳，自行车，弓腰扛背，沐雨栉风。身边的人们追逐很多，可你的目标只有一个。刀剪越磨越亮，照见皱纹，照见你的梦。吆喝渐行渐远，一摞一摞硬币，带着汗水，沉甸甸称量出高尚。”感动中国的磨刀老人吴锦泉，多年来一直把自己磨刀挣的辛苦钱捐助给灾区和一些困难群众。老人的善举启示我们

①实现人生价值需要发挥主观能动性
②要在个人与社会的统一中实现人生价值
③价值观对改造世界具有决定性作用
④人们的物质贡献和精神贡献总是统一的

A. ①② B. ①③ C. ②④ D. ③④

28. 古语云：“百善孝为先”；“夫孝，始于事亲，中于事君，终于立身”。在新时期，应当如何传承孝道文化？下列观点中正确的是

A. 全盘继承传统孝道文化，使其永葆生命力
B. 敢于突破成规陈说，根除传统的思想观念
C. 孝道文化代表的是封建主义腐朽思想
D. 对待传统孝道文化要坚持肯定与否定的统一

29. 高三学生小海对我国与中东国家的关系颇感兴趣，搜集了一些资料：一是中阿之间共建“一带一路”，做共同发展的好伙伴；二是中国支持中东和平进程，力促中东地区持久稳定与经济社会可持续发展。为此他撰写了一篇时事评论，该评论的依据可能是

①和平与发展是当今时代主题
②世界多极化深入发展是当今世界的突出特点
③国家间的共同利益是国家合作的基础
④和平共处五项原则是各国处理对外关系的基本准则

A. ①② B. ①③ C. ②④ D. ③④

进一步促进快递业的健康发展，需要制定实施《快递条例》。为此，国务院法制办在中央政府门户网站发布公示向社会征求意见，公民积极建言献策。回答 30、31 题。

30. 在收集到的下列建议中，你认为不可能被采纳的是

A. 财政部应当加大对快递企业的财政支出力度，经营快递公司
B. 邮政管理局要简政放权，会同有关部门制定好行业发展规划
C. 要发挥行业协会作用，通过行业自律保护消费者的合法权益
D. 快递企业要不断完善货物延误、损害的投诉机制和赔偿机制

31. 在制定行政法规的过程中，广泛征求社会意见。这种“开门立法”的方式

A. 保障了公民行使基本政治权利 B. 根本目的是树立政府的权威
C. 有利于公民积极行使立法权 D. 有利于推进立法的民主化、科学化

32. 小虎假期去美国旅游时，发现同一商品在各州适用的消费税率不同。其中的原因是

A. 美国行业协会众多 B. 美国是联邦制国家
C. 美国是总统制国家 D. 美国实行三权分立

33. 在大数据时代，中国的互联网企业合并似乎并不是什么新鲜事儿，58 同城和赶集网的

合并，滴滴与快的握手言和，美团与大众点评、携程与去哪儿的合并。有分析称，互联网企业合并浪潮的到来将会成为未来一段时期互联网业界的常态。如果要对这一现象进行报道，下面最恰当的标题是

- A. 打破垄断，促进行业公平竞争
- B. 加强优势互补，实现资源合理整合
- C. 优胜劣汰，提高相关服务价格
- D. 实施创新战略，提高自主创新能力

34. 图8是近年来出现的国外种植返销国内模式，对这一模式认识正确的是

- ①参与经济全球化就能够推动经济发展
 - ②经济发展必须统筹国内国际两个市场
 - ③对外开放必须坚持独立自主自力更生
 - ④充分发挥我国的比较优势，实现共赢
- A. ①② B. ①③ C. ②④ D. ③④

35. 根据联合国世界旅游组织发布的数据显示，截至2015年，中国人已经连续三年成为海外购买力最强的群体。在跨境购物中，“品质”和“价格”是中国消费者最关注的两大因素。从马克思主义政治经济学角度看，中国消费者所关注的两大因素表明

- A. 商品价格围绕价值上下波动
- B. 商品是用于交换的劳动产品
- C. 商品是使用价值和价值的统一
- D. 抽象劳动是商品价值的唯一源泉

二、解答题

36. 读图9，回答下列问题。（36分）



图 9

积温是一年内日平均气温 $\geq 10^{\circ}\text{C}$ 持续期间日平均气温的总和,作为影响植物生长的重要因素,它影响了农作物的熟制。

(1) 简述图示地区积温分布规律。(6分)

黑龙江省的小麦、大豆、马铃薯等农产品的产量连续多年居全国第一位。

(2) 分析气温特征对黑龙江省松嫩平原种植业的影响。(8分)

近年来,人们加强了对东北林区的保护,生态环境得到改善。

3. 读图 10, 写出图中序号表示的森林的生态效益。(6分)

①	
②	
③	

37. (32分) 礼制和礼仪因地域文化的不同而有别,礼制和礼仪随着社会的变化而不断发展并在国际交往中产生碰撞和融合。阅读材料,回答问题。

材料一 西周时期家族组织与国家政权组织合而为一,形成宗法等级制国家。古希腊罗马的家族组织被打碎,建立了纯粹的地域国家。这影响了东西方治国模式的不同。

西周崇尚礼制,礼涵括了典章制度、礼节仪式、道德规范三个方面,以制度层面为主,成为治理国家的重要规范。西周的礼制具有强大的感召力,使人们开始突破狭小的部族组织的局限,通过共同的语言文字、道德伦理和风俗习惯,向更高社会阶段发展。它使一个来源多样、由不同族群组成的王朝具有了心理上与文化上的认同感与归属感。

罗马法的发展反映了罗马人依法治国的观念和罗马人崇尚法治的意识。罗马法在治理国家和协调社会关系方面发挥了重大作用。

——摘编自王和《历史的轨迹:基于夏商周三代的考察》等

(1) 依据材料一和所学知识,分别说明古代中国和古代欧洲不同的治国模式。分析这两种治国模式形成的背景和在历史发展中的积极意义。(10分)

材料二 近代以来,西方的礼仪逐渐变得简单、随便而自由。基督教的礼节和教仪对西方的礼仪有重大影响。马丁·路德认为信徒们可以通过祈祷直接与上帝沟通,无须基督教原有的繁琐仪式,使西方人的宗教生活发生巨大变化。启蒙运动使罗马教廷又遭重创,人们的宗教

观念从此不再像以前那样神圣而庄严了。如果说马丁·路德宗教改革本身还不能使新教徒彻底摆脱那些繁琐礼节影响的话，那么启蒙运动则深深地触动了人们信仰的灵魂，极大的简化了宗教仪式，并且也影响到传统的天主教徒。欧洲资产阶级革命及现代工业文明的发展使基督徒更为世俗化、商业化。19、20 世纪以来西方的宗教礼仪逐渐变得简单而自由化了。西方宗教仪式的变化还反映在人们的思想观念上，仪式的简化和自由也使基督教对西方人精神世界的统治逐渐松弛。

——摘编自高福进《礼仪及西方礼仪：变迁与前景》

(2) 阅读材料二，结合所学知识概括近代西方社会礼仪变迁的趋势，分析其原因和影响。

(10 分)

材料三 近代以前，中国无论是疆土的广袤，物产的丰盈，社会制度的昌明，经济水平的先进，思想文化的博大精深，都是周边其他民族难以相比的。于是形成了以中国为核心的先进政治、经济、文化的辐射圈，促进了东亚民族的进步。许多国家的君王使臣“慕中华而王欲化久矣”，“奉跪鼓舞（跪拜舞蹈），顺附如归，咸仰天而拜曰：何幸中国圣人之教沾及于我”，“仰慕中国衣冠礼仪，乞带冠还国”。这种情况，必然促使中国的统治者和士大夫逐渐形成天朝大国、唯我独尊的心理。当时流行的华夷观念认为华与夷二者最明显的区别在于，华夏具有完备发达的礼义，而夷狄则没有礼义廉耻等观念。

鸦片战争以后，英、法、美、俄等国，不断向清廷提出觐见清帝的要求。第二次鸦片战争以后，特别是 1873 年 2 月同治帝亲政后，西方各国驻华公使以公使团的名义，再次强烈要求觐见清帝。清政府起初婉拒，后又以各国公使觐见须以三跪九叩之礼难之。经过三四个星期的反复交涉，最后清廷终于同意外国公使可以不行三跪九叩之礼。

——摘编自王开玺《晚清政治新论》

(3) 以中国对外交往以及相关的礼仪变化为视角，结合所学知识，对材料三所蕴含的历史信息进行解读。(12分)

要求：提取信息充分；总结和归纳准确、完整；解释和分析逻辑清晰。

38. (36分) 所谓供给侧改革，就是从供给、生产端入手，通过解除供给约束，积极进行供给干预，促进经济发展。

材料一 我国是全球第二大经济体，但有全球影响力的品牌却寥寥无几。品牌发展严重滞后，成为经济发展的短板。目前，不少行业产能过剩，高品质消费品却供给不足。品牌是连接需求与供给的桥梁和中介，推进品牌建设，能促进经济向“高精尖”转型，可以说，品牌是供给侧改革的重要抓手。

(1) 结合材料一，分析“品牌是供给侧改革重要抓手”的经济学依据。(14分)


材料二 中国消费品供需面临严重的结构性失衡，表面看是我国居民对国产商品的信心问题，实际凸现的是政府的责任问题。我们需要反思政府出台的标准是不是太低了？政府监管是不是太松了？是不是因政府越位而压缩了市场的空间，导致企业的创新动力不够？

(2) 运用《政治生活》的相关知识，说明在品牌建设中政府如何做到不越位、不缺位。(12分)

材料三 年轻人逢年过节时往往会为长辈买上一份点心礼盒。很多老字号企业为了凸显企业文化特色，将产品与中国传统节日及习俗相结合，在帮助年轻人回忆节日文化的同时，也加深了企业在消费者心中的品牌形象。

(3) 请你列举一个我国的传统节日及其习俗，并结合《文化生活》相关知识，说明我们为什么要重视这一传统节日。(10分)

39. (10分) 2016年是红军长征胜利80周年。为了纪念中国共产党建立的这一不朽丰碑和人类历史上的伟大壮举，某学校拟组织学生参加“重走长征路、复兴中国梦”的社会大课堂活动，他们计划参观遵义会议会址，穿越大渡河，重温延安精神。



参观遵义会议会址

穿越大渡河

重温延安精神

图 13

运用《生活

与哲学》的相关知识，论证组织“重走长征路、复兴中国梦”社会大课堂活动的必要性。(10分)

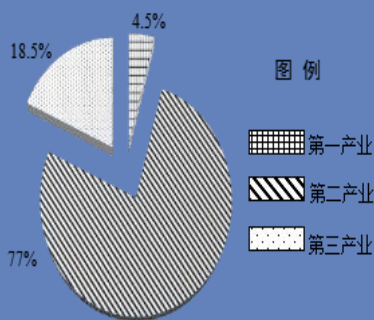


图 11

五大连池位于黑龙江省的西北，一条蜿蜒曲折的河流，从火山锥之间穿流而过，串联起大大小小五个堰塞湖，构成五大连池风景区。

它有中国著名火山之乡的称号，也是世界地质公园。图 11 为五大连池风景区示意图。

(4) 简述五大连池风景区的景观特点并说出当地特色旅游活动的主要内容。(8分)



“东北工业转型升级”被列为 2016 年全国两会重点协商议题，曾经创造过无数辉煌的大庆油田，目前面临资源枯竭。图 12 为大庆市 2014 年产业结构示意图，其中在第二产业中石油工业占 74.2%。

(5) 请你为大庆市产业转型升级提出建议。(8分)

40. 对外关系——非洲

非洲自然景观壮丽，其中①地是内陆三角洲——奥卡万戈三角洲，它由发源于高原的河流在流入内陆盆地后形成，三角洲的面积在一年中季节差异大；②地气候干旱，这里分布着纳米布沙漠，拥有众多高大的弧形沙垄。读图，回答第(1)题。

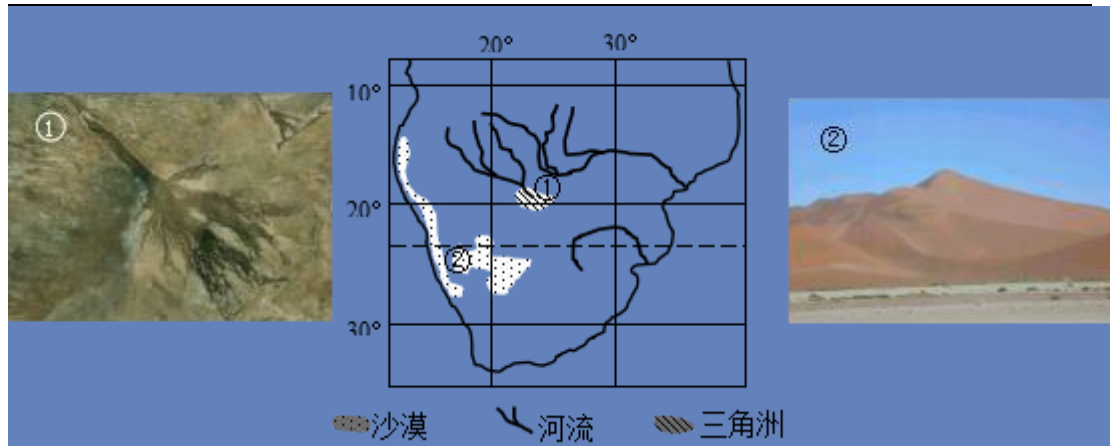


图 14

(1) 在①和②两地中，任选其一说明资料中描述的区域特征的成因。(8分)

40、材料二 新中国成立以来，中非关系不断得到发展，经历了以下三个阶段。
 新中国与非洲国家的外交关系始于 20 世纪 50 年代，它是中非双方在 20 世纪为追求国家复兴与民族自强而在外交领域所作努力的一部分。1963 年周恩来总理访问非洲，提出中国对非洲的援助应该建立在互不干涉内政、相互尊重、平等、互利的基础上。
 20 世纪 80 年代，中国在表达与非洲国家的经济关系时，越来越多地使用“合作”而不是“援助”一词，把以往简单的援助方式，提升为双方在互惠互利基础上富于成效的技术经济合作，从而使中非关系成为推动中非双方实现各自经济发展与现代化的动力。
 2000 年以来，中非关系的提升不仅表现在政治与外交层面，经贸合作更成为新世纪中非关系发展的核心动力，贸易总额跳跃性增长，中国政府积极支持中国企业投资非洲，以投资带动贸易成为中非经济合作的新特点。

——摘编自王逸舟《中国对外关系转型三十年》

(2) 依据材料，结合所学知识，任选一个时期，完成下列表格。(10分)

时期	中非关系的特点	发展中国家的状况	中国的对外政策

41 题 通州——城市

材料二 2015 年 4 月，中共中央政治局召开会议，审议通过了《京津冀协同发展规划纲要》，通州正式成为北京行政副中

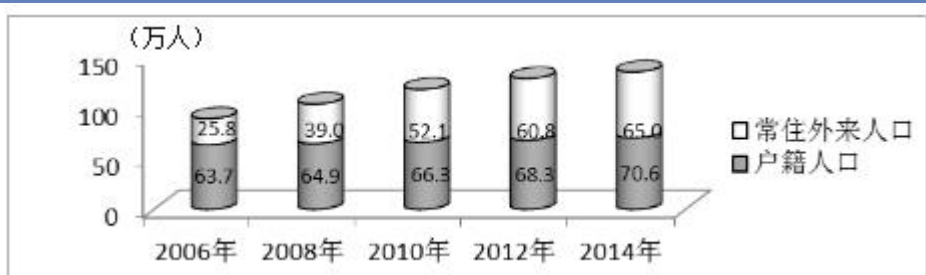


图 15 通州区人口增长

(2) 常住人口由户籍人口和常住外来人口构成，读图 15 描述通州区人口数量的变化特点。(4 分)

(2) 说出通州成为北京行政副中心的区位条件。(8 分)

41. 运河为其流经地区的发展带来深远的影响，位于运河北段的通州已经成为北京行政副中心。阅读材料，回答问题。

材料一 明代流经山东境内的运河会通河段疏浚通航，徽商迅速在运河的这一区域开拓市场。此后，晋商进入该区域。徽商晋商在运河区域的活动，刺激了当地人的经商热情，他们也结成商帮来往于运河各地。昔日埋头经史的儒生们也纷纷降尊纡贵，加入到经商行列。运河经过的区域是传统的农业区。明代以前，这里民好稼穡，俗尚淳厚。运河通畅以后，社会风尚习俗为之大变。万历《滕县志》记载：当时滕县民众“闾阎服饰，恣所美好，益僭滥”，“男子冠巾丝履，妇女珠翠金宝罗纨，但有财尽能索耳。此皆五十年前所无也。”乾隆《临清州志》记载临清风气是“士女嬉游，故户列珠玑，家称歌舞，饮食燕乐，极耳目之欢，”“仆亦绮罗，婢皆翡翠，陈歌设舞，不必缙绅。”时人叹息说“风俗自淳而趋于薄也，犹江河之走下，而不可返也。”

——摘编自李泉《中国运河文化及其特点》

(1) 依据材料一，概括运河通航给当地社会带来的变化。你如何看待时人对这一变化的评价？(10 分)

41、通州——城市

(2) 说出通州成为北京行政副中心的区位条件。(8 分)

41、材料三 从全球来看，副中心建设是各国应对“大城市病”的普遍措施。但历史上，在很多副中心建设中都曾有过深刻教训。例如，巴黎曾因高估了人口与经济发展，导致规划

的 8 个新城没能发展起来，成为空城；还有一些副中心在建设发展过程中片面追求经济发展的指标，破坏了经济、社会、环境之间的平衡……如何使通州从这些教训中走出一条新路，建设成为宜居宜业的北京行政副中心，是我们面临的一个重要课题。

(4) 请你为通州建设成为宜居宜业的北京行政副中心提两条方法论建议。(6分)



扫描二维码，关注北京高考官方微信！

查看更多北京高考相关资讯！