

## 高三思想政治试卷

2020. 4

考生须知

1. 本试卷共 8 页，共两部分，第 I 卷（选择题）和第 II 卷（非选择题），满分 100 分，考试时间 90 分钟。
2. 在试卷和答题卡上准确填写学校、班级、姓名、考号。
3. 试题答案一律书写在答题卡上，在试卷上作答无效。
4. 在答题卡上，试题用黑色字迹签字笔作答。
5. 考试结束，将本试卷和答题卡一并交回。

## 第 I 卷（选择题 共 45 分）

一、选择题 下列各题的四个选项中，只有一个是符合题意的。（共 45 分，每小题 3 分）

1. 2019 年是甲骨文发现 120 周年，作为迄今为止中国发现的最早的成熟文字系统，甲骨文也被视作汉字的源头和中华优秀传统文化的根脉。国家博物馆近日举办了“证古泽今—甲骨文文化展”，许多市民与游客在参观之后赞叹“甲骨文实在太美了！”甲骨文“美”在



- ①帮助人们突破时空，固守中国传统价值认同与思维方式
- ②具有远古人类纯真的世界审美
- ③见证了中华文化的源远流长，传承宝贵的中华文化
- ④完整记录封建时期中国历史，还原了古代百姓生活细节

A. ①③

B. ①④

C. ②③

D. ②④

2. 2019 年的亚洲文明对话大会聚焦“亚洲文明交流互鉴与命运共同体”主题，共商亚洲文明发展之道，共话亚洲合作共赢大计，达成广泛共识并发表《亚洲文明对话大会 2019 北京共识》。此外，本次大会还组织了包括品美食、看展览、赏戏剧等多项活动，不出国门，老百姓就能感受多彩亚洲美丽。在参与了这些活动后，同学们有感而发，以下讨论中不科学的是

A. 小魏：亚洲各国文明精彩纷呈，我们要尊重文化多样性，重视文化交流融合

B. 小唐：作为世界上最优秀的文化，中华文化博大精深，我们应树立文化自信

C. 小陈：中国举办这次文明盛会对世界的贡献，有利于推动世界和平与发展

D. 小周：命运共同体的概念彰显出中华文明拥有平等对待其他文明的宽广胸襟



6. 协商民主是我国社会主义民主政治的特有形式，既丰富了民主形式也拓展了民主渠道，已成为中国特色社会主义民主的鲜明特色。下列事件符合协商民主的是

①南街社区紧紧围绕“提升社区服务，建设和谐南街”主题，不断创新社区管理和服务模式

②公民受邀参加某地政府举行的自来水价格改革听证会

③十九大以来，已有近 20 只“虎”落马，推动全面依法治国取得新的成效

④某市政协就提案办理情况与承办单位进行协商交流

A. ①②

B. ①③

C. ②④

D. ③④

7. 2019 年 1 月，《北京市副中心控制性详细规划》正式对外发布。城市副中心的核心带动作用，既意味着与拓展区共同承接中心城区功能和人口疏解，又要打破“一亩三分地”思维定式，辐射带动廊坊北三县地区协同发展。这表明北京城市副中心建设要

A. 立足北京市，发挥对周边的辐射作用

B. 改变京津冀间固有的联系，创造新联系

C. 根据人为事物的联系建立自在事物的联系

D. 坚持综合思维方式，做到“一盘棋”谋划

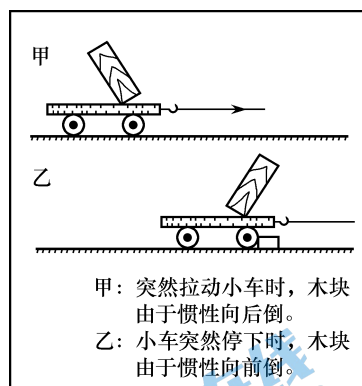
8. 物理学把物体保持运动状态不变的属性叫做惯性。右图的现象表明

A. 惯性是有条件的、相对的和永恒的

B. 惯性发生作用不以人的意志为转移

C. 人们可以根据需要创造或消除惯性

D. 惯性是一种偶然的联系



9. 我国是考试制度的发源地。全面回顾我国高考历史演变的过程，特别是 1978 年全面恢复高考以来的变化，可以看到，我国的高考发展和改革之路留下了不断探索深化、不断艰难前行的痕迹。高考政策的调整表明

①要将发挥主观能动性与尊重客观规律相结合 ②正确的社会意识应反映和适应社会存在的变化 ③认识的局限性意味着达不到真理性认识 ④要在谬误的基础上不断深化真理性认识

A. ①②

B. ①④

C. ②③

D. ③④

10. 我国社会主义基本经济制度的内涵经历了一个不断发展的过程：党的十五大把公有制为主体、多种所有制经济共同发展确立为社会主义初级阶段的基本经济制度；党的十六大强调要坚持和完善这一基本经济制度，并提出了两个“毫不动摇”、一个“统一”；党的十九届四中全会创造性地把按劳分配为主体、多种分配方式并存和社会主义市场经济体制等内容纳入基本经济制度的范畴。这体现的哲学道理是

①调整上层建筑，促进经济基础的巩固和完善 ②世界是客观存在的物质世界，要坚持一切从实际出发 ③我国改革的根本目的是使生产关系适应生产力发展，解放和发展社会生产力 ④辩证的否定是事物之间的否定，是新事物产生和旧事物灭亡的根本途径

A. ①②

B. ①④

C. ②③

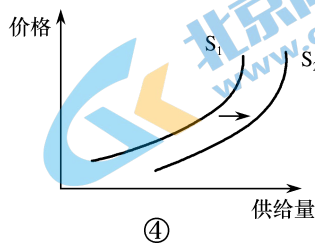
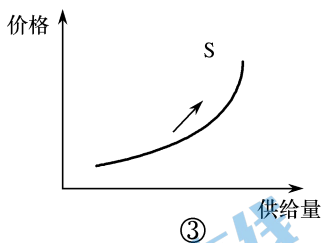
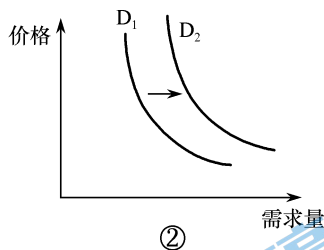
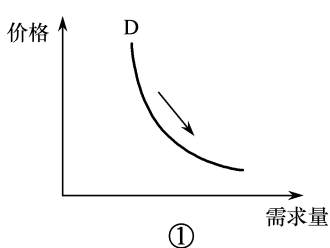
D. ③④

11. 在 2019 年 9 月召开的“苏东坡税收思想研讨会”上，与会专家学者广泛交流了苏东坡“轻徭薄赋”的民本思想。下列做法中与苏东坡税收思想高度契合的是
- ①财政部、国家税务总局等部门制定《中华人民共和国耕地占用税法实施办法》
  - ②我国全面实施“营改增”，逐步简并和降低增值税税率
  - ③中外合作开采陆上、海上石油资源的企业依法缴纳资源税
  - ④提高个税起征点，实施个人所得税专项附加扣除改革
- A. ①③                      B. ①④                      C. ②③                      D. ②④

2019 年 11 月 28 日，国家医保局正式公布了谈判药品准入结果，70 个新增、27 个续约药品共计 97 个药品经过谈判进入医保目录。回答 12-13 题。

12. 一款治疗糖尿病的新药，国际市场价 7-8 元，为进入中国医保目录，药企第一轮报价 5.62 元，经专家 4 次砍价，药企同意每片 4.4 元。没想到，最后专家说“这样吧，4 太多，中国人觉得难听，再降 4 分钱，4.36，行不行？”药企说：“好！”这说明
- ①专家的砍价是药品价格下降的根本原因
  - ②药品价格受到多种因素的影响
  - ③药品价格不再受药品成本的影响
  - ④药企对药品价格起着关键性作用
- A. ①②                      B. ①③                      C. ②③                      D. ②④

13. 随着这一轮价格谈判的落实，一些新药因价格优势在临床应用中有望增加，继而引发新药的市场供应增加。据此，下列传导路径正确的是



- A. ①→③                      B. ①→④                      C. ②→③                      D. ②→④
14. 十九届四中全会首提“数据”作为生产要素参与分配，这标志着我国数字经济进入新阶段。数据作为生产要素，已经从投入阶段发展到产出和分配阶段。对此理解正确的是
- A. 我国的分配制度已发生根本性改变
  - B. 数字经济是我国发展到新阶段的标志
  - C. 数据参与分配属于再分配调节机制
  - D. 数据所有权存在的合理性得到确认



15. 2019年8月底,由于英国议会可能会阻挠首相约翰逊的脱欧方案,首相提出议会休会5周的请求,并得到了英国女王的批准。而9月17日,英国最高法院就首相实施议会休会举措是否合法,举行了听证会并择日宣判。据此,可以看出现在的英国
- ①三权分立,互相制衡
  - ②最高法院可以监督首相
  - ③首相解散议会需法院批准
  - ④女王的实权在缓慢加强
- A. ①②                      B. ③④                      C. ①③                      D. ②④

## 第II卷 (非选择题 共55分)

### 二、问答题 根据题目要求作答。(共55分)

16. 2019年2月,市场上的生猪价格每公斤12元多,到10月份,已经一路涨到40元左右,猪肉价格也随之上涨。对于生猪价格上涨的主要原因,第一,受猪周期的影响。2019年3月到7月,养猪亏损,养猪场户自己开始调减生产,不想养;第二,非洲猪瘟疫情形成新的冲击,不敢养。

猪肉价格稳定与否,成为关系国计民生的大事。N县市场监管局和发改局联合发布《N县关于猪肉保供稳价告诫书》,对本县猪肉市场的猪肉限价每斤20元以内(猪肉批发价已经超过每斤25元)。

你是否赞同N县出台猪肉限价令?运用《经济生活》知识加以说明。(6分)

17. 2020年的春节是一个让人痛并感动一辈子的春节。湖北省武汉市等多个地区发生新型冠状病毒感染的肺炎疫情。

材料一:疫情发生后,党中央做出重要指示,要求必须高度重视,要把人民群众生命安全和身体健康放在第一位,全力做好防控工作。一声令下,各级党组织、党员干部立即投身疫情防控战斗,践行初心使命,用实际行动筑起一座座战斗堡垒,展现党员的模范担当。战“疫”打响,党员干部带头冲锋,奋战一线,带动广大群众,群防群控、群策群力、组织群众、凝聚群众,坚决遏制疫情蔓延势头。各相关部门和地方本着对人民群众健康高度负责的态度,完善应对方案,及时发布疫情信息,加强舆论引导,加强政策措施宣传解读,全力以赴做好防控工作。

(1)结合材料,运用《政治生活》的有关知识,分析中国共产党为什么要这样做?(6分)

材料二:武汉市全体医务人员投入到疫情工作中,全国各地的千千万万的医护人员、军人、志愿者不计代价,不记报酬,奔波千里万里,逆行走向抗击疫情的第一线,明知山有虎,偏向虎山行。84岁钟南山、73岁的李兰娟院士老骥伏枥,志在千里,烈士暮年,壮心不已。

(2)面对疫情,运用学科知识,想一想作为青少年的我们应该做些什么?(4分)

18. 阅读故事，回答问题。

一碗米的价值

有这样一个故事：徒弟问师傅，一碗米有多少价值的价值？师傅说，这太难说了，看在谁手里。要是在一个家庭主妇手里。她加点水蒸一蒸，半个钟头一碗米饭出来了，就是一块钱的价值。要是在小商人手里，他把米好好泡一泡，分成四五堆：用粽叶包成粽子：就是四五块钱的价值。要是到一个更有头脑的大商人手里，把它适当地发酵、加温，很用心地酿造成一瓶酒，有可能是一二十块钱的价值。所以一碗米到底有多少价值，要因人而异。其实，我们每一个人最初的价值都是“一碗米”。随着时间的推移，人和人的价值拉开了差距。发展的不同结果，在很大程度上取决于每个人对“一碗米”的加工程度。要提升个人的价值，就要善于加工自己，善于开发自己的价值空间。让自己成为社会所需要的那“一碗米”。

请运用《生活与哲学》知识谈谈，怎样开发自己的“一碗米”，提升自己的价值？（7分）

19. 1月5日-1月7日，北京市密云区第二届人民代表大会第七次会议召开。

材料一：会议流程

1. 审议密云区人民政府工作报告
2. 审议密云区人民法院工作报告
3. 审议密云区人民检察院工作报告
4. 其他

会议期间，各代表团举行全体会议和小组会议，对相关内容进行审议。

材料二：

密云区政府 2020 年重要民生实事项目

| 序号 | 实事内容   | 完成时间            | 责任单位   | 备注                    |
|----|--|-----------------|--------|-----------------------|
| 1  | 新增篮球场、足球场、冰场等运动场地6块，建设5公里健身步道，安装600件健身器材，更好满足群众健身多元化需求 | 2020年<br>11月30日 | 区体育局   | 群众诉求                  |
| 2  | 镇街（地区）政府服务中心工作日中午“不打烊”，实施“全时服务”，周六对外办公，实行“特需服务”，方便群众办事 | 2020年<br>12月31日 | 区政务服务局 | 群众诉求、区领导意见建议          |
| 3  | 继续实施密云水库一级区污水提质改造工程，改善生态环境                             | 2020年<br>11月30日 | 区水务局   | 密云区2020年重要民生实事社会面征集意见 |

结合上述材料及你了解的情况，请你运用《政治生活》的相关知识写一篇宣传报道。(6分)

要求：观点鲜明；可以就某一点深入剖析，也可以全面论证；知识运用恰当、准确；论述逻辑性强，条理清晰。字数 150 字左右。

20. 2019 年某省退休人员养老金调整方案采取定额调整、挂钩调整和倾斜调整“三结合”的办法。该方案的施行，该省约有 870 万退休人员受益。

| 定额调整         | 挂钩调整             |                            | 倾斜调整<br>(高龄退休人员)      |
|--------------|------------------|----------------------------|-----------------------|
|              | 与养老金实际水平<br>挂钩调整 | 与缴费年限挂钩调整                  |                       |
| 增加<br>34 元/月 | 增加<br>1.4%/月     | 15 年及以下，<br>每满 1 年增加 2 元   | 70-74 岁，<br>增加 25 元/月 |
|              |                  | 15 年-25 年，<br>每满 1 年增加 3 元 | 75-79 岁，<br>增加 35 元/月 |
|              |                  | 25 年以上，<br>每满 1 年增加 4.8 元  | 80 岁及以上<br>增加 45 元/月  |

注：按上述办法调整后，养老金水平低于本地企退人员人均年水平的，一律兜底补足。

结合材料，运用《经济生活》知识，回答下面问题：

王阿姨 81 岁，缴费年限 30 年，每月领取实际养老金 3500 元，调整方案中的四列增加项都能得到。请计算她调整后每月领取的金额（只需写出计算结果），并分析这一变化对王阿姨的积极影响及依据。(8分)

21. 伟大时代呼唤伟大精神，崇高事业需要榜样引领。在庆祝中华人民共和国成立 70 周年之际，于敏被授予“共和国勋章”。



干惊天动地的事，做隐姓埋名的人。于敏 28 载隐姓埋名，填补了中国原子核理论的空白，为氢弹突破作出卓越贡献。他荣获“两弹一星”功勋奖章、国家最高科学技术奖等崇高荣誉，盛名之下保持一颗初心，正如他自己所说的：“一个人的名字，早晚是要没有的，能把微薄的力量融进祖国的强盛之中，便足以自慰了”。

为国需要，放弃兴趣毅然前行。1961 年，面对日益激烈的国际核竞争，组织决定让正在研究原子弹的于敏转而投身到氢弹研究中。这让已经在原子弹理论研究上初露头

角的于敏始料未及，但于敏没有犹豫，他说“搞氢弹不太符合我的兴趣，但是爱国主义压倒兴趣，好！我转！国家需要我，我一定全力以赴。”

在氢弹研究中取得重大突破的“国产”科学家，“中华民族不欺负旁人，也不能受旁人欺负。”他曾经直言，“这种民族情感是我的精神动力。”他用一生，完美地诠释了家国情怀与科学精神，坚定地践行了社会主义核心价值观。

结合材料并运用“中华文化与民族精神”的知识，分析于敏的家国情怀与科学精神对培育时代新人的重大意义。（6分）

22. 阅读材料，回答问题。（12分）

网络小说是网络文学中最有影响力的体裁。网络小说的类型众多，远远超过传统文学，大致可以分为玄幻、奇幻、武侠、仙侠、都市、现实、军事、历史、游戏、体育、科幻、悬疑、二次元、盗墓、穿越等类型，其中玄幻穿越类最受青少年欢迎。玄幻穿越类小说之所以出现，是因为创作者以年轻人人居多，他们的特点是想象力丰富，而网络文学平台为他们的想象力提供了在现实生活中没有的展示空间。同时，现代生活节奏快，学业和就业的压力大，职场竞争激烈，玄幻穿越类小说及时给年轻人提供了栖息的港湾。在黑格尔看来，艺术的存在是为了人类观照自己、认识自己、思考自己。但玄幻穿越类小说达不到这点。阅读玄幻穿越类小说，只能观照虚拟世界中的自己，而不是现实世界中真实的自己。虽然阅读此类小说，也会让人展开对个人在历史中的价值等问题的思考，但青少年过多地阅读，容易患上像《包法利夫人》爱玛那样脱离现实而沉浸幻境的心理疾病。

(1) 结合材料，从《文化生活》角度，说明政府应如何让“艺术的存在是为了人类观照自己、认识自己、思考自己”的积极作用充分发挥。（6分）

(2) 从《生活与哲学》角度谈谈对玄幻穿越类小说的认识。（6分）