

2023 北京石景山高 二（下） 期末

政 治

本试卷共 10 页，100 分。考试时长 90 分钟。考生务必将答案答在答题卡上，在试卷上作答无效。考试结束后，将答题卡交回。

第一部分 选择题（共 40 分）

在每小题列出的四个选项中，只有一项是最符合题目要求的。本大题共 20 小题，每小题 2 分，共计 40 分。

1. “由于国家是从控制阶级对立的需要中产生的，由于它同时又是在这些阶级的冲突中产生的，所以，它照例是最强大的、在经济上占统治地位的阶级的国家，这个阶级借助于国家而在政治上也成为占统治地位的阶级，因而获得了镇压和剥削被压迫阶级的新手段。”以上恩格斯关于国家的论述告诉我们

- ①国家是不同阶级在订立契约的基础上产生的
- ②国家是阶级矛盾不可调和的产物和表现
- ③所有国家都是一定阶级对其他阶级的专政
- ④维护社会的公共秩序是国家的根本职能

- A. ①② B. ①④ C. ②③ D. ③④

2. “物之不齐，物之情也”，强调了事物的差异性。从政治制度上看，各国有各国的国情，各国有各国的体制，应尊重主权国家自主选择发展道路的正当权利。以“推进民主”为借口干涉主权国家内政不可接受。这说明

- ①各国发展道路不同，难以借鉴其他政治文明发展的成果
- ②世界上没有完全相同的、适用于一切国家的政治制度模式
- ③一国政体不是一成不变的，会随着国体变化而发生根本变化
- ④各国人民有权选择符合国情的民主形式，作为内政不应被干涉

- A. ①③ B. ①④ C. ②③ D. ②④

3. 党的二十大报告指出：要坚持和完善“一国两制”制度体系，落实中央全面管治权，落实“爱国者治港”、“爱国者治澳”原则，坚持中央全面管治权和保障特别行政区高度自治权相统一。上述内容说明

- ①香港特别行政区的自治权来源于中央授权
- ②一国的国家管理形式是由历史等因素决定的
- ③我国按照民主集中制的原则划分中央与地方的职权
- ④“一国两制”符合复合制国家结构形式，具有优越性

- A. ①② B. ①③ C. ②④ D. ③④

4. 中国特色自主创新道路最大的制度优势是我国社会主义制度能够集中力量办大事。党的十八大以来，我国通过发挥新型举国体制优势，在航空航天、卫星导航、能源技术等领域达成了一系列重大成就。

党的二十大报告指出，“健全新型举国体制，强化国家战略科技力量，优化配置创新资源”。这一举措提出的依据是

- ①把关键核心技术掌握在自己手中，才能从根本上保障国家安全
- ②通过引导创新资源有效配置，才能形成推进科技创新的强大合力
- ③当前国际竞争的实质是以经济和科技实力为基础的综合国力的较量
- ④构建新型举国体制是全面深化改革的必然选择，是对传统体制的颠覆

A. ①②③ B. ①②④ C. ①③④ D. ②③④

5. 十年前，面对“建设一个什么样的世界、如何建设这个世界”的重大课题，习近平创造性提出构建人类命运共同体的重要理念。新时代十年，中国持续推动构建人类命运共同体，书写了人类命运与共的中国答卷，并在国际社会上得到广泛认可。人类命运共同体理念逐渐成为国际共识是因为

- ①随着世界政治多极化的发展，未来大国之争会愈演愈烈
- ②这一理念是基于中国文化特点构建的有助于解决问题的话语体系
- ③世界各国相互联系与依存的程度日渐加深，推动国际秩序加速变革
- ④当今世界面临不稳定性与不确定性突出，人类面临许多共同的挑战

A. ①② B. ①④ C. ②③ D. ③④

6. 当今中国综合国力日益增强，正在为国际社会做出更大贡献。我们比以往更容易“上热搜”、被围观，但我们手中的麦克风还不够多，音量还不够响，世界舞台上还有不少“麦霸”，关于中国的噪音、杂音还不少。提升中国的国际话语权

- A. 要把维护国际形象、宣传中国伟大成就作为我国外交的使命宗旨
- B. 应当拿出中国青年的视角，发出中国青年的声音，讲好中国故事
- C. 需要国民增强志气、骨气、底气，俯视这个世界，与世界平等对话
- D. 要联合发达国家共建世界共享的优质公共产品，重构全球话语体系

7. 2023年4月，第三届中国国际消费品博览会在海南盛大开展。本次消博会以“共享开放机遇，共创美好生活”为主题，汇聚全球头部品牌和专业采购商，搭建展示窗口和交易平台，实现在海南“买全球、卖全球”，为全球企业共享中国市场和中国企业走向世界创造机遇。此次消费品博览会

- ①有利于提升消费品质、提振消费信心、满足人民美好生活的需要
- ②充分利用全球资源和市场，有利于加快培育我国出口贸易竞争新优势
- ③成功联通内外，促进我国全方位、多层次、宽领域对外开放格局的形成
- ④让世界共享中国发展机遇，持续扩大开放，为全球经济复苏贡献中国力量

A. ①③ B. ①④ C. ②③ D. ②④



8. 五年来，海南省加快自贸港建设步伐，全面深化改革开放取得新的成果。2022年，海南进出口总额2009.5亿元，增速居全国前列。截至今年1月，海南共完成“零关税”进口货值154.56亿元，减免税款27.26亿元；外商投资准入负面清单缩减为全国最短的27项；3年累计推出134项制度创新案例，吸引经营主体240万户，同比增长50%以上。这说明我国

- ①实施投资自由化便利化政策，推进高水平对外开放
- ②适应经济全球化大势，创新对外贸易投资方式
- ③坚持共建共治共享，以更好释放经济主体活力
- ④着力打造一流的营商环境，助力经济高质量发展

A. ①② B. ①④ C. ③④ D. ②④

9. 2023年2月6日，土耳其南部靠近叙利亚边境地区发生强烈地震，造成土叙两国大量人员伤亡。地震后第一时间，联合国难民署为受灾民众提供援助和保护，满足灾区一线的各种援助需求。中国政府也积极启动了紧急人道主义援助机制，向土耳其提供了4000万人民币的援助，并派出救援队、医疗队。这说明

- A. 中国作为安理会常任理事国，坚定支持并积极参与联合国开展的各项工作
- B. 中国坚持真正的多边主义，推动全球治理朝着更加公正合理方向发展
- C. 中国是一个负责任的大国，是国际人道主义援助事业中的重要力量
- D. 联合国作为集体安全机制的核心，是各国核心利益的制度保障

10. 2022年9月，上海合作组织成员国元首理事会第二十二次会议在撒马尔罕举行。会议发表了关于维护国际粮食安全、国际能源安全、应对气候变化、维护供应链安全稳定多元化等多份声明和文件，启动接收白俄罗斯为成员国的程序，批准埃及等为新的对话伙伴。由此可见，上合组织

- ①为国与国之间平等对话、合作共赢搭建了平台
- ②是当今世界一体化程度最高的区域性国际组织
- ③践行多边主义，有效维护地区的和平与安全
- ④不断拓展合作领域，主导全球治理体系变革

A. ①② B. ①③ C. ②④ D. ③④

11. 2019年8月，北京某出国咨询有限公司在其招生公众号发布宣传文章，文中使用数幅知名运动员张某的肖像照片，文章末尾附有“美国小常青藤中学全国巡展”的广告宣传信息。2022年初，张某以该公司侵犯其肖像权为由诉至人民法院，要求被告在全国公开发行的报纸及其官方微信公众号上连续60日赔礼道歉，并赔偿经济损失、精神损害抚慰金及维权合理开支。针对上述案件，下列说法正确的是

- ①未经同意使用他人肖像，构成对原告肖像权的侵害
- ②法院不会受理运动员张某的起诉，因为已过诉讼时效
- ③因文末附有相关广告宣传信息，故原告主张经济损失具有合理性
- ④该公司客观上没有给张某造成损失，反而扩大了其知名度，可以免责

A. ①② B. ①③ C. ②④ D. ③④

12. “按揭贷款”，也就是用客户所购买的商品房作担保，先入住，以后逐月还款。从法律角度看，“按揭贷款”体现的权利是

A. 财产权 B. 所有权 C. 债权 D. 担保物权

13. 某家电商场打出促销广告：为迎接店庆，特推出“买一送一”活动，本商场有最终解释权。小王在活

动期间买空调一台，商场送雨伞一把。小王对此表示不满，要求换送别的价值稍大的电器。商场解释说，这就是“买一送一”，没有答应小王的要求。对于这个纠纷，判断正确的是

①因合同内容不是双方真实意思表示，所以合同无效

②商场没有履行合同，应承担相应违约责任

③商场广告的部分内容可以视为合同的内容

④商场没有遵守诚信原则

A. ①②

B. ①④

C. ②③

D. ③④

14. 民事法律关系的内容，就是民事主体享有的权利和承担的义务。权利通常意味着人们有按照自己的意愿实施某一行为的自由。但是，民事主体行使权利不能超过正当的界限，不得滥用民事权利损害国家利益、社会公共利益或者他人合法权益。下列行为构成侵权的是

①小何在网店购买的衣服与网页宣传不符，给了店铺差评

②在参加校园篮球比赛时，由于小孙的故意碰撞，导致小宋受伤

③小刘在作文中引用了他人已发表的一段文字，并标注了其作者及出处

④小赵怀疑小周偷拿了自己的手机，在网络上对小周进行“人身攻击”

A. ①②

B. ①③

C. ②④

D. ③④

15. 王某夫妇早些年共同购买了一套四居室住房，登记在王某名下。王某有两个女儿，小女儿一家没有住房，一直跟王某老两口共同居住，并悉心照顾二老日常起居，尽到了主要赡养义务。王某的老伴去世后，对于该房产的继承，观点正确的是

①作为不动产该房产登记在王某名下属于王某的个人财产

②王某可以通过订立自书遗嘱的方式将该房产留给小女儿

③按照法定继承，王某和两个女儿均属于第一顺序继承人

④王某可签订买卖合同将自己享有的房产份额过户给小女儿

A. ①②

B. ①③

C. ②④

D. ③④

16. 下列关于夫妻关系的叙述，正确的是

①财产关系是夫妻关系的核心

②符合一夫一妻制是夫妻关系的原则

③夫妻关系包括夫妻人身关系和财产关系

④夫妻双方在婚姻中的权利和义务关系，始于领取结婚证

A. ①②

B. ①③

C. ②④

D. ③④

17. 为了确保劳动者获得基本生活保障，国家和社会为劳动者提供必要的物质帮助，这就是社会保险。对于社会保险的作用，理解正确的是

①享受社会保险是我国宪法规定的公民基本权利

②社会保险制度可以确保劳动者获得基本的生活保障

③社会保险制度可以保障劳动者的生存权，保障劳动力再生产

④劳动者在职业生涯中会出现年老、患病、工伤、失业、生育等情况



A. ①②

B. ①④

C. ②③

D. ③④

18. 劳动合同法规定，建立劳动关系，应当订立书面劳动合同。针对下面四幅漫画放映出的问题，正确的判断是



①劳动保护法规应该与时俱进

②签订劳动合同，必须遵循合法、公平、诚信原则

③以欺诈、胁迫手段或者乘人之危签订的劳动合同无效

④签订劳动合同要慎重，因为只能承担合同约定的结果

A. ①②

B. ①④

C. ②③

D. ③④

19. 在习近平法治思想的科学指引下，人民法院不断探索形成了中国特色一站式多元纠纷解决机制，化解矛盾纠纷、服务人民群众的能力水平显著提升，走出了一条中国特色的司法为民之路。高中某班学生对我国的多元纠纷解决机制展开讨论，下列观点正确的是

甲：在商事仲裁与诉讼之间，当事人只能选择其一加以适用

乙：发生纠纷时，人们可先行协商，通过和解达成合意，解决纠纷

丙：民事诉讼、行政诉讼和刑事诉讼均实行“谁主张，谁举证”的原则

丁：某企业因发明专利申请被驳回与行政机关发生争议，可申请商事仲裁

A. 甲乙

B. 甲丙

C. 乙丁

D. 丙丁

20. 网络环境下名誉权的保护受到了极大的挑战。由于侵权者依托网络，以随意制造的用户名等来传播不实信息，被侵权人短时间内难以查询确定侵权者的真实身份，给名誉权的司法保护提出了新的挑战。下列有助于网络环境下民事主体名誉权保护的措施有

①合理界定管辖范围，根据最有利于被侵权人利益的原则，由被侵权人所在地人民法院优先管辖

②强制要求实行网络实名制，要求网络平台承担无过错责任

③进行利益平衡，放弃公民的监督权，优先保护民事主体的名誉权

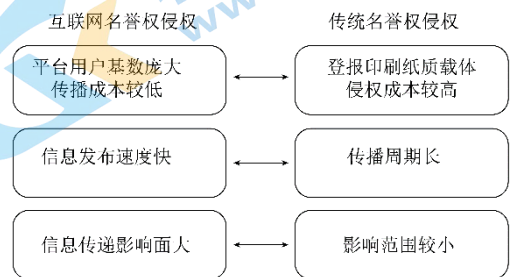
④举证责任分配要适当放宽对被侵权人举证责任的要求，以体现公平原则

A. ①②

B. ②③

C. ①④

D. ③④



第二部分 非选择题（共 60 分）

本部分共 5 小题，共计 60 分。

21.（8 分）

2022 年 12 月 9 日，习近平应邀出席首届中国-阿拉伯国家峰会。峰会上，习近平提出构建更加紧密的中阿命运共同体四大路径：“坚持独立自主，维护共同利益”“聚焦经济发展，促进合作共赢”“维护地区和平，实现共同安全”“加强文明交流，增加理解信任”，得到与会阿方领导人广泛认同。

结合材料，运用《当代国际政治与经济》相关知识，简述提出构建中阿命运共同体四大路径的合理性。

22.（10 分）

国际产能合作是指两个经济体之间进行产能供求跨国或者跨地区配置的联合行动。目前，开展跨国产能合作的中国产业主要有：

- ◇ 以轻工、家电为主的传统优势产业
- ◇ 以钢铁、平板玻璃为主的富裕产能优势产业
- ◇ 以通信设备、轨道交通为主的装备制造业优势产业

以中国与某国建立的经贸合作区为例。两国的经贸合作区吸引了大量企业入驻，形成了石油装备、高低压电器、纺织服装、新型建材，机械制造等产业园区。合作区为该国吸引了大量投资，为当地带来了大量税收，创造了大量的就业岗位。

（1）结合材料，谈谈为什么中国开展国际产能合作能够促进合作共赢，推动全球发展。（6 分）

（2）中国开展国际产能合作中，可能会有哪些风险？如何防范？（4 分）

23.（12 分）

张先生与某房地产公司签订购买位于某市中心某小区住房的合同一份，合同约定房屋建筑面积 135.5 平方米，房款已全部交付给房地产公司。张先生与房地产公司一同办理房产证手续时，经市房地产测绘中心核实，这套住房登记建筑面积仅为 116.3 平方米，与合同约定的面积相差 19.2 平方米，这意味着该房地产公司多收了张先生 8 万多块钱。

请从消费者权益角度对该房地产公司的行为进行分析，并给张先生提出解决问题的建议。

24.（12 分）

小美是一名酷爱拍照的旅行博主，某天她把自己的一张旅行照片发在了朋友圈，没有任何位置信息，只是一张简单的风景照。

万万没想到，评论里居然有人定位出了她的位置。一张照片，能透露多少信息呢？请看以下推理过程：首先，根据周边环境能够将目标定位在平原或丘陵地带；其次，放大照片看植被情况，能够排除两广等南方地区；第三，照片中有一个明显的白色建筑物，能隐约看出“什么州市中心医院”以及

牌子上的“三级甲等”几个字；第四，根据这些信息，通过网上搜索，将目标锁定在11个城市当中；第五，将这11个城市的中心医院外形图与照片一一比对，基本确定小美旅行的城市为徐州；最后，重新审视拍照视角，最终确定拍摄地点就是云龙山。

一张普通的风景照，就能被有心人解读出这么多信息，轻则泄露个人行踪，严重的话，还可能泄露国家秘密。近年来，已有多人因为拍照导致国家秘密泄露而被处以刑罚。不论是主动为之，还是受人雇佣，他们的照片因为涉及武器装备、军用港口、军事基地、涉密技术等内容，已经对国家安全造成了侵害与威胁。

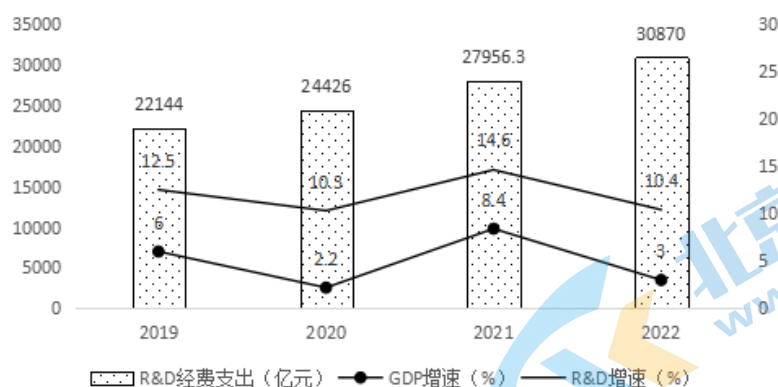
(1) 运用《当代国际政治与经济》相关知识，说明我国高度重视国家安全的必要性。(8分)

(2) 一张小小的照片，可能引发潜在风险。结合材料，运用《法律与生活》相关知识，谈谈公民是否享有“晒照”自由？(4分)

25. (18分)

科技创新是推动人类社会进步的重要力量。加强科技创新，建设科技强国，既要加大政府科技投入力度，又要加强知识产权保护工作。

材料一 研究与试验发展(R&D)经费支出指一年内全社会实际用于基础研究、应用研究和试验发展的经费支出，是衡量一个国家科技活动规模的重要指标。下图为2019-2022年我国R&D经费支出，R&D经费增速与GDP增速对比。

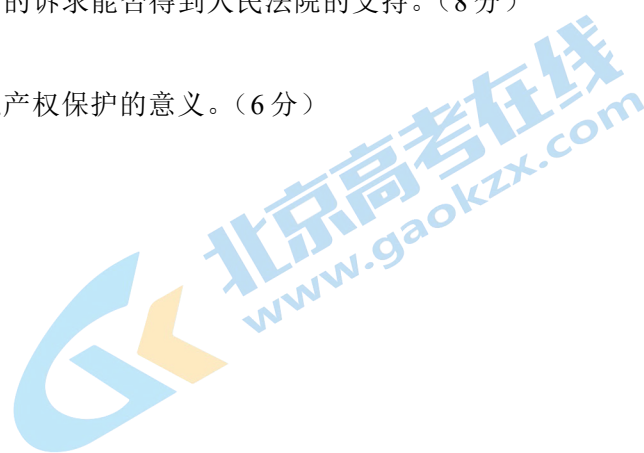


(1) 简要说明材料一反映的现象与提升国家实力之间的关系。(4分)

材料二 为彰显知识产权审判对创新的激励和保障作用，发挥典型案例的示范引领价值，2002起，北京法院连续21年发布“北京法院知识产权司法保护十大案例”。2022年公布的“生成微信等社交软件虚假截图案”引发了人们的关注。具体案情如下：A公司与B公司共同开发、运营“微商截图王”“火星美化”两款软件，提供与“微信”“QQ”软件的界面、图标、表情等完全一致的素材和模板，使用户能够自行编辑并生成与“微信”“QQ”软件各种使用场景界面相同的对话、红包、转账、钱包等虚假截图。开发、运营“微信”“QQ”软件的腾讯公司认为A、B公司构成不正当竞争，故诉至法院，请求停止不正当竞争行为、赔偿经济损失及合理开支等。

(2) 运用《法律与生活》所学，分析腾讯公司的诉求能否得到人民法院的支持。(8分)

(3) 从法治建设角度，简要说明国家重视知识产权保护的意义。(6分)



参考答案

第一部分 选择题（每小题 2 分，共 40 分）

题号	1	2	3	4	5	6	7	8	9	10
答案	C	D	B	A	D	B	B	B	C	B
题号	11	12	13	14	15	16	17	18	19	20
答案	B	D	D	C	D	D	C	C	A	C

第二部分 非选择题（共 5 小题，共 60 分）

21.（8 分）

国家利益是影响国际关系的决定性因素之一，共同利益是国家合作的基础。构建中阿命运共同体四大路径，彰显了我国独立自主的和平外交政策，贯彻了构建人类命运共同体的核心理念。（4 分）在独立自主的前提下，坚持共建共享、合作共赢、交流互鉴、开放包容，维护中阿共同利益、促进共同发展，也为促进世界的和平与发展做出了贡献。（4 分）（**答题思路：**从“国家利益”“人类命运共同体”“外交政策”任一角度，运用知识分析做法的合理性，得 4 分。答出两个角度得 8 分。）

22.（10 分）

（1）中国的优质产能已具备了良好的国际竞争力，中国开展国际产能合作，既可以推动中国自身经济发展的转型升级，也符合广大发展中国家的现实需求，实现合作共赢。（3 分）中国开展国际产能合作，能扩大当地产品供给，增加税收、扩大就业，提高居民收入，提高相关产业的技术水平，给世界经济发展增添了新动能，促进经济全球化深入发展。（3 分）（**答题思路：**说“基础”，得 1 分；概述对于“双方”的益处，得 2 分；详写“促进作用”，写出 1 点得 1 分。）

（2）推测可能存在的风险（人为风险或治理失灵的风险皆可）（2 分），提出合理的防范措施，维护经济安全（2 分）。（**答题思路：**）

23.（12 分）

经营者应当保障消费者的知情权，应当向消费者提供有关商品或服务的真实信息，不得作虚假或引人误解的宣传。（**依据：**2 分）该案例中，房地产公司没有向消费者提供真实信息，没有按照合同规定履行义务，是一种明显的违约行为，侵犯了消费者的知情权，（4 分）违反了公平和诚实信用的原则，应当承担违约责任。（2 分）

建议：针对问题提出建议。言之有理，即可得分。（4 分）

示例：张先生应该通过法律途径解决问题。可以先协商和解，或者由消费者协会调解，和解或调解不成可以向国家有关机关申诉控告，或者要求仲裁，也可以向人民法院提起诉讼。

24.（12 分）

（1）国家安全是安邦定国的重要基石，国家安全利益是国家的最高利益，维护国家安全是全国各族人民根本利益所在。（**依据：**2 分）当今世界仍存在着威胁和平与发展的不安定因素，恐怖主义、民族冲突等都对国家安全构成严重威胁。（2 分）只有从上到下共同重视国家安全，才能汇聚起维护国家

安全的强大力量，夯实国家安全的社会基础，提高全民维护国家安全的意识，切实维护国家安全。

(写出1点2分，共4分)

(2) 公民的权利与义务是辩证统一的。(依据：2分)作为独立的民事主体，公民依法享有人身自由权，在自己的朋友圈晒一些旅行照片是公民拥有的权利。同时，“晒照”并不是绝对自由，需要尊重他人隐私等权利、更不能泄露法律规定的国家秘密。(2分)

25. (18分)

(1) 2019—2022年，我国研究与试验发展经费支出连续增加，其增长速度明显超过GDP增速。

(读图：2分)这有助于推进科技创新，增强科技实力，建设科技强国，提升国家实力。(说明联系：2分)

(2) A、B公司借助微信、QQ软件所具有的广泛用户基础以及构建起的真实、诚信社交生态，利用部分用户意图通过造假、作弊来获取不正当竞争的心理，使被诉软件获得大量用户并据此牟利。

(说明A、B公司的目的：3分)二被告为其用户提供了造假、作弊的重要工具，违背诚实信用原则和商业道德。(评价A、B公司的错误：2分)被诉行为直接冲击了微信、QQ的运营基础，易使消费者因虚假截图受到人身和财产方面的损害，扰乱市场竞争秩序，构成不正当竞争。因此，腾讯公司的诉求能得到人民法院的支持。(说明对于腾讯、消费者和市场的侵害：写出1点给2分，共3分)

(3) 我国实施创新驱动发展战略，保护知识产权是促进创新发展的重要法律机制。社会主义市场经济本质上是法治经济，知识产权是财产权的重要组成部分。通过保护知识产权，能够加强对各种所有制经济组织和自然人的财产权的保护。(写出1点2分，共6分)