

一、填空题(每小题8分,共64分)

1. 函数 $f(x) = \sqrt{x-5} - \sqrt{24-3x}$ 的值域是_____.

答案: $[-3, \sqrt{3}]$.

解: $f(x)$ 的定义域是 $[5, 8]$, 且 $f(x)$ 在 $[5, 8]$ 上是增函数, 从而可知 $f(x)$ 的值域为 $[-3, \sqrt{3}]$.

2. 已知函数 $y = (a \cos^2 x - 3) \sin x$ 的最小值为 -3 , 则实数 a 的取值范围是_____.

答案: $-\frac{3}{2} \leq a \leq 12$.

解: 令 $\sin x = t$, 则原函数化为 $g(t) = (-at^2 + a - 3)t$, 即

$$g(t) = -at^3 + (a-3)t.$$

由 $-at^3 + (a-3)t \geq -3$, $-at(t^2-1) - 3(t-1) \geq 0$, $(t-1)(-at(t+1)-3) \geq 0$ 及 $t-1 \leq 0$ 知 $-at(t+1)-3 \leq 0$ 即

$$a(t^2+t) \geq -3. \quad (1)$$

当 $t=0, -1$ 时 (1) 总成立;

对 $0 < t \leq 1, 0 < t^2+t \leq 2$; 对 $-1 < t < 0, -\frac{1}{4} \leq t^2+t < 0$. 从而可知 $-\frac{3}{2} \leq a \leq 12$.

3. 双曲线 $x^2 - y^2 = 1$ 的右半支与直线 $x=100$ 围成的区域内部(不含边界)整点(纵横坐标均为整数的点)的个数是_____.

答案: 9800.

解: 由对称性知, 只要先考虑 x 轴上方的情况, 设 $y=k(k=1, 2, \dots, 99)$ 与双曲线右半支于 A_k , 交直线 $x=100$ 于 B_k , 则线段 $A_k B_k$ 内部的整点的个数为 $99-k$, 从而在 x 轴上方区域内部整点的个数为

$$\sum_{k=1}^{99} (99-k) = 99 \times 49 = 4851.$$

又 x 轴上有 98 个整点, 所以所求整点的个数为 $2 \times 4851 + 98 = 9800$.

4. 已知 $\{a_n\}$ 是公差不为 0 的等差数列, $\{b_n\}$ 是等比数列, 其中 $a_1=3, b_1=1, a_2=b_2, 3a_3=b_3$, 且存在常数 α, β 使得对每一个正整数 n 都有 $a_n = \log_{b_n} b_n + \beta$, 则 $\alpha + \beta =$ _____.

答案: $\sqrt[3]{3} + 3$.

解: 设 $\{a_n\}$ 的公差为 $d, \{b_n\}$ 的公比为 q , 则

$$3+d=q, \quad (1)$$

$$3(3+4d)=q^2, \quad (2)$$

(1) 代入 (2) 得 $9+12d=d^2+6d+9$, 求得 $d=6, q=9$.

从而有 $3+6(n-1)=\log_{\alpha} 9^{n-1}+\beta$ 对一切正整数 n 都成立, 即 $6n-3=(n-1)\log_{\alpha} 9+\beta$ 对一切正整数 n 都成立.

从而

$$\log_{\alpha} 9=6, -3=-\log_{\alpha} 9+\beta,$$

求得 $\alpha=\sqrt[3]{3}, \beta=3, \alpha+\beta=\sqrt[3]{3}+3$.

5. 函数 $f(x)=a^{2x}+3a^x-2(a>0, a\neq 1)$ 在区间 $x\in[-1, 1]$ 上的最大值为 8, 则它在这个区间上的最小值是 _____.

答案: $-\frac{1}{4}$.

解: 令 $a^x=y$, 则原函数化为 $g(y)=y^2+3y-2$, $g(y)$ 在 $(-\frac{3}{2}, +\infty)$ 上是递增的.

当 $0<a<1$ 时, $y\in[a, a^{-1}]$,

$$g(y)_{\min}=a^{-2}+3a^{-1}-2=8\Rightarrow a^{-1}=2\Rightarrow a=\frac{1}{2},$$

所以 $g(y)_{\min}=\left(\frac{1}{2}\right)^2+3\times\frac{1}{2}-2=-\frac{1}{4}$;

当 $a>1$ 时, $y\in[a^{-1}, a]$,

$$g(y)_{\min}=a^2+3a-2=8\Rightarrow a=2,$$

所以

$$g(y)_{\min}=2^{-2}+3\times 2^{-1}-2=-\frac{1}{4}.$$

综上 $f(x)$ 在 $x\in[-1, 1]$ 上的最小值为 $-\frac{1}{4}$.

6. 两人轮流投掷骰子, 每人每次投掷两颗, 第一个使两颗骰子点数和大于 6 者为胜, 否则轮由另一人投掷. 先投掷人的获胜概率是 _____.

答案: $\frac{12}{17}$.

解: 同时投掷两颗骰子点数和大于 6 的概率为 $\frac{21}{36}=\frac{7}{12}$, 从而先投掷人的获胜概率为

$$\frac{7}{12}+\left(\frac{5}{12}\right)\times\frac{7}{12}+\left(\frac{5}{12}\right)^2\times\frac{7}{12}+\cdots=\frac{7}{12}\times\frac{1}{1-\frac{5}{12}}=\frac{12}{17}.$$

7. 正三棱柱 $ABC-A_1B_1C_1$ 的 9 条棱长都相等, P 是 CC_1 的中点, 二面角 $B-A_1P-B_1 = \alpha$, 则

$$\sin \alpha = \underline{\hspace{2cm}}.$$

答案: $\frac{\sqrt{10}}{4}$.

解法一: 如图, 以 AB 所在直线为 x 轴, 线段 AB 中点 O 为原点, OC 所在直线为 y 轴, 建立空间直角坐标系.

设正三棱柱的棱长为 2,

$$\text{则 } B(1,0,0), B_1(1,0,2), A(-1,0,2), P(0, \sqrt{3}, 1).$$

从而,

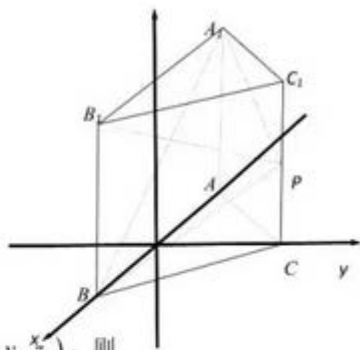
$$\overrightarrow{BA_1} = (-2, 0, 2), \overrightarrow{BP} = (-1, \sqrt{3}, 1), \overrightarrow{B_1A_1} = (-2, 0, 0), \overrightarrow{B_1P} = (-1, \sqrt{3}, -1).$$

设分别与平面 BA_1P 、平面 B_1A_1P 垂直的向量是 $\vec{m} = (x_1, y_1, z_1)$ 、 $\vec{n} = (x_2, y_2, z_2)$, 则

$$\begin{cases} \vec{m} \cdot \overrightarrow{BA_1} = -2x_1 + 2z_1 = 0, \\ \vec{m} \cdot \overrightarrow{BP} = -x_1 + \sqrt{3}y_1 + z_1 = 0, \end{cases} \quad \begin{cases} \vec{n} \cdot \overrightarrow{B_1A_1} = -2x_2 = 0, \\ \vec{n} \cdot \overrightarrow{B_1P} = -x_2 + \sqrt{3}y_2 - z_2 = 0, \end{cases}$$

由此可设 $\vec{m} = (1, 0, 1)$, $\vec{n} = (0, 1, \sqrt{3})$, 所以 $|\vec{m} \cdot \vec{n}| = |\vec{m}| \cdot |\vec{n}| \cos \alpha$, 即

$$\sqrt{3} = \sqrt{2} \cdot 2 |\cos \alpha| \Rightarrow |\cos \alpha| = \frac{\sqrt{6}}{4}, \text{ 所以 } \sin \alpha = \frac{\sqrt{10}}{4}.$$



解法二: 如图, $PC = PC_1, PA = PB$.

设 A_1B 与 AB_1 交于点 O , 则 $OA_1 = OB, OA = OB_1, A_1B \perp AB_1$.

因为 $PA = PB_1$, 所以 $PO \perp AB_1$, 从而 $AB_1 \perp$ 平面 PA_1B .

过 O 在平面 PA_1B 上作 $OE \perp A_1P$, 垂足为 E .

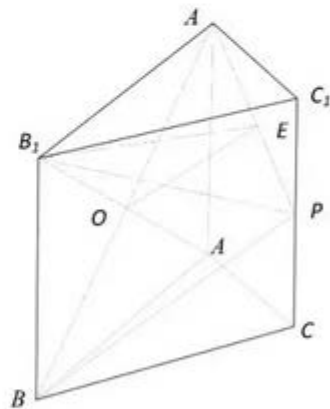
连结 B_1E , 则 $\angle B_1EO$ 为二面角 $B-A_1P-B_1$ 的平面角.

$$\text{设 } AA_1 = 2, \text{ 则易求得 } PB = PA_1 = \sqrt{5}, AO = B_1O = \sqrt{2}, PO = \sqrt{3}.$$

$$\text{在直角 } \triangle PA_1O \text{ 中, } A_1O \cdot PO = A_1P \cdot OE, \text{ 即 } \sqrt{2} \cdot \sqrt{3} = \sqrt{5} \cdot OE, \therefore OE = \frac{\sqrt{6}}{\sqrt{5}}.$$

$$\text{又 } B_1O = \sqrt{2}, \therefore B_1E = \sqrt{B_1O^2 + OE^2} = \sqrt{2 + \frac{6}{5}} = \frac{4\sqrt{5}}{5}.$$

$$\sin \alpha = \sin \angle B_1EO = \frac{B_1O}{B_1E} = \frac{\sqrt{2}}{\frac{4\sqrt{5}}{5}} = \frac{\sqrt{10}}{4}.$$



8. 方程 $x+y+z=2010$ 满足 $x \leq y \leq z$ 的正整数解 (x, y, z) 的个数是_____.

答案: 336675.

解: 首先易知 $x+y+z=2010$ 的正整数解的个数为 $C_{2009}^2 = 2009 \times 1004$.

把 $x+y+z=2010$ 满足 $x \leq y \leq z$ 的正整数解分为三类:

- (1) x, y, z 均相等的正整数解的个数显然为 1;
- (2) x, y, z 中有且仅有 2 个相等的正整数解的个数, 易知为 1003;
- (3) 设 x, y, z 两两均不相等的正整数解为 k .

易知 $1+3 \times 1003+6k=2009 \times 1004$,

所以 $6k=2009 \times 1004-3 \times 1003-1$
 $=2006 \times 1005-2009+3 \times 2-1=2006 \times 1005-2004$,

即 $k=1003 \times 335-334=335671$.

从而满足 $x \leq y \leq z$ 的正整数解的个数为

$$1+1003+335671=336675.$$

二、解答题 (本题满分 56 分)

9. (16 分) 已知函数 $f(x)=ax^3+bx^2+cx+d$ ($a \neq 0$), 当 $0 \leq x \leq 1$ 时, $|f'(x)| \leq 1$, 试求 a 的最大值.

解法一: $f'(x)=3ax^2+2bx+c$, 由 $\begin{cases} f'(0)=c, \\ f'(\frac{1}{2})=\frac{3}{4}a+b+c, \\ f'(1)=3a+2b+c \end{cases}$ 得 $3a=2f'(0)+2f'(1)-4f'(\frac{1}{2})$.

$$\begin{aligned} \text{所以 } 3|a| &= \left| 2f'(0)+2f'(1)-4f'(\frac{1}{2}) \right| \\ &\leq 2|f'(0)|+2|f'(1)|+4\left|f'(\frac{1}{2})\right| \leq 8, \end{aligned}$$

所以 $a \leq \frac{8}{3}$. 又易知当 $f(x)=\frac{8}{3}x^3-4x^2+x+m$ (m 为常数) 满足题设条件, 所以 a 最大值为 $\frac{8}{3}$.

$$0 \leq \frac{3a}{4}z^2 + \frac{3a}{4}z + b + c + 1 \leq 2,$$

从而 $\frac{3a}{4}z^2 + b + c + 1 \geq 0$, $\frac{3a}{4}z^2 \leq 2$, 由 $0 \leq z^2 \leq 1$ 知 $a \leq \frac{8}{3}$.

解法二: $f'(x)=3ax^2+2bx+c$. 设 $g(x)=f'(x)+1$, 则当 $0 \leq x \leq 1$ 时, $0 \leq g(x) \leq 2$.

设 $z=2x-1$, 则 $x=\frac{z+1}{2}$, $-1 \leq z \leq 1$.

$$h(z)=g\left(\frac{z+1}{2}\right)=\frac{3a}{4}z^2+\frac{3a+2b}{2}z+\frac{3a}{4}+b+c+1.$$

容易知道当 $-1 \leq z \leq 1$ 时, $0 \leq h(z) \leq 2, 0 \leq h(-z) \leq 2$. 从而当 $-1 \leq z \leq 1$ 时, $0 \leq \frac{h(z)+h(-z)}{2} \leq 2$,

即 $0 \leq \frac{3a}{4}z^2 + \frac{3a}{4} + b + c + 1 \leq 2$ 从而 $\frac{3a}{4}z^2 + b + c + 1 \geq 0$, $\frac{3a}{4}z^2 \leq 2$, 由 $0 \leq z^2 \leq 1$ 知 $a \leq \frac{8}{3}$.

又易知当 $f(x)=\frac{8}{3}x^3-4x^2+x+m$ (m 为常数) 满足题设条件, 所以 a 最大值为 $\frac{8}{3}$.

10. (20分) 已知抛物线 $y^2 = 6x$ 上的两个动点 $A(x_1, y_1)$ 和 $B(x_2, y_2)$, 其中 $x_1 \neq x_2$ 且 $x_1 + x_2 = 4$. 线段 AB 的垂直平分线与 x 轴交于点 C , 求 $\triangle ABC$ 面积的最大值.

解法一: 设线段 AB 的中点为 $M(x_0, y_0)$, 则 $x_0 = \frac{x_1 + x_2}{2} = 2, y_0 = \frac{y_1 + y_2}{2}$,

$$k_{AB} = \frac{y_2 - y_1}{x_2 - x_1} = \frac{y_2 - y_1}{\frac{y_2^2}{6} - \frac{y_1^2}{6}} = \frac{6}{y_2 + y_1} = \frac{3}{y_0}.$$

线段 AB 的垂直平分线的方程是

$$y - y_0 = -\frac{y_0}{3}(x - 2). \quad (1)$$

易知 $x=5, y=0$ 是 (1) 的一个解, 所以线段 AB 的垂直平分线与 x 轴的交点 C 为定点, 且点 C 坐标为 $(5, 0)$.

由 (1) 知直线 AB 的方程为 $y - y_0 = \frac{3}{y_0}(x - 2)$, 即

$$x = \frac{y_0}{3}(y - y_0) + 2. \quad (2)$$

(2) 代入 $y^2 = 6x$ 得 $y^2 = 2y_0(y - y_0) + 12$, 即

$$y^2 - 2y_0y + 2y_0^2 - 12 = 0. \quad (3)$$

依题意, y_1, y_2 是方程 (3) 的两个实根, 且 $y_1 \neq y_2$, 所以

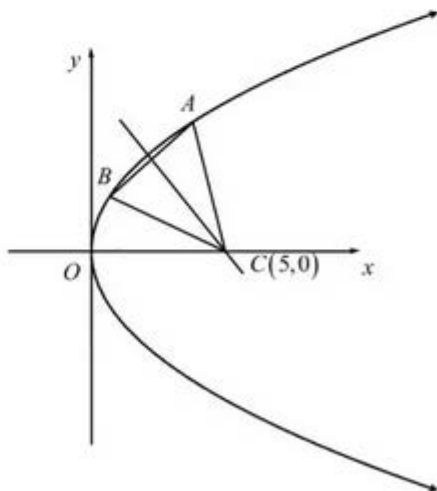
$$\Delta = 4y_0^2 - 4(2y_0^2 - 12) = -4y_0^2 + 48 > 0,$$

$$-2\sqrt{3} < y_0 < 2\sqrt{3}.$$

$$\begin{aligned} |AB| &= \sqrt{(x_1 - x_2)^2 + (y_1 - y_2)^2} \\ &= \sqrt{\left(1 + \left(\frac{y_0}{3}\right)^2\right)(y_1 - y_2)^2} \\ &= \sqrt{\left(1 + \frac{y_0^2}{9}\right)[(y_1 + y_2)^2 - 4y_1y_2]} \\ &= \sqrt{\left(1 + \frac{y_0^2}{9}\right)(4y_0^2 - 4(2y_0^2 - 12))} \\ &= \frac{2}{3}\sqrt{(9 + y_0^2)(12 - y_0^2)}. \end{aligned}$$

定点 $C(5, 0)$ 到线段 AB 的距离

$$h = |CM| = \sqrt{(5 - 2)^2 + (0 - y_0)^2} = \sqrt{9 + y_0^2}.$$



$$\begin{aligned}
 S_{\Delta ABC} &= \frac{1}{2}|AB| \cdot h = \frac{1}{3}\sqrt{(9+y_0^2)(12-y_0^2)} \cdot \sqrt{9+y_0^2} \\
 &= \frac{1}{3}\sqrt{\frac{1}{2}(9+y_0^2)(24-2y_0^2)(9+y_0^2)} \\
 &\leq \frac{1}{3}\sqrt{\frac{1}{2}\left(\frac{9+y_0^2+24-2y_0^2+9+y_0^2}{3}\right)^3} \\
 &= \frac{14}{3}\sqrt{7}.
 \end{aligned}$$

当且仅当 $9+y_0^2=24-2y_0^2$ ，即 $y_0=\pm\sqrt{5}$ ， $A\left(\frac{6+\sqrt{35}}{3}, \sqrt{5}+\sqrt{7}\right), B\left(\frac{6-\sqrt{35}}{3}, \sqrt{5}-\sqrt{7}\right)$ 或

$A\left(\frac{6+\sqrt{35}}{3}, -(\sqrt{5}+\sqrt{7})\right), B\left(\frac{6-\sqrt{35}}{3}, -\sqrt{5}+\sqrt{7}\right)$ 时等号成立.

所以， ΔABC 面积的最大值为 $\frac{14}{3}\sqrt{7}$.

解法二：同解法一，线段 AB 的垂直平分线与 x 轴的交点 C 为定点，且点 C 坐标为 $(5,0)$.

设 $x_1=t_1^2, x_2=t_2^2, t_1>t_2, t_1^2+t_2^2=4$ ，则 $S_{\Delta ABC}=\frac{1}{2}\begin{vmatrix} 5 & 0 & 1 \\ t_1^2 & \sqrt{6}t_1 & 1 \\ t_2^2 & \sqrt{6}t_2 & 1 \end{vmatrix}$ 的绝对值，

$$\begin{aligned}
 S_{\Delta ABC}^2 &= \left(\frac{1}{2}(5\sqrt{6}t_1 + \sqrt{6}t_1^2t_2 - \sqrt{6}t_1t_2^2 - 5\sqrt{6}t_2)\right)^2 \\
 &= \frac{3}{2}(t_1-t_2)^2(t_1t_2+5)^2 \\
 &= \frac{3}{2}(4-2t_1t_2)(t_1t_2+5)(t_1t_2+5) \\
 &\leq \frac{3}{2}\left(\frac{14}{3}\right)^2.
 \end{aligned}$$

所以 $S_{\Delta ABC} \leq \frac{14}{3}\sqrt{7}$ ，当且仅当 $(t_1-t_2)^2=t_1t_2+5$ 且 $t_1^2+t_2^2=4$ ，即 $t_1=\frac{\sqrt{7}-\sqrt{5}}{\sqrt{6}}$ ，

$t_2=-\frac{\sqrt{7}+\sqrt{5}}{\sqrt{6}}$ ， $A\left(\frac{6+\sqrt{35}}{3}, \sqrt{5}+\sqrt{7}\right), B\left(\frac{6-\sqrt{35}}{3}, \sqrt{5}-\sqrt{7}\right)$ 或

$A\left(\frac{6+\sqrt{35}}{3}, -(\sqrt{5}+\sqrt{7})\right), B\left(\frac{6-\sqrt{35}}{3}, -\sqrt{5}+\sqrt{7}\right)$ 时等号成立.

所以， ΔABC 面积的最大值是 $\frac{14}{3}\sqrt{7}$.

11. (20分) 证明: 方程 $2x^3 + 5x - 2 = 0$ 恰有一个实数根 r , 且存在唯一的严格递增正整数数列 $\{a_n\}$,

$$\text{使得 } \frac{2}{5} = r^{a_1} + r^{a_2} + r^{a_3} + \dots.$$

证明: 令 $f(x) = 2x^3 + 5x - 2$, 则 $f'(x) = 6x^2 + 5 > 0$, 所以 $f(x)$ 是严格递增的. 又

$$f(0) = -2 < 0, f\left(\frac{1}{2}\right) = \frac{3}{4} > 0, \text{ 故 } f(x) \text{ 有唯一实数根 } r \in \left(0, \frac{1}{2}\right).$$

所以 $2r^3 + 5r - 2 = 0$,

$$\frac{2}{5} = \frac{r}{1-r^3} = r + r^4 + r^7 + r^{10} + \dots.$$

故数列 $a_n = 3n - 2 (n = 1, 2, \dots)$ 是满足题设要求的数列.

若存在两个不同的正整数数列 $a_1 < a_2 < \dots < a_n < \dots$ 和 $b_1 < b_2 < \dots < b_n < \dots$ 满足

$$r^{a_1} + r^{a_2} + r^{a_3} + \dots = r^{b_1} + r^{b_2} + r^{b_3} + \dots = \frac{2}{5},$$

去掉上面等式两边相同的项, 有

$$r^{s_1} + r^{s_2} + r^{s_3} + \dots = r^{t_1} + r^{t_2} + r^{t_3} + \dots,$$

这里 $s_1 < s_2 < s_3 < \dots, t_1 < t_2 < t_3 < \dots$, 所有的 s_i 与 t_j 都是不同的.

不妨设 $s_1 < t_1$, 则

$$r^{s_1} < r^{s_1} + r^{s_2} + \dots = r^{t_1} + r^{t_2} + \dots,$$

$$1 < r^{s_1 - t_1} + r^{s_2 - t_1} + \dots \leq r + r^2 + \dots = \frac{1}{1-r} - 1 < \frac{1}{1-\frac{1}{2}} - 1 = 1,$$

矛盾. 故满足题设的数列是唯一的.