

石景山区 2017 年高三统一练习 文科综合能力测试

考 生 须 知	<p>1. 本试卷共 18 页，共两大部分，41 道小题，满分 300 分。考试时间 150 分钟。</p> <p>2. 在答题卡上准确填写学校名称、姓名和准考证号。</p> <p>3. 试题答案一律填涂或书写在答题卡上，选择题用 2B 铅笔作答，其他试题用黑色字迹签字笔作答，在试卷上作答无效。</p> <p>4. 考试结束，请将本试卷和答题卡一并交回。</p>
----------------------------	--

第一部分（选择题 共 140 分）

本部分共 35 小题，每小题 4 分，共 140 分。在每小题列出的四个选项中，选出最符合题目要求的一项。

北京时间 2016 年 11 月 13 日 19 时 2 分，新西兰东部近海发生 7.8 级地震，我国救援队于 15 日率先将中国 125 名被困游客全部安全救出。读图 1，完成 1~2 题。

1. 关于该岛说法正确的是
 - A. 东临太平洋，西临印度洋，气候湿润
 - B. 图中洋流冬季对沿岸增温效果更明显
 - C. 图中山脉走向对盛行风无明显阻挡
 - D. 因地形起伏大河流自中部流向四周
2. 此期间
 - A. 地震发生时当地华灯初上
 - B. 正值我国立冬到小雪之间
 - C. 南极地区极昼范围逐渐缩小
 - D. 开普敦受西风影响温和多雨

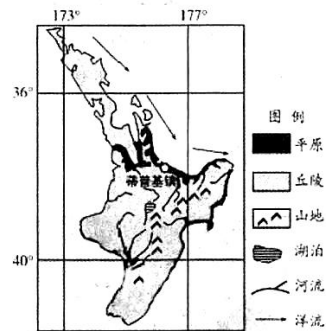


图 1

沈括的《梦溪笔谈》记载：“太行而北，山崖之间，往往衔螺蚌壳……横亘石壁如带”。据此完成第 3 题。

3. 该地“山崖”形成过程可能

A. 地壳下沉	沉积作用	固结成岩	地壳上升	风化侵蚀
B. 固结成岩	地壳下沉	沉积作用	风化侵蚀	地壳上升
C. 地壳上升	固结成岩	地壳下沉	沉积作用	风化侵蚀
D. 沉积作用	风化侵蚀	地壳上升	固结成岩	地壳下沉

高三文科综合能力测试第 1 页（共 18 页）

图2为某地锋面气旋示意图。读图2，完成4~5题。

4. 图中

- A. 该天气系统位于北半球
- B. 低压中心位于锋线西侧
- C. 锋面自西北向东南移动
- D. 甲地风向可能为西北风

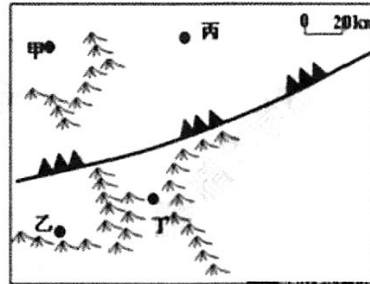


图2

5. 此时

- A. 受地形影响丁地风力大于乙地
- B. 受纬度影响乙地气温高于甲地
- C. 甲、丙两地受锋面影响多阴雨天
- D. 丙、丁两地气流以上升运动为主

图3为“我国北方某沿海城市及周围环境状况示意图”。读图3，完成第6题。

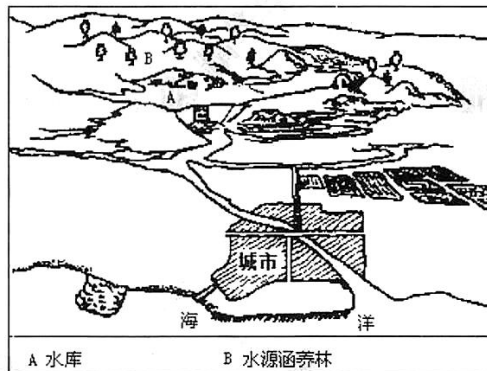


图3

6. 图中

- A. 地物按1:5万比例尺描绘，特征清晰
- B. 该城市位于河流的冲积扇，地形平坦
- C. 水源涵养林为常绿阔叶林，保持水土
- D. 水库建成后河流下游枯水期流量增大

图4为我国某铁路干线沿线气候资料图。读图4，完成7~8题。

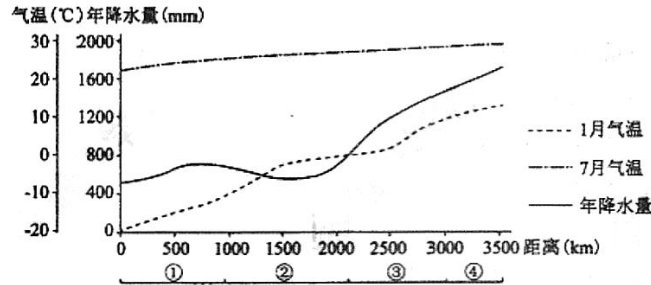


图4

7. 该铁路干线可能穿过的城市
- A. 郑州—西安—兰州—乌鲁木齐 B. 北京—太原—西宁—拉萨
- C. 北京—呼和浩特—银川—兰州 D. 哈尔滨—北京—武汉—广州
8. 对列车运行影响最大的自然灾害是
- A. ①地春季的融雪泥石流 B. ②地夏秋季的风暴潮
- C. ③地夏秋季的洪涝灾害 D. ④地冬春季的沙尘暴

京津冀一体化有利于推进汽车产业的协同发展。汽车产业链条长、关联企业多，既有整车生产的核心企业，又有与之相配合的零部件生产企业和销售服务等关联企业。图5为1996年和2010年京津冀都市圈汽车企业密度分布图。图中高密度区为主要核心企业集聚区，中低密度区为关联企业集聚区。读图5，完成9~10题。

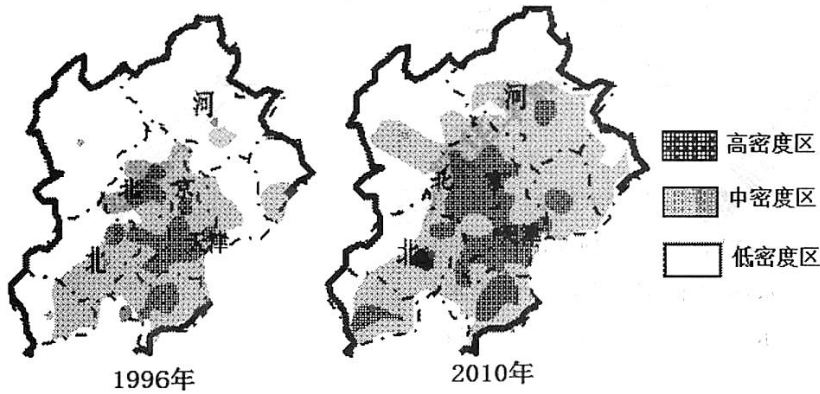



图5

9. 图5中汽车企业空间变化叙述正确的是
- A. 高密度区主要向东北拓展
 - B. 河北省低密度区面积变大
 - C. 中密度区主要向东部拓展
 - D. 京、津高密度区面积变大

10. 据图推断

- A. 河北省科技水平高，承接了汽车核心企业
- B. 京津冀都市圈人口众多，汽车消费市场大
- C. 汽车制造业空间分布变化主要受地价影响
- D. 汽车核心企业的发展明显快于其关联企业

360 大数据中心基于 9 亿用户春运的迁徙态势，发布了 2017 年春节“空城指数”图，图中四城市均有一半以上人口离开。读图 6，完成第 11 题。



11. 下列说法正确的是

- ①北京空城主要是因为居民外出旅游
 - ②上海空城指数高与其经济发展水平有关
 - ③广州空城指数最高，外来人口最多
 - ④深圳春节人口流动能促进产业结构调整
 - ⑤四城市流出的人口以中青年为主体
 - ⑥春节人口流动有利于促进传统文化发展
- A. ①③④ B. ②③⑤ C. ②⑤⑥ D. ①④⑥

12. 北京境内历史遗存丰富，人文景观众多。下列名胜古迹与中国古代宗法制直接相关的是



A. 故宫



B. 天坛



C. 太庙



D. 颐和园

高三文科综合能力测试第 4 页（共 18 页）

13. 公元 619 年，唐政府颁布法令，规定百姓年满五十者，皆免课役。唐朝还规定，老男、残疾授口分田四十亩，寡妻妾授口分田三十亩。这表明唐朝前期
- A. 重视百姓的养老问题 B. 抑制豪强地主兼并土地
C. 政府承认土地私有制 D. 百姓赋税徭役过于沉重
14. 注重个人修养，追求人格完善的传统美德在春秋战国时期形成，汉代以后尤其是历经宋明理学的发展，更进一步强化。下列不能反映这一传统美德的是
- A. “天行健，君子以自强不息”
B. “富贵不能淫，贫贱不能移，威武不能屈”
C. “己所不欲，勿施于人”
D. “民为贵，社稷次之，君为轻”
15. 黄宗羲曾提出“今也天下之人怨恶其君，视之如寇仇，名之为独夫，固其所也。”顾炎武也说过“以天下之权，寄天下之人。”下列对他们主张的评述，正确的是
- A. 推崇先秦时期封建制度 B. 削弱了清初君主专制统治
C. 反对古代中央集权制度 D. 对近代民权意识产生影响
16. 下为晚清财政收入结构表（单位：万两），对该表所含信息正确的解读是

项目 年代	农业税收收入		工商杂税收入		其他收入		总收入	
	数额	比重	数额	比重	数额	比重	数额	比重
1849	3281	77	969	23			4250	100
1885	3071	40	3923	51	714	9	7708	100
1911	4810	16	20441	69	4445	15	29696	100

- A. 中国古代以来的自然经济完全解体
B. 洋务运动成为晚清经济的主要来源
C. 民族资本主义经济对清政府的影响
D. 外国资本主义经济对清政府的打击
17. 梁启超说：“吾敬李鸿章之才，吾惜李鸿章之识，吾悲李鸿章之遇。”最能证明李鸿章才识的史实是
- A. 绞杀太平天国运动 B. 投身洋务运动
C. 签订《马关条约》 D. 创建淮军系列

高三文科综合能力测试第 5 页（共 18 页）

22. 19 世纪英国政府颁布了部分法律：1843 年，《控制蒸汽机和炉灶排烟法》；1855 年，《有害物质去除法》；1876 年，《河流防污法》。其主要背景是
- A. 工厂发展规模需要限制 B. 工业革命造成严重污染
C. 多种疾病的发生和流行 D. 英国社会普遍重视立法
23. 时下，“合作共赢”、“命运共同体”、“战略伙伴关系”等新型国际关系名词屡见报端。“冷战”时期那种两极对立、剑拔弩张的紧张气氛已经改变。这种变化从根本上说明
- A. 当今世界国际政治经济新秩序已经形成
B. 新时期各国外交政策发生实质性的变化
C. 和平与发展已成为世界各国的共同追求
D. 利益和实力的变化导致对外政策的变化
24. 位于石景山区翠微山麓的法海寺建于570多年前，寺中壁画是明代壁画的最高典范。然而，光线、空气、水汽等自然条件随时都对壁画进行着侵蚀。2016年8月起，相关部门开始利用三维矩阵技术采集信息，合成高清影像，今后还将制作数字博物馆，让壁画“立体重现”并“走出去”交流展示。由此可见，现代技术手段
- ①有力推动了文化遗产的保护和开发 ②可保证寺中的壁画永久地存在下去
③能超越时空局限实现文化资源共享 ④已成为传统文化创新发展的原动力
- A. ①② B. ①③ C. ②④ D. ③④
25. 在长征胜利八十周年之际，一组名叫《长征路上小红军》的表情包在微信上线，并迅速成为移动网络端的爆款。该表情包由中国传媒大学的一支90后团队制作，人物形象的设计灵感源自小学课文《倔强的小红军》，每个表情既蕴含着一个长征故事或场景，又考虑到了使用者传达的情感。这组表情包受欢迎的原因在于创作团队
-
- ①抓住纪念长征的契机，使表情包成为方便人们有效沟通的方式
②既弘扬了长征主旋律，又满足了用户不同场景表达情感的需要
③丰富了长征精神的基本内涵，激励人们在新的征途上继续前进
④让作品兼具历史性和趣味性，选择新的表达方式诠释长征精神
- A. ①② B. ①③ C. ②④ D. ③④

26. 2000多年前，亚里士多德曾提出一个力学定理：“物体下落的速度和物体的重量成正比。”1800多年后，伽利略用实验证明，一切物体不论轻重都以同样的时间经过同样的距离坠落。牛顿在此基础上加以完善，以经典力学代替了亚里士多德力学。大约200年后，经典力学被爱因斯坦的狭义相对论力学所取代。此后不过10年，广义相对论诞生了。这表明

- ①实践活动是历史的发展着的 ②认识有一个逐步深入的过程
③已经确定的真理可能被推翻 ④真理在发展中不断超越自身
A. ①③ B. ①④ C. ②③ D. ②④

27. 右侧漫画讽刺了一些人

- ①不理解实现人生价值，必须要敢于面对挫折和失败
②忽视了联系的多样性，找不到遭遇挫折的各种原因
③因为害怕困难和曲折，而丧失发展的动力和机遇
④不懂得只要总结经验，错误就是完全可以避免的



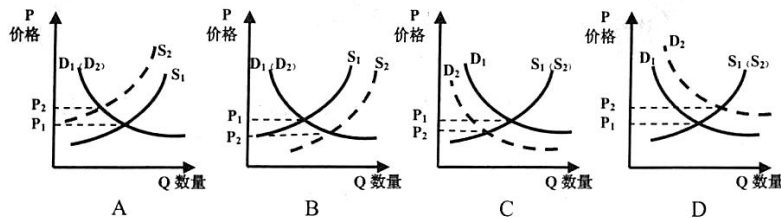
- A. ①② B. ①③ C. ②④ D. ③④

28. 近年来，运动饮料发展势头十分迅猛，不少人直接把运动饮料等同于健康营养饮料。事实上，运动饮料含有钠盐、钾盐、白砂糖和柠檬酸等成分，能补充运动所需的能量和无机盐，但对于不运动或运动量少的人来说，这些成分却存在着潜在风险，如喝多易长胖，导致心脏负荷加大、高钠血症等。这从哲学角度提示我们

- ①要一分为二地看待运动饮料的功能 ②选择运动饮料须具体分析因人而异
③高强度运动者可大量饮用运动饮料 ④运动饮料与健康营养饮料没有共性

- A. ①② B. ①③ C. ②④ D. ③④

29. 2016年至今，大蒜价格持续上涨。本轮“蒜你狠”现象，主要是由2015年大蒜种植面积减少，加上冬季出现的阴雨大雪天气，产量有所下降所致。若用S、D分别表示供给和需求曲线，其他条件不变，下图正确反映本轮“蒜你狠”现象主要原因的是



30. 市民通过北京公交集团网站提出自己的需求，公交集团就可以根据需求和客流情况设计出公交线路，这就是“定制公交”。“定制公交”可以走公交专用道，一人一座，车内有空调和 WiFi 网络，票价也在可以承受的范围之内。目前，北京市已开通定制公交线路 129 条，日均运送乘客 5000 余人次。“定制公交”表明
- ①政府运用产业政策等手段，配置公交资源
 - ②公交集团通过调整供给侧，满足乘客需求
 - ③乘客可享受公交优先资源，降低时间成本
 - ④通过发挥市场的调节作用，破解拥堵难题
- A. ①② B. ①④ C. ②③ D. ③④
31. 中国历史上两汉时期，中央政府曾在京师长安设置名为“平准”的机构。该机构运用手中掌握的大量物资和经济力量，当市场上某种商品价格上涨时，就以低价抛售；价格下跌时，则由平准收购。在现代经济生活中，下列做法与平准法性质类似的是
- A. 面对经济下行压力依然较大的状况，国务院继续实施积极的财政政策，促进经济稳健发展
 - B. 某市政府在物价涨幅较大的前提下启动补贴机制，向城乡低保户等困难群众发放临时物价补贴
 - C. 中央调整完善农业补贴政策，不断加大对粮食适度规模经营的支持力度，促进农业可持续发展
 - D. 某市政府向连锁超市定点投放并降价销售政府储备冻猪肉，保障货源供应，应对肉价的高位运行
32. 2008 年全面爆发的国际金融危机持续至今，虽然一些国家经济开始有所好转，但世界经济仍未恢复到危机前的增长轨道。人们普遍认为，新自由主义是导致本轮危机的重要原因。下列选项中属于新自由主义基本主张的是
- ①完全的市场最终导致市场失灵
 - ②私有制是市场经济的唯一基础
 - ③应限制政府的活动和过度干预
 - ④政府完全没有必要去干预经济
- A. ①③ B. ①④ C. ②③ D. ②④

33. 目前，北京许多大街上的垃圾桶、路灯杆、指路牌等公共设施都贴上了二维码。市民用智能手机扫描一下，不仅能了解设施的基本信息，还能在线举报公共设施存在的脏乱、破损等问题，并且短时间内就能收到反馈问题的处理结果。这一举措



- ①能促使政府更好地改进城市生态环境 ②让市民更加便利地参与社区民主管理
③用信息技术提升了城市的精细化管理 ④为公民行使民主监督权提供了新手段

A. ①② B. ①③ C. ②④ D. ③④

34. 在中国传统文化中，为官之德被视作治国理政的主导因素，相关的经典论述内容丰富、数量繁多。下列选项中，古今表述内涵一致的是

- ①“不受虚言，不听浮术，不采华名，不兴伪事”——求真务实，力戒形式主义
②“当官避事平生耻，视死如归社稷心”——廉洁自律，坚持尚俭戒奢
③“不作无补之功，不为无益之事”——科学决策，提高行政效能
④“去民之患，如除腹心之疾”——处事公正，依法规范行政

A. ①② B. ①③ C. ②④ D. ③④

35. 下表是 2016 年美国大选，希拉里与特朗普的政策主张。

政策主张	希拉里	特朗普
税收政策	对富人增加税收，提高资本利得税率，征收遗产税	削减公司税、取消遗产税，提高个人所得税的扣除标准
外交政策	美国在打击伊斯兰国家上发挥更大作用，支持在阿富汗建立军事基地	反对美国发动伊拉克战争以及其他在中东地区开展的军事行动
移民问题	使在美国长期居住的人移民身份正常化	阻断非法移民，减少合法移民
难民问题	接纳难民会威胁国家安全，暂停安置难民	接纳难民，难民应该被仔细审查

对此，下列理解正确的是

- ①美国两党在意识形态和政策主张上有本质区别
②政策上的差别充当了使两党制得以运行的机制
③两党提出的政策都代表了美国全体民众的利益
④两党竞相提出符合选民利益的政策来争夺选票

A. ①② B. ①④ C. ②③ D. ②④

第二部分（非选择题 共 160 分）

36. (36分) 陕西西安是古丝绸之路的起点，也是新丝绸之路的必经城市。图7为新丝绸之路经济带示意图，图8为陕西省土地利用状况统计图，图9为陕西省地形坡度空间差异图。

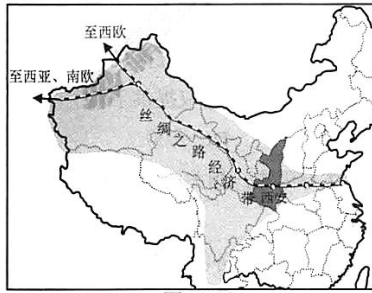


图7

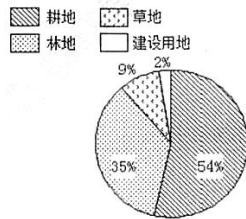


图8

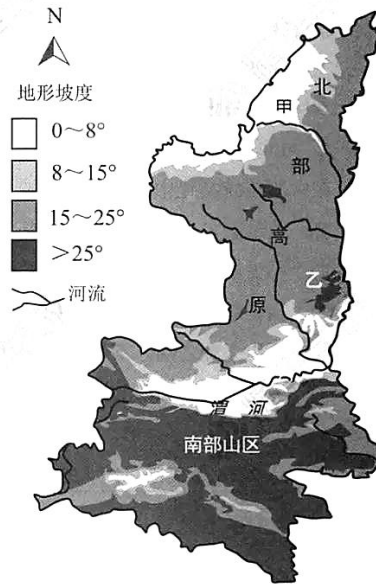


图9

(1) 从外力作用的角度分析甲比乙地形坡度小的原因。(6分)

(2) 从耕地利用状况分析陕西省可能产生的主要生态环境问题。(7分)

(3) 某班学生认为渭河平原地区经济较发达，交通运输量大，应大力开发渭河的航运，以缓解运输压力。结合该地河流特征，判断该班学生的观点是否正确，并说明原因。(6分)

图 10 为西安市“一核五区十卫星城”示意图。图中新城区 I 为 1972~2004 年规划城区，新城区 II 为 2004~2020 年规划城区。

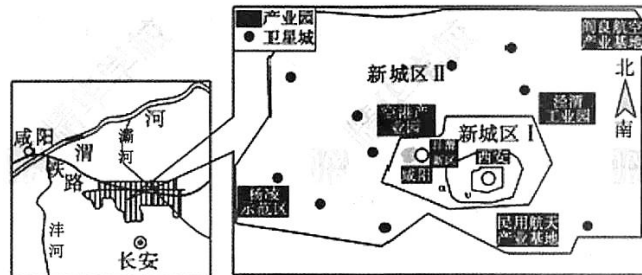


图 10

(4) 概括西安市新城区 I 和新城区 II 主要扩展方向，并分析原因。(9 分)

陕西历史古迹众多，兵马俑、西安城墙等闻名世界。壶口瀑布、西岳华山等地自然风光独特。陕西省决定打造“一带一路”上的国际旅游中心，把古丝绸之路起点的历史文化与秀美山川一路向西带给世界。

(5) 简要说明陕西打造“一带一路”上国际旅游中心的举措。(8 分)

37. (34 分) 货币是一种所有者与市场关于交换权的契约，货币既推动着经济的发展，又影响着政治的变化。阅读下列材料，回答问题。

材料一 《宋朝事实》载：“四川山路峻险，铁钱脚重，难于赏犒”，“当时设法者措置得宜，常预桩留本钱百万贯，以权三百万贯交子(纸币)，公私物一，流通无阻，故蜀人便之。”元末为了支付镇压农民军的军费，新的钞票大量印行，不到两年，原先规定可以兑换 1000 文铜钱的至正印造元宝交钞，便只能兑十几文了。元末人陶宗仪的《南村辍耕录》中收有散曲《醉太平》小令：“堂堂大元，奸佞专权。开河(黄河)变钞(钞票贬值)祸根源，惹红巾(起义军)万千……”

(1) 结合材料一和所学知识，说明宋朝交子流通的背景，并比较宋元时期纸币流通的作用有何不同。(10 分)

材料二 三十年代初，中国白银被西方列强大量抢购，经济形势日益恶化。同期，日本企图形成日满华经济区，以推进华北的分离。为此国民政府于1935年11月颁布《法币政策实施法》及《兑换法币办法》，设立专门委员会，办理法币发行等事宜。规定一切款项概以法币为限，禁止白银流通。……法币的发行一举结束了千百年来货币发行与流通的混乱状态，实现了中国币制的统一。相对于旧的货币体系和制度，能更深、更广、更多层面的发挥对经济的调节作用——这也是现代经济的特征之一。并形成民族国家经济共同体，在金融方面完成了对日作战的准备，为“增强抗战能力之最大因素。”

在抗日战争和解放战争期间，国民党政府采取通货膨胀政策，法币急剧贬值。1937年抗战前夕，法币发行总额不过14亿余元，到日本投降前夕，法币发行额已达5千亿元。到1947年4月，发行额又增至16万亿元以上。1948年，法币发行额竟达660万亿元以上，等于抗日战争前的47万倍，物价上涨了3492万倍，法币彻底崩溃。

——摘编自《中国货币银元》、《民国中央银行货币史·法币》

(2) 依据材料二和所学知识，概括国民政府进行币制改革的原因和主要措施，分析国民政府法币政策变化的影响。(12分)

材料三 每次金融危机必然导致国际货币体系的深刻变革，1930年代大萧条催生布雷顿森林体系，1970年代的汇率动荡和通货膨胀为欧元诞生铺平道路。

——向松祚《国际货币体系改革：思想和战略》

(3) 结合所学知识，概括布雷顿森林体系形成和崩溃的原因。(12分)

38. (31分) 方案，是指能够摆上案头的方法、方略。如今，用东方智慧解决人类文明发展时代课题的“中国方案”，正日益深刻地影响着国际社会。

材料一 1840年鸦片战争爆发后，中国逐步沦为半殖民地半封建社会。一些先进的中国人求索民族复兴之路，提出了各种救国方案。然而，他们没有意识到，农民是当时中国革命运动的巨大力量，解决土地问题是团结农民阶级的重要保障。他们对中国社会状况缺乏深入分析，将西方的君主立宪制、议会制、总统制等移植到中国。他们没有将学习的民主自由思想充分传播给民众，各种运动和革命没有得到民众的心理认同。最终，各种救国方案均以失败收场。

高三文科综合能力测试第13页(共18页)

中国共产党成立后，深入研究不同时期的国情，把马克思主义普遍真理与中国实际结合起来，不仅积极探索革命、建设和改革的道路，还注重推动马克思主义的中国化，先后产生了毛泽东思想和中国特色社会主义理论，成为中国人民和中华民族的精神支柱。党在不同时期的政治主张都代表了广大人民群众和社会各阶层的利益，受到人民的拥护和支持，最终带领人民实现了民族独立解放，走出了一条中国特色社会主义道路，形成了充满生机的社会制度上的“中国方案”。

(1) 结合材料一，从哲学角度思考，一些先进人士和中国共产党同样是探索实现民族复兴的方案，为什么结果却截然不同？（15分）

材料二 近年来，中国领导人频频亮相多边外交舞台，推出一系列颇具影响的“中国方案”。

“共同构建网络空间命运共同体”的中国方案	各国应该在相互尊重、相互信任的基础上，加强合作，完善网络空间对话协商机制，研究制定全球互联网治理规则，使全球互联网治理体系更加公正合理、更加平衡地反映大多数国家意愿和利益。
“解决难民危机”的中国方案	难民和移民问题的解决，需要加强国际合作。难民和移民问题的解决，也离不开来源国的自身努力。有关当事方要以对话解决争端，以协商化解分歧。国际社会也要劝和促谈，努力使难民和移民来源国走上长治久安之路。各国应促进开放联动式增长，减少全球发展不平衡问题，推动共同发展进步。
“复苏世界经济”的中国方案	建设创新型世界经济，针对全球经济增长低迷出现的突出问题，在宏观经济政策上进行创新，把财政货币政策和结构性改革政策有效组合起来；建设开放型世界经济，加强贸易和投资机制建设，反对保护主义，为各国发展营造更大市场和空间；建设联动型世界经济，加强政策规则、基础设施的联动，增进利益共赢的联动；建设包容型世界经济，夯实共赢基础，消除贫困和饥饿，推动可持续发展。

(2) 上述“中国方案”共同向国际社会传递了我国对外活动的哪些主张？（8分）

材料三 当今社会，随着物质生活水平的提高和生活方式的改变，高血压、糖尿病等慢性病呈现爆发式增长。发挥中医药“治未病”的作用，预防为主，医养结合，成为全球慢病时代的“中国方案”。

中医药是科学，它积累了丰富的防治疾病和健康养生的理论、技术和方法；中医药是文化，它形成了道法自然的生命观、整体平衡的思维观、大医精诚的道德观等系统的思想。但是，中医药发展中还存在着不容忽视的问题，如高层次人才和基层医护人员均短缺，公众对中医药知识缺乏了解渠道，一些虚假信息通过媒体传播扰乱视听。部分西方国家不理解中医价值观，用西医标准要求中医，阻碍了中医“走出去”的步伐。

(3) 结合材料三，运用所学《文化生活》知识，请你为政府和相关部门设计出促进中医药进一步发展的可行方案。(8分)

39. (13分) 如今，网上购物成为很多人的消费选择。随着网购业务量的迅速增长，数量惊人的包装垃圾随之产生。我区某中学高三年级部分同学聚焦这一问题，开展了研究性学习。请你运用所学《经济生活》知识，和同学们共同完成指定的研究内容。

(一) 澄清研究问题

同学们通过官方网站，查阅到下面的资料。

2015年中国快递业包装物至少消耗了编织袋31亿条、塑料袋82.68亿个、包装箱99.22亿个、内部缓冲物29.77亿个、胶带169.85亿米，消耗的胶带足以绕地球赤道425圈。多数快递商品都被多层包装、大量填充物所“武装”，许多包装材料不可降解。快递塑料袋一次性使用后，会被当作垃圾丢弃。对于纸质包装箱，部分收件人选择重复使用，更多收件人选择将其当作废品变卖或直接扔进垃圾箱。

经过讨论，同学们最终将研究课题确定为“推进快递包装绿色化的方法和策略”。

(1) 请你代表研究小组，结合以上资料，对“快递包装绿色化”的内涵作出科学解释。(5分)

(二) 开展研究行动

确定课题后，同学们在老师的指导下，运用查阅文献、社会观察、问卷调查等方法，获取了解决问题所需要的丰富信息。图 11 是调查问卷中一个问题的统计结果。（注：本问卷调查对象是电商经营者，发出问卷 180 份，回收有效问卷 158 份。）

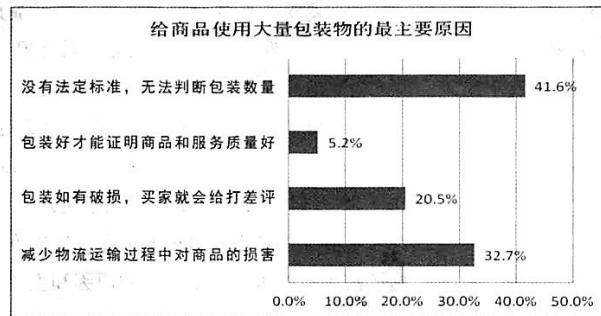


图 11

(2) 这从一个侧面说明，推进快递包装绿色化，需要包括电商、_____、_____、_____等在内的多方联动，共同努力。（补充其他两类相关主体）（2 分）

(三) 交流研究成果

在前期研究的基础上，同学们结合实际获得，运用所学知识，从不同主体角度总结出一些“推进快递包装绿色化”的方法和策略。

示例

电商经营者：积极承担社会责任，探索绿色发展、循环发展的经营方式，自觉使用环保材料制成的包装；使用易揭式包裹单和胶带，提高纸箱等包装品的重复使用；以积分、抽奖等方式鼓励消费者签收商品后返还纸箱等包装品，提高包装的循环利用率。

(3) 请你从自己填写的主体角度，按照上述示例，各提出一种“推进快递包装绿色化”的可行方法，与同学交流分享。（6 分）

40. (20分) 习近平同志说“中国人民抗日战争开始时间最早、持续时间最长。”从1931年开始到1945年胜利结束，前后坚持了十四年。中国人民抗日战争胜利，是近代以来中国抗击外敌入侵的第一次完全胜利。中华民族的抗战为世界反法西斯战争的胜利做出了重大贡献。

材料一 1927年7月25日日本内阁总理大臣田中义一发表《田中奏折》：“惟欲征服支那，必先征服满蒙，如欲征服世界，必先征服支那。”侵略中国是日本蓄谋已久的既定国策。

(1) 概述从1931年到1935年短短五年时间内日本侵华的主要史实并指出其严重危害。(8分)

材料二 “我的家在东北松花江上，那里有森林煤矿，还有那满山遍野的大豆高粱。”抗战歌曲《松花江上》描绘了一个富饶的东北地区。

(2) 说出东北地区森林植被的主要类型，并针对目前东北地区林业开发中遇到的问题，提出两项林业可持续发展的有效措施。(6分)

材料三 位于吉林省西部松花江畔的查干湖，有近千年的“冬捕”历史。查干湖水质无污染，冬季冰雪封冻，冰上可行汽车。鱼类经过春殖、夏长、秋壮和冬眠，每年12月末到春节前是冬捕的黄金时间。



图12

(3) 分析查干湖冬季大规模捕鱼的原因。(6分)

41. (26分) 纵观人类发展历史，科技创新始终是推动一个国家、一个民族乃至整个人类社会向前发展的重要力量。

材料一 “工业4.0”计划由德国提出，旨在提升制造业的智能化水平。比如，消费者的个性化需求通过网络发送给智能工厂，由智能工厂完成生产后，再通过智能化物流把商品直接交付给消费者。德国工业经历了由工业1.0到工业4.0四个发展阶段。图13是德国制造业发展四个阶段示意图。

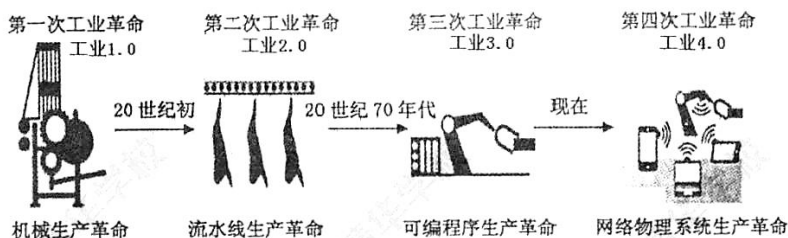


图13

(1) 归纳从工业 1.0 到工业 4.0 阶段德国制造业区位影响因素的变化特点。(8 分)

材料二 1870 年以后，德国工业化进程加速，通过普法战争，德国从法国夺取了矿产资源丰富的阿尔萨斯—洛林地区，并获得 50 亿法郎的战争赔款，统一后的德国继续扩大军费支出，大大刺激了与军火生产有关的重工业。军事上的需要使铁路和海运获得迅速发展，进而带动了钢铁、机器制造等一系列重工业部门的发展。由于德国工业化起步较晚，这使得它能够集中力量投资于新兴产业，因此电气、化工等现代化工业部门遥遥领先于其他国家。19 世纪后半期，德国在学习外国先进科技的基础上，完成了科学研究向应用转变的重大突破，新的科学发现很快就能应用于生产、转化为生产力。

——摘编自孙炳辉、郑寅达《德国史纲》

(2) 列举第二次工业革命中德国取得的两项重大创新成就。根据材料并结合所学知识，简析 1870 年后德国工业化迅速发展的原因。(10 分)

材料三 中关村是中国科技创新的重要源头，是具有全球影响力的创新中心。从上世纪 80 年代的电子一条街，到今天大量高科技产业聚集的国家级自主创新示范区，中关村的发展并不是政府规划和命令的结果。作为北京市政府的派出机构，中关村园区管委会没有一项行政审批权。政府只是支持各类科技服务机构、协会组织等，根据企业需要为其提供政策法律咨询、注册登记、知识产权、科技金融等方面的帮助；设立创业投资，以市场化手段与投资机构共担风险，吸引社会资本支持新兴产业发展；建设人才特区，实施多项政策，为高端人才提供便利的科研、创业、居住条件。

(3) 结合材料三，运用所学知识，对政府在中关村发展中发挥的作用及其产生的影响作出评价。(8 分)

石景山区 2017 年高三统一练习
文科综合能力测试答案及评分参考

第一部分（选择题 共 140 分）

1. B 2. B 3. A 4. D 5. A 6. D 7. D 8. C 9. D 10. B 11. C
12. C 13. A 14. D 15. D 16. C 17. B 18. C 19. D 20. A 21. C 22. B 23. D
24. B 25. C 26. D 27. B 28. A 29. A 30. C 31. D 32. C 33. D 34. B 35. D

第二部分（非选择题 共 160 分）

36. (36 分)

(1) (6 分) 甲地降水量小，流水侵蚀作用弱 (2 分)，以风力作用为主 (1 分)；

乙地降水量大，流水侵蚀作用强 (2 分)，以流水作用为主 (1 分)。

(2) (7 分) 该区域耕地比重大 (1 分)，植被破坏 (1 分)，水土流失严重，土壤肥力下降 (2 分)；该区域主要为旱地 (1 分)，水资源少 (1 分)，灌溉引发水资源短缺 (1 分)。

(3) (6 分) 不正确 (2 分)。该区域河流径流量小 (1 分)；季节变化大 (水量不稳定) (1 分)；含沙量大，流速缓慢，河道淤积严重 (1 分)；有结冰期 (1 分)；通航条件差。

(4) (9 分) 西安市两次规划的新城区主要向北、向西迁移 (2 分)。

其主要原因是：北部、西部土地资源丰富 (1 分)，地势平坦 (1 分)，地价低廉 (1 分)；有河流，水源充足 (2 分)；靠近铁路，交通便利 (2 分)。

(5) (8 分) 加强旅游资源的保护与开发 (2 分)；系统打造文化品牌 (2 分)；设计旅游精品景区与线路 (2 分)；加强交流与合作 (2 分)；加大政策支持力度 (2 分)；加强基础设施建设 (2 分)；促进文化旅游融合发展。(任答四项即可)

37. (34 分)

(1) (10 分) 背景：北宋商品经济的发展；四川交通险峻，金属货币交易不便；纸币发行者储备足够的金属货币保证纸币的信用。(6 分)

作用：宋代交子流通，便于民众携带，有利于商品经济发展；元朝滥印纸币，造成货币贬值，掠夺民众财富，引发农民起义。(4 分)

(2) (12 分) 原因：抵御西方经济危机的冲击；防范日本经济侵略。(2 分)

措施：通过立法手段进行；建立专门机构负责。(2 分)

影响：法币政策实施之初，实现了中国币制的统一；促进了国民政府统治前期经济的发展，

石景山区高三文科综合能力测试答案第 1 页 (共 4 页)

为抗日战争胜利奠定了基础。(4分)在抗日战争和解放战争期间,国民政府采取通货膨胀政策,导致了法币的贬值和崩溃,使民族工业陷入绝境,广大民众的利益受到严重损害,是国民党在解放战争中失败的重要原因之一。(4分)

(3)(12分)20世纪30年代经济危机严重影响了世界金融市场的稳定性,加剧了世界紧张局势。二战后西欧经济衰退,美国经济实力空前膨胀,以英镑为中心的资本主义世界货币体系难以维系。在美国主导下成立了国际货币基金组织和国际复兴开发银行,以美元为中心的布雷顿森林体系建立。(6分)

20世纪70年代西方主要国家尤其美国经济出现“滞胀”,欧共体的成立大大增强了西欧国家的经济实力,日本迅速崛起,世界经济多极化趋势出现,以美元为中心的布雷顿森林体系开始走向崩溃。(6分)

38.(31分)

(1)(15分)①人类社会是一个客观的物质体系,必须坚持从实际出发,实事求是,才能解决社会矛盾,推动社会发展。中国共产党深入研究中国不同时期的国情,探索出革命、建设和改革的道路;其他探索者缺乏对国情的深入分析,机械移植西方政治制度,必然会失败。

②矛盾的普遍性与特殊性相互联结,中国共产党坚持共性与个性具体的历史的统一,把马克思主义普遍真理与中国实际结合起来,探索出中国革命、建设和改革的道路;其他探索者缺乏对国情的具体分析,忽视了中国和西方的差异,割裂了共性与个性的关系。

③科学理论作为先进的社会意识,对社会发展起积极的推进作用,中国共产党注重理论建设,推动马克思主义的中国化,先后产生了毛泽东思想和中国特色社会主义理论,成为中国人民和中华民族的精神支柱;其他探索者则没有找到科学的理论指导实践,学习的民主自由思想也没有发挥出积极作用。

④人民群众是社会变革的决定力量。中国共产党坚持群众观点和群众路线,在不同时期的政治主张都代表了广大人民群众和社会各阶层的利益,受到人民的拥护和支持;其他探索者没有意识到农民是当时中国革命运动的巨大力量,各种运动和革命没有得到民众的心理认同和拥护支持。

(每个原因分析5分,答出三个角度可得15分。考生若从其他角度回答,言之成理亦可得分。)

(2)(8分)①恪守和平共处五项原则,在相互尊重、相互信任的基础上,化解分歧,增加利益交汇点;

②在对外活动中既维护本国主权、安全和发展利益,又兼顾他国合理关切,促进各国共同发展和繁荣;

③主动承担国际责任和义务,在国际事务中发挥建设性作用;

石景山区高三文科综合能力测试答案第2页(共4页)

④顺应要和平、求合作、促发展的时代主流，保证各国享有平等的发展权利，推动国际秩序朝着更加公正合理的方向发展。

(每点2分，共8分，考生若从其他角度回答，言之成理可酌情给分)

(3) (8分) ①加强中医院校的建设，发挥教育在传承文化、教化和育人方面的独特作用，培养更多优秀的专业人才；

②树立文化自觉和自信，深入挖掘中医药文化内涵，增强人民群众对中医药文化的了解；

③用多种活动形式宣传中医药文化知识与价值观念，培育适宜中医药文化发展的社会环境；

④加强对媒体的管理和引导，遏制虚假信息传播，普及科学、高雅的中医药文化；

⑤拓展中医药文化对外交流渠道，扩大中医药对外服务领域，增进西方国家对中医药的理解和认同。

(每点2分，答出其中任意四点可得8分)

39. (13分)

(1) (5分) “快递包装绿色化”指快递包装要符合资源节约、环境友好、生态安全、持续发展的要求，防止过度包装，采用环保材料，实现包装循环利用等。

(2) (2分) 政府、消费者、物流企业(答出其中任意两个主体即可得2分)

(3) (6分) 政府：通过法律手段引导快递行业绿色发展，加快制定出台有关商品包装的法律法规和行业技术标准；通过税收杠杆调节快递包装材料的市场行为，提高不可降解材料的使用成本；尽快建立包装废弃物分类回收、循环再利用以及合理处置体系等。

消费者：树立保护环境、绿色消费的观念，减少对包装的过度在意；接受循环使用的快递包装，使网购消费行为更加低碳环保；积极承担包装分类的责任，不随意丢弃并循环利用包装等。

物流企业：坚持诚信经营，遵守行业规范，实行文明分拣和投运；建立标准化体系，依靠科学技术和管埋，降低包装消耗等。

(要求：方法有理有据，与主体对应准确)

40. (20分)

(1) (8分) 主要史实：1931年，日本侵略者制造九·一八事变，炮轰中国东北军驻地，攻占沈阳。不到半年侵占了整个东北。1932年1月，日本侵略者袭击中国上海，制造了一·二八事变。1932年3月，日本帝国主义者扶植清朝废帝溥仪做傀儡皇帝，在中国东北建立伪满洲国。1935年，日本侵略者为侵占中国华北而蓄意制造了一连串事件，总称“华北事变”。大批日本关东军入关，威逼平津。(每点2分，最多不超过6分)

严重影响：中国东北三省沦为日本的殖民地；华北地区日趋殖民化；中华民族危机加深。(2分)

石景山区高三文科综合能力测试答案第3页(共4页)

分)

(2) (6分) 温带落叶阔叶林和针阔混交林。(2分)。

措施：采育结合，积极营造人工林(1分)；提高技术水平，培育良种(1分)；特色林产品的深加工(延长产业链)，提高附加值(1分)；发展林区特色生态旅游(1分)；建立自然保护区，保护生态环境(1分)；建立健全森林开发与保护的法律法规，加强监管(1分)。(4分，任答四项即可)

(3) (6分) 鱼类经过春夏秋三季的生长，产量高(1分)；鱼类冬眠，利于捕捞(1分)；水质无污染，鱼的品质好(1分)；气候寒冷，便于储存和运输(1分)；湖冰厚，捕捞安全(1分)；临近春节，市场需求量大(1分)；冬捕习俗历史悠久(1分)。(任答六项即可)

41. (26分)

(1) (8分) 对劳动力数量的需求变小(对劳动力素质的要求提高)(2分)，对矿产资源的依赖降低(2分)，对市场需求的依赖度提高(2分)，对网络信息的依赖度提高(2分)，对科技要求提高(2分)，对交通运输条件要求提高(2分)(任答四项即可)。

(2) (10分) 科技成就：西门子研制发电机；戴姆勒和本茨研制汽车。(2分)

发展原因：德国统一及君主立宪制的确立，为工业发展提供了统一市场和制度保障；通过普法战争获得煤铁矿区及巨额赔款，为工业发展提供了资源和资金；交通运输与军事工业推动重工业的发展；工业化起步较晚，集中力量投资新兴产业；科学技术成果直接应用于生产。(每点2分，最多不超过8分)。

(3) (8分) ①政府通过转变职能，为创新创业提供公共服务。(2分)

②中关村园区管委会没有行政审批权，不干预企业运行，有利于充分发挥市场在配置资源中的决定性作用，发挥社会组织在治理体系中的服务功能，为中关村的创新发展营造了良好的市场环境和政策环境，激发了企业的市场活力和社会创造力。(6分)



扫描二维码，关注北京高考官方微信！

查看更多北京高考相关资讯！