

# 2021 北京平谷初三二模

## 历 史

2021.5

学校\_\_\_\_\_姓名\_\_\_\_\_准考证号\_\_\_\_\_

注意  
事项

- 1.本试卷共 10 页，包括两部分，24 道小题。满分 70 分，考试时间 70 钟。
- 2.在试卷和答题纸上准确填写学校名称、班级、姓名和考号。
- 3.试题答案一律填涂或书写在答题纸上，在试卷上作答无效。
- 4.在答题纸上，第一部分试题用 2B 铅笔作答，第二部分用黑色签字笔作答。
- 5.考试结束，请将本试卷和答题纸一并交回。


### 第一部分 选择(共 30 分)

一、 单项选择题：(共 30 分,每小题 1.5 分, 请将正确选项填涂在机读卡上)

1. 获取有效信息是历史学习的重要方法之一。符合“距今约 70 万~20 万年”“会使用火”“能打制石器”三个信息的古人类是

- A. 元谋人    B. 北京人    C. 半坡人    D. 河姆渡人

2. 文物是鲜活的历史。下列文物中，能印证商朝青铜器制作工艺高超的是



3. 阅读下表，比较秦始皇和汉武帝推行措施的共同目的是

人物	秦始皇	汉武帝
措施	实行郡县制统一货币、度量衡书同文、车同轨筑长城，北击匈奴	颁布“推恩令”“罢黜百家，独尊儒术”盐铁专卖，铸五铢钱北击匈奴

- A. 抵御外来侵扰    B. 加强思想控制    C. 促进经济发展    D. 巩固国家统一

4. 北魏孝文帝改革后，汉语成为北方主要的通用语言，在民族心理上，以往的“胡、汉”观念逐渐淡薄。此现象可以推断孝文帝改革的历史作用是

- A. 实现了国家统一    B. 提升了洛阳的地位    C. 促进了民族交融    D. 加剧了民族分化

5.生产工具内容和形式是随着经济和科学技术的发展而不断变化的，唐朝出现的灌溉工具是



A.耒耜



B.曲辕犁



C.筒车



D.秧马

6. 识读历史地图是学习历史的重要方法之一。与下图所示路线存在关联的历史事件是

- ①张骞通西域 ②玄奘西游 ③鉴真东渡 ④戚继光抗倭



- A. ①② B. ②③ C. ②④ D. ③④

7.都江堰和隋朝大运河都是水利工程，明长城和北京城都是建筑工程。下面对这四个工程的表述正确的是

都江堰示意图	隋朝大运河示意图	明长城示意图	明朝北京城平面图

- ①都江堰发挥了防洪、灌溉、水运的作用，使成都平原成为沃野，被称为“天府之国”  
 ②隋朝大运河的开通加强了南北地区政治、经济和文化的交流  
 ③明长城东起辽东，西至临洮  
 ④都江堰、隋朝大运河、明长城和明朝北京城都体现了中国古代人民的智慧和创造力

- A.①②③④ B.②③④ C.①②④ D.①③④

8. 以下文字属于历史解释的是

- A.道光帝派林则徐到广东查禁鸦片 B. 1839年6月，收缴的鸦片在虎门海滩当众销毁  
 C.虎门销烟是中国禁烟斗争的伟大胜利 D.1840年6月,鸦片战争爆发.

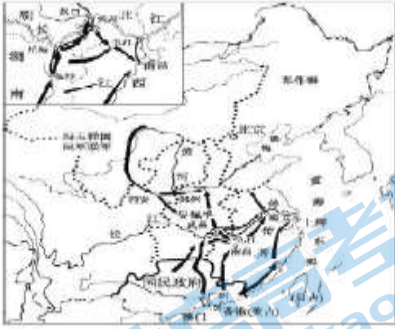
9.下列关于中国近代民族工业的叙述，正确的是

- ①洋务运动客观上促进了中国民族工业的产生

- ②主要集中在重工业部门
- ③受帝国主义、封建主义和官僚资本主义的压迫
- ④第一次世界大战期间，中国民族工业出现了“短暂的春天”



A.①③④    B.①②③    C.①②④    D.②③④

10. 通过对历史地图研究能够获得更多历史信息，深刻理解历史事件。依据右图内容判断，该历史地图的名称应是



- A. 太平天国运动发展示意图
- B. 武昌起义形势示意图
- C. 二次革命进军路线示意图
- D. 北伐战争形势示意图

11. 以下四则材料可共同用于说明的主题是

 <p>正面战场 22 场会战</p>	 <p>敌后抗日根据地形势 一九三七年—一九四〇年</p>	<p>据不完全统计，卢沟桥事变到抗战胜利期间，全世界华侨捐款(不包括华侨直接汇寄国内的资金和各种捐赠物资)达 13.2 亿元，回国参战的华侨超过万人。</p>	<p>据不完全统计，1938 年陕甘宁边区女自卫军人数达 4000 多人。1939 年陕甘宁边区有 10 万妇女参加生产，开荒 6 万多亩。1939 年至 1940 年初海外华侨妇女筹赈所得之款，约为当年战费的 1/5。</p>
--	--	---	--

- A. 国民党在抗日战争中起到了决定胜负的作用
- B. 中国共产党领导的敌后抗日游击战成果显著
- C. 广大爱国华侨、妇女对抗战的胜利功不可没
- D. 空前的民族团结是抗战胜利的决定性因素

12. 中华人民共和国成立的历史意义是

- ①开辟了历史的新纪元    ②推翻了帝国主义、封建主义和官僚资本主义的统治
- ③中国确立了社会主义制度    ④中国真正成为独立自主的国家



- A. ①②③ B. ①②④ C. ②③④ D. ①③④

13. 中国现代史上的四个不同时期，每个时期都有不同时代主题，这些主题词排序正确的是

①改革开放新时期 ②一五计划 三大改造③艰难探索 曲折发展④巩固政权 恢复经济

- A. ①③②④ B. ④③①② C. ②③①④ D. ④②③①

14. 中华人民共和国成立后，为了打破美、苏等国对核武器和航天技术的垄断，我国决定

- A. 建立人民空军 B. 加入亚太经合组织  
C. 研制“两弹一星” D. 实施“科教兴国”战略

15. 与资本主义兴起有关的事件是( )


①新航路的开辟 ②文艺复兴 ③三角贸易 ④殖民地人民的反抗斗争

- A. ②③④ B. ①②③ C. ①③④ D. ①②④

16. 科学技术推动生产力的发展，主要表现为科学技术对生产工具、劳动对象、生产管理等方面的促进。下列各项能反映在两次工业革命中“生产工具”发展进步的是

- A. 煤炭、石油的大量开采 B. 改良蒸汽机、内燃机的广泛应用  
C. 工厂生产和垄断组织出现 D. 计算机代替部分人力劳动

17. 下图时间轴整理的是 20 世纪后半叶的部分史事，它反映出



- A. 世界殖民体系建立 B. 法西斯主义被粉碎 C. 亚非拉国家的发展 D. 拉美人民捍卫主权

18. 到 1935 年初，美国失业人数从 1933 年初的最高点减少了 400 万人；资本收入从 1933 年以来增加了 6 倍，工业产量几乎翻了一番。这得益于

- A. 新经济政策 B. 美国独立战争 C. 罗斯福新政 D. 美国内战

19. 阿德勒在《世界文明史（下册）》中将第二次世界大战划分为三个阶段（见下表）。请你运用所学知识判断，推动第二次世界大战由第一阶段朝着第二、三阶段转化的根本原因是

阶段	时间	概况
第一阶段	1939 年至 1942 年末	德日法西斯获得胜利和扩张
第二阶段	1942 年至 1943 年	反法西斯盟国在各个战场开始反攻
第三阶段	1944 年至 1945 年	反法西斯盟国取得最后胜利

- A. 26 国签署《联合国家宣言》 B. 斯大林格勒保卫战的胜利  
C. 美国取得中途岛海战的胜利 D. 盟军开辟了欧洲第二战场

20. 当今世界正处于大发展、大变革、大调整时期，贫富分化日益严重、重大传染性疾病、气候变化等非传统安全威胁持续蔓延。对此应有的正确认识是

- ①人类面临着许多挑战      ② these 问题是经济全球化发展的必然结果  
 ③面对共同问题，各国要加强合作共担责任    ④应充分发挥联合国等国际组织的作用

A. ①②      B. ③④      C. ①③④      D. ①②③④

第二部分 综合题(共 40 分)

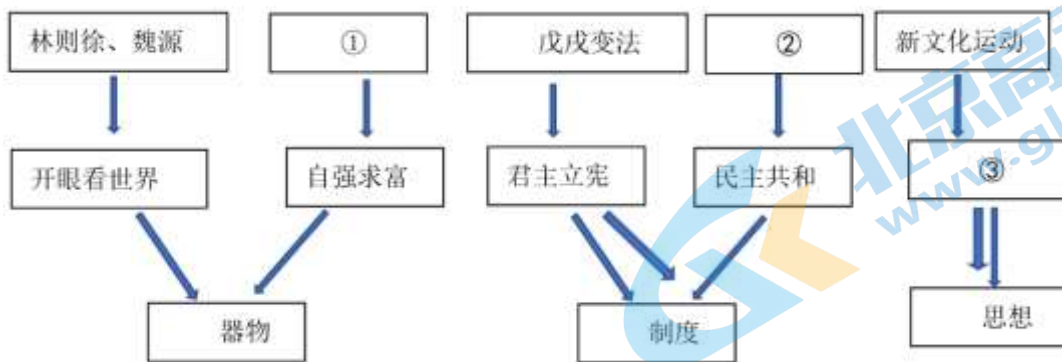
21. 思想变化与社会发展息息相关。(11 分)

材料一

人物	孟子	荀子	墨子	韩非
言论	①民为贵，社稷次之，君为轻	②君者，舟也，庶人者，水也；水则载舟，水则覆舟	③今至大为不义攻国，则弗知非，从而誉之，谓之义	④故明主之道，一法而不求智，固术而不慕信，故法不败，而群官无奸诈矣

(1) 指出材料一中哪两则言论体现了民本思想？(写序号) (2 分) 据材料概括韩非的主张。(1 分)

材料二：根据下面思维导图的提示信息，填写与序号①②③相对应的内容，(3 分) 并结合所学，选取①②③中任意一例，说明其历史作用。(1 分)



材料三

1917 年 11 月 6 日，列宁在彼得格勒起义总指挥部斯莫尔尼宫领导起义。11 月 7 日，以“阿芙乐尔”号巡洋舰的炮声为信号，起义者向临时政府所在地冬宫发起进攻，推翻资产阶级临时政府。



(2) 说出材料三文字部分描述的历史事件。(1 分) 指出上图中两位人物创立的理论并说明该理论与此历史事件的联系。(1 分)

材料四：新时代中国特色社会主义思想，是对马克思列宁主义、毛泽东思想、邓小平理论、“三个代表”重要思想、科学发展观的继承和发展，是马克思主义中国化的最新成果……是党全国人民为实现中华民族伟大复兴而奋斗的行动指南，必须长期坚持并不断发展。

——习近平十九大报告

(3) 根据材料四结合所学，概括指出“马克思主义中国化的最新成果”及其地位。(2分)

22. (8分) 改革 革命 发展 繁荣

材料一 儒家把政通人和、社会安定之世称为治世。中国历史上出现多次“治世”的局面。

朝代	统治政策	治世局面
西汉	汉文帝和汉景帝注重农业生产，进一步减轻赋税和徭役，把田赋降到了三十税一；重视“以德化民”，废除了一些严刑峻法，提倡勤俭治国。	文景之治
东汉	光武帝多次下令释放奴婢，减轻农民的负担，减轻刑罚；还合并郡县，裁减官员，加强对官吏的监督，惩处贪官污吏；又允许北方少数民族内迁，缓和民族矛盾。	光武中兴
唐朝	唐太宗进一步完善三省六部制，制定法律，减轻刑罚，严格考察各级官吏的政绩。在经济上，减轻人民的劳役负担，鼓励发展农业生产。	贞观之治
	唐玄宗重用贤能，实行了一系列改革：整顿吏治，裁减冗员；发展经济，改革税制；注重文教，编修经籍。	开元盛世

(1) 依据材料一，概括“治世”局面的出现与哪些因素相关？(2分)

材料二

假如没有中国，假如中国被打坍了，你想一想有多少师团的日本兵可以因此调到其他方面来作战？他们可以马上打下澳洲，打下印度——他们可以毫不费力地把这些地方打下来。他们并且可以一直冲向中东……

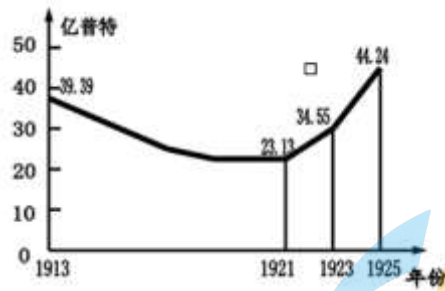
——摘自【美】伊利奥·罗斯福《罗斯福见闻秘录》



(2) 根据材料二并结合所学知识，举例说明中国战场是世界反法西斯战争的东方主战场。(2分)

材料三 “经历了数年战争的苏维埃俄国，满目疮痍，经济异常困难，社会矛盾加剧。列在调查后认为，只有改变战时共产主义政策，才能被复和发展生产”。

——摘编于部编人教版《世界历史》九年级下册

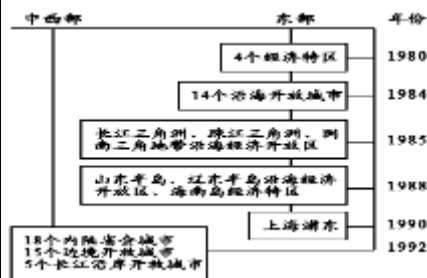


苏俄（联）粮食产量变化曲线图

(3) 根据材料结合所学说出苏维埃政府为巩固政权采取大的措施。(1分)

材料四

中共十一届三中全会是新中国成立以来党的历史上具有深远意义的伟大转折，开启了我国改革开放的征程。他和同事们找到了一条强国富民的道路。在达成这个目标的过程中，他也引领了中国的根本转型。



中国对外开放示意图

(4) 依据材料四并结合所学，材料中的“他”指的是谁？(1分) 并叙述中国对外开放格局形成的过程，(1分) 并指出该格局的特点。(1分)

23. (10分) 边疆巩固·教育发展·世界格局

材料一 清朝是我国统一多民族国家进一步巩固和发展的关键时期，为安定边疆，清朝采取了一系列措施，结合地理方位，仿照下图所给示例以简要的文字列出清朝加强对边疆地区管辖和维护国家统一的主要措施。

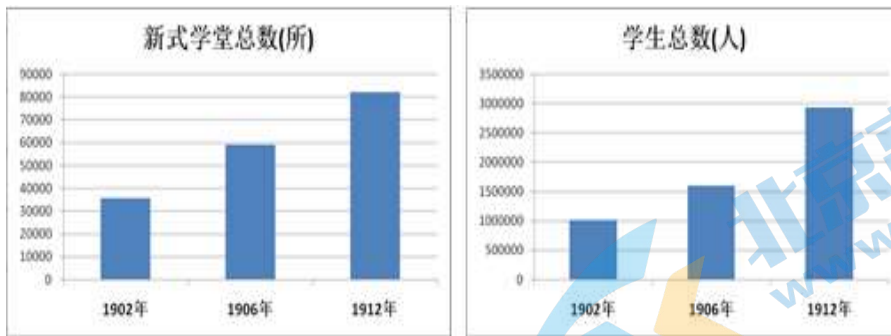
(3分)



(1) 西北 \_\_\_\_\_ 西南 \_\_\_\_\_ 东南 \_\_\_\_\_

材料二



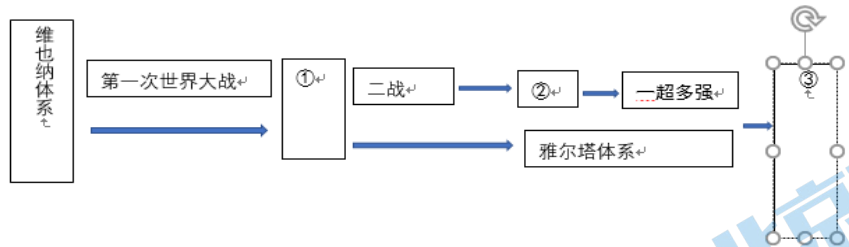


(2) 上图为 20 世纪初中国近代教育发展状况数据图，请根据上图概括这一时期近代教育发展的趋势（1 分）  
依据所学说出这种趋势出现的原因。（1 分）

材料三 19 世纪初，欧洲列强建立起欧洲新的政治军事及其领土的平衡，被称为维也纳体系。20 世纪初的一场混战后，由战胜国构建的帝国主义重新分割世界、护战胜国利益和维持战后和平的凡尔赛—华盛顿体系，是第一个涵盖全球主要大国的多极体系。第二次世界大战中后期，美英苏三大国经过一系列重大的国际会议与会，达成了三体系的协议，史称雅尔塔体系。第二次世界大战成为国际格局的真正转折点。战后世界进入美苏对峙的两极格局时代。在经历了 90 年代的巨大动荡和不断调整之后，到 20 世纪末 21 世纪初，国际格局更加明显呈现出“一超多强”的发展特点与态势，是向世界格局多极化的过渡，尽管世界多极化的实现还需长期与复杂的过程，但其发展不可逆。

——摘编自 徐蓝《20 世纪国际格局的一种观论述》

(3) 以下是根据材料三绘制的国际格局演变示意图。依据材料，将示意图补充完整，（3 分）



材料四



(4) 上面是当今四个国际组织，请你依照示例从中选择一个进行介绍（2 分）

示例：D 亚太经济合作组织，该组织的成立，推动了亚太区域贸易和经济技术合作，促进了亚太各国经济发展。

24. (11分) 从远古时代走到现代化的北京城，记录着中华民族历史的发展历程。

材料一 北京是不同民族、不同文化大融合、大交汇之地，尤其是北方草原文化和中原农业文化的交接地带。这造成北京文化的丰富多彩，又造成北京历史发展的复杂性和曲折性。尤其是辽、金以后，由于北方少数



民族军事力量强大，南进的政治目的明确，但其经济方式相对落后，使得北京在政治、军事地位上不断上升，而经济发展却常常出现短期倒退，社会发展也呈现复杂性。 ——摘自《张任忠 ----北京史》

(1) 依据材料一概括北京历史文化特点。(2分)

材料二 北京历史沿革

周	蓟	燕国都城
秦	蓟	广阳郡郡治
西汉		燕国都城 (前 202—前 126) 燕国郡治 (前 126—前 116) 燕国都城 (前 116—前 80) 广阳郡郡治 (前 80---前 72) 广阳国都城 (前 72---公元 8)
唐	蓟或幽州	幽州州治 (618--741)
	蓟或范阳	范阳郡郡治 (742--756)
	燕京	大燕政权都城 (安禄山 756—759 史思明 759--761)
	蓟或幽州	幽州州治 (762---906)
金	燕京	忻津府府治 (1115--1150)
	中都	都城 (1150--1215)
元	燕京	燕京路路治 (1215--1264)
	中都	都城 (1264---1267)
	①	国都 (1267--1368)
明	北平	北平府府治 (1368---1403)
	北京	陪都 (1403--1240) 国都 (1420-1644)
②	北京	京师或国都 (1644--1911)
中华民国	北京	首都 (1912---1927)
	北平	特区 (1927--1949)
中华人民共和国	北京	首都 (1949----今)

(2) 依据材料二结合所学把①②补充完整，概括北京城的政治地位发生什么变化？(3分)

材料三

建成于 1959 年，突出反映了党领导的革命斗争历程和人民军队建设成就

原为明成祖时兴建的社稷坛，明清皇帝在此祭祀地神和五谷神

兴建于 20 世纪 90 年代是目前亚洲最大商业建筑群之一

成立于 1990 年，今天已形成著名商务区

⑥ 中国人民革命军事博物馆

⑤ 中山公园

③ 东方广场

① 国贸

长安街

建成于 1958 年，纪念人民解放战争和人民革命中牺牲的人民英雄。

④ 人民英雄纪念碑

② 古观象台

古观象台，创于元代，明清为天象观测台。保存大量古代天文观测仪器。

(3) 以上是长安街沿线的几处重要考察地点。依照示例，并选取两个相关考察地点，分别说明考察地点与主题的关系。(4分)

示例 主题 1: 从长安街看传统文化。主题 2: 从长安街看改革开放。主题 3: 从长安街看中国革命(按要求作答,言之有理即可酌情给分)

主题	考察地点	关系说明
从长安街看传统文化	②⑤	体现了中国古代重视农耕的文化传统。

主题	考察地点	关系说明

材料四 2016年3月18日,中共中央总书记、国家主席、中央军委主席习近平在中南海主持召开会议,专题听取北京冬奥会、冬残奥会筹办工作情况汇报。他强调,筹办好北京冬奥会、冬残奥会,意义重大,责任重大。要增强使命感、责任感,认真落实创新、协调、绿色、开放、共享的发展理念,坚持绿色办奥、共享办奥、开放办奥、廉洁办奥,高标准、高质量完成各项筹办任务,把北京冬奥会、冬残奥会办成一届精彩、非凡的奥运盛会,向祖国人民、向国际社会交上一份满意答卷。

(4) 依据材料四,说一说 2022年北京冬奥会的理念,请你为北京冬奥会献计献策,提一条可行性建议(2分)

## 关于我们

北京高考在线创办于 2014 年，隶属于北京太星网络科技有限公司，是北京地区极具影响力的中学升学服务平台。主营业务涵盖：北京新高考、高中生涯规划、志愿填报、强基计划、综合评价招生和学科竞赛等。

北京高考在线旗下拥有网站门户、微信公众平台等全媒体矩阵生态平台。平台活跃用户 40W+，网站年度流量数千万量级。用户群体立足于北京，辐射全国 31 省市。

北京高考在线平台一直秉承“精益求精、专业严谨”的建设理念，不断探索“K12 教育+互联网+大数据”的运营模式，尝试基于大数据理论为广大中学和家长提供新鲜的高考资讯、专业的高考政策解读、科学的升学规划等，为广大高校、中学和教科研单位提供“衔接和桥梁纽带”作用。

平台自创办以来，为众多重点大学发现和推荐优秀生源，和北京近百所中学达成合作关系，累计举办线上线下升学公益讲座数百场，帮助数十万考生顺利通过考入理想大学，在家长、考生、中学和社会各界具有广泛的口碑影响力

未来，北京高考在线平台将立足于北京新高考改革，基于对北京高考政策研究及北京高校资源优势，更好的服务全国高中家长和学生。



微信搜一搜

北京高考资讯