

北京市朝阳区高三年级第一次综合练习·历史试题

高三年级文综试卷

2019.3

第一部分 (选择题 140分)

本部分共 35 小题，每小题 4 分，共 140 分。在每小题列出的四个选项中，只有一项最符合题

目要求。

12. 下表中言论与人物对应正确的是

	言 论	人 物
A	“上古竞于道德，中世逐于智慧，当今争于气力。”	孔 子
B	“礼义者，治之始也，法者，治之端也。”	荀 子
C	“诸不在六艺之科、孔子之术者，皆绝其道，勿使并进。”	韩 非
D	“名不正，则言不顺；言不顺，则事不成；事不成，则礼乐不兴。”	董仲舒

13. 观察下图可知，我国



- A. 开始进入铁器牛耕时代
- B. 游牧民族转向农业生产
- C. 南北土地制度差异较大
- D. 农耕技术取得重大进步

14. 宋太祖问策赵普：“自唐季以来，数十年间，帝王凡易十姓，兵革不息，其故何也？吾欲息天下之兵，为国家建长久计，其道如何？”赵普的建议是

- A. 废分封、行郡县
- B. 废三省、置通判
- C. 收精兵、削实权
- D. 废丞相、设内阁

15. 《天工开物》记载了倭缎织造法，朝鲜及西洋棉布染整法，红夷炮、佛朗机冶铸法，日本与朝鲜海船的制造法等自国外传来的技术。这说明当时

- A. 中外科技融合推动近代科学产生
- B. 工艺技术成果反映工业革命成就
- C. 传统科技发达推动世界文明交流
- D. 海外技术传入丰富国人科学认知

16. 鸦片战争爆发后，徐继畲提出“变局论”并首倡备战和戎、平等外交的主张。19世纪60

年代，“变局论”被广泛认同。为应对变局，当时采取的措施是

- ①设立总理衙门，负责外交、通商等事务
- ②设总税务司，管理全部海关税务

③设立同文馆，培养外语、科学技术人才 ④设农工商总部、巡警部、学部等

- A. ①②③                      B. ①②④                      C. ①③④                      D. ②③④

17. 1890 年，马建忠提出“富民说”，强调“精求中国固有之货，令其畅销”“仿造外洋之

货，敌其销路”，开采矿山，以保证财富常聚而不散。作者意在

- A. 唤醒中国人的民族意识                      B. 呼吁放弃重农抑商政策  
C. 支持民众反帝爱国运动                      D. 兴办实业挽救民族危亡

18.

<b>第十三章 为建立抗日民族统一战线而斗争</b>	
一、抗日救亡运动的新高潮	四、.....
二、抗日民族统一战线策略的制定	五、西安事变的和平解决
三、党在国民党统治区斗争策略的转变	六、党为早日实现全民族抗战而斗争

依据《中国共产党史》第十三章的目录，“四”的标题应该是

- A. 南京国民政府的独裁统治                      B. 革命统一战线的正式建立  
C. 东北抗日联军的艰苦斗争                      D. 国共合作抗日局面的形成

19. 1978 年 9 月，邓小平在东北调研，提出“要到发达国家去看看，看看人家是怎么搞的。过

去我们对国外的好多事情不知道”，“世界天天发生变化，新的事物不断出现，新的问题不断出现，我们关起门来不行，不动脑筋永远陷于落后不行”，史称“北方谈话”。这场“谈话”

- A. 肯定了真理标准问题的讨论                      B. 表达了实行对外开放的思想  
C. 揭开了经济体制改革的序幕                      D. 阐明了支持市场经济的态度

20. 随着罗马帝国的扩张，新建行省的居民只承担向帝国纳税的义务，而不享有罗马市民的相

应权利。为统治这类地区，罗马统治者制订了一系列法律。这些法律

- ①丰富了罗马法律体系的内容      ②体现了罗马法发展的多元化  
③反映了罗马成文法律的形成      ④保证了平民保民官的监督权

- A. ①②                      B. ①③                      C. ②③                      D. ②④

21. 1789 年 8 月，法国制宪议会颁布了《人权与公民权宣言》，明确提出了人权、自由、平等、

法治、人民主权和保护私有财产等原则。这表明

- A. 法国改造成为君主立宪制国家                      B. 启蒙运动的思想在实践中彰显  
C. 近代第一部资产阶级宪法诞生                      D. 资产阶级共和政体在法国确立

22. 在斯大林领导下，苏联宣布基本实现了“工业化”目标，主要工业部门的产量跃居欧洲首

位、世界第二位。苏联人民用 10 年多的时间走完了资本主义国家 50 年到 100 年才走完的路程，实现了国家工业化。这反映出

- ①苏联经济结构发生变化      ②计划经济模式存在严重问题
  - ③社会主义制度的优越性      ④形成了较为齐全的工业体系
- A. ①②③    B. ①②④                            C. ①③④    D. ②③④

23. 2000 年 10 月通过的《中非合作论坛北京宣言》指出：“中非合作论坛是和中国和非洲在平

等互利基础上的集体对话框架，谋求和平与发展是中国和非洲国家的共同目标；强调只有建立公正、

合理的国际政治经济新秩序，才能使发展中国家有效参与国际决策进程。”该宣言

- A. 促进了亚非拉新兴民族国家的独立
- B. 改变了美苏共同决定世界事务的局面
- C. 凝聚了中国与非洲共同发展的愿景
- D. 推进了大国合作共赢新型关系的发展

### 第二部分 非选择题（共 160 分）

**二、非选择题**（本大题共 3 小题，第 37 题 36 分，第 40 题 8 分，第 35 题 8 分，共 52 分。要

**求：**阅读材料并结合所学知识回答问题。）

**37.**（36 分）**卫生与健康关系百姓生活和社会稳定。**

**材料一** 明代处于中国历史上第四个气候寒冷期，后期异常干旱。入境外国人士的增加，使我

国从未有过的传染病也开始流行。1408 至 1644 年间，各地发生的大瘟疫达 26 次之多。瘟疫等传

染病的流行，促使瘟疫学说得到发展。中医内科理论建立在《伤寒论》之上，隋代巢元方《诸病源

候论》里记载了瘟疫的传染性特征。宋元以来，医家从论症、治法方面对伤寒与瘟疫加以区别。明

清之际吴有性著《瘟疫论》，提出“戾气说”，认为瘟疫是戾气所致，由口鼻传入，进而指出戾气

有不同类型，并能产生不同疫病。经过清代名医叶桂、薛雪等人的努力，瘟疫学说逐渐建立起体系。

（1）概括瘟疫学说的演变历程；指出瘟疫学说在明清时期形成体系的原因。（10 分）

**材料二**

时间	史事
1660 年	用水冲刷的厕所由巴黎传入英国上层人士的家庭

18 世纪末	英国上层开始注意个人卫生，这种习惯逐渐传至欧洲和北美
1842 年	英国人查德威克发表调查报告，认为疾病同不卫生有密切的联系，提出建立干净的自来水系统，保证个人和公共用水卫生，建立地下排污系统，清扫街道等建议
1848 年	英国颁布第一部公共卫生法
1855 至 1875 年	伦敦建设下水道现代化工程并全部完工
19 世纪中期	公共卫生运动在美、法、德等国获得支持，自来水和地下排污系统在欧洲各城市初步形成
1868 年	巴斯德的细菌理论获得证实，促进了公共卫生运动的发展

(2) 归纳近代资本主义国家卫生与健康的成就；并结合所学分析其背景。(14 分)

**材料三** 1933 年，毛泽东指出：“疾病是苏区中一大仇敌……发动广大群众的卫生运动，减

少疾病以至消灭疾病，是每个乡苏维埃的责任”。1941 年，陕甘宁边区成立防疫委员会，开展以

灭蝇、灭鼠，防止鼠疫、霍乱为中心的军民卫生运动。1952 年，毛泽东号召：“动员起来，讲究

卫生，减少疾病，提高健康水平，粉碎敌人的细菌战争”。各地掀起群众性卫生运动的高潮，并成

立各级爱国卫生运动委员会。1978 年后，各项工作逐渐恢复。除了创建卫生城镇，1987 年，中央

爱卫会还倡议讲文明、讲卫生、讲道德，心灵美、行为美、环境美。2015 年，习近平就“厕所革

命”和文明旅游做出批示，要求推动我国旅游业迈上新台阶。

(3) 阅读材料三，对爱国卫生运动进行解读。(12 分)

**【要求：观点鲜明，史论结合，论证充分，逻辑清晰。】**

40. (24 分)

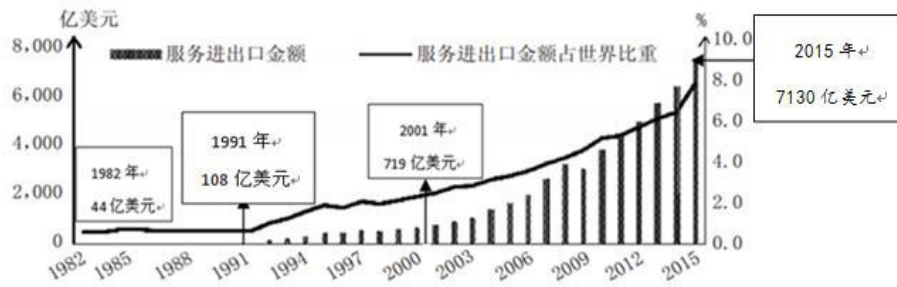
**材料** 16 世纪中期，葡萄牙把中国的生丝、瓷器等货物经澳门运往印度，再转运到欧洲，获

取了大量白银。另一方面，葡萄牙人参与中、日丝银贸易。1586~1630 年从日本输入澳门的白银近 1 500 万两；1557~1644 年流入澳门的白银为 1 亿两左右。这些白银大部分流

入中国。同时，西班牙以武装商船“马尼拉大帆船”经营横跨太平洋的贸易，运载大量中国茶叶、丝绸、棉布和瓷器等到墨西哥交换白银，再将这此白银运回马尼拉。自 1571 年马尼拉大帆船航线开通，平均每年有 150 吨白银运到马尼拉，20 年间共运输白银 3 000 吨，这些白银也基本流入了中国。

(1) 简述 16 世纪白银大量流入中国的背景和影响。(8 分)

41.



1982~2015 年中国服务进出口金额及其占世界比重

(2) 概述材料所反映的中国服务贸易进程的发展阶段及趋势，分析中国服务贸易发展的原因。(8 分)



长按识别关注

北京市朝阳区 2018~2019 学年度第二学期高三年级第一次综合练习

文综历史参考答案 2019、3

一、选择题 (12×4=48)

序号	12	13	14	15	16	17	18	19	20	21	22	23
答案	B	D	C	D	A	D	C	B	A	B	C	C

**二、非选择题（共 3 大题，满分 52 分）**

**37.（36 分）**

（1）历程：汉代至隋代，瘟病学说以内科理论为基础；宋元以来，瘟病与伤寒从论症和治法

等方面区分开来；明清时期，瘟病学说逐渐形成体系。（6 分）

原因：战争频发、气候异常；新型传染病增多；疫病大规模爆发；医学家的深入研究。（4 分）

（2）成就：从关注个人卫生到重视公共卫生；对卫生与健康的重视，从上层社会发展到普通民众，从英国扩展到欧美；认识到疾病同不卫生联系密切，实施公共卫生立法；开展公共卫生运动，

初步形成城市自来水和地下排污系统。（8 分）

背景：工业革命促进技术进步；城市化进程加快，民众的卫生健康意识增强；社会调查的深入，

民主政治的推动；微生物科学研究的发展。（6 分）

**（3）评分标准：**

分值	要 求
10~12	结合材料和史实进行阐述，史料与论述内在联系紧密；论述合理，分析深入，结构完整，逻辑严密
7~9	结合史料与史实较充分，论述较合理，分析较深入，结构完整，逻辑清楚
4~6	史料运用不充分，或有史实错误、与论述联系不严谨，论述欠合理，结构不完整，或逻辑不太清晰
0~3	运用史料不充分，史实存在较多错误；论述结构不完整，逻辑混乱

**答案示例：**

中国共产党历来重视群众卫生与健康工作。在民主革命时期，中共组织根据地军民开展群众卫

生运动，成立专门机构，重视和推进军民卫生运动，把卫生防病工作当成关系到革命成败的大事来

抓。建国初期，为粉碎细菌战，普遍开展群众性卫生运动，巩固了新生政权，改善了卫生状况。改

革开放以来，爱国卫生运动恢复发展，并延伸到城市环境治理，成为社会主义精神文明建设和推动



经济社会发展的重要环节。

爱国卫生运动的发展，见证了中国共产党领导中国革命和社会主义建设的历程，体现了坚持群

众路线的优良传统，推动了生态文明建设。（12 分）

40. (8 分)

(1) 背景：明朝中期，农耕经济高度发展，手工业发达，茶叶、丝绸、瓷器等大量出口；商品货币经济活跃，市镇商业繁荣，白银在流通中广泛使用；葡萄牙、西班牙开辟了美洲对中国、印度、日本等地的跨太平洋贸易航线。（6 分，如答出张居正“一条鞭法”改革可同等给分）

影响：形成了围绕白银输入中国的贸易网络，促进了中国经济发展；推动了世界贸易的发展，加强了中国与世界的联系。（2 分，言之有理即可）

41. (10 分)

(2) 阶段：中国服务贸易进程大致可以划分三个阶段：1982 年至 1991 年为第一阶段，服务贸易开始起步；1992 年至 2000 年为第二阶段，服务贸易稳步持续增长；2001 年至今为第三阶段，服务贸易增长迅速。（4 分）

原因：改革开放，从计划经济转向市场经济；积极参与全球化进程，对外开放不断深化。（4 分）

北京市朝阳区高三年级第一次综合练习  
文科综合能力测试

2019. 3

(考试时间 150 分钟 满分 300 分)  
第一部分 (选择题, 满分 140 分)

本部分共 35 小题，每小题 4 分，共 140 分。在每小题列出的四个选项中，选出最符合题目要求的一项。

科幻电影《流浪地球》讲述了一个未来故事：太阳急速老化，人类选择距地球 4.2 光年的比邻星系作为新家园。人类带地球逃离太阳系期间，暂居在距地面 5 千米的地下城，并计划借助木星的引力弹弓获得动力逃离太阳系。据此，回答第 1 题。

1. 有关《流浪地球》的讨论合理的是

- A. 木星是类地行星，由岩石组成
- B. 地下城位于地球圈层的地壳部分
- C. 流浪地球的新家园在河外星系
- D. 太阳活动为地球提供光、热资源

2018 年 10 月 9 日，“金牛座”龙门铣机床（总重量约 200 吨）历经 45 天从德国抵达上海参展。该机床加工的零部件精度可控制在 4 微米，适应于汽车、航天航空等领域。读图 1，回答第 2~4 题。

2. “金牛座”龙门铣从德国出发抵达上海期间
- A. 北极圈内的极昼范围不断扩大
  - B. 正值我国华北地区小麦成熟期
  - C. 德国柏林日落西南
  - D. 北京白昼逐渐变短
3. “金牛座”龙门铣机床销售的目标企业
- A. 生产规模小，产品精度高
  - B. 大批量、标准化生产单一零部件
  - C. 加工零部件的配套技术水平较高
  - D. 分布在地广人稀、矿产资源充足的地区
4. 德国
- A. 西临大西洋，地势南高北低
  - B. 河流众多，内河航运发达
  - C. 年降水量从东向西逐渐减少
  - D. 山区面积广，水土流失严重

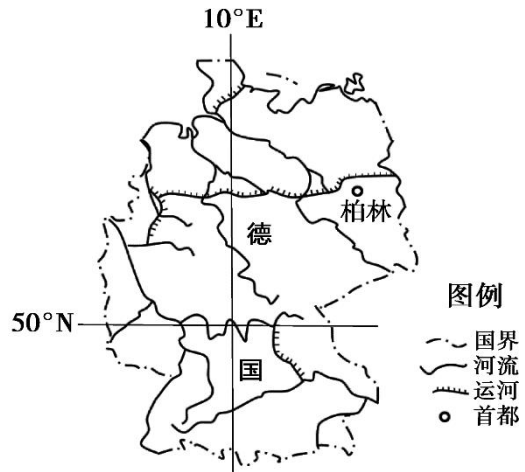


图 1

2019 年 1 月，“超级寒潮”席卷了美国东、西部，专家指出这与极涡（盘踞在极地的高空气旋性大型涡旋）的波动有关。图 2 为极涡示意图。读图 2，回答第 5、6 题。

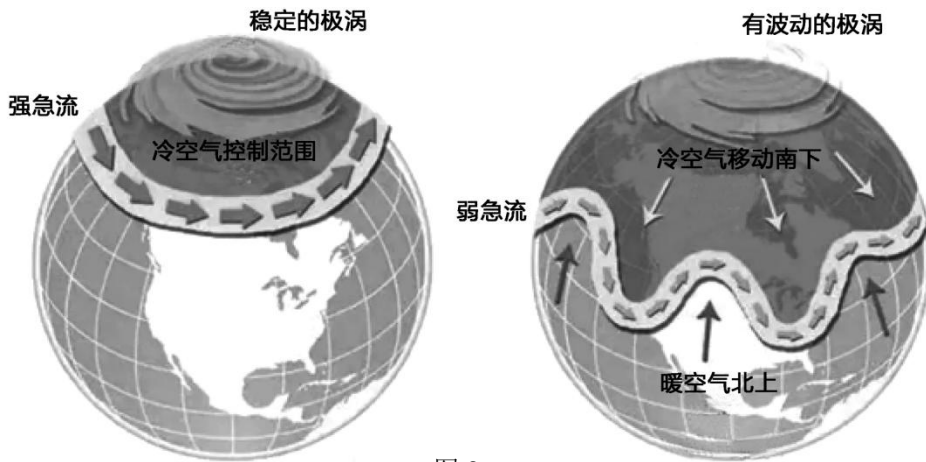


图 2

5. 图中极涡
- A. 气流由中心向四周辐散
  - B. 决定了寒带的范围
  - C. 中心气压为冷性低气压
  - D. 为近地面带来大量水汽
6. 此次美国东、西部遭遇“超级寒潮”的原因有
- ①美国地处中、高纬度地区，为冷气团的发源地
  - ②美国东、西部海拔高，冷空气势力强，向南扩展速度快
  - ③极涡不稳定，冷空气向南移动
  - ④北美洲地形利于暖空气从中部北上，挤压极地冷空气从两侧南下
- A. ①②                      B. ①③                      C. ②③                      D. ③④



读图 3，回答第 7、8 题。

7. 与②地相比，①地气温较高的原因是
- 纬度低，获得的太阳辐射多
  - 地处盆地，海拔低，热量不易扩散
  - 沿岸暖流流经，对气候有增温作用
  - 终年受副高控制，晴天多，光照强
8. 某登山爱好者从③地山麓向上攀登，依次看到的植被类型是
- 热带雨林-常绿阔叶林-落叶阔叶林-高山灌丛
  - 热带雨林-热带草原-常绿阔叶林-热带荒漠
  - 热带草原-热带荒漠-常绿硬叶林-高山灌丛
  - 热带草原-落叶阔叶林-常绿硬叶林-高山草甸

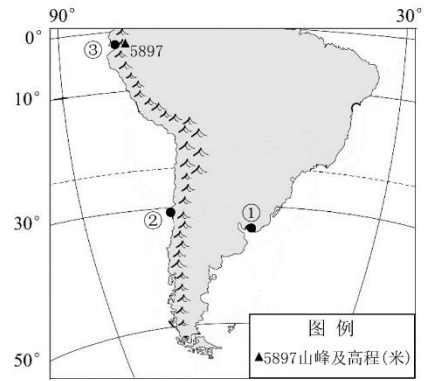


图 3

图 4 为我国某地的地质剖面示意图。读图 4，回答第 9 题。

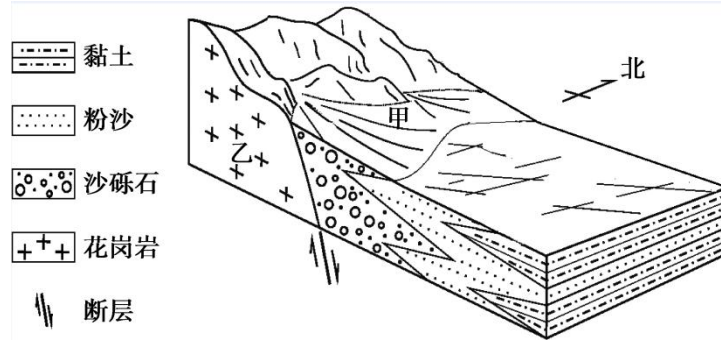


图 4

9. 图中
- 花岗岩形成于断层发生之后
  - 甲处地表形态主要由内力作用塑造
  - 乙处的物质主要来源于地壳
  - 自西向东地表沉积物颗粒逐渐变小

湾区经济是一种重要的滨海经济形态。读图 5 和图 6，回答第 10、11 题。

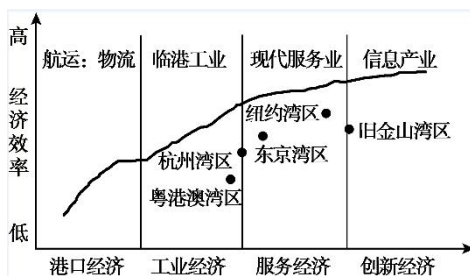


图 5 湾区经济发展阶段

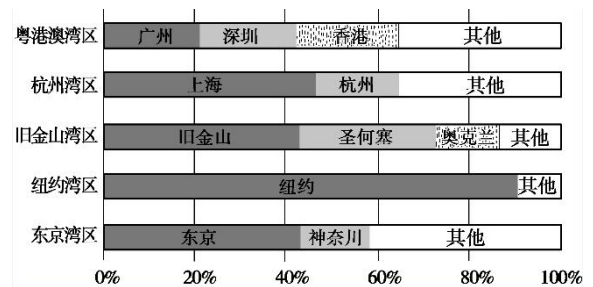


图 6 五大湾区主要城市的经济贡献

10. 五大湾区
- 各主要城市均衡发展，分工明确
  - 主导产业为高技术、高附加值的优势产业
  - 以天然港口为发展基础，始终以海运为主要对外联系方式

D. 依托核心城市发达的交通和对外交往能力，带动区域发展

11. 与旧金山湾区相比

- A. 东京湾区经济效率更高
- B. 粤港澳湾区制造业比重更大
- C. 纽约湾区信息产业更发达
- D. 杭州湾区经济发展起步更早

第二部分（非选择题 共 160 分）

36. (36 分) 读图文资料，回答下列问题。

长江是我国第一大河，长江干线航道上起云南水富港，下至长江入海口，全长 2838 千米。2016 年《长江经济带发展规划纲要》确立了长江经济带以长江水道为依托，发挥上海、武汉、重庆的核心作用。图 9 为长江流域示意图，2003 年 6 月 1 日，三峡工程正式下闸蓄水。图 10 为 2003 年长江宜宾（屏山）水文站与武汉（汉口）水文站径流量与输沙量统计图。

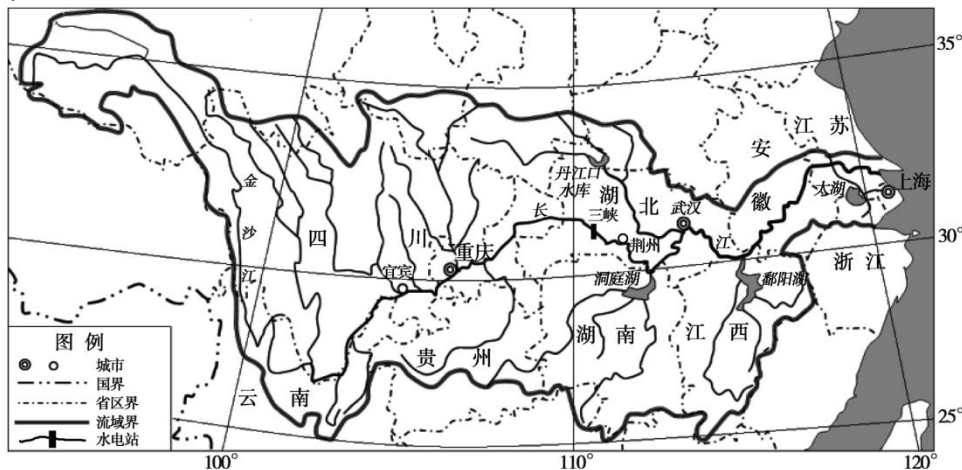


图 9

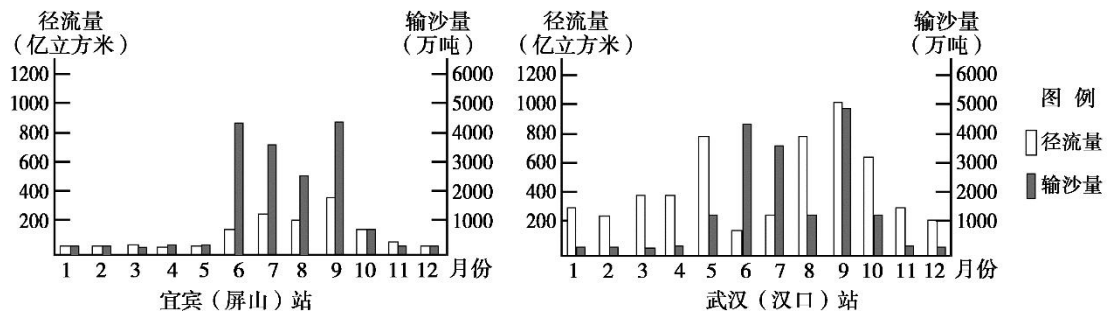


图 10

Q 值指径流量与输沙量的比值，常用以研究二者的关系。

(1) 说出长江武汉站相比宜宾站年径流量、年输沙量及 Q 值的特点，并简析其主要原因。(8 分)

(2) 说明长江经济带以长江水道为依托的原因。(10 分)

在“共抓大保护，不搞大开发”的指导思想下，长江沿岸的湖北荆州着重发展了文化旅游、电子/电气系统、信息安全系统等产业，推广稻田养鱼和稻田养虾。

(3) 说出荆州当前第一、二、三产业发展的主要方向，简述其对区域发展的影响。(10分)

世界上第一个以“进口”为主题的国家级展会——首届中国国际进口博览会，于2018年11月5日至10日在上海举行。

(4) 阐述上海作为国际进口博览会举办地的优势条件。(8分)

40. 印度是海上丝绸之路的重要国家，其水稻种植历史悠久。水稻好暖喜湿，对土壤要求不严。稻谷发芽最低温度 $10^{\circ}\text{C}\sim 12^{\circ}\text{C}$ ，最适宜温度 $28^{\circ}\text{C}\sim 32^{\circ}\text{C}$ 。如果三天以上平均气温低于 $12^{\circ}\text{C}$ 会出现烂秧、死苗。图11为印度水稻种植分布图及甲地气候资料。

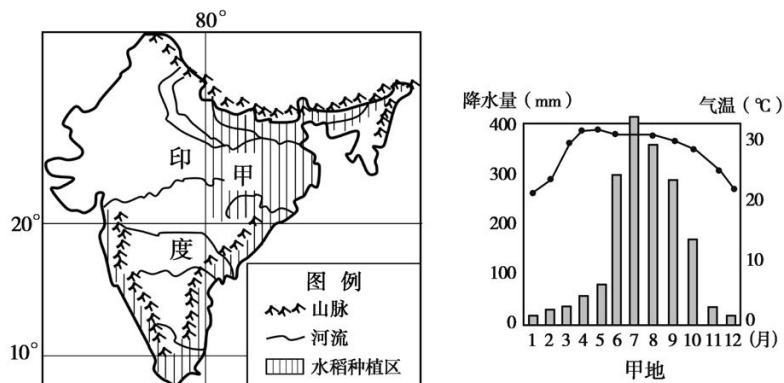


图 11

(2) 指出印度水稻的种植分布区，评价甲地种植水稻的自然条件。(10分)

41. 改革开放以来，贵州省旅游业快速发展。图12为某旅行社推荐的两条贵州旅游线路（总报价约3500元，行程共5~6天）。

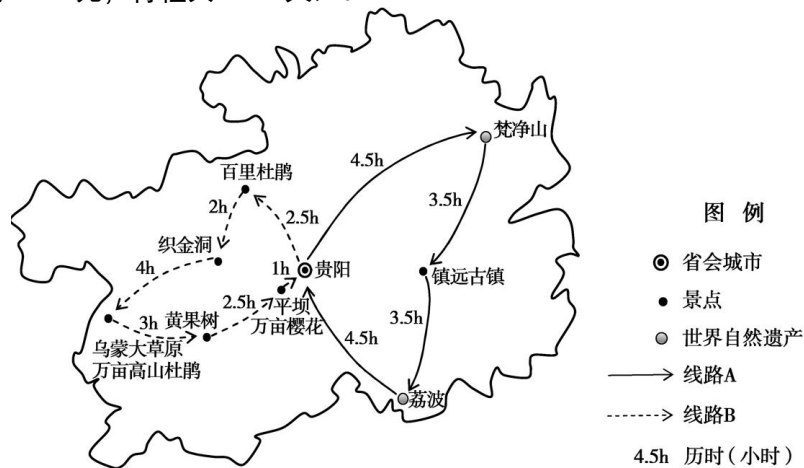


图 12

(1) 在A、B线路中任选其一，评价该旅游线路。(10分)

一、选择题

1	2	3	4	5	6	7	8	9	10	11
B	D	C	B	C	D	C	A	D	D	B

二、综合题

36. (36分)

(1) (8分)

与宜宾站相比，武汉站年径流量大，年输沙量大；(2分)因为承接较多支流和上游的径流和泥沙。(2分)多数月份武汉站Q值较大，因为武汉至宜宾段相比宜宾上游地形起伏小，植被覆盖好，(2分)6月(或7月)Q值较小，因为三峡水库蓄水。(2分)

(2) (10分)

长江干线航道长，呈东西向，有利促进东、中、西部经济联系；(3分)支流航道多，南北对称，联系地区广；(2分)长江(及支流)流量大，江宽水深，通航能力强；(3分)水能和水资源丰富，沿线城市密集。(2分)

(3) (10分)

方向：以文化旅游等服务业、高技术产业、生态农业为主。(3分)

意义：实现产业升级，提升经济效益；(2分)降低环境污染，改善城市及长江生态环境；(3分)增加就业，提高居民收入。(2分)

(4) (8分)

位于我国东部沿海，地理位置优越；(2分)地区开放程度高，对外联系紧密；(2分)交通便利，便于国内外商务人员集散；(2分)上海市经济发展水平较高，餐饮住宿和会展等基础设施好，便于商务人员活动。(2分)

40.

(2) (10分)

印度东北部及沿海平原。(2分)

热量充足，雨热同期，利于水稻生长；(2分)靠近河流，灌溉水源充足；(2分)地形平坦，便于耕作；(2分)旱灾、洪涝等气象灾害对水稻生长不利。(2分)

41.

(1) (10分)

从旅游资源价值、旅游时间、线路设计、旅游主题等方面进行评价，合理即可得分。

2019 北京朝阳高三一模

政 治

24. 某市试点推进“共生院”模式以解决宜居和发展问题。“共生院”包含新老建筑共生、新老居民共生和文化共生。对老建筑进行保护性修缮后，利用腾退空间完善基本生活配套设施，引入新居民或者游客居住，实现对传统文化的传承。对该模式认识正确的有

①“共生院”模式体现了对传统文化的创造性转化②新老建筑共生有利于创造美好的生活场景

③吸引游客实现经济价值是文化发展的目的④新老居民间的交流沟通是文化创新的源泉

- A. ①②                      B. ①③                      C. ②④                      D. ③④

25. 2019年春节，联合国总部首度举办中国新年音乐会，全球多个大都市地标建筑都点亮“中国红”，多

国政要纷纷向中国人民和当地华人华侨送上农历新年祝福。四海同春的盛况不再仅限于华人圈、唐人



街，春节的喜庆与红火逐渐为多国人民所接受。这说明

①中华文化深度契合当代世界文化发展的需求②中国特色的春节文化得到了更广泛的关注

③保持春节的喜庆与红火需要面向世界、博采众长④春节文化走出去彰显了中国文化的软实力

A. ①② B. ①③ C. ②④ D. ③④

26. 精卫填海、愚公移山、端奔月等古代神话，深刻反映了中国人民勇于追求梦想的执着精神。如今，神舟、天宫、天眼、悟空、墨子等重大空间科技成果的相继问世，体现着中华民族伟大梦想的逐步实现。下列分析正确的是

A. 神话故事是在改变世界的强烈愿望中产生的 B. 坚定的理想信念能够推动人类实践活动发展

C. 征服自然的理念为社会发展提供了智力支持 D. 有了伟大的梦想就能克服前进道路上的困难

27. 王守仁十岁时，与中了状元的父亲赴京，路经金山寺时写下了这首《蔽月山房》：“山近月远觉月小，便道此山大于月。若人有眼大如天，当见山高月更阔。”这首诗给我们的哲学启示有

①要能够运用抽象思维发现真理中的谬误②要学会用相对的角度去观察、去体验事物

③不同的人对同一事物的认识必然会有所不同④要善于摆脱思维定势的束缚去求得事物之真相

A. ①② B. ①③ C. ②④ D. ③④

28.

中国画有一种美，叫留白

“留白”会让城市更美好

下列分析正确的有

①“留白”蕴含着矛盾双方既对立又统一的关系

②留白的方法能

够使部分功能之和大于整体功能

③城市规划实施战略留白是运用辩证思维的体现

④书画创作与城市建设的留白都体现出共性中包含个性

A. ①③ B. ①④ C. ②③ D. ②④



29. “让市民成为公民、让我成为我们，让孤岛连成大陆”。定位于城市公民与公共政策对话的节目—《向前一步》在北京卫视开播。节目选题来源于生活中亟待解决的热点、难点问题，通过构建多方交流的平台，由城市规划专家、人民调解员、心理专家、法律专家等组成调解团，让其用专业知识化解分歧、凝聚共识。以《向前一步》为平台的沟通

①是推进依法治国，建设社会主义法治政府的必然要求

②增强了舆论监督效力，保障了公民的基本民主权利

③是推进协商民主的生动实践，有助于化解利益矛盾

④有利于实现有序的公共参与，提高公民的自身素养

A. ①② B. 任冶 C. ②④ D. ③④

30. 2019年伊始，一个内容权威、内涵丰富、特色鲜明的理论学习平台—“学习强国”正式上线。“学习强国”打造出一个党员干部干事创业的理论宝库、强魄铸魂的精神家园。

“学习强国”平台的建立

①是新形势下强化理论武装和思想教育的创新探索

②是新时期加强党的制度建设推进管党治党的重要举措

③有利于党员增进理论修养、提高思想觉悟、涵养理想信念

④能够保证党员运用正确认识指导实践取得伟大事业的成功

A. ①② B. ①③ C. ②④ D. ③④



31. “三步走”战略支持中国某企业创出了世界名牌。先“走出去”，用缝隙产品打开发达国家市场；再“走进去”，用主流产品进入当地销售渠道；最后“走上去”，产品得到所在国人民的认可和尊重，成为当地消费者喜爱的产品。下列分析正确的有

①实施差异化战略有助于企业“走出去” ②“走出去”应该成为每家民族企业的经营目标

③打开当地销售渠道决定着产品全球化的进程 ④企业真正“走上去”需要加强品牌的文化建设

- A. ①②                      B. ①④                      C. ②③                      D. ③④

32. 如下表所示，现在很多视频网站推行会员制，想看视频往往需要购买一定时长的会员套餐，而会员套餐价格通常会依据时长有所不同。下列分析正确的有

套餐时长 \ 视频网站	甲	乙
单月	18 元/月	20 元/月
连续包月	15 元/月	19 元/月
连续包季	45 元/季	54 元/季
连续包年	178 元/年	198 元/年

①视频网站推行会员制有利于扩大市场占有率 ②视频网站要赢得更多会员必须降低套餐价格

③连续包年相比连续包月的需求价格弹性较大 ④乙视频网站的年销售额将会超过甲视频网站

- A. ①②                      B. ①④                      C. ②③                      D. ②④

2018 年我国经济和社会发展的部分数据




图 8

33. 2018 年，我国在经济社会等多个领域取得了重大成就，决胜全面建成小康社会取得新的重大进展。结合图 8，下列分析正确的是

- A. 为企业和个人减税降费能解决企业融资贵的问题
- B. 国内生产总值不断增加反映了经济结构不断优化
- C. 缩短企业开办时间旨在不断增加民营企业的数量
- D. 我国重视铁路建设有利于实现区域经济协调发展

2019 年 2 月 14 日，英国议会下院投票否决了首相提出的脱欧新方案，该方案要求议会支持政府与欧盟谈判修改“脱欧”协议，英国脱欧继续受阻。

2019 年 2 月 26 日，美国国会众议院通过一项决议，废止总统颁布的南部边境“国家紧急状态”行政令，政府筹集建造边境隔离墙经费的打算再次受阻。

34. 以上英美两国的做法表明

- ①英国议会负责制定内外政策，首相行使最高行政权力
  - ②美国总统必须对国会负责，总统没有解散国会的权力
  - ③英美两国虽然国体相同，但国家的管理形式有所不同
  - ④权力制约利于调节利益关系，但是会产生严重内耗，引发拖延等
- A. ①② B. ①③ C. ②④ D. ③④

35. 马克思主义政治经济学的诞生是人类经济思想史上的一次伟大的革命性变革，它使劳动价值论进一步科学化。下列属于马克思对劳动价值论贡献的是

- A. 任何一件物品的价值，乃是获得它的辛苦和麻烦
- B. 具体劳动形成商品的价值，满足人们的某种需要

- C. 抽象劳动形成商品的价值，价值是凝结在商品中的无差别的人类劳动
- D. 一个人用于交换他物而拥有的某货物，其价值等于使他能购买的劳动量

38. (34分) 近年来，数字经济的新业态、新模式为经济的可持续发展提供着源源不断的新动能。数字经济，是以数据(数字化知识和信息)为关键生产要素，以现代信息网络为重要载体，以信息通信技术的有效使用为重要推动力，促进效率提升和经济结构优化的一系列经济活动，是一种全新的经济业态

- 电子书籍越来越受欢迎，在线阅读等产业受到资本追挤。
- 商家使用智能收银系统，不仅提高了效率，也节省了人力
- 西部某地区采用“互联网+农业”模式解决了销售难题，把当地特色水果行销全国，带动一方致富奔小康。
- 某公司应用大数据技术开发新能源汽车，促进我国能源消费结构的优化。
- 某国有控股企业自主研发新型数控机床，助力中国高铁走出国门。

(1) 阅读材料，运用所学《经济生活》知识，分析数字经济为什么能为经济高质量发展培育新动能。

(12分)

有专家预测，数字经济将是继农业经济、工业经济之后，人类进入的又一个社会经济形态：

历史阶段		生产要素	知识和信息的地位
农业经济时代		土地、劳动	很小
工业经济时代	第一次工业革命	土地、劳动、资本	渗透性要素
	第二次工业命	土地、劳动、资本、企业家才能	“企业家才能”成为独立生产要
数字经济时代		土地、劳动、资本、企业家才能、知识和信息	关键生产要素

数字经济时代，信息技术与实体经济融合发展，产生“叠加效应”和“聚合效应”。数据在经济活动中处于主导地位，作用独特，以有效运用网络信息技术作为提升全要素生产率的驱动力。

(2) 根据材料，运用《生活与哲学》相关知识，谈谈企业应该怎样抓住数字经济带来的新机遇。(10分) 数字经济迅猛发展的今天，我国商业信息安全形势日益严峻。一方面，在电子商务、互联网金融等领域，个别企业和个人为了商业411益，在互联网空间盗取其他企业的商业数据，泄露其他企业商业机密和客户个人信息，给其他企业、个人甚至国家经济利益造成重大损失。另一方面，企业和用户的数据安全防范意识缺乏，技术手段落后，并且与数据安全相关领域的法律法规滞后。

(3) 有人说：促进数字经济健康发展，就是要靠政府。请运用《政治生活》相关知识，谈谈你的看法。(12分)

39. (12分)

【昔日老影院今天藏书楼】

(1) 结合材料，运用《文化生活》相关知识，分析该公共藏书楼的“核心理念”所蕴含的文

2018年4月，历经4年多改造，拥有70多年历史的红楼影院变身为一座公共藏书楼。

该藏书楼集私人藏书楼、公共图书馆、实体书店于一体，以“众藏、共阅、分享”为核心理念：藏书全部来源于社会公众，包括已故的知名专家学者的全部或大部分藏书、作者本人著述及藏书、机构精品藏书、个人有价值的藏书等；藏书楼面向社会开放，无论新书、旧书，都可以在藏书楼内免费阅览、借阅，或者购买；每个人的藏书都是其人生见闻、知识体系的凝结，图书的藏家、作者通过读者阅读来分享自己的人生经历、思想感悟。

藏书楼还可以为各类读书会、讲座、研讨、报告、新书发布、阅读沙龙等阅读推广活动提供免费场地。

化价值。(8分)

(2) “一个城市的市民，如果把文化当“日子，过，而不是当“节，过，那么，这个城市就可以称为文化之都”。立足北京实际、结合生活体验，请你为建设“文化之都”提两条具体建议。(4分)

41. (3) 阅读材料，从哲学角度阐述，该先锋人物的事迹对我们实现人生价值、担当民族复兴大任的启示。(6分)

政治试题答案

第一部分 (选择题 共 48 分)

题号	24	25	26	27	28	29	30	31	32	33	34	35
答案	A	C	B	C	A	D	B	B	A	D	D	C

第二部分 (非选择题 共 52 分)

38. (34 分)

(1) (12 分)

数字经济改变人们的消费对象和方式,提升消费水平,形成新需求,带动相关新产业新业态发展;

数字经济有助于降低企业成本,增强创新能力,提升经济效益,更好地走出去,发展更高层次的开放型经济;

数字经济有助于提供数据资源等关键生产要素,推动经济结构的优化升级,推动西部大开发和乡村振兴战略的落实;

数字经济有助于降低资源消耗,保护环境,实现经济绿色、可持续高质量发展。

(其他角度作答,言之成理,酌情给分)

(2) (10 分)

能针对问题,从系统优化、抓重点、具体问题具体分析、发展创新等角度作答。

等级水平	等级描述
水平 4	观点鲜明,能明确表达自己的见解;紧扣问题,全面展开论述,或就某点深入分析;知识运用准确、贴切;逻辑严密,条理清晰
水平 3	观点比较明确,能表达自己的见解;能扣住问题,或就某点分析;知识运用比较准确、贴切;逻辑较强,有条理
水平 2	观点不明确;论述不能集中指向问题,罗列知识;知识运用不正确;论述缺乏逻辑,条理性差
水平 1	应答与试题无关;或重复试题内容;或没有应答

(3) (12 分)

促进数字经济健康发展,需要政府提供智能、高效的管理与服务,营造良好的政策和制度环境;

促进数字经济健康发展,还需要中国共产党发挥总揽全局、协调各方的领导核心作用,制定大政方针,解决信息安全问题;

促进数字经济健康发展,需要人大加强法治建设,创造良好的法治环境;

促进数字经济健康发展,需要公民、企业等主体遵守相关法律法规,坚持权利与义务相统一,依法维护自身权益的同时,保护其他企业、公民的利益与安全;需要公民增强主人翁意识,参与民主监督和民主立法,积极建言献策。

(其他角度作答,言之成理,酌情给分)

39. (12 分)

(1) “众藏”传承了中国传统的藏书文化,有利于优秀文化典籍、藏书的保存和传承,让文化资源焕发新的活力。

“共阅”有利于推动全民阅读,让优秀文化滋养身心、涵养精神文化,提高国民的科学文化素养。

“分享”有利于中华优秀传统文化的交流和传播,弘扬民族精神,形成良好的社会氛围。

总之,公共藏书楼提升了公共文化服务水平,有利于打造书香社会,增强文化自信和自信。(8 分)

(2) (不限模块,不限角度,但两个角度不可雷同) (4 分)

示例:①改造北京街区时,既要保护好历史文化风貌,又要满足人们的新的文化需求。

②加大对北京文化惠民工程的财政投入,增加休闲文化场所。

41. (3) (6 分)

热爱祖国,积极投身为人们服务的实践,在劳动和奉献中创造价值,勇担大任。

充分利用社会提供的客观条件，把自己的价值选择和理想追求与国家民族的命运和人类的幸福结合在一起，在个人与社会的统一中实现价值，为民族谋复兴。

充分发挥主观能动性，坚定理想信念，努力发展自己的才能，全面提高个人素质，顽强拼搏、自强不息，在战胜挫折中增强能力和信心，做时代新人。

(其他角度作答，言之成理，酌情给分)



长按识别关注