

2019年门头沟区高三一模文综试题

第一部分 选择题

北京时间 2018 年 12 月 8 日 2 点 23 分嫦娥四号探测器发射升空，2019 年 1 月 3 日 10 点 26 分成功着陆在月球背面。读图 1，回答 1~2 题。



图 1

- 嫦娥四号探测器发射升空到着陆月球期间，北京
 - 经历了农历的冬至节气
 - 日出时间逐渐推迟
 - 正午太阳高度逐渐减小
 - 昼长先变长再变短
- 图中四城市
 - 地处板块生长边界
 - 人口增长模式不同
 - 位于北半球中纬度
 - 自转的线速度相同

澳大利亚艾尔斯岩石是世界最大的整体岩石，其主要成分是砾岩、砂岩等。图 2 为澳大利亚艾尔斯岩石景观图，图 3 为岩石圈物质循环示意图，读图回答 3~4 题。



图 2

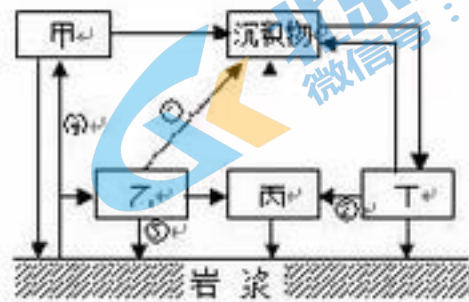


图 3

- 艾尔斯巨岩的主要岩石类型是图 3 中的
 - 甲
 - 乙
 - 丙
 - 丁
- 艾尔斯岩石顶部圆滑光亮，四周陡崖上形成了一些自上而下、宽窄不一的沟槽、浅坑，其形成的主要地质作用是
 - ①
 - ②
 - ③
 - ④

读图 4 “以北极为中心的某区域某月等压线图（单位：百帕）”，回答 5~6 题。

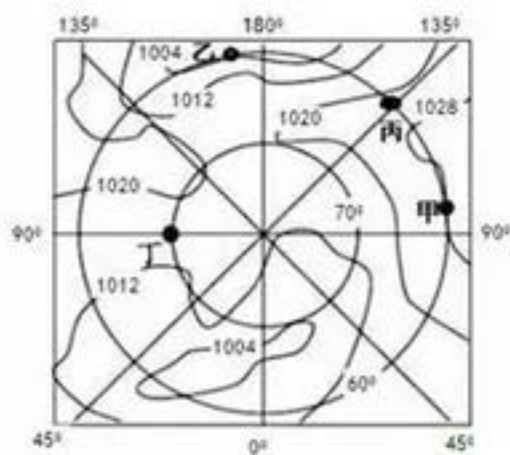


图4

5. 此时甲地的风向是
 A. 东南风 B. 西南风 C. 东北风 D. 西北风
6. 图中
 A. 甲地进入极夜 B. 乙地气压最低
 C. 丙地日出东南 D. 丁地速度最快

读图5“我国某城市改革开放40年来建成区变化示意图”，回答7~8题。



图5

7. 促进该城市建成区变化的主要动力是
 A. 社会经济发展 B. 城郊农业发展 C. 人口自然增长 D. 建筑工业发展
8. 建成区面积变化对该市自然环境产生的影响是
 A. 地价房租上涨 B. 热岛效应加剧 C. 绿地面积增加 D. 雨水下渗增多

京张高铁是2022年北京冬奥会交通配套工程之一。该铁路建成通车后，从北京到河北省张家口由原来的3个多小时缩短到1小时以内，沿线的八达岭长城站是世界上第一个埋藏深度超过100米的高铁地下车站。回答9~10题。

9. 八达岭长城站埋藏深度大的原因是
 A. 保持温度恒定 B. 节约建设用地 C. 避免雨水渗漏 D. 减轻地面震动
10. 京张高铁的修建有利于
 A. 解决货运紧张问题 B. 促进京津冀一体化
 C. 劳动力向西部转移 D. 加快沿线矿产开发

读图6“天山自然带垂直带谱示意图”，回答第11题。

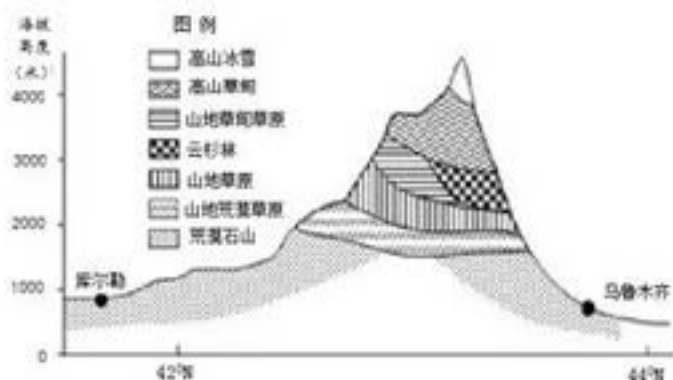


图 6

11. 与北坡比, 南坡

- A. 为阴坡, 背风坡
- B. 雪线较低
- C. 缺失针叶林带
- D. 带谱丰富

12. 许多经济现象出现在特定的历史时期。下列经济现象出现在图 7 所示时期的是

- A. 铁犁牛耕在农业领域中逐步推广
- B. “丝绸之路”沟通了东西方贸易
- C. 已经开始出现世界上最早的纸币
- D. 区域间的长途贩运成为经济特点



图 7

13. 《洛阳伽蓝记》成书于 6 世纪初, 书中对北魏洛阳城的佛寺及与之有关的名人轶事、奇谈异闻都有详细记载。其中说道: “自晋宋以来, 号称洛阳为荒土, 此中谓长江以北, 尽是夷狄。昨至洛阳, 衣冠士族并在中原, 礼义富盛, 人物殷阜。” 这主要反映了

- A. 魏晋时期战乱没有波及到洛阳城
- B. 北朝经济繁荣吸引南方士族北迁
- C. 北魏学习汉文化促进了社会繁荣
- D. 国家统一促进了北魏经济的发展

14. 有学者指出: 900 多年之前, 中国即企图以金融管制的办法操纵国事, 其范围与深度不曾在当日世界里任何其他地方提出。梁启超更是指出, 在这个“金融管制的办法”中, 其中的一些办法“如同近代‘文明国家’的银行”。这里所说如同银行的办法有

- A. 青苗法 方田均税法
- B. 均输法 市易法
- C. 青苗法 市易法
- D. 免役法 均输法

15. 明太祖朱元璋废丞相, 大权独揽, 后设置大学士负责协理奏章和充当权力顾问; 明成祖朱棣设内阁, 内阁成员来自翰林院编修等官职, 并不兼任六部职位, 也不得专制九卿; 宣德以后, 皇帝对于下面呈上的意见奏折等, 先给内阁草拟批复内容, 再由皇帝审核是否批准, 票拟制度渐成; 嘉靖以后, 内阁朝位班次均列六部之上; 明神宗万历时期, 首辅张居正改革, 内阁成为政府运转中枢, 权力达到顶峰。下面对于内阁表述正确的是

- A. 内阁权力自从形成后就权倾朝野
- B. 内阁拟定批答文字影响皇帝决策
- C. 内阁使得国家机器过分依赖皇帝
- D. 明废丞相设内阁使皇权受到削弱

16. 某学校历史研学小组在研学过程中搜集到的相关历史资料有：总理各国事务衙门、奕訢、丁韪良、《星学发轫》、《格物入门》、《万国公法》、《从闭关到开放》、京师大学堂。这个研学小组研究的主题应该是
- A. 中学为体、西学为用的实践与应用
B. 洋务运动中派遣留学生的历史研究
C. 戊戌维新推动西学东渐思潮的发展
D. 从京师同文馆看西学在中国的传播
17. 在历史文件中有这样的表述：“现在中国革命的根本内容是土地革命。”“工人阶级应时刻的准备能领导并参加武装暴动。以乡村农民之胜利为依据，推翻反革命政权，而建立革命平民的民权的城市政府。”“利用秋收时节，有系统的有计划的尽可能的在广大区域中准备农民的总暴动。”结合所学，可知这些文件来自于
- A. 毛泽东《湖南农民运动考察报告》
B. “八七会议”文件《告全党党员书》
C. 《在中共七届二中全会上的报告》
D. 中共“七大”《论联合政府》报告
18. 伟大的中国人民抗日战争，开辟了世界反法西斯战争的东方主战场，为挽救民族危亡、实现民族独立和人民解放，为争取世界和平的伟大事业，作出了彪炳史册的贡献。下列战役与人物对应正确的是
- ①卢沟桥抗战——戴安澜 ②淞沪会战——谢晋元 ③台儿庄战役——李宗仁
④百团大战——彭德怀 ⑤滇缅会战——佟麟阁
- A. ①②④
B. ②③④
C. ①②⑤
D. ③④⑤




图8

19. 图8所示是改革开放新时期重大历史事件时间轴，其中，对空白的三个时间曾经发生的事件解读正确的是
- A. ①实行了不同于其他地区的经济政策和政治制度
B. ②带动了珠江三角洲和整个长江流域经济的发展
C. ③有利于中国经济的快速发展和世界经济的增长
D. 以上三个事件都是城市经济体制改革深化的表现
20. 1600年，意大利著名哲学家、捍卫和发展了太阳中心说的天文学家布鲁诺被教会烧死；1602年，明末思想家李贽在狱中自尽身亡，他们的思想都被称为“异端”。与这些所谓“异端”相对立的思想分别是
- A. 天主教思想和儒家正统思想
B. 加尔文教思想和宋明理学
C. 哥白尼学说和儒家正统思想
D. 启蒙思想和经世致用思想
21. 1609年，他制作了一台能把远处物体放大近千倍、把距离缩短到30分之一的天文望远镜。他首先发现了木星的4个卫星，又发现月球的表面像地球表面一样坑坑洼洼，他又观察了自古以来一直为人类迷惑不解的银河，发现那不过是由大簇大簇的星团联结而成的。这里所说的“他”与下面叙述对应的是
- A. 挑战了神学创世学说，导致宗教改革运动的兴起
B. 开辟了天文学新领域，标志近代自然科学的形成
C. 开创了近代实验科学，提出了研究自然的新方法
D. 扩展了物理学的领域，提供了辩证看世界的途径

22. 斯塔夫里阿诺斯在《全球通史》中说：“克里米亚战争的失败对俄罗斯的民族主义者和斯拉夫派来说是一个严重打击……实际上，这场失败暴露了旧制度的腐败和落后。”下列文件内容与上述历史叙述相关的是
- A. “我要让国家重新恢复尊严……我要让我的国民充满信心，成为世界的楷模。”
B. “他们的目的只有用暴力推翻全部现存的资本主义制度才能达到。”
C. “与其犹豫不决，待邻国开明以共兴亚洲，不如脱离其伍，与西洋文明国家共进退。”
D. “摆脱了农奴制依附关系的农民可以享有农村自由居民的各种权利。”
23. 图 9 所示漫画左上角英文含义是“中美关系简史”，画中牛仔代表美国，龙代表中国。以下对此漫画解读正确的是




图 9

- A. 20 世纪 60 年代中美处于敌对期，朝鲜战争使得中美两国关系僵化
B. 20 世纪 70 年代中美关系正常化，改善关系为中美两国共同的要求
C. 20 世纪 90 年代中美交往加深了，两极格局瓦解之后中美主宰世界
D. 进入 21 世纪中美关系曲折发展，中美由一贯的盟友变为竞争对手
24. 每年的立秋，京西灵水举人村都要举办秋粥文化节。在 2018 年的秋粥文化节上，印有“木影儿拉撒，吃了木介，客气嘛嚯”等斋堂方言的文化衫、折扇，受到游客们的喜爱，成了文化节上的抢手货。把方言变成文创产品

- ①发挥了文化对经济的促进作用 ②使方言成为中华文化的基本载体
③是对传统文化继承中的发展和创新 ④立足社会实践，全面继承传统文化
- A. ①② B. ①③ C. ②④ D. ③④



图 10

25. 2018 年 12 月 18 日，100 名为改革开放作出杰出贡献的同志被党中央国务院授予“改革先锋”称号。宁夏灵武白芨滩自然保护区管理局王有德局长，带领广大职工营造防风固沙林 60 万亩，控制流沙近百万亩，有效地阻止了毛乌素沙漠的南移和西扩，荣获了“改革先锋”称号。王有德的先进事迹给我们的启示是

- A. 要从小事做起，持之以恒，践行社会主义核心价值观
 B. 积极挖掘生活中的真善美，使其成为文化创新的动力
 C. 充分发挥榜样的引领作用，才能追求更高的理想目标
 D. 榜样可以丰富我们的精神世界，满足多样化的文化需求
26. 象棋是中华民族瑰宝，先秦时期已有记载。象棋规则简明易懂，内涵博大精深。人们在下象棋的过程中总结了许多经验性的富有哲理的棋谚：“彼强击帅，我弱求和”、“兵贵神速，抢先入局”、“棋忌只看一角”。这些象棋谚语给我们的哲学启示是
- ①学会运用综合的分析方法 ②胜败在速度，还要看局部
 ③掌握全局，善于抓住时机 ④斗争性是事物发展的动力
- A. ①② B. ①③ C. ②④ D. ③④
27. 看图 11，与漫画《改变工作方式》体现的哲理相近的选项是



图 11

- A. 工欲善其事，必先利其器 B. 寄言持重者，微物莫全轻
 C. 黄金无足色，白璧有微瑕 D. 庖丁擅解牛，事半功倍
28. 2019 年 1 月 3 日上午 10 点 26 分，“嫦娥四号”探测器成功着陆在月球背面东经 177.6 度、南纬 45.5 度附近的预选着陆区，并通过“鹊桥”中继星传回了世界第一张近距离拍摄的月背影像图，揭开了古老月背的神秘面纱。这表明
- A. 人类在实践中改进了认识工具，增强了认识世界的能力
 B. 科学研究对未知世界的探索使得人类的认识无限接近真理
 C. 充分发挥主观能动性可以获取事物的本质和规律
 D. 在认识规律的基础上进一步改造规律为人类服务
29. 4G 改变了我们的生活，5G 即将为我们开启一个全新的智能时代。业内专家指出，5G 将赋能无人驾驶、物联网、工业互联网等，推动众多行业数字化转型。可以说，3G、4G 都是人与人之间的连接，而 5G 将实现人与物的连接、物与物的连接。这启示我们
- A. 要立足人类需要，坚持联系和发展的观点
 B. 重视科学技术，推动人类思维方式的变革
 C. 要坚持创新，勇于创新，在创新中求发展
 D. 生产力水平的提高会引起生产关系的变革
30. 供给弹性表示某一商品的供给量对其本身价格变动的反应程度，公式为： $E_s=Q/P$ ， E_s 是供给弹性系数， Q 是供给量变动的百分比， P 是价格变动的百分比，其计算结果主要有： $E_s>1$ （表示供给富于弹性）， $E_s<1$ （表示供给缺乏弹性）， $E_s=0$ （表示供给完全无弹性）。下列商品与此结果对应排序一致的是
- A. 普通自行车 国产汽车 齐白石的画
 B. 羊肉产品 齐白石的画 普通自行车

- C. 齐白石的画 羊肉产品 国产汽车
D. 国产汽车 普通自行车 羊肉产品

31. 2018年11月,习近平总书记民营企业座谈会上指出:“40年来我国民营经济不断发展壮大,……民营经济贡献了50%以上的税收,60%以上的国内生产总值,70%以上的技术创新成果,80%以上的城镇劳动就业,90%以上的企业数量,……我国经济发展能够创造中国奇迹,民营经济功不可没!”可见民营经济

- ①已经成为国民经济的主体和基础
②是我国社会主义市场经济的支柱
③是促进我国生产力发展的重要力量
④必须毫不动摇地鼓励、支持和引导

- A. ①② B. ①③ C. ②④ D. ③④

32. 根据《中华人民共和国国歌法》,在公共场合故意篡改国歌歌词、曲谱,以歪曲、贬损方式奏唱国歌,或者以其他方式侮辱国歌的,由公安机关处以警告或者十五日以下拘留;构成犯罪的,依法追究刑事责任。2018年10月7日晚,某直播平台女主播“莉哥”杨某,在网络直播时,公然篡改国歌曲谱,以嬉皮笑脸的方式表现国歌内容,引起了全体网友的强烈抗议,上海市公安局静安分局依法对杨某处以行政拘留5日。材料表明

- ①尊重宪法和法律是我国公民必须履行的政治义务
②对公民而言,享有政治权利比履行政治义务重要
③公民要有法治底线,网络空间同样不能触犯法律
④维护国歌尊严是每一个公民应遵守的根本行为准则

- A. ①② B. ①③ C. ②④ D. ③④

33. 2018年北京市推行“一网通办”改革,借助互联网、大数据等技术,努力解决企业群众办事慢、繁、渠道单一等问题,使企业群众只进一次门,就完成所办事项。目前,市区两级政务服务事项网上可办率已经达到90%以上。这一举措有利于

- ①便民利民,提高政府工作效率 ②优化了政府放管服,打造服务型政府
③政府真正依法行政,杜绝腐败 ④扩大企业群众基本权利,推进民主决策

- A. ①② B. ①③ C. ②④ D. ③④

34. 网络主权,就是一国国家主权在网络空间中的自然延伸和表现。对内,网络主权指的是国家独立自主地发展、监督、管理本国互联网事务;对外,网络主权指的是防止本国互联网受到外部入侵和攻击。当前,互联网的发展给世界各国主权、安全、发展利益带来许多新挑战,构建网络空间命运共同体日益成为国际社会的广泛共识。维护国家网络主权

- A. 要平等互信、包容互鉴,兼顾他国合理关切
B. 要发挥我国在全球互联网治理中的主导作用
C. 可以将传统的国家关系变成基于网络的全新关系
D. 是维护国家主权独立和捍卫国家利益的重要内容

35. 美国总统特朗普一直致力于修建美墨边境墙,希望以此来阻挡前来美国的非法移民。但边境墙的修建需要超过200亿美元的投资,截止到目前,美国国会仅批准了16亿美元的资金用于维修边境栅栏。如果没有国会对此笔资金预算的批准,这道边境墙的修建很难实现。以上材料表明

- ①国会在美国政治生活中居于主导地位 ②美国政体是按照三权分立原则运行的
③美国总统的权力受到国会的制约 ④总统与国会维护的是不同阶级的利益

- A. ①③ B. ①④ C. ②③ D. ②④

第二部分 非选择题 (共 160 分)

36. (36分)读图,回答下列问题。

2018年11月15日,国家主席习近平乘专机抵达莫尔兹比港,开始对巴布亚新几内亚进行国事访问。读图12“巴布亚新几内亚示意图”、图13“巴布亚新几内亚地形图”,回答下列问题。



图12

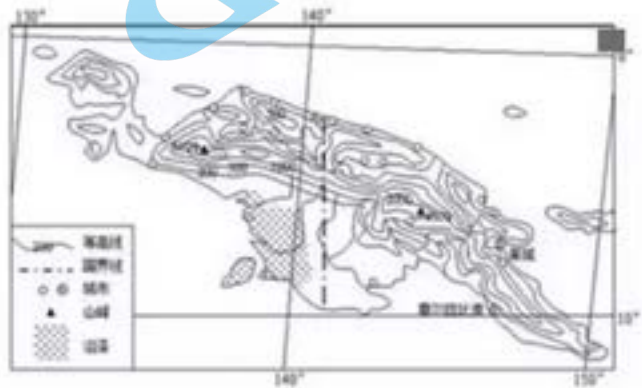


图13

(1) 简述巴布亚新几内亚的地理位置特征。(6分)

新几内亚岛是仅次于格陵兰的世界第二大岛,连绵不断的中央山脉斜贯全岛,分布有许多死火山。火山活动能将地幔深处的矿物质带到地表。铜是岛上的主要矿产资源,储量丰富,此外还有富铁矿、铬、镍等矿产资源。

(2) 分析新几内亚岛铜矿等金属矿产资源丰富的原因,并说明矿产资源的开发对当地地理环境的影响。(10分)

表一 某城的气候资料表(气温单位:℃,降水单位:mm)

月份	1	2	3	4	5	6	7	8	9	10	11	12
气温	27.4	27.5	27.3	26.6	26.2	25.4	24.8	24.9	25.4	26.2	26.7	27.1
降水	252	243	330	420	387	414	538	542	415	320	326	351

(3) 描述某城气候特征并分析成因。(12分)

菌草是可作为栽培食、药用菌培养基的草本植物,菌草种菇管理简便,脱贫见效快,我国把菌草技术列为援助巴布亚新几内亚项目,使菌草生产扩展到该国的三省十区,种出的菌草产品畅销巴布亚新几内亚的莫尔兹比港、莱城、哈根等地。

(4) 评价巴布亚新几内亚种植菌草的社会经济条件(8分)

材料一 中国的行会约始于唐，当时在市中按行业组织成行，有行头管理，负责向政府纳税……行户之间相互帮助，行头代表本行利益，有事与官府交涉。工商业者要按行向官府供应百货，官府上下勒索，各行苦不堪言。宋代的行会也是一种垄断性的组织，如不是本行中人，即不得在当地营业。为了防止本行内部的竞争，行会评定物价，规定了行户不得离开这一规定而“违众独减”。唐宋时期的行会大体上已是工商业者的独立组织，其组织的目的一方面在于保护本行业的利益，同时也在于使行业内部保持平等，防止因为激烈竞争而分化。

西欧城市的状况取决于当时的生产水平。城市里有各种市政组织和行会组织，这些组织基本上是封建性的。行会是一种手工业同行组织，每个行业都有自己的行会。它的产生，首先是为了抵制封建主的剥削，其次是为了防止同行竞争。行会规定物品的价格、质量，这对保证质量，防止竞争，发展生产是有利的。城市中行会的首领，加上一些市民代表、医生、教师等，共同组成城市政府。城市政府大多实行民主政治，遇到事情协商解决。

——摘自马克垚《世界文明史》

(1) 依据材料一，比较中国古代行会和西欧行会异同点（8分）

材料二 法国启蒙运动在世界文明史上引起的震动具有显著的超文化差异的特征。伏尔泰、卢梭、孟德斯鸠的学说鼓舞着争取社会进步的斗争。从现代民主政治发生学的角度来看，法国启蒙运动的主要贡献是直接促发和指导了两次伟大的革命事件——美国革命和法国革命。正是这两次革命把由英国革命正式开始的现代民主政治创制实验大幅度地推向了深广，并最终完成了现代民主政治基本形态的构筑。

——引自马克垚《世界文明史》

(2) 依据材料二，结合所学，概括启蒙运动的背景，说明启蒙运动对美国革命和法国革命的影响。（10分）

材料三 清末“新政”从1901年开始到1911年止，历时11年，是晚清规模最大、影响最深的一次社会变革。工业化继续发展，民主化继续深化，两者都出现高潮并取得了新的成果。

清末“新政”时期出现了中国历史上第一次工业化的高潮。从1903年起，清廷成立商部（后改组成农工商部），陆续颁布了《奖励公司章程》、《商会简明章程》等一系列法律法规。承认民间商人自由经营现代工商、铁路和金融业的权利，确立了现代企业的合法地位。从1904年起，民办企业数明显增加，出现了私人集资办企业以取代官办企业的明显转变。到1911年，各地出现了民办工厂347家。中国从沿海口岸到内地农村，都更强烈地受到现代化经济成分的影响。

与此同时，民主运动重新焕发生机并得到迅速的发展。就运动方式而言，呈现出多样化的趋势，形成了民主运动的两大阵营。无论是革命派还是立宪派都对早期现代化的全面展开作出了极大的贡献。革命派的存在及其影响力和力量的不断扩大，对清廷构成直接威胁和巨大压力，迫使清政府加快变革的步伐。立宪派则积极参与推动了宪政改革。

工业化和民主化运动推动了清末经济、教育、军事和政治等领域的变革，使中国传统社会开始解体，现代社会渐露头角。

——摘自谭来兴《中国现代化道路探索的历史考察》

(3) 阅读材料三，结合所学，解读清末“新政”对中国近代工业化和民主化的影响。（14分）

38. (34分) 历史，总是在一些特殊年份给人们以汲取智慧、继续前行的力量。

【聚焦：从广交会到进博会】

材料一 2018年11月5日至10日，首届中国国际进口博览会在上海举行，恰逢第124届中国进出口商品交易会（广交会）在广州闭幕。

官方微信公众号：bj-gaokao

官方网站：www.gaokzx.com

咨询热线：010-5751 5980

微信客服：gaokzx2018

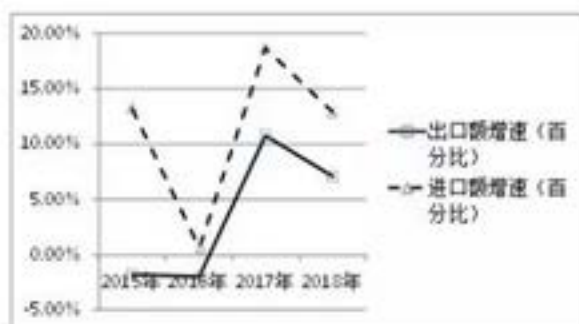


图 14: 2015—2018 年中国进出口额、出口额增速

图 15: 2015—2018 年中国贸易顺差情况

(1) 结合材料一，比较近四年来我国进出口增速、差额分别呈现出什么突出特点。(2分)

材料二 中国国际进口博览会是世界上首个以“进口”为主题的国家级展会。网友们就此纷纷发表评论：

网友甲：日子紧巴时，我很少买外国货。现在日子好了，进博会让我有了“不出国门了解世界产品”的机会，特别是那些“黑科技”让我耳目一新，如最小的心脏起搏器、会飞的汽车……今后选择商品的时候，我肯定会有更高的评判尺度，这对我的消费升级有很大帮助。

网友乙：我是一家机械制造企业的负责人。我们在向世界提供中国产品的同时，企业发展也需要购买新技术和新设备，带动产业革命，推动技术革新。进博会对我们国内企业是挑战也是机遇，我们应该抓住机会，加强与国外企业的交流合作，补齐高精尖领域的短板。

网友丙：进博会每年都要举办一届！中国以“买全球”的姿态向世界昭示，中国从出口大国转变为进出口大国，中国的发展是世界的机遇，中国开放的大门将越开越大，以更开放合作的姿态，为全球贸易注入新活力。

(2) 结合材料二，运用《经济生活》相关知识，分析进入新时代后我国扩大进口的重要意义。(10分)

【凝眸：从联产承包到三权分置】

材料三 在党的十一届三中全会提出农村家庭联产承包责任制 40 周年之际，2018 年 12 月 29 日第十三届全国人民代表大会常务委员会第七次会议通过了《关于修改〈中华人民共和国农村土地承包法〉的决定》，这是落实党的十九大关于深化三权分置改革部署的重大举措。

材料四 听到这个消息，门头沟区斋堂镇火村农民老张心里乐开了花，他原来遇到的烦心事一扫而光。

老张原来的烦心事	老张现在的定心丸
☹️ 因年纪大了种不了地，邻居把我荒着的承包地耕种了但不给我钱；和他打官司吧，又怕没法律依据……	☺️ 可以按照自愿有偿原则，可以将土地承包经营权转让给其他农户，也可以将承包地交回发包方，也可以流转土地经营权。
☹️ 儿子几年前就进城打工了。镇政府的干部说，必须让儿子交回承包地才能进城落户，不交回就收回……	☺️ 农民就算进了城、落了户、成了“城里人”，也不得在承包期内随意调整农民的承包地，随意收回农民的承包地。
☹️ 女儿嫁到外村但还没取得新承包地，村委会就催着她把在本村的承包地退出	☺️ 对农村妇女的土地承包经营权进行了特殊保护。在婆家未取得承包地以前，不能

来……	收回其在娘家的原承包地！
……	……

(3) 结合材料三和材料四，运用《政治生活》相关知识，从依法治国的角度分析老张的“烦心事”是怎样变成“定心丸”的？（12分）

【展望：从赶上时代到引领时代】

材料五 在“汉语盘点2018”活动中，“奋”当选年度国内字。从“赶上时代”到“引领时代”，因为我们一直都在奔跑，一直在奋斗！国家发展脚步不停，每个人也都要跑出自己的加速度。不管你是身处象牙塔的年轻学生，还是穿行于大街小巷的外卖和快递小哥；不论你是在市场经济大潮逐浪前行的民营企业老板，还是扎根基层挥洒汗水的基层干部，每个人向着美好生活的奔跑，都是在为国家的前行助力。或许你的努力只是点滴，但一旦乘以14亿这个基数，涓滴努力终将汇入时代洪流，形成创造新的更大奇迹的洪荒伟力。

图 16

(4) 结合材料五和图 16，运用《生活与哲学》相关知识，谈谈青年学生应该怎样奋斗才能为国家助力。（10分）

要求：观点鲜明；可以全面论述，也可以就某一点深入分析；知识运用准确、贴切；论述合乎逻辑，条理清晰。

39. (10分) 某校团委、学生会组织“共享经济发展现状及对策”综合实践活动，同学们收集到如下资料。

材料一 厉害了，我的国，中国正成为全球共享经济创新者和引领者！全球224家独角兽企业中有60家中国企业，其中具有典型共享经济属性的中国企业31家。“独角兽”企业是指成立10年以内、估值超过10亿美元、获得过私募投资且尚未上市的企业。作为爆发式成长的代表，“独角兽”企业被认为是新经济时代科技创新的集中体现。



图 17



任选材料二中的两个问题，结合材料一，运用所学《经济生活》相关知识，就我国共享经济如何健康持续发展提出你的建议。（10分）

40.

《北京城市总体规划（2016年-2035年）》明确提出，门头沟区为北京市生态涵养区的组成部分。保护好绿水青山、将其建设成为展现北京美丽自然山水和历史文化的典范区、生态文明建设的引领区、宜居宜业宜游的绿色发展示范区是生态涵养区的头等大事。



图 18

(1) 概括图中旅游资源的类型，并从可持续发展角度为门头沟区的旅游发展提出建议。(10分)

40. (20分) 阅读材料，回答下列问题。

新中国成立之初，几个世界大国都已进入“原子时代”和“喷气时代”，而当时的中国连常规武器的制造水平都相当落后……1950年，抗美援朝战争爆发后，由于无法在战争中取得胜利，美国原子弹甚至运到了停泊在朝鲜半岛附近的航空母舰上……1960年，苏联全部撤走了在中国核工业系统工作的200多名苏联专家，并同时带走了全部的重要图纸……1965年，中央专委召开会议要求：中国第一颗人造卫星必须考虑政治影响，要比美国、苏联的第一颗卫星先进，技术要新，重量要重，发射机的功率要大，工作的寿命要长，能听得见声音……

——引自洪向华《复兴之路》

(2) 20世纪五、六十年代，我国把与重工业和军事工业有关的尖端科学技术放在突出位置，依据材料，结合所学，概括这种科技战略出台的国际国内背景。(10分)

41.

甜菜原产于欧洲西部和南部沿海，生长期为8~10周，全生育期要求基础温度10℃以上，积温2800~3200℃，15℃以上时块根增长最快，4℃以下时近乎停止增长，昼夜温差与块根增大和糖分积累有直接关系。图19是“法国农作物分布图”。

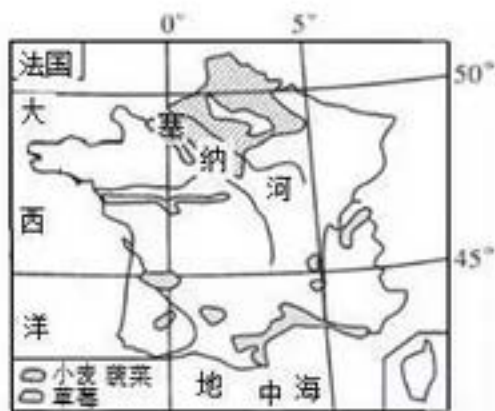


图 19

(1) 说出法国北部甜菜播种的季节并评价其生长的自然条件。(10分)

41. (28分) 阅读材料, 回答下列问题。

“光荣革命”既不特别光荣, 也不革命。它的出发点是为了把政治和宗教上的权势集团从詹姆斯激进的做法中挽救出来……它奠定了一种宪政理论的根基, 这种理论即议会绝对主权论。

——引自(英) 诺曼·戴维斯《欧洲史》

(2) 依据材料, 结合所学, 说明“光荣革命”的影响, 并谈谈你对“议会绝对主权”的理解。(10分)

41.

2018年, 古老的故宫成为青年人追捧的“网红”。在纪念改革开放40周年大型展览上, 由故宫博物院等创制的《清明上河图》穹顶影院, 赢得了青年人好评如潮; “紫禁城里过大年”展览兼顾学术性和通俗性, 激发了青年人对传统习俗的极大兴趣; 故宫元素的手柄壳等现代感十足的故宫文创产品已达数千种, 古风与青年、古典与现代, 同频共振、生机盎然。



图 20

(3) 结合材料, 运用《文化生活》的相关知识, 分析如何让传统文化更加受到青年人的青睐。(8分)

地理参考答案

2019.3

第 I 卷 选择题 (每题 4 分, 共 44 分)

题号	1	2	3	4	5	6	7	8	9	10	11
答案	A	C	D	A	B	C	A	B	D	B	C

第 II 卷 非选择题

36. (36 分)

(1) (6 分)

南半球, 东半球 (2 分); 低纬度 (热带) 地区 (2 分); 位于南太平洋, 大洋洲东北部 (2 分), 澳大利亚东北部, 西邻印度尼西亚 (2 分)。(任答 3 点)

(2) (10 分)

地处板块消亡边界 (或太平洋板块和印度洋板块碰撞边界) (2 分); 地壳运动活跃 (2 分); 岩浆活动剧烈 (2 分); (任答 3 点) 促进当地经济的发展 (2 分), 增加就业机会 (2 分), 破坏生态环境 (2 分)

(任答 2 点)

(3) (12 分)

特征: 终年高温 (2 分); 年降水量多, 各月降水均均匀 (2 分); 4-9 月降水量多于 10 月-次年 3 月 (2 分);

成因: 地处低纬, 受赤道低气压带控制 (2 分); 4-9 月, 气压带和风带北移, 地处东南风的迎风坡, 多地形雨 (2 分); 10 月-次年 3 月, 气压带和风带南移, 地处西北风的背风坡 (2 分)。

(4) (8 分)

技术支持 (2 分); 政策优惠 (2 分); 廉价劳动力丰富 (2 分); 交通不便 (2 分); 扩大市场 (2 分) (任答 4 点)

40. (1) (10 分)

自然旅游资源 (2 分)、人文旅游资源 (2 分); 从生态 (环境) 可持续 (2 分)、经济可持续 (2 分)、社会可持续 (2 分) 三个角度作答即可。

41. (1) (10 分)

播种季节: 春季 (春末夏初) (2 分)。

有利条件: 温带海洋性气候, 温和湿润 (2 分); 地形平坦, 便于耕作 (2 分); 河流流经, 灌溉水源充足 (2 分)。

不利条件: 昼夜温差小, 不利于糖分积累 (2 分)。

第 I 卷 选择题

题号	12	13	14	15	16	17	18	19	20	21	22	23
答案	A	C	C	B	D	B	B	C	A	C	D	B

第 II 卷 非选择题

37. (32 分)

(1) (8 分)

特点：行会是工商业独立组织，保护本行业的利益，并使行业内部保持平等，通过定价等方式防止本行业由于剧烈竞争而分化。(4 分)

中国的行会有时是官府的工具，对工商业进行管制和压榨；西欧行会的独立性更强，参与城市政府管理，对城市的发展和西欧政治的影响更大。(4 分)

(2) (10 分)

背景：资本主义经济的进一步发展；文艺复兴、宗教改革初步解放人的思想；自然科学的进一步发展。(5 分)

影响：美国独立战争深受启蒙思想影响，1787 年宪法根据启蒙思想家的三权分立学说，规定了美国国会、最高法院和总统的职责与权利；法国的《人权宣言》阐述了天赋人权学说，体现了要求摧毁君主专制和等级制度思想。(5 分)

(3) (14 分)

解读：戊戌变法后社会矛盾日益尖锐，暴露了清政府的腐朽没落，八国联军侵华和《辛丑条约》的签订，民族危机进一步加深，孙中山反清民主革命愈演愈烈，国内外及朝廷上下要求改革，清朝统治集团认识到不改革旧的社会体制也就无法继续维持统治。清末“新政”开始的社会变革，使社会工业化继续发展，民主化继续深化。

迫于新兴资产阶级强大压力，适应工业化发展客观要求，清政府调整工业化政策，通过扶持民间工业的发展，并赋予法律制度的保障。使工业化纳入了法治的轨道，民办企业的增加，使得中国新兴的工商业阶层实力大增。

20 世纪初，革命派主张用暴力、革命的手段推翻清完成的封建统治，建立一个现代资产阶级共和国；立宪派主张在不废除君主的前提下，通过和平、合法渐进的方式改革传统的政治体制，制定宪法，召开国会，以建立君主立宪政体。他们都对早期现代化的全面展开作出了极大的贡献。

革命派以中国同盟会为领导核心，利用报刊宣传民主思想，发动多次武装起义，组织民众投身到民主运动中去。立宪派参与宪政变革，从五大臣出洋考察各国政治，到仿行宪政的实施，再到宣布提前召开国会。他们利用资政院、咨议局等合法场所，抨击专制政治，推动宪政改革。清末民主运动取得了不少实质性的成果，尤其是导致了政治体制的变革，使中国传统社会开始解体，为辛亥革命革命后的早期现代化作了充分的准备。

但这时中国社会封建专制统治依然如故，传统的社会结构改变也不大，获得一定发展的资产阶级还处于无权的地位。“清末新政”时期是中国从传统社会迈进近代社会的典型期。改革和革命共同推动中国社会进步。

(要求：提取信息充分；论证和分析逻辑清晰；总结归纳准确完整，本题采意给分)

40. (2) (10 分)

国内：新中国初期提高国防，加强防御；提高国际地位；建国初期制造业水平十分落后；国内在进行工业化。(5 分)

国际：两极格局，美苏争霸导致世界局势紧张；美国的核威胁、中苏关系恶化；第三次科技革命。

(5分)

41. (2) (10分)

说明：1688年，资产阶级和新贵族向封建贵族妥协，通过不流血的光荣革命，用和平手段解决了革命未能解决的问题，基本确定了一种渐进的变革方式，最终确立了资产阶级和新贵族在英国的统治。

(5分)

理解：1689年颁布《权利法案》，以法律的形式，保障了议会的权利，限制了国王的立法权和财政权，使议会的权利日益超过了国王，从而确立了君主立宪制，推动了英国政治民主化的进程，推动了英国资本主义的发展，对世界资本主义发展产生了深远的影响。(5分)

政治答案

第 I 卷 选择题

题号	24	25	26	27	28	29	30	31	32	33	34	35
答案	B	A	B	D	A	C	A	D	B	A	D	C

第 II 卷 非选择题

38. (34分)

(1) 我国进口增速高于出口增速 (1分，仅答出口和进口都增长不给分)；贸易顺差收窄 (1分，替代：贸易顺差减少、贸易顺差降低、贸易更趋平衡)

(2) ①对消费者：有利于居民消费升级，满足人民日益增长的美好生活需要。(2分)

②对企业：有利于国内企业创新发展，转换发展动能、增强自主创新能力；有利于国内企业产业结构调整和优化升级；有利于国内企业加强与国外企业的合作，补齐短板；有利于国内企业在竞争压力下，改进技术改善管理，提高劳动生产率。(4分，至少答出其中的两点)

③对国家：有利于适应经济全球化趋势，发挥比较优势，提高经济效益；有利于转变对外经济发展方式，提高外向型经济发展水平；有利于扩大对外开放，有利于以自身发展带动世界经济发展；有利于发挥消费的基础性作用，促进经济发展；有利于建立现代经济体系，实现高质量发展。(4分，至少答出其中的两点)

(3) 党是社会主义事业的领导核心，坚持依法执政，提出《农村土地承包法》修改建议，把党的主张通过法定程序上升为国家意志 (替代术语：提出立法建议；领导立法；坚持依法治国方略等)；人大行使立法权，制定和完善《农村土地承包法》，为稳定和完善的农村基本经营制度提供法律依据；公民要自觉知法守法用法，增强农民土地权益保护观念，用《农村土地承包法》保护自己的合法权益；政府要依法行政，确保土地保护法的贯彻落实，保障农民土地承包权益；村民委员会要依法进行民主管理，依法安排土地承包问题，坚持法律面前一律平等，保护妇女土地承包权。(至少答出上述要点中的四点，每点3分)

(4) 评分标准：

等级水平	等级描述
水平 4 (7-8分)	观点鲜明，能明确表达自己的见解；紧扣问题，全面展开论述，或就某点深入分析；知识运用准确、贴切；逻辑严密，条理清晰。

水平 3 (5-6 分)	观点比较明确，能表达自己的见解；能扣住问题展开论述，或能就某点分析；知识运用比较准确、贴切；逻辑性较强，有条理。
水平 2 (2-4 分)	观点不明确；论述不能集中指向问题，罗列知识；知识运用不正确；论述缺乏逻辑，条理性差。
水平 1 (0-1 分)	应答与试题无关；或重复试题内容；或没有应答。

39 (10 分) 任选 2 个问题，如果 4 个问题都选择，以前两个为准。

问题 1：加强保护用户权益：政府要加强市场监管，严格市场准入；加强社会信用制度建设，维护消费者合法权益。(3 分)

问题 2：健全新业态与属地管理制度：健全共享经济相适应的新法规制度，改变条块分割的旧制度；增强跨地域、跨部门、跨行业管理的协调统一，提高行政管理效率，实现治理能力和治理体系现代化。(3 分)

问题 3：加强与共享经济相关的理论研究：健全法律法规，明确平台责任界定，为市场监管提供法律依据；加强对共享经济的统计监测体系建设，为进行科学的宏观调控提供依据。(3 分)

问题 4：探索适应新经济的城市治理体系：科学进行城市规划，特别是治理共享单车的乱停乱放现象，促进共享单车企业的健康发展；健全配套设施特别是充电桩的建设，促进共享汽车企业发展。(3 分)

材料一：坚持创新发展理念，转换发展动能，实施创新驱动战略，增强自主创新能力；转变经济发展方式，对经济结构进行战略性调整，支持新业态、新模式、新经济。(4 分)

41 (8 分)

(3) 针对青年人的特点，在继承优秀传统文化的基础上，实现传统文化及其传播手段的创新。如：不断推陈出新，注入新的时代精神；发挥科学技术和大众传媒等手段在文化创新中的巨大作用，促进传统文化的传播和发展；大力发展人民喜闻乐见的大众文化，增强优秀传统文化的感召力；大力发展文化事业，满足人民基本的文化需求；经济效益等。

其他答案言之有理也可酌情给分。至少答出 4 点才能得满分，每点 2 分；答案中不出现“青年人”扣 1 分。