

文科综合

考生注意:

1. 答题前,考生务必将自己的姓名、考生号填写在试卷和答题卡上,并将考生号条形码粘贴在答题卡上的指定位置。
2. 回答选择题时,选出每小题答案后,用铅笔把答题卡对应题目的答案标号涂黑。如需改动,用橡皮擦干净后,再选涂其他答案标号。回答非选择题时,将答案写在答题卡上。写在本试卷上无效。
3. 考试结束后,将本试卷和答题卡一并交回。

一、选择题:本题共 35 小题,每小题 4 分,共 140 分。在每小题给出的四个选项中,只有一项是符合题目要求的。

新修订的《安徽省人口与计划生育条例》(以下简称《条例》)于 2022 年 1 月 1 日起施行。《条例》规定,一对夫妻可以生育三个子女,符合法律规定结婚的职工,在享受国家规定婚假的基础上,延长婚假十天,女方延长产假六十天,男方享受三十天护理假。在子女六周岁以下,每年给予夫妻各十天育儿假。职工在规定的产假、护理假、育儿假期间,享受其在职在岗的工资、奖金、福利待遇。据此完成 1~2 题。

1. 安徽省制定该条例的主要原因是

- A. 男女性别比失衡
B. 劳动力严重短缺
C. 经济增长缓慢
D. 人口出生率低

2. 为使安徽省“三孩”政策落地,下列措施效果不明显的是

- A. 提高育龄妇女的受教育程度
B. 鼓励幼儿园提供延时托管服务
C. 实施灵活休假和弹性工作方式
D. 对婴幼儿入托、入园给予补助

农业生产托管是农户等经营主体在不流转土地经营权的条件下,将农业生产中的耕、种、防、收等全部或部分作业环节委托给农业生产性服务组织完成或协助完成的农业经营模式。循环式托管是农业生产托管模式之一。图 1 为我国某地区循环式托管模式示意图。据此完成 3~5 题。

3. 下列农业生产活动,最适宜大范围推广图示模式的是

- A. 城郊花卉种植
B. 平原谷物种植
C. 丘陵茶树种植
D. 浅海水产养殖

4. 与传统生产方式相比,循环式农业生产托管模式可能会

- A. 减小农户的农田面积
B. 延长农户田间耕作时间
C. 降低农户的农业生产效率
D. 降低农户的农业收入水平



图 1

5. 循环式农业生产托管模式的推广有利于

- A. 减少自然灾害
- B. 提高城市化水平
- C. 加快土地流转
- D. 增加农业劳动力

比湿是指在一团湿空气中,水汽的质量与该团空气总质量的比值。图2示意北京市冬、夏两季城区和郊区比湿的日变化。据此完成6~8题。

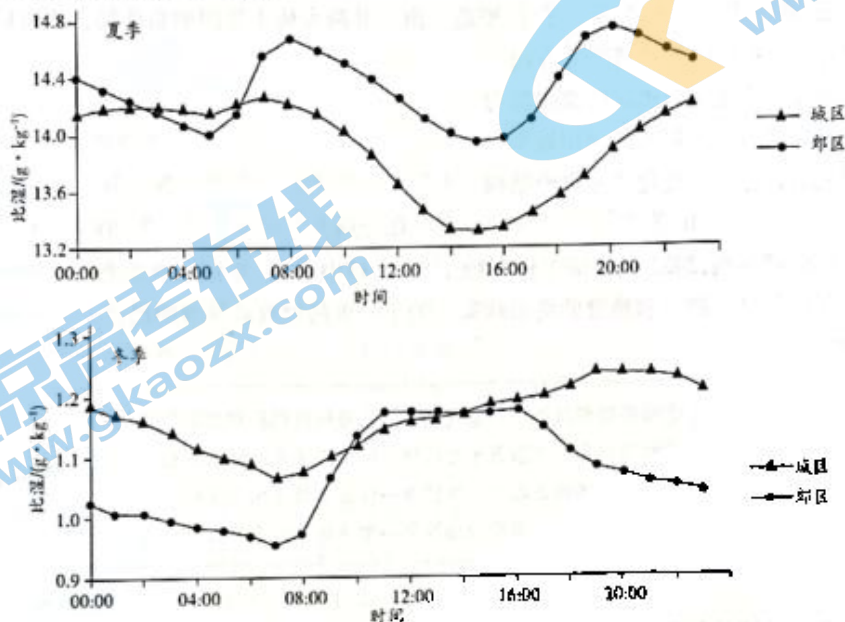


图2

6. 北京市

- A. 夏季郊区比湿始终大于城区
- B. 冬季城区比湿始终大于郊区
- C. 夏季城区比湿日变化大于郊区
- D. 冬季城区比湿日变化大于郊区

7. 造成北京市夏季城区与郊区比湿差异的主要因素是

- A. 降水
- B. 气温
- C. 地面含水率
- D. 人口密度

8. 造成北京市冬、夏两季比湿差异的主导因素是

- A. 大气环流
- B. 气温高低
- C. 植被状况
- D. 人类活动

林业生产技术效率是指在一定的林业投入要素组合下所能获得的林业多重效益产出,强调对林业资源的有效管理与利用能力。图3示意2004—2018年全国及五大林区林业生产技术效率均值的变化。据此完成9~11题。

9. ①②③④依次表示

- A. 全国总体 南方林区 东北林区 西北林区
- B. 全国总体 东北林区 南方林区 西北林区
- C. 西北林区 东北林区 南方林区 全国总体
- D. 西北林区 南方林区 东北林区 全国总体

10. ②③林区森林资源的明显不同之处是

- A. 砍伐方式
- B. 树龄长短
- C. 利用方式
- D. 森林类型

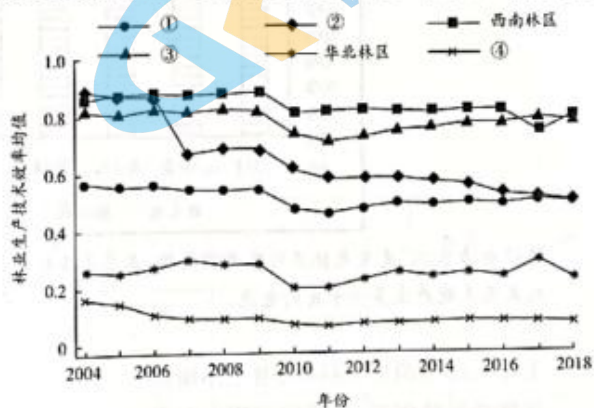
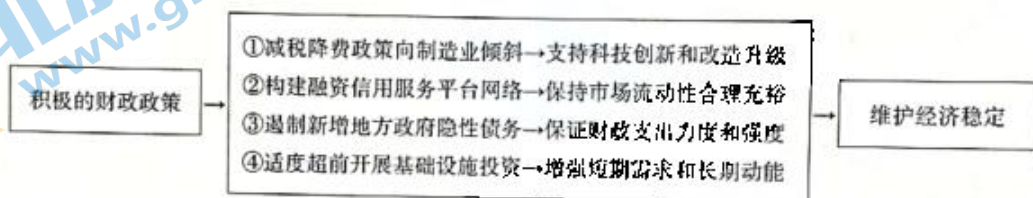



图3

11. ④林区林业生产技术效率均值最低的主要原因是
 A. 以防护林为主 B. 森林生长速度慢 C. 树种较为单一 D. 经济发展水平低
12. 稀土素有工业“黄金”之称。为推动产业发展,国家近年来积极整顿行业乱象,大力推进稀土产业供给结构优化。2021年12月,中国稀土集团有限公司成立。该公司由中铝集团、中国五矿等组建而成,是属于国务院国资委直接监管的股权多元化中央企业。新成立的“稀土巨无霸”将占到中国中重稀土矿产品总量的近70%,与北方稀土南北呼应,塑造一南一北两大稀土集团的新格局。新格局形成
 ①有利于国有经济控制国民经济发展方向
 ②能提高国有经济控制重要稀缺资源的能力
 ③通过以优带劣提高稀土资源的利用效率
 ④可形成规范的行业秩序优化产业供给结构
 A. ①② B. ①③ C. ②④ D. ③④
13. 中央经济工作会议强调,2022年经济工作要稳字当头、稳中求进,要积极推出有利于经济稳定的政策。要继续实施积极的财政政策和稳健的货币政策。关于积极的财政政策维护经济稳定这一作用过程的描述,正确的是



- A. ①③ B. ①④ C. ②③ D. ②④
14. 市场主体是市场经济的基础细胞,其数量多少、活力高低、结构优劣以及成长快慢,是衡量经济发展水平的重要标志。截至2021年12月,我国市场主体总量已突破1.5亿户,其中约有1亿户是近10年增加的,为全国7亿多人就业提供了最直接、最有力的支撑。市场主体持续大幅增加表明
 ①我国是投资创业热土,市场活力被激发 ②我国全面深化改革,营商环境持续优化
 ③市场秩序良好,国内需求得到极大释放 ④内外循环畅通,国内经济发展势头强劲
 A. ①② B. ①④ C. ②③ D. ③④
15. 图4反映的是2011—2020年我国电力装机结构变化情况。对图示理解正确的是



注:“电力装机”是发电机装机容量简称,意思是各种类型的发电机组(包括火力发电、核电、水力发电、风力发电等)加起来总共能产生多少千瓦的电能。

- ①加大煤电消费,巩固火电主体地位 ②发展清洁能源,提升绿色供给能力
 ③推动科技创新,保障国家用电安全 ④践行低碳理念,促进能源结构优化
 A. ①② B. ①③ C. ②④ D. ③④

16. 近期,国务院办公厅发布的《关于新形势下进一步加强督查激励的通知》指出,对促进乡村产业振兴、改善农村人居环境等乡村振兴重点工作成效明显的地方,对养老兜底保障、发展普惠型养老服务等工作成效明显的地方,在分配中央财政相关资金时给予一定激励支持。加强督查激励
- ①有利于巩固脱贫攻坚成果、促进共同富裕 ②能调动各地大胆探索、改革的积极性
③坚持了从群众中来到群众中去的工作方法 ④是推动简政放权、提高行政效率的要求
- A. ①② B. ①④ C. ②③ D. ③④
17. 2021年12月,中共中央向党外人士通报中央经济工作会议精神。中共中央希望各民主党派通过调研协商等平台,聚焦世界科技前沿、国家科技短板、科技核心领域,围绕碳达峰碳中和、数字经济等重大问题,多深入基层调查研究,形成有分量的研究报告,为中共中央科学决策、有效施策提供参考。可见
- ①中国共产党和各民主党派紧密团结、共同奋斗 ②中国共产党对各民主党派负责、并接受其监督
③新时期统一战线必须坚持协商民主和党的领导 ④我国政党制度能够增进共识、推动决策民主化
- A. ①② B. ①④ C. ②③ D. ③④
18. 国家主席习近平在同美国总统拜登举行视频会晤时强调,中美利益深度交融,合则两利、斗则俱伤。地球足够大,容得下中美各自和共同发展。要坚持互利互惠,不玩零和博弈,不搞你输我赢。习主席的讲话意在强调,中美两国应该
- ①践行多边主义,倡导国际关系民主化 ②坚持相互尊重、和平共处、合作共赢
③展现大国担当,推动世界和平与发展 ④有效管控分歧,尊重各自的发展权利
- A. ①③ B. ①④ C. ②③ D. ②④
19. 中国传统文化中的仁义、和谐、包容之道,有助于凝聚这个撕裂的社会、对立的族群,化解乖张和戾气。当前,世界各国都在寻求中国经济发展背后的文化基因,期望这一基因是可复制、可模仿、可繁殖的。材料表明
- ①文化多样性是推动世界经济繁荣的重要因素 ②中华优秀传统文化为解决现今问题提供有益借鉴
③借鉴经济发展模式往往与文化认同紧密联系 ④中华优秀传统文化涵养着全人类的共同价值追求
- A. ①③ B. ①④ C. ②③ D. ②④
20. 在中国人民对外广播事业创建80周年之际,习近平总书记发来贺信指出,80年来,在党的领导下,对外广播事业弘扬光荣传统、不忘初心使命,宣传党的主张,全面宣介中国发展,积极讲好中国故事、传播好中国声音。发展对外广播事业
- ①旨在培育和践行社会主义核心价值观 ②有力推动文化产业和文化事业协调发展
③是加强国际传播能力建设的客观要求 ④有利于党牢牢把握意识形态工作领导权
- A. ①② B. ①④ C. ②③ D. ③④
21. 来自瑞典乌普萨拉大学的生物信息学家表示,他们在120万年前生活在西伯利亚东北部的猛犸象的牙齿中发现迄今最古老的DNA,并对其进行了测序,为研究已灭绝的冰河时代的北美巨兽的进化,打开了一扇崭新的窗户。据悉,此前最古老的DNA来自一匹生活于70万年前的马的化石。这表明
- ①新的正确认识能够为科研提供新思路 ②科学技术进步会削弱客体对主体的制约作用
③越来越多的旧认识会被新认识所取代 ④人们通过科研可获得新认识并提高认识能力
- A. ①② B. ①④ C. ②③ D. ③④
22. 近期召开的推动长江经济带发展领导小组全体会议强调,下一步,要完整、准确、全面贯彻新发展理念,牢牢把握共抓大保护、不搞大开发的战略导向,坚持问题导向的工作方法,以重点突破带动整体工作有力有序有效推进,扎实推动长江经济带高质量发展。以上论述蕴含的辩证法道理是
- ①要勇于揭露矛盾,寻找正确方法积极解决矛盾 ②树立全局观念,用关键局部的发展推动整体发展
③积极创造有利条件,推动矛盾双方的相互转化 ④着眼于局部,以重点突破带动整体工作有序开展
- A. ①② B. ①④ C. ②③ D. ③④

23. 图5 漫画《先救奖牌》讽刺了一些人想问题、做事情



图5

- ①不能把握事物发展的主要矛盾
②忽视了价值观对行为选择的导向作用
③不能把握事物发展大势和主流
④不能立足人民群众利益作出价值选择
- A. ①②
B. ②③
C. ①④
D. ③④
24. “国人”是西周至春秋时期一个特殊的社会阶层,他们是当时社会统治宗族的成员,在政治、经济、军事等方面拥有广泛影响力。西周时期“国人”势力开始形成,春秋时期社会影响力达到全盛,战国时期逐渐退出政治历史舞台。“国人”社会影响力的变化,反映了
- A. 分封制度已被完全废弃
B. 宗法秩序逐渐走向混乱
C. 国家治理模式的新发展
D. 社会组织结构日趋完善

25.

表1

农耕区域	劳动者成分	年人均田亩数	农作制度	平均亩产	粮食总收入量
南方	一个普通农民	23 小亩	一年一熟	1.37 石	32 石
北方	一个普通农民	30 小亩	一年一熟	1.5 石	45 石
西北	一个屯田卒	74 小亩	一年一熟	0.4 石	29 石

表1为汉代不同农耕区的粮食生产状况。据此可知,汉代

- A. 精耕细作农业推广迅速
B. 耕地利用率显著提高
C. 南方耕作技术获得进展
D. 区域经济发展不平衡
26. 宋初最高统治者开始重视《大学》和《中庸》,不仅亲自抄写,还赐予臣下学习,“仁宗天圣八年(1030年)赐进士王拱辰《大学》篇一轴。……自后,登第者必赐《儒行》和《大学》《中庸》篇”。宋统治者的做法
- A. 意在抬升理学的政治地位
B. 助推了儒学新形态的形成
C. 践行了“知行合一”理念
D. 确立了传统儒学主流地位
27. 明代规定,内阁票拟必须登录底稿(称“丝纶簿”)备查,章奏经“批红”下发时也需六科(六部监察官)监督后,政府部门才能执行。这一规定旨在
- A. 维护皇权专制统治
B. 保证票拟的正确性
C. 限制内阁大臣职权
D. 提高决策执行效能
28. 鸦片战争后,上海近郊各县的家庭纺织业纷纷出现了“转业”现象,如川沙、嘉定等县的手织毛巾业取代了纺织土布业,南汇县则“以织袜为盛”,“成为家庭主要手工业”。这一变化反映出
- A. 农民主动应对社会转型
B. 近代新式工业开始产生
C. 农村手工业生命力顽强
D. 西方商品倾销遭到抵制
29. 1919年10月,李汉俊提出:“我们自身应该从精神上打破‘知识阶级’四个字的牢狱,化‘脑力劳动者’与‘体力劳动者’的一致团结,并且一致努力。”这一观点说明
- A. 社会平等的理念开始形成
B. 马克思主义影响力的增强
C. 中国共产党开始筹备建立
D. 民主革命阵营走向了联合

30. 1942年1月,《晋察冀日报》在评论边区政府“精兵简政”时指出:“只有干部质量提高,每个人站得住岗位,而政才能简,工作才能头头是道。也只有行政机构精干,工作制度健全,干部才能更发挥才能。”这说明,边区政府实行“精兵简政”意在
- A. 减轻政府部门的工作负担
B. 提高政府人员的服务意识
C. 适应抗日战争形势的需要
D. 打造更加廉洁的民主政府

31.

表2

	农业总产量	人均粮食消费量	人均猪肉消费量	人均棉布消费量
增加量	250亿斤	11斤	1.6斤	2.5尺

表2是1962年与1961年相比国民经济部分数据的增长情况。这可用来说明

- A. 工业化带动了农业经济发展
B. 农村经济出现“跃进”局面
C. 国家经济建设重心转向农业
D. 国民经济调整已经初见成效
32. 公元前509—508年,克利斯提尼对雅典公民制度进行了改革,公民不再分氏族而是按村庄进行登记和选举,使许多失去氏族族籍的自由民和外来居民也取得了公民权。由此可知,这次改革
- A. 壮大了雅典民主力量
B. 使民主政治达到顶峰
C. 开创了平民参政先例
D. 扩大了公民的参政权
33. 1816年,英国率先确定了英镑可以自由地兑换金条和金币的金本位制后,到20世纪初,约有60%的国际贸易都使用英镑进行计价或结算。由此可知,20世纪初的“英镑”
- A. 促进了世界自由贸易形成
B. 提升了英国的经济实力
C. 推动了英国工业革命完成
D. 拥有了国际货币的职能
34. “达尔文的进化论将人类从最高的阶梯上拉了下来,人类在本质上也是大自然的一部分,只不过由于机缘巧合,成为了大自然的‘最适者’,而不是‘最高级’者。”据此可推知,达尔文
- A. 首次提出了生物进化观点
B. 挑战了当时的主流人类观
C. 开启了自然科学界的革命
D. 揭示了人类社会发​​展规律
35. 图6是1948年美国刊物登载的一幅漫画《我们的世界》,漫画中:写有“北大西洋”“联盟”的两只手跨越大西洋将要握在一起。该漫画反映了



图6

- A. 美国加紧了冷战的步伐
B. 资本主义阵营开始联合
C. 美国开始谋求世界霸权
D. 马歇尔计划已全面落实
- 二、非选择题:本题包括必考题和选考题两部分。第36~42题为必考题,每个试题考生都必须作答。第43~47题为选考题,考生根据要求作答。
- (一)必考题:共135分。
36. 阅读图文材料,完成下列要求。(22分)

海滨或湖滨处的河谷或山谷,由于侵蚀基准面(指河流垂直下切侵蚀的界限)上升或地壳下降,或由于海水面上升时被海水淹没而形成的漏斗形的狭长三角湾,是为溺谷。德涅斯特河支流众多,这些支流多发源于东喀尔巴阡山800~1500米高程处,流经乌克兰和摩尔多瓦两国,最后注入黑海的德涅斯

特湾。德涅斯特河流域年降水量约 800~900 毫米,大部分集中在 4—11 月。德涅斯特河径流量的年内分配大约是:春季(3—6 月)占 50%~55%,夏季(7—8 月)占 15%~25%,秋季(9—11 月)占 15%~20%,冬季(12 月—次年 2 月)占 10%~15%。摩尔多瓦是位于巴尔干半岛东北部的内陆国家。众多内陆国做梦都想拥有一条属于自己的海岸线,摩尔多瓦无疑是欧洲最“憋屈”的内陆国。图 7 为摩尔多瓦及德涅斯特河谷位置示意图。



图 7

(1) 简述德涅斯特河谷的形成过程。(4 分)

(2) 德涅斯特河谷的海水盐度较低,但有明显的季节变化,说明其原因。(8 分)

(3) 分析德涅斯特河春季径流量在全年中占比最高的原因。(6 分)

(4) 说出摩尔多瓦成为欧洲最“憋屈”的内陆国的原因。(4 分)

37. 阅读图文材料,完成下列要求。(24 分)

海洋水库即是在海水中建立的淡水水库。青草沙水库位于长兴岛西北方冲积沙洲青草沙上,是我国目前最大的江心水库,也是世界上最难建设的海洋水库之一。2006 年上海市决定将青草沙建设成为上海市的水源地,以改变上海市 80% 以上自来水水源取自黄浦江的格局。2011 年 6 月,青草沙水库全面投入运行。青草沙水库主要由环库大堤、取水泵闸(包括上游泵闸和下游水闸)以及输水泵站等工程组成,拥有总长 43 千米的大堤,围围了相当于 10 个杭州西湖的水面。水库正常运行时,水位一般在 3 米左右,有效蓄水量不少于 3.87 亿立方米,可保证连续 50 天不取水情况下的正常供水。青草沙水库的引排水利用长江的潮汐规律,实现了“择优蓄水”,达到了“清污分流、蓄清排污、流水不腐”的目的。图 8 为青草沙水库及取输水泵闸工程平面布置示意图。

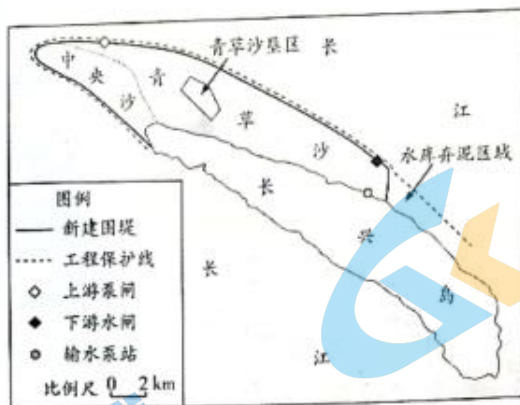


图8

(1)简述青草沙水库可作为上海市主要水源地的有利条件。(6分)

(2)说出与峡谷型水库相比,青草沙水库建设难度大的原因。(4分)

(3)分别说明上游泵闸、下游水闸和输水泵站位置选择的优点。(6分)

(4)简述青草沙水库建成后产生的影响。(8分)

38. 阅读材料,完成下列要求。(14分)

材料一

2015—2019年我国部分省市私营企业就业人数(万人)

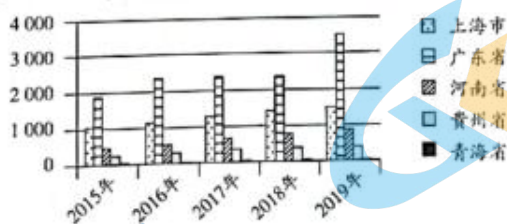


图9

材料二 2021年9月,全国工商联发布了2021中国民营企业500强系列榜单及《2021中国民营企业500强调研分析报告》。报告显示,民营企业500强纳税总额达1.36万亿元,占全国税收总额的8.84%,纳税额超过500亿元的企业共4家。民营企业500强员工总数1109.11万人,增长6.26%,占全国就业人员的1.48%,较上年增长0.09个百分点。269家500强企业通过公益扶贫、产业扶贫、就业扶贫等方式,参与精准脱贫攻坚战。

京东集团在2021中国民营企业500强榜单中位列第二,员工人数最多,达36.91万人。2021年上半年,京东物流为26万一线员工支付的月平均工资支出超过1.1万元。京东集团宣布自2021年7月1

日开始到 2023 年 7 月 1 日,用两年时间,将员工平均年薪由 14 薪逐步涨至 16 薪。

(1)解读材料一包含的经济信息。(4 分)

(2)结合材料并运用经济生活知识,说明民营企业如何在实现共同富裕中发挥重要作用。(10 分)

39. 阅读材料,完成下列要求。(12 分)

对行政法规、地方性法规、司法解释开展备案审查,是宪法法律赋予全国人大及其常委会的重要监督职权,蕴含深刻的人民民主属性。

近年来,全国人大常委会多次开展专项审查,重点审查法规、司法解释是否与党中央重大方针政策、决策部署保持一致,对存在问题的坚决予以纠正。全国人大常委会建立备案审查工作情况报告制度并及时向社会公开,除接收书面建议外,还开通“在线提交”平台,实现审查建议“一键提交”。党的十八大以来,全国人大常委会共收到公民、组织提出的审查建议 14 379 件。

全国人大常委会不断完善审查机制,对可能存在问题的法规、司法解释,既征求制定机关意见,也通过座谈会、论证会等方式听取多方意见,并向审查建议人询问有关情况。全国人大常委会持续加大审查力度,坚决纠正存在合宪性、合法性、适当性问题的法规、司法解释,努力做到“有错必纠”,切实回应人民关切,维护人民合法权益。

结合材料并运用政治生活知识,说明全国人大常委会在备案审查工作中是如何践行全过程人民民主的。

40. 阅读材料,完成下列要求。(26 分)

推动社会主义文艺繁荣发展,广大文艺工作者义不容辞、重任在肩、大有作为。

广大文艺工作者要坚守人民立场,书写生生不息的人民史诗。人民是文艺之母。文学艺术的成长离不开人民的滋养,人民中有着一切文学艺术取之不尽、用之不竭的丰沛源泉。文艺要对人民创造历史的伟大进程给予最热情的赞颂,对一切为中华民族伟大复兴奋斗的拼搏者、一切为人民牺牲奉献的英雄们给予最深情的褒扬。广大文艺工作者要把人民满意不满意作为检验艺术的最高标准,创作更多满足人民文化需求和增强人民精神力量的优秀作品,让文艺的百花园永远为人民绽放。

中华文明是当代中国文艺的根基,也是文艺创新的宝藏。要挖掘中华优秀传统文化的思想观念、人文精神、道德规范,把艺术创造力和中华文化价值融合起来。故步自封、陈陈相因谈不上传承,割断血脉、凭空虚造不能算创新。今天,各种艺术门类互融互通,各种表现形式交叉融合,互联网、大数据、人工智能等催生了文艺形式创新,拓宽了文艺空间。广大文艺工作者要正确运用新技术、新手段,激发创意灵感、丰富文化内涵、表达思想情感,使文艺创作呈现更有内涵、更有潜力的新境界。中国人民历来具有深厚的天下情怀,当代中国文艺要把目光投向世界、投向人类。广大文艺工作者要有信心和抱负,承百代之流,会当今之变,用情用力讲好中国故事。

(1)结合材料并运用认识社会与价值选择的知识,说明广大文艺工作者为什么要坚守人民立场。(12 分)

(2) 只有推动文艺形式创新才能开拓文艺新境界。运用文化生活知识对该观点加以评析。(10分)

(3) 请就广大文艺工作者用情用力讲好中国故事提出两点建议。(4分)

41. 阅读材料,完成下列要求。(25分)

材料一 孙中山在设计建立中华民国的政治制度时,明确批判资本主义的政治制度,特别不接受西方“三权分立”的政治制度。孙中山认为美国宪政规定的“三权分立”制度,不完备,存在着许多弊病,运转效果也不甚好。他指出:“夫美洲之不自由,更甚于专制国。盖专制皇帝且不难爱民,虽专横无艺,犹不敢公然以压抑平民为职志。若资本家则不然,资本家者,以压抑平民为本分者也,对于人们之痛苦,全然不负责任者也。一言以蔽之,资本家者,无良心者也。”

——摘编自刘书林《试论美国“三权分立”模式的本质及局限》

材料二 美国三权分立的政治制度防止了专制而强暴的政府出现,在相互牵制中消弭了潜在的政府权力。三权分立制衡从一开始就是为了追求法治的目的而确立的,这种机制维持的是三种权力之间没有任何一种权力凌驾于其他权力之上的动态平衡,使美国的人权、民主自由等法治价值得到不断的保障和实现。但三权分立使联邦政府三个分支相互敌对,讲究以野心对抗野心,却忽视了国家权力作为一个整体的有效运用,这给政府职能的有效履行造成了阻碍。

——摘编自张文博《浅析美国的三权分立体制》

(1) 根据材料一并结合所学知识,简析孙中山拒绝采用西方“三权分立”体制的原因。(8分)

(2) 根据材料二并结合所学知识,概括美国“三权分立”政治体制的特点及意义。(12分)

(3) 根据材料一、二并结合所学知识,说明影响一个国家政治体制形成的因素。(5分)

42. 阅读材料,完成下列要求。(12分)

材料

表3 唐、北宋、金(或南宋)南北方兴修水利工程次数

朝代\地区	陕西	河南	山西	河北、山东等地	江苏	浙江	江西	福建	合计
唐	32	11	32	24	18	44	20	29	210
北宋	12	7	25	20	43	86	18	45	256
金(或南宋)	4	2	14	4	73	185	36	63	381

——摘自韩茂莉著《中国历史农业地理》

从材料中提出一个论题,结合所学知识,加以论述。(要求:论题明确,持论有据,表述清晰。)

(二)选考题:共25分。请考生从2道地理选考题、3道历史选考题中每科任选一题作答。如果多做,则每科按所做的第一题计分。

43. [地理——选修3:旅游地理](10分)

季节性是旅游业和旅游流的基本特征之一。2017年江苏省204个主要景区共接待游客3.2亿人次,其中,接待省外游客1.2亿人次。江苏省5A级景区共22个(5A级景区数量居全国第一位),平均接待425.8万人次;4A级景区182个,平均接待118.5万人次。图10示意江苏省客流规模的月度变化。

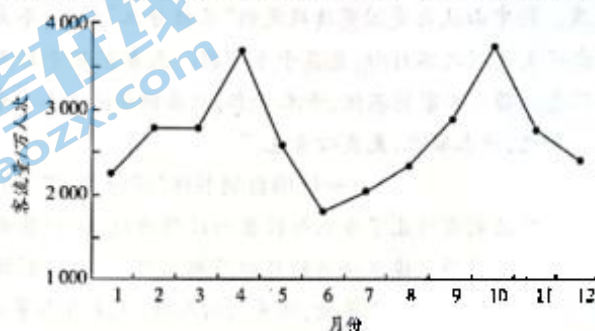


图10

简述江苏省主要景区游客接待量的特点,并分析江苏省4月和10月两次客流量峰值出现的不同原因。

44. [地理——选修6:环境保护](10分)

《海南省农村人居环境整治三年行动方案(2018—2020年)》实施三年来,海南省聚焦农村生活垃圾治理、农村生活污水治理、农村厕所革命、农业面源污染物(包括农药化肥、禽畜粪便、农膜污染、秸秆焚烧污染等)清理、村容村貌、长效机制建设等重点任务,全省农村人居环境得到明显改善,村庄环境基本干净整洁有序。

推测海南省出台该方案的地理背景,并提出农业面源污染物资源化的可行措施。

45. [历史——选修1:历史上的重大改革回眸](15分)

材料 明代中叶以后,不仅私人海外贸易势力直接冲击着明代的市舶制度,西方殖民者的东来,亦直接瓦解着市舶制度所维系的朝贡贸易体系。明代后期将打击走私贸易的防海机构——海防馆改为督饷馆,饷税制度的出台是我国关税制度上的一大进步,推动了海外贸易管理由市舶司制度向海关制度转变。康熙二十三年(1684年),清政府开放海禁,在福建设立闽海关;康熙二十四年(1685年),分别在广东、江南两省设立粤海关和江海关;康熙二十五年(1686年)又在浙江设立浙海关,从此海关制度代替了历代的市舶制度。海关口岸是重要的商品集散地和贸易中转站,它的设置,为沿海省份开辟了广阔的商品流通渠道,加快了沿海省份商品经济繁荣的步伐。

——摘编自彭巧红《明至清前期海外贸易管理机构的演变》

(1)根据材料并结合所学知识,概括清初建立海关制度的背景。(8分)

(2)根据材料并结合所学知识,简析清初建立海关制度的影响。(7分)

46. [历史——选修3:20世纪的战争与和平](15分)

材料 1941年7月26日,美国宣布冻结在美的日本资产,同一天开始部署菲律宾防务计划,但实施这一计划至少需要半年时间,至1942年3月方可完成。虽然美国具有强大的工业生产能力和战争潜力,但军事动员却相当缓慢,而且对日作战毫无准备。在亚太地区日美兵力、兵器对比,日本占很大优势,“南进”在军事上是可行的,同时经济上的诱惑力也极大,“南进”可以获取大量的石油、锡、橡胶。最后,日美整体的经济实力对比和美国对日本的经济制裁,为了巩固战争经济基础,建立起“自给自足”的经济体系,进而称霸东亚和太平洋地区,促使日本下了“对美一战”的决心。

——摘编自高辉《浅析太平洋战争爆发的原因》

(1)根据材料并结合所学知识,概括日本发动太平洋战争的原因。(9分)

(2)根据材料并结合所学知识,简析太平洋战争爆发对二战进程的影响。(6分)

47. [历史——选修4:中外历史人物评说](15分)

材料一 “公忠体国,廉正无私”,“撝励斯政,利国便民。……入参机要,管理学部事务,宗旨纯正,懋著勋劳。”……赐谥号“文襄”。

——1909年10月6日清廷上谕

材料二 (张)之洞短身巨髯,风仪峻整。莅官所至,必有兴作。务宏大,不问费多寡。爱才好客,名流文士争趋之。任疆寄数十年,及卒,家不增一亩云。

——《清史稿·张之洞列传》

材料三 “《劝学篇》流毒海内,学部章程几乎驱天下人才尽为奴隶,科举既停,优拔之试及博学鸿词、孝廉方正、存古学堂等犹念念不忘,教育前途堪忧;相国一日不死,虽不致举已有之萌芽尽行芟除,而其足为文明进步之阻力,则固可断言者也。”

——1909年10月7日天津《大公报》

(1)分别概括材料一、二、三对张之洞的评价。(9分)

(2)根据材料一、二、三并结合所学知识,简析材料中对张之洞评价不同的主要原因。(6分)

天一大联考
2021—2022 学年高中毕业班阶段性测试(四)

文科综合·政治答案

12~23 小题,每小题 4 分。

12. 答案 C

命题透析 本题以中国稀土集团有限公司的成立为情境,考查国有经济、企业等知识,考查考生获取和解读信息的能力,考查政治认同学科素养。

思路点拨 稀土是重要的战略资源,为推动产业发展,国家近年来积极整顿行业乱象,大力推进稀土产业供给结构优化,成立中国稀土集团有限公司,②④符合题意。①夸大了本次重组的作用,不选。材料没有涉及以优带劣问题,③与题意不符。

13. 答案 B

命题透析 本题以中央经济工作会议对 2022 年经济工作的定调为情境,考查财政政策的有关知识,考查考生调动和运用知识的能力,考查科学精神学科素养。

思路点拨 ②不属于财政政策,且构建该平台也起不到保持市场流动性合理充裕的作用;③中“遏制新增地方政府隐性债务”不能起到保证财政支出强度的作用,不选。①④准确描述了积极财政政策的内容及其对经济发展的推动作用,可选。

14. 答案 A

命题透析 本题以我国市场主体总量已突破 1.5 亿户为情境,考查社会主义市场经济的有关知识,考查考生获取和解读信息的能力,考查科学精神学科素养。

思路点拨 市场主体持续大增说明市场环境持续改善,市场主体创新创业热情高涨,①②符合题意。市场主体持续大增不能说明国内需求得到极大释放,且不符合事实,③不选。④说法也不符合近年来国内外经济发展事实,不选。

15. 答案 C

命题透析 本题以 2011—2020 年我国电力装机结构变化情况为情境,考查转变经济发展方式的有关知识,考查考生获取和解读信息的能力,考查科学精神学科素养。

思路点拨 从图表可以看出,2011—2020 年我国火电和水电占比减少,而风电和太阳能发电大幅增加,这说明我国用电结构不断优化,积极推行绿色低碳发展取得显著成效,②④符合题意。火力发电占比下降是我国能源结构优化的表现,①不选。图表信息与保障国家用电安全无关,③与题意不符。

16. 答案 A

命题透析 本题以《关于新形势下进一步加强督查激励的通知》为情境,考查政府履职的有关知识,考查考生获取和解读信息的能力,考查政治认同学科素养。

思路点拨 材料主要说明,国务院对地方政府有关好的做法给予财政资金激励支持,②可选。材料内容与巩固脱贫成果、促进共同富裕关系密切,①可选。材料没有涉及从群众中来到群众中去的工作方法,也与推动简政放权无关,③④与题意不符。

17. 答案 B

命题透析 本题以中共中央向党外人士通报中央经济工作会议精神为情境,考查我国政党制度的知识,考查考生获取和解读信息的能力,考查政治认同学科素养。

思路点拨 材料主要说明,中共中央向党外人士通报经济工作会议情况,并希望各民主党派

绕党和国家中心工作积极建言献策,①④符合题意。中国共产党对人民负责,不对各民主党派负责,②说法不妥。材料没有涉及统一战线问题,③不选。

18. 答案 D

命题透析 本题以国家主席习近平同美国总统拜登举行视频会晤为情境,考查当代国际社会的有关知识,考查考生获取和解读信息的能力,考查政治认同学科素养。

思路点拨 习主席的讲话意在强调中美两国应该相互尊重、和平共处、合作共赢,坚持求同存异,有效管控分歧,推动中美关系健康发展,②④符合题意。材料没有强调践行多边主义、展现大国担当等信息,①③与题意不符。

19. 答案 D

命题透析 本题以世界各国都在寻求中国经济发展背后的文化基因为情境,考查文化与经济的有关知识,考查考生调动和运用知识的能力,考查科学精神学科素养。

思路点拨 中华优秀传统文化涵养着全人类的共同价值追求,对世界很多国家具有借鉴意义,②④符合题意。材料没有涉及文化多样性的积极意义,①不选。借鉴他国经济发展模式不是强调认同他国文化,③不选。

20. 答案 D

命题透析 本题以中国人民对外广播事业创建 80 周年为情境,考查繁荣发展社会主义文化的有关知识,考查考生调动和运用知识的能力,考查科学精神学科素养。

思路点拨 当今世界,加强国际传播能力建设必须发展对外广播事业,③可选;对外广播事业坚持党的领导,宣传党的主张,展现中国形象,④可选。发展对外广播事业主要是传播中国声音,提高中国国际影响力等,①不选;发展对外广播事业与推动文化产业和文化事业协调发展无直接联系,②不选。

21. 答案 B

命题透析 本题以科研新发现为情境,考查认识论的知识,考查考生获取和解读信息的能力,考查科学精神学科素养。

思路点拨 材料说明,科学家们通过科学研究发现了迄今最古老的 DNA,为研究已灭绝的冰河时代的北美巨兽的进化,打开了一扇崭新的窗户,①④符合题意。材料没有涉及认识客体对认识主体的制约问题,②与题意不符。旧认识中的真理性认识是不可能被取代的,③说法错误。

22. 答案 A

命题透析 本题以推动长江经济带发展领导小组全体会议为情境,考查辩证法的有关知识,考查考生获取和解读信息的能力,考查科学精神学科素养。

思路点拨 材料强调坚持问题导向,①可选。“以重点突破带动整体工作有力有序有效推进”,②可选。材料没有涉及矛盾双方相互转化,③不选。④“着眼于局部”说法错误。

23. 答案 C

命题透析 本题以漫画为载体,考查价值观等有关知识,考查考生获取和解读信息的能力,考查科学精神学科素养。

思路点拨 漫画中的人在失火时不是想着先救人,而是想着安全工作先进单位的奖牌不能被火烧掉,这显然是讽刺一些人没有立足人民群众根本利益,不能抓住关键问题,①④符合题意。漫画中的人受错误价值观影响,因而作出错误的行为选择,②不选。漫画没有涉及矛盾主次方面的辩证关系,③不选。

38. **命题透析** 本题以 2015—2019 年我国部分省市私营企业就业人数以及《2021 中国民营企业 500 强调研报告》为情境,考查就业、企业经营及收入分配的有关知识,考查考生解读信息、运用所学知识描述、阐述问题的能力,考查政治认同等学科素养。

答案要点 (1)2015—2019 年我国部分省市私营企业吸纳的就业人数持续增加,(1 分)“

业吸纳的就业人数远远多于中西部地区,(1分)这说明推动经济发展是解决就业问题的根本举措。(2分)
(2)企业是国民经济的细胞,民营企业应做好做精做强,积极创造社会财富,吸纳更多就业者,为实现共同富裕奠定物质基础;(2分)在初次分配中,民营企业要完善工资分配制度,健全工资合理增长机制,以高质量就业促进劳动者收入水平稳定增加;(2分)在再分配中,民营企业作为完善再分配调节机制的重要力量,应诚信经营,不断创造和提高经济效益,依法纳税,为国家完善再分配机制贡献力量;(3分)在第三次分配中,民营企业应积极开展慈善事业、志愿服务关爱行动等,积极探索慈善公益事业新模式、扶弱济困,回馈社会。(3分)

39. **命题透析** 本题以全国人大对行政法规、地方性法规、司法解释开展备案审查为情境,考查我国民主政治的有关知识,考查考生解读信息、运用所学知识分析、阐述问题的能力,考查政治认同、法治意识等学科素养。

答案要点 人民代表大会制度是坚持党的领导、人民当家做主、依法治国有机的根本政治制度安排。(3分)全国人大常委会在备案审查工作中坚持党的领导,贯彻落实党中央决策部署,保证党中央令行禁止;(3分)坚持拓宽人民利益表达渠道,保障人民群众的知情权、参与权、监督权,激发人民群众参与热情,集思广益、凝聚共识;(3分)加大审查纠正力度,维护国家法治统一、尊严、权威,切实回应人民关切,保障人民民主落到实处。(3分)

40. **命题透析** 本题以推动社会主义文艺繁荣发展,广大文艺工作者义不容辞为情境,考查文化创新、认识社会与价值选择等有关知识,考查考生解读信息、运用所学知识探究、解决问题的能力,考查科学精神等学科素养。

答案要点 (1)人民群众是历史的创造者,也是社会精神财富的创造者。(2分)人民群众的生活和实践是一切精神财富形成和发展的源泉。(2分)人民群众的实践为精神财富的创造提供了必要的物质条件。(2分)广大文艺工作者只有坚守人民立场,才能坚持人民主体地位,从人民群众实践和生活中汲取丰富创作营养;(3分)才能坚持服务人民的正确价值取向,讴歌新时代,弘扬主旋律,创作出无愧于时代和人民的精品力作。(3分)

(2)推动文化形式创新,是文化创新的重要内容,(2分)依托现代科技,融通各类艺术资源,推动文艺形式创新,拓宽文艺空间,有利于开拓文艺新境界。(2分)开拓文艺新境界,还要坚持以人民为中心,讴歌人民群众的伟大实践;(2分)继承中华优秀传统文化,把艺术创作和中华文化价值有机结合;(2分)立足时代之基,丰富文艺内涵,为文艺融入时代声音,推动文艺内容不断创新,彰显文艺魅力。(2分)

(3)广大文艺工作者要坚守中华文化立场,加强同世界各国文学家、艺术家的交流;创作更多彰显中国审美旨趣、传播当代中国价值观念、反映全人类共同价值追求的优秀作品。(每点2分。其他答案言之有理,可酌情给分)



天一大联考
2021—2022 学年高中毕业班阶段性测试(四)

文科综合·历史答案

24~35 小题,每小题 4 分。

24. 答案 C

命题透析 本题以西周至春秋时期的“国人”为背景材料,考查先秦政治制度,旨在考查考生获取和解读信息、调动和运用知识的能力,同时体现了对唯物史观、时空观念、历史解释、家国情怀学科素养的考查。

思路点拨 根据材料中的“社会统治宗族的成员”可知,西周时期的“国人”是宗族血缘社会组织下的产物,战国时期“国人”退出政治历史舞台,说明宗族血缘社会组织结构日益解体,这是战国时期以郡县制为主体的地域建制的社会组织结构取代了宗族血缘的社会组织结构的结果,反映了战国时期国家治理模式的新发展,C 项正确。中国封建时代分封制度一直存在,只是小范围的推行,排除 A 项;材料反映的是宗法秩序的解体,而不是混乱,排除 B 项;宗族血缘的社会组织结构被地域建制的社会组织结构取代,不能说明社会组织结构更加完善,排除 D 项。

25. 答案 D

命题透析 本题以汉代不同农耕区的粮食生产状况为背景材料,考查中国古代农业,旨在考查考生获取和解读信息、调动和运用知识的能力,同时体现了对唯物史观、时空观念、历史解释、家国情怀学科素养的考查。

思路点拨 材料显示,汉代三个农耕区中北方的粮食亩产量最高,说明北方农耕区生产技术水平最高,而西北农耕区水平最低,反映了区域经济发展存在严重的不平衡性,D 项正确。西北农耕区亩产量极低,说明农业生产具有粗放性,因而不能说明精耕细作农业的推广,排除 A 项;材料中没有汉代与前代的比较信息,不能说明耕地利用率的提高,排除 B 项;材料所示的三大农耕区的农作制度都是“一年一熟”,无法说明南方农作技术的进展,排除 C 项。

26. 答案 B

命题透析 本题以宋代统治者对《大学》《中庸》的重视为背景材料,考查宋代理学,旨在考查考生获取和解读信息、调动和运用知识的能力,同时体现了对唯物史观、时空观念、史料实证、历史解释、家国情怀学科素养的考查。

思路点拨 宋代理学是以《论语》《孟子》《大学》《中庸》四书为基础的,统治者赐科举登第者《大学》《中庸》,不仅有利于提高四书的政治地位和影响力,也会激发知识分子对四书的研究,助推儒学新形态理学的形成,B 项正确。统治者通过对儒学的宣扬实现维护统治目的,并非意在抬升理学政治地位,排除 A 项;“知行合一”是明代王阳明提出的,排除 C 项;D 项表述与史实不符,排除。

27. 答案 A

命题透析 本题以明代的规定为背景材料,考查明代政治制度,旨在考查考生获取和解读信息、调动和运用知识的能力,同时体现了对唯物史观、时空观念、历史解释、家国情怀学科素养的考查。

思路点拨 “批红”是皇帝对内阁票拟的处理意见,由于司礼太监代皇帝进行“批红”,因而材料中的规定,意在防范司礼太监借“批红”之机,私改票拟内容,从而维护皇权专制统治,A 项正确。内阁票拟的正确与否,与材料中的举措无关,排除 B 项;材料中的规定明显是针对“批红”,而不是内阁票拟,与限制内阁大臣职权无关,排除 C 项;材料反映了层层监控,保证“批红”的真实,旨在维护皇权,与决策执行效能无关,排除 D 项。

28. 答案 C

命题透析 本题以近代上海农村的“转业”现象为背景材料,考查近代中国经济结构的变动,旨在考查考生获取和解读信息、调动和运用知识的能力,同时体现了对唯物史观、时空观念、史料实证、历史解释、家国情怀学科素养的考查。

思路点拨 材料反映了鸦片战争后,在西方棉织品对家庭纺织业的冲击下,家庭手工业并未因纺织业的破产而衰退,而是以“转业”的方式转向其他类型的手工业,这说明农村手工业生命力顽强,C项正确。材料中的“转业”并非主动发生的,是在家庭纺织业受冲击的情况下被动发生的,排除A项;材料中的“转业”后的生产仍是手工生产,不能说明近代以机器生产的新式工业产生,排除B项;材料不能说明西方商品倾销遭到抵制,排除D项。

29. 答案 B

命题透析 本题以李汉俊的言论为背景材料,考查马克思主义传播,旨在考查考生获取和解读信息、调动和运用知识的能力,同时体现了对唯物史观、时空观念、史料实证、历史解释、家国情怀学科素养的考查。

思路点拨 材料中的“知识阶级”“体力劳动者”明显属于马克思主义唯物史观中的阶级斗争理论,说明李汉俊的观点运用了马克思主义,这是马克思主义影响力增强的体现,B项正确。社会平等理念在辛亥革命宣扬“民权”时就已形成,排除A项;材料观点有助于中国共产党的建立,但不能说明开始筹备建立,排除C项;材料观点只是一种思想,不能说明民主革命阵营走向了联合,排除D项。

30. 答案 C

命题透析 本题以《晋察冀日报》评论“精兵简政”为背景材料,考查抗日战争,旨在考查考生获取和解读信息、调动和运用知识的能力,同时体现了对唯物史观、时空观念、史料实证、历史解释、家国情怀学科素养的考查。

思路点拨 1942年是敌后抗战最艰难的时期,材料中的“工作才能头头是道”“机构精干”说明边区政府实行“精兵简政”是为了进一步提高工作效能,这是为了适应抗战形势需要而采取的举措,C项正确。材料强调的不是减少政府部门的工作负担,而是提高工作的质量,排除A项;材料没有涉及政府工作人员的服务意识,排除B项;材料体现的是要使政府工作正规化、系统化,并没有涉及政府的廉洁与民主,排除D项。

31. 答案 D

命题透析 本题以1962年国民经济部分数据的增长情况为背景材料,考查新中国社会主义建设,旨在考查考生获取和解读信息、调动和运用知识的能力,同时体现了对唯物史观、时空观念、历史解释、家国情怀学科素养的考查。

思路点拨 1961年国家针对农村经济困难,提出了调整国民经济的“八字方针”,材料中的1962年农村经济形势的好转,说明国民经济调整已经初见成效,D项正确。此时期是压缩工业而支持农业,因而材料现象不是工业化带动的结果,排除A项;材料中经济状况是纠正农村经济“跃进”的结果,排除B项;当时国家的经济建设重心仍在工业,排除C项。

32. 答案 A

命题透析 本题以克利斯提尼改革为背景材料,考查古雅典民主政治,旨在考查考生获取和解读信息、调动和运用知识的能力,同时体现了对唯物史观、时空观念、历史解释学科素养的考查。

思路点拨 材料反映了克利斯提尼改革扩大了公民数量,这有利于更多的公民参与政治活动,从而壮大了民主力量,A项正确。雅典民主政治达到顶峰是在伯利克里时期,排除B项;雅典平民参政早在梭伦改革时已实现,克利斯提尼改革使更多的平民有机会参与政治活动,排除C项;材料反映的是改革扩大了公民数量,而不是扩大了公民参政权,排除D项。

33. 答案 D

命题透析 本题以英国金本位制为背景材料,考查世界货币体系,旨在考查考生获取和解读信息、调动和运用知识的能力,同时体现了对唯物史观、时空观念、历史解释学科素养的考查。

思路点拨 材料中的“60%的国际贸易都使用英镑进行计价或结算”说明,英镑已实现货币国际化,拥有了国际货币职能,D项正确。材料现象是世界自由贸易发展的结果,而不是促进了世界自由贸易的形成,排除A项;英镑国际化是英国经济实力强大的结果,而不是提升了英国的经济实力,排除B项;英国工业革命在19世纪上半期已完成,20世纪初是第二次工业革命时期,排除C项。

34. 答案 B

命题透析 本题以对达尔文进化论的评价为背景材料,考查生物进化论,旨在考查考生获取和解读信息、调动和运用知识的能力,同时体现了对唯物史观、时空观念、历史解释学科素养的考查。

思路点拨 材料中的“将人类从最高的阶梯上拉了下来”说明,进化论改变了当时人们对人类的认识,这实际上是挑战了当时流行的“上帝造人”的主流人类观,B项正确。达尔文的生物进化论是对进化论的发展,并非首次提出生物进化论,排除A项;达尔文的进化论虽是生物界的一次革命,但开启自然科学界革命的是哥白尼的“太阳中心说”,排除C项;达尔文的进化论揭示了人类的起源,而不是人类社会发 展规律,排除D项。

35. 答案 A

命题透析 本题以漫画《我们的世界》为背景材料,考查美苏冷战,旨在考查考生获取和解读信息、调动和运用知识的能力,同时体现了对唯物史观、时空观念、历史解释学科素养的考查。

思路点拨 根据材料中的“1948年”“北大西洋”“联盟”可知,这是美国对1949年即将建立的北大西洋公约组织的宣传,说明美国加紧了对苏联的军事对抗,这是冷战步伐加紧的体现,A项正确。马歇尔计划被西欧各国接受说明资本主义阵营开始了联合,而不是北约建立才开始联合,排除B项;美国谋求世界霸权早在1944年的布雷顿森林体系建立时就开始了,排除C项;马歇尔计划是美国的经济援助计划,与美欧是否“联盟”没有关系,排除D项。

41. **命题透析** 本题以孙中山拒绝“三权分立”与美国三权分立体制为背景材料,旨在考查考生获取和解读信息、调动和运用知识、描述和阐释事物的能力,同时体现了对唯物史观、时空观念、历史解释、家国情怀学科素养的考查。

答案要点 (1)原因:“三权分立”体制存在弊端(2分);该体制易使政府运转效果不佳(2分);“三权分立”无法保障平民权益(2分);孙中山意识到“三权分立”体制不适合中国国情(2分)。(8分,言之成理即可)

(2)特点:注重权力相互制约(2分);以追求法治为目的(2分);重视维护权力的动态平衡(2分);忽视国家权力的整体性(2分);具有鲜明的民主性(2分)。(6分,任答3点,言之成理即可)

意义:防止了专制暴政政府的出现(2分);维护了美国民主政治(2分);有利于保障人权和民主自由(2分)。(6分,言之成理即可)

(3)因素:社会政治、经济发展程度(2分);国家政治文化传统(2分);政治理论或思想(2分);政治体制自身的优劣(2分);领导者的见识(2分)。(5分,任答2点,言之成理即可)

42. **命题透析** 本题以唐、北宋、金(或南宋)南北方水利工程兴修次数为背景材料,旨在考查考生获取和解读信息、调动和运用知识、描述和阐释事物、论证和探讨问题的能力,同时体现了对唯物史观、时空观念、历史解释、家国情怀学科素养的考查。

答案要点 示例1:

论题:唐至北宋时南方开发加快,经济重心向南方转移(2分)

论述:唐代北方兴修水利工程的次数,略低于南方,这是因为当时的经济重心仍在北方,但南方地区也

到了进一步开发,说明南北经济发展趋于平衡;北宋时期南方兴修工程的次数明显超过北方,这是因为唐末五代长期战乱,大批北方人口南迁,促进了南方地区的进一步开发,为了保障农业发展,加大了对南方水利工程的兴修;北宋时北方地区长期处于宋与少数民族政权的战争交替之中,而南方地区长期稳定,成为经济发展的重要区域,水利工程兴修的次数自然大幅增加;唐至北宋南方水利工程兴修次数超过北方,也说明经济重心向南方转移,中国古代经济格局发生着历史性转变。(9分,言之成理即可)

综上所述,随着唐、北宋时南方大量水利工程兴建,南方开发的加快,推动了经济重心向南方转移。(1分)

示例2:

论题:北宋至金(或南宋)时南方开发加快,经济重心完全转移到南方(2分)

论述:唐末五代长期战乱,大批北方人口南迁,促进了南方地区的进一步开发,为了保障农业发展,加大了对南方水利工程的兴修;金(或南宋)时,北方陷于金的统治之下,由于经济的衰退,导致了水利工程长期处于失修状态,因而水利工程兴修次数大幅减少;而南方地区由于政治中心的南移和人口的增长,为了保障农业生产发展,大兴修筑水利工程之风,使水利工程兴修的次数大幅超过北方,也说明南方经济已取得优势地位,国家经济重心完全转移到了南方地区。(9分,言之成理即可)

综上所述,两宋时期南方水利兴修加大,南方开发进一步加快,经济重心完全南移。(1分)

(“示例”只作阅卷参考,不作为唯一标准答案。)

45. **命题透析** 本题以清初海关制度的建立为背景材料,旨在考查考生获取和解读信息、调动和运用知识、描述和阐释事物的能力,同时体现了对唯物史观、时空观念、历史解释、家国情怀学科素养的考查。

答案要点 (1)背景:民间海外贸易发展迅速(2分);传统朝贡贸易体系的瓦解(2分);传统市舶制度革新(2分);海禁开放(2分);西方殖民者东来(2分)。(8分,任答4点,言之成理即可)

(2)影响:促进了对外贸易管理的规范化和制度化(2分);推动了东临沿海商品经济的发展(2分);便利了国家对进出口税的征收(2分);为向近代海关转变奠定了基础(2分)。(7分,任答3点,言之成理即可)

46. **命题透析** 本题以日本发动太平洋战争为背景材料,旨在考查考生获取和解读信息、调动和运用知识、描述和阐释事物的能力,同时体现了对唯物史观、时空观念、历史解释学科素养的考查。

答案要点 (1)原因:美国对日本进行经济制裁(3分);日本在亚太地区军事力量占优(3分);掠夺东南亚战略资源的需要(3分);出于建立东亚和太平洋地区霸权的考虑(3分)。(9分,任答3点,言之成理即可)

(2)影响:使第二次世界大战达到规模最大化(2分);客观上有利于减轻中国战场抗战的压力(2分);推动了世界反法西斯联盟的形成(2分)。(6分,言之成理即可)

47. **命题透析** 本题以对张之洞的评价为背景材料,旨在考查考生获取和解读信息、调动和运用知识、描述和阐释事物的能力,同时体现了对唯物史观、时空观念、历史解释、家国情怀学科素养的考查。

答案要点 (1)评价:材料一高度肯定,廉政爱国,兴新政,利国民,是重要的参政大臣(3分);材料二有褒有贬,清正廉洁,爱才好客,广兴洋务,但盲目耗费(3分);材料三全面否定,顽固坚守传统旧学,阻碍中国文明的进步(3分)。(9分,言之成理即可)

(2)原因:政治立场不同(2分);关注角度不同(2分);评价标准不同(2分)。(6分,言之成理即可)

天一大联考
2021—2022 学年高中毕业班阶段性测试(四)

文科综合·地理答案

1~11 小题,每小题 4 分。

1. 答案 D

命题透析 本题以《安徽省人口与计划生育条例》为情景,考查人口问题的相关知识,旨在考查考生获取和解读地理信息、调动和运用地理知识的能力,综合思维的学科核心素养。

思路点拨 《条例》规定一对夫妻可以生育三个子女,其主要目的是提高人口出生率。

2. 答案 A

命题透析 本题以《安徽省人口与计划生育条例》为情景,考查人口问题的相关知识,旨在考查考生获取和解读地理信息、调动和运用地理知识的能力,综合思维、地理实践力的学科核心素养。

思路点拨 提高育龄妇女的受教育程度,可能使育龄妇女初次生育的时间推迟,不利于“三孩”政策落地。

3. 答案 B

命题透析 本题以农业生产托管为情景,考查农业生产类型及其特点,旨在考查考生获取和解读地理信息、调动和运用地理知识的能力,综合思维的学科核心素养。

思路点拨 该模式存在“耕”“种”“储”等环节,应为种植业;该模式可以将全部或部分作业环节委托给农业生产性服务组织完成,说明生产性服务组织可以进行大规模的机械化生产和管理,因此选项中平原谷物种植最符合条件。

4. 答案 D

命题透析 本题以农业生产托管为情景,考查农业生产类型及其特点,旨在考查考生获取和解读地理信息、调动和运用地理知识的能力,综合思维的学科核心素养。

思路点拨 在将全部或部分作业环节委托给农业生产性服务组织后,农户从事其他产业的时间增加,经济收入可能会增加,但农户会将部分农业收入用于支付这些组织的服务费用,因此农户的农业收入可能减少。

5. 答案 B

命题透析 本题以农业生产托管为情景,考查农业生产类型及其特点,旨在考查考生获取和解读地理信息、调动和运用地理知识的能力,综合思维的学科核心素养。

思路点拨 推广循环式农业生产托管模式,可以很大程度上解放农业劳动力,这些劳动力进入城市从事非农业生产活动,有利于提高城市化水平。

6. 答案 C

命题透析 本题以北京市比湿的城郊差异和时间变化为情景,考查城市化对地理环境的影响,旨在考查考生获取和解读地理信息的能力,综合思维的学科核心素养。

思路点拨 读图可知,夏季城区比湿日变化大于郊区,冬季郊区比湿日变化大于城区;夏季郊区比湿整体上大于城区,冬季城区比湿整体上大于郊区。

7. 答案 C

命题透析 本题以北京市比湿的城郊差异和时间变化为情景,考查城市化对地理环境的影响,旨在考查考生获取和解读地理信息、调动和运用地理知识的能力,综合思维、地理实践力的学科核心素养。

思路点拨 读图可知,夏季郊区比湿整体上较城区大。这是因为,一方面,受城市建设的影响,城市下垫面大多是不透水层,地面含水率低,降水后雨水很快流失,地面快速变干,地面可被蒸发的水量少;另一方面,城区植被覆盖率低,植物蒸腾量少于郊区,因此,地面含水率是造成北京市夏季城区与郊区比湿差异的主要因素。

8. 答案 A

命题透析 本题以北京市比湿的城郊差异和时间变化为情景,考查影响空气湿度的因素,旨在考查考生获取和解读地理信息、调动和运用地理知识的能力,区域认知、综合思维的学科核心素养。

思路点拨 北京市夏季受来自海洋的夏季风的影响,降水多,地面可被蒸发(蒸腾)的水量多,比湿大;冬季受来自蒙古—西伯利亚地区的冬季风的影响,降水少,地面可被蒸发(蒸腾)的水量少,比湿小,因此,大气环流是造成冬、夏两季比湿差异的主导因素。

9. 答案 B

命题透析 本题以我国林业生产技术效率均值变化为情景,考查林业的相关知识,旨在考查考生获取和解读地理信息、调动和运用地理知识的能力,区域认知、综合思维的学科核心素养。

思路点拨 全国总体林业生产技术效率均值接近五大林区的平均值,故①表示全国总体;东北林区是我国最大也是最主要的天然林区,林业生产技术效率较高,但由于长期砍伐,天然林面积急剧萎缩,林业由木材生产为主逐渐转向森林、湿地、重要野生生物保护等生态建设为主,林业的经济效益受到了较大削弱,导致其林业生产技术效率下降明显,故②表示东北林区;西北地区的林业生产技术效率最低,则④表示西北林区;③表示南方林区。

10. 答案 D

命题透析 本题以我国林业生产技术效率均值变化为情景,考查自然环境的差异性,旨在考查考生获取和解读地理信息、调动和运用地理知识的能力,区域认知、综合思维的学科核心素养。

思路点拨 ②表示东北林区,③表示南方林区。东北林区属温带季风气候,森林主要分布在大兴安岭、小兴安岭及长白山区,森林类型主要为针叶林和落叶阔叶林;南方林区属亚热带季风气候,森林类型主要为常绿阔叶林。

11. 答案 A

命题透析 本题以我国林业生产技术效率均值变化为情景,考查林业的相关知识,旨在考查考生获取和解读地理信息、调动和运用地理知识的能力,区域认知、综合思维的学科核心素养。

思路点拨 ④表示西北林区。西北林区的甘肃、宁夏和新疆等地多以防护林为主,自然禀赋较差,森林质量不高,因此林业生产技术效率偏低。

36. **命题透析** 本题以德涅斯特湖谷为情景,考查地貌的形成、影响海水盐度的因素、影响河流径流量变化的因素、地理位置对区域发展的影响等知识,旨在考查考生获取和解读地理信息、调动和运用地理知识、论证和探讨地理问题的能力,区域认知、综合思维的学科核心素养。

答案要点 (1)德涅斯特湖谷所在地区原为德涅斯特河谷及河谷两岸,地势低平;后来,黑海周边地区地壳沉降,导致海水倒灌,从而形成德涅斯特湖谷。(每点2分,共4分。其他答案合理可酌情给分)

(2)德涅斯特湖谷封闭程度较高,与黑海的海水交换少,受黑海的影响较小;有德涅斯特河注入,对湖谷内的海水有一定的稀释作用;德涅斯特河径流量季节变化较大;该地区气温季节变化大,海水蒸发强度季节变化大。(每点2分,共8分。其他答案合理可酌情给分)

(3)上游地区冬半年的降水大部分形成积雪,当春季气温回升后,积雪融化补给河流;春季降水量较多,汇入河流的水量较多;春季持续4个月,时间较长。(每点2分,共6分。其他答案合理可酌情给分)

(4) 出海口对于一个国家的对外贸易与交往极其重要;摩尔多瓦东南部距黑海最短距离仅2千米,但没有属于自己的海岸线。(每点2分,共4分。其他答案合理可酌情给分)

37. **命题透析** 本题以青草沙水库为情景,考查水源地选择、影响水库设计和建设的因素、水利工程建设的影响等知识,旨在考查考生获取和解读地理信息、调动和运用地理知识、论证和探讨地理问题的能力、区域认知、综合思维的学科核心素养。

答案要点 (1) 长江是我国入海径流量最大的河流,可取水量大;青草沙水库位于长江入海口的江心部位,水质较好;青草沙水库距离上海市近,输水距离短。(每点2分,共6分。其他答案合理可酌情给分)

(2) 大坝长度长,合龙难度大;长江口风急浪高,流量大,潮汐作用强,水文条件复杂。(每点2分,共4分。其他答案合理可酌情给分)

(3) 上游泵闸:位于水库西北方向,顺着长江水入海方向,便于长江水流入水库,且距海洋较远,可避免涨潮时海水流入水库。(2分。其他答案合理可酌情给分)

下游水闸:位于水库东南方向,距海洋较近,便于落潮时将水库中盐度较高的水体排出。(2分。其他答案合理可酌情给分)

输水泵站:位于水库下游,入库河水经过水库上游和中游沉淀后,悬浮物质减少,水质较高。(2分。其他答案合理可酌情给分)

(4) 有利影响:使上海市自来水来源多样化,保障供水安全;减少了长江入海优质淡水的流失。(每点2分,共4分。其他答案合理可酌情给分)

不利影响:大坝会影响鱼类的季节性洄游;减少营养物质向海洋输送,影响海洋生态系统循环,使局部海域生物多样性减少;使潮汐作用减弱,水体交换减弱,周边海域海洋污染可能加重等。(任答其中2点,每点2分,共4分。其他答案合理可酌情给分)

43. **命题透析** 本题以江苏省旅游业为情景,考查影响景区客流量变化的因素等知识,旨在考查考生获取和解读地理信息、调动和运用地理知识、论证和探讨地理问题的能力、综合思维、地理实践力的学科核心素养

答案要点 特点:游客接待量大,省内游客占比较高;等级高的景区平均接待游客数量较多;春秋季节游客数量多,冬夏季节游客数量少。(每点2分,共6分。其他答案合理可酌情给分)

原因:4月,气温回升,适宜旅游,利用周末进行周边游的省内游客数量增多,从而出现客流量峰值;10月有国庆和中秋假期,全国出游的游客数量庞大,而江苏省5A级景区数量多,对省外游客的吸引力较大,从而出现客流量峰值。(每点2分,共4分。其他答案合理可酌情给分)

44. **命题透析** 本题以海南省农村人居环境整治为情景,考查农村人居环境整治的地理背景及措施,旨在考查考生获取和解读地理信息、调动和运用地理知识、论证和探讨地理问题的能力、区域认知、综合思维的学科核心素养。

答案要点 地理背景:农业面源污染范围广且分散,治理难度大;农村生活垃圾随意丢弃,生活污水随意倾倒;农村基础设施建设滞后;农村经济发展,农民收入提高,村容村貌和人居环境改善需求增大;促进乡村振兴和发展循环经济的需要等。(任答其中3点,每点2分,共6分。其他答案合理可酌情给分)

措施:集中收集禽畜粪污,通过微生物生化处理,生产无害的有机肥;回收农药瓶、包装袋等,对农药包装进行无害化处理,二次使用;用秸秆制饲料,秸秆还田等。(任答其中2点,每点2分,共4分。其他答案合理可酌情给分)

关于我们

北京高考在线创办于 2014 年，隶属于北京太星网络科技有限公司，是北京地区极具影响力的中学升学服务平台。主营业务涵盖：北京新高考、高中生涯规划、志愿填报、强基计划、综合评价招生和学科竞赛等。

北京高考在线旗下拥有网站门户、微信公众平台等全媒体矩阵生态平台。平台活跃用户 40W+，网站年度流量数千万量级。用户群体立足于北京，辐射全国 31 省市。

北京高考在线平台一直秉承“精益求精、专业严谨”的建设理念，不断探索“K12 教育+互联网+大数据”的运营模式，尝试基于大数据理论为广大中学和家长提供新鲜的高考资讯、专业的高考政策解读、科学的升学规划等，为广大高校、中学和教科研单位提供“衔接和桥梁纽带”作用。

平台自创办以来，为众多重点大学发现和推荐优秀生源，和北京近百所中学达成合作关系，累计举办线上线下升学公益讲座数百场，帮助数十万考生顺利通过考入理想大学，在家长、考生、中学和社会各界具有广泛的口碑影响力

未来，北京高考在线平台将立足于北京新高考改革，基于对北京高考政策研究及北京高校资源优势，更好的服务全国高中家长和学生。



微信搜一搜

北京高考资讯

官方微信公众号: bjgkzx

官方网站: www.gaokzx.com

咨询热线: 010-5751 5980

微信客服: gaokzx2018

关注北京高考在线官方微信: [北京高考资讯\(微信号:bjgkzx\)](https://www.gkzxx.com), 获取更多试题资料及排名分析信息。