

房山区2022—2023学年度第一学期诊断性评价

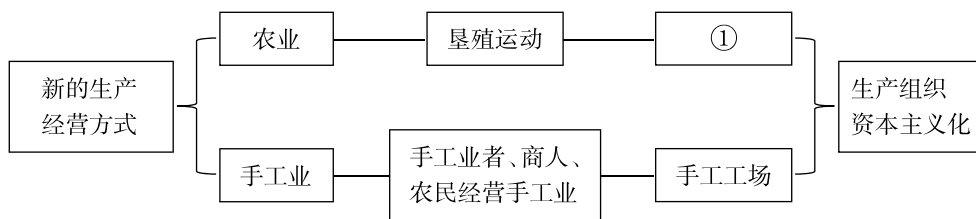
九年级历史

2022.12

第一部分

本部分共 20 题，每题 1.5 分，共 30 分。在每题列出的四个选项中，选出最符合题目要求的一项。

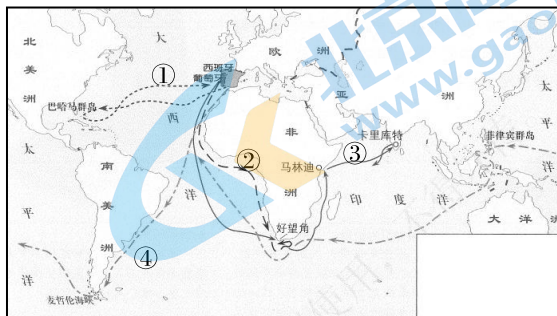
1. 下面西欧经济发展状况的示意图①处应填的内容是 ( )



- A. 手工作坊            B. 庄园            C. 租地农场            D. 城市自治
2. 随着手工业的不断发展，分散的手工工场逐渐转向集中的手工工场。商人不仅向工人提供原料，而且还提供统一的生产工具，工人成为完全出卖劳动力的雇佣劳动者，与雇主形成彻底的雇佣关系。这反映了 ( )
- A. 西欧城市重新兴起            B. 租地农场开始出现  
C. 市民阶层逐渐形成            D. 资本主义萌芽产生
3. 文艺复兴运动采取复兴古代希腊罗马文化的方式，但对古典文化并非是简单的“复兴”，这其中有继承，更有创新。这里的“创新”是指 ( )
- A. 恢复古希腊的公民大会            B. 开辟了欧美之间的新航路  
C. 颁行罗马《十二铜表法》            D. 宣扬资产阶级的思想文化
4. 意大利的文艺复兴运动的先驱是 ( )
- A. 薄伽丘            B. 达·芬奇            C. 但丁            D. 莎士比亚


5. 观察右图，路线与人物对应正确的一组是（ ）

- A. ①---达·伽马
- B. ②---哥伦布
- C. ③---迪亚士
- D. ④---麦哲伦

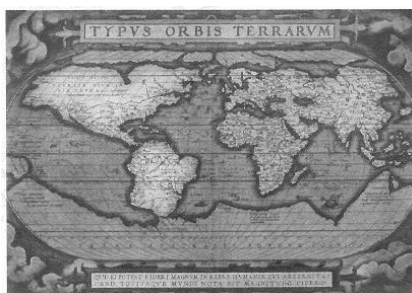


新航路开辟示意图

6. 下面两幅世界地图的变化说明（ ）




15 世纪的世界地图



16 世纪的世界地图


- A. 世界之间的隔阂消除
  - B. 人类对世界的认识范围扩大
  - C. 世界市场已经形成
  - D. 各大洲之间建立了直接的商业联系
7. “论从史出”是学习历史的重要方法之一。“英国从奴隶贸易中所得到的资金甚至超过了国内的积累。英国重要的商业和船运业中心利物浦，本是一个荒僻的小村落，在奴隶贸易中发展成英国的第二大港口。”从这段史料中得出奴隶贸易（ ）
- A. 弥补了英国劳动力的不足
  - B. 促进了英国的资本主义发展
  - C. 促成了新航路的开辟
  - D. 是英国资本原始积累的唯一途径
8. 有位美国学者说：“发现新大陆后，欧洲将文明带往美洲，使今天的美洲得以享有进步的生活。所以，海外拓殖运动对未开发国家是有好处的。”与这位学者的说法相矛盾的史实是（ ）
- A. 亚洲的香料、丝绸更加顺利地输往欧洲
  - B. 美洲的古文明被毁灭，土著居民大量灭绝
  - C. 新大陆的作物传入亚洲，增加了粮食作物的种类
  - D. 促进东西文化交流，扩展彼此视野

9. “在新旧制度转变的过程中，在暴力冲突与和平过渡之间，英国人选择了后者，而且取得了成功。”这里所说的“和平过渡”指的是（ ）
- A. 议会斗争            B. 处死国王            C. 王朝复辟            D. 光荣革命
10. 历史学家汤因比这样评价英国资产阶级革命的成果：“顺利地在新瓶里装了新酒，还不至于引起旧瓶的爆炸。”这里的“新酒”是指（ ）
- A. 议会逐渐成为国家权力中心  
B. 国王仍然掌握国家权力  
C. 革命过程中没有发生战争  
D. 建立起资产阶级共和国
11. 1764年，英国通过“食糖法”，对输入北美的食糖、糖浆、咖啡、丝绸、棉布等商品课以重税，同时规定英国需要的木材、皮革商品，殖民地只能输往英国。为了使该法得到贯彻执行，海关人员和英国军舰加强了对北美走私的打击，这可以用来分析（ ）
- A. 北美经济快速发展的原因            B. 英国资产阶级革命的背景  
C. 三角贸易的影响            D. 美国独立战争的原因
12. 《独立宣言》宣扬天赋人权，但事实上，享有者不包括黑人和印第安人。后来的1787年美国宪法又把5个黑人折合为3个人来计算南方各州的人口总数。这两者（ ）
- A. 激发了美国人的革命热情            B. 深深打上种族歧视的烙印  
C. 促使美国长期稳定和发展            D. 体现了美国的立国精神
13. 为美国的独立和民主国家建设作出卓越贡献的是（ ）
- A. 罗伯斯庇尔            B. 克伦威尔            C. 拿破仑            D. 华盛顿
14. 某同学整理了关于法国大革命的重大事件时间轴，空格中应填入的内容是（ ）



- A. 三级会议召开            B. 巴黎人民攻占巴士底狱  
C. 处死路易十六            D. 法兰西第一帝国建立

15. “19 世纪初期，他不仅敲响了欧洲封建秩序的丧钟，而且使欧洲大陆各国面临罗马帝国崩溃以来最严重的霸权威胁。”此材料（ ）
- A. 对拿破仑的评价具有片面性  
B. 主要评价了拿破仑的历史功绩  
C. 客观地评价了拿破仑的活动  
D. 着重强调拿破仑的历史局限性
16. 《全球通史》中写道：（这个人及其发明的）历史意义，无论怎样夸大也不为过。它提供了控制和利用热能、为机械提供动力的手段。因而，它结束了人类对畜力、风力和水力的由来已久的依赖。”这个人及其成就是指（ ）
- A. 哈格里夫斯发明珍妮机  
B. 瓦特改进了蒸汽机  
C. 斯蒂芬森发明了蒸汽机车  
D. 富尔顿发明蒸汽轮船
17. 引起下图中英国就业人口结构变化的主要事件是（ ）



- A. 光荣革命  
B. 殖民扩张  
C. 三角贸易  
D. 工业革命
18. “在 1750 年，中国与西方的差距并不大，到了 1850 年，双方的差距不啻天壤之别。这不仅是中国与西方的差距，也是东西方的差距。到 19 世纪中期，印度完全沦为殖民地，地跨欧亚非的奥斯曼帝国风雨飘摇，伊朗横遭列强干涉。”西方能够超越东方的主要原因是（ ）
- A. 文艺复兴和新航路开辟的影响  
B. 资产阶级革命和工业革命的爆发  
C. 西方的专制统治不如东方根深蒂固  
D. 西方国家有得天独厚的地理优势
19. “随着大工业的发展，资产阶级赖以生产和占有产品的基础本身也就从它的脚下被挖掉了。它首先生产的是它自身的掘墓人。”材料中“掘墓人”是指（ ）
- A. 庄园农奴  
B. 市民阶层  
C. 黑人奴隶  
D. 无产阶级



20. 1870年，法国在普法战争中失败，社会矛盾激化。1871年3月18日，巴黎的无产阶级和人民群众举行武装起义，于3月28日建立世界上第一个无产阶级政权是（     ）
- A. 共产主义者同盟
  - B. 第一国际
  - C. 巴黎公社
  - D. 联邦政府

### 第二部分

本部分共4题，共40分。

21. （10分）民主与法制

材料一

知识卡片 1	知识卡片 2	知识卡片 3
启蒙思想：宣传自由、平等和民主，反对专制，提倡对民众进行启蒙教育，用理性之光驱散愚昧的黑暗。	《独立宣言》内容：“人人生而平等”享有“生命权、自由权和追求幸福的权利”	《人权宣言》内容：“在法律面前，所有的公民都是平等的”“平等的担任一切官职、公共职位和职务”

（1）请依据材料一并结合所学，说说知识卡片1和知识卡片2、3的内在联系。（2分）

材料二

法律文件	《 ① 》	1787年宪法
主要内容	1. 凡未经议会同意，以国王权威停止法律或停止法律实施之僭越权力，为非法权力。 9. 议会内之演说自由、辩论或议事之自由，不应在议会以外之任何法院或任何地方，受到弹劾或讯问。	1.1 本宪法所规定的立法权，全属合众国的国会。 2.1 行政权力赋予美利坚合众国总统。总统有权缔订条约，但须争取参议院的意见和同意。 3.1 合众国的司法权属于一个最高法院以及由国会随时下令设立的低级法院。
确立制度	君主立宪制	②

(2) 请依据材料二并结合所学，将表格补充完整。(2分) 分析 1787 年宪法体现的原则，并依据材料简要说明。(2分)




材料三

《拿破仑法典》	
内容摘编	传播情况
第 8 条 所有法国人都享有民事权利。 第 537 条 私人得自由处分属于其所有的财产。 第 545 条 任何人不得被强制出让土地所有权。	非洲的阿尔及利亚的相关法典在很大程度上都是《拿破仑法典》相应部分的翻版。美洲的《路易斯安那民法典》(1825) 以它为蓝本。它对意大利、西班牙、德国等地区，产生了程度不同的影响。它对叙利亚、黎巴嫩等国的民事立法都产生了直接或者间接的影响。

(3) 请依据材料三并结合所学，概括《拿破仑法典》的核心原则。(2分) 分析《拿破仑法典》的影响。(2分)

22. (11分) 交通·贸易·进步

材料一 中国古代交通工具的考古成果(部分)

 <p>秦始皇陵铜车马</p>	 <p>跨湖桥独木舟</p>	 <p>“南海一号”沉船</p>
<p>①出土于陕西临潼秦始皇陵西侧通往地宫的甬道，是中国考古史上发现最早、体形最大、保存最完整的青铜车马。</p>	<p>②出土于中国杭州跨湖桥遗址。距今 8000—7000 年，是迄今世界上发现最早的独木舟之一，被誉为“中华第一舟”。</p>	<p>③“南海一号”是南宋初期的古沉船，是迄今为止世界上发现的海上沉船中年代最早、船体最大、保存最完整的远洋贸易商船。</p>

- (1) 将材料一中的考古成果按照所属的历史时期排序。(2分,写序号)任选一项成果,说明其反映的社会发展状况。(2分,示例除外)
- 示例:②;说明中国是世界上最早制作独木舟的国家之一,反映了我国原始社会晚期已经有水上交通工具,原始手工业发展。

材料二



元朝交通路线图

成书于元成宗时期的陈大震《南海志》记录了一百四十多个国家和地区的名字。……元朝主要出口丝织品、瓷器、金银器、铁器、漆器等,进口象牙、珍珠、犀角、钻石、香料等商品。在泉州、广州等城市设有市舶司,专门管理海外贸易。元代的泉州被称为世界上最大的海港之一。通过陆路进行的对外贸易,仍有相当规模。与前代相比,元朝与外国的联系有显著发展。

——袁行霈等《中华文明史》

- (2) 依据材料二概括元朝对外贸易的主要特点。(2分)并结合时代背景,分析元朝对外贸易繁荣的原因。(2分)

材料三

一路喷吐黑色烟雾的机车，满载着煤炭、钢铁、机器和谷物、肉类，驰骋于英伦三岛；旅行者以往靠双腿、马车经过数日乃至数月跋涉和颠簸才能到达的目的地，现在跨上火车几个小时就解决了问题；远洋货轮（蒸汽轮船）把英国的消费商品运销到世界每个角落，又把英国所需要的各种工业原料、生活用品运回。

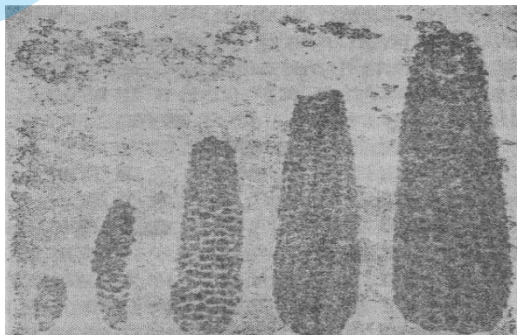
——王斯德《世界通史》

(3) 依据材料三并结合所学，从对内、对外两个角度，分析英国交通运输业发展的作用。

(3分)

23. (9分) 玉米为人类的生存和发展做出巨大贡献

材料一 关于“玉米”的研究与记录

	<p>(美洲某岛) 岛民们也用一种小米容易地制成面包。该小米棒比手掌略长，一头略细，约有手臂的上半部那么粗。该谷粒具有豆粒的形状和大小。当它们生长时为白色……磨成粉时雪白。这种谷粒叫“玉米”。我的信使也将带给阁下一些他们用以做面包的那些种子。</p>
<p>①近代考古学家在美洲的墨西哥、秘鲁、智利等地古墓和废墟里，从不同层次中发掘出几千年来不同时期的玉米穗轴化石。</p>	<p>②参与过哥伦布第二次远航的安格勃利亚于1494年5月3日致信罗马教廷国务大臣阿·斯福尔札的信件</p>

(1) 写出①②的史料类型。(2分) 说说依据材料一，能够得出的结论。(1分)

密  
封  
线  
内  
不  
能  
答  
题



材料二

公元 1494 年以后，玉米沿着三条路线开始了它的环球旅行。第一路：随着地中海的航船玉米果穗被带到葡萄牙、意大利、土耳其、北非等一些地区。16 世纪少有的饥荒，玉米的食用价值逐渐为人们所认识，迅速在南欧很多国家传播开来。第二路：16 世纪 20 年代，通过地中海沿岸国家人民的商业往来，玉米从非洲北部的突尼斯传入埃及、苏丹和埃塞俄比亚。公元 1550 年，葡萄牙殖民者把玉米带至西非的象牙海岸，以后沿着殖民主义者贩卖黑人奴隶的道路，把玉米作为奴隶的食品带至南非很多国家。第三路：玉米通过陆路从土耳其经伊朗、阿富汗传入东亚；另一路通过 16 世纪中期葡萄牙人开辟的东方航线，经非洲好望角至马达加斯加岛，尔后传播至印度和东南亚各国。

——冬屏亚《玉米地起源、传播和分布》

- (2) 依据材料并结合所学，说出促使玉米能够实现“环球旅行”的历史事件。(1 分)  
概括玉米传播到世界各地的途径。(2 分)

材料三：玉米在中国的种植与推广



《本草纲目》中所附玉米图

玉蜀黍重出西土，种者亦罕。  
——(明)李时珍《本草纲目》



清朝吴其潜绘制的玉米

川陕两湖凡山田皆种之，俗乎苞谷。  
——(清)吴其潜《植物名实图考》

- (3) 依据材料，说说玉米在中国种植情况的变化。(1 分) 结合所学，分析玉米的种植与推广对清朝社会的影响。(2 分)

24. (10分) 东西方的思想共同促进了人类文明的进步。

材料一

战国时期主要学派及代表人物的思想

学派	代表人物	主要主张
儒家	孟子	
道家	庄子	
墨家	墨子	“兼爱” “非攻”
法家	韩非子	

① “事在四方，要在中央。圣人执要，四方来效。”

② “民为贵，社稷次之，君为轻”

③ 治国要顺应自然和民心

(1) 将上面的思想主张填入表格中的相应的位置。(3分，只填序号) 说出这一思想文化繁荣局面历史上的名称。(1分)

材料二

薄伽丘的《十日谈》面对现实，描写的是完全的世俗生活，着意刻画的是“人”，而不再是天堂幸福和梦幻似的虚无缥缈的“神”……他通过讲故事，描绘了意大利广阔的社会生活画面，把人间的百态、人间的欢乐和幸福、形形色色的人物，作为自己描写的中心。

——吴泽义《文艺复兴时代的巨人》

(2) 依据材料说出文艺复兴运动的主要核心思想。(1分) 结合材料进行说明。(2分)

材料三

马克思在中学毕业时就立志为全人类服务。大学毕业后他来到巴黎，深入调查工人的生活 and 劳动状况，经常参加工人集会和斗争，同时也进行了紧张的理论研究工作，由于从事革命活动，马克思、恩格斯遭到各国反动政府的迫害，过着颠沛流离的生活，但是他们没有退缩。通过不断总结革命斗争的实践经验，以及吸收前人优秀的思想成果，马克思、恩格斯创立了马克思主义理论。在生命的最后10年，马克思的身体状况极其恶化，仍笔耕不辍，因劳累而倒在安乐椅上永远地睡着了。

——摘编自《普通高中课程标准实验教科书·中外历史人物评说》(人民版)

(3) 结合所学知识，写出1848年发表的标志马克思主义诞生的重要文献(1分)。依据材料三说说，马克思为什么能将青少年时期的崇高理想发展成为共产主义思想。(2分)

## 关于我们

北京高考在线创办于 2014 年，隶属于北京太星网络科技有限公司，是北京地区极具影响力的中学升学服务平台。主营业务涵盖：北京新高考、高中生涯规划、志愿填报、强基计划、综合评价招生和学科竞赛等。

北京高考在线旗下拥有网站门户、微信公众平台等全媒体矩阵生态平台。平台活跃用户 40W+，网站年度流量数千万量级。用户群体立足于北京，辐射全国 31 省市。

北京高考在线平台一直秉承 “精益求精、专业严谨” 的建设理念，不断探索 “K12 教育+互联网+大数据” 的运营模式，尝试基于大数据理论为广大中学和家长提供新鲜的高考资讯、专业的高考政策解读、科学的升学规划等，为广大高校、中学和教科研单位提供 “衔接和桥梁纽带” 作用。

平台自创办以来，为众多重点大学发现和推荐优秀生源，和北京近百所中学达成合作关系，累计举办线上线下升学公益讲座数百场，帮助数十万考生顺利通过考入理想大学，在家长、考生、中学和社会各界具有广泛的口碑影响力

未来，北京高考在线平台将立足于北京新高考改革，基于对北京高考政策研究及北京高校资源优势，更好的服务全国高中家长和学生。



微信搜一搜

北京高考资讯