

# 2017 年北京市夏季普通高中会考

## 历史 试 卷

考 生 须 知	1. 考生要认真填写考场号和座位序号。 2. 本试卷共 10 页，分为两个部分，第一部分为选择题，50 个小题（共 50 分）；第二部分为非选择题，三道大题（共 50 分）。 3. 试题所有答案必须填涂或书写在答题卡上，在试卷上作答无效。第一部分必须用 2B 铅笔作答；第二部分必须用黑色字迹的签字笔作答。 4. 考试结束后，考生应将试卷和答题卡放在桌面上，待监考员收回。
------------------	---

### 第一部分 选择题 （每小题 1 分，共 50 分）

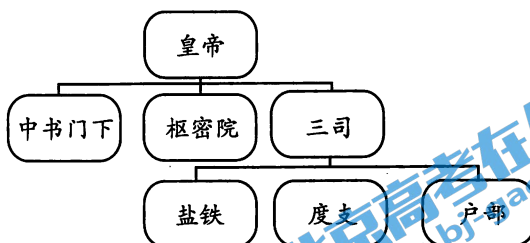
在下列各题的四个选项中，只有一项是符合题意的。

1. 《大明令·户令》规定：“凡嫡庶子男，除有官荫袭，先尽嫡长子孙，其分析家财田产，不问妻妾婢生，上依子数均分……”该规定沿袭的是

- A. 禅让制                      B. 宗法制                      C. 礼乐制                      D. 郡县制

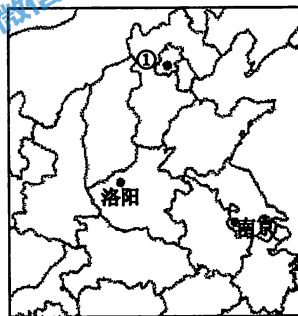
2. 右图所示的中央机构存在于

- A. 秦朝  
B. 汉朝  
C. 宋朝  
D. 明朝



3. 右图中的①代表中国古代的重要都城，发生在此处的历史事件是

- A. 嬴政创立皇帝制度  
B. 唐太宗改革三省六部  
C. 明太祖废除丞相制度  
D. 雍正帝设立军机处



4. 2013 年 6 月，法国皮诺家族向中国政府捐赠流失海外的圆明园十二大水法中的青铜鼠首和兔首。近代焚劫圆明园的侵略者是

- A. 俄国军队                      B. 英法联军                      C. 美国军队                      D. 八国联军

5. 有学者对某史事是这样描述的：“挟千里席卷之势，长歌涌入金陵，开始建造人间小天堂，曾是他们的喜剧；天京陷落，天堂之梦在烟焰和烈火中化为灰烬，则是他们的悲剧。”这描述的是

- A. 虎门销烟  
B. 太平天国运动  
C. 义和团运动  
D. 南京国民政府成立

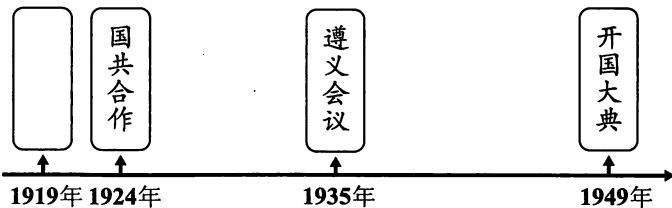
6. 下面资料出自中国近代某不平等条约，该条约是

- A. 《南京条约》  
B. 《天津条约》  
C. 《马关条约》  
D. 《辛丑条约》

第一款 中国认明朝鲜国确为完全无缺之独立自主国……  
第四款 中国约将库平银2亿两交与日本，作为赔偿军费……  
第六款 第四条 日本臣民得在中国通商口岸、城邑任便从事各项工艺制造……

7. 制作年代尺是学习历史的重要方法。下面新民主主义革命时期年代尺的空白处应填写

- A. 五四运动  
B. 国民革命  
C. 红军长征  
D. 重庆谈判



8. 20世纪20年代，中国共产党开创了“农村包围城市，武装夺取政权”的革命道路。这一道路始于

- A. 中共一大的召开  
B. 革命统一战线的建立  
C. 南昌起义的爆发  
D. 井冈山革命根据地的创建

9. 阅读下面世界反法西斯战争简表，结合所学可以得出的结论是

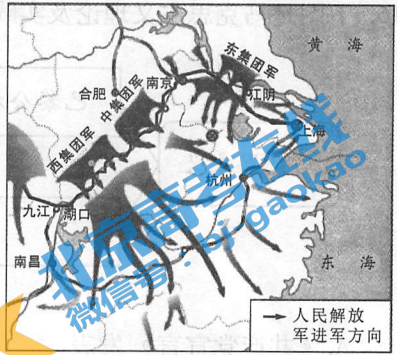
战场名称	起止时间
欧洲战场	1939年9月1日~1945年5月8日
苏德战场	1941年6月22日~1945年5月8日
太平洋战场	1941年12月7日~1945年9月2日
中国战场	1931年9月18日~1945年8月15日

- ①中国反法西斯战争开始时间最早，持续时间最长  
②中国抗日战争是世界反法西斯战争重要组成部分  
③抗日战争是中国百年来第一次反侵略的战争  
④全民族抗战是中国抗日战争胜利的主要原因

- A. ①②③  
B. ②③④  
C. ①②④  
D. ①③④

10. 右图所示的战役是

- A. 辽沈战役
- B. 淮海战役
- C. 平津战役
- D. 渡江战役



11. 20 世纪 50 年代，我国民主政治制度建设取得的重大成果是

- A. 创立人民代表大会制度
- B. 进行了社会主义改造
- C. 提出“一国两制”构想
- D. 村民直接选举村委会

12. 20 世纪 70 年代，中国外交取得的重大成就是

- A. 提出“另起炉灶”方针
- B. 提出和平共处五项原则
- C. 提出“求同存异”方针
- D. 恢复中国在联合国的合法席位

13. 《全球通史》中指出：“公民大会是处理雅典事务的最高权力机构……伯利克里还建立许多由陪审团做最后决定的民众法庭，陪审员由抽签产生，所有公民都可担任。”材料反映出雅典民主政治的特点有

- ①直接民主
  - ②轮番而治
  - ③比例代表制
  - ④差额选举制
- A. ①②      B. ①④      C. ②③      D. ③④

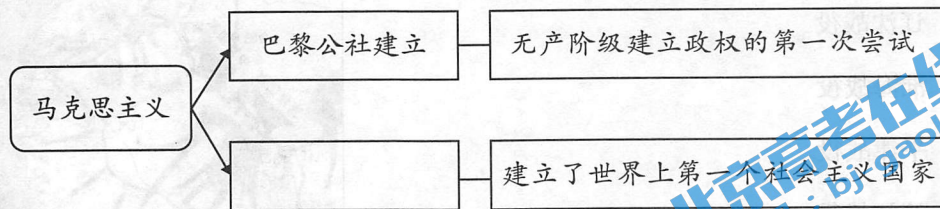
14. 2016 年 7 月 13 日《泰晤士报》报道：英国历史上第二位女首相特雷莎·梅正式走马上任，接受伊丽莎白二世女王的任命，组建新政府。这反映出英国政治体制的特点是

- A. 首相对国王负责
- B. 首相掌握了行政权力
- C. 议会对内阁负责
- D. 议会与国王集体统治

15. 1871 年的德意志帝国宪法规定：帝国立法权由联邦议会和帝国议会两院制议会行使，联邦议会由各邦代表组成，帝国议会由成年男子选举产生。这说明此宪法

- A. 体现了君主专制统治
- B. 实行了三权分立原则
- C. 具有一定的民主色彩
- D. 保留了军国主义传统

16. 下图是马克思主义理论及实践的示意图。空白处应为



- A. 《共产党宣言》发表  
B. 法国大革命爆发  
C. 俄国十月革命胜利  
D. 新中国的成立

17. “冷战”对战后国际关系产生深远影响。下列史事发生在“冷战”背景下的是

- A. 联合国的成立    B. 柏林墙的修建    C. 欧盟正式成立    D. 美国 9.11 事件

18. 《华阳国志》卷三《蜀志》记载：“灌溉三郡，开稻田，于是蜀沃野千里，号为陆海。”这描述的是

- A. 白渠    B. 漕渠    C. 坎儿井    D. 都江堰

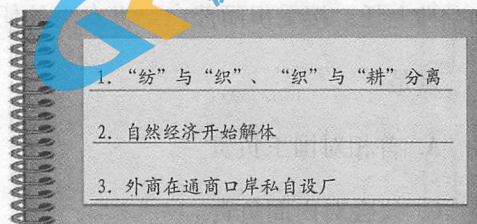
19. 唐诗《田家》中写道：“倚床看妇织，登垅课儿锄。”这反映了

- A. 农村商品经济的发达    B. 男耕女织的小农经济  
C. 家庭手工业规模扩大    D. 重农抑商的经济政策

20. 在中国古代的纺织、制瓷等行业中，私营手工业超过官营手工业占据主导地位是在

- A. 商朝    B. 唐朝  
C. 宋朝    D. 明朝

21. 右图是某同学的历史课堂笔记。其内容所反映的经济现象始于



- A. 鸦片战争后    B. 洋务运动后  
C. 甲午战争后    D. 戊戌变法后

22. 李鸿章说：“中国积弱，由于患贫。必须先求富，而后才能自强。”下列企业体现“求富”思想的是

- A. 创办江南制造总局    B. 开办轮船招商局  
C. 成立天津机器制造局    D. 创办福州船政局

23. 看到发昌机器厂、继昌隆缫丝厂、贻来牟机器磨坊等企业的资料，你会联想到的历史现象是


- A. 列强开始在中国投资办厂
- B. 农工商总局的成立
- C. 清政府放宽民间设厂限制
- D. 民族资本主义产生

24. 长春第一汽车制造厂生产出首批解放牌大卡车是在

- A. 新中国国民经济恢复期间
- B. 第一个五年计划期间
- C. “大跃进”运动期间
- D. “文化大革命”期间

25. 右图是 20 世纪 50 年代经济建设的宣传画，它反映了当时

- A. 农业生产的真实情况
- B. 经济建设的重大成就
- C. 不切实际的浮夸之风
- D. 农业科技的巨大进步



26. 1979 年前，“凤阳地多不打粮，碾子一住就逃荒。只见凤阳女出嫁，不见新娘进凤阳。”到 1979 年，凤阳全县粮食产量比 1978 年增长 49%，卖给国家粮食 4450 万千克。出现这种变化的原因是

- A. 农业社会主义改造的完成
- B. 人民公社化运动的开展
- C. “大跃进”运动的开展
- D. 家庭联产承包责任制的实行

27. 有一首歌的歌词写道：“1979 年，那是一个春天，有一位老人在中国的南海边画了一个圈，神话般地崛起座座城，奇迹般地聚起座座金山……”这里“画了一个圈”是指

- A. 建立深圳等经济特区
- B. 建立环渤海经济开放区
- C. 开发上海浦东新区
- D. 开发河北雄安新区

28. 有学者认为：“新航路开辟以后，欧洲的商人和殖民者在欧洲、亚洲、非洲、美洲之间建立了直接的商业联系。”这表明

- A. 亚非拉地区资本主义经济发展
- B. 世界市场的雏形开始出现
- C. 资本主义世界殖民体系的确立
- D. 经济贸易活动取代殖民战争

29. 1830 年后英国煤产量迅速增长，其主要原因是

- A. 蒸汽机的广泛应用
- B. 内燃机的广泛应用
- C. 发电厂的广泛建立
- D. 城市人口迅速增长

30. 19 世纪后期，英国有钱人以坐船游览伦敦的泰晤士河为时尚，但是这一时期河水已经浑浊不堪，臭气熏天。由此可见

- A. 水力成为主要的能源
- B. 工业革命造成了环境污染
- C. 城市日益喧嚣和拥挤
- D. 工业革命助长了奢侈风气

31. 苏俄农民说：“土地属于我们，但面包却属于你们；森林属于我们，但木材却属于你们；水属于我们，但鱼却属于你们。”农民的不满主要针对于
- A. 战时共产主义政策  
B. 新经济政策  
C. 农业集体化  
D. 土地私有化
32. 在罗斯福新政期间，政府一方面成立联邦紧急救济署，给老人、残疾人提供社会救济，另一方面制订了一个大规模的公共工程计划来吸收无职业者。这些措施的影响是
- ①刺激了消费和生产  
②抑制了通货膨胀  
③稳定了社会秩序  
④抑制了股票投机
- A. ①③  
B. ②④  
C. ①④  
D. ②③
33. 1948年，英国宣布要建设“从摇篮到坟墓”均有保障的国家。这指的是
- A. 国家保障人民充分的民主  
B. 福利国家制度的建立  
C. 军队为国民提供安全保障  
D. 普遍实施国有化政策
34. 二战后，稳定国际汇率，对国际收支出现暂时困难的成员国提供短期贷款的国际金融组织是
- A. 国际货币基金组织  
B. 国际复兴开发银行  
C. 关贸总协定  
D. 世界贸易组织
35. 孔子是我国古代伟大的思想家、教育家。要了解他的思想，可以查阅的著作是
- A. 《道德经》  
B. 《论语》  
C. 《墨子》  
D. 《楚辞》
36. “宇宙便是吾心，吾心即是真理”。提出这一主张的思想家是
- A. 程颐  
B. 程颢  
C. 朱熹  
D. 陆九渊
37. 明朝后期，黄宗羲提出以“天下之法”取代皇帝的“一家之法”，反映其政治主张是
- A. 维护旧礼教  
B. 提倡经世致用  
C. 反对君主专制  
D. 主张君主立宪
38. 北朝时期，总结我国黄河中下游农业生产经验，并且为我国现存最完整的农书是
- A. 《汜胜之书》  
B. 《齐民要术》  
C. 《农书》  
D. 《农政全书》
39. 中国古代四大发明对欧洲近代社会产生重要影响。其中“替宗教改革开路，并使推广民众教育成为可能”的是
- A. 指南针与印刷术  
B. 造纸术与火药  
C. 火药与指南针  
D. 印刷术与造纸术
40. 清朝在“徽汉合流”的基础上形成的新剧种是
- A. 川剧  
B. 杂剧  
C. 昆曲  
D. 京剧

41. 右图出自 2016 年第 12 期《连环画报》中的“孙中山与辛亥革命”，图中横线处文字应是



- A. 民有、民治、民享
- B. 自由、平等、博爱
- C. 民族、民权、民生
- D. 民主、科学、法制

42. 1915 年陈独秀在上海创办《青年杂志》。该杂志作为史料可以直接用于研究

- A. 百日维新
- B. 黄花岗起义
- C. 新文化运动
- D. 北伐战争

43. “感动中国”组委会给予某位科学家的颁奖词中有：“他毕生的梦想，就是让所有人远离饥饿。”该科学家是

- A. 袁隆平
- B. 邓稼先
- C. 李四光
- D. 钱学森

44. 20 世纪 90 年代以来，党和政府把教育事业摆在优先发展的地位，表现在

- A. 开展识字教育
- B. 恢复高考制度
- C. 制定《义务教育法》
- D. 提出“科教兴国”战略

45. 对文艺复兴时期人文主义核心精神的表述，准确的是

- A. 肯定人的价值，强调发展个性
- B. 反对宗教神学，倡导天赋人权
- C. 提倡生而平等，主张民主政治
- D. 强调科学精神，反对宗教信仰

46. 17~18 世纪，启蒙思想成为人们追求解放的精神武器。下列观点属于启蒙思想的是

- A. 美德即知识
- B. 君权神授
- C. 因信称义
- D. 天赋人权

47. 某位科学家阐明的基本定律成为所有力学的基本出发点。他还用万有引力解释了潮汐现象，他的理论还导致了后来一系列天文学的新发现。该科学家是

- A. 托勒密
- B. 哥白尼
- C. 牛顿
- D. 爱因斯坦

48. 开创浪漫主义音乐先河，在《命运交响曲》中表现了与命运抗争精神的音乐家是

- A. 德彪西
- B. 莫扎特
- C. 贝多芬
- D. 李斯特

49. 在美术创作上，某画派强调直接描绘阳光下的物象，表现微妙的色彩变化，追求强烈的个人感受。该画派的风格属于

- A. 浪漫主义
- B. 古典主义
- C. 印象主义
- D. 现代主义

50. 改造了爱迪生创造的“西洋镜”，将活动影像投影放大，让更多人能够同时观赏，电影由此产生。其发明者是

- A. 卢米埃尔兄弟
- B. 卓别林
- C. 格里菲斯
- D. 贝克福特

## 第二部分 非选择题 (共50分)

一、新的政治制度总是孕育在社会大变革时期，并各具特色。回答下列问题。(本题共18分)

七国乃是以春秋时代许多战争而产生的集权国家，已不是原来的封建诸侯国。这些集权国家的政权在官僚士大夫之手而不在封建贵族之手。一些国君意识到，要想比对手在王位上坐得更久，就不能让地方封建领主继续分享他的权威。领地不能再作为封邑在亲属和公子之间进行分封。春秋末年，普遍的做法是任命地方官来管理各个地区。许倬云先生将这种国家称之为“新型国家”。

——摘编自刘建军《古代中国政治制度十六讲》

1. 依据材料并结合所学，概括“新型国家”的主要特征。(6分)

1877年，总统、内阁和议会的责任得到进一步澄清。这次选举维护了议会至上的原则，以及总理与其内阁对立法机关负责的原则……在共和制的法兰西，很长时间内真正的执政者并非成了礼仪人物的总统，而是总理和他的内阁，他们严格地对立法机关的多数负责。不幸的是，一个议会里往往有一打左右的党派存在，总是难以形成多数。

——(美) R. R. 帕尔默等《现代世界史》

2. 依据材料并结合所学，比较19世纪法国与美国共和制的不同。(6分)

民国的诞生是中国历史上一个具有划时代意义的事件，因为它结束了长达二千余年的王朝时代。中国不再隶属于任何“天子”或任何王朝，而归属于全体民众。革命的胜利不仅实现了两个半世纪以来民族主义革命传统的梦想，而且还超越了狭隘的种族诉求，将政权从满清那里解放出来，将它扩大到所有中国人：汉人、满人、蒙古人、回人和西藏人。从1911年10月10日武昌起义爆发至1912年1月1日共和国成立，其间仅共有83天。这样迅速的胜利在世界上其他任何伟大的革命中是罕有其匹的。

——徐中约《中国近代史》


3. 依据材料并结合所学，从政治变革的角度说明“民国的诞生是中国历史上一个具有划时代意义的事件”。(6分)

二、史料研习是历史学习的重要途径。回答下列问题。(本题共 16 分)


材料一 乾德三年(公元 965 年)四月十三,宋太祖诏令开封府:“令京城夜市至三鼓以来,不得禁止。”宋仁宗时朝廷下令允许民间向街开店。

材料二 北宋中期“坊市之名,多失标榜。”汴梁皇城东北角的潘楼酒店,“其下每日自五更市合,买卖衣物书画、珍玩犀玉,至天明,羊头、肚肺……野味、螃蟹、蛤蜊之类论,方有诸手作人上市,买卖零碎作料,然后饮食上市。”


1. 阅读材料,分别概括材料一和材料二的核心内容,说明两则材料在研究宋代经济时的不同用途。(4 分)



上海街景 - 《图画日报》



上海建筑 - 《点石斋画报》



上海室内陈设 - 《点石斋画报》

2. 观察以上图像资料,说明与古代城市相比,晚清上海城市的新变化。依据所学知识分析变化原因。(6 分)

1951~1980 年主要资本主义国家经济数据一览表

内容	国家	美国	日本	西德	法国	英国
出口贸易增长率		10.7	18.4	16.5	12.8	10.3
国内生产总值增长率		3.3	8.1	5	4.5	2.4

(依据黄光耀《从世界视角看战后科技革命对世界的影响》)

3. 阅读上表,提炼一个观点,结合所学知识加以简单论证。(要求:观点明确;史实充分;逻辑清晰)(6 分)

三、思想演变与社会发展息息相关。回答下列问题。(本题共 16 分)

儒学之所以成为中国传统思想主干，还在于原始儒学本身的多因素多层次结构所具有的包容性质，这使它能不断地吸取融化各家，在现实秩序和心灵生活中构成稳定系统。由于有这种稳定的反馈系统适应环境，中国传统思想一般表现为重“求同”。它通过“求同”来保持和壮大自己，具体方式则经常是以自己原有的一套来解释、贯通、会合外来的异己的东西，就在这种会通解释中吸取了对方，模糊了对方的本来面目而将之“同化”。

——摘编自李泽厚《中国古代思想史论》

1. 作者认为儒学的突出特点是什么？请以汉代儒学为例加以说明。(6分)

大约在公元前 5 世纪中期，希腊开始了一场知识革命。它与雅典的民主高峰期相伴。公民权势的上升、个人主义的成长和解决实际问题的需要导致了对旧思维方式的反动。结果一些希腊哲学家放弃了对物质世界的研究，转而思考与个人关系更密切的题目。新知识倾向的倡导者首推诡辩家。

——菲利普·李·拉尔夫《世界文明史》

2. 材料描述了古希腊哪一思想学派？这一学派的积极影响有哪些？(6分)

臣窃闻东西各国之强，皆以立宪法开国会之故，国会者，君与国民共议一国之政法也。盖自三权鼎立之说，以国会立法，以法官司法，以政府行政，而人主总之，立定宪法，同受治焉……故人君与千百万之国民，合为一体，国安得不强？

——康有为《请定立宪开国会折》

3. 依据材料概括康有为的核心主张。(4分)

# 2017年北京市夏季普通高中会考

## 历史试卷答案及评分参考

### 第一部分 选择题 (共50分)

题号	1	2	3	4	5	6	7	8	9	10
答案	B	C	D	B	B	C	A	D	C	D
题号	11	12	13	14	15	16	17	18	19	20
答案	A	D	A	B	C	C	B	D	B	D
题号	21	22	23	24	25	26	27	28	29	30
答案	A	B	D	B	C	D	A	B	A	B
题号	31	32	33	34	35	36	37	38	39	40
答案	A	A	B	A	B	D	C	B	D	D
题号	41	42	43	44	45	46	47	48	49	50
答案	C	C	A	D	A	D	C	C	C	A

### 第二部分 非选择题 (共50分)

#### 一、本题共18分

1. 特征：实行集权统治而非分权治理；任命官僚而非贵族世袭；设置郡县而非分封诸侯。(6分)
2. 不同：法国的行政权由总理和内阁掌握，总统是礼仪性的，美国总统则掌握行政权，且不设总理；法国则是行政向立法机关负责，权力的中心在议会，美国实行典型的三权分立；法国议会中党派众多，美国则基本是两党竞争。(6分)
3. 说明：推翻帝制，建立民国；颁布了《中华民国临时约法》，确立了主权在民的原则，提倡民族平等；使民主共和观念逐渐深入人心。(6分)

#### 二、本题共16分

1. 内容：北宋初年政府推行有利于商业发展的政策；北宋京城商业繁华，商品种类繁多，坊市制度瓦解。(2分)

用途：材料一可以用于解释宋代商业发展的原因；材料二可以用来说明宋代商业发展的表现。(2分)

2. 变化：街景变化，出现了电线杆和汽车；建筑变化，出现了西式楼房；室内陈设变化，出现了西式家具；时间观念变化，出现了西式钟表。(答出两种变化即可得4分)

原因：西方生活方式的影响；中国自身对近代化的追求。(2分)

### 3. 评分标准 (6分)

水平划分 项目	水平一：6~4分	水平二：4~2分	水平三：2~0分
论证	观点明确；史实充分，能够选择2个以上的史实说明观点；史实与观点联系紧密，具有较强的说服力，逻辑清晰。	观点比较明确；能够准确运用史实说明观点；史实与观点联系比较紧密；逻辑比较清晰。	观点模糊或无观点；仅能列举史实；逻辑不清。

#### 【示例】

观点：二战后主要资本主义国家经济迅速发展。

论证：二战后主要资本主义国家奉行国家干预的经济政策，应用先进的科技成果，出口贸易和国内生产总值持续增长，出现了经济发展的黄金时期。

### 三、本题共16分

1. 特点：具有很强的包容性。(2分)

说明：董仲舒以《公羊春秋》为主干，吸收融合了阴阳家、黄老之学以及法家思想而形成新的思想体系；他的“天人感应”赋予君主崇高的权威。从此，儒学在政治上占据统治地位。(4分)

2. 学派：智者学派。(2分)

影响：把哲学的讨论重点从认识自然转移到认识社会，提倡怀疑精神，强调人的价值，开创了希腊哲学的新方向。(4分)

3. 主张：制定宪法，建立君主立宪制度；设立国会，实行三权分立制度。(4分)