


2018 北京海淀区高一合格性考试适应练习

历史

2018.6

一、选择题。本大题共 40 小题，每小题 1.5 分，共 60 分。每小题的四个选项中只有一个符合题意。答案填写在答题纸的表格中或用 2B 铅笔填涂在机读答题卡上。在试卷上作答无效。

1. 右图是北京西周燕都遗址博物馆中青铜器克罍(léi)及其铭文拓片，其大意为：周王对太保说，我非常满意你的供奉，命（你的儿子）克做燕地的君侯。该考古成果可用于研究



- A. 禅让制
- B. 分封制
- C. 礼乐制
- D. 郡县制

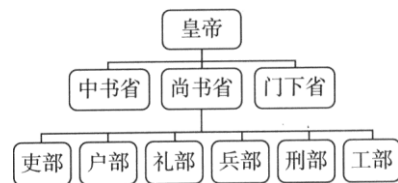
2. 《史记》卷六《秦始皇本纪》中记载：“臣等（李斯等）昧死上尊号，王为‘泰皇’，命为‘制’，令为‘诏’，天子自称曰‘朕’”。王曰：“去‘泰’，著‘皇’，采上古‘帝’位号……。天下之事无小大皆决于上”。这些记载说明秦朝建立了

- A. 皇帝制度
- B. 郡县制
- C. 分封制
- D. 三公九卿制

3. 西汉时，汉武帝为解决“王国问题”，加强中央集权而采取的主要措施是

- A. 分封同姓诸侯
- B. 颁布“推恩令”
- C. 增加政府税收
- D. 地方设立三司

4. 张鸣在《中国政治制度史导论》（第二版）中指出，中央机构确立了中书省草诏、门下省审核、尚书省执行的行政机制。尚书省各部分工也进一步明确和固定。如图所示。这样的中央机构创立于



- A. 秦汉时期
- B. 隋唐时期
- C. 宋元时期
- D. 明清时期

5. 中英《南京条约》规定：“自今以后，大皇帝恩准英国人民带同所属家眷，寄居大清沿海之广州、福州、厦门、宁波、上海等五处港口，贸易通商无碍。”这一条款说明中国

- A. 长期封闭的国门被迫打开
- B. 沦为英国的殖民地
- C. 关税自主权遭到严重破坏
- D. 司法主权遭到破坏

6. 史学家杰里·本特利说：“太平天国的改革方案包含了很多激进的特征，对不满的民众很有吸引力。”对农民最具吸引力的是

- A. 平均分配土地
- B. 构建工业社会
- C. 奖励技术发明
- D. 学习西方文化

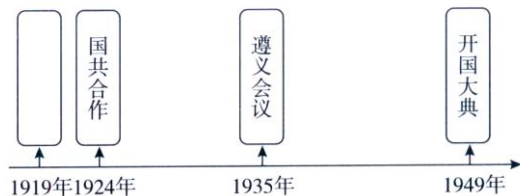
7. 台湾人民表示要“与倭人决一死战，不愿将全台归与倭人”。下列各项与之直接相关的是

- A. 《天津条约》的签订
- B. 《北京条约》的签订
- C. 《马关条约》的签订
- D. 《辛丑条约》的签订

8. 《时报》曾刊登过：“共和政体成，专制政体灭；中华民国成，清朝灭；总统成，皇帝灭……”其反映的历史事件是

- A. 太平天国运动
- B. 义和团运动
- C. 辛亥革命
- D. 北伐战争

9. 制作年代尺是学习历史的重要方法。如图，新民主主义革命时期年代尺的空白处应填写



- A. 五四运动
- B. 国民革命
- C. 红军长征
- D. 重庆谈判


10. 20 世纪 20 年代，中国共产党创建人民军队，走上了独立领导武装斗争的革命道路，其开端是

- A. 中共一大的召开
- B. 北伐战争的开始
- C. 井冈山革命根据地的创建
- D. 遵义会议的召开

11. 1937 年中国军队在上海地区与日本军队激战三个月，粉碎了日本法西斯妄图三个月灭亡中国的狂妄计划。这是

- A. 淞沪会战
- B. 平型关战役
- C. 徐州会战
- D. 百团大战


12. 综合实践活动中，某同学收集了四处纪念馆的参观券。如图所示。按所纪念的历史事件发生的先后顺序，序号排列正确的是



- A. ①②④③ B. ①③②④ C. ①④③② D. ①④②③

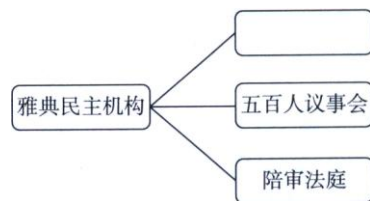
13. 照片记录了历史的瞬间。下图反映的历史事件是

- A. 开国大典举行
B. 中共八大召开
C. 香港回归祖国
D. 澳门回归祖国



14. 公元前 5 世纪，雅典民主政治进一步完善。在下图空白处应该填写的机构是

- A. 四百人议事会
B. 公民大会
C. 元老院
D. 参议院



15. 近代一则材料提到“凡未经议会同意，以国王权威停止法律或停止法律实施之僭越权力，为非法权力”。该材料出自

- A. 英国《权利法案》 B. 法兰西第三共和国宪法
C. 美国 1787 年宪法 D. 《德意志帝国宪法》

16. 下图反映西方政治发展中重要法律文献出现的时序。图示所反映的发展趋势是

《权利法案》 《1787 年宪法》 《德意志帝国宪法》



- A. 西方政治民主化完成
C. 都建立起联邦制国家
B. 君主专制的加强
D. 西方代议制扩展

17. 2018 年 5 月 4 日，纪念马克思诞辰 200 周年大会在北京人民大会堂隆重举行。马克思给我们留下的最有价值、最具影响力的精神财富，照亮了人类探索历史规律和寻求自身解放的道路。他的理论贡献包括

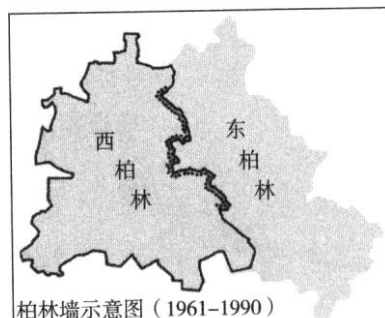
- ①创建了唯物史观 ②首创自由主义经济思想
③提出剩余价值学说 ④创立科学社会主义理论

- A. ①②③ B. ②③④ C. ①②④ D. ①③④

18. 高德步的《世界经济史》写道：随着马歇尔计划的实施，到 1949 年，西欧的工业产量已超过第二次世界大战前 1937 年的水平。与 1948 年相比，英国、法国等 18 国制造业产出总额 1949 年增加 13%，1952 年增加 39%。这段记载能说明马歇尔计划

- A. 帮助西欧恢复战后经济 B. 拉开美苏“冷战”序幕
C. 推动欧洲加强政治联盟 D. 加强美国对西欧的控制

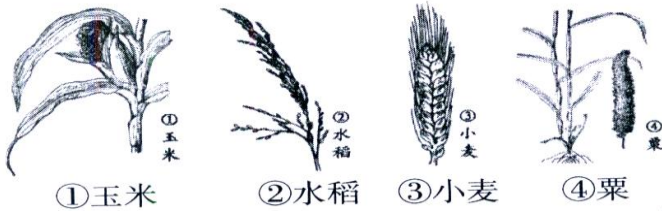
19. 柏林墙始建于 1961 年，全长 155 公里，最初以铁丝网和砖石构成边防围墙，后期加固，由瞭望塔、混凝土墙、开放地带以及反车辆壕沟组成。1990 年，柏林墙拆除。其位置如图所示。柏林墙存在这一历史现象反映了



- A. 美苏“冷战” B. 经济全球化发展
C. 多极化格局形成 D. 欧洲政治一体化

20. 世界政治多极化的发展趋势日益明显，主要是因为
- A. 各国经济联系日趋紧密
B. 若干政治力量的壮大
C. 联合国的作用不断加强
D. 多元文化的交流融合

21. 下图所示农作物中，学术界公认其原产地在中国的是



- A. ①② B. ②③ C. ①④ D. ②④

22. 右图所示的古代农业灌溉工具最早出现于

- A. 战国时期
B. 秦汉时期
C. 曹魏时期
D. 隋唐时期



23. “市井经纪之家……夜市直至三更尽，才五更又复开张。如耍闹去处，通晓不绝。”材料所描述的商业现象最早出现于

- A. 秦朝咸阳 B. 西汉长安 C. 宋朝东京 D. 元朝大都

24. 右图是某同学的历史课堂笔记。根据笔记，他学习的主题应该是

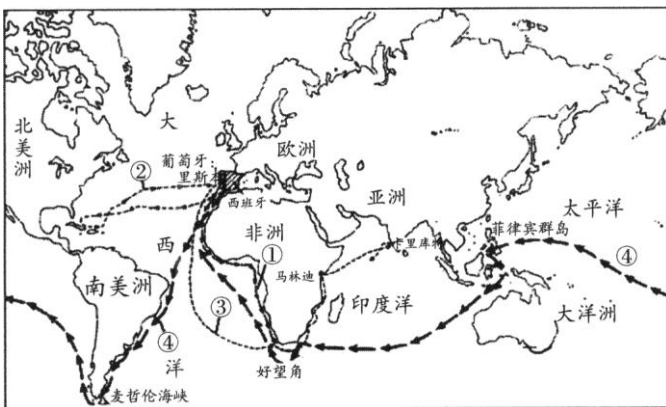
- A. 两汉的农业 B. 唐朝的金融
C. 元代的外贸 D. 明朝的经济

1. 民营手工业占据主导地位
2. 白银成为流通货币
3. 白薯、玉米等外来作物引入中国

33. 1990年初，改革开放的重点放在进一步扩大开放和推进社会主义市场经济，把上海建成国际经济、金融、贸易中心之一，带动长江流域经济的新飞跃。为此，国家做出的决策是

- A. 在上海建立经济特区 B. 将长江沿线各城市开辟为经济开放城市
C. 开放上海为沿海港口城市 D. 开发开放浦东，建立高科技产业和工业基地

34. 下图中，葡萄牙航海家迪亚士的航海路线是



- A. ① B. ② C. ③ D. ④

25. 《中国近代经济史》载，据1925年对津浦、胶济、陇海、京汉、粤汉铁路沿线地区抽样调查发现：1900年时，半数地区尚无花生种植，而到1924年，半数以上地区的花生种植面积已经占到耕地的40%—50%。1909年，意大利商人见花生油销路广而获利厚，从本国运来机器，在天津设立榨油厂。华商纷纷效仿，1915年到1919年间，上海、天津等地机器榨油兴旺一时。依据材料分析，结论正确的是

- ①铁路沿线的花生种植业增长快 ②华商机器榨油受到外商的启示与刺激
③种植花生为机器榨油提供原料 ④政府鼓励机器榨油产品大量出口海外

- A. ①②③ B. ①②④ C. ②③④ D. ①③④

26. 李鸿章曾写信给曾国藩说：“用兵在人不在器，自是至论，鸿章尝往英法提督兵船，见其大炮之精纯，子药之细巧，器械之鲜明，队伍之雄整，实非中国所能及……深以中国军器远逊外洋为耻，日戒谕将士虚心忍辱，学得西人一二秘法，期有增益。”下列企业体现这一想法的是

- A. 开办轮船招商局 B. 成立汉阳铁厂
C. 成立发昌机器厂 D. 创办江南制造总局

27. 看到发昌机器厂、继昌隆缫丝厂、贻来牟机器磨坊等企业的资料，你会联想到的历史现象是


- A. 列强开始在中国投资办厂 B. 农工商总局的成立
C. 国民经济建设运动的展开 D. 民族资本主义产生

28. 甲午中日战争以后，民族资本主义有了初步的发展，其发展的直接原因是

- A. 政府放宽对民间办厂的限制 B. 沿海通商口岸的开放
C. 利用列强向中国输出的资本 D. 维新变法运动的影响

29. 右图所示是一则广告。图中有“真正国货”“请国民每年挽回四千五百余万之权利”等字样。作为直接证据，它可以用于研究的主题是

- A. “洋务运动兴起”
B. “实业救国热潮”
C. “工人阶级诞生”
D. “近代企业出现”



30. 杨德才在《中国经济史新论》中指出，1920年同1913年比较，中国厂矿家数和资本额分别增加了152%和51.3%。促使这种增长的国内因素是

- A. 洋务派大力投资兴办了新式企业 B. 戊戌变法中成立农工商总局
C. 政府鼓励及实业救国思潮的影响 D. 南京国民政府重视经济建设

31. 右图中，新中国成立后工业建设成就的取得是在

- A. 国民经济恢复期
B. 第一个五年计划期间
C. “大跃进”运动期间
D. 国民经济调整时期



32. 1978年以后，中国开始进行农村经济体制改革。下列说法正确的是

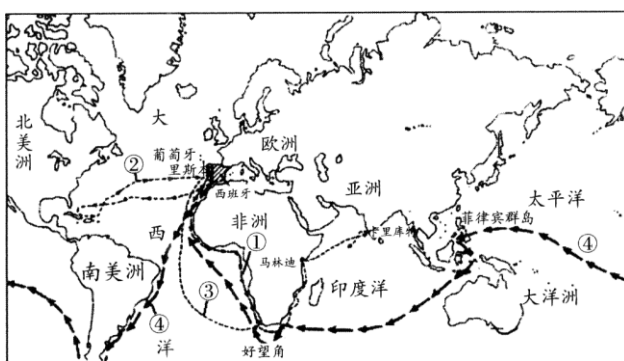
- ①实行家庭联产承包责任制
②农民有了生产和分配的自主权
③改变了农村土地的所有权
④极大调动了农民的生产积极性

- A. ①②③ B. ②③④ C. ①②④ D. ①③④

33. 1990年初，改革开放的重点放在进一步扩大开放和推进社会主义市场经济，把上海建成国际经济、金融、贸易中心之一，带动长江流域经济的新飞跃。为此，国家做出的决策是

- A. 在上海建立经济特区 B. 将长江沿线各城市开辟为经济开放城市
C. 开放上海为沿海港口城市 D. 开发开放浦东，建立高科技产业和工业基地

34. 下图中，葡萄牙航海家迪亚士的航海路线是



A. ① B. ② C. ③ D. ④

35. 1492年哥伦布首次航行到美洲大陆。此后，生物、农作物、人种、文化、传染病以及思想观念在东半球与西半球之间流动，史称“哥伦布大交换”。它反映出新航路的开辟

- A. 促使商路和国际贸易中心转移 B. 建立了欧洲对美洲的殖民统治
C. 扩大了原产美洲的农作物传播 D. 将各地文明逐渐连成一个整体

36. 一位同学在查阅纺织技术革新的材料时发现了以下两则事例。这两则事例能说明

事例一：1783年，苏格兰人托马斯·培尔发明滚筒印花机，革新布匹印花技术，提高工效100倍。	事例二：1792年，美国人E. 惠特尼发明轧棉机，实现棉花脱籽工序的机械化，这项技术很快传入英国。一个人操作轧棉机每天能轧棉1000余磅。此前每人每天只能轧棉5磅到6磅。
--	---

- A. 英国的工场手工业逐渐繁荣 B. 资本主义生产关系萌芽
C. 工业革命时期技术不断改进 D. 人类进入“电气时代”

37. 1921年，列宁针对苏俄经济领域中的问题，为了恢复经济、克服困难而采取的是

- A. 战时共产主义政策 B. 新经济政策
C. 农业集体化政策 D. 余粮收集制度

38. 1933年美国成立了田纳西流域工程管理局，对田纳西河进行综合开发。除控制洪水，改善航运，保持水土，建造发电站外，还以廉价的电力吸引大批私人公司在此设厂并供应农村用电。田纳西水利工程的成功，与罗斯福新政中的哪项措施相关

- A. 整顿金融 B. 复兴工业 C. 以工代赈 D. 调整农业

39. 20世纪50年代，欧洲的联合开始于

- A. 政治领域 B. 经济领域 C. 军事领域 D. 文化领域

40. 推动环太平洋国家和地区经济发展的国际组织是

- A. 亚太经合组织 B. 北美自由贸易区 C. 东南亚国家联盟 D. 欧洲经济共同体

二、非选择题。本大题共计8个小题，共40分。答案务必书写在答题纸上。答案写在试卷上无效。

41. (20分) 官员选任、法律制定和制度创新是人类政治文明史的重要内容。阅读下列材料，回答问题。

材料一 秦朝选任官吏有严格的道德和才能标准。《为吏之道》规定了官吏应具备的道德和行为准则，其中“五善”包括：“一日忠信敬上，二日清廉毋谤，三日举事审当，四日喜为善行，五日恭敬多让。”秦朝强调以法治国，以吏为师，要求官吏通晓律令，并以是否“明法”作为区分“良吏”“恶吏”的标准。

“上计”制度，就是每年年初由地方郡守、县令制定年度工作计划，内容包括土地的开垦、人口的增长、赋役的征发、司法治安状况等方面，并将计划上报中央，年终中央有关部门根据该官吏的计划对其工作进行考核，评出优劣，并给予奖惩。

——摘编自陈金全主编《中国法制史》

(1) 依据材料，概括秦朝选任官吏的标准及对地方官吏的考核办法。(6分)

材料二 “民国”之取代自秦始皇以来两千多年的“帝国”，是近代中国社会内在矛盾发展的结果，是一种前无古人的变化。它打破了历代王朝的更迭机制，否定了整个皇权体制，因而也触动了传统社会的各条神经，是政治制度和社会思想的一大跃进，在新旧递嬗的历史进程里留下了自己不可磨灭的影响。

——摘编自陈旭麓著《近代中国社会的新陈代谢》

(2) 阅读材料并结合所学，说明中华民国建立的“不可磨灭的影响”。(4分)

材料三 区分公法和私法是罗马人的一项发明。最初是以法的创制渊源为依据的。凡是由国家或者公共权力机构制定的属于“公法”，凡是由私人自主协商约定的或者自愿采纳的规范或习惯则属于私法。

罗马法学家乌尔比安提出另一个区分标准：“公法是有关罗马国家稳定的法，私法是涉及个人利益的法。”是按照法的调整对象的性质来区分法的公私性质，应该说比前一种标准更为合理和易于理解，因而成为罗马法中的一项经典原则。……受一定历史条件的限制，罗马人关于公法和私法的区分同现代的区别是有距离的。

——摘编自黄风著《罗马法》

按照《法学阶梯》，私法分为二部分，人法是规定人格和身份的法，包括行为能力、婚姻和遗嘱等，物法是财

产法，包括特权法、继承法和债法等；诉讼法是规定私权保护的法，主要包括诉讼程序和法官的职权等。

《十二表法》(又称《十二铜表法》)作为罗马“一切公法和私法的渊源”式的里程碑，对罗马法的发展意义重大，故而后来罗马人一直把它奉为经典，直到查士丁尼帝时期，历代统治者都没有明文废止过它。

—摘编自蒙振祥、陈涛、律璞主编《罗马法》(第2版)

(3)依据材料和所学知识，判断下表“相关信息”，正确的打√，错误的打×。(4分)

序号	相关信息	判断
①	罗马法学家乌尔比安区分公法和私法的标准较之前更为合理。	
②	罗马人认为《十二铜表法》中“继承法”“所有权和占有”“房屋和土地”等属于私法范畴。	
③	罗马皇帝查士丁尼的历史贡献是制定了《十二铜表法》并被历代统治者继承。	
④	罗马法的思想和实践成为当代很多法律原则与做法的源头。	

材料四《唯物史观通论》从社会运动系统对人的主体性进行了研究。人民群众是创造社会历史的决定力量。作为历史事件的当事人，历史人物往往是历史事件的参与者、策划者和指挥者，有时甚至对个别事件的走向起了决定作用。只有当历史人物正确理解社会发展需要时，理解如何实现这些需要时，才能在社会生活中起重大作用。

某研究性学习小组关注了以下某个特定年份的历史人物。如下表：

时间	公元前594年	1787-1789年	1949-1954年
人物	梭伦	华盛顿	毛泽东

(4)该研究性学习小组研究的是“历史人物与政治制度创新”。请你任意选择上表中一位历史人物，自拟主题，并结合所学历史知识阐明这位政治家的历史贡献。(6分)

42. (20分)经济政策是特定条件下经济发展的产物。阅读下列材料，回答问题。

材料一宋统一南方后，于公元971年在广州设置市舶司。这是沿袭唐制设置的第一个市舶司。以后又在杭州、明州置市舶司。《元丰市舶法》的颁布更加有利于海外贸易的发展，中外商人往来频繁，商品交易量大增，市舶收入也随之增加。

——摘编自霍贺《浅析宋代的对外贸易》

(1)依据材料并结合所学，概括宋朝海外贸易兴盛的原因。(4分)

材料二工业化使城市迅速增多、迅速扩大。1851年，英国54%的人口居住在城镇里，成为城市化国家。

19世纪上半叶，英国出现了严重的住宅问题。几次大的疫病发生，城市住宅问题引起了政府和公众的关注。

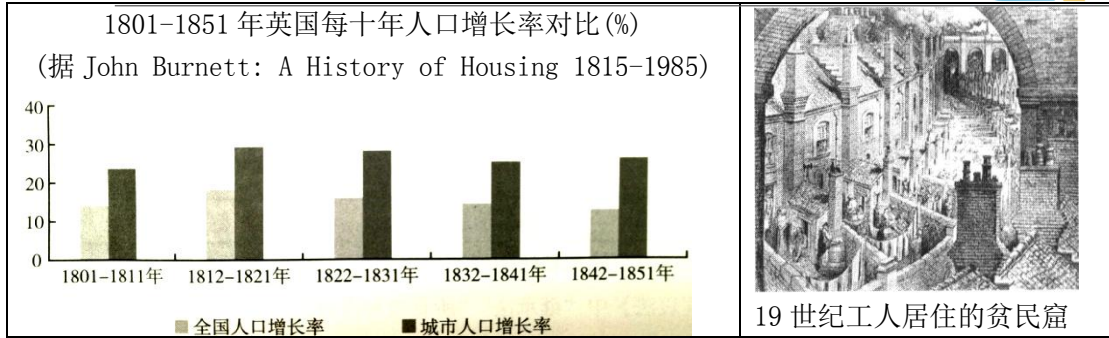
从民间到官方进行各种调查，如，每10年一次的全国人口普查，查德韦克的《劳动人口卫生状况报告书》、恩格斯的《英国工人阶级状况》等，也提出了切实可行的方案。英国议会和各城市通过立法为城市工人住宅提出种种规范。

1846年的卫生条件法令初步规范了住宅建筑的大小、高低、生活空间和卫生设施等。

1850年颁布《公共宿舍法》，成为政府干预住宅问题的世界性开端。

1864年立法规定了住宅的结构，如后院、厨房、厕所等，改善通风、采光及舒适健康程度。

——摘编自陆伟芳《19世纪英国城市对工人住宅问题的干预》和闫凤英《从西方的城市化进程看集约式居住行为的发展》

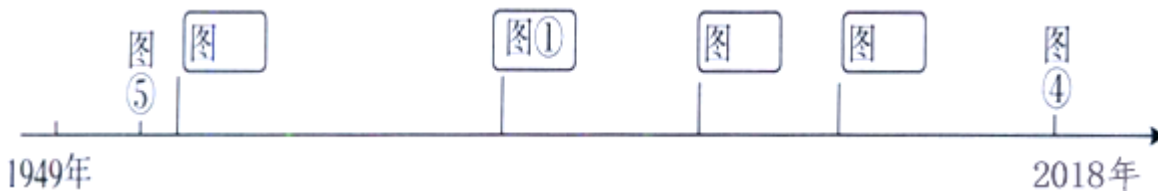


(2) 到 20 世纪 70 年代，英国建立起较完善的公共住宅保障体系。同时，因财政负担加重，开始政策改革，实行住宅私有化，提高住宅自有率。依据材料并结合所学，说明 19 世纪上半期英国住宅问题出现的原因与政府解决这一问题的举措。(6 分)

材料三下列图片直观地反映了中国经济发展中的一些重要片段。仔细观察下列图片。



(3) 依据图片反映历史的时间先后顺序，将序号填写在下面的时序图中。(3 分)



班级要举办“改革开放四十年”图片展，请你选择符合主题的一张图片，把相应的序号填入答题卡的表格中并撰写解说词。(2 分。要求：史实准确，逻辑清晰，表达简练)

所选图片序号	解说词
示例： 图片④	2014 年亚太经合组织第二十二次领导人非正式会议在北京举行。这是中国继 2001 年之后第二次承办 APEC 会议，共同谋求深化务实合作，共同推动亚太发展。

材料四（20世纪30年代）很多国家高筑关税壁垒并通过进口配额限制进口，以保护本国奄奄一息的产业免受进口的冲击。这些国家还有意识地实行货币贬值来减少进口，提高本国产品的出口竞争力。这种无止境的损人利己的政策给一些国家带来了短期的利益，但是实践证明这种（贸易保护主义）政策的最终后果只会是两败俱伤。因为它抑制了国际贸易的发展，阻挡了国际经济的进步。

——[美]保罗·布卢斯坦著《惩戒》（2003年）

美国的经济现在已是一个更加开放的经济了，虽然要求保护的呼声仍持续不断。……我们在新世纪（21世纪）中的经济前景，局部地，取决于我们如何学好与世界其余部分的共处……我们的经济未来是不可分割地与全球经济的未来捆绑在一起的。……我们已经看到，罗斯福的新政并未导致经济复苏，虽然它的确防止了事情变得更坏。因为大萧条本身就是政策错误制造出来的……

——摘编自[美]乔纳森·休斯等著《美国经济史》（2013年第8版）

(4) 结合材料并依据所学，说说你对世界经济发展和国际贸易的认识。（5分）

历史试题答案

一、**选择题**。本大题共 40 小题，每小题 1.5 分，共 60 分。

1	2	3	4	5	6	7	8	9	10
B	A	B	B	A	A	C	C	A	C
11	12	13	14	15	16	17	18	19	20
A	C	C	B	A	D	D	A	A	B
21	22	23	24	25	26	27	28	29	30
D	C	C	D	A	D	D	A	B	C
31	32	33	34	35	36	37	38	39	40
B	C	D	A	D	C	B	C	B	A

二、**非选择题**。本大题共计 8 个小题，共 40 分。

41. (20 分) (1) 标准：依据道德和才能等标准选任官吏。(如果能正确摘录材料中的条文，也可得分，如，重视官员道德，提出“五善”的标准；重视官员的才能，能“明法”，通晓律令，并教化民众。2 分)

考核办法：地方实行郡县制度，地方郡县长官由皇帝直接任免。对地方官吏考核实行“上计”制度，根据年度工作计划完成情况考核官吏业绩。(4 分。如果能答出：“明法”是考核地方官吏的重要标准，也可给 2 分。满分不超过 4 分)

(2) 推翻清王朝，结束君主专制制度，建立起资产阶级民主共和国 (2 分)；颁布《中华民国临时约法》，确立了主权在民的原则，人民获得一些民主和自由的权利，民主共和观念深入人心 (2 分)。

(3) ①—√；②—√；③—x；④—√。(每作出一个准确判断得 1 分)

(4) 评价说明：主题拟定准确得 2 分 (如果直接写成“毛泽东/华盛顿/梭伦与政治制度创新”得 1 分)，史实列举超过两项且能论证自己拟定的主题得 2 分，准确评述贡献得 2 分。

梭伦与雅典民主政治奠基。梭伦担任执政官，为缓和社会矛盾，推行改革，按财产等级分享权利，建立公民大会作为最高权力机关，建立陪审法庭，废除债务奴隶制。改革动摇了旧氏族贵族的世袭特权，保障了公民的民主权利。

华盛顿与美国联邦制共和政体确立。华盛顿领导美国取得独立战争的胜利，为改变邦联松散的状态，建立统一的共和制国家，主持制宪会议并制定《1787 年宪法》，建立联邦制国家，实行三权分立，并当选为美国首任总统。美国加强了联邦政府的权力，突出分权制衡原则，防止专制出现。

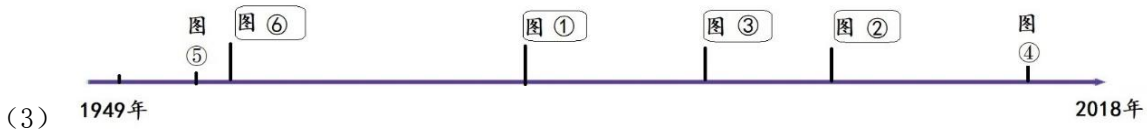
毛泽东与新中国民主政治制度建立。新中国建立后，在毛泽东的领导下，先后颁布《共同纲领》《中华人民共和国宪法》，建立起人民代表大会制度、政治协商制度和民族区域自治制度。新中国民主政治建设，确立了社会主义政治制度，保证了国家统一和民族团结。

42. (20 分) (1) 原因：宋朝政府设置专门机构并通过立法保障贸易发展；造船技术和航海技术的进步；宋代社会经济的发展；海上丝绸之路的兴盛。(任意 2 点得 4 分)

(2) 英国工业革命导致城市人口增长率高于全国人口增长率，(城市住宅建设跟不上人口增长)城市住宅数量和质量都出现问题。(2 分)

英国政府通过各种调查 提出改善住房问题的方案 政府和各城市通过立法 建立住宅建设的规章 改善住房

条件。(4分)



评分说明：每填对一个序号得1分，共3分。

每条解说词内容准确得2分。如果学生选择了⑤或⑥，无论解释是否正确，本问得0分。

图片①：深圳成为我国第一批经济特区，国家实施特殊的优惠政策，创造了“深圳速度”，深圳迅速崛起成为一座现代化城市，成为中国改革开放的窗口城市。

图片②：2001年中国正式加入世界贸易组织，促进了中国的经济发展，完善了社会主义市场经济体制，也促进了世界经济的增长和世界贸易体系的发展。

图片③：1992年党的十四大报告中正式提出我国经济体制改革的目标是建立社会主义市场经济体制，十四届三中全会作出相关决议。实现了真正的重大理论突破，是中国特色社会主义道路探索的正确选择。

(4) 言之成理即可得分。观点正确，得2分；能用三个史实论述自己的观点，得3分。

基本观点可以包括：贸易保护主义危害世界经济和国际贸易发展；世界经济全球化趋势不可逆转；在国际经济交往中需要树立人类命运共同体观念等等。

可以运用的史实包括：战后西方主要资本主义国家奉行国家干预的经济政策，实行国家对经济的宏观调控。建立布雷顿森林体系，构建以美元为中心的世界货币体系，成立关贸总协定构建世界贸易体系。欧洲联盟成立、北美自由贸易区成立、亚太经济合作组织成立，促进了世界经济的区域集团化。随着科技进步、跨国公司和国际组织的推动、两极格局的瓦解、绝大多数国家实行市场经济体制，推动经济全球化发展。世界贸易组织成立，促进了各国市场开放，调解贸易纠纷，实现全球贸易自由化。

北京高考在线是长期为中学老师、家长和考生提供新鲜的高考资讯、专业的高考政策解读、科学的升学规划以及实用的升学讲座活动等全方位服务的升学服务平台。自 2014 年成立以来一直致力于服务北京考生，助力千万学子，圆梦高考。

目前，北京高考在线拥有旗下拥有北京高考在线网站和北京高考资讯微信公众号两大媒体矩阵，关注用户超 10 万+。

北京高考在线_2018 年北京高考门户网站

<http://www.gaokzx.com/>

北京高考资讯微信：bj-gaokao

北京高考资讯

关于我们

北京高考资讯隶属于太星网络旗下，北京地区高考领域极具影响力的升学服务平台。

北京高考资讯团队一直致力于提供最专业、最权威、最及时、最全面的高考政策和资讯。期待与更多中学达成更广泛的合作和联系。

长按二维码 识别关注



微信公众号：bj-gaokao

官方网址：www.gaokzx.com

咨询热线：010-5751 5980