

# 2023 北京丰台高一（下）期中 历史（A卷）

练习时间：90 分钟

## 第 I 部分（选择题共 60 分）

选择题（每小题 1.5 分，共 60 分。在每小题给出的四个选项中，只有一个是正确的。）

1. 对于人类文明产生的进程，下列表述逻辑正确的是

- A. 原始农业出现——农业、手工业分工——私有制出现——国家开始形成
- B. 原始农业出现——私有制出现——农业、手工业分工——国家开始形成
- C. 国家开始形成——农业、手工业分工——原始农业出现——私有制出现
- D. 国家开始形成——私有制出现——农业、手工业分工——原始农业出现

2. 下列各项与表格中的序号对应正确的是

文明	实行制度	文明成就
①	君主专制	楔形文字
②	法老制度	太阳历
③	种姓制度	《摩诃婆罗多》
④	城邦制度	悲剧、喜剧、哲学

- A. ①古埃及文明      ②古巴比伦文明      ③古印度文明      ④古希腊文明
- B. ①古埃及文明      ②古巴比伦文明      ③古希腊文明      ④古印度文明
- C. ①古巴比伦文明      ②古埃及文明      ③古印度文明      ④古希腊文明
- D. ①古巴比伦文明      ②古埃及文明      ③古希腊文明      ④古印度文明

3. 柏拉图说：“我们沿着大海生活，就像蚂蚁或青蛙围绕着一个池塘……”这体现了古希腊人扩大文明影响的方式是

- A. 移民建立殖民地
- B. 输出技术和武器
- C. 广泛的商品交换
- D. 实行行省制度

4. 英国学者马丁·贝尔纳在其著作《黑色雅典娜：古典文明的亚非之根》中，批判了关于希腊文明起源的传统观点，提出希腊文明的源头在西亚和北非。下列希腊文明成果，能印证这一观点的是

- ①字母文字      ②雕刻艺术      ③民主政治      ④冶铁技术
- A. ①②③      B. ①②④      C. ①③④      D. ②③④

5. 制作知识卡片是学习历史的方法之一，下面为学生制作的某帝国的知识卡片，据此推断该帝国是

- A. 拜占庭帝国      B. 亚历山大帝国
- C. 阿拉伯帝国      D. 波斯帝国

- 建立于公元前 4 世纪
- 地跨欧亚非三大洲
- 地方实行行省制度
- 广泛推广希腊文化

6. 公元 2 世纪的演说家阿里斯提德描述罗马城：“所有的货物，所有现存的和曾经存在的东西，贸易、航海、农业、金属加工，任何曾经创造出来或者生长出来的东西，都在这里汇合。”可能出现在这一时期罗马的商品有

- ①丝绸和象牙      ②罗盘和望远镜      ③甘薯和玉米      ④铁器和马匹  
A. ①②      B. ②③      C. ③④      D. ①④

7. 公元 5 世纪后期，西欧开始进入封建社会，西欧封建社会的基本特征是

- ①封君封臣制度      ②君主专制制度      ③庄园制度      ④农奴制度  
A. ①②③      B. ①②④      C. ①③④      D. ②③④

8. 10-11 世纪起，西欧各地兴起了众多城市。以下关于西欧城市兴起的表述，正确的有

- ①主要居民是手工业者和商人      ②城市完全独立于各地区的封建主  
③城市兴起促使西欧大学兴起      ④城市兴起有利于国王的统一事业  
A. ①②③      B. ①③④      C. ②③④      D. ①②④

9. 《全球通史》中描述了这样一个政权：“它起到了保护盾的作用，使保护盾后面的西方能自由地发展自己的文明。这一有利条件的全部意义，在 1453 年君士坦丁堡沦陷后变得更为清楚，土耳其人攻陷该城后，不到半个世纪便抵达欧洲的中心，包围了维也纳。”这一政权指的是

- A. 拜占庭帝国      B. 奥斯曼帝国      C. 阿拉伯帝国      D. 俄罗斯帝国

10. 下列内容是某学生所做的学习笔记，其学习的主题应是

- 646 年，日本大化改新，实行租庸调制
- 10 世纪，高丽王朝在中央设三省六部
- 11 世纪，越南引进科举制度

- A. 亚非国家间的友好往来      B. 东西方文明间相互交融  
C. 中华文明影响周边国家      D. 亚洲各国经济联系加强

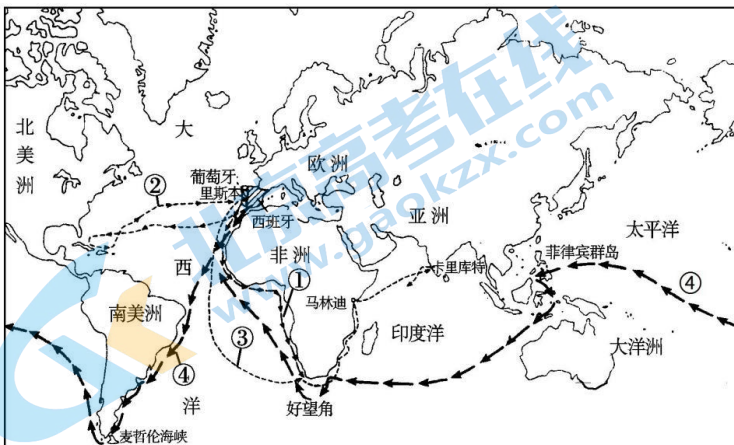
11. 1986 年，联合国将某一遗址列入世界文化遗产之一，这里也成为撒哈拉以南非洲地区规模最大的石头城建筑群，并因此闻名世界，让人惊叹不已。该遗址是

- A. 大津巴布韦      B. 摩加迪沙      C. 阿克苏姆王国      D. 桑海帝国

12. 古代美洲的印第安人创造了灿烂的文明，为世界文明的发展作出了重要贡献。以下属于古代美洲文明的是

- ①玛雅文明      ②阿拉伯文明      ③阿兹特克文明      ④印加文明  
A. ①②③      B. ①②④      C. ①③④      D. ②③④

13. 下列说法正确的是



- A. 航线①是达伽马开辟的  
B. 航线②是葡萄牙支持的  
C. 航线③经过了大西洋和太平洋  
D. 航线④是四条航线中开辟最晚的

14. 有学者制作了 1600 年输入欧洲部分商品的统计表，对此表解读正确的是

	经好望角	经地中海
胡椒	100 万~200 万磅	300 万~400 万磅
丁香、靛蓝、药品	35 万~65 万磅	70 万~100 万磅

- A. 传统商路仍发挥重要的作用  
B. 世界贸易中心转移到了地中海  
C. 商业革命引发交易商品改变  
D. 欧洲与亚洲经贸联系更加紧密
15. 早期殖民扩张中断了美洲和非洲原有的社会发展进程，打破了原本相对平衡的多元文明格局，给当地人民带来了巨大灾难。这段话阐释的是早期殖民扩张的
- A. 原因  
B. 条件  
C. 影响  
D. 过程

16. 被称为“人文主义之父”的彼特拉克强调，宇宙是以人为中心的，是上帝为了人类的世俗生活而造就的东西，因此，人应当是世界的主宰。对他的主张理解正确的是

- A. 奠定了近代物理学的基础  
B. 褒扬了人的地位和价值  
C. 宣扬了资产阶级民主政治  
D. 传播了人人平等的观念
17. 下列符合马丁·路德主张的是
- ①人的灵魂获救依靠自己的信仰  
②建立独立的民族教会和节俭教会  
③以理性和科学的光芒驱散蒙昧  
④力主采用民族语言进行宗教活动
- A. ①②④  
B. ②③④  
C. ①③④  
D. ①②③

18. 牛顿取得的物理学成就彰显了人类理性的伟大，促使人们形成对自然规律的崇拜，进而发展出探寻人类社会客观规律和构想未来理想社会的热忱。这说明

- A. 科学革命对于启蒙运动的推动  
B. 哥白尼的“日心说”具有充分合理性  
C. 宗教改革推动民族国家的形成  
D. 宗教改革促使了信徒的信仰更加坚定

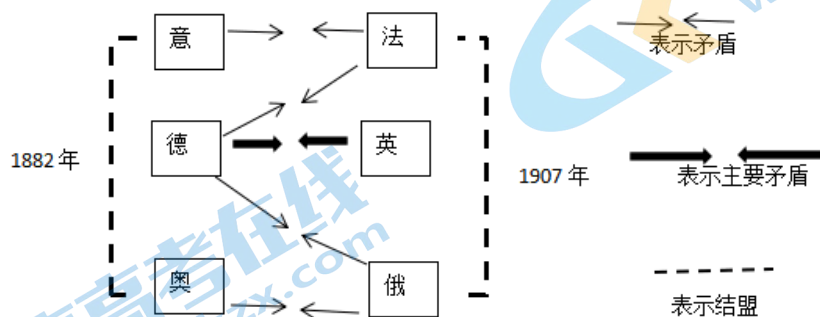
19. 下表为世界近代史上一些国家颁布的重要法律文献，其共同点有

国家	时间	法律文献
英国	1689 年	《权利法案》
美国	1787 年	1787 年宪法
德国	1871 年	《德意志帝国宪法》
法国	1875 年	《法兰西第三共和国宪法》

- ①都是在推翻封建专制制度的背景下颁布的  
②其目的均为维护资本主义政治变革的成果  
③均确立起三权分立的资产阶级民主共和制  
④都为本国的资本主义发展提供了法律保障
- A. ①②  
B. ①③  
C. ②④  
D. ③④
20. 英国作为君主立宪制的典型代表，其政治制度的特征是
- ①内阁掌握行政权，对议会负责  
②首相由皇帝任命，对皇帝负责  
③议会是国家最高立法机关  
④君主权力受到法律的限制
- A. ①②③  
B. ①②④  
C. ①③④  
D. ②③④

21. 某同学开展自主学习，研究了俄国农奴制改革、美国南北战争、德意志帝国建立、日本明治维新等历史事件，他所研究的历史主题是

- A. 近代民族国家开始形成  
B. 资本主义在全球范围内扩展  
C. 第二次工业革命的开展  
D. 近代科学兴起促进思想解放
22. “到 19 世纪中期，英国……往昔那种田园诗般的风情不见了。……乡村建起了灰暗的厂房，城镇竖起了高耸的烟囱，工厂里回荡着机器的轰鸣。……人们靠工业、而不是农业生存。”据此可以推断出
- A. 英国农业已经彻底衰落  
B. 现代工业提供了大量物美价廉的商品  
C. 工人阶级登上历史舞台  
D. 工业化深刻影响了英国的社会与经济
23. 19 世纪末 20 世纪初，伴随工业的大发展，生产和资本高度集中。在主要资本主义国家，形成了一批规模庞大的“巨型企业”，如美孚石油公司、美国国际电话电报公司等。这一现象表明
- A. 资本主义国家进入了蒸汽时代  
B. 第二次工业革命后垄断组织产生  
C. 生产集中改变了轻重工业比例  
D. 激烈竞争导致企业利润大幅降低
24. 恩格斯指出，马克思是一位天才的革命家，是世界上最遭嫉恨和最受污蔑的人，但他的英名和他的事业，人类将永远不会忘记。下列有关马克思对人类历史发展贡献的表述正确的是
- A. 推动社会主义运动从一个国家向多个国家的扩展  
B. 提出社会主义革命可能在一国率先取得胜利理论  
C. 第一次系统完整的阐述科学社会主义的基本原理  
D. 促进工人阶级作为独立的政治力量登上历史舞台
25. 巴黎某公墓的一面墙上刻写着“纪念 1871 年 5 月 21-28 日公社牺牲者”。其所纪念事件的历史意义在于
- A. 它是无产阶级建立政权的第一次尝试  
B. 它标志着欧洲工人阶级登上历史舞台  
C. 它建立了世界上第一个社会主义国家  
D. 它使社会主义理论从空想发展到科学
26. 1884 年，英法德等国在柏林召开会议，经过激烈讨价还价，达成协议：任何国家在非洲占领新的领土，必须通知其他国家，各国可以先在地图上划分彼此的势力范围，然后再去占领。这次会议
- A. 彻底解决了列强在非洲的矛盾  
B. 开启了帝国主义殖民掠夺非洲的历史  
C. 大大加速列强瓜分非洲的进程  
D. 标志着资本主义世界殖民体系的形成
27. 绘制历史示意图有助于认识历史。下列示意图呈现的是

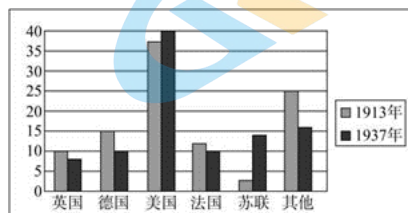


- A. 第一次世界大战的背景  
B. 国际联盟内部隐藏的矛盾  
C. 第二次世界大战的经过  
D. 冷战形势下的对抗和冲突
28. 1922 年，华盛顿会议签订《九国公约》，第四款规定，各缔约国“不得因中国状况，乘机营谋特别权利，而减少友邦人民之权利，并不得奖许有害友邦安全之举动”。该条款签署的目的是
- A. 废止德、奥在华租界和侵略特权  
B. 维护“门户开放”“机会均等”原则



- C. 纠正巴黎和会对中国主权的侵犯                      D. 取消日本在中国山东攫取的各项特权
29. 1921 年苏俄政府调整国家与农民的关系，通过粮食税等市场机制建立工农联盟，同时允许私营企业有一定程度的发展，并以租让制等形式在某些经济部门引入外国资本。这表明苏俄政府正在实施
- A. 战时共产主义政策    B. 新经济政策
- C. 社会主义工业化    D. 农业集体化

30. 下图为《1913 年和 1937 年各国工业总产值在世界工业产值中的比例图》，下列对苏联变化原因的理解，表述正确的是



- A. 苏联（俄）农奴制的废除
- B. 战时共产主义政策的实施
- C. 新经济政策的实施
- D. 斯大林体制的推动
31. 1905 年印度人民反英斗争出现新高潮，1905-1911 年伊朗发生了立宪革命，1911 年中国爆发了辛亥革命。这些事件表明
- A. 各国民族革命的胜利    B. 无产阶级登上政治舞台
- C. 古老的亚洲开始觉醒    D. 第三世界国家走向联合
32. 下表是某同学对两次世界大战间的亚非拉民族民主运动进行的梳理，其体现出该时期亚非拉民族民主运动的特点是

民族民主运动	领导者	斗争方式	斗争目标
中国新民主主义革命	无产阶级	革命	争取独立
印度非暴力不合作运动	民族资产阶级	非暴力不合作	争取独立
摩洛哥里夫人民起义	酋长	革命	争取独立
墨西哥卡德纳斯改革	民族资产阶级	改革	走上现代化之路

- ①范围广，遍及亚非拉    ②都取得了胜利    ③斗争方式丰富    ④领导阶级多样
- A. ①②③                      B. ①②④                      C. ①③④                      D. ②③④
33. 以下第二次世界大战相关的重要事件，按时间顺序排列正确的是
- ①日本挑起太平洋战争    ②德国以“闪电战”突袭波兰
- ③中国开始局部抗战    ④美英苏中签署《联合国家宣言》
- A. ③②①④                      B. ②③①④                      C. ③①②④                      D. ③①④②
34. 20 世纪爆发了两次世界大战，之后分别形成了凡尔赛—华盛顿体系和雅尔塔体系。下列关于这两个国际体系相同点的认识，正确的是
- ①都宣称维护国际和平与安全    ②都形成了有效制裁侵略的机制
- ③都带有大国强权政治的色彩    ④都实现了国际格局中心的转移
- A. ①②                      B. ①③                      C. ①④                      D. ②③

35. 某学生制作的手抄报设置了五个栏目，每个栏目的小标题分别是“杜鲁门主义”“马歇尔计划”“德国

分裂”“北约成立”“华约成立”。由此推断，手抄报的标题应该是

- A. 美苏共同打败法西斯  
B. 冷战和两极格局形成  
C. 社会主义国家的发展  
D. 美国发动阿富汗战争

36. 二战后，资本主义国家出现了一系列新的变化，具体表现有

- ①国家的宏观调控加强  
②从事服务业的人口所占比重极大增加  
③“福利国家”的建立  
④实施计划经济体制，优先发展重工业

- A. ①②③  
B. ①②④  
C. ①③④  
D. ②③④

37. 二战后，苏联领导人赫鲁晓夫、勃列日涅夫试图对旧体制进行改革。其共同点在于

- A. 改变了农业、轻工业落后的局面  
B. 建立了社会主义市场经济体制  
C. 对计划经济体制进行了一定调整  
D. 导致了局势失控和国家的解体

38. 以下是《二战后亚非拉民族独立运动重要史事简表》。表中这些史事说明二战后世界历史的重要变化是

时间	史事
1947年	印度独立
1956年	埃及总统纳赛尔宣布收回苏伊士运河主权
1960年	非洲17国先后独立，这一年被称为“非洲年”
1999年	巴拿马从美国手中收回巴拿马运河区的全部主权

- A. 社会主义阵营的形成  
B. 欧美国家社会运动高涨  
C. 世界殖民体系的瓦解  
D. 经济全球化的迅猛发展

39. 第二次世界大战后发展中国家努力探索适合本国国情的发展道路，取得巨大成就，但仍然面临多种多样的问题，包括

- ①劳动力资源缺乏不利于吸引外国资本  
②过分依赖国际市场承受风险能力较差  
③不平等的国际经济旧秩序制约其发展  
④殖民主义遗留的各种旧矛盾限制发展

- A. ①②③  
B. ①②④  
C. ①③④  
D. ②③④

40. “在世界许多地方，普遍的商业化和通过外来影响对国家或地区文化的重塑，刺激人们寻找回归，寻求他们本身的传统和价值。”作者意在强调，在全球化进程中应重视

- A. 传统文化的价值  
B. 文化理念的趋同  
C. 商业的文化功能  
D. 外来文化的影响

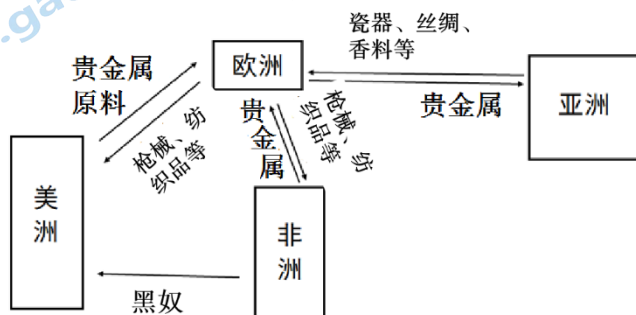
## 第II部分（非选择题 共40分）

### 41. 联系 交流 发展（20分）

中古时期阿拉伯与东西方文化交流概况

领域	交流内容
数学	8世纪印度数字传入阿拉伯，12世纪由阿拉伯传入欧洲，成为世界通用的“阿拉伯数字”
科学技术	8世纪中国造纸术传入阿拉伯，后经由拜占庭、埃及、摩洛哥传入欧洲，指南针、火器等在13世纪经阿拉伯传入欧洲
哲学宗教	7世纪以后，犹太教、伊斯兰教和基督教陆续传到中国，9世纪阿拉伯人将大量希腊著作译成了阿拉伯文，11世纪后欧洲人又将这些译本翻译成欧洲语言，推动了欧洲的思想解放运动
医学	10世纪阿拉伯人总结希腊、印度等地区的医学知识，编纂《医学集成》

(1) 依据材料，概括中古时期东西方文化交流与传播的特点，结合所学分析其影响。（6分）



16、17世纪各大洲之间商品与物资流向示意图

(2) 依据材料并结合所学，指出16、17世纪贵金属（金银）的流动情况，简述其对欧洲、亚洲的影响。（6分）

18世纪60年代产生了真正意义上的国际分工。这一时期，从欧洲输出的商品，主要是工业制成品，其中又以棉织品为大宗，这些产品主要输往落后国家和殖民地，殖民地则主要出口农矿原料，其中又以棉花和羊毛出口增长最快，这些原料主要出口到欧洲国家，特别是英国。19世纪中期后，工业制成品、原料、食品等大宗商品在世界市场上的贸易额大幅度增长。工业国已经不再是英国一个国家，还包括欧洲和北美各国，还有亚洲的日本，而原料的供应地也不再是少数殖民地，而是世界所有落后的地区。

——摘编自高德步《世界经济史》

(3) 依据材料，概括18世纪中后期至19世纪末世界经济的变化。（4分）

经济全球化是世界经济发展的必然趋势，契合各国人民要发展、要合作的时代潮流。历史上的经济全球化，促成了贸易大繁荣、投资大便利、人员大流动、技术大发展，各国人民从中受益，为世界经济发展作出了重要贡献，同时也积存了不少问题和弊端，经济全球化出现“回头浪”。

经济全球化出现一些问题并不可怕，不能因噎废食，动辄“退群”“脱钩”“筑墙”，改革完善才有出路，必须在前进中解决问题。各国应携起手来，总结历史经验与教训，加强协调、完善治理，推动开放、包容、普惠、平衡、共赢的新型经济全球化。

——中华人民共和国国务院办公厅《新时代的中国与世界》

(4) 从材料中提炼一个观点，并结合所学加以简要说明。（4分）

### 42. 体系 秩序 格局（20分）

第二次技术革命和工业化进行，主要资本主义国家加紧了对外经济扩张，资本输出以及从经济上和领土上瓜分世界具有了特别重要的意义。19世纪末20世纪初，全世界殖民地的总面积达到7490万平方公里，

即占到世界领土的 50.3%。与此同时，世界上许多国家变成帝国主义列强的半殖民地和势力范围。世界领土被帝国主义列强瓜分，形成了帝国主义的世界殖民体系。

——摘编自郭吴新《20 世纪初期的世界经济格局》

(1) 根据材料并结合所学，简析世界殖民体系形成的原因。(4 分)

美国历史学家杰弗里·巴勒克拉夫说：“可以毫不夸张地说，美国于 1917 年参战是历史发展的转折点，它标志着欧洲政治时代向全球政治时代转变中的决定性阶段。”

美国总统威尔逊的顾问豪斯上校在 1919 年 3 月 22 日写道：“每天都有不满的呼声。人民需要和平。布尔什维克主义正越来越为各地的人们所接受。”

第一次世界大战使欧洲工业遭到严重破坏，并失去了大量的海外投资，海外市场也由于在战争中发展起来的美洲和亚洲的工业竞争而不断萎缩。到 1929 年美国的工业产量占世界总产量的 42.2%，这一产量是包括苏联在内的所有欧洲国家的总和。

法国驻印度支那总督于 1926 年写道：“这场把欧洲浸润在血泊中的战争已经……唤醒了远离我们的土地上人民的独立意识……过去几年里，一切都变了。不论是人还是思想，连亚洲本身都改变了。”

——摘自徐蓝《20 世纪国际格局的演变——一种宏观叙述》

(2) 依据材料，结合所学，概括第一次世界大战前后国际秩序的变化。(4 分)



某研究性学习小组对“20 世纪下半叶的世界”进行课题探究，下表是他们收集整理的一部分史实：

20 世纪下半叶的主要国际组织（部分）



时间	国际组织
1945 年 10 月	联合国在纽约成立
1961 年 9 月	不结盟运动兴起
1993 年 11 月	欧洲共同体国家批准《马斯特里赫特条约》，欧盟成立
1994 年 1 月	《北美自由贸易协议》正式生效，北美自由贸易区宣布成立
1995 年 1 月	世界贸易组织成立

(3) 依据材料，指出 20 世纪下半叶成立的国际组织所涉及的重大时代议题。任选一个组织，结合所学简要说明其产生的意义。(6 分)

中国参与的部分组织与论坛

	2001 年上海合作组织在上海成立。该组织成立 20 多年来，有效维护欧亚地区的安全。
	2017 年在中国厦门召开了金砖国家领导人峰会，会议围绕“深化金砖伙伴关系，开辟更加光明未来”的主题，凝聚合作共识，规划合作蓝图。



 <p>CDAC 亚洲文明对话大会</p>	<p>2019年中国倡议的亚洲文明对话大会在北京召开，搭建文明相互理解、相互尊重、互学互鉴、共同发展的平台。</p>
 <p>BRF</p>	<p>2019年第二届高峰论坛在北京举行，旨在共同推动共建‘一带一路’合作走深走实、行稳致远、高质量发展，开创更加美好的未来。</p>

(4) 依据材料并结合所学，谈谈你对中国在当今全球治理中所起作用的认识。(6分)

# 参考答案

## 第 I 卷（选择题 共60分）

题号	1	2	3	4	5	6	7	8	9	10
答案	A	C	A	B	B	D	C	B	A	C
题号	11	12	13	14	15	16	17	18	19	20
答案	A	C	D	A	C	B	A	A	C	C
题号	21	22	23	24	25	26	27	28	29	30
答案	B	D	B	C	A	C	A	B	B	D
题号	31	32	33	34	35	36	37	38	39	40
答案	C	C	A	B	B	A	C	C	D	A

## 第 II 卷（非选择题 共40分）

41. (20分)

(1) 特点：领域广泛、内容丰富；历史悠久、持续时间长；阿拉伯人的中介地位；过程多元互动：（任意三点3分）

作用：保存了东西方文化典籍；加强了东西方文化的交融；丰富和发展了世界文化；推动了欧洲文艺复兴和近代思想解放。（任意三点3分）

(2) 情况：欧洲殖民者从非洲、美洲掠夺了大量金银。（1分）

对欧洲影响：随着金银大量流入欧洲，引发价格革命，加速了封建制度解体，推动了资本原始积累，促进了欧洲的资本主义发展。（3分）

对亚洲影响：欧洲人用白银购买亚洲商品，白银的大量流入，刺激了亚洲商品经济发展。（2分）

(3) 世界贸易额大幅增长；世界市场范围扩大，涵盖了工业国和世界所有落后地区。（两点4分）

(4) 示例：

观点	说明
1. 经济全球化是世界经济发展的必然趋势	新航路开辟以来，世界经济逐渐连为一体；工业革命后，世界市场更加扩大；二战后，出现的国际经济组织进一步促进了经济全球化进程；进入 21 世纪，经济全球化成为强劲的时代潮流。
2. 经济全球化积存了不少问题和弊端	经济全球化增加了发展中国家经济失控的风险，给发展中国家带来了严峻的挑战。另外，一些国家出现所谓“逆全球化”现象，如英国的脱欧公投，美国采取的贸易保护、控制移民等措施。
3. 要积极应对经济全球化	在全球层面，1999年组成的二十国集团在促进世界经济增长、协调各国宏观经济政策、推动全球经济治理改革等方面发挥积极作用；在地区层面，2009年首次召开的金砖国家领导人会晤，以及2015年成立的新开发银行，是金砖国家合作共赢、维护新兴市场国家和发展中国家共同利益的平台。在这些组织

	中，都有中国的积极参与。
--	--------------

(观点1分，说明3分)

42. (20分)

- (1) 原因：第二次工业革命的促进；主要资本主义国家对世界加紧侵略；获取商品市场、原料产地和投资场所的推动。(任意两点 4分)
- (2) 变化：一战动摇了欧洲的世界优势地位，开始改变以欧洲为中心的国际格局；十月革命后，资本主义和社会主义两种社会制度并存与竞争的局面出现；美国实力和国际地位提升；战后民族解放运动斗争高涨，沉重打击了帝国主义殖民体系。(4分)
- (3) 时代议题有：和平与发展，世界多极化(第三世界兴起)，经济全球化(世界经济区域集团化)。(任两点共4分)

示例：联合国。作为主权国家组成的国际组织，体现了第二次世界大战后的国际政治秩序，其宗旨是维护国际和平与安全，加强国际合作，促进全球经济社会发展。联合国实行大国一致原则，使和平解决争端和制裁侵略具有更强的可操作性。(2分)

- (4) 中国高举和平、发展、合作、共赢的旗帜，坚持在和平共处五项原则基础上发展同各国的友好合作，推动建设尊重、公平公正、合作共赢的新型国际关系。(3分)

中国倡导构建人类命运共同体，进一步促进全球治理体系变革。中国率先身体力行，秉持开放包容共商、共建、共享原则，为中国与相关国家的经济合作、共同繁荣提供新的平台和新的动力。中国正在以自己的发展惠及世界。(3分)

## 关于我们

北京高考在线创办于 2014 年，隶属于北京太星网络科技有限公司，是北京地区极具影响力的中学升学服务平台。主营业务涵盖：北京新高考、高中生涯规划、志愿填报、强基计划、综合评价招生和学科竞赛等。

北京高考在线旗下拥有网站门户、微信公众平台等全媒体矩阵生态平台。平台活跃用户 40W+，网站年度流量数千万量级。用户群体立足于北京，辐射全国 31 省市。

北京高考在线平台一直秉承 “精益求精、专业严谨” 的建设理念，不断探索 “K12 教育+互联网+大数据” 的运营模式，尝试基于大数据理论为广大中学和家长提供新鲜的高考资讯、专业的高考政策解读、科学的升学规划等，为广大高校、中学和教科研单位提供 “衔接和桥梁纽带” 作用。

平台自创办以来，为众多重点大学发现和推荐优秀生源，和北京近百所中学达成合作关系，累计举办线上线下升学公益讲座数百场，帮助数十万考生顺利通过考入理想大学，在家长、考生、中学和社会各界具有广泛的口碑影响力

未来，北京高考在线平台将立足于北京新高考改革，基于对北京高考政策研究及北京高校资源优势，更好的服务全国高中家长和学生。



微信搜一搜

北京高考资讯